

2017年福建省中考真题历史

一、选择题（26题，每小题2分，共52分，只有一项是符合题目要求的）

1. 据考古发现，河姆渡远古居民已经能够（ ）

- A. 建造干栏式房屋
- B. 种植粟
- C. 铸造司母戊鼎
- D. 使用甲骨文

解析：本题主要考查了河姆渡原始居民的有关内容。依据课本知识可知，生活在距今约七千年的河姆渡原始居民，坐落于浙江余姚河姆渡村，是长江流域农耕文明的代表，使用磨制石器、骨器、用耒耜耕地，住干栏式房屋，过着定居生活。

答案：A

2. 如图所示讲学者传授的是（ ）



- A. 道家思想
- B. 儒家思想
- C. 墨家思想
- D. 法家思想

解析：本题考查了儒家思想。根据题干给出的图片中有“仁者爱人和为政以德”的字样，可知讲学者传授的是儒家思想。春秋晚期鲁国人孔子是儒家学派的创始人，他提出“仁”的学说，主张“爱人”，要求统治者体察民情，爱惜民力，“为政以德”，反对苛政和任意刑杀。

答案：B

3. 秦统一后，在全国范围内推行使用的货币是（ ）

- A. 圆形方孔半两钱
- B. 五铢钱
- C. 交子
- D. 银元

解析：本题考查的是秦朝巩固统一的措施。秦统一六国后，统一货币，规定以秦国的圆形方孔钱为标准样式，颁行天下。

答案：A

4. 如表所示内容的直接作用是（ ）

序号	孝文帝改革的部分措施
1	禁胡语、胡服
2	改鲜卑姓为汉姓
3	鼓励鲜卑族与汉族通婚

- A. 推动经济发展
- B. 加强中央集权
- C. 实现南北统一
- D. 促进民族交融

解析：本题考查北魏孝文帝改革的影响。根据表格内容可知其反映的是北魏孝文帝改革的内容。南北朝时期，黄河流域的北魏政权进行了孝文帝改革，推行汉化政策，学习汉族先进文化。穿汉服，改汉姓，与汉族通婚，采用汉族官制、律令；学汉礼，尊孔子，以孝治国，提倡尊老。北魏孝文帝改革促进了北方民族融合，加速了北方封建化进程。

答案：D

5. 成语“金榜题名”“独占鳌头”“三元及第”所反映的制度是（ ）

- A. 世袭制
- B. 分封制
- C. 郡县制
- D. 科举制

解析：本题主要考查了科举制的有关内容。依据已学知识可知，这些成语形容的是科举制度。为了改变魏晋以来选官制度的弊端，隋文帝开始用分科考试的办法选拔官员，隋炀帝时正式设进士科，标志着科举制诞生。

答案：D

6. 唐宋时期，众多诗词作品得以刊印成集，主要得益于（ ）

- A. 造纸术的改进
- B. 印刷技术的进步
- C. 国家政策的支持
- D. 对外交流的发展

解析：本题考查活字印刷术的相关知识。据所学知，唐宋时期，众多诗词作品得以刊印成集，主要得益于印刷技术的进步。唐朝时期就已出现了雕版印刷术，北宋时毕昇发明了活字印刷术，大大促进了文化的传播。

答案：B

7. 宋代，南方人口明显超过北方，流传着谚语“苏湖熟，天下足”。这说明（ ）

- A. 国家统一完成
- B. 经济重心南移
- C. 文化科技繁荣
- D. 民族政权并立

解析：本题主要考查了经济重心南移的有关内容。题干中“苏湖熟，天下足”反映了苏湖地区的粮食丰收，足于解决全国人口的吃饭问题，据此分析可知材料主要反映了两宋时期经济重心南移的完成。

答案：B

8. 我国现有 56 个民族，其中回族开始形成于（ ）

- A. 唐朝
- B. 宋朝
- C. 元朝
- D. 明朝

解析：本题主要考查民族分化政策与民族融合。元朝时期，许多汉族人来到边疆，为那里的开发作出了贡献。边疆各族包括蒙古族，大量迁入中原和江南，同汉族杂居相处，原先进入黄河流域的契丹、女真等族，经过长期共同生活，已同汉人没有什么区别。唐朝以来，不少定居中国的波斯人、阿拉伯人，他们同汉、藏、畏吾儿等族，长期杂居相处，互通婚姻，逐渐融合，到元朝时期开始形成一个新的民族——回族。

答案：C

9. 如图所示对联反映的我国古代科技成果当属（ ）



- A. 史学
- B. 农学
- C. 建筑学
- D. 医药学

解析：本题通过图片切入考查了明朝李时珍与《本草纲目》。根据题干给出的图片对联中“时珍”和“本草”字样可知对联反映的是李时珍写成的医药学巨著《本草纲目》。明朝医药学家李时珍，在行医的同时，到各地进行实地考察、搜集民间药方，广泛采集标本，并亲自试验药物性能，写成的总结性药物学巨著《本草纲目》，内容丰富，考订详细，附有大量插图。后来陆续被译成多国文字，成为世界医药学重要文献，被誉为“东方医学巨典”。

答案：D

10. 1684 年，清政府设立——地方行政机构，隶属福建省，巩固了祖国的东南海防。该机构是（ ）

- A. 辽东郡
- B. 伊犁将军
- C. 军机处
- D. 台湾府

解析：本题考查清朝在台湾的建制。1684 年，清政府设台湾府，隶属福建省。台湾府的设置，加强了台湾同祖国大陆的联系，促进了台湾的开发，巩固了祖国的海防。

答案：D

11. 他是虎门销烟的英雄、八闽人民的骄傲。“他”是（ ）

- A. 林则徐
- B. 左宗棠
- C. 康有为
- D. 严复

解析：本题考查林则徐虎门销烟的知识点。1839年6月3日，林则徐下令将缴获的鸦片，在虎门海滩当众销毁，前后用了23天，销毁鸦片110多万千克。虎门销烟是禁烟斗争的伟大胜利，显示了中华民族反抗外来侵略的坚强意志，振奋了民族精神，维护了民族尊严。

答案：A

12. “洋务运动引进了机器工业。培养了一批科技人才，刺激了中国资本主义的产生和发展，从而启动了中国近代化的进程。”这表述的是洋务运动的（ ）

- A. 背景
- B. 目的
- C. 性质
- D. 作用

解析：本题考查的是洋务运动的相关知识。题干意思是说，洋务运动中产生了一批近代企业，培养了一批科技人才，客观上刺激了中国资本主义的产生和发展，为中国近代民族资本主义的发展积累了经验，对外国经济势力的扩张起到了一定的抵制作用，是中国近代化的开端。这表述的是洋务运动的作用。

答案：D

13. 如图所示毕业证书颁发于（ ）



- A. 公元 1912 年
- B. 公元 1918 年
- C. 公元 1919 年
- D. 公元 1920 年

解析：本题考查了民国纪年与公元纪年的换算。题目给出的图片中有民国八年字样，1912年1月1日，孙中山在南京宣誓就职，宣告中华民国正式成立。1912+8-1=1919年。因为1912年为民国1年，需要减去这个1。

答案：C

14. 1937年，冼星海在家书中写道：“六年前的三千万流民的印象，当我还没有忘记的时候，如今又遭到更大的浩劫”。“六年前的三千万流民”产生的起因是（ ）

- A. 甲午中日战争

- B. 九一八事变
- C. 七七事变
- D. 南京大屠杀

解析：本题考查九一八事变和中国局部抗战。据题干信息“1937年”“六年前的三千万流民”并结合所学知识可知，1931年日本发动侵略我国的九一八事变，并很快侵占东北三省，不愿做亡国奴的东北人民纷纷逃亡关内，故“六年前的三千万流民”产生的起因是九一八事变。

答案：B

15. 解放战争时期，下列城市中通过和平方式解放的是（ ）

- A. 北平
- B. 锦州
- C. 沈阳
- D. 天津

解析：本题主要考查辽沈、淮海、平津三大战役。在淮海战役进行的时候，东北解放军又挥师入关与华北解放军合力进行平津战役，1949年初，国民党军队在总司令傅作义的率领下接受和平改编，北平和平解放，随后基本解放了华北全境。

答案：A

16. 建立起自己独立的现代工业体系，是中国人寻求了一个多世纪的梦想。为实现这一“梦想”，新中国于1953年开始（ ）

- A. 实行土地改革
- B. 实施第一个五年计划
- C. 开展人民公社化运动
- D. 推行家庭联产承包责任制

解析：本题主要考查第一个五年计划。根据所学可知，为了有计划的进行社会主义建设，我国政府1953年制定并实施了第一个五年计划，重点就是发展重工业。第一个五年计划的完成开始改变我国工业落后的面貌，向社会主义工业化迈进。

答案：B

17. 如图所示内容可以见证（ ）



周恩来总理招待尼克松总统的宴会

- A. 万隆会议召开
- B. 中国恢复在联合国的合法席位
- C. 中美关系开始走向正常化
- D. 中美正式建立外交关系

解析：本题考查中美建交。根据题干给出的图片下方人物为“周恩来和尼克松”可知它见证的是尼克松访华，中美关系开始走向正常化。1972年2月，美国总统尼克松访问中国，会

见毛泽东主席，并与周恩来总理举行会谈，双方在上海签署了《中美联合公报》。中美两国二十多年的对抗结束了，两国关系开始走向正常化。

答案：C

18. 如图所示钱币的发行是为了纪念（ ）



- A. 西藏和平解放
- B. 香港回归祖国
- C. 澳门回归祖国
- D. 战略导弹部队建立

解析：本题考查香港回归，即祖国的统一大业。由图片图案“五星花蕊的紫荆花红旗”和“1997”结合所学，香港特别行政区的区旗是五星花蕊的紫荆花红旗，香港于1997年7月1日，回归祖国。因此钱币的发行是为了纪念香港回归祖国。

答案：B

19. 诗句“高塔巍巍数千寻，二百万方石砌成”描绘的历史文化遗产是（ ）

- A. 埃及金字塔
- B. 汉谟拉比法典石柱
- C. 大运河
- D. 故宫

解析：本题考查金字塔和埃及文明。诗句“高塔巍巍数千寻，二百万方石砌成”这是陈毅在1963年访问埃及时写的《赞金字塔》一诗，热情赞颂了人民创造世界的伟大力量。金字塔是非洲尼罗河流域古埃及文明的代表作，是古代埃及国王的陵墓，是权力的象征，也是埃及人民的骄傲，狮身人面像，它是古埃及文明的标志之一，是人类文明的杰出成就。

答案：A

20. 西方文明的发祥地是（ ）

- A. 古巴比伦
- B. 古印度
- C. 古希腊
- D. 阿拉伯帝国

解析：本题考查了古希腊。西方文明的发祥地是古希腊，古代希腊半岛是西方文明的发源地，雅典是希腊最重要的城邦之一。

答案：C

21. 文艺复兴时期，《神曲》等文学艺术作品表达了人的真实情感，冲破了天主教会对人性的束缚，体现了对个性的追求。这些作品反映的社会思潮是（ ）

- A. 以神为中心
- B. 民主法治
- C. 科学至上
- D. 人文主义

解析：本题主要考查人文主义。文艺复兴时期，《神曲》等文学艺术作品表达了人的真实情感，冲破了天主教会对人性的束缚，体现了对个性的追求，这些作品反映的社会思潮是人文主义。文艺复兴是 14-17 世纪新兴的资产阶级借助复兴古希腊、罗马文化为名，反对封建宗教神学的思想文化运动。其核心思潮是人文主义，人文主义提倡人性，反对神性，主张人生的目的是追求在现实生活中的幸福，倡导个性解放，反对愚昧迷信的神学思想。

答案：D

22. 13 世纪时，有人公开主张大地球形理论。首次证实这一理论的是（ ）

- A. 亚历山大东征
- B. 哥伦布发现新大陆
- C. 麦哲伦环球航行
- D. 达尔文发表《物种起源》

解析：本题考查新航路的开辟。1519-1522 年，奉西班牙国王之命，麦哲伦率领船队，穿越大西洋、太平洋和印度洋，返回欧洲，完成了人类历史上首次环球航行，首次证实大地球形的理论。

答案：C

23. 18 世纪晚期，英国广泛利用热能，逐渐摆脱了对畜力、自然力的依赖。人类由此步入（ ）

- A. 蒸汽时代
- B. 电气时代
- C. 信息时代
- D. 网络时代

解析：本题主要考查了第一次工业革命影响的有关内容。瓦特的蒸汽机使人类第一次完成了在生产劳动中普遍以“热”力代替人的体力的革命性飞跃，它是可带动一切工作机的、万能的“原动机”，它的发明的普遍使用彻底改变了人类生产和生活的面貌，把人类带入了“蒸汽时代”。符合材料中：“18 世纪晚期，英国广泛利用热能，逐渐摆脱了对畜力、自然力的依赖”的描述。

答案：A

24. 有学者认为，日本文明自古以来就具有“饮似长鲸吸百川”的能力。能佐证这一观点的史实有（ ）

- ①大化改新
- ②1861 年改革
- ③明治维新
- ④戊戌变法

- A. ①②
- B. ①③
- C. ②④
- D. ③④

解析：本题考查的是日本的大化改新、明治维新。有学者认为，日本文明自古以来就具有“饮

似长鲸吸百川”的能力即学习外国，进行改革，能佐证这一观点的史实有①大化改新和③明治维新；②是俄国改革④是中国的改革，与日本无关。

答案：B

25. 如图所示战役的历史作用是（ ）



- A. 标志着第二次世界大战爆发
- B. 宣告国际反法西斯联盟成立
- C. 成为世界反法西斯战争的转折点
- D. 开辟了欧洲第二战场

解析：本题考查了斯大林格勒战役。题干给出的图片中有斯大林格勒战役字样，它成为世界反法西斯战争的转折点。1942年7月—1943年2月初的斯大林格勒战役中，苏联获胜，此后苏军一反被动局面，展开对德军的全面进攻。斯大林格勒战役成为第二次世界大战的重要转折点。

答案：C

26. 1947年，美苏冷战开始的标志是（ ）

- A. 雅尔塔会议召开
- B. 印巴分治
- C. 杜鲁门主义出台
- D. 华约组织建立

解析：本题考查美苏冷战。据所学知，1947年3月，美国总统杜鲁门在国会发表演说，提出要以“遏制共产主义”作为国家政治意识形态和对外政策的指导思想，这些政策和纲领后来被称为“杜鲁门主义”。此后，以美国为首的西方资本主义国家，对苏联等社会主义国家采取了除武装进攻之外的一切敌对行动，美苏“冷战”从此开始。

答案：C

二、辨析题（1题，5分）

27. 以下是小历和小史同学关于鸦片战争影响的想法（见图），其中哪位同学的想法是错误的？说明理由。



小历

小史

解析：本题考查的是鸦片战争和《南京条约》的影响。英国政府为保护鸦片走私，借口中国禁烟，1840年6月，英国舰队侵入中国广东海面，鸦片战争正式爆发。1842年8月，英国舰队沿长江而上，直逼南京城下，用武力强迫清政府签订《南京条约》，鸦片战争签订的《南京条约》是中国近代第一个不平等条约，中国的国家主权和领土完整遭到破坏，丧失了独立自主的地位。古老的中国开始被卷进资本主义的漩涡，鸦片战争使中国社会性质发生改变，中国开始从封建社会沦为半殖民地半封建社会，1900年至1901年的八国联军侵华战争，清政府被迫签订了《辛丑条约》，中国完全沦为半殖民地半封建社会。

答案：小历的说法是错误的；理由：鸦片战争签订的《南京条约》是中国近代第一个不平等条约，中国的国家主权和领土完整遭到破坏，丧失了独立自主的地位。古老的中国开始被卷进资本主义的漩涡，鸦片战争使中国社会性质发生改变，中国开始从封建社会沦为半殖民地半封建社会。

三、材料解析题（2小题，28题12分，29题11分，共23分）

28. 阅读材料，完成下列要求。

材料一：



材料二：丝绸和香料从原料产地向西，运输到中亚、伊朗、阿拉伯和罗马帝国的消费者手里，罗马帝国生产的玻璃器皿、葡萄酒等也在丝绸之路上大量流动。佛教、印度教和基督教都通过丝绸之路吸引了远方的信教者。

——摘编自杰里·本特利等著《新全球史》

材料三：公元前138年，张骞奉汉武帝之命出使大月氏，途中遭匈奴扣留，到公元前126年才回到长安。公元前119年，张骞再次奉命出使乌孙等国，公元前115年回到长安。

明朝前期，社会安定，国力雄厚。从1405年到1433年，郑和的船队七下西洋。最后一次航行，船队正在穿越印度洋回归祖国时，62岁的郑和病逝在他的宝船上。

——摘编自吴于廑、齐世荣主编《世界史》等

(1) 根据材料一，分别指出西汉“陆上丝绸之路”和“海上丝绸之路”的起点城市。

解析：本题考查丝绸之路。由西汉丝绸之路路线示意图可以看出，西汉“陆上丝绸之路”的起点是长安；“海上丝绸之路”的起点城市是南海。

答案：长安；南海。

(2) 根据材料二，概括丝绸之路的作用。

解析：本题考查丝绸之路。由“丝绸和香料从原料产地向西，运输到中亚、伊朗、阿拉伯和罗马帝国的消费者手里，罗马帝国生产的玻璃器皿、葡萄酒等也在丝绸之路上大量流动，佛教、印度教和基督教都通过丝绸之路吸引了远方的信教者”可以看出丝绸之路的作用是促进了东西方经济文化交流。

答案：丝绸之路促进了东西方经济文化交流。

(3) 根据材料三并结合所学知识，分析郑和下西洋的客观条件。

解析：本题考查郑和下西洋。由“明朝前期，社会安定，国力雄厚。从1405年到1433年，郑和的船队七下西洋”结合所学，郑和下西洋的客观条件有社会安定，国力雄厚；造船、航海技术进步；统治者的支持。

答案：社会安定，国力雄厚；造船、航海技术进步；统治者的支持。

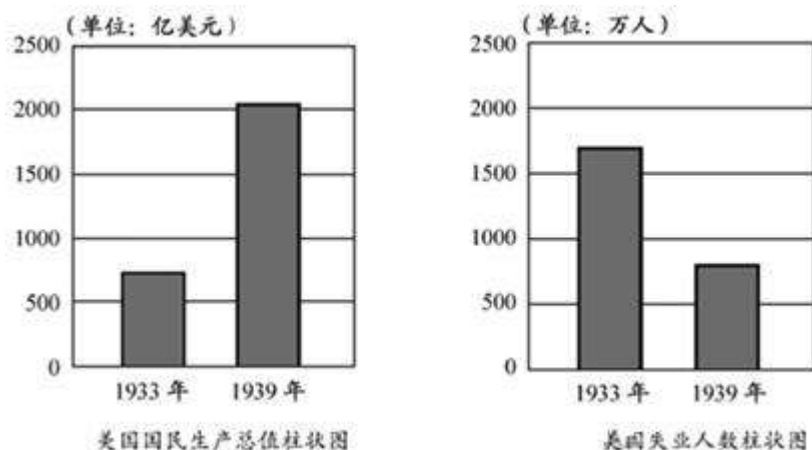
(4) 张骞、郑和都是我国历史上的杰出人物，你更赞赏哪一位？根据材料三，并结合所学知识，说明理由。

解析：本题考查情感态度价值观。本题为开放性试题，赞赏张骞，理由：公元前138年、公元前119年，张骞两次出使西域，不畏艰险，打通了汉朝通往西域的道路，为丝绸之路的开通奠定了基础。赞赏郑和，理由：郑和率率领船队七下西洋，不畏艰险，鞠躬尽瘁，创造了世界航海史上的壮举，促进了明朝与亚非国家的交流。

答案：张骞；公元前138年、公元前119年，张骞两次出使西域，不畏艰险，打通了汉朝通往西域的道路，为丝绸之路的开通奠定了基础。郑和；郑和率率领船队七下西洋，不畏艰险，鞠躬尽瘁，创造了世界航海史上的壮举，促进了明朝与亚非国家的交流。

29. 阅读材料，完成下列要求。

材料一：



——摘编自汪华生《你知道或不知道的美国史》

材料二：随着两个五年计划的完成，到1937年，苏联共建成6000多个大企业，建立起飞机、汽车、化工、重型和轻型机器制造业等部门，工业在工农业总产值中的比重已达77.4%。

——摘编自刘宗绪主编《历史学科专题讲座》等

(1) 根据材料一，分别指出两个图中内容的变化趋势。结合所学知识，指出导致这些变化的历史事件。

解析：本题主要考查罗斯福新政。据《美国国民生产总值柱状图》《美国失业人数柱状图》

可知，两个图中内容的变化趋势是美国国民生产总值增长，但美国失业人数下降。据“1933年”“美国”可知，导致这种变化的历史事件是1933年的罗斯福新政，1933年罗斯福就任美国总统，立即实行“新政”。《全国工业复兴法》是整个新政的核心和基础，新政开创了资产阶级政府大规模干预经济的先河，进一步提高了美国国家资本主义的垄断程度，是资本主义发展史上的一个里程碑，新政取得了很好的效果，使美国渡过了危机，美国国民生产总值增长，美国失业人数下降。

答案：趋势：美国国民生产总值增长；美国失业人数下降。事件：罗斯福新政。

(2) 根据材料二，概括苏联的经济建设成就，并说明其主要原因。

解析：本题主要考查苏联的经济建设成就及其主要原因。据材料二“随着两个五年计划的完成，到1937年，苏联共建成6000多个大企业，建立起飞机、汽车、化工、重型和轻型机器制造业等部门，工业在工农业总产值中的比重已达77.4%”可知，由于两个五年计划的完成，苏联基本实现了工业化。

答案：成就：苏联基本实现了工业化。原因：两个五年计划的完成。

(3) 综合以上材料，概括其反映的共同主题。

解析：本题主要考查其反映的共同主题。综合以上材料可知，其反映的共同主题是体制创新推动了经济发展。

答案：体制创新推动经济发展。

四、综合题（2小题，30题12分，31题8分，共20分）

30. 某历史研究性学习小组开展主题学习，收集了以下材料。根据材料并结合所学知识，完成下列要求。

【诗词叙史】





长城怒跃黄河吼。眺中华，平型猎豹，台庄擒狗。胜利凯歌频奏起，倭寇投降低首。

——刘国勤词作

【文献析史】

报纸名称	社论摘要
《人民日报》 (中国)	前程无限光辉的中华人民共和国已经诞生，四万万七千五百万中国人民开始自己当权管理国家，我们这个古老的东方民族揭开了历史的新巨册。
《人民论坛报》 (波兰)	这在资本主义和帝国主义阵线上又打开了一个缺口；中国人民的胜利，乃是本世纪继苏联十月革命和消灭希特勒法西斯主义之后的伟大事件。

【图表说史】

时间	福建某城市	深圳
1977年		
2007年		

(1) 以上词句涉及哪些历史事件？（答出两个）

解析：分析材料可知，体现了1938年春，在日军进攻徐州时，第五战区司令长官李宗仁指挥中国军队在台儿庄与日军激战，歼敌一万多人，取得抗战以来的重大胜利。为了粉碎敌人的“囚笼”，1938年9月，一支骄横的日军向平型关开进，八路军一一五师在平型关东侧伏击，歼灭日军一千多人，缴获大批军用物资，史称“平型关大捷”。这是抗战以来的第一次大捷，在中国人民和世界反法西斯力量的沉重打击下，1945年8月15日，日本天皇被迫宣布无条件投降，十四年抗日战争，中国人民终于取得了伟大胜利，台湾也回到祖国的怀抱。
答案：台儿庄战役；日本无条件投降；平型关战役。

(2)如表所示社论分析了哪一重大事件的历史意义？波兰《人民论坛报》是从什么角度评论这一历史事件的？

解析：1949年10月1日，开国大典在北京隆重举行，标志着中华人民共和国的成立。波兰《人民论坛报》是从世界政治角度评论这一历史事件的。

答案：中华人民共和国成立；世界政治角度。

(3)如表所示我国城市建设发生重大变化的主要原因是什么？除了图表资料外，还可以通过哪些类型的资料呈现这一时段的历史变迁？

解析：分析图表时间和变化可知，体现了改革开放之前和之后福建某城市和深圳的不同，所以我国城市建设发生重大变化的主要原因是改革开放的实行，以此作答即可。平时学习历史时使用的历史资料类型一般包括，表格，口传资料，实物史料，如：遗迹，遗址，遗物，出土文物等，注意的问题言之有理即可。

答案：改革开放的实行；表格，口传资料，实物史料，如：遗迹，遗址，遗物，出土文物等。

(4)综合以上材料和所学知识，总结20世纪40年代以来中国历史发展的趋势。

解析：总结性问题，符合题意即可。如20世纪40年代以来中国历史发展的趋势是中华民族走向复兴。

答案：中华民族走向复兴。

31. 材料论述。

英国资产阶级革命从1640年开始，历经曲折，先后经历内战、共和、军事独裁、王朝复辟等阶段，直至1688年革命结束。1689年，英国议会颁布法案，限制国王行政、司法等权力。1701年，议会颁布《王位继承法》，规范王位继承问题，规定国王的一切决定须经同意该项决定的大臣签署后才能生效。18世纪中期，英国基本确立了以法律规范国家权力的近代民主制度——君主立宪制。

——摘编自马克垚主编《世界文明史》等

回答：

(1)指出材料中“1689年，英国议会颁布（的）法案”的名称。

解析：本题考查《权利法案》。据所学知，1689年英国议会颁布了《权利法案》，限制了国王的权力，使英国确立起了君主立宪制。

答案：《权利法案》。

(2)阅读以上材料，提炼出一个观点，结合材料和所学知识加以论述。（要求：观点明确，史论结合，条理清晰）

解析：本题是开放性题目，言之有理即可。如观点：英国君主立宪制的确立是一个渐进的过

程。

答案：观点：英国君主立宪制的确立是一个渐进的过程。

论述：英国资产阶级革命结束后，建立起资产阶级与新贵族的统治。1689年，英国议会颁布了《权利法案》，限制了王权之后，议会权力不断加强，国王的实际权力不断减弱，到18世纪中期，英国基本确立了君主立宪政体。