

2016 年四川省凉山州中考真题地理

一、单项选择题。(请将所选答案填在下面表格内。本大题共 25 个小题, 每小题 2 分, 共 50 分。在每个小题所列的四个选项中, 只有一个选项符合题目要求, 少选多选均不得分。)

1. 2016 年 4 月 16 日 00 时 25 分在日本九州岛附近 (32.77°N , 130.78°E) 发生 6.9 级左右地震, 据此作出了以下判断, 其中正确的是 ()

- A. 发生地点位于南半球和东半球
- B. 处于亚欧板块和太平洋板块交界地带
- C. 发生地点位于热带
- D. 发生地点位于北亚

解析: 板块运动学说认为, 各板块处于不断的运动之中。一般来说, 板块的内部比较稳定, 板块与板块交界的地带, 有的张裂拉伸, 有的碰撞挤压, 地壳比较活跃。由日本所处的位置及板块运动的方向判定, 日本多地震是由于亚欧板块与太平洋板块碰撞挤压形成的。故选项 B 符合题意。

答案: B

2. 下面关于经纬线和经纬度的叙述, 正确的是 ()

- A. 赤道是最大的纬线圈
- B. 经线长度不相等
- C. 经线指示东西方向
- D. 东西半球的分界线是本初子午线

解析: 纬线圈的大小不等, 赤道为最大的纬线圈, 从赤道向两极纬线圈逐渐缩小, 到南、北两极缩小为点; 故 A 正确。所有经线都呈半圆状且长度相等; 故 B 错误。经线指示南北方向, 纬线指示东西方向; 故 C 错误。东西半球分界线是 20°W 和 160°E 组成的经线圈, 20°W 以东、 160°E 以西为东半球, 20°W 以西、 160°E 以东为西半球。故 D 错误。

答案: A

3. 玲玲和贝贝在争论地球自转和公转的问题, 其中正确的是 ()

- A. 方向不同
- B. 公转和自转周期相同
- C. 都围绕太阳转
- D. 公转形成四季, 自转导致昼夜更替

解析: 地球绕地轴不停的旋转, 叫地球的自转。地球自转一周的时间是一天, 也就是 24 小时; 自转的方向是自西向东; 产生的地理现象是昼夜交替。地球绕太阳不停地旋转, 叫地球的公转。地球公转的时间是一年; 公转的方向是自西向东; 产生的地理现象是四季更替。

答案: D

4. 在同样大小的两张图纸上, 分别绘制一幅凉山州地图和世界地图, 两幅地图选用比例尺的情况应是 ()

- A. 凉山州地图的比例尺大于世界地图
- B. 两幅地图比例尺相同
- C. 凉山州地图的比例尺小于世界地图
- D. 无法确定

解析：在图幅相同的条件下，比例尺越大，表示的范围越小，内容越详细；比例尺越小，表示的范围越大，内容越简略。世界地图、凉山州地图所表示的范围大小不同，其中凉山州的范围小，所选用的比例尺大，世界的范围大，所选用的比例尺小。故 A 符合题意。

答案：A

5. 读四个大洲轮廓示意图，错误的是（ ）



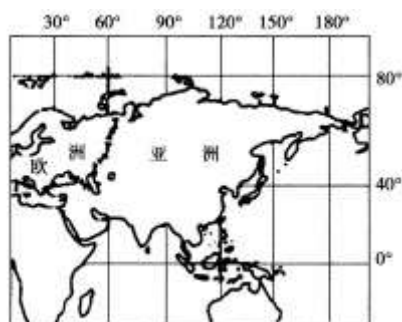
- A. ①大洲有“热带大陆”之称
- B. ②大洲面积最大
- C. ③大洲位于南半球
- D. ④大洲有极昼极夜现象

解析：结合轮廓图可知，①是非洲，②是亚洲，③是北美洲，④是南极洲。非洲大部分位于南北回归线之间，有“热带大陆”之称，故 A 正确；亚洲是世界上面积最大的大洲，故 B 正确；北美洲大部分位于北半球，故 C 错误；南极洲大部分位于南极圈以内，有极昼极夜现象，故 D 正确。

答案：C

6. 小李在观察下图后得出以下结论，其中正确的是（ ）

- ①赤道横穿亚洲东南部
- ②亚洲位于非洲的西南方向
- ③西经 60° 经线穿越亚洲大陆西部
- ④亚洲濒临北冰洋、太平洋、印度洋。



- A. ①②
- B. ②④
- C. ②③
- D. ①④

解析：读图可得，赤道横穿亚洲东南部，故①正确；亚洲位于非洲的东北方向，故②错误；东经 60° 经线穿越亚洲大陆西部，故③错误；亚洲濒临北冰洋、太平洋、印度洋，故④正确。

答案：D

7. 亚洲是世界第一大洲，主要依据是（ ）

- ①跨纬度最广
- ②面积最大
- ③周围被大面积海洋包围
- ④东西距离最长
- ⑤绝大部分位于南半球、东半球

- A. ①②③
- B. ③④⑤
- C. ①②④
- D. ②③⑤

解析：七大洲中面积最大，跨纬度最广，东西距离最长，人口最多的一个大洲是亚洲，所以亚洲是世界第一大洲。从半球位置来看，亚洲主要位于东半球和北半球。

答案：C

8. 有关亚洲地形特征的叙述，正确的是（ ）

- A. 地形以平原为主，山地面积较小
- B. 地势中部高，四周低
- C. 有世界最大的西西伯利亚平原
- D. 有世界面积最大的高原——青藏高原

解析：亚洲地势中部高，四周低；地形以高原山地为主；世界上最大的平原是亚马孙平原；世界面积最大的高原是巴西高原。

答案：B

9. 关于亚洲的叙述，正确的是（ ）

- ①跨经度最广的大洲
- ②地跨热带、温带、寒带
- ③温带大陆性气候分布广，季风气候只分布在东亚
- ④河流发源于中部的高原和山地，呈放射状流向四周海洋

- A. ①②
- B. ①④
- C. ③④
- D. ②④

解析：跨经度最广的大洲是南极洲；北极圈穿过亚洲的北部，北回归线穿过亚洲的南部，亚洲地跨寒温热三带，亚洲温带大陆性气候分布广，季风气候主要分布在东亚、东南亚和南亚；亚洲地势中部高、四周低，河流呈放射状流向四周海洋。

答案：D

10. 亚洲与其他大洲的分界线，不包括（ ）

- A. 苏伊士运河
- B. 土耳其海峡
- C. 马六甲海峡
- D. 白令海峡

解析：读图可知，亚洲与欧洲连为一体形成最大的大陆，两洲之间的分界线是乌拉尔山、乌拉尔河、大高加索山、土耳其海峡；亚洲与非洲之间的分界线是苏伊士运河；亚洲与北美洲

之间的分界线是白令海峡。

答案：C

11. 下列关于我国地理位置的说法，正确的是（ ）

- A. 位于亚洲东部，太平洋西岸
- B. 位于北半球，西半球
- C. 大部分位于北温带，小部分在北寒带
- D. 全部位于中纬度地区

解析：我国从东西半球来看，位于东半球；从南北半球来看，位于北半球，故 B 错误；我国领土南北跨纬度很广，大部分位于中纬度地区，属北温带，南部少数地区位于北回归线以南的热带，没有寒带，故 C、D 错误。

答案：A

12. 贴春联是我国的传统民俗。春联“苗寨黔山黄果树，酒乡赤水”和“沃野龙江稻谷香，林海雪原”反映的省区分别是（ ）



- A. ①②
- B. ②④
- C. ③④
- D. ①④

解析：读图可得，①是云南省，②是贵州省，③是湖北省，④是黑龙江省。春联“苗寨黔山黄果树，酒乡赤水”和“沃野龙江稻谷香，林海雪原”反映的省区分别是贵州省和黑龙江省，黄果树瀑布是贵州省著名的景观，黑龙江省位于东北平原，以肥沃的黑土著称。

答案：B

13. 电视剧《西游记》的主题曲《敢问路在何方》中唱道：“你挑着担，我牵着马，迎来日出，送走晚霞”。那么我国最早“迎来日出”的地区与最迟“送走晚霞”的地点是（ ）

- ①黑龙江与乌苏里江主航道中心线的相交处
- ②新疆的帕米尔高原上
- ③漠河以北的黑龙江主航道中心线上
- ④曾母暗沙

- A. ①②
- B. ①③
- C. ②③
- D. ②④

解析：我国疆域辽阔最北端——漠河以北黑龙江主航道中心；最南端——曾母暗沙；最西端——帕米尔高原；最东端——黑龙江与乌苏里江的汇合处。地球自西向东自转，东部首先看到日出，我国的最东端位于黑龙江与乌苏里江的汇合处，最西端在帕米尔高原。

答案：A

14. 有关我国人口和民族说法不正确的是（ ）

- A. 我国是世界上人口最多的国家
- B. 我国人口基数大，人口增长快
- C. 我国民族分布具有“大散居，小聚居，交错杂居”的特点
- D. 黑河—大理一线是重要的人口分界线

解析：A、根据 2010 年全国第六次人口普查结果，中国总人口为 13.7 亿，约占世界人口总数的 1/5，是世界上人口最多的国家。故 A 不符合题意；B、20 世纪自 70 年代初期我国大力推行计划生育政策以来，全国大约少生了约 4 亿人，人口过快增长的势头得到有效遏制，人口增幅逐渐下降。但是，由于我国人口基数大，增长速度快，每年新增人口仍达 1000 多万，在今后一段较长的时期内，人口总量还将持续增长。故 B 不符合题意；C、中国各民族分布的特点是“大散居，小聚居，交错杂居”。汉族分布最广，主要集中在东部和中部地区。少数民族则主要分布在西南、西北和东北部地区。故 C 不符合题意；D、中国人口地区分布不均。一般来说，以黑河—腾冲线为界，东部地区人口多，西部地区人口少。故 D 符合题意。

答案：D

15. 下列关于我国气候叙述正确的是（ ）

- ①气候复杂多样
- ②夏季南北气温差异大
- ③雨热同期
- ④降水只有东西差异没有南北差异

- A. ④②
- B. ②③
- C. ①③
- D. ②④

解析：①我国地域辽阔，地跨众多的温度带和干湿地区，加上我国地形复杂，地势高低悬殊，更增加了我国气候的复杂多样性。②我国冬季南北气温差异大，南方温暖，而越往北气温就越低。夏季南北普遍高温。③季风气候显著对我国的经济发展有着极大的影响。夏季普遍高温，雨热同期，水热条件配合得当，使农作物和林木在旺盛的生长期中，能够得到充足的热量和水分。④我国降水在地区分布上具有显著的不均衡性，具体表现为“东多西少，南多北少”的特点。

答案：C

16. 下列有关我国河流的叙述，正确的是（ ）

- A. 北地区均为内流河
- B. 外流区域的河流深受夏季风影响
- C. 南方河流汛期长、含沙量大
- D. 越往北河流汛期越短、流量越小

解析：我国西北地区多内流河，额尔齐斯河是我国西北地区的外流河，故 A 错误；外流区域的河流深受夏季风影响，故 B 正确；南方地区的河流汛期长，含沙量小，故 C 错误；东北地区河流汛期最短，但流量较大，故 D 错误。

答案：B

17. 小芳追随“舌尖上的中国 II”镜头从上海出发，游览各地，品尝美食，结合图中信息，下列说法不可信的是（ ）

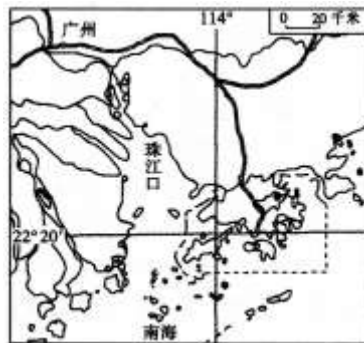


- A. ①线路人们饮食习惯以大米为主
- B. ②线路经过我国四类干湿地区
- C. ③线路穿越地势第三、二、一级阶梯
- D. ④线路端午节有赛龙舟、吃粽子习俗

解析：①路线主要经过我国的北方地区，北方地区主要的粮食作物是小麦，选项 A 叙述错误，符合题意，选项 BCD 叙述正确，不符合题意。

答案：C

香港与澳门分别位于珠江口的东、西两侧。长期以来，港澳与祖国内地一直保持着密切的经济联系。结合珠江三角洲图，回答下列各题。



18. 香港和澳门与我国哪个省相邻 ()

- A. 福建省
- B. 云南省
- C. 广东省
- D. 台湾省

解析：香港和澳门都与广东省相邻，香港位于珠江口东侧，澳门位于珠江口西侧。

答案：C

19. 下列关于我国内地、香港、澳门的说法，不正确的是 ()

- A. 香港是世界著名的自由贸易港，重要的国际金融中心和信息服务中心
- B. 澳门博彩旅游业发达
- C. 香港和澳门间的“港珠澳跨海大桥”的建成，更加强了两地的联系
- D. 内地有丰富的资源，港澳有雄厚的经济基础，应 将香港和澳门建成大型的重工业基地

解析：港澳为祖国内地提供丰富的资金、技术和管理经验，控制产品的质量，进行市场推广和对外营销，而祖国内地为港澳提供土地、自然资源和劳动力，进行产品的加工、制造和装配，因而应将香港和澳门建成大型轻工业和高新技术产业基地，选项 D 叙述错误，选项 ABC 叙述正确。

答案：D

20. 港澳与祖国内地的合作主要是利用了祖国内地的（ ）

- ①厂房
- ②能源
- ③技术
- ④资金
- ⑤劳动力
- ⑥日常生活消费品
- ⑦管理经验

- A. ①②③④⑤⑥
- B. ①②⑤⑥
- C. ①②③⑤⑥⑦
- D. ①②③④⑤⑥⑦

解析：香港和祖国内地的经济合作，优势互补、互惠互利；港澳与祖国内地的合作主要是利用了祖国内地的①厂房、②能源、⑤劳动力、⑥日常生活消费品等，港澳地区③技术、④资金、⑦管理经验等有优势；故选项 B 符合题意。

答案：B

21. 下列有关北京的叙述不正确的是（ ）

- A. 北京是全国政治中心、经济中心、文化中心和国际交往中心
- B. 长城、明清故宫、颐和园等名胜古迹先后被列入《世界遗产名录》
- C. 北京是全国最大的铁路交通枢纽和国际航空港
- D. 北京正在朝着“国家首都、世界城市、文化名城、宜居城市”目标迈进

解析：A、对于未来的发展北京做出了长远规划，北京市未来的建设发展目标定位于：国家首都（政治中心）、世界城市（国际交往中心）、文化名城（文化中心），并首次提出“宜居城市”概念。故 A 符合题意；B、漫长的历史岁月，丰厚的文化积淀，铸就了北京特有的历史文化传统，使它成为世界上世界文化遗产最多的城市。目前，北京共有故宫、长城、周口店“北京人”遗址、天坛、颐和园和十三陵等 6 处世界文化遗产。故 B 不符合题意；C、北京是全国最大的铁路交通枢纽和国际航空港。故 C 不符合题意；D、北京正在朝着“国家首都、世界城市、文化名城、宜居城市”目标迈进。故 D 不符合题意。

答案：A

22. 过去被称为“北大荒”的三江平原，后来通过开垦，变成了“北大仓”，但是现在又让它“荒”了。下列对又“荒”了的原因，说法正确的是（ ）

- A. 为了减少耕地面积
- B. 为了保护环境，恢复生态
- C. 为了发展工业，建设厂区
- D. 为了扩大草地发展畜牧业

解析：“北大荒”位于黑龙江省东部，与俄罗斯相邻。其中，三江平原因河流纵横，沼泽遍

布，林木茂密，被列入国际湿地保护名录。这里地广人稀，土壤肥沃，有“黑土地”之称。建国以来，经过数十年的开发，这里到处是良田沃野，阡陌纵横。已成为全国重要的粮食、大豆生产基地。2000年，我国政府决定停止对“北大荒”的开垦，以保护好现存的上百万公顷湿地。对重点保护地区要求尽快还林、还草、还湿地。

答案：B

23. 下列有关北方地区的叙述正确的是（ ）

- A. 北方地区的地形以高原和山地为主
- B. 能有效缓解华北平原春旱、促进当地农业可持续发展的是兴修水库
- C. 东北三省发展农业生产在气候方面的优势主要表现在夏季雨热同期
- D. 东北三省煤、铁、石油等矿产资源丰富，建成了我国最大的综合性工业基地

解析：北方地区的地形以高原和平原为主，故A错误；能有效缓解华北平原春旱、促进当地农业可持续发展的措施是发展节水农业，故B错误；东北三省发展农业生产在气候方面的优势主要表现在夏季雨热同期，故C正确；东北三省煤、铁、石油等矿产资源丰富，建成了我国最大的重工业基地，故D错误。

答案：C

24. 下列有关凉山州的叙述不正确的是（ ）

- A. 凉山州位于四川省的西南部，地处金沙江南岸
- B. 凉山州是全国最大的彝族聚居区
- C. 凉山州的地形以山地和高原为主
- D. 凉山州水能资源丰富，在金沙江上建成了溪洛渡水电站

解析：凉山彝族自治州，是中国最大的彝族聚居区，位于四川省西南部川滇交界处，金沙江北岸，幅员面积6万余平方公里，总人口473.04万人。境内地貌复杂多样，地形以山地和高原为主，地势西北高，东南低。由于位于阶梯的交界处，水能资源丰富，在金沙江上建成了溪洛渡水电站。

答案：A

25. 以下有关我国的叙述不正确的是（ ）

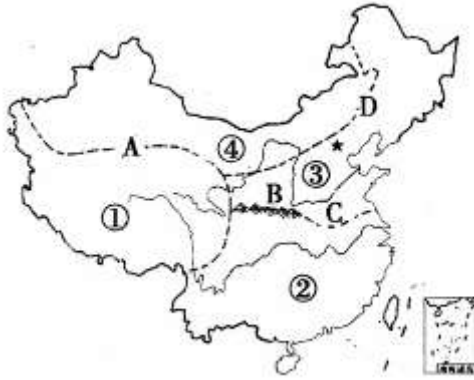
- A. 我国是联合国安全理事会常任理事国
- B. 人地关系不够和谐，区域发展不平衡，海洋权益面临严峻挑战
- C. 我国坚定和平、发展、合作、共赢的信念，积极参与国际事务
- D. 目前，我国国内生产总值超越日本，成为世界第二大经济体，已经成为了发达国家

解析：A. 我国是联合国安全理事会常任理事国之一。故不符合题意。B. 我国人多地少，人地关系不够和谐，东海、南海权益面临严峻挑战，故B不正确。C. 我国坚定和平、发展、合作、共赢的信念，积极参与国际事务，参与世界各地的维和行动，以及救援队飞赴海地抢险救灾，都充分体现了中国是一个负责任大国，在世界上正发挥着越来越重要的作用。故C不符合题意。D. 2010年，我国国内生产总值超越日本，成为世界第二大经济体，次于美国，但综合水平仍然属于发展中国家。故D符合题意。

答案：D

二、综合题。（共5小题，满分50分）

26. （12分）读我国四大地理区域图，回答下列问题。



(1) 图中数字①是____地区，A线是该区与其他三个地区的界线，确定这条界线的主导因素是_____。④是____地区，该区与地区③的界线D大致与____毫米年等降水量线分布一致。

解析：读图可得，①是青藏地区，②是南方地区，③是北方地区，④是西北地区。图中数字①是青藏地区，A线是青藏高原边缘线，该线是青藏地区与其他三个地区的界线，确定这条界线的主导因素是地形因素。④是西北地区，该地区与③北方地区的界线是400毫米年等降水量线。

答案：青藏 地形因素 西北 400

(2) 填数字代号：在①、②、③、④四个区域中，耕地主要分布在____，牧区主要分布在_____。

解析：耕地主要分布在北方地区和南方地区，其中北方地区主要是旱地，南方地区主要是水田，牧区主要分布在西北地区和青藏地区。

答案：②和③ ①和④

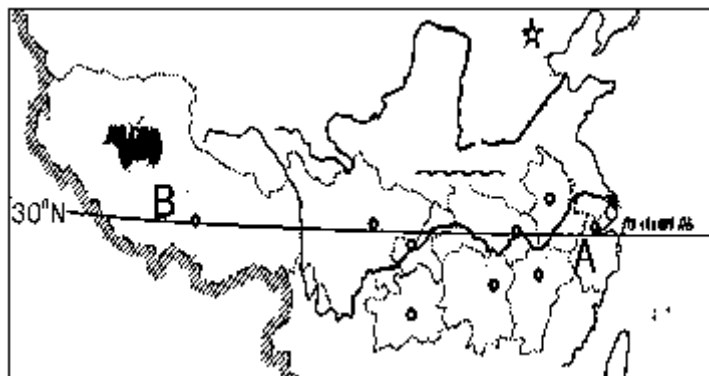
(3) 地区②与地区③的分界线大致沿着B____（山脉）和C____（河）一线，该线是1月平均气温____等温线通过的地方，是暖温带与____（温度带）的分界线；该线也是____毫米年等降水量线通过的地方，是半湿润地区与_____（干湿地区）的分界线。

解析：北方地区与南方地区的分界线是秦岭、淮河一线，该线是1月平均气温0℃等温线通过的地方，是暖温带与亚热带的分界线；该线也是800毫米年等降水量线通过的地方，是半湿润地区与湿润地区的分界线。

答案：秦岭 淮河 0℃ 亚热带 800 湿润地区

27. (12分) 读图和相关材料，完成下列问题。

《北纬30°中国行》从浙江舟山群岛出发，自东向西一直拍摄到西藏的阿里地区，沿途穿越9个省市自治区，节目展现了北纬30°沿线自然风光、历史文化、民俗风情和社会发展的全景式图画。



(1) A 地区耕地类型为____，主要的粮食作物是____。B 地区自然特征是____，该区的主要畜种是被称为“高原之舟”的____。B 地区的种植业主要分布在海拔较低的____地区，特色粮食作物是____。

解析：读图可得，A 位于我国的南方地区，其耕地类型是水田，主要的粮食作物是水稻；B 是青藏地区，其自然环境的主要特征值是高寒。南方地区耕地类型为水田，主要的粮食作物是水稻。青藏地区位于我国地势第一阶梯，其自然特征是高寒，该区的主要畜种是被称为“高原之舟”的牦牛。青藏地区的种植业主要分布在海拔较低的河谷地区，如雅鲁藏布江谷地和湟水谷地，特色粮食作物是青稞。

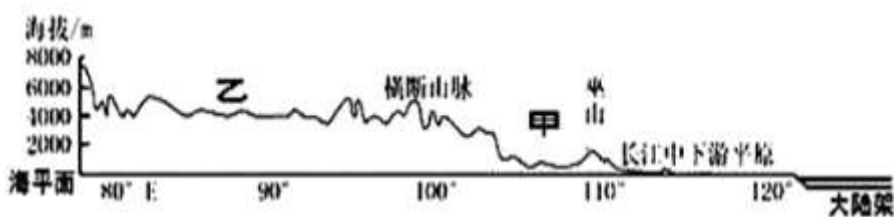
答案：水田 水稻 高寒 牦牛 河谷 青稞

(2) A、B 两地分别于 4 月和 7 月盛开美丽的油菜花。B 地油菜开花时间较 A 地迟的原因主要是：B 地位于我国地势的第____级阶梯上，海拔高，气温____。在该地修建的世界上海拔最高的铁路是____铁路。

解析：青藏地处于我国地势的第一级阶梯上，由于海拔高，气温低。在该地修建的世界上海拔最高的铁路是青藏铁路，起止点城市是西宁和拉萨。

答案：一 低 青藏

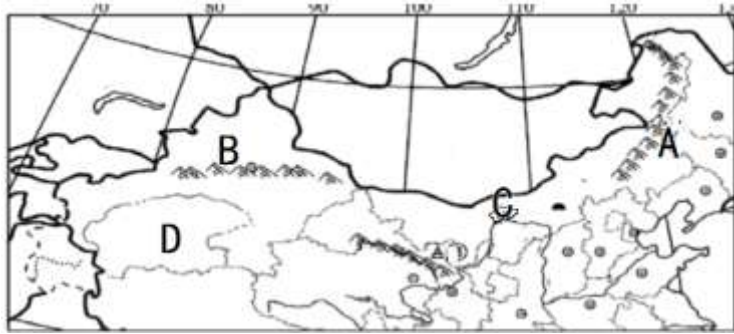
(3) 下图为我国沿北纬 30° 的地形剖面图，图中所示的地形区自东向西是：长江中下游平原、甲处的____(紫色盆地)、横断山区和乙处的____高原，由此可以看出我国地势特点是____、呈阶梯状分布。



解析：图中我国沿北纬 30° 的地形剖面图中所示的地形区自东向西是：长江中下游平原、甲处的四川盆地、横断山区和乙处的青藏高原，我国地势特点是西高东低、呈阶梯状分布。

答案：四川盆地 青藏 西高东低

28. (10 分) 读我国局部地区图，回答下列问题。



(1) 山脉：A _____，B _____，其中分布有高山草场，发展山地牧业的是_____。

解析：读图可得：A 是大兴安岭，B 是天山，天山分布有高山草场，发展山地牧业。

答案：大兴安岭 天山 B

(2) 西北地区的自然环境的主要特征是_____。C 地有著名的灌溉农业区“塞外江南”_____，其灌溉水源主要来自_____（河流）。该河流中游流经黄土高原，黄土高原地表千沟万壑、支离破碎是由于_____严重造成的。

解析：西北地区的自然环境的主要特征是干旱。C 地有著名的灌溉农业区“塞外江南”河套平原，其灌溉水源主要来自黄河。该河流中游流经黄土高原，黄土高原地表千沟万壑、支离破碎是由于水土流失严重造成的。

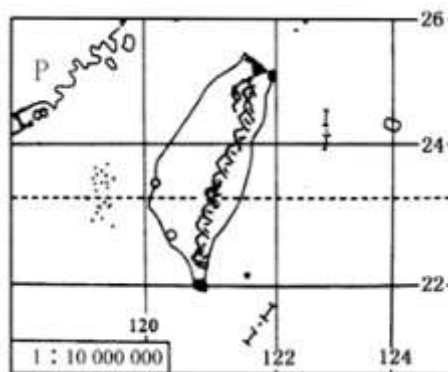
答案：干旱 河套平原 黄河 水土流失

(3) D 是我国最大的盆地，分布有我国最长的内流河_____河。该盆地内有我国最大的沙漠_____。盆地中蕴藏着丰富的油气资源，开发大西部的跨世纪工程是“_____”工程。

解析：D 是我国最大的盆地塔里木盆地，该盆地分布有我国最长的内流河塔里木河，还有我国最大的沙漠塔克拉玛干沙漠。塔里木盆地中蕴藏着丰富的油气资源，开发大西部的跨世纪工程是“西气东输”工程，该工程是把塔里木盆地轮南气田的天然气输送到上海。

答案：塔里木 塔克拉玛干沙漠 西气东输

29. (8 分) 读“台湾海峡两岸地区略图”，回答有关问题。



(1) 图中 P 省的简称是_____。

解析：读图分析可知：依据位置，图中 P 省为福建省，其简称是闽。

答案：闽

(2) 台湾岛是我国第_____大岛屿。纵贯台湾岛东部的台湾山脉是_____走向。世代居住在台湾的少数民族是_____。

解析：台湾岛是我国第一大岛，南北长 394 千米，东西最大宽度 144 千米，面积 35 808 平方千米。台湾岛上的台湾山脉是我国东北-西南走向三列山脉最东的一列，它的主峰玉山海拔 3 997 米，是我国东部的最高峰。高山族是台湾省主要的少数民族，总数约 40 万，是最早居住在台湾岛上的民族。主要分布在台湾岛山区和东部沿海。

答案：一 东北-西南 高山族

(3)台湾岛地处亚欧板块与_____板块的交界地带，地壳比较活跃，多火山、地震。

解析：台湾岛地处亚欧板块与太平洋板块的交界地带，地壳比较活跃，因此多火山、地震。

答案：太平洋

(4)_____（纬线）穿过台湾岛中部偏南的位置，地处热带、亚热带，气候温暖湿润。

解析：从图中可以看出，北回归线穿过台湾岛中部偏南的位置，使台湾地处热带、亚热带，气候温暖湿润。

答案：北回归线

(5)台湾的经济是富有海岛特色的_____经济。

解析：20 世纪 60 年代以后，台湾利用自身的一些优势条件，重点发展出口加工工业，形成“进口—加工—出口”型经济，台湾省的外向型经济富有海岛特色。

答案：外向型

(6)台湾岛被誉为“祖国的宝岛”，下列描述中可信的是_____。

①“海上米仓”、“东方甜岛”

②东南部沿海降水少，光照充足

③山地、平原面积各占一半

④是“水果之乡”

A. ①④

B. ②③

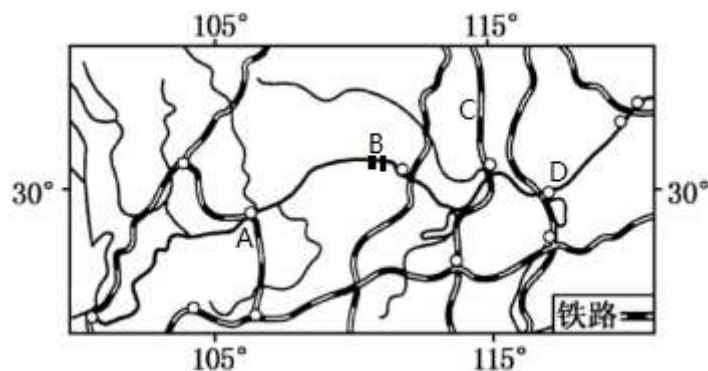
C. ①③

D. ②④

解析：台湾盛产甘蔗，有“东方甜岛”之称；台湾盛产香蕉菠萝等，有“水果之乡”之称；台湾盛产稻米，有“海上米仓”之称；台湾的森林面积广阔，有“森林之海”之称；台湾的植物种类繁多，有“天然植物园”之称；台湾盛产海盐，有“东南盐库”之称。台湾岛多山，高山和丘陵面积占全部面积的三分之二以上。台湾东南部沿海降水多，光照不充足。

答案：A

31.（8 分）读“长江流域局部地区示意图”，回答问题。



(1) B 是水利枢纽____， C 铁路线是____， D 是长江中游和下游的分界点_____。

解析：读图分析可知：依据位置，图中 B 是三峡水利枢纽，是我国乃至世界最大的水利工程；C 铁路线是京广线，D 是长江中游和下游的分界点湖口。

答案：三峡 京广线 湖口

(2) 长江中下游平原属于____气候，雨热同期，降水丰沛；土壤肥沃，灌溉便利，是我国重要的稻米和淡水鱼产区，自古就被誉为“_____”。

解析：长江中下游平原属于亚热带季风气候，雨热同期，降水丰沛；土壤肥沃，灌溉便利，是我国重要的稻米和淡水鱼产区，自古就被誉为“鱼米之乡”。

答案：亚热带季风 鱼米之乡

(3) 长江三角洲城市群是全国最大的城市群，核心城市是____，该地区的____工业基地是我国最大的综合性工业基地。

解析：长江三角洲城市群是全国最大的城市群，该城市群的核心城市是上海，该地区的沪宁杭工业基地是我国最大的综合性工业基地。

答案：上海 沪宁杭

(4) “同城效应”使李江南父母每天往返于上海的家和苏州的工作地，他们最可能采取的交通方式是_____。

- A. 民用航空
- B. 高速铁路
- C. 内河航运
- D. 管道运输

解析：借助发达的交通，人们往返不同城市之间，好比生活在同一座城市，这种效应叫做同城效应。形成上海与苏州“同城效应”的最主要条件是发达的京沪高速铁路和高速公路使上海与苏州的交通更加快捷。

答案：B

(5) 下列旅游景点中，不位于长江三角洲地区的是_____。

- A. 杭州西湖
- B. 苏州园林
- C. 螺髻山
- D. 周庄

解析：螺髻山位于四川省，不属于长江三角洲地区；杭州西湖、苏州园林、周庄位于长江三角洲地区。

答案：C