

2006年普通高等学校招生全国统一考试

文科综合能力测试（全国卷1）

本试卷分第I卷（选择题）和第II卷（非选择题）两部分。第I卷1至8页，第II卷9至12页。全卷共300分。考试用时150分钟。

第I卷

注意事项：

1. 答题前，考生务必将自己的姓名、准考证号填写在试题卷和答题卡上，并将准考证号条形码粘贴在答题卡上的指定位置。
2. 每小题选出答案后，用2B铅笔把答题卡上对应题目的答案标号涂黑。如需改动，用橡皮擦干净后，再选涂其他答案标号。答在试题卷上无效。
3. 考试结束，监考人员将本试题卷和答题卡一并收回。
4. 第I卷共35小题，每小题4分，共140分。在每题给出的四个选项中，只有一项是最符合题目要求的。

图1显示我国四个省2004年三种谷物的种植面积。读图1，回答1-2题。

1. ①、②、③代表的谷物依次是
 - A. 小麦、水稻、玉米
 - B. 玉米、小麦、水稻
 - C. 水稻、小麦、玉米
 - D. 水稻、玉米、小麦
2. M省可能是
 - A. 山西
 - B. 安徽
 - C. 广东
 - D. 甘肃

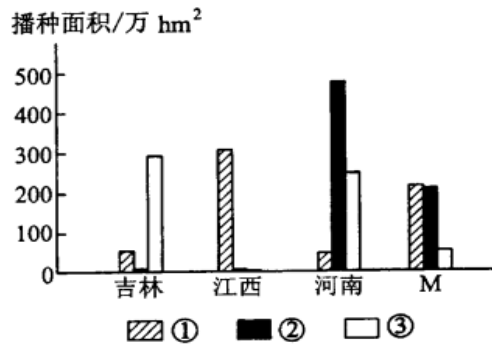


图1

雪线高度是指终年积雪下限的海拔。图2表示全球不同纬度多年平均雪线高度、气温、降水量的分布。读图2，回答3—5题。

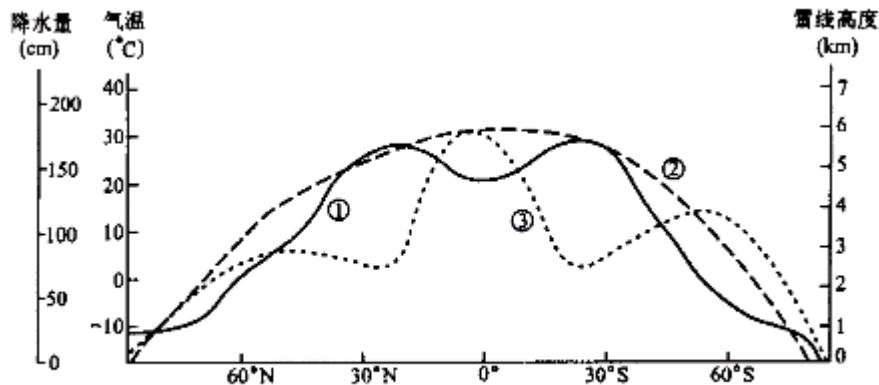


图2

3. 表示多年平均雪线高度、气温、降水量的曲线依次是
 - A. ①②③
 - B. ①③②
 - C. ③②①
 - D. ③①②
4. 多年平均雪线高度

- A. 随纬度增高而降低 B. 在副热带地区最高
C. 在降水量大的地区较高 D. 在南半球低纬度地区最低

5. 依图示资料可知

- A. 北半球高纬地区多年平均气温与降水量变化趋势基本一致
B. 南半球中纬地区多年平均雪线高度与降水量变化趋势基本一致
C. 多年平均雪线高度与气温变化趋势一致
D. 北半球高纬地区陆地比重小于南半球

表 1 为四个国家 1998 年能源消费情况。读表 1，回答 6-8 题。

| 国家 | 能源消费总量 (亿吨标准煤) | 单位 GDP 能耗 (吨标准煤/万美元) | 能源消费构成 (%) | | | |
|----|-------------------|-------------------------|------------|------|------|-------|
| | | | 煤炭 | 石油 | 天然气 | 水电和核电 |
| ① | 13.2 | 14.22 | 69.6 | 21.5 | 2.2 | 6.7 |
| ② | 30.7 | 3.73 | 24.9 | 39.7 | 25.7 | 9.7 |
| ③ | 7.1 | 1.89 | 17.7 | 51.1 | 12.5 | 18.7 |
| ④ | 8.5 | 30.7 | 17.3 | 20.6 | 55.3 | 6.8 |

6. 表 1 数据表明

- A. ①国以煤为主，且核电消费量最大
B. ②国矿物能源消费构成较均衡，且石油消费量最大
C. ③国以石油为主，且石油消费量在四国中居首位
D. ④国以天然气为主，且天然气消费量在四国中居首位

7. ①-④所代表的国家依次是

- A. 俄罗斯、美国、日本、中国 B. 中国、美国、日本、俄罗斯
C. 美国、中国、日本、俄罗斯 D. 中国、美国、俄罗斯、日本

8. 人均消费能源较为相近的一组是

- A. ①② B. ②③ C. ③④ D. ①④

据报道，哈尔滨地区 2004 年 10 月 14 日出现的日偏食开始于 9 时 20 分，结束于 10 时 57 分。当哈尔滨日食结束时，美国阿拉斯加州某地为 13 日 16 时 57 分。那里人们看到的日偏食开始于 13 日 17 时 55 分，结束于 13 日 18 时 46 分。读图 3，完成 9-11 题。

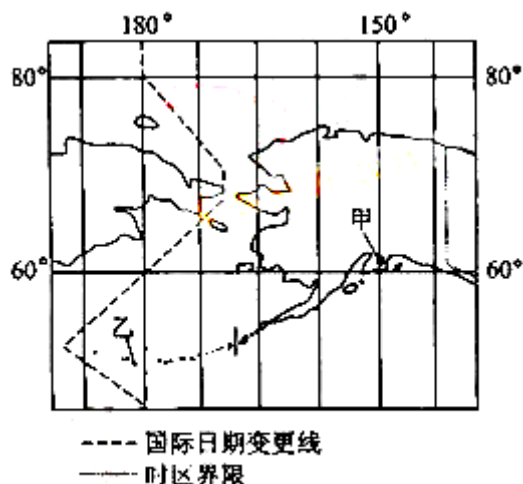


图 3

9. 图中阿拉斯加州的甲地和乙地

- A. 能够同时看到这次日偏食的全过程
B. 乙地先看到日偏食，甲地后看到日偏食
C. 乙地能看到日偏食，甲地看不到日偏食

- D. 乙地只能看到日偏食开始，甲地只能看到日偏食的结束
10. 报道中的阿拉斯加地区使用的时间是
A. 地方时 B. 西 10 区的区时 C. 西 9 区的区时 D. 西 8 区的区时
11. 阿拉斯加州能看到这次日偏食结束的地区，其使用的区时与地方时相差约
A. 0 小时 B. 1 小时 C. 2 小时 D. 3 小时

第 II 卷

注意事项：

1. 答题前，考生先在答题卡上用黑色签字笔将自己的姓名、准考证号填写清楚，然后贴好条形码。请认真核条形码上的准考证号、姓名和科目。
2. 第 II 卷共 4 页，请用黑色签字笔在答题卡上各题的答题区域内作答，在试题卷上作答无效。
3. 本卷共 4 大题，共 160 分。

36. 沙尘暴是指强风从地面卷起大量沙尘，使大气水平能见度小于千米的特殊天气现象。图 5 示意我国沙尘暴主要活动路径和强沙尘暴多发区；图 6、图 7 依次表示 1464-1913 年华北地区沙尘暴按月份累计次数和逐年统计次数。分析图 5、图 6、图 7，回答下列问题。



图 5

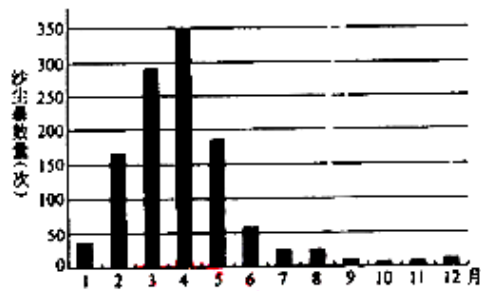


图 6

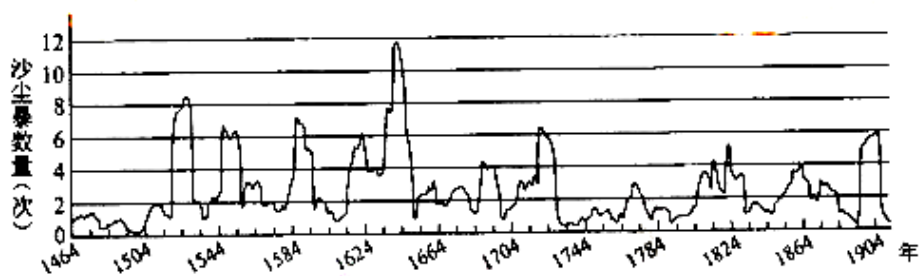


图 7

- (1) 西路沙尘暴先后影响的两大盆地是：_____盆地、_____盆地。
 - (2) 西北路沙尘暴先后影响的地理区域有：_____盆地、河西走廊、内蒙古高原、_____高原和_____平原。
 - (3) 说明图 5 中强沙尘暴多发区的地表环境特点。
 - (4) 指出图 6 所示的沙尘暴季节分布特点，并说明其自然原因。
 - (5) 在图 7 显示的 450 年间，沙尘暴发生次数的变化呈现出_____的规律。在明王朝灭亡时，沙尘暴约发生了_____次。
39. 在中国，近代铁路和公路出现之前，河流的交通运输功能往往决定了城市的区位。图 9 所示通商口岸的选择与它们方便的水路交通条件密切相关。

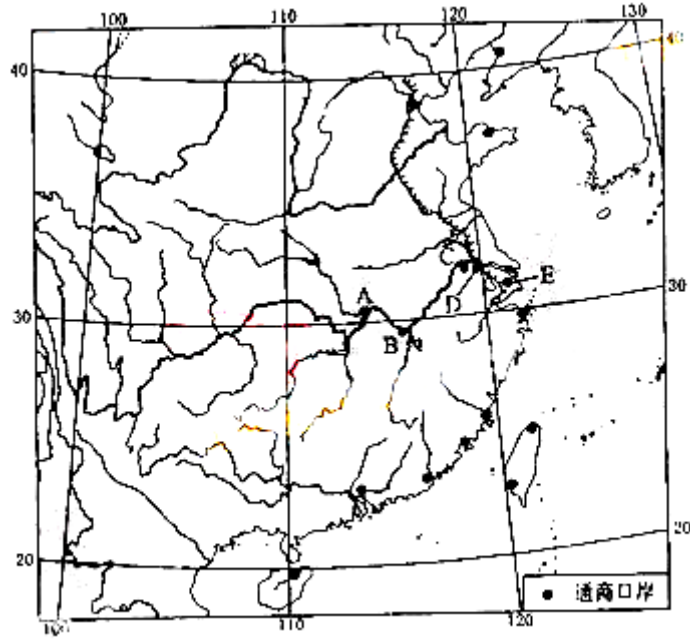


图9

- (1) 比较图9中A、E两城市在河流交通运输中的区位特点。
- (2) 影响A、B、C、D、E城市的区位，除交通因素外，还有哪些共同的地理因素？
- (3) 城市的形成和发展极大地影响了其他交通线路的选择。分别写出目前经过A、B、C三城市的我国南北铁路干线的名称。