

绝密★启用前

## 2013年普通高等学校招生全国统一考试（大纲全国卷）

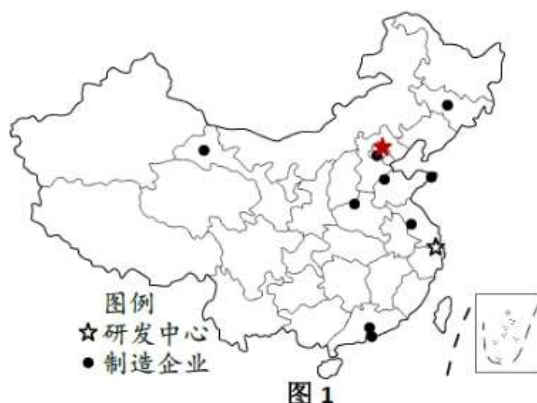
### 文科综合（历史、政治）

（适用省区：广西）

#### 2013年高考文综地理部分（大纲卷）

##### 一、单项选择题 本大题共11小题 每题4分 共44分

图1示意某跨国公司的制造企业和研发中心在中国的分布。读图1 完成1—2题。



1. 该公司在中国多地投资建制造企业主要是为了

- A. 扩大市场份额      B. 分散投资风险  
C. 建立营销网络      D. 利用廉价原料

2. 该公司研发中心选址考虑的首要因素是

- A. 交通      B. 人才      C. 市场      D. 资金

在太行山南段东麓相邻的两条间歇性河流上分别建有甲、乙水库 它们的汇水面积大体相等。2009年雨季 乙水库入库水量912万立方米 甲水库却几乎没有入库水量。据此完成3—4题。

3. 甲、乙两水库上游流域

- A. 河流以地下水补给为主      B. 自然植被为针阔叶混交林  
C. 降水集中于7、8月份      D. 位于半干旱地区

4. 2009年雨季 甲水库无入库水量是因为其流域

- A. 几乎没有降水      B. 植被截留降水      C. 降水大量下渗      D. 人工拦截径流

自20世纪90年代初 浙江温州的一些瓜农到海南岛承包土地 种植西瓜 产品销往全国各地。他们每年8月底到海南岛种西瓜 次年五月中旬返回温州。据此完成5—6题。

5. 温州瓜农选择在海南岛种植西瓜 是因为海南岛

- A. 西瓜品种优      B. 种植成本低      C. 种植利润高      D. 市场需求大

6. 温州瓜农每年5—8月离开海南岛 主要原因是此时间

- A. 温州正值农忙季节      B. 海南岛不宜种植西瓜  
C. 瓜地休耕以恢复肥力      D. 海南岛西瓜竞争力弱

赤潮是某些浮游生物爆发性繁殖引起水色异常和水质恶化的现象。赤潮的出现和人类活动排放的污染物有关。据此完成7—9题。

7. 引发赤潮的污染物主要为

- A. 重金属盐    B. 氮、磷营养物    C. 固体废弃物    D. 泄漏的石油
8. 赤潮爆发的海域一般
- A. 水温偏高、风力偏大    B. 水温偏低、风力偏大
- C. 水温偏高、风力偏小    D. 水温偏低、风力偏小
9. 赤潮多发的海域位于
- A. 赤道附近    B. 大洋中部    C. 中、低纬近海    D. 高纬近海

某种生物的种密度指单位面积该种生物的个体数量。图 2 为北美洲部分地区某种动物的种密度等值线图。据此完成 10—11 题。

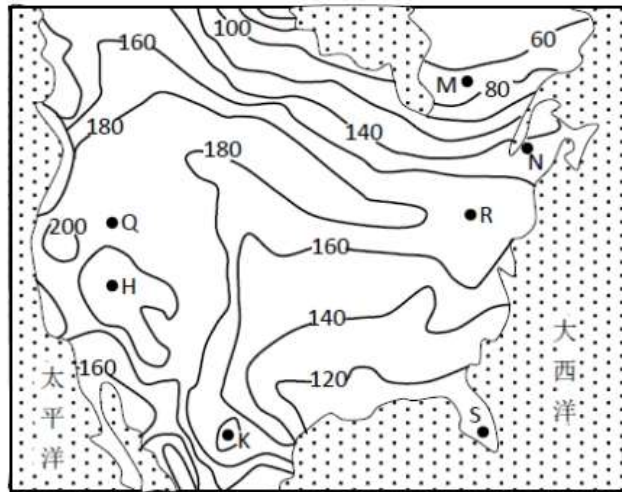


图 2

10. H、K、Q、R 四地中 该种动物的种密度可能相等的两地是
- A. H、R    B. Q、R    C. Q、H    D. H、K
11. 该种动物的种密度与年均温的空间分布是正相关的地区是
- A. Q、R 之间    B. N、M 之间    C. S、R 之间    D. S、K 之间
12. 中国历史上有监察区转为行政区的现象，如汉代的州、唐代的道、宋代的路。这体现出
- A. 中央集权促成地方行政制度变迁    B. 经济发展导致地方行政区域调整
- C. 中央对地方的监察力度越来越弱    D. 疆域变化影响地方行政区域设置
13. 汉文帝说：“盖天下万物之萌生，靡有不死。死者天地之理，物之自然，奚可甚哀……厚葬以破业，重服以伤生，吾甚不取。”汉文帝在此强调的是
- A. 无为而治    B. 轻徭薄赋    C. 崇尚节俭    D. 民贵君轻
14. 范仲淹倡导的“庆历新政”与王安石变法的共同目的是改变北宋“积贫”“积弱”的现状，而“庆历新政”更侧重于
- A. 增加赋税    B. 澄清吏治    C. 培养人才    D. 充实边防
15. 《窦娥冤》揭露封建统治的黑暗，《水浒传》颂扬农民起义英雄杀富济贫。这反映了
- A. 封建社会的腐朽没落    B. “异端”思想影响广泛
- C. 普通民众的理想与愿望    D. 商业发展冲击传统观念
16. 明初的户役制度，将户籍分为若干类别，其中主要是民户，还有军户、匠户、灶户（煮盐户）等几十类，并严格禁止更换户别。这一措施有利于
- A. 缓和土地兼并    B. 促成社会分化
- C. 强化社会控制    D. 发展商品经济
17. 乾隆三十七年，台湾海防同知朱景英称：“台地多用宋钱，如太平、元祐、天禧、至道等年号钱，钱质小薄，千钱贯之。”据此可知
- A. 宋代商品经济比清代更为繁荣    B. 当时两岸经济交往尚不密切
- C. 海峡两岸有着不同的货币体系    D. 宋代以后台湾经济发展迟缓
18. 1863 年，总理各国事务衙门正式任命英国人赫德为海关总税务司，赫德制定了管理海关的相关章

程，对海关内部用人、行政等做了详细规定。这表明

- A. 中国关税自主权进一步丧失      B. 清政府加强了对海关的管控  
C. 洋务运动正式展开      D. 对外贸易完全被英国控制
19. 张之洞在戊戌变法期间撰写的《劝学篇》，在知识分子中产生了极大影响，行销百万册。这反映出  
A. 保守势力转而支持改革      B. 洋务派“中体西用”思想已过时  
C. 清政府成为变革的主导者      D. 洋务派与维新派思想有共同之处
20. 从 20 世纪 60 年代初期开始，大批沿海城市人口向内地迁移，在内地形成了一批新的城镇，促进了中国城市分布向中西部扩散的格局。出现这种状况的主要原因是  
A. 国家调整了工业布局      B. 人口急剧膨胀  
C. 国家实行城镇化战略      D. 大跃进运动的开展
21. 19 世纪 60 年代中期，普鲁士政府提出军事改革议案，要求扩充常备军、延长服役期、增加税收与军费，遭到议会强烈反对。这一斗争反映出  
A. 国内市场不统一导致严重政治分歧  
B. 普鲁士内部存在统一方式之争  
C. 普鲁士与奥地利争夺民族统一领导权  
D. 普鲁士与其他各邦存在统一于反统一之争
22. 《大西洋宪章》宣称，“尊重各民族自由选择其所赖以生存的政府形式的权利”“各民族中的主权和自治权有横遭剥夺者，两国俱欲设法予以恢复”“使全世界所有人类悉有自由生活，无所恐惧，亦不虞匮乏的保证”。在现代国际文件中，该宪章首次提出的主张是  
A. 维持世界和平      B. 保障民族自决  
C. 尊重国家主权      D. 消除世界贫困
23. 凯恩斯学派主张国家应干预经济，以扩大需求，刺激经济发展。20 世纪 70 年代末，面对“经济滞胀”局面，英国撒切尔政府采取不同于凯恩斯学派的经济政策，其做法是  
A. 增加货币发行量      B. 扩大政府开支  
C. 推行国有企业民营化      D. 增加政府税收
24. 假设某国 M 产品只由甲、乙两家企业提供，售价为 10 元，2011 年，甲企业生产 500 万件，乙企业生产 400 万件。2012 年，甲乙企业的劳动生产率都提高一倍，在其他条件不变的情况下，M 产品的价格和社会总价值分别是：  
A. 5 元 9000 万元      B. 10 元 9000 万元  
C. 5 元 18000 万元      D. 10 元 18000 万元
25. 人们在经济往来中经常使用信用工具进行结算。下列情景中，一般采用汇票结算的是：  
A. 某人支付网络购物货款 800 元      B. 某企业支付外地供应商货款 200000 元  
C. 某人支付本地酒店服务费 10000 元      D. 某培训机构支付本地专家劳务费 5000 元
26. 近年来，受市场需求不振、原材料价格上涨的影响，我国某著名蔗糖企业的利润率一起在 3% 左右的低位徘徊。为提高利润率，该企业可采取的措施有：  
①调整产品结构，增加高附加值蔗糖产品产量    ②优化管理流程，降低蔗糖生产成本  
③提高蔗糖价格，抵消原材料价格上涨影响    ④发行企业债券，扩大蔗糖生产规模  
A. ①②      B. ①③      C. ②④      D. ③④
- 2013 年 1 月，全国中小企业股份转让系统在北京正式运行，这个系统是由国务院批准设立的全国证券交易场所，为非上市股份公司的公开转让、融资、并购等相关业务提供服务。该系统与沪深证券交易所一起构成中国资本市场体系的重要内容。回答 27—28 题。
27. 全国中小企业股份转让系统的建立，可以：  
A. 提高非上市公司经营业绩      B. 优化非上市公司组织结构  
C. 降低非上市公司管理费用      D. 拓宽非上市公司融资渠道
28. 国务院批准建立全国中小企业股份转让系统，是政府：  
①提供社会公共服务职能的体现    ②组织经济建设职能的体现  
③提高依法行政水平的举措    ④完善资本市场体系的举措  
A. ①②      B. ①③      C. ②④      D. ③④
29. 某村在保护当地民族文化的同时，不断挖掘、开发民族文化资源，把一个普通的少数民族村寨建设成为一个生动展示少数民族生活善的“博物馆”和著名的旅游景区。民族文化资源的开发带动了当地经济的发展，村民的生活水平大幅度提高。从唯物主义观点看，该村取得成功的原因在于：

①因地制宜，将文化保护与文化资源开发结合起来

②将客观条件与发展目标一起作为工作的出发点

③发挥主观能动性，超越客观条件和规律的制约

④根据规律发生作用的条件和形式正确利用规律

A. ①②

B. ①④

C. ②③

D. ③④

30. “四十年来画竹枝，日间挥写夜间思。冗繁削尽留清瘦，画到生时是熟时。”郑板桥这首《画竹诗》形象地描述了他画竹从“冗繁”到“清瘦”、从忠实描摹到表现竹子独特精神的艺术升华过程。这表明艺术创作：

①是对对象的再现与创造相统一的过程 ②是把艺术观念转变为现实艺术作品的根本途径

③具有与物质生产实践同样的规律与特点 ④是按照创作者的意图改造对象世界的观念活动

A. ①②

B. ①③

C. ②④

D. ③④

31. 毛泽东说：“邀集一堆人，不作调查，而只是冥思苦索‘想办法’‘打主意’，须知这是一定不能想出什么好办法，打出什么好主意的。”这段话蕴含的哲学道理是：

①感性认识比理性认识更真实更可靠

②占有大量可靠的感性材料是形成“好主意”的前提条件

③实践是认识的来源和认识发展的根本动力

④冥思苦索无助于“好办法”、“好主意”的产生

A. ①②

B. ①④

C. ②③

D. ③④

32. 18 世纪的产业革命开启了人类社会工业化历程，许多国家通过工业化，极大地促进了经济增长，同时也产生了环境污染等生态问题。有学者据此把工业化比喻为一把双刃剑。从唯物辩证法看，工业化与环境污染之间的联系：

①是客观的，因而与人无关 ②是必然的，不可改变

③是具体的，因时因地而异 ④是变化的，因势而变

A. ①②

B. ①③

C. ②④

D. ③④

33. 依据香港特别行政区基本法和有关法律的规定，香港特别行政区于 2012 年 3 月 25 日选举出第四任行政长官。3 月 28 日，国务院第七次全体会议审议了香港特别行政区政府关于行政长官人选的报告，并作出任命决定。香港特别行政区行政长官的当选和任命反映出：

①香港特别行政区拥有选举特区行政长官的权利

②香港特别行政区直辖于中央政府，实行高度自治

③中央对香港特别行政区拥有最高立法权和司法权

④中央政府对香港地方行政事务拥有最高管理权

A. ①②

B. ①③

C. ②④

D. ③④

34. 2012 年国家宗教事务局等部门联合发布《关于鼓励和规范宗教界从事公益慈善活动的意见》提出，宗教团体、宗教活动场所和宗教界人士可以为公益慈善事业捐款捐物，设立公益慈善项目和公益慈善组织，宗教界依法从事上述公益慈善活动可以享受相关扶持和优惠政策。这一规定的出台：

①是引导宗教与社会主义社会相适应的要求

②表明政府具有组织宗教公益慈善活动的职能

③促进了宗教公益慈善事业与正常宗教活动的统一

④更好地保护了宗教团体和宗教界人士的合法权益

A. ①②

B. ①④

C. ②③

D. ③④

35. 2012 年 3 月，中国国家领导人在首尔核安全峰会上发表讲话指出，中国高度重视核安全，坚决反对核扩散和核恐怖主义。中国秉持这一立场是因为：

①核扩散会加剧军备竞争，违背世界各国的利益

②核恐怖主义会增加国际社会中的不稳定因素

③核扩散会助长强权政治，导致世界战争不可避免

④反对核扩散有利于中国自身的发展，维护世界和平

A. ①②

B. ①③

C. ②

④

D. ③④

## 第二卷 共 4 大题 共 160 分

36. 36 分 阅读图文资料并结合所学知识 完成下列要求。

新疆轮台(位置见图3)盛产小白杏。原来杏肉食用,杏核弃之。某年浙江义乌某瓜子商经反复试验,研究出炒制此种杏核的方法,其杏仁口味上佳。此后,该瓜子商从轮台大量收购杏核,在义乌炒制后出口美国。由此,小白杏成为轮台重要的农产品之一。

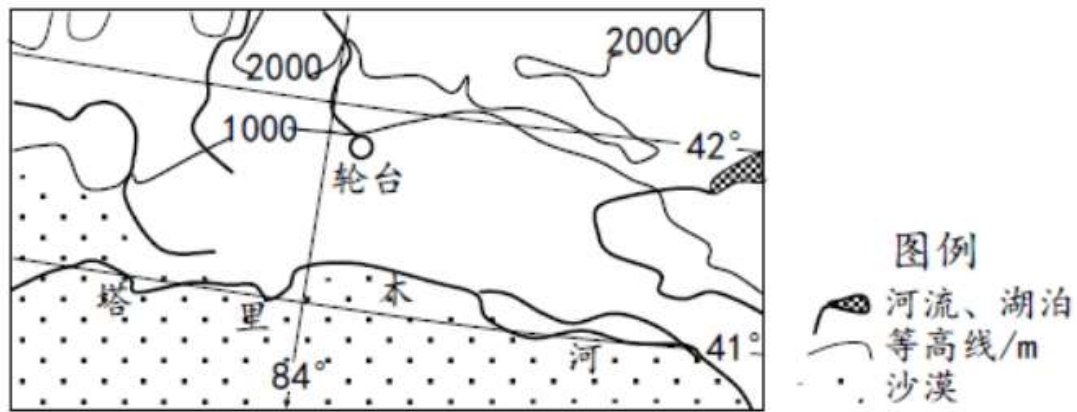


图3

- (1) 评价轮台种植瓜果的自然条件。 14分
- (2) 从区位选择的角度,说明义乌瓜子商把杏核从轮台运到义乌加工的原因。 12分

(3) 说明我国东部地区和西部地区在农业区际协作中各自的优势条件。 10分

37. (32分) 阅读材料,完成下列要求。

材料一

孟德斯鸠(1689—1755)曾任波尔多市法院院长,后遍游欧洲,考察各国制度,潜心著述。他认为,专制就是君王集一切权力于一身,“完全按照自己一个人一时的与反复无常的意志行事”“法律等于零”。专制君王依靠唯上是从的官吏做爪牙,借助庞大军队和严峻刑罚进行统治,可任意征收重税、没收个人财产。在此制度下,“人的命运与牲畜别无二致,只有本能、服从与惩罚”。

——摘编自路易·戴格拉夫《孟德斯鸠传》

材料二

严复(1854—1921)曾到英国留学,后在北洋水师学堂任职,意欲培养人才建设强大海军。但官场腐朽,使他认识到办理海军教育无法施展政治抱负。1895年前后,严复深为民族前途担忧,陆续发表文章,翻译西方著作,评论史事与时政,鼓吹学习西方民主。

严复尖锐批判中国专制政体:“国君则超乎法之上,可以意用法易法,而不为法所拘”“不独国主君上之权为无限也,乃至寻常一守宰,于其所治,实皆兼三权(行、宪、政)而领之”,故无公正可言。他主张“以自由为体,以民主为用”“设议院于京师,而今天下郡县各公举其守宰”。他认为“吾国今处之形,则小己自由,尚非所急,而所以祛异族之侵横,求有立于天地之间,斯真刻不容缓之事。故所急者,乃国群自由,非小己自由也”。他主张通过鼓民力、新民德、开民智,逐步使国家走上民主法制之路。

——摘编自王栻主编《严复集》

- (1) 根据材料一、二并结合所学知识,分别说明孟德斯鸠、严复反专制思想形成的时代背景与个人原因。(20分)
- (2) 根据材料一、二并结合所学知识,指出严复的主张在哪些方面与孟德斯鸠相同,有何主要差异。(12分)

38. (32分) 阅读材料,完成下列要求。

土地的有效利用和耕地保护,事关国家粮食安全、经济持续发展、社会和谐稳定和国家长治久安。

材料一 2007年党的十七届三中全会突出强调要层层落实责任,坚决守住18亿亩红线。2010年中央“一号文件”提出,“落实政府耕地保护目标责任制,上级审计、监察、组织等部门参与考核”。2011年7月,为落实《国务院关于深化改革严格土地管理的决定》,国务院召开常务会议,研究部署加强土地管理工作,要求耕地保有量不减少,质量有提高。2011年9月,全国人大常委会开展了

农村土地承包法执法检查。十一届全国人大常委会第二十四次会议审议农村土地承包法执法检查报告。

材料二 为了有效利用土地，许多地方进行了积极探索。某村改变过去村民分散的生产经营方式，聘请专业技术人员，统筹规划，在高岗旱地种植高杆苗木，其间套栽小苗、花草，周边围栏，既可护苗，又可在里面养鸡；在洼地修建鱼塘，集中养鱼、养鸭；在中间的旱地修建养猪场。养殖业的废弃物可制成有机肥，有机肥不仅可以育苗、养鱼，剩余部分还可销售。该村由此形成了综合立体开发的生态农业示范区，每亩土地年收益由改造前亏损或微利变成盈利 8500 多元，全村年净收入达 300 多万元。

材料三 2010 年某市农民成立了全国第一个“农民耕地保护协会”。他们举办“耕地保护论坛”，积极宣传国家节约、集约用地政策；主动监督和协助处理违法用地行为；主动整治废旧建筑，建设休闲健身场所，改善居住环境。他们发挥集体智慧，既满足了经济社会发展用地需求，又保护了耕地，成为耕地的“第一守护人”。

- (1) 结合材料一，运用政治常识分别说明党、政府和人大在耕地保护中的作用。(12 分)
- (2) 结合材料二，运用所学经济知识概括该村在土地集约经营上成功的经验。(10 分)  
(若回答“坚持以家庭承包为基础、统分结合的基本经营制度”也可酌情给分)
- (3) 运用社会历史主体的知识，分析农民群众为何能够成为耕地的“第一守护人”。(10 分)

39. (60 分) 阅读图文资料，完成下列要求。

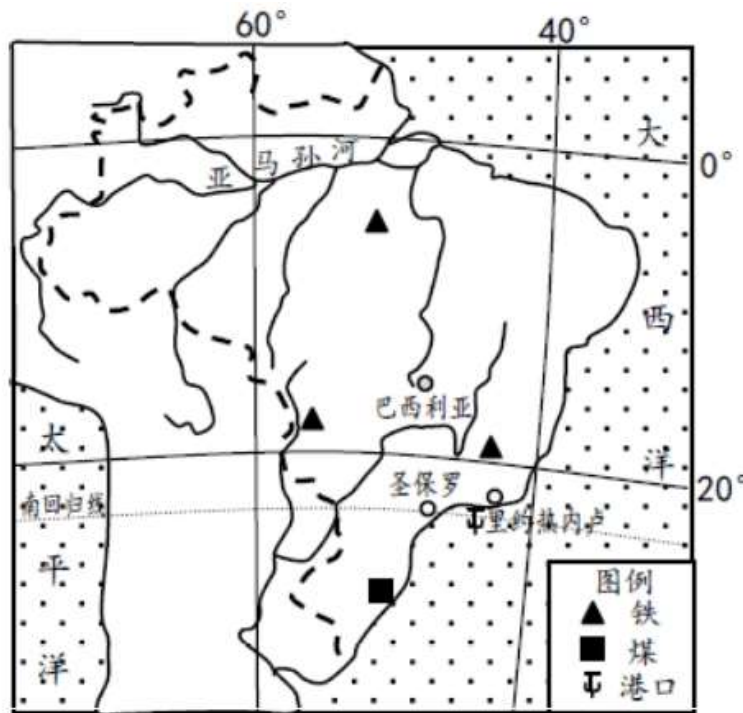


图 4

中国、俄罗斯、印度、巴西和南非被合称为“金砖国家” BRICS 。

材料一 中国是世界最大的钢铁生产国 但需大量进口铁矿石。巴西(图 4)是拉丁美洲人口最多、工业最发达的国家 其中人口和城市主要集中在以里约热内卢、圣保罗为中心的东南沿海地区。巴西铁矿石资源丰富 是世界重要的铁矿石出口国。2010 年 4 月 13 日 中国和巴西签订协议 共同出资在巴西里约热内卢附近建设一家年产 500 万吨钢材的大型钢铁厂 所产钢材主要用于巴西汽车制造、造船、石油开采等行业 部分输往中国。

- (1) 简述中巴联合在巴西兴建钢铁厂对中国和巴西之利。 10 分
- (2) 简述该钢铁厂区位选择的有利条件。 10 分

材料二:

1950年，中国与苏联签订《中苏友好同盟互助条约》及其相关协定，规定：“缔约国双方保证共同努力采取一切必要的措施，以期制止日本或其他直接或间接在侵略行为上与日本相勾结的任何国家之重新侵略与破坏和平。一旦缔约国任何一方受到日本或与日本同盟的国家之侵袭因而处于战争状态时，缔约国另一方即尽全力给予军事及其他援助。”

苏联解体后，中俄关系从“互视为友好国家”发展到“建设性伙伴关系”，再到1996年确立“战略协作伙伴关系”。2001年，中俄两国签署了《中俄睦邻友好合作条约》，将两国永做好邻居、好伙伴、好朋友的意愿和决心用法律形式固定下来。

——摘编自世界知识出版社编《国际条约集》等

(3) 根据材料二并结合所学知识，指出中国与苏联签订友好同盟互助条约的目的。(8分)

(4) 根据材料二并结合所学知识，说明20世纪90年代中俄关系不断发展的背景。(12分)

材料三：

金砖国家多为人口大国，资源丰富，且都处于由中等收入国家向高收入国家迈进的阶段。21世纪以来，经过各自的努力，巴西、俄罗斯、印度、中国已进入世界前十大经济体之列。2012年，金砖国家国内生产总值占全球总量的20%以上，对世界经济增长的贡献已超过50%。2009年以来，金砖国家领导人举行了5次会晤，各成员国在贸易、金融、投资等诸多领域妥善处理各种分歧、不断深化务实合作，在重大国际事务中的沟通和协调不断加强。

(5) 结合材料，运用所学经济知识概括金砖国家在经济发展上的共同点，并分析加强金砖国家经济合作的意义。(10分)

(6) 结合材料，运用对立统一的观点说明金砖国家为什么能够求同存异、共谋发展。(10分)

## 地理答案

### 一、选择题

题号	1	2	3	4	5	6	7	8	9	10	11	12
答案	A	B	C	D	C	D	B	C	C	A	B	A
题号	13	14	15	16	17	18	19	20	21	22	23	24

答案	C	B	C	C	B	A	D	A	B	D	C	A
题号	25	26	27	28	29	30	31	32	33	34	35	
答案	B	A	D	C	B	A	C	D	A	B	C	

二、36.

(1)地处高山山麓洪冲积扇上 地形平坦 土壤肥沃 (3分) 沙漠边缘 气候干旱,日照充足 气温日较差大 有利于瓜果糖分积累 (4分)有高山冰雪融水和山地降水 地下水 可供灌溉。(4分) 水源 宝贵 是制约瓜果种植规模的主要自然因素。(3分)

(2)杏核 晒干后 便于保存和运输 炒制 加工 后的杏核能尽快运往市场 (4分) 义乌加工瓜子 炒制杏核 的相关产业 工人素质高 有经验、有技术 可以保证产品 炒制杏核 的质量。

(其他合理答案酌情给分 但本小题总分不得超过)(12分)

(3)东部地区 技术先进 资金充足 市场意识强 发展经济的经验丰富。(6分) 西部地区 资源丰富 劳动力价格相对低廉。(4分)(其他合理答案酌情给分 但本小题总分不得超过)(10分)

37.(32分)

(1)孟:欧洲启蒙运动兴起,英国已建立君主立宪制,法国专制制度日趋腐朽,资本主义发展,社会矛盾尖锐;广泛的调查与比较研究,英国经验的参照,有政治法律实践经验。(11分)

严:西方入侵加剧,民族危机空前严重,封建制度没落,资本主义初步发展,清末改革,民主革命兴起;受过系统西学教育,立志救国。(9分)

(2)相同:将君主置法律之下;自由、民主;建立议会制度;实行三权分立;开启民智。(9分)

差异:认为当时国家的独立自由高于个体自由。(3分)

38.

(1)党制定关于土地保护的大政方针,在耕地保护中发挥领导作用;(4分)国务院制定土地保护法规和相关政策,强化耕地保护,行使土地管理权;(4分)全国人大开展土地执法情况检查,发挥国家权力机关在耕地保护中的监督作用。

(2)统筹规划、因地制宜(2分)多种经营、综合(循环)利用(2分);提高农业产业化经营水平;(3分)加大资金和科技投入。(3分)(若回答“见识以家庭承包为基础、统分结合的基本经营制度”也可酌情给分)

(3)人民群众是社会实践的主体,是历史的创造者。(3分)农民群众是农业生产的主体,维护自身权益的意识日益增强。(3分)党和政府实施的耕地保护政策符合广大农民群众的根本利益,调动了农民群众的积极性;他们充分发挥主动性和首创精神,自觉地保护耕地。(4分)

39.

(1)对中国 直接利用巴西铁矿石 避免受国际铁矿石企业的控制 拓展国际市场。(4分)对巴西 有利于将资源优势转化为产业优势 提高铁矿石的附加值 减少钢材对国际市场的依赖 提高钢材的自给率 提高工业化水平。(6分)

(2)临近铁矿石产地 离煤炭产地较近 (2分) 位于产品的销售市场 (2分) 社会协作条件良好 基础设施较完善 工人素质较高 (3分) 位于大城市的港口附近 交通运输方便。(3分)

(3)维护国家独立于安全,巩固新生政权;维护和平;落实“一边倒”和“另起炉灶”的外交方针;争取苏联援助,以恢复国民经济,实现国家工业化。(8分)



- (4) 中苏关系实现正常化；中国改革开放，国力增强，国际地位提高，调整外交战略；苏东剧变，两极格局解体，俄罗斯国际地位下降，美国成为惟一超级大国；和平与发展成为时代主流。(12分)
- (5) 共同点：经济发展阶段大致相同；经济发展速度较快；具有一定的经济后发优势；对建立世界经济新秩序有共同渴望；经济互补性强。(4分)  
意义：发挥比较优势，扩大贸易往来和相互投资，促进各自经济发展(3分)；形成合力，提升金砖国家在国际经济事务中的影响力，维护共同利益。(3分)  
(若回答“有利于建立公正合理国际政治经济新秩序”亦可给3分)
- (6) 矛盾双方既相互排斥又相互依存、相互制约；(3分) 金砖国家在历史、文化、社会制度等方面存在差异，具有各自的特殊利益，但在很多方面存在着共同利益；(3分) 各国着眼于共同利益，妥善处理各种分歧，加强沟通与合作，有利于实现优势互补、促进共同发展。(4分)