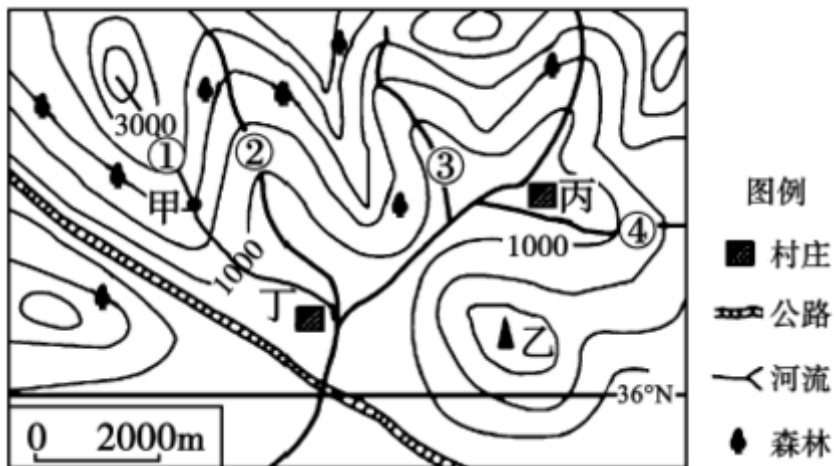


2018年山东省聊城市中考真题地理

一、选择题（共50分）下列各小题的四个选项中，只有一项最符合题目要求。每小题2分，共50分。

读某地等高线地形图，完成下列问题。



1. 下列判断正确的是（ ）

- A. 甲位于山谷
- B. 乙为山顶
- C. 该地为丘陵地区
- D. 甲、乙两地间相对高度大于 500 米

解析：本题考查了等高线地形图的判读。读图可知，图中甲地等高线向海拔低处凸，为山脊；故 A 错误。乙处等高线闭合且等高线数值中间高四周低，为山顶；故 B 正确。该地区地形崎岖，且海拔高于 500 米，为山地；故 C 错误。图中的等高距为 500 米，甲地海拔高度为 2000 米；乙地海拔高度在 2000 米~2500 米之间，两地的相对高度为（2000 米~2500 米）-2000 米，即 0 米~500 米之间；故选项 D 错误。

答案：B

2. 图中标出的几条支流中，有一条实际上是不存在的，其序号是（ ）

- A. ①
- B. ②
- C. ③
- D. ④

解析：本题考查了等高线地形图的判读。读图可知，图中①、②、③、④四处中，②③④处等高线向海拔高处凸，为山谷；山谷处容易形成河流；①处等高线向海拔低处凸，为山脊，山脊处不容易形成河流。故选项 A 符合题意。

答案：A

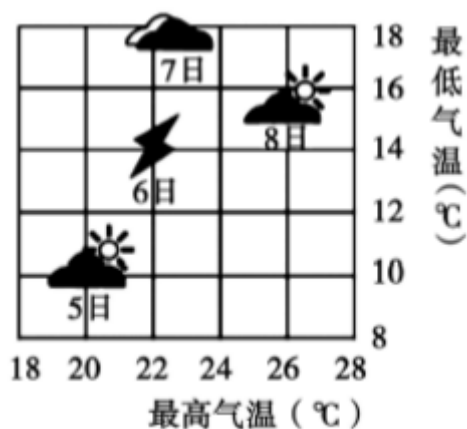
3. 关于丙、丁两村的比较，正确的是（ ）

- A. 丙村交通更为便利
- B. 丙村水源更为丰富
- C. 丁村位于丙村的西南方向
- D. 两村都不可能发生滑坡灾害

解析：本题考查了等高线地形图的判读。读图可知，丙村与丁村相比，丁村靠近公路和河流，水源充足，交通便利，丁村交通更为便利；故 A 错误。丁村位于河流的交汇处，丁村比丙村水源更为丰富；故 B 错误。根据“上北下南，左西右东判断”丁村位于丙村的西南方向；故 C 正确。丙村附近有山谷，山谷处容易出现滑坡；丁村处地形平坦开阔，发生滑坡灾害几率较小；故 D 错误。

答案：C

某学校地理兴趣小组经常开展观察和记录地理事象的活动。如图是该兴趣小组观察的当地5日-8日的天气预报情况。据此完成下列问题。



4. 当地雷雨天气出现在 ()

- A. 5日
- B. 6日
- C. 7日
- D. 8日

解析：此题考查的是常用的天气符号。图可知，5日和8日的天气表示多云，6日表示雷雨，7日表示阴天。故选项B符合题意。

答案：B

5. 气温日较差是指一天中气温最高值与最低值之差。据此判断这几日中气温日较差最小的是 ()

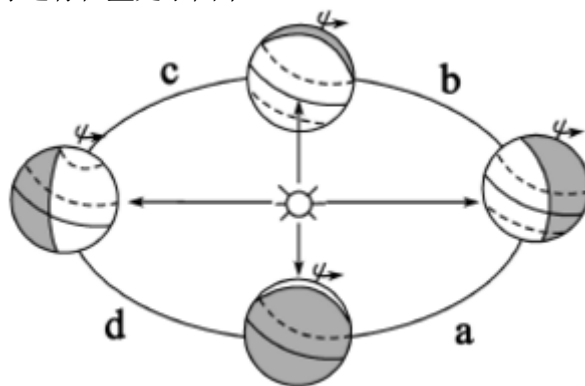
- A. 5日
- B. 6日
- C. 7日
- D. 8日

解析：本题考查气温日较差的概念。气温日较差是指一天中最高气温与最低气温的差，读图可得，这四日中，气温日较差最小的是7日，其气温日较差是 $22-18=4^{\circ}\text{C}$ 。

答案：C

“上合组织”，全称上海合作组织，是2001年在上海成立的永久性政府间国际组织。今年6月9日-10日，上合组织青岛峰会在山东省青岛市举行。据此完成下列问题。

6. 峰会举行期间，地球运行位置处于图中 ()



- A. a
- B. b

- C. c
- D. d

解析：本题考查地球公转图。6月9日—10日地球运行在春分日（3月21日前后）与夏至日（6月22日前后）即c位置，此时太阳直射点由赤道向北回归线移动。

答案：C

7. 此时，上海市（ ）

- A. 昼长夜短
- B. 昼短夜长
- C. 昼逐渐变短
- D. 正值一年中气温最高时期

解析：本题考查了地球公转产生的现象。青岛是我国山东省著名城市，位于北半球。当太阳光线直射赤道时是北半球的春分日（日期是3月21日前后）或秋分日（日期是9月23日前后）；当太阳光线直射北回归线时是北半球的夏至日（日期是6月22日前后）；当太阳光线直射南回归线时是北半球的冬至日（日期是12月22日前后）。6月9日—10日位于春分日与夏至日之间，太阳直射点由赤道向北回归线移动，北半球昼长夜短，且昼逐渐变长，一般7、8月份北半球达到气温最高。

答案：A

8. 结合图判断，关于该峰会举办地的叙述正确的是（ ）



- A. 濒临渤海
- B. 濒临黄海
- C. 属于温带海洋性气候
- D. 淡水资源极为丰富

解析：本题考查山东省青岛的特点。读图可得，青岛市濒临黄海，该城市属于温带季风气候，淡水资源比较缺乏，故B正确。

答案：B

9. 近几十年来，我国兴建了许多水利工程，以弥补缺水地区的用水不足。兴建南水北调工程的主要目的是缓解我国水资源哪方面的问题（ ）

- A. 东部多西部少
- B. 年际变化大
- C. 季节分配不均匀
- D. 地区分布不均衡

解析：兴修水利工程，能在相当程度上调节水资源的时空分布。中国水资源地区分布不均衡，有必要兴建跨流域的调水工程，把水资源较丰富流域的水调至水资源紧缺的流域，以弥补缺水地区的用水不足。近几十年来，中国进行了多项跨流域调水工程。目前正在兴建的南水北调工程，属于中国最大规模的跨流域水资源综合开发利用工程。工程建成后，将把长江流域富余的水调入缺水的华北、西北地区。

答案：D

10. 习近平总书记在不同场合多次倡导“绿水青山就是金山银山”的理念。下列做法符合该理念的是（ ）

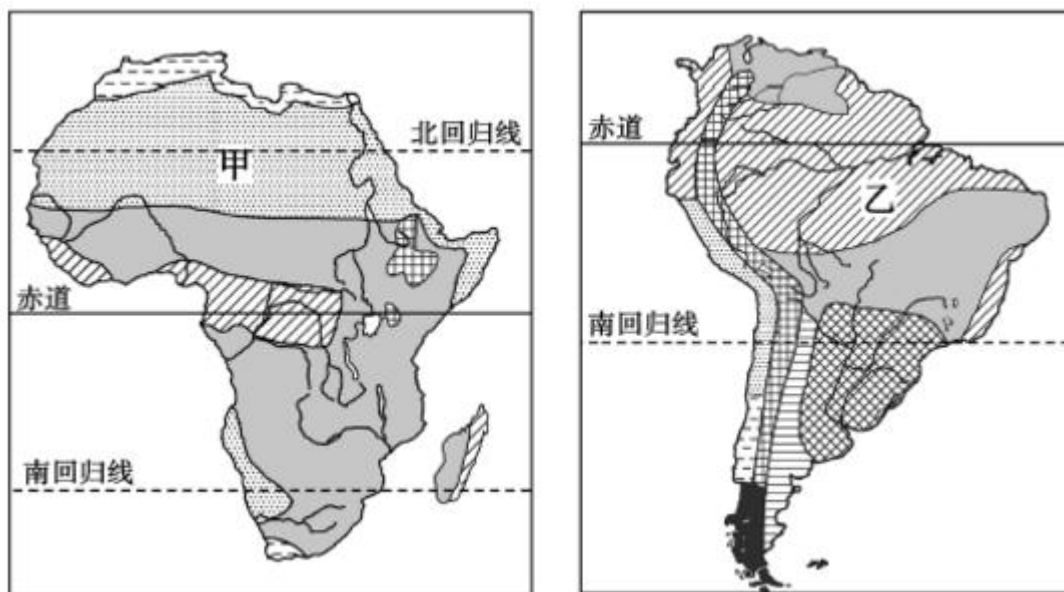
- A. 内蒙古高原地区退耕还林还草

- B. 山东丘陵地区大面积种植柑橘
- C. 青藏高原地区增加放牧牲畜的数量
- D. 长江中下游平原地区大力发展林业生产

解析：本题考查影响农业的因素。各地区应根据当地的自然地理条件和经济社会状况，因地制宜地发展农业。内蒙古地区气候干旱，应退耕还林还草，适宜发展畜牧业。柑橘是亚热带水果，山东丘陵地区可大面积种植苹果。青藏高原地区生态脆弱，放牧牲畜的数量要合理；而长江中下游地区河湖密集，适宜发展淡水养殖和种植业。

答案：A

读甲、乙两大洲气候类型分布示意图，完成下列问题。



11. 甲洲气候类型大致以赤道为轴对称分布，其影响因素是（ ）

- A. 纬度位置
- B. 海陆位置
- C. 地形
- D. 河流

解析：考查影响气候的主要因素。赤道穿过非洲中部，3/4 的面积在南、北回归线之间。受纬度因素的影响，非洲气候类型呈带状分布，以赤道为轴，南北大致对称。从赤道往南、北两侧，依次出现热带雨林气候、热带草原气候、热带沙漠气候和地中海气候。

答案：A

12. 关于乙洲气候的叙述，正确的是（ ）

- A. 以高原高山气候为主
- B. 缺少寒带气候类型
- C. 温带气候类型面积广大
- D. 西部因海陆位置影响，气候呈南北狭长分布

解析：该题考查南美洲的气候。读图可知，乙为南美洲；南美洲大部分位于热带，少部分位于温带，以热带气候类型为主，缺少寒带气候类型，温带气候类型面积小；西部因地形因素影响，气候呈南北狭长分布。

答案：B

13. 关于两大洲的叙述，正确的是（ ）

- A. 都位于东半球
- B. 都有面积广大的热带沙漠
- C. 甲洲有世界上面积最大的热带雨林

D. 乙洲是世界上最湿润的大洲

解析：本题考查南美洲和非洲的特点。读图可得，甲是非洲，乙是南美洲。南美洲位于西半球，非洲位于东半球，故 A 错误；南美洲主要的气候类型是热带雨林气候和热带草原气候，热带沙漠面积较小，故 B 错误；南美洲有世界上面积最大的热带雨林，故 C 错误；南美洲是世界上最湿润的大洲，故 D 正确。

答案：D

如图是我国部分省级行政区域单位轮廓图。读图完成下列问题。



14. 图示区域大部分位于我国（ ）

- A. 北方地区
- B. 南方地区
- C. 西北地区
- D. 青藏地区

解析：本题主要考查我国四大地理区域的划分。北方地区指秦岭—淮河一线以北、内蒙古高原以南、大兴安岭、乌鞘岭以东的广大地区，主要包括东北地区和华北地区；从行政区划看，具体包括黑龙江、吉林、辽宁、北京、天津、河北、山东、河南、山西、陕西、内蒙古东部、江苏北部、安徽北部、甘肃东南部、宁夏中南部。读图可知，图示区域大部分位于我国北方地区。

答案：A

15. 图中序号代表的省级行政区域单位与其简称、省会对应正确的组是（ ）

- A. ①—秦—太原
- B. ②—晋—西安
- C. ③—陇—兰州
- D. ④—宁—西宁

解析：本题考查我国省区的位置、轮廓、简称、行政中心。依据省区位置及轮廓，读图分析可知，图中①为山西省，简称晋，行政中心是太原；②为陕西省，简称陕或秦，行政中心是西安；③为甘肃省，简称陇，行政中心是兰州；④为宁夏回族自治区，简称宁，行政中心是银川。

答案：C

16. 四个省级行政区域单位中，少数民族分布最为集中的是（ ）

- A. ①
- B. ②
- C. ③
- D. ④

解析：本题主要考查我国省份的轮廓和民族分布。读图可得，①是山西省，②是陕西省，③是甘肃省，④是宁夏回族自治区，其中宁夏回族自治区是回族最为集中的地区。

答案：D

17. 我国四大盆地中，人口最稠密、海拔最高的分别是（ ）

- ①准噶尔盆地
- ②塔里木盆地
- ③四川盆地
- ④柴达木盆地

- A. ①、②
- B. ③、④
- C. ②、③
- D. ①、④

解析：本题考查我国四大盆地的特点。我国的四大盆地为塔里木盆地、准噶尔盆地、四川盆地、柴达木盆地；其中人口最稠密的是四川盆地，面积最大的是塔里木盆地，海拔最高的是柴达木盆地。

答案：B

我国某山脉大致为东西走向，且为两个自治区的天然分界线。据此完成下列问题。



18. 该山脉是（ ）

- A. 祁连山
- B. 天山
- C. 昆仑山
- D. 秦岭

解析：本题考查昆仑山脉的位置。图示山脉是昆仑山；昆仑山是东西走向的山脉，该山脉是新疆维吾尔自治区与西藏自治区的分界线。

答案：C

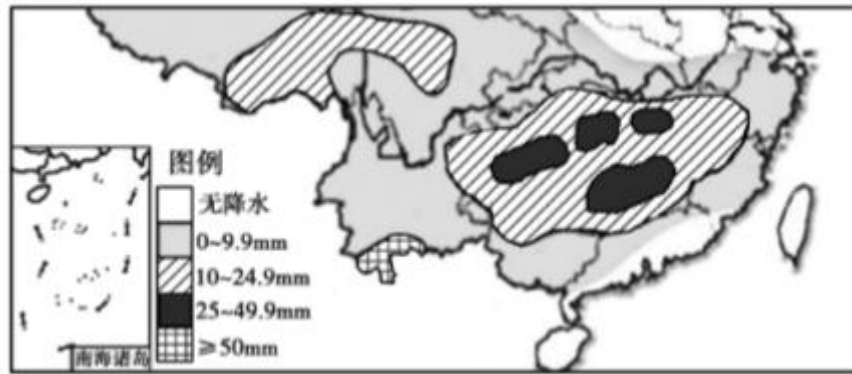
19. 关于该山脉北面自治区的叙述，正确的是（ ）

- A. 区域内全部为内流河
- B. 地形大势为“三山夹两盆”
- C. 居民多信奉喇嘛教
- D. 土地类型以林地和耕地为主

解析：本题考查我国不同山脉和不同省区的特点。昆仑山北面是新疆维吾尔自治区，该省区主要是内流河，其中额尔齐斯河属于外流河，故 A 错误；新疆的地形被形象地称为“三山夹两盆”，其中的“三山”指的是阿尔泰山、天山和昆仑山；两盆指的是准噶尔盆地和塔里木盆地，故 B 正确；新疆居民多信奉伊斯兰教，故 C 错误；新疆土地类型多荒漠，故 D 错误。

答案：B

如图是我国部分地区某年4月26日-27日的降水量分布情况。读图完成下列问题。



20. 关于本次降水的描述, 不正确的是 ()

- A. 在图示区域内, 降水范围较广
- B. 有利于水稻的生长
- C. 水汽主要来自太平洋
- D. 降水主要来自台风

解析: 考查我国的降水特点及其影响。读图可知, 降水的区域主要分布在南方, 降水范围较广, 南方的主要粮食作物是水稻, 此次降水有利于水稻的生长; 水汽主要来自太平洋的夏季风。

答案: D

21. 下列对图示区域农业生产及其生产条件的描述, 正确的是 ()

- A. 均不会受到寒潮的影响
- B. 以温带季风气候为主, 雨热同期
- C. 耕地以水田为主
- D. 作物熟制都是一年三熟

解析: 读图可知, 该区主要位于秦岭—淮河以南地区, 且夏季降水量较大, 因此该区位于我国的南方地区。A、南方地区也会受到寒潮的影响, 故错误; B、南方地区的气候以亚热带季风为主, 故错误; C、南方地区因为水资源充足, 耕地以水田为主, 正确; D、南方地区因为热量充足, 作物的熟制是一年两熟或三熟, 故错误。

答案: C

22. 我国工业从“中国制造”迈向“中国创造”的关键因素是 ()

- A. 完善的基础设施
- B. 雄厚的农业基础支撑
- C. 丰富的资源与能源
- D. 领先技术与人才优势

解析: 本题考查了影响高新技术产业的主导因素。从“中国制造”迈向“中国创造”关键因素是技术与人才, 影响高新技术产业区的因素有科技水平、环境因素、政策因素等, 其中科技因素是主导因素。

答案: D

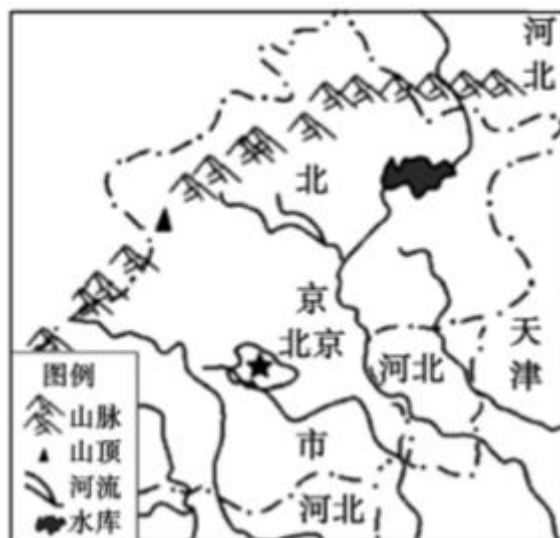
23. 关于我国国家级高新技术产业开发区分布特点的描述, 正确的是 ()

- A. 多沿河沿湖分布
- B. 多分布在东南沿海地区
- C. 多沿交通干线分布
- D. 多依附于大中城市的高新区

解析: 本题考查我国高新技术产业的分布特点。我国高新技术产业以高新技术产业开发区的形式分布, 大多依附于大城市, 呈现出大分散、小集中的特点, 我国的高新技术产业分布特点是东部密集, 西部稀疏, 选项D叙述正确, 符合题意。

答案：D

北京是祖国的首都，其发展变化为世人所瞩目。读图完成下列问题。



24. 关于北京市自然条件的描述，不正确的是（ ）

- A. 地势西北高东南低
- B. 河流均属于海河水系
- C. 大部分降水集中于夏季
- D. 春季清爽宜人

解析：考查北京的概况。北京位于华北平原北缘，地形以平原、山地为主，北部是燕山山脉，西部是太行山脉余脉西山，地势西北高，东南低。北京的河流均属于海河水系；北京属于典型的温带季风气候，春季干旱多风，夏季高温多雨，秋季晴爽宜人，冬季寒冷干燥。

答案：D

25. 近几年，北京空气质量有了明显改善。你认为北京市为此可能采取了哪些措施（ ）

- ①出行多开私家车
- ②迁出污染较大的企业
- ③积极支持农业发展
- ④改煤为电，集中供暖

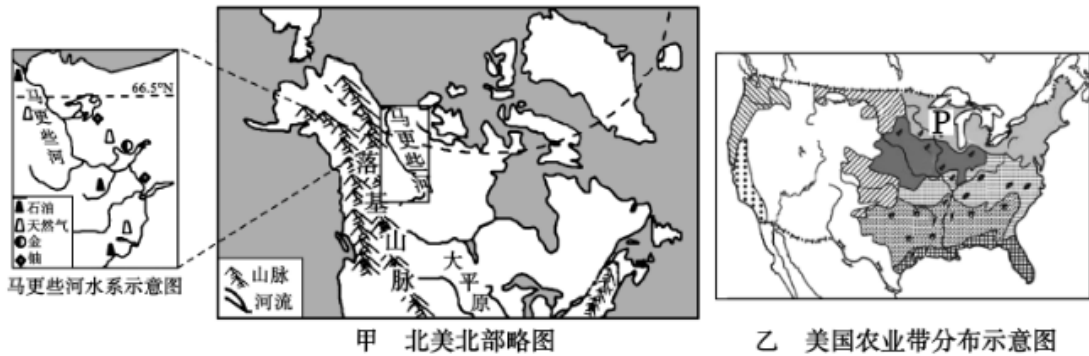
- A. ①④
- B. ②④
- C. ①③
- D. ①②

解析：本题主要考查北京的自然环境问题。北京的环境问题突出，空气质量下降，雾霾多发，为此北京市迁出污染较大的企业，并改煤为电，集中供暖，因而北京空气质量有了明显改善。

答案：B

二、解答题（共6小题，满分50分）

26. （8分）读北美北部及美国农业带分布示意图，回答问题。



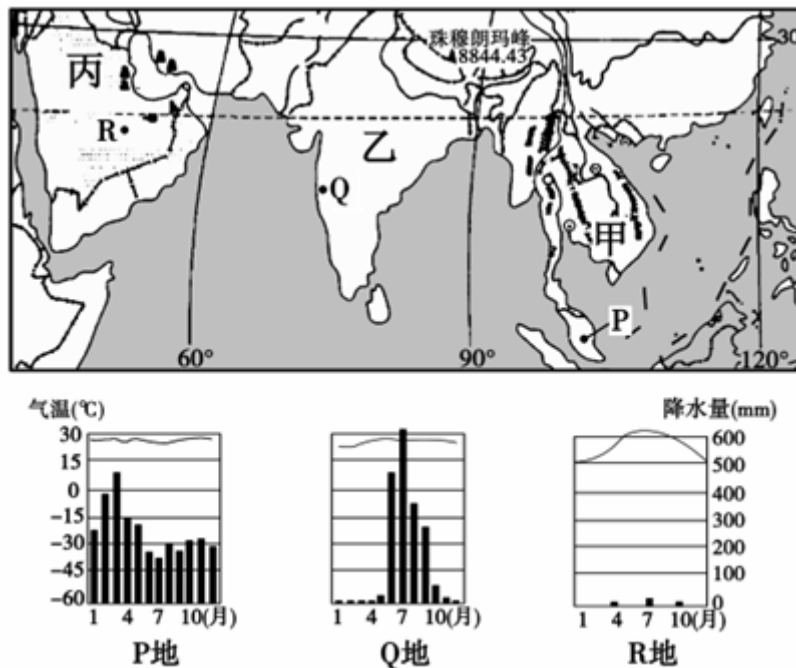
(1) 由甲图可以概括出北美的地形特征为_____。
 解析：读图可知，北美洲平均海拔较高，地势起伏较大，地形分为三大南北纵列带：西部是高大的山系，中部是广阔的平原，东部是低缓的高地。
 答案：分为三大南北纵列带：西部是高大的山系，中部是广阔的平原，东部是低缓的高地

(2) 落基山脉与南美洲的_____山脉共同组成世界上最长的_____山系。
 解析：科迪勒拉山系是由北美洲的落基山和南美洲的安第斯山脉组成。
 答案：安第斯 科迪勒拉

(3) 据图中信息推测马更些河的航运价值大小，并说明理由。
 解析：读图可知，马更些河纬度较高，冬季漫长，结冰期长，航运价值不大。
 答案：航运价值不大；纬度较高，冬季漫长，结冰期长。

(4) 乙图中P处分布着美国著名的乳畜带。简要分析该乳畜带农业发展的有利条件。
 解析：美国乳畜带农业发展的有利条件是：乳畜带地处温带，这里紧靠五大湖，水资源丰富，交通便利，气候冷湿，适宜发展畜牧业。
 答案：乳畜带地处温带，这里紧靠五大湖，水资源丰富，交通便利，气候冷湿，适宜发展畜牧业。

27. (9分) 下面是亚洲南部三大半岛轮廓及三地气候资料示意图。读图回答问题。



(1) 由甲半岛上的山川分布可以看出其地表形态特征是_____。

解析：读图可知，图中甲半岛是中南半岛，该半岛上的山脉和河流间隔分布，地表形态特征表现为山河相间、纵列分布。

答案：山河相间、纵列分布

(2)乙半岛所在的南亚地区是世界古文明发源地之一，又是_____教、印度教等宗教的发源地。

解析：乙半岛是印度半岛，该半岛所在的南亚地区是世界古文明发源地之一，又是佛教、印度教等宗教的发源地。

答案：佛

(3)丙半岛上有丰富的_____资源，该资源主要出口到西欧以及_____、_____等国家。

解析：丙半岛是阿拉伯半岛，它位于西亚，西亚有丰富的石油资源，石油主要分布在波斯湾及其沿岸地区；该地石油资源主要出口到西欧以及美国、日本等国家。

答案：石油 美国 日本

(4)P、Q、R三地在气温方面的共同特点是_____，三地中属于热带季风气候的是_____。

解析：P、Q、R三地在气温方面的共同特点是全年高温，R地气候特点为全年高温干燥，属于热带沙漠气候；Q地气候特点为夏季高温多雨，冬季寒冷干燥，属于热带季风气候；P地位于赤道附近，气候特点为全年高温多雨，属于热带雨林气候。

答案：全年高温 Q

(5)从经济发展水平来看，三大半岛上的国家都属于_____国家。

解析：从经济发展水平来看，三大半岛上的国家都属于发展中国家。

答案：发展中

28. (7分)埃及和法国是经济发展水平相差很大的国家。读图回答问题。



(1)位于埃及的_____运河扼守欧、亚、非三洲，具有重要的战略意义。

解析：苏伊士运河沟通地中海与红海，联结大西洋与印度洋，扼守欧、亚、非三洲的主要国际航道。

答案：苏伊士

(2)两国都属于旅游业发达的国家，名胜古迹众多。下面名胜古迹中属于埃及的是_____，属于法国的是_____。



①



②



③

解析：埃及和法国旅游业发达，埃及的金字塔、狮身人面像等驰名国内外；法国的埃菲尔铁塔是著名的景点。

答案：②③ ①

(3)从图中可以看出两国的农业区分布特点是：

埃及农业区集中在_____河谷地和三角洲地区；法国农业区主要在_____盆地。

解析：埃及农业以灌溉农业为主，主要集中在尼罗河沿岸平原和河口三角洲地区；巴黎盆地既是法国的农业区，也是法国的工业区。

答案：尼罗 巴黎

(4)埃及优质长绒棉呈现带状分布，其主要影响因素是_____。

解析：埃及气候干燥，农业集中于尼罗河谷地和三角洲，这里是非洲农业现代化水平最高的地区，以盛产优质长绒棉著称，长绒棉的产量和出口量均居世界首位。

答案：河流

29. (9分)“陆上丝绸之路经济带”东连亚太经济圈，西接欧洲经济圈，被认为是世界上最长、最具发展潜力的经济大走廊。图为陆上丝绸之路经济带示意图。读图回答问题。



(1)该经济带横穿亚欧大陆，联系了亚欧两个大洲的多个国家。这些国家中，同时地跨亚欧两洲和东、西半球的是_____。亚欧两洲的分界线是_____。

解析：经济带横穿亚欧大陆，联系了亚欧两个大洲的多个国家。这些国家中，同时地跨亚欧两洲和东、西半球的是俄罗斯。亚欧两洲的分界线是 乌拉尔山脉、乌拉尔河、里海、大高加索山脉、黑海、土耳其海峡。

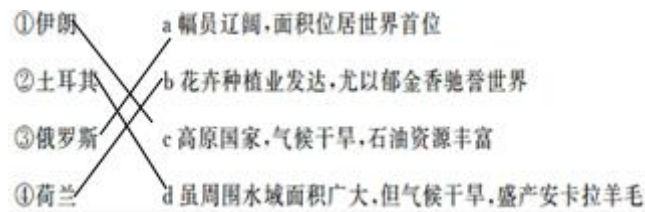
答案：俄罗斯 乌拉尔山脉、乌拉尔河、里海、大高加索山脉、黑海、土耳其海峡

(2)某公司业务员搭乘中欧班列重点考察了该经济带上的一些国家。请将这此国家与其特点对应连接起来。

- | | |
|------|---------------------------|
| ①伊朗 | a 幅员辽阔，面积位居世界首位 |
| ②土耳其 | b 花卉种植业发达，尤以郁金香驰名世界 |
| ③俄罗斯 | c 高原国家，气候干旱，石油资源丰富 |
| ④荷兰 | d 虽周围水域面积广大，但气候干旱，盛产安卡拉羊毛 |

解析：伊朗主要位于伊朗高原上，该国家主要属于热带沙漠气候，气候干旱，石油资源丰富；土耳其盛产安卡拉羊毛，周围水域面积广大；俄罗斯是世界上面积最大的国家；荷兰花卉种植业发达，尤以郁金香闻名。

答案：

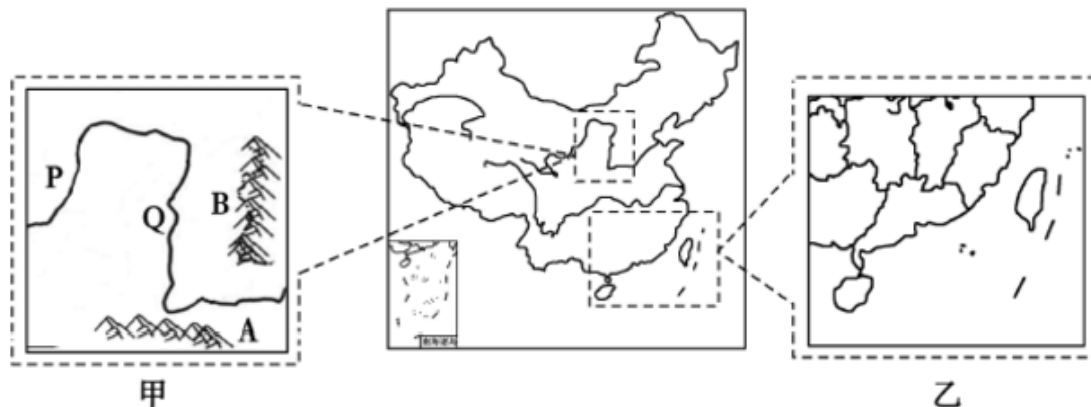


(3) 该经济带东西两端都是世界上人口稠密区，其共同的自然原因有_____。

解析：陆上丝绸之路经济带最东端位于我国东部，最西端位于欧洲西部，亚洲东部和欧洲西部都是世界上人口稠密区，其共同的自然原因是：地处温带，气候温和，地势平坦、靠近河流，水源充足。

答案：地处温带，气候温和，地势平坦、靠近河流，水源充足

30. (7分) 读图并结合所学知识回答问题。



(1) A是_____ (山脉)，是我国_____ (两大地区)的分界线；B是_____ (山脉)，是我国地势_____级阶梯的分界线。

解析：读图分析：A是秦岭，与东部的淮河构成我国南方地区、北方地区的分界线；B是太行山，是我国地势第二三级阶梯的分界线。

答案：秦岭 南方地区、北方地区 太行山 第二三

(2) 凌汛是指冰坝阻塞河道造成水位急剧上升的现象。河流P、Q两段中可能会出现凌汛现象的是_____段。

解析：河流P、Q两段中可能会出现凌汛现象的是P段，该河段自南向北流。

答案：P

(3) 乙图所示区域发展农业生产的气候条件是_____。

解析：乙图所示区域是我国南方地区，大部分地区属于亚热带季风气候，发展农业生产的气候条件是雨热同期。

答案：雨热同期

31. (10分) 京杭大运河是世界上最长的人工运河，它不仅起着沟通南北交通、促进南北经济和文化交流的重要作用，而且在南水北调工程中也发挥着极其重要作用。阅读图文材料，回答问题。

材料1 杭大运河路线示意图和徒骇河示意图。

材料2 南水北调东线工程是从扬州附近抽引长江水，逐级提水沿着京杭运河北上，在山东西部穿过黄河，进入河北。

材料3 聊城市地处 $35^{\circ}47'N-37^{\circ}02'N$ ，属于黄河冲积平原，地势平坦，坡度较缓。徒骇河是流经该市的一条独流入海的河流。



京杭大运河路线示意图



徒骇河示意图

(1) 大运河自北向南依次贯穿了海河、_____、淮河、_____和钱塘江五大水系。

解析：京杭运河北起北京，南至杭州，经北京、天津两市及河北、山东、江苏、浙江四省，沟通海河、黄河、淮河、长江和钱塘江五大水系。

答案：黄河 长江

(2) 大运河自北向南穿过的主要地形区有_____、_____。

解析：大运河自北向南穿过的主要地形区有华北平原和长江中下游平原。

答案：华北平原 长江中下游平原

(3) 我国东部_____以南地区，年降水量都在800毫米以上，属于我国四类干湿地区中_____地区。

解析：我国东部秦岭、淮河以南地区，年降水量都在800毫米以上，属于我国四类干湿地区中湿润地区。

答案：秦岭、淮河 湿润

(4) 由材料2判断，沿京杭运河由黄河至扬州的地势特点是_____。

解析：京杭运河由黄河至扬州的地势特点是北高南低，所以南水北调东线工程需从扬州附近抽引长江水，逐级提水沿着京杭运河北上。

答案：北高南低

(5) 据材料3判断：聊城市地处_____（温度带）；徒骇河的流向是_____，流速_____。

解析：聊城市地处秦岭、淮河以北的暖温带地区，属于温带季风气候。从图中可以看出，徒骇河自西南向东北注入渤海，由于当地以平原为主，水流平缓。

答案：暖温带 自西南流向东北 平缓