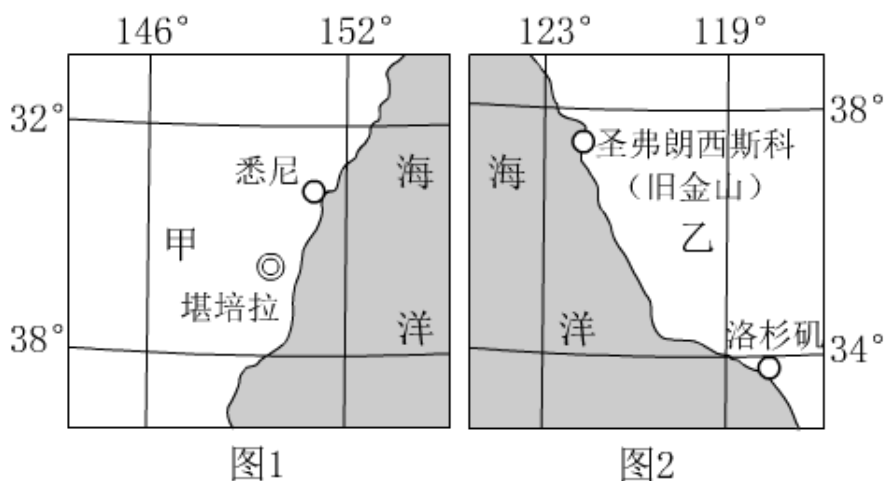


2018年江西省中考真题地理

一、选择题（本大题共15小题，每小题1分，共15分。）

读甲、乙两个国家部分区域图（图1、图2），完成下列问题。



1. 甲、乙两国（ ）

- A. 同在东半球
- B. 都为发展中国家
- C. 同临太平洋
- D. 都以黄种人为主

解析：本题考查美国和澳大利亚的相关知识点。读图可知，甲、乙两国分别是澳大利亚和美国，澳大利亚和美国居民都以白色人种为主，都为发达国家；两国共同濒临的大洋是太平洋；美国主要位于西半球。

答案：C

2. 甲、乙两国出口量都较大的农产品是（ ）

- A. 小麦
- B. 稻谷
- C. 咖啡
- D. 天然橡胶

解析：本题考查美国和澳大利亚的相关知识点。据图示可知，甲、乙两国分别是澳大利亚和美国；美国和澳大利亚农业生产的共同特点是都实行专门化生产，两国出口量都较大的农产品是小麦。

答案：A

3. 世界微电子工业中心——硅谷位于（ ）

- A. 悉尼
- B. 堪培拉
- C. 圣弗朗西斯科
- D. 洛杉矶

解析：本题考查美国高新技术产业的分布。世界微电子工业中心——硅谷位于圣弗朗西斯科（旧金山）的东南部，该地区科技力量雄厚。

答案：C

4. 以下动物（如图），甲国特有的是（ ）



A



B



C

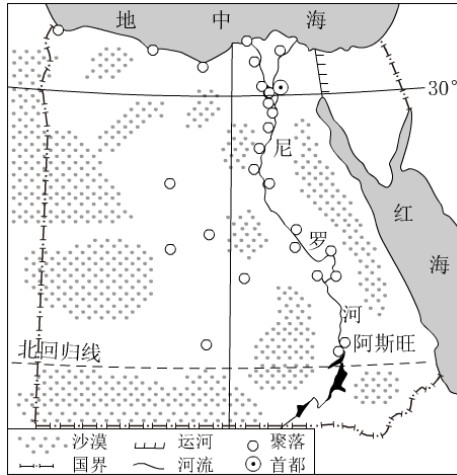


D

解析：本题考查澳大利亚的动物。读图可得，甲国为澳大利亚，选项中的袋鼠是澳大利亚的特有动物，该动物很善于奔跑。

答案：D

读埃及略图（如图），完成下列问题。



5. 关于埃及位置和范围的叙述，正确的是（ ）

- A. 北临红海
- B. 位于尼罗河上游
- C. 跨非、亚两大洲
- D. 主要位于热带地区

解析：考查了埃及的位置。A、埃及北临地中海。故不符合题意。B、埃及位于尼罗河下游，故不符合题意。C、埃及地跨亚、非两洲，以苏伊士运河为界在陆地上与亚洲为邻，是亚非在陆地上的交通要冲，故符合题意。D、埃及主要位于北温带地区。故不符合题意。

答案：C

6. 图中运河沟通了（ ）

- A. 大西洋和印度洋
- B. 大西洋和太平洋
- C. 印度洋和太平洋
- D. 太平洋和北冰洋

解析：本题考查各大洲之间的界线。大洲之间往往以山脉、河流、湖泊、运河、海峡等地理事物为分界线。读图可知，图中埃及境内的运河是苏伊士运河；苏伊士运河是亚洲与非洲的分界线，该运河沟通了红海和地中海，缩短了印度洋与大西洋之间的航程。

答案：A

7. 影响埃及聚落分布的主要因素是（ ）

- A. 地形
- B. 气候
- C. 土壤
- D. 水源

解析：本题主要考查影响埃及聚落分布的因素。埃及大部分地区属于热带沙漠气候，终年炎热干燥，气候干旱，90%以上的土地为沙漠，是一个名副其实的沙漠之国，水源是影响埃及农作物分布的主要因素；埃及的农业主要分布在尼罗河谷地和三角洲地区。

答案：D

8. 由图可推知，埃及自然环境的显著特征是（ ）

- A. 湿热
- B. 干旱
- C. 高寒
- D. 暖湿

解析：该题主要考查埃及的气候特征。埃及大部分位于低纬度，热量充足，主要是热带沙漠气候，气候干旱。

答案：B

剪纸是我国传统的民间艺术，其表现的内容多反映人们的生活环境、习俗和风情，寄托人们对美好生活的向往。读反映我国某区域景观的剪纸作品（如图），完成下列问题。



9. 该剪纸作品所反映的景观，主要分布在（ ）

- A. 黄土高原
- B. 青藏高原
- C. 长江三角洲
- D. 华北平原

解析：本题考查人民生活与地理环境的关系。读图可得，图中所示地区屋脊坡度大，降水丰富，为我国南方地区的水乡景观——小桥流水人家，如长江三角洲地区。

答案：C

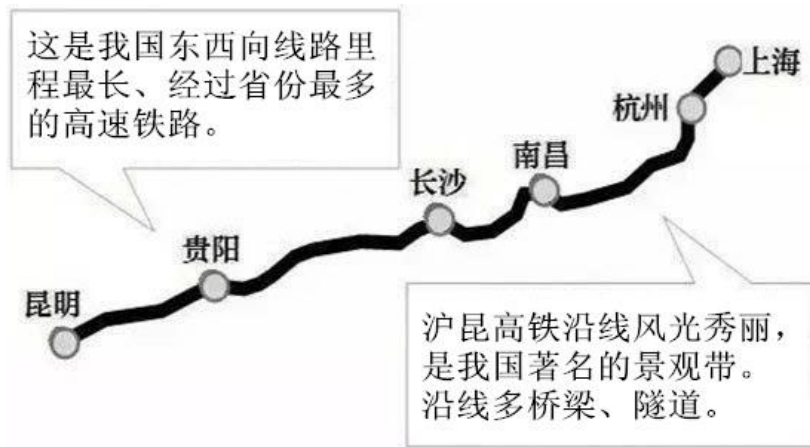
10. 该剪纸作品所反映的区域，其民间美食和传统体育活动是（ ）

- A. 馍、踩高跷
- B. 糍粑、攀岩
- C. 粽子、赛龙舟
- D. 窝头、滑冰

解析：图上的剪纸作品反映的是我国南方小桥流水人家的景观特色，选项中属于南方地区的民间美食和传统体育活动是：粽子和赛龙舟。

答案：C

读沪昆高铁主要站点示意图（如图），完成下列问。



11. 下列农业景观，在沪昆高铁列车上难以看到的是（ ）

- A. 牧场
- B. 水田
- C. 茶园
- D. 果园

解析：本题考查沪昆高铁概况。沪昆高铁途径我国的南方地区，南方地区以水田为主，有成片稻田，丘陵地区有遍野的茶园和果园，小桥流水村落是典型的景观，故牧场是看不到的景观。

答案：A

12. 上海一游客，乘高铁到赣北某历史名山旅游，其目的地最可能是（ ）

- A. 黄山
- B. 庐山
- C. 井冈山
- D. 南岭

解析：该题考查江西省的名胜古迹。庐山位于江西省北部的九江市，是驰名中外的风景名胜，据“赣北”可知，游客目的地最可能是庐山。

答案：B

13. 沪昆高铁隧道最多的路段在（ ）

- A. 上海至杭州段
- B. 杭州至南昌段
- C. 南昌至长沙段
- D. 长沙至昆明段

解析：本题考查我国不同交通线经过的地形区。读图可得，沪昆高铁中长沙—贵阳—昆明一段位于云贵高原和东南丘陵地区，该路段穿越了很多隧道。

答案：D

暑假小芳外出旅游，期间她与同学小红分享了旅游经历。读她们之间的微信对话片段（如图），完成下列问题。



14. 从手机微信可知，小芳的旅游地在（ ）

- A. 香港
- B. 台湾
- C. 澳门
- D. 云南

解析：读图可得，该地有日月潭、阿里山，有兰花，主要的少数民族是高山族等，该省区是台湾。

答案：B

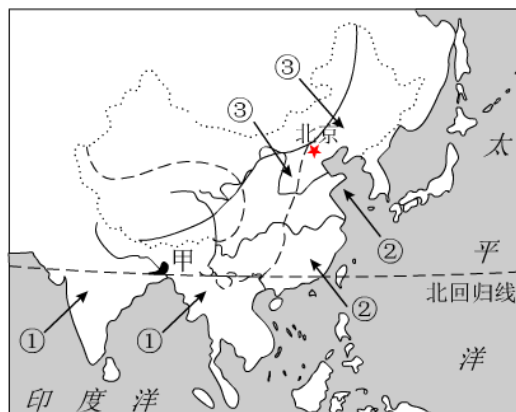
15. 小红的回话中，有明显不当之处的是（ ）

- A. ①阿里山天气多变，记得带雨具。
- B. ②虽然稀有，但你一定不要去采！
- C. ③是啊，当地人的祖籍多在广东和福建，也有我们江西。
- D. ④明天的泼水节活动肯定会很刺激。

解析：本题考查台湾的相关知识点。据题干中的描述可得，小芳旅游的地区是台湾岛，阿里山是台湾著名的旅游景观，该地天气多变，降水较多，故 A 叙述正确；台湾兰花较多，有兰花之乡之称，故 B 叙述正确；台湾居民的祖籍大多是广东省、福建省，也有江西省，故 C 叙述正确；台湾主要的少数民族是壮族，泼水节是云南省傣族的节日，故 D 叙述错误。
答案：D

二、综合题（本大题共 3 小题，共 15 分）

16.（5 分）读亚洲部分区域和季风分布略图，完成下列问题。



(1) 若①季风影响甲地区的时间开始早、结束晚，且势力强，往往给甲地区带来_____灾害。

解析：考查我国气候的概况。读图分析：①是来自印度洋的西南季风，如果西南季风影响甲地区（东南亚的中南半岛）的时间开始早、结束晚，且势力强，往往给甲地区带来洪涝灾害。

答案：洪涝

(2) 冬季我国北方地区受_____（填序号）季风影响，气候寒冷干燥。

解析：冬季我国北方地区受③冬季风影响，气候寒冷干燥。

答案：③

(3) 推测我国水资源的空间分布特点。

解析：我国降水的空间分布规律：从东南沿海向西北内陆递减。

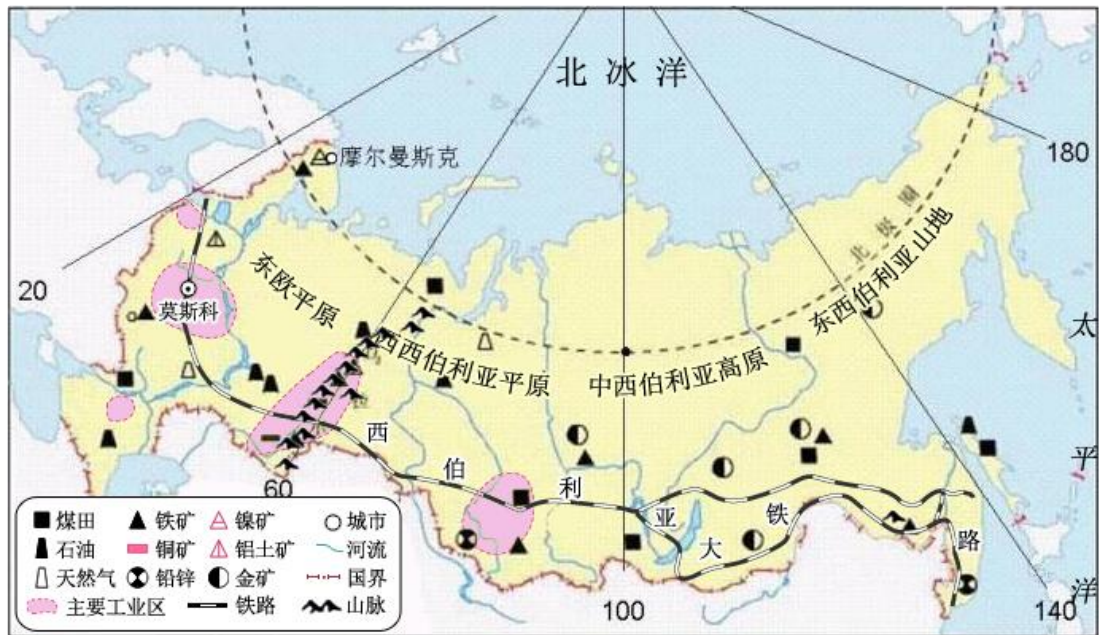
答案：从东南沿海向西北内陆递减

(4) 从气候、地形角度分析我国耕地主要分布在东部季风区的原因。

解析：东部季风区降水多，地势低平，是我国耕地集中分布地区。

答案：东部季风区降水多，地势低平。

17.（6 分）俄罗斯地跨亚、欧两大洲，是世界上面积最大的国家。读俄罗斯略图，完成下列问题。



(1) 与我国长江相比，俄罗斯西伯利亚地区的河流最显著的水文特征是_____。
 解析：本题考查俄罗斯的相关知识点。长江流域内主要属于亚热带季风气候，冬季气温在0℃以上，与我国长江相比，俄罗斯西伯利亚地区的河流最显著的水文特征是有结冰期，且结冰期较长。
 答案：有结冰期

(2) 从自然条件看，俄罗斯发展粮食生产最有利的条件是_____；不利条件主要是_____。

解析：从自然条件看，俄罗斯发展粮食生产最有利的条件是耕地面积广阔；不利条件主要是纬度高，气温低，热量不足，俄罗斯主要属于温带大陆性气候，冬季寒冷而漫长，夏季凉爽而短促。
 答案：耕地面积广阔；纬度高，气温低，热量不足

(3) 简述图中俄罗斯工业区的分布特点。
 解析：俄罗斯工业区主要分布在欧洲部分，沿矿产资源产地和铁路线分布。
 答案：主要分布在欧洲部分，沿矿产资源产地和铁路线分布

(4) 简析西伯利亚大铁路沿南部地区修建的原因。
 解析：西伯利亚大铁路沿南部地区修建的原因是南部地区纬度较低，气温相对较高，城市与人口密集，且矿产资源丰富。
 答案：南部地区纬度较低，气温相对较高，城市与人口密集，且矿产资源丰富。

18. (4分) 地理探究：中华传统文化中的地理知识。
 我国古诗词和谚语等传统文化蕴含了丰富的地理知识。我省鄱阳湖平原上某中学一学习小组对此进行探究，图1、图2和表是他们探究过程中所搜集到的部分材料。完成下列探究。



图1



图2

诗词	谚语
①漠沙如雪，燕山月似钩	①无三日晴，地无三尺平
②羌笛何须怨杨柳，春风不度玉门关	②一年四季无寒暑，一雨便成秋
③黄梅时节家家雨，青草池塘处处蛙	③早穿皮袄午穿纱，围着火炉吃西瓜
④春江潮水连海平，海上明月共潮生	④一场春雨一场暖，一场秋雨一场寒

(1) 诗句“天苍苍，野茫茫，风吹草低见牛羊”反映出我国_____高原的景观。

解析：考查西北地区的地理特征。诗句“天苍苍，野茫茫，风吹草低见牛羊”反映出我国内蒙古高原的景观，该地降水稀少，以畜牧业为主。

答案：内蒙古

(2) 写出表中反映鄱阳湖平原地理环境特征的诗词和谚语（各一句，填序号）。

诗词：_____； 谚语：_____。

解析：鄱阳湖位于我国南方地区，属于亚热带季风气候，雨热同期。反映鄱阳湖地区的诗词：是③黄梅时节家家雨，青草池塘处处蛙；谚语：是一场春雨一场暖，一场秋雨一场寒④。

答案：③ ④

(3) 探究图2中“山寺桃花”四月“始盛开”的原因。

解析：出现山寺桃花始盛开的现象，是因为山寺地势高，气温低的原因。

答案：山寺地势高，气温低。