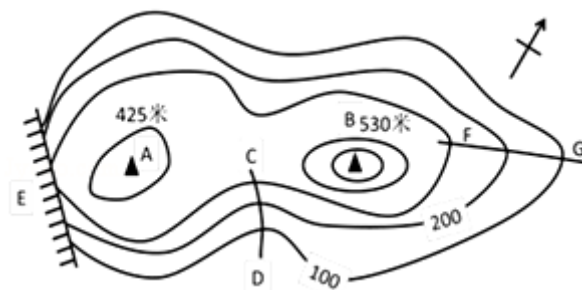


2018年甘肃省张掖市甘州区龙渠中学中考模拟试卷地理

一、你会判断吗？下列各题的选项中只有一个正确答案，请将正确答案的代号填涂在答题卡相应的位置上（每小题2分，共30分）

读图，完成下列问题。



1. A 山峰位于 B 山峰的什么方位（ ）

- A. 西南
- B. 正西
- C. 西北
- D. 东北

解析：本题考查了等高线地形图中方向的判断方法。读图可知，图中有指向标，根据指向标判断，A 山峰位于 B 山峰的西南方向。

答案：A

2. 该地区将要举行一次国际攀岩比赛，举办方将会通知运动员在（ ）集合进行攀岩竞技。

- A. B 处
- B. C 处
- C. E 处
- D. G 处

解析：本题考查了等高线地形图的判读。读图可知，图中 E 处为几条海拔高度不同的等高线重合的部位，是陡崖。故选项 C 符合题意。

答案：C

3. 2016 年 3 月 31 日至 4 月 1 日，第四届核安全峰会在美国首都华盛顿举行。国家主席习近平与会，同 50 多个国家和国际组织领导人共商全球核安全大计。华盛顿（ 38°N ， 77°W ）和北京（ 40°N ， 116°E ）都位于（ ）

- A. 东半球
- B. 南半球
- C. 低纬度
- D. 北温带

解析：本题考查半球的分界线及纬度和五带的划分。据华盛顿和北京的经纬度可得，华盛顿位于北半球、西半球、北温带、中纬度，北京位于北半球、东半球、中纬度和北温带，故 D 正确。

答案：D

4. 如图均为半球图，根据海陆分布情况指出哪组排列顺序是正确的（ ）



- A. 西半球、东半球、北半球、南半球
- B. 东半球、西半球、南半球、北半球
- C. 西半球、东半球、南半球、北半球
- D. 东半球、西半球、北半球、南半球

解析：结合图示从左到右依次是：西半球、东半球、北半球、南半球。

答案：A

5. 符合我国自然资源分布特点的说法，正确的是（ ）

- A. 水资源——东北多，西南少
- B. 草地——东南多，西北少
- C. 林地——西北多，东北少
- D. 耕地——东部多，西部少

解析：考查我国自然资源的分布。A、我国水资源的总量不少，但人均占有量很低，约为世界人均水量的 1/4。我国水资源在地区分布上具有显著的不均衡性，具体表现为“东多西少，南多北少”的特点。故 A 不符合题意；B、我国草地主要分布在北部、西部内陆地区，东部草地较少，而且分布零散。故 B 不符合题意；C、天然林地主要分布在东北、西南的边远山区，东南部山区的林地多为人工林和次生林。西北和华北的大部分地区林地很少。故 C 不符合题意；D、我国耕地主要分布在东部季风区的平原、盆地以及低缓丘陵地区，西部耕地较少，而且分布零散。故 D 符合题意。

答案：D

6. 在地震多的地区，为减少地震造成的损失，人们采取了很多措施。下列措施，对防震减灾没有作用的是（ ）

- A. 加强科研，进行地震观测和预报
- B. 修房子、桥梁、大型水库等建筑物时要考虑到防震
- C. 加强防震知识的宣传、学习，注意观察井水、生物、地声等自然现象的异常变化
- D. 多挖防空洞

解析：本题考查预防地震的措施。为减少地震造成的损失，可以采取的措施有：加强科研，进行地震观测和预报、修房子、桥梁、大型水库等建筑物时要考虑到防震、加强防震知识的宣传、学习，注意观察井水、生物、地声等自然现象的异常变化等，多挖防空洞不能预防地震，故 D 符合题意。

答案：D

读图，回答下列问题。



7. 图示区域是（ ）

- A. 珠江三角洲地区
- B. 辽中南地区

- C. 长江三角洲地区
- D. 京津唐地区

解析：考查不同区域的位置和轮廓。依据图中工业基地的位置和主要的城市，我们判断该基地是沪宁杭工业基地，位于长江三角洲地区。

答案：C

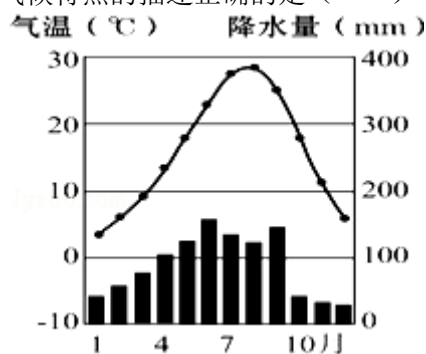
8. 该地区城市分布密集。其中最大的核心城市是（ ）

- A. 杭州
- B. 上海
- C. 苏州
- D. 南京

解析：本题考查上海市的概况。长江沿江地带拥有世界著名的城市群长江三角洲城市群，上海凭借优越的位置、便利的交通、广阔的腹地，发展成我国最大的城市，是长江三角洲城市群的核心城市，它对整个长江流域乃至全国的经济的发展都有辐射和带动作用。

答案：B

9. 结合台湾气候图，对台湾气候特点的描述正确的是（ ）



- A. 6到9月降水较多
- B. 终年寒冷干燥
- C. 全年炎热多雨
- D. 1、2月份非常寒冷

解析：读气温曲线和降水量柱状图可知，台湾的气候特征是：冬季最冷月平均气温在 0°C 以上，夏季高温多雨，降雨集中在 6—9 月。

答案：A

10. 2013 年 11 月 15 日，十八届三中全会通过了“单独二孩”政策（只要夫妻双方中的一人为独生子女，就可生育两个孩子）。该政策的实施将有利于解决我国（ ）

- A. 人口总数减少的问题
- B. 劳动力充足的问题
- C. 城市化发展缓慢的问题
- D. 人口老龄化日趋严重的问题

解析：考查我国的人口政策。2013 年 11 月 15 日，中央决定放开“单独二胎”生育政策，即一方是独生子女的夫妇可以生育两个孩子。我国坚持计划生育的基本国策，以应对预计 2025 年后出现的人口老龄化、劳动力渐不足及社会负担加重等问题，启动实施一方是独生子女的夫妇可生育两个孩子的政策，逐步调整完善现行的生育政策，促进人口长期均衡发展。

答案：D

11. 观察下面甲乙丙丁四个省级区域轮廓图。四幅图中的山脉是平原与高原分界线的是（ ）



- A. 甲、丁
- B. 乙、丁
- C. 丙、丁
- D. 乙、丙

解析：本题考查我国山脉的地理意义。祁连山是一、二级阶梯的分界线；大兴安岭是内蒙古高原与东北平原的分界线；太行山是黄土高原与华北平原的分界线，又是山西省与河北省的分界；秦岭是我国重要的地理分界线。

答案：D

我国政府于 2013 年 11 月 23 日发表声明，宣布划设我国近海第一个防空识别区，读该防空识别区示意图（如图），回答下列问题。



12. 该防空识别区主要位于我国（ ）

- A. 渤海
- B. 黄海
- C. 东海
- D. 南海

解析：本题主要考查我国濒临的海洋。我国所濒临的海洋从北向南依次是渤海、黄海、东海、南海。从图中位置看出，我国划出防空识别区的主要海域是东海。

答案：C

13. 下列国家中，与我国该防空识别区隔海相望的是（ ）

- A. 越南
- B. 日本
- C. 菲律宾
- D. 俄罗斯

解析：本题考查的是与我国防空识别区隔海相望的国家。读图可知，我国防空识别区位于东海海域，与我国该防空识别区隔海相望的国家是日本。

答案：B

14. 有关设置公共自行车服务系统的叙述，不正确的是（ ）

- A. 方便市民出行
- B. 倡导绿色交通
- C. 减小交通压力
- D. 增加财政收入

解析：在城区设置公共自行车能够方便市民出行；倡导绿色交通，保护环境；也能够减小交通压力；但与增加财政收入无关；故选项D说法不正确，符合题意。

答案：D

15. 下列关于温带大陆性气候特点的描述，最为准确的是（ ）

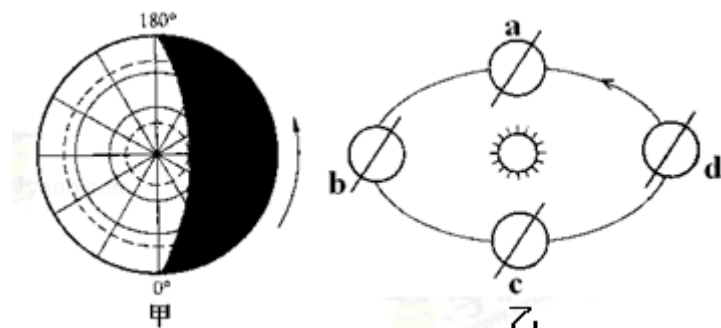
- A. 冬暖夏凉，春秋短促，降水丰富
- B. 冬季温暖湿润，夏季炎热干燥
- C. 冬季严寒，夏季暖热，降水少且集中在夏季
- D. 冬季寒冷干燥，夏季炎热湿润

解析：考查温带大陆性气候的气候特点。温带大陆性气候主要分布在北纬 $40^{\circ} \sim 60^{\circ}$ 的亚欧大陆和北美大陆内部地区。由于距海洋较远，终年受大陆气团控制，因而气温年较差、日较差大，冬季寒冷，夏季炎热。终年干旱少雨，降水相对集中于夏季。

答案：C

二、综合题（30分）

16. （12分）读图，完成下列各题。



(1) 当阳光照射地球情况如图中甲所示时，北半球的节气是_____。

解析：甲图所示地球自转方向是逆时针，该图所示的是北半球图，北极圈以内全部是极昼现象，此图所示的是北半球的夏至日。

答案：夏至日

(2) 此时，地球运行在乙中的_____处。

解析：乙图中b是北半球的夏至日。

答案：b

(3) 在一年中，张掖这一天的（ ）

- A. 昼最短，夜最长
- B. 正午太阳高度角最小
- C. 气温最低
- D. 同一物体正午时的影长最短

解析：在一年中，张掖夏至日这一天昼最长，夜最短，正午太阳高度角最大，气温高，同一物体正午时的影长最短。

答案：D

(4) 属于我们北半球秋季的月份是（ ）

- A. 7, 8, 9
- B. 9, 10, 11
- C. 3, 4, 5
- D. 1, 12, 3

解析：北半球的春季是3、4、5月，夏季是6、7、8月，秋季是9、10、11月，冬季是12、1、2月，南北半球季节相反。

答案：B

17. (8分) “一带一路”是指“丝绸之路经济带”和“21世纪海上丝绸之路”的简称。“孟中印缅经济走廊”、“中巴经济走廊”将深度对接“一带一路”，有力推进贸易、旅游、投资、交通、能源资源、金融以及生态环保等方面的合作，培育新的经济增长点，实现中国与沿线国家共同发展。下图为“一带一路”路线图。读图完成下列问题。



(1) 陆上丝绸之路东起我国陕西省的西安市，经过的 E 地区属于我国四大地理区域中的 _____ 地区，其自然特征是 _____，向西出新疆、经中亚、西亚，最后到达欧洲，从经济发展水平看，欧洲大多数国家属 _____ 国家，这些国家与我国有关政治、经济的商谈称为“_____”。

解析：图中 E 西北地区远离海洋，深居内陆，年降水量表现出由东向西逐渐减少的态势。新疆的东部和南部降水甚少，吐鲁番盆地西部的托克逊年降水量仅 5.9 毫米，是全国降水最少的地方。总的来说，干旱是本区自然环境的主要特征。欧洲西部是指欧洲的西半部，面积约 500 万平方千米，包括 30 多个国家。从经济发展水平看，大多数属于发达国家。发达国家与发展中国家有关政治、经济的商谈称为“南北对话”。

答案：西北 干旱 发达 南北对话

(2) 船员小明于 2015 年 7 月 3 日随中国货轮从泉州港出发，沿“海上丝绸之路”航行，每到达一个地方，他都喜欢给朋友圈发微信，以下是他发出的微信内容，请根据所学知识将其补充完整：

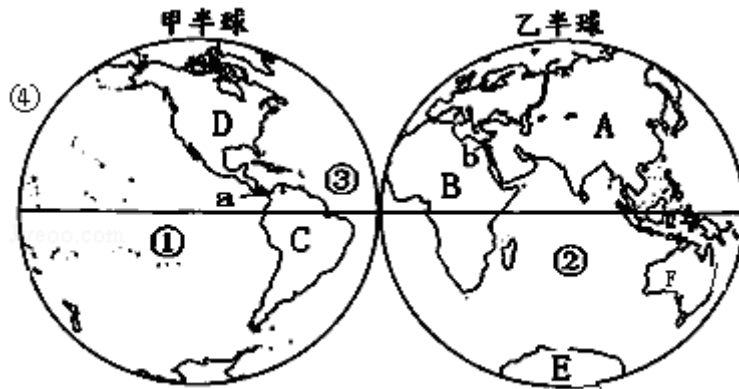
①7 月 6 日，我们的船只穿行于 D _____ 海峡，这里有许多向东航行的满载油轮，这些油轮最有可能是从 _____ (海湾) 驶出的，看来这里地理位置真的很重要哦…

②7 月 15 日，我们的船只到达印度的加尔各答港口，此时正值印度的 _____ (雨或旱) 季，盛行 _____ 季风。

解析：①7 月 6 日，我们的船只穿行于 D 马六甲海峡，这里有许多向东航行的满载油轮，这些油轮最有可能是从波斯湾驶出的。②南亚热带季风气候最显著的特征是一年可分为三季。3 至 5 月的热季，西南季风尚未来临，高温少雨；6 至 10 月的雨季，西南季风带来大量雨水，降水量占全年总降水量的 80%~90%，湿热多雨；从 11 月到次年 2 月为凉季，盛行干燥的东北季风，气候凉爽宜人。

答案：①马六甲 波斯湾 ②雨 西南

18. (10 分) 读“东西半球图”图，回答：



东西半球图

(1) 图中甲半球是_____（东、西）半球，图中④处经线的经度为_____。

解析：读图分析可知：依据大洲大洋的分布，图中甲半球是西半球；东西半球的划分是以 $20^{\circ}W$ 和 $160^{\circ}E$ 组成的经线圈为界，东半球的经度范围为 $20^{\circ}W \rightarrow 0^{\circ} \rightarrow 160^{\circ}E$ ，西半球的经度范围为 $160^{\circ}E \leftarrow 180^{\circ} \leftarrow 20^{\circ}W$ 。由此可判定，图中④处经线的经度为 $160^{\circ}E$ 。

答案：西 $160^{\circ}E$

(2) 北冰洋周围的大陆是亚欧大陆和_____大陆。

解析：从图中可以看出，北冰洋周围的大陆是亚欧大陆和北美大陆。

答案：北美

(3) 写出图中字母、数字代表的大洲：A_____洲。

解析：依据大洲位置及轮廓，图中 A 是亚洲。

答案：亚

(4) D 大洲上使用的语言主要是_____，F 大陆上人种主要是_____人。

解析：D 大洲即北美洲使用的语言主要是英语，F 大陆即澳大利亚大陆人种主要是白种人。

答案：英语 白种

(5) 沟通①和③两个大洋的重要水运枢纽 a 是_____运河。A、B 两大洲的分界线 b 是_____运河。

解析：沟通①太平洋和③大西洋的重要水运枢纽 a 是巴拿马运河，该运河是南美洲与北美洲的分界线。A 亚洲、B 非洲的分界线 b 是苏伊士运河，该运河沟通了地中海和红海。

答案：巴拿马 苏伊士

(6) 图中大陆 E 的平均气温比 F 的是_____（高、低），主要原因是 E 大陆_____。

解析：图中大陆 E 即南极大陆的平均气温比 F 大洋洲的要低，主要原因是南极大陆纬度高。

答案：低 纬度高