

2013 年兰州市初中毕业生学业考试

地 理

一、选择题：本大题共 20 小题，每小题 2 分，共 40 分。在每小题给出的四个选项中，只有一项是符合题目要求的。

1. 在比例尺为 1: 650, 000 的地图上，量得兰州到白银的直线距离约为 9.7 厘米，则二者之间实际直线距离大约是

- A. 630 千米 B. 630 米 C. 63 千米 D. 149 千米

读“经纬网示意图”(图 1)，完成 2~3 题。

2. 当我们参加今天的考试时，太阳直射点位置最接近图中的

- A. ① B. ②
C. ③ D. ④

3. 根据生活中的体验，请判断今天兰州的昼夜长短状况是

- A. 昼短夜长 B. 昼长夜短
C. 昼夜等长 D. 出现极昼

4. 冬春季节，兰州市经常见到的自然灾害是

- A. 洪涝 B. 台风
C. 泥石流 D. 沙尘暴

5. 欧洲人主要信仰的宗教是

- A. 基督教 B. 佛教 C. 伊斯兰教 D. 道教

近年来，全球各地强震不断，给人们的生命及财产安全带来了极大的危害。完成 6~7 题。

6. 地震来临时，教室里的学生应采取的合理措施是

- A. 立刻跑向室外
B. 护头下蹲并躲在桌子旁边，震动结束后快速撤离
C. 一直躲在教室里，待救护人员赶来救援
D. 立即从窗户处外跳逃生

7. 伴随地震发生，往往产生的次生地质灾害最有可能是

- A. 土地沙化 B. 滑坡 C. 水土流失 D. 土壤盐碱化

读“亚洲略图”(图 2)，完成 8~9 题。

8. 下列四条河流相比，结冰期最长的是

- A. 印度河 B. 黄河
C. 叶尼塞河 D. 长江

9. 下列河流中，注入印度洋的是

- A. 恒河 B. 长江
C. 鄂毕河 D. 勒拿河

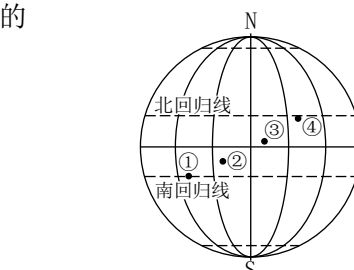


图 1 经纬网示意图

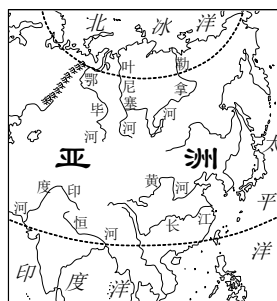


图 2 亚洲略图

10. 我国科学考察队去南极考察一般在 11—12 月抵达南极洲，主要原因是

- A. 此时是南极极夜时期，观测星座方便 B. 此时南极企鹅最多
C. 此时正是南极的暖季 D. 此时南极没有风雪

11. 兰州的小明寒假期间随旅行社外出旅行，短短十日行中，他感受到了一年四季的变化。请问小明的出行线路最有可能是

- A. 兰州至拉萨
- C. 兰州至大连

- B. 兰州至海南
- D. 兰州至上海

12. 图3中汽车牌照的属地是

- A. 河南省
- B. 山东省
- C. 辽宁省
- D. 江西省



图3 某汽车牌照示意图

13. “2013年，我国老年人口数量将突破2亿大关，达到2.02亿，占全国总人口的14.8%。”我国上世纪50年代“婴儿潮”时出生的人口，现在正在形成第一个老年人口增长高峰。老龄化的出现和加剧对我国社会经济发展的影响是

- A. 老中青都有，结构合理
- B. 老人多，经验丰富，可指导经济发展
- C. 劳动力结构发生变化，劳动力相对减少
- D. 不会对社会养老带来较大影响

读“我国四大地理区域示意图”（图4），完成14~15题。

14. 图中的①、②、③、④分别代表我国四大地理区域，其中水热资源最丰富的是

- A. ①
- B. ②
- C. ③
- D. ④

15. 图中椭圆甲、乙、丙、丁中，交通网比较稠密的是

- A. 甲、乙
- B. 乙、丙
- C. 丙、丁
- D. 甲、丁

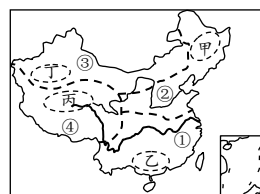


图4 我国四大地理区域示意图

青藏地区因地势高耸而成为一个独特的地区。青藏地区平均海拔在4000米以上，有“世界屋脊”之称，许多山峰终年积雪，冰川广布，雪山连绵。据此回答16~17题。

16. 青藏地区最突出的自然环境特征是

- A. 湿热
- B. 光热充足
- C. 高寒
- D. 冬冷夏热

17. 青藏地区的种植业主要分布在

- A. 藏北高原
- B. 昆仑山山区
- C. 柴达木盆地
- D. 湟水谷地和雅鲁藏布江谷地

河西走廊是我省重要的粮仓，完成18~19题。

18. 地处干旱地区的河西走廊成为我省重要的“粮仓”，主要得益于

- A. 祁连山冰雪融水
- B. 黄河水
- C. 天山冰雪融水
- D. 长江水

19. 祁连山山顶终年积雪的原因是

- A. 纬度因素
- B. 经度因素
- C. 海陆因素
- D. 地势因素

20. 兰州市政府正在加大对空气污染的治理力度。造成兰州市城区空气污染的原因主要有

- ①工厂污水；②汽车尾气；③工厂废气；④施工、环卫造成的二次扬尘；⑤固体垃圾

- A. ①②③
- B. ②③④
- C. ③④⑤
- D. ①②⑤

二、填空题：本大题共5小题。每空1分，共10分。

21. 在等高线地形图中，等高线的疏密可以表示坡度的陡缓，等高线越密集则表示坡度越_____；在等高线地形图中，等高线闭合，中间的数值较_____（大、小）的区域表示山峰。

22. 修建水库主要解决的是水资源_____（时间、空间）分布不均的问题；跨流域调水主要解决的是水资源_____（时间、空间）分布不均的问题。

23. 香蕉、芒果、桃子和荔枝等水果中，能够在兰州市生长的是_____；椰子树不能够在我国北方生长的主要原因是_____条件不足。

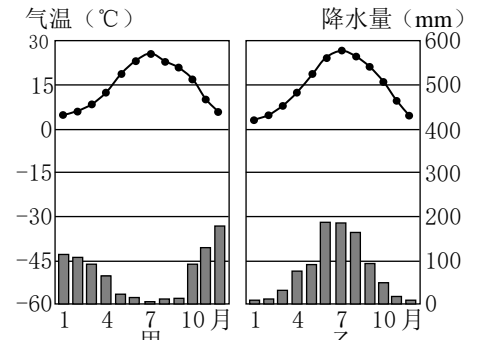
24. 台湾岛是我国面积最大的岛屿，它西隔_____海峡与福建省相望，其行政中心是_____。

25. 甘肃省地处_____高原、_____高原和内蒙古高原三大高原的交会处。

三、综合题：本大题共4小题，共50分。

26. 阅读“气温曲线和降水柱状图”，并按下面的提示完成相关要求。（14分）

- 根据气温最高月或最低月出现的时间判断南北半球位置。图5中，甲、乙两地气温最高月均出现在____月，因而两地都位于____半球。
- 根据气温曲线图，甲、乙两地气温特点很相似，都是夏季气温较____，冬季气温较____，且最冷月气温均在____℃以上。
- 根据降水柱状图，甲、乙两地降水特点有很大的差异，甲地季多雨，乙地却____季多雨。



27. 读“巴西略图”，完成下列要求。（14分）

- 纬度位置即某区域所处的一个大概纬度范围。
根据图中提供的纬度数值简要描述巴西的纬度位置，并推断其大部分地区所处的温度带。
- 海陆位置即某区域与周边海域、陆地之间的相对位置。巴西海陆位置的特点是位于____东部，东临____洋。
- 根据自己的地理知识判断，中国和加拿大两国比较，距离巴西较近的是____。
- 图中阴影部分是巴西人口稠密地区，请简要描述巴西的人口分布特点。
- 从经济发展程度看，巴西属于____（发达、发展中）国家。

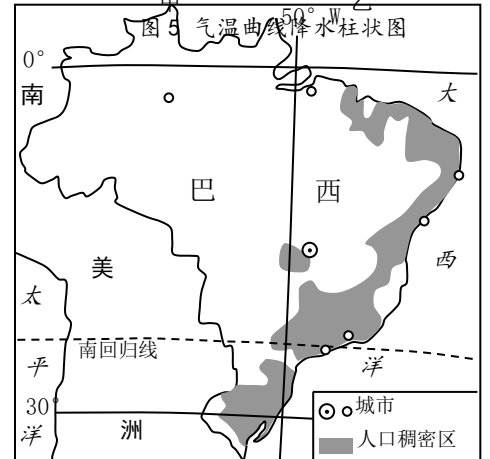


图6 巴西略图

28. 读“中国略图”（图7）及“我国沿北纬32°地形剖面图”（图8），完成下列要求。（14分）

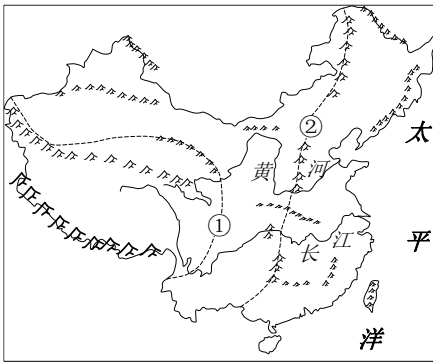


图7 中国略图

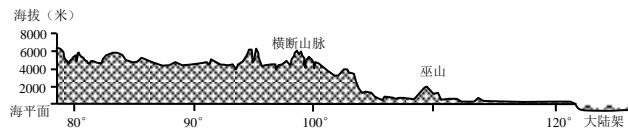


图8 我国沿北纬32°地形剖面图

- 图中虚线①、②代表我国地势三级阶梯的界线，其中代表二、三级阶梯界线的是____。
- 黄河、长江均注入____洋，其大致流向为____，由此判断我国地势特征是____。
- 长江、黄河中下游地区人口较上游地区稠密，请从地形、气候、交通三方面作一简要分析。

29. 阅读有关兰州新区的文字材料，完成下列要求。（8分）

材料：兰州新区是国务院批准的第五个国家级新区，位于兰州北部秦王川盆地。新区土地集中连片，平坦开阔，价格低廉，是兰州周边地区供地价格最低的产业基地。国家大型二级自流灌溉水利工程——引大入秦工程为产业基地长期发展提供了充足优良的水源。中川机场和高速公路是兰州新区对外交通的主要

