

## 2018 年云南省中考真题历史

一、选择题（本大题共 25 小题，每小题 2 分，共 50 分。在每小题给出的四个选项中，只有一项是最符合题目要求的。）

1.（2.00 分）对历史遗迹的考古发现，是研究史前历史的主要证据来源。20 世纪 50 年代在黄河流域陕西西安某遗迹发掘出距今五六千年的粟粒、菜籽等遗物。据此判断生活在该遗址的是（ ）

- A.元谋人
- B.北京人
- C.半坡居民
- D.河姆渡居民

解析：依据课本知识可知，我国是最早种植粟的国家之一，距今 6000 年前的半坡居民已种植粟、白菜、芥菜等农作物，住半地穴式房屋，已经饲养家畜，制作彩陶。所以 C 选项符合题意。

答案：C。

2.（2.00 分）郑和木姓马，云南人，初名三保。他率船队到过亚非 30 多个国家和地区，促进了中国和亚非各国间的友好关系，至今在东南亚的一些国家还保留着为纪念郑和而命名的“三宝庙”、“三宝塔”等遗址。他之所以受到人们的尊崇，主要是因为（ ）

- A.开通丝绸之路
- B.七下西洋
- C.六次东渡日本
- D.西游天竺取经

解析：郑和木姓马，云南人，初名三保。他率船队到过亚非 30 多个国家和地区，促进了中国和亚非各国间的友好关系，至今在东南亚的一些国家还保留着为纪念郑和而命名的“三宝庙”、“三宝塔”等遗址。他之所以受到人们的尊崇，主要是因为他七下西洋。从 1405-1433 年，先后七次下西洋，到过亚非三十多个国家和地区，最远到达红海沿岸和非洲东海岸，比欧洲航海家的远航早半个多世纪。郑和下西洋是世界航海史上的壮举。郑和的船队到达各国，与各国人民进行友好贸易。船队返航时，许多国家的国王和使臣，往往搭乘他们的船只，前来中国访问。郑和的远航，促进了中国和亚非各国的经济交流，加强了我国同亚非各国的友好关系，促进了南洋地区社会经济发展。

答案：B。

3.（2.00 分）从图 1 到图 3 的变化反映出中国古代君主专制发展的趋势是（ ）




图 1（汉）坐而论道

图 2（宋）站议时政

图 3（清）跪受笔录

- A.君臣礼仪的规范
- B.君主专制的削弱
- C.君臣关系的融洽
- D.君主专制的强化

解析：从图 1 到图 3 的变化从大臣坐议事，到站议事，到跪受笔录，说明大臣地位的下降，皇权不断的加强，反映出中国古代君主专制发展的趋势是君主专制的强化。

答案：D。

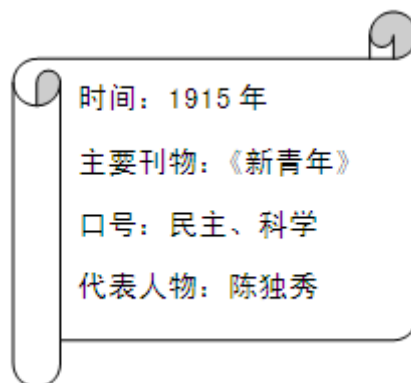
4.（2.00 分）1840 年 6 月，载有 4000 多人的英国军舰封锁珠江口，进行武装挑衅，战争正式开始。1842 年 8 月，英国胁迫清政府签订了近代史上第一个不平等条约——《南京条约》。这场战争是（ ）

- A.鸦片战争
- B.第二次鸦片战争
- C.甲午中日战争
- D.八国联军侵华战争

解析：由材料“1840 年 6 月，载有 4000 多人的英国军舰封锁珠江口，进行武装挑衅，战争正式开始。1842 年 8 月，英国胁迫清政府签订了近代史上第一个不平等条约——《南京条约》。”结合所学可知，这是对英国发动的第一次鸦片战争的描述。1840 年 6 月，英国为了打开中国市场，以禁烟运动为借口，发动了鸦片战争。

答案：A。

5.（2.00 分）与下图相关联的历史事件是（ ）



- A.洋务运动

- B.辛亥革命
- C.新文化运动
- D.五四运动

解析：1915年，陈独秀、李大钊、胡适、鲁迅等高举“民主”与“科学”两面大旗，以《新青年》为主要阵地，掀起了空前的思想大解放运动——新文化运动，新文化运动是我国历史上一次空前的思想大解放运动。它启发着人们追求民主和科学，探索救国救民的真理，为马克思主义在中国的传播创造了条件。但它有对东西方文化绝对否定绝对肯定的偏向。与题干图4相关联的历史事件是新文化运动。

答案：C。

6. (2.00分) 1919年，中国在某次国际会议上外交失败的消息传到国内，积压在中国人民心中的怒火，像火山一样爆发，由此引发了五四运动。这次会议是（ ）

- A.巴黎和会
- B.华盛顿会议
- C.慕尼黑会议
- D.雅尔塔会议

解析：1919年5月，中国在巴黎和会外交失败的消息传到国内，引发了五四运动。故这次会议是巴黎和会。

答案：A。

7. (2.00分) 近代中国民族工业发展举步维艰，但也曾出现过短暂繁荣的局面，被称为民族工业的“黄金时代”。下表中民族工业发展的“黄金时代”出现在（ ）

年份	1912	1914	1915	1916	1917	1918
厂家数	622	941	1275	1644	1973	2321

- A.洋务运动时期
- B.戊戌变法时期
- C.辛亥革命时期
- D.第一次世界大战期间

解析：根据题干给出的厂家数可以看出1914年-1918年即第一次世界大战期间是我国民族工业发展的“黄金时代”。第一次世界大战期间（1914-1918年），帝国主义忙于战争，暂时放松了对中国经济的掠夺，中国民族工业得到一个迅速发展的良机，进入了“黄金时代”。

答案：D。

8. (2.00分) 秋收起义受挫后，毛泽东力排众议，率领起义军向湘赣边地区的罗霄山脉进军，建立的第一个农村革命根据地是（ ）

- A.井冈山革命根据地
- B.闽浙赣革命根据地
- C.左右江革命根据地
- D.川陕革命根据地

解析：1927年9月，毛泽东在湖南领导工农革命军发动秋收起义，部队在进攻长沙受挫后，毛泽东当机立断，率部队向井冈山进军，创建了中国革命史上第一个农村革命根据地——井冈山革命根据地。

答案：A。

9. (2.00 分) 1937 年 12 月 13 日, 侵华日军攻陷国民政府都城后, 屠杀中国同胞 30 万人以上。为了不让历史悲剧重演, 增强民族凝聚力, 2014 年我国将每年的 12 月 13 日定为“国家公祭日”。与此相关的事件是 ( )

- A. 旅顺大屠杀
- B. 九一八事变
- C. 卢沟桥事变
- D. 南京大屠杀

解析: 我国把 12 月 13 日定为南京大屠杀死难者国家公祭日。1937 年 12 月 13 日, 日军攻陷南京, 国民政府迁往重庆, 作为战时陪都。日军占领南京在六周之内, 屠杀中国军民三十万人以上。

答案: D。

10. (2.00 分) 为了加快解放战争的胜利进程, 中共中央抓住时机, 作出战略决战的决策。为此 1948 年 9 月至 1949 年 1 月, 人民解放军发动的“三大战役”是 ( )

- ① 辽沈战役
  - ② 淮海战役
  - ③ 平津战役
  - ④ 渡江战役
- A. ①③④
  - B. ①②③
  - C. ②③④
  - D. ①②④

解析: 从 1948 年 9 月到 1949 年 1 月, 人民解放军先后进行了与国民党军队主力决战的辽沈、淮海和平津三大战役。三大战役中, 人民解放军共歼灭和改编国民党军队一百五十多万人, 国民党军队的主力基本上被消灭, 大大加速了人民解放战争在全国的胜利, 奠定了人民解放战争在全国胜利的基础。①②③符合题意。

答案: B。

11. (2.00 分) 《义勇军进行曲》伴随着抗日救亡运动的浪潮, 很快传遍了长城内外、大江南北。新中国成立后, 它被确定为代国歌, 后来被确定为国歌。这首歌曲的曲作者是 ( )

- A. 田汉
- B. 聂耳
- C. 冼星海
- D. 徐悲鸿

解析: 根据所学可知, 20 世纪三四十年代, 中华民族处在危亡关头, 聂耳投身于抗日洪流中, 以其卓越的音乐才能, 创作了大量振奋民族精神的救亡歌曲, 其《义勇军进行曲》, 极大地激发了中华民族的抗战意志。

答案: B。

12. (2.00 分) 建立起自己独立的现代工业体系, 是中国人寻求了一个多世纪的梦想。奠定了新中国工业化初步基础的是 ( )

- A. “一五计划”时期
- B. “大跃进”运动时期
- C. “文化大革命”时期

D.改革开放时期

解析：结合所学知识可知，为了有计划地进行社会主义建设，我国政府制定了 1953 年 - 1957 年发展国民经济的第一个五年计划，它的主要务是集中主要力量发展重工业，奠定了新中国工业化初步基础，A 选项符合题意。

答案：A。

13. (2.00 分) “凡年满六周岁的儿童，不分性别、民族、种族，应当入学接受规定年限的义务教育；条件不具备的地方可推迟到七周岁入学。”这一规定出自（ ）

- A. 《中华人民共和国刑法》
- B. 《中国人民政治协商会议共同纲领》
- C. 《中华人民共和国义务教育法》
- D. 《中华人民共和国民法通则》

解析：“凡年满六周岁的儿童，不分性别、民族、种族，应当入学接受规定年限的义务教育；条件不具备的地方可推迟到七周岁入学。”这一规定出自《中华人民共和国义务教育法》。新中国成立后，特别是改革开放以来，教育事业有了很大发展，党和政府尤其重视基础教育的发展，1986 年颁布实施了《中华人民共和国义务教育法》，到 2000 年，全国基本上实现了普及九年义务教育。

答案：C。

14. (2.00 分) 五星红旗第一次在联合国大厦前飘扬是在下列哪次会议后（ ）

- A. 1922 年华盛顿会议
- B. 1954 年日内瓦会议
- C. 1955 年万隆会议
- D. 1971 年第 26 届联合国大会

解析：结合所学可知，1971 年 10 月 25 日，参加第 26 届联合国大会。恢复了中华人民共和国在联合国的合法权利，恢复了中国安理会常任理事国的席位。进一步提高了中国国际地位，我国外交工作出现了新局面。

答案：D。

15. (2.00 分) 党的十一届三中全会以后，深圳在短短几年内，建成一座繁华的现代城市，称为对外开放的“窗口”，这主要得益于（ ）

- A. 进行国有企业改革
- B. 经济特区的建立
- C. 实行家庭联产承包责任制
- D. 民主与法制建设的加强

解析：深圳迅速发展的主要原因是经济特区的建立。建设经济特区，可以增强同国外经济技术的交流与合作，学习国外先进的科学技术和管理经验，有利于人才的培养，有利于中国社会主义现代化建设更快更好地发展，同时，也有利于世界了解中国，扩大中国的国际影响。

答案：B。

16. (2.00 分) 香港、澳门的回归是中华民族百年盛事。其回归与下列哪一项基本国策的实施有关（ ）

- A. 依法治国
- B. 和平共处五项原

C. “一国两制”

D.科教兴国

解析：为实现祖国统一大业，邓小平创造性地提出了“一国两制”的伟大构想。在这一构想的指引下，我国政府分别于1997年7月1日和1999年12月20日成功收回了香港和澳门，建立了香港特别行政区和澳门特别行政区。香港、澳门的回归与“一国两制”基本国策的实施有关。

答案：C。

17. (2.00分) “我们的制度之所以被称为民主政治，因为政权是在全体公民手中，而不是在少数人手中。”这种“制度”产生于( )

A.古埃及

B.古印度

C.古雅典

D.古罗马

解析：“我们的制度之所以被称为民主政治，因为政权是在全体公民手中，而不是在少数人手中。”这种“制度”产生于古雅典。公元前6世纪雅典成为著名的奴隶制共和国，公元前5世纪后半期，伯利克里当政期间，雅典奴隶主民主政治达到古代世界的最高峰，当时雅典全体成年男性公民可以参加最高权力机构公民大会，决定内政、外交、战争等重大问题，但妇女、儿童、外邦人和奴隶无权享有这种民主。

答案：C。

18. (2.00分) 将中国古代造纸术等重大发明及古印度人发明的“0-9”十个数字符号传播到欧洲，在不同文明之间架起了文化交流桥梁的是( )

A.西班牙人

B.阿拉伯人

C.土耳其人

D.葡萄牙人

解析：中国古代的四大发明，印度的阿拉伯数字等都是阿拉伯人通过战争或是贸易传入欧洲和世界其它地方。阿拉伯人在东西方文化交流与传播中起了积极作用，被誉为东西方文明交流的桥梁。

答案：B。

19. (2.00分) “在美国历史和人类历史上，林肯必将与华盛顿齐名。”这主要是因为林肯( )

A.推行农奴制改革，促进资本主义发展

B.领导独立战争，颁布《独立宣言》

C.维护国家统一，废除黑奴制度

D.领导世界反法西斯战争

解析：依据题干信息“林肯必将与华盛顿齐名”，结合所学知识：1861—1865年，林肯领导了美国南北战争并取得了胜利。通过南北战争，维护了国家的统一，废除了黑人奴隶制度，扫除了资本主义发展的障碍，促进了美国资本主义的发展。

答案：C。

20. (2.00分) 《共产党宣言》是激励无产阶级为实现公平公正社会制度不断奋斗的强大精神动力。该宣言的发表( )

- A.标志着马克思主义的诞生
- B.体现了资产阶级的要求
- C.揭开了法国大革命的序幕
- D.动摇了神权统治的根基

解析：《共产党宣言》的发表标志着马克思主义的诞生。从此，在科学理论的指导下，国际工人运动进入一个新历史时期。

答案：A。

21. (2.00分) 下列关于第一次世界大战的叙述，错误的是 ( )

- A.战前在欧洲形成了三国同盟和三国协约两大军事集团
- B.萨拉热窝事件是战争爆发的导火线
- C.凡尔登战役是大战中最惨烈的战役之一
- D.日本偷袭珍珠港使美国卷入大战

解析：关于第一次世界大战的叙述，错误的是“日本偷袭珍珠港使美国卷入大战”。1941年12月7日，日本不宣而战，偷袭太平洋美国基地珍珠港，重创美军太平洋舰队，第二天，美国对日作战，太平洋战争爆发，二战规模进一步扩大。12月8日，美国对日宣战，紧随其后，对日宣战的有中国、英国、澳大利亚等20多个国家，第二次世界大战达到最大规模。

答案：D。

22. (2.00分) 1917年11月7日晚，“阿芙乐尔”号巡洋舰的一声炮响，发出了攻占冬宫的信号。经过激烈战斗，彼得格勒武装起义取得胜利。以上场景发生在哪次革命中 ( )

- A.宪章运动
- B.巴黎公社
- C.二月革命
- D.十月革命

解析：1917年11月6日晚，列宁秘密来到彼得格勒的起义总指挥部——斯莫尔尼宫，亲自领导起义。起义者迅速占领彼得格勒火车站、中央发电站、电话总局和国家银行等站略要点，7日晚，以“阿芙乐尔”号巡洋舰的炮声为信号，工人、士兵向冬宫发起了猛烈进攻。次日凌晨，起义者攻克临时政府盘踞的最大据点——冬宫，彼得格勒武装起义取得了胜利，俄国十月革命取得胜利。题干中这一场景发生在俄国十月革命中。

答案：D。


23. (2.00分) 1942年1月，美、英、苏、中等26个国家在华盛顿签署《联合国宣言》，保证全力对法西斯国家作战。《联合国宣言》的发表标志着 ( )

- A.法西斯轴心国集团的形成
- B.国际反法西斯联盟的形成
- C.雅尔塔体系的形成
- D.抗日民族统一战线的形成

解析：二战中法西斯国家的侵略扩张，激起了世界人民的广泛愤怒，中、美、苏等国家为了对付共同的敌人法西斯，逐渐走向联合，1942年苏、英、美、中等26个国家签署《联合国宣言》标志着国际反法西斯联盟的建立，鼓舞了各国人民的斗志，壮大了反法西斯的力量，奠定了打败法西斯国家的基础。

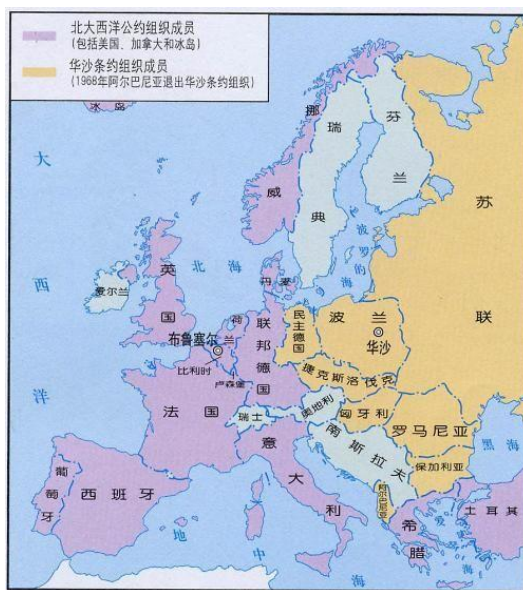
答案：B。

24. (2.00 分) 如图反映的主题是 ( )



1947 年 3 月杜鲁门在国会发表演说

“马歇尔计划”宣传海报



北大西洋公约组织和华沙条约组织

- A. 凡尔赛——华盛顿体系下的世界
- B. 欧美主要国家的社会巨变
- C. “冷战”局面的形成
- D. 资产阶级统治的巩固与扩大

解析：观察图片可知，图中反映的是杜鲁门主义、马歇尔计划和北约的成立，这些都是美国冷战政策的具体表现，所以反映的主题应是“冷战”局面的形成。

答案：C。

25. (2.00 分) 一位当代西方史学家说：“西欧国家希望通过建立一个经济共同体，来振兴经济并降低未来战争的可能性。”1993 年，西欧国家在欧洲共同体的基础上，成立的资源共享、优势互补的经济体是 ( )

- A. 亚太经合组织
- B. 世界贸易组织
- C. 欧洲联盟
- D. 联合国

解析：1993 年，西欧国家在欧洲共同体的基础上，成立的资源共享、优势互补的经济体是欧洲联盟。1993 年，西欧国家在欧洲共同体的基本上成立了欧洲联盟，简称欧盟。欧盟各



国将逐步使用单一货币——欧元；欧盟成员国内部人员、资本和货物可以自由流通，成员国公民有统一的欧洲护照，不同国家的人可以在任何一个成员国工作、学习或居住。欧盟成员国之间资源共享、优势互补，有利于经济的发展。欧盟成为世界上最大的经济体。

答案：C。

二、非选择题（本大题共4小题，第26题10分，第27题12分，第28题14分，第29题14分，满分50分）

26.（10.00分）阅读下列材料，回答问题。

材料一：



图1




图2 张择端《清明上河图》（局部）

材料二：他是南朝著名的数学家，是世界上第一个将圆周率数值精确到小数点后七位数字的人。这个数值的求出，比欧洲早一千多年。

材料三：中医是我国传统文化的瑰宝。明代医药学家李时珍全面总结了我国古代药物学的成就，同时根据自己一生行医用药中对药性的实际体验，写成了一部药物学巨著。这部巨著被译为日、英、德、法、拉丁、俄等文字，在世界医学领域有很高的学术地位。

(1)图1所示的文字是商朝时期刻在龟甲和兽骨上的文字，它被称作什么文字？图2是研究哪一朝代商业活动和城市生活风貌的重要资料。

(2)材料二中的这位数学家是谁？

(3)请说出材料三中李时珍编写的这部药物学巨著的名称。

(4)综合以上材料和所学知识，谈谈你对中国古代传统文化的认识。

解析：

(1)图1所示的文字是商朝时期刻在龟甲和兽骨上的文字，它被称作甲骨文。图2《清明上河图》是研究宋代商业活动和城市生活风貌的重要资料。

(2)由材料二“他是南朝著名的数学家，是世界上第一个将圆周率数值精确到小数点后七位数字的人。这个数值的求出，比欧洲早一千多年”可知，这位数学家是祖冲之。

(3)李时珍是明代杰出的医学家和药物学家，著有《本草纲目》。全书共收1892种药物，附药方11000多则，插图1160幅，被誉为“东方医学巨典”。

(4)本题为开放性题目，言之有理即可。如：对中国优秀的传统文化我们要继承与发扬，要取其精华，弃其糟粕。

答案：

(1)甲骨文；宋代。

(2)祖冲之。

(3)《本草纲目》。

(4)对中国优秀的传统文化我们要继承与发扬，要取其精华，弃其糟粕。

27. (12.00 分) 阅读下列材料, 回答问题。

材料一: 大多数文艺复兴时期的艺术和文学关注的中心都是人——文艺复兴时期的新人, 他或她是自身命运的塑造者, 而不是超自然力量的玩物。人们不需要专心于超自然的力量, 相反, 生活的目的是为了发展自身所固有的潜能。

——斯塔夫里阿诺斯《全球通史》

材料二: 英国用“光荣革命”的非暴力手段建立了一种新的政治制度……新制度营造出一种宽松、自由和开放的环境……否则, 就难以想象英国社会如何能够在 18、19 世纪和平地实现现代化。

——钱乘旦《世界现代化历程》

材料三: 1933 年, 罗斯福就任美国总统。他面对严重的经济危机, 推行新政。……所谓“新”指的是(美国)抛弃了自

1776 年以来所确定的自由放任、自由竞争的基本原则、实现国家对经济生活的全面干预和调节。

(1)材料一反映的是什么思想? 文艺复兴首先兴起于哪一个国家?

(2)根据材料二并结合所学知识, 指出光荣革命后, 英国确立“新的政治制度”所依据主要法律文献是什么? 该法律文献的颁布使英国确立了怎样的政治体制?

(3)根据材料三, 指出罗斯福新政有何创新之处?

(4)根据以上材料, 说说促进社会发展的因素有哪些?

解析:

(1)据材料一“大多数文艺复兴时期的艺术和文学关注的中心都是人——文艺复兴时期的新人, 他或她是自身命运的塑造者, 而不是超自然力量的玩物。人们不需要专心于超自然的力量, 相反, 生活的目的是为了发展自身所固有的潜能”可知, 材料一反映的是人文主义思想, 文艺复兴首先兴起于意大利。

(2)据材料二“英国用‘光荣革命’的非暴力手段建立了一种新的政治制度……新制度营造出一种宽松、自由和开放的环境……否则, 就难以想象英国社会如何能够在 18、19 世纪和平地实现现代化”并结合所学知识可知, 光荣革命后, 英国确立“新的政治制度”所依据主要法律文献是《权利法案》, 该法律文献的颁布使英国确立了君主立宪制的政治体制。

(3)据材料三“1933 年, 罗斯福就任美国总统。他面对严重的经济危机, 推行新政。……所谓‘新’指的是(美国)抛弃了自 1776 年以来所确定的自由放任、自由竞争的基本原则、实现国家对经济生活的全面干预和调节”可知, 罗斯福新政的创新之处是抛弃了自 1776 年以来所确定的自由放任、自由竞争的基本原则、实现国家对经济生活的全面干预和调节。

(4)本题是开放性题目, 言之有理即可, 如合适的政治制度、工业的发展、科技的进步、创新的意识等等都是促进社会发展的重要因素。

答案:

(1)人文主义; 意大利。

(2)《权利法案》; 君主立宪制。

(3)抛弃了自 1776 年以来所确定的自由放任、自由竞争的基本原则、实现国家对经济生活的全面干预和调节。

(4)合适的政治制度、工业的发展、科技的进步、创新的意识等等。

28. (14.00 分) 阅读下列材料, 回答问题。

材料一: 鸦片战争失败后, 中国逐步沦为半殖民地半封建社会。以康有为、孙中山等为代表的一批先进的中国人为挽救民族危机, 寻求振兴中华的民族复兴之路, 进行了不懈的探索和斗争。

材料二：近代以来，由于我们一盘散沙，我们的民族总是在斗争中遭到失败。抗日战争中……中华民族形成了一个统一的抵抗力量。中国人民经过浴血奋战，终于取得了抗日战争的伟大胜利。这场战争的胜利，是中华民族由衰败到重新振兴的转折点，为国家的独立和民族的解放奠定了基础。

材料三：中华人民共和国的成立，将数千年来的封建压迫，100 年来的帝国主义侵略，22 年的国民党反动统治，一齐被中国人民葬入坟墓。半殖民地半封建时代过去了，从此人民成了国家的主人，中国历史进入了一个民族复兴的新时代。

材料四：改革开放之初、我们党发出了走自己的路、建设中国特色社会主义的伟大号召。从那时以来，我们党团结带领全国各族人民不懈奋斗，推动我国经济实力、科技实力、国防实力、综合国力进入世界前列，推动我国国际地位实现前所未有的提升，……中华民族正以崭新姿态屹立于世界的东方。

——习近平《在中国共产党第十九次全国代表大会上的报告》

- (1)根据材料一并结合所学知识，分别列举康有为、孙中山探索民族复兴的实践活动各一例。
- (2)根据材料二，回答抗日战争的胜利对中华民族的复兴有何重大意义？
- (3)根据材料三，指出“新时代”的“新”体现在哪些方面？
- (4)根据材料四并结合所学知识，说出中国共产党是在哪一次会议上作出了改革开放的伟大决策？请列举一项改革开放后我国在经济、科技、国防等领域的重大成就。
- (5)综合上述材料，谈谈你对中华民族的复兴有何感悟。

解析：

(1)据材料“鸦片战争失败后，中国逐步沦为半殖民地半封建社会。以康有为、孙中山等为代表的一批先进的中国人为挽救民族危机，寻求振兴中华的民族复兴之路，进行了不懈的探索和斗争”并结合所学知识可知，康有为领导了戊戌变法，孙中山探索民族复兴，领导了辛亥革命。1898 年，以康有为、梁启超等为代表的资产阶级维新派，以“救国存亡”为己任，主张维新变法，掀起了戊戌变法，希望在中国建立起君主立宪制度，在思想文化方面产生了广泛而持久的影响。1911 年，以孙中山为代表的资产阶级革命派以三民主义为核心思想，发动了辛亥革命，推翻了清王朝的反动统治，宣告了中国两千多年君主专制制度的终结。开创了完全意义的近代民族民主革命的思想解放，打开了中国进步思想的闸门。

(2)据材料“近代以来，由于我们一盘散沙，我们的民族总是在斗争中遭到失败。抗日战争中……中华民族形成了一个统一的抵抗力量。中国人民经过浴血奋战，终于取得了抗日战争的伟大胜利。这场战争的胜利，是中华民族由衰败到重新振兴的转折点，为国家的独立和民族的解放奠定了基础”并结合所学知识可知，抗日战争是一百多年来中国人民反对帝国主义侵略第一次取得完全胜利的民族解放战争，抗日战争胜利，洗雪了近代以来的民族耻辱，成为中华民族由衰败到重新振兴的转折点，为世界人民反法西斯战争的胜利做出了重大贡献。

(3)据材料“中华人民共和国的成立，将数千年来的封建压迫，100 年来的帝国主义侵略，22 年的国民党反动统治，一齐被中国人民葬入坟墓。半殖民地半封建时代过去了，从此人民成了国家的主人，中国历史进入了一个民族复兴的新时代”并结合所学知识可知，“新时代”的“新”体现在结束了一百多年来被侵略被奴役的屈辱历史，真正成为独立自主的国家；中国人民从此站起来了，成为国家的主人。1949 年 10 月 1 日，开国大典在北京隆重举行，标志着中华人民共和国的成立。中华人民共和国的成立开辟了中国历史新纪元。从此，中国结束了一百多年来被侵略被奴役的屈辱历史，真正成为独立自主的国家；中国人民从此站起来了，成为国家的主人。新中国的成立，壮大了世界和平、民主和社会主义的力量，鼓舞了世界被压迫民族和被压迫人民争取解放的斗争。

(4)据材料“改革开放之初、我们党发出了走自己的路、建设中国特色社会主义的伟大号召。从那时以来，我们党团结带领全国各族人民不懈奋斗，推动我国经济实力、科技实力、国防

实力、综合国力进入世界前列，推动我国国际地位实现前所未有的提升，……中华民族正以崭新姿态屹立于世界的东方”并结合所学知识可知，中国共产党在十一届三中全会上作出了改革开放的伟大决策；改革开放后我国在经济、科技、国防等领域取得了重大成就，如经济方面：1978年到2006年间，中国经济总量迅速扩张，国内生产总值从3645亿元增长至210871亿元，增长近60倍！科技方面：2008年，我国首颗探月卫星“嫦娥一号”发射升空，炎黄子孙的千年奔月梦成为了现实！国防方面：2012年9月25日，辽宁号航空母舰（代号：001型航空母舰，舷号：16，简称：辽宁舰），是中国人民解放军海军隶下的一艘可以搭载固定翼飞机的航空母舰，也是中国第一艘服役的航空母舰。

(5)本题主要考查学生学以致用能力，解答本题要围绕材料的主旨分析归纳。依据材料，结合所学知识，对中华民族复兴历程的认识有：中华民族复兴道路曲折；中国人民具有不懈的探索精神；要从中国国情出发，尊重客观规律；坚持中国共产党的领导是中国革命和建设走向胜利的保证等。

答案：

(1)戊戌变法，辛亥革命。

(2)抗日战争胜利，洗雪了近代以来的民族耻辱，成为中华民族由衰败到重新振兴的转折点，为世界人民反法西斯战争的胜利做出了重大贡献。

(3)结束了一百多年来被侵略被奴役的屈辱历史，真正成为独立自主的国家；中国人民从此站起来了，成为国家的主人。

(4)十一届三中全会；经济方面：1978年到2006年间，中国经济总量迅速扩张，国内生产总值从3645亿元增长至210871亿元，增长近60倍！科技方面：2008年，我国首颗探月卫星“嫦娥一号”发射升空，炎黄子孙的千年奔月梦成为了现实！国防方面：辽宁舰的服役！

(5)中华民族复兴道路曲折；中国人民具有不懈的探索精神；要从中国国情出发，尊重客观规律；坚持中国共产党的领导是中国革命和建设走向胜利的保证等。

29. (14.00分) 阅读下列材料，回答问题。

材料一：



图 1 16 世纪纺织业手工业工场 图 2 19 世纪使用机器的纺纱工场

材料二：第二次工业革命期间，科学技术突飞猛进，新技术、新发明、新理论层出不穷。电灯亮起来了，电话响起来了；内燃机取代蒸汽机，交通运输飞速发展。……人类进入了工业文明的新时代。

材料三：第三次科技革命，人类在原子能、计算机、航天技术、生物工程等领域取得了巨大成就。这次科技革命似惊雷闪电，迅速席卷了整个世界。在这次科技革命的浪潮中，中国在多个领域取得了重大突破。

材料四：三次科技革命，极大地促进了人类社会的进步，改善了人们的生活。但是，科技发展也带来了许多负面影响，到 21 世纪初，人类不止一次打开“潘多拉的盒子”：全球变暖、

臭氧层受损、沙漠化加剧、物种灭绝、核威胁和核危机…，以科技进步为核心的人类文明如何发展，已成为人类迈向知识经济时代的重大课题。

(1)实现从图 1 手工操作向图 2 机器生产的转变，发生在哪一重大历史事件中？机器生产代替手工劳动有何意义？

(2)材料二中，“电灯亮起来了，电话响起来了”说明人类已进入了什么时代？请列举出第二次工业革命中“交通运输飞速发展”的一项重要成果。

(3)在第三次科技革命的浪潮中，1964 年我国在原子能技术方面首次取得的重大突破是什么？在生物科和学方面，1973 年首次培育出“籼型杂交水稻”的科学家是谁？

(4)根据材料四，谈谈你对科技革命的认识。

解析：

(1)第一次工业革命实现了手工工场向大机器生产的转变，因此实现从图 1 手工操作向图 2 机器生产的转变，发生在第一次工业革命中。机器生产代替手工劳动提高了生产效率，促进了经济的发展。

(2)“电灯亮起来了，电话响起来了”反映的是第二次工业革命，第二次工业革命把人类带入了电气时代。第二次工业革命在交通运输业取得重要成果有飞机、汽车等。

(3)1964 年我国成功爆炸了第一颗原子弹。1973 年袁隆平首次培育出“籼型杂交水稻”，大大提高了水稻产量。

(4)由“三次科技革命，极大地促进了人类社会的进步，改善了人们的生活。但是，科技发展也带来了许多负面影响，到 21 世纪初，人类不止一次打开“潘多拉的盒子”：全球变暖、臭氧层受损、沙漠化加剧、物种灭绝、核威胁和核危机…，以科技进步为核心的人类文明如何发展，已成为人类迈向知识经济时代的重大课题。”可以看出，科学技术是一把双刃剑，促进了人类社会的进步，也带来了许多负面影响，我们要趋利避害。

答案：

(1)第一次工业革命；提高了生产效率，促进了经济的发展。

(2)电气时代；飞机、汽车等。

(3)成功爆炸了第一颗原子弹；袁隆平。

(4)科学技术是一把双刃剑，促进了人类社会的进步，也带来了许多负面影响，我们要趋利避害。