

社会政治试题

考生须知：


1. 全卷分试题卷 I、试题卷 II 和答题卷。试题卷共 4 页，有两个大题，22 个小题。满分为 80 分，考试时间为 90 分钟。
2. 请将姓名、准考证号分别填写在试题卷和答题卷的规定位置上。
3. 答题时，把试题卷 I 的答案在答题卷 I 上对应的选项位置用 2B 铅笔涂黑、涂满。将试题卷 II 答案用黑色字迹钢笔或签字笔书写，答案必须按照题号顺序在答题卷 II 各题目规定区域内作答，做在试题卷上或超出答题区域书写的答案无效。

试题卷 I

一、**选择题**(本大题共有 16 小题，每小题 2 分，共 32 分。请选出各题中一个符合题意的正确选项，不选、多选、错选、漏选均不给分)

1. 教育是民族振兴、社会进步的基石。强国必先强教。为此，国务院审议并通过了《国家中长期教育 **▲** 规划纲要(2010—2020 年)》
A. 体系 B. 目标 C. 振兴
D. 改革和发展
 2. 右面两张照片都摄于 2010 年 2 月 18 日。造成这种气温差异的主要原因是由于两地
A. 经度不同 B. 纬度不同
C. 距离海洋远近不同 D. 地形地势差异大
-
3. 波斯湾地区与我国新疆在自然环境方面的相同之处有
①石油资源丰富 ②位于内陆，气候干燥
③沙漠广布，河流较少 ④终年高温少雨
A. ①② B. ②③ C. ①③ D. ②④
 4. 下列有关大洲、大洋的说法正确的是
A. 四大洋是相互不连通的 B. 亚洲全部位于赤道以北
C. 欧洲被大西洋、北冰洋和印度洋所围绕 D. 北冰洋地跨东、西半球
 5. 古希腊著名哲学家苏格拉底被以“腐蚀雅典青年，并否定传统的神”的罪名判处死刑。当时的宣判机构是
A. 公民大会 B. 五百人议事会 C. 陪审法庭 D. 议会
 6. 2010 年 4 月 1 日起，为期三个月的“国家宝藏——中国国家博物馆典藏珍宝展”在宁波博物馆举行。其中右图的展品出自中国的
A. 商周时期 B. 隋唐时期 C. 宋元时期 D. 明清时期
-
7. 我国是统一的多民族国家，民族团结是我国处理民族关系的原则之一。下列做法有利于民族团结的是
①尊重各民族的宗教信仰、风俗习惯 ②帮助少数民族地区发展经济
③实行民族区域自治制度 ④在国家机关统一使用汉字与普通话
A. ①②③ B. ①②④ C. ①③④ D. ②③④
 8. 中国的北京、上海、南京等 30 多个城市积极参与 2010 年“地球一小时”熄灯活动，全球有 6000 多个城市 10 多亿人共同参与。这说明
①我国积极实施可持续发展战略 ②解决环境与资源问题的关键靠科技
③节能减排已成为每个人的自觉行动 ④倡导低碳生活得到世界各国的积极响应
A. ①② B. ①④ C. ②③ D. ③④

9. 古罗马著名政治家、哲学家西塞罗说：“懂得生命真谛的人，可以使短促的生命延长。”这里“生命延长”指的是
- A. 对社会的贡献 B. 珍惜生命，延长生命的时间
C. 不轻易放弃生的希望 D. 肯定、尊重、悦纳自己的生命
10. “你吃的放心，我赚的安心。你吃的长寿，我赚的长久”。这是一家生意红火的饭店所挂的对联。它告诉我们的道理是
- ①坚持诚实就会赢得信任 ②经营者只要诚实就能成功
③经营者要尊重和维护消费者的合法权益 ④善意的谎言并不违背诚信原则
- A. ①② B. ②④ C. ②③ D. ①③
11. 加强校园安保、整治互联网和淫秽色情手机网站等措施，体现了对青少年的
- ①家庭保护 ②学校保护 ③社会保护 ④司法保护
- A. ①② B. ②③ C. ①④ D. ③④
- 温家宝总理说：“公平正义比太阳还要有光辉。”据此回答 12—13 题
12. 下列属于我国现阶段正在实践并符合公平正义要求的选项是
- A. 不患寡而患不均 B. 均贫富，等贵贱 C. 人生而平等 D. 按需分配
13. 右边的漫画“保护伞”表明的是
- ①我国正在着力构建正义的制度以保障社会公平
②要理智面对不公平
③我国政府十分重视民生问题
④这些措施只是保护社会弱势群体
- A. ①② B. ②③ C. ①③ D. ③④
14. 2010 年 3 月，十一届全国人大三次会议通过了修改选举法的决定。修改后的选举法规定城乡人口按 1:1 选举人大代表，我国首次实现城乡居民“同票同权”。这体现了
- ①法律对公民权利的尊重与保障 ②我国民主制度正在不断完善
③全国人大行使最高决定权 ④全国人民代表大会是我国的根本政治制度
- A. ①② B. ③④ C. ①③ D. ②④
15. 第二次全国经济普查数据显示，我国私营企业有较大的增长。截止 2008 年底，私营企业占企业总量的 72.5%，占资产总额的 12.3%，占工业企业就业人员的 44.4%。由此可见私营经济
- ①对国民经济起主导作用 ②是社会主义市场经济的重要组成部分
③得到国家的鼓励、支持、引导 ④扩大了社会就业，具有生机与活力
- A. ①②③ B. ①②④ C. ①③④ D. ②③④
16. 一年来我国自然灾害不断：北涝南旱西地震。但是全国人民有信心重建美好家园，取得抗灾救灾斗争的胜利。这是因为
- ①有中国共产党的坚强领导 ②经济实力雄厚，全国人民富裕
③我国幅员辽阔资源丰富 ④中华民族有团结互助的传统美德
- A. ①④ B. ②④ C. ②③ D. ③④



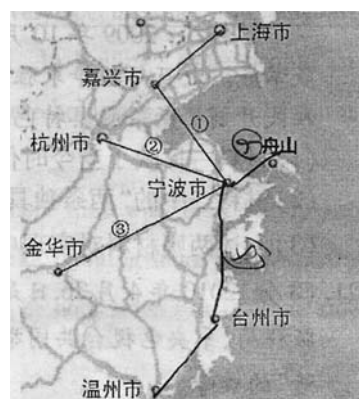
试题卷 II

二、非选择题(本大题共有 6 小题，共 48 分)

17. (8 分)请仔细阅读材料，回答问题。

近三年来，宁波市交通建设投资达 800 亿元，创下历史

- ①杭州湾跨海大桥通车，接轨上海；
②杭甬高速公路拓宽至八车道，杭甬客专开建；
③甬金高速公路开通；



之最：

④甬台温铁路全线贯通；

⑤2009 年底，▲ 大桥等五座桥梁全线通车，使舟山 与宁波陆路相连。

这些路桥的建设不仅推动我市经济的发展，还影响着我们的生活。

(1) 在▲填上合适的内容(1 分)

(2) 根据材料，请在右图上简略画出④⑤交通线路并标上相应的序号；据此概括出宁波陆路交通的特点。(4 分)

(3) 上述交通布局不仅推动我市经济的发展，还影响着我们的生活。请问有哪些具体表现?(3 分)

18. (10 分) 阅读材料，回答问题。

翻开从鸦片战争到五四运动近 80 年的历史，人们发现温和的改良无法从根本上改变中国落后挨打的现实，必须彻底埋葬旧制度。于是革命党人举起义旗，发动革命，推翻旧王朝，建立了中国第一个共和制政府。然而，这场革命引起的变化毕竟是有限的。清王朝皇冠落地后，不平等条约没有废除；从农村到城市，很多人家还是把君主当作神来供奉。

(1) 材料中的“改良”和“革命”是指哪些历史事件?它们有哪些共同之处?(5 分)

(2) 这场“革命”给中国社会带来了哪些变化?结合材料谈谈对“这场革命引起的变化毕竟是有限的”这句话的认识。(5 分)

19. (8 分) 请结合右图，回答问题。

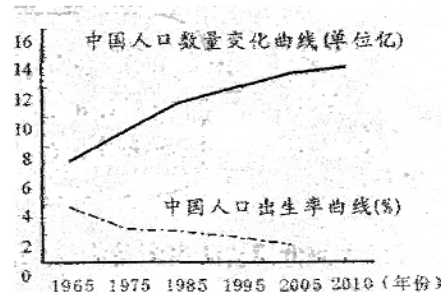
(1) 右图呈现了我国的哪些人口问题?(2 分)

(2) 上述人口问题对我国发展带来哪些不利影响?

(3 分)

(3) 结合所学知识分析右图中两条曲线形成的原因。

(3 分)



20. (6 分) 阅读材料，回答问题。

材料一：2010 年 5 月 9 日，俄罗斯隆重举行纪念卫国战争胜利 65 周年阅兵式，20 多个国家的领导人和国际组织代表参加了纪念活动，并向为反法西斯战争胜利献出生命的无名烈士墓献花。国家主席胡锦涛参加庆典时强调：“今天的和平来之不易，值得倍加珍惜。”

材料二：2009 年 10 月 1 日，中华人民共和国成立六十周年国庆阅兵式隆重举行，展示了国威军威。近百年抗争求独立，六十年奋斗铸辉煌。在不断的探索中，中国共产党领导全国各族人民开创了有中国特色的社会主义道路。

(1) 材料一反映了当今时代的哪一个主题?(1 分)

(2) 材料二中的“有中国特色的社会主义道路”是指哪两条道路?(2 分)

(3) 上述两则材料对实现中华民族的伟大复兴有哪些启示?(3 分)

21. (8 分) 2010 年 4 月 26 日是我国第十个知识产权宣传日。全国扫黄打非办、新闻出版总署、国家版权局、中央电视台共同举办了“绿书签行动 2010”主题晚会，提出“加入绿书签，分享正版生活”的口号。

对于“绿书签”行动，同学甲与同学乙提出了自己的观点。请你从公民权利与义务关系的角度对二人的观点进行辨析。

同学甲：购买正版还是盗版，这是公民的权利。

同学乙：拒绝盗版，这是公民的义务。

22. (8 分) 阅读材料，回答问题。

材料一：世博滕头馆，笑迎天下客。荣获“全球生态 500 佳”和“世界十佳和谐乡村”的宁波滕头村，是全球唯一入选上海世博会“最佳城市实践区”的乡村案例，向世界展示的是一个“村在景中、景在村中”的生态和谐的现代乡村。

材料二：宁波滕头村是一个“了不起的村庄”，30 年来由贫穷走向共同富裕。当人们探寻该

村共同富裕的秘诀时，滕头人是这样说的：



党委书记傅企平

我们很早就提出，既要金山银山，更要绿水青山，我们还实行村民自治制度，重大事件由村民讨论决定。

我们能吃苦啊，我利用自己的一技之长办个体养猪场，起早摸黑的。



原村畜牧场傅场长



种草莓大户吕大婶

村里开发农业观光、生态游和“农家乐”活动，游客踏水车、磨面粉，观斗鸡，看猪赛跑，还有采摘草莓等，增加了我们收入。

我们读书一直是全免费的，考上大学还有奖励，我们还制定村民守则，建设文明村庄。



学生小燕子

- (1) 上海世博会的主题是什么？结合材料一谈谈作为农村的滕头村为什么会入选上海世博会？(2分)
- (2) 滕头村的致富秘诀体现了教材中的哪些观点？(6分)

宁波市 2010 年初中毕业生学业考试

社会政治试题参考答案及评分标准

一、选择题(本大题共有 16 小题，每小题 2 分，共 32 分)

题号	1	2	3	4	5	6	7	8	9	10	11	12	13	14	15	16
答案	D	B	C	D	C	A	A	B	A	D	B	C	C	A	D	A

二、非选择题(本大题有 6 小题, 共 48 分)

17. (1)金塘(1 分) (2)画线正确并标注④⑤。(1 分)特点: 以宁波为中心四通八达; 宁波已成为区域交通中心(枢纽); 交通方式多样化。(3 分)

(3)①加强宁波与其他地区的联系, 增强了宁波的辐射力与影响力; ②缩短货物运输时间, 降低成本或损耗; ③出行便捷; ④出行方式选择多样化; ⑤促进消费、发展旅游事业; ⑥改善投资环境, 吸引更多投资等。(3 分。任意三方面即可)

18. (1)洋务运动、戊戌变法、辛亥革命。(2 分)探索现代化道路、向西方学习、力图挽救中华民族危难等。(3 分)

(2)推翻了君主专制制度; 民主共和思想深入人心; 社会生活发生变化等。(3 分)中国半殖民地半封建的社会性质没有改变; 多数中国人的精神面貌没有根本改变。(2 分。照抄材料不给分)

19. (1)①我国人口持续增长; ②人口总量大。(2 分) (2)①生态失衡(或环境恶化); ②就业压力增大, 影响人民生活水平的提高(或上学难、就医难、住房难、交通拥挤等); ③资源的人均占有量减少(或资源短缺)制约经济的发展等。(3 分)

(3)原因: ①人口基数大, 新增人口多; 老年人口数量增长很快(人均寿命延长或自然死亡率降低)。

(1 分)②实行计划生育, 人口出生率下降。(1 分)③人口出生率下降, 使人口增长速度趋缓。(1 分)

20. (1)和平(1 分) (2)农村包围城市的独特的革命道路; 中国特色社会主义道路。(2 分)

(3)努力争取和平的国际环境(1 分)坚持中国共产党领导; 坚持从中国国情出发(一切从实际出发); 坚持社会主义道路; 坚持改革开放; 各民族团结一心等。(2 分。两方面, 言之有理即可)

21. (1)我国公民的权利与义务具有一致性。(1 分)每个人既是享受权利的主体, 又是履行义务的主体。(1 分, 或没有无权利的义务, 也没有无义务的权利)

(2)同学甲的观点是错误的。(1 分)公民在消费时有自主选择商品的权利, 但是购买盗版损害了他人的知识产权, 没有承担应负的法定义务(2 分)同学乙的观点是正确的。(1 分)拒绝盗版尊重了他人的知识产权, 是忠实履行法定义务的表现。(2 分)

22. (1)城市, 让生活更美好。因为滕头村是一个生态和谐、现代乡村, 是现代乡村的典范等。(2 分)

(2)以下每一小点 1 分, 共 6 分。

傅书记	①经济发展与生态环境相协调(或走可持续发展的道路) ②尊重公民的民主权利
傅场长	③发扬艰苦奋斗、吃苦耐劳的精神或勤劳致富 ④国家支持个体经济发展或个体经济调动了人们的积极性
吕大婶	⑤因地制宜, 发展经济
小燕子	⑥重视人才培养、精神文明建设等
