

## 2016年福建省泉州市安溪县中考真题地理

一、选择题：（本大题共 25 题，每题 2 分，共 50 分。每小题的四个选项中只有一个是符合题意，请将正确答案填涂在答题卡上。）

1. 麦哲伦船队的环球航行证实了（ ）

- A. 地球是一个球体
- B. 大地是运动的
- C. 月球是一个球体
- D. 板块处于不断运动中

解析：由于受观测条件和科学技术的限制，人类对地球的认识经过了漫长的过程，从天圆地方→天如斗笠，地如覆盘→麦哲伦环球航行→地球的卫星照片，后来证实了地球是一个两极部位稍扁的不规则球体。麦哲伦船队的环球航行首次证实了地球是一个球体，故 A 正确。

答案：A

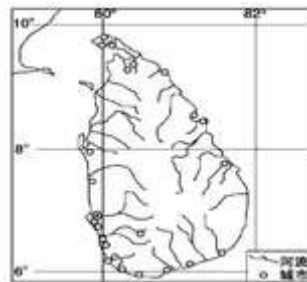
2. 下列有关“南极和北极地区”的叙述，正确的是（ ）

- A. 两极地区旅游胜地、人口稠密
- B. 两极地区多冰雪，降水丰富
- C. 两极地区严寒，降水少，多强风
- D. 两极地区淡水、矿产缺乏

解析：北极地区有定居人口，南极地区无定居人口，故 A 错误；两极地区都是世界上降水稀少的地区，故 B 错误；两极地区由于纬度高，气候严寒，降水少，多强风，故 C 正确；两极地区淡水资源和矿产资源都比较丰富，故 D 错误。

答案：C

如图，读图，完成下列各题。



3. 根据岛屿地理位置判断，下列正确的是（ ）

- A. 地势四周高，中部低
- B. 全年寒冷干燥
- C. 地处热带，全年高温
- D. 冬冷夏热，降水丰富

解析：从图中的经纬度可以判定，该岛是南亚的斯里兰卡岛，位于低纬度地区，以热带季风气候为主，全年高温，降水分为旱、雨两季，雨水丰富；地势四周低，中部高。

答案：C

4. 该岛上城市的主要分布特点是（ ）

- A. 沿海分布

- B. 沿河分布
- C. 分布在地势较高处
- D. 分布无规律

解析：读图分析可知，该图为斯里兰卡；斯里兰卡地势中部高，四周低，城市主要分布在沿海地区，内陆较少。

答案：A

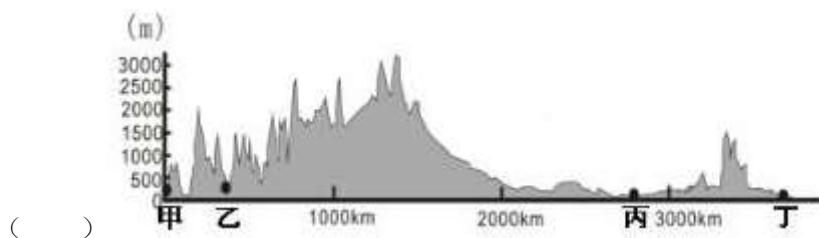
5. 下列天气现象中最有可能出现“遛狗不见狗，狗绳提在手，见绳不见手，狗叫人才走”的是（ ）



解析：读图可知，选项 A 表示的是晴，B 表示的是雾，C 表示的是阴，D 表示的是冰雹；题干中“遛狗不见狗，狗绳提在手，见绳不见手，狗叫人才走”描述的大雾天气，故选项 B 符合题意。

答案：B

6. 如图是沿北美洲北纬 35° N 的地形剖面图，图中甲、乙、丙、丁处降水量最少的是



- A. 甲
- B. 乙
- C. 丙
- D. 丁

解析：受地形的影响，山地迎风坡降水多，背风坡降水少。从图中可以看出乙地位于山地背风坡，降水最少。

答案：B

7. 世界人口比较稠密的地区多位于（ ）

- A. 赤道附近的雨林地区
- B. 高纬度的两极地区
- C. 中低纬度近海的平原地区
- D. 离海洋较远的内陆地区

解析：世界人口的地理分布很不均匀，有的地方稠密，有的地方稀疏。人口的分布状况与地理环境有着密切联系。中低纬度的临海地带往往形成人口的稠密地区。

答案：C

8. 下列关于世界人种、语言及宗教的说法正确的是（ ）

- A. 基督教是世界上信仰人数最多的宗教

- B. 非洲北部居民多使用阿拉伯语，信仰基督教
- C. 汉语是世界上使用最广的语言
- D. 美国人主要讲英语，以黑种人为主

解析：A. 基督教是世界上信仰人数最多的宗教，故 A 正确；B. 非洲北部居民多使用阿拉伯语，信仰伊斯兰教，故 B 不正确；C. 汉语是世界使用人数最多的语言，英语是世界上流传最广的语言，故 C 不正确；D. 美国人主要讲英语，以白种人为主，故 D 不正确。

答案：A

9. 雾霾纪录片《穹顶之下》引发社会热议，你认为下列行为不利于大气环境改善的是（ ）

- A. 鼓励购买使用私家车
- B. 扩大绿化面积
- C. 乘坐公交车绿色出行
- D. 限号出行缓解交通拥堵

解析：鼓励购买使用私家车会增加汽车尾气的排放，该行为不利于大气环境的改善，故 A 符合题意；选项 BCD 的做法都有利于改善大气环境质量，选项 BCD 不符合题意。

答案：A

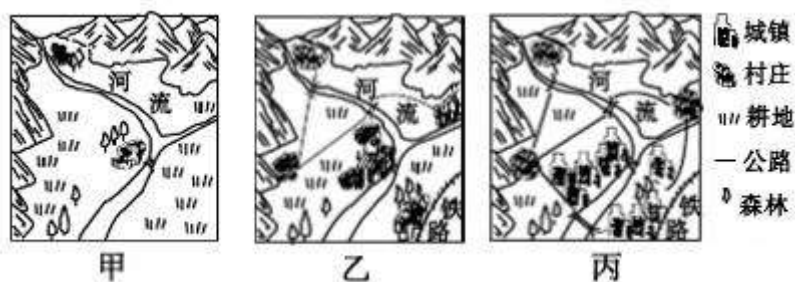
10. “世界那么大，我想去走走”，以下是玲玲同学在朋友圈写的旅游计划。合理的是（ ）

- A. 我想去拥有世界最大热带雨林的澳大利亚看桑巴舞
- B. 我想去英国巴黎看风车和壮观的艾菲尔铁塔
- C. 我想去世界活化石博物馆的巴西看袋鼠
- D. 我想去被称为“世界办公室”的印度看泰姬陵

解析：拥有世界最大热带雨林的国家和桑巴舞是巴西的传统舞蹈，故 A 错误；法国巴黎看有壮观的艾菲尔铁塔，风车是荷兰的象征，故 B 错误；澳大利亚因有袋鼠、鸸鹋、鸭嘴兽等古老动物而被称为世界活化石博物馆，故 C 错误；印度因为电脑软件产业发达而被称为“世界办公室”，泰姬陵是印度著名的古代建筑，故 D 正确。

答案：D

如图，读图，回答下列各题。



11. 由甲到乙到丙反映了该地区耕地逐渐减少的原因是（ ）

- A. 城镇建设挤占耕地
- B. 水土流失严重
- C. 风沙危害加剧
- D. 污染严重

解析：土地供需矛盾尖锐，人均耕地面积不断下降。随着经济发展和进一步改革开放，建设用地还要不断增加，每年尚需占用相当数量耕地，加之人口增长，人均耕地占有量不断减少，

读图可得，城镇规模不断扩大，乱占滥用耕地，浪费土地的问题不断发生。

答案：A

12. 解决该问题的措施合理的是（ ）

- A. 平整山地，增加建设用地
- B. 控制人口增长，保护耕地
- C. 毁林开荒，增加耕地面积
- D. 迁出该地人口，恢复耕地

解析：如图聚落人口增长快，人均耕地少，可开垦的后备土地资源不多，工业、交通和城镇的发展占用了一部分耕地，加上使用不合理，乱占耕地的现象十分严重，造成耕地面积日益减少。因此解决的措施是一方面要切实保护耕地，另一方面实行计划生育，控制人口增长。

答案：B

有学者按自然地理特征，将中国划分成如图所示的四块区域。读图完成下面各题。



13. 有关各区域地理景观的叙述，正确的是（ ）

- A. “绿色中国”——草原广袤，牛羊成群
- B. “银色中国”——沃野千里，绿树成荫
- C. “金色中国”——茫茫戈壁，黄沙漫漫
- D. “黄色中国”——地势高耸，冰川广布

解析：读图可得，金色中国是指西北地区，黄色中国是指北方地区，银色中国是指青藏地区，绿色中国是指南方地区。草原广袤，牛羊成群是金色中国西北地区的景观，故A错误；沃野千里，绿树成荫是黄色中国北方地区的景观，故B错误；茫茫戈壁，黄沙漫漫是金色中国西北地区的景观，故C正确；地势高耸，冰川广布是银色中国青藏地区的景观，故D错误。

答案：C

14. 下列组合不正确的是（ ）

- A. “黄色中国”的传统民居窑洞——黄土广布、沟壑纵横
- B. “金色中国”的坎儿井——气候干旱，蒸发旺盛
- C. “银色中国”的内外交通不便——河网密布，著名的水乡
- D. “绿色中国”的农作物熟制为一年两熟到三熟——热量充足，降水丰沛

解析：读图可得，黄色中国是指北方地区，金色中国是指西北地区，银色中国是指青藏地区，绿色中国是指南方地区。北方地区黄土高原的传统民居是窑洞，黄土高原的景观特征是黄土广布，沟壑纵横，故A叙述正确；坎儿井是西北地区新疆维吾尔自治区的灌溉工程，该省区气候干旱，蒸发旺盛，故B叙述正确；河网密布，著名的水乡是绿色中国南方地区的景观，故C叙述错误；“绿色中国”即南方地区的农作物熟制为一年两熟到三熟，属于亚热带和热带，该地区热量充足，降水丰沛，故D叙述正确。

答案：C

15. “坚持计划生育的基本国策，完善人口发展战略，全面实施一对夫妇可生育两个孩子政策”，这有助于缓解的人口问题是（ ）

- A. 人口分布不均
- B. 人口素质低
- C. 人口基数大
- D. 人口老龄化

解析：20世纪70年代以来，我国实行了计划生育，在控制人口数量方面取得巨大成就，但同时也出现劳动力减少、社会养老负担加重，人口老龄化等问题。现在“坚持计划生育的基本国策，完善人口发展战略，全面实施一对夫妇可生育两个孩子政策”，其目的就是为应对当前出现的人口问题，逐步调整完善现行的生育政策，促进人口长期均衡发展。

答案：D

16. 我国大陆游客到台湾“自由行”，直接利于台湾的发展。（ ）

- ①工农业
- ②旅游业
- ③建筑业
- ④餐饮业

- A. ①②
- B. ①③
- C. ②③
- D. ②④

解析：我国大陆游客到台湾“自由行”，可直接推动台湾省旅游业的发展，同时带动餐饮业等相关产业的发展；而对台湾的工农业、建筑业影响很小。依据题意，结合选项。

答案：D

17. 下列属于振兴东北老工业基地的有效措施是（ ）

- ①加快产业结构调整
- ②推进体制机制创新
- ③大力开采油田，发展重工业
- ④发展新型产业
- ⑤大力发展科技

- A. ①②③④
- B. ①③④⑤
- C. ②③④⑤
- D. ①②④⑤

解析：经过多年的开发，东北地区的一部分矿产资源日益减少，许多工矿城市面临着资源不足的严峻挑战。比如，抚顺、阜新的煤炭资源趋于枯竭，辽中南地区有色金属矿山的资源量严重不足。矿区沉陷、生态恶化、环境污染也成为制约东北老工业基地发展的重要瓶颈。2003年，国家明确提出振兴东北老工业基地发展战略，加快产业结构调整，推进体制机制创新，尤其是运用高新技术改造传统产业，支持资源枯竭型城市转型提升。经过这些年的不懈努力，东北地区已呈现出欣欣向荣的发展局面。

答案：D

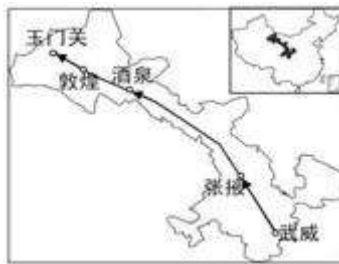
18. 网购已成为新的商业形态，春节一批鲜花从昆明运往北京的最佳运输方式是（ ）

- A. 内河运输
- B. 航空运输
- C. 管道运输
- D. 公路运输

解析：货运要根据货物的性质、数量、运输距离、价格、时效等情况，选择运输方式。一般来说，贵重或急需的货物而数量又不大的，多由航空运送；所以春节一批鲜花从昆明运往北京的最佳运输方式是航空运输。

答案：B

19. 如图为一条旅游线路，下列描述最能呈现该线路特色词句的是（ ）



- A. 黄河源头冰雪天，绵羊慢走在山间
- B. 重走丝绸古道路，干旱困扰使人愁
- C. 阴山脚下威风鼓，黄土高原信天游
- D. 葡萄瓜果齿留香，青藏高原雪飘扬

解析：图中甘肃省的河西走廊是古代“丝绸之路”的重要通道。河西走廊气候干燥，年降水量只有150毫米左右，地表以半荒漠和荒漠为主。由于有祁连山的冰雪融水灌溉，河西走廊绿洲处处，农业发达，以小麦、玉米、马铃薯、谷子、胡麻等的生产为主，是西北著名的粮仓。武威、金昌、张掖、酒泉、嘉峪关、敦煌等城市，都是建立在河西走廊串珠状的绿洲之上。

答案：B

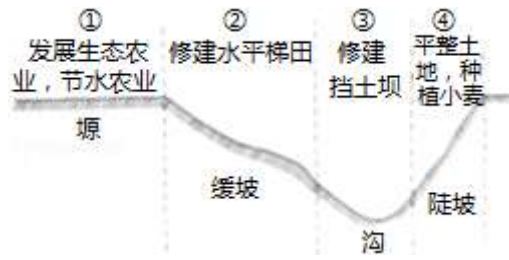
20. 符合我国气候特点的是（ ）

- A. 夏季南北气温差别很大
- B. 冬季南北气温差别不大
- C. 降水东部多、西部少
- D. 降水北方多、南方少

解析：我国地域辽阔，地跨众多的温度带和干湿地区，加上我国地形复杂，地势高低悬殊，更增加了我国气候的复杂多样性。我国冬季南北气温差异大，南方温暖，而越往北气温就越低。夏季南北普遍高温。受夏季风的影响，我国降水自东南沿海向西北内陆逐渐减少，且全年降水量集中在夏季，冬季降水一般不足全年的10%。

答案：C

21. 如图中，针对黄土高原水土流失采取的治理措施，错误的是（ ）



- A. ①
- B. ②
- C. ③
- D. ④

解析：黄土高原，水土流失严重，地表形态为千沟万壑、支离破碎。防治黄土高原水土流失的措施有工程措施、农业技术措施和生物措施，具体措施是在平坦的①黄土塬地区合理安排生产活动，发展生态农业、节水农业。在②缓坡修建水平梯田。在③沟里建坝拦蓄泥沙，打坝淤地。在④陡坡植树造林、种草以保持水土等。经过多年的不懈努力，黄土高原的生态环境有了显著改善，经济社会发展水平不断提高，人民的生活质量明显提升。

答案：D

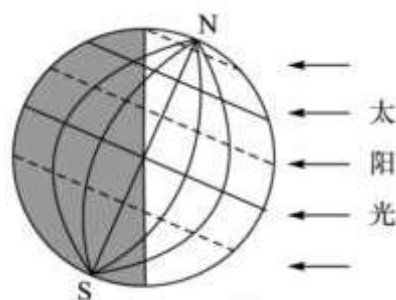
22. 下列发展农业生产的做法，符合因地制宜原则的是（ ）

- A. 东北平原利用肥沃的土地发展林业
- B. 西北地区开垦草原发展种植业
- C. 四川盆地发展热带作物生产
- D. 东部沿海地区发展海洋渔业

解析：东北平原地势平坦，土壤肥沃，适宜发展种植业，故 A 错误；西北地区降水稀少，适宜发展畜牧业，故 B 错误；四川盆地属于亚热带季风气候，故 C 错误；东部沿海地区适宜发展海洋渔业，故 D 正确。

答案：D

如图，读图，回答下列各题。



23. 图所示太阳直射的重要纬线和节气是（ ）

- A. 北回归线 冬至日
- B. 北回归线 夏至日
- C. 南回归线 冬至日
- D. 南回归线 夏至日

解析：读图可得，图中所示北极圈以内全部是极昼现象，此图所示的是北半球的夏至日，此时太阳直射北回归线。

答案：B

24. 此时下列说法正确的是 ( )

- A. 北半球昼短夜长, 北极圈内极夜
- B. 北半球昼长夜短, 南极圈内极昼
- C. 北半球昼长夜短, 北极圈内极昼
- D. 北半球昼夜等长, 南极圈内极昼

解析: 读图可得, 图中所示北极圈以内全部是极昼现象, 南极圈以内全部是极夜现象, 此图所示的是北半球的夏至日, 北半球昼长夜短, 故 C 正确。

答案: C

25. 我们生活中有许多现象蕴含着地理知识, 下列现象与地球公转有关的是 ( )

- A. 北京春暖、夏热、秋凉、冬冷, 四季分明
- B. 清晨安溪的妈妈给伦敦求学的玲玲打电话时, 玲玲正准备晚上就寝
- C. 某股票爱好者利用香港、纽约、伦敦之间的时差操作国际证券市场
- D. 当乌苏里江畔旭日东升时, 帕米尔高原却是繁星满天

解析: 北京春暖、夏热、秋凉、冬冷, 四季分明是地球的公转造成的, 故 A 正确; 清晨安溪的妈妈给伦敦求学的玲玲打电话时, 玲玲正准备晚上就寝, 说明了地方时的差异, 是地球的自转造成的, 故 B 错误; 某股票爱好者利用香港、纽约、伦敦之间的时差操作国际证券市场, 该现象是地球的自转造成的, 故 C 错误; 当乌苏里江畔旭日东升时, 帕米尔高原却是繁星满天是地球的自转造成的, 故 D 错误。

答案: A

二、综合题: (本大题共 6 题, 50 分)

26. (8 分) 读安溪某地等高线地形图 1 及地球公转图 2, 回答问题。

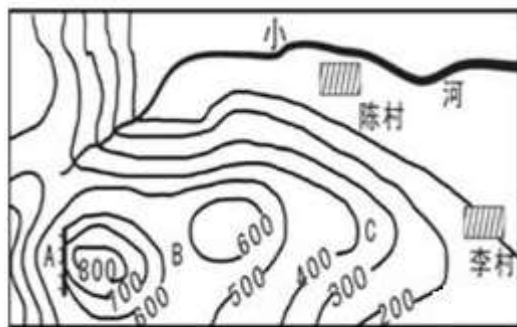


图 1

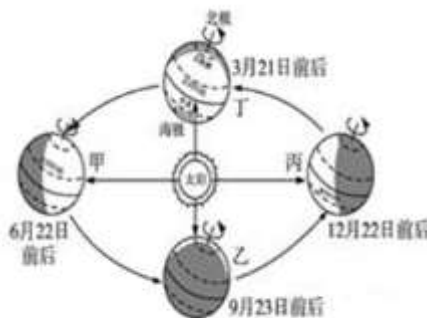


图 2

(1) 读图 1, 写出图中地形部位名称:

A. \_\_\_\_\_, B. \_\_\_\_\_, C. \_\_\_\_\_。

解析: 读图可知, 图 1 中 A 处是几条海拔高度不同的等高线重合的部位, 为陡崖; B 处位于两山顶之间相对低洼的部位, 为鞍部; C 处等高线向海拔低处凸, 为山脊。

答案: 陡崖 鞍部 山脊

(2) 图 1 中小河大体流向是 \_\_\_\_\_, 当地球公转到图 2 甲位置时, 正常年份小河正处 \_\_\_\_\_ (枯水期、汛期), 并且是居住该地的人们收割 \_\_\_\_\_ (粮食作物) 的季节。

解析: 根据“上北下南, 左西右东”判断, 图 1 中小河大体流向是自西向东流; 当地球公转到图 2 甲位置时, 为北半球的夏至日, 日期为 6 月 22 日前后, 北半球处于夏季; 正常年份



小河正处汛期，福建省安溪市位于南方地区，是该地的人们收割水稻的季节。

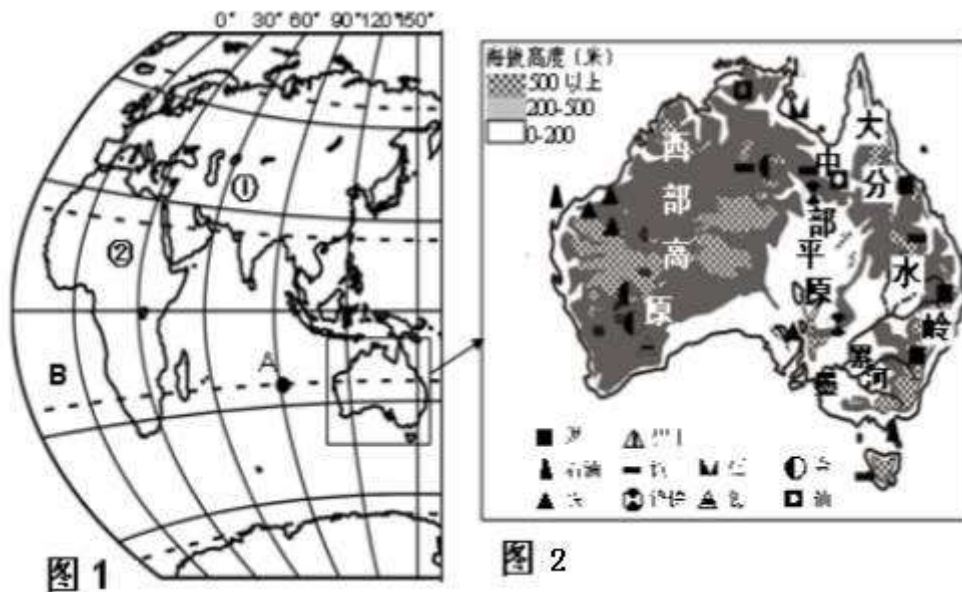
答案：自西向东流 汛期 水稻

(3)居住在图1所示地区的人们，正午时站在阳光下总会发现自己的影子朝\_\_\_\_\_方向，并且当地球公转到图2丙位置时，影子长度达最\_\_\_\_\_。

解析：居住在图1所示地区的人们，位于北回归线以北地区，正午时站在阳光下总会发现自己的影子朝北方向；当地球公转到图2丙位置时，为北半球的冬至日，北半球正午物体的影子最长。

答案：北 长

27. (9分)读图1和图2，回答问题。



(1)图1中A点的经纬度是(\_\_\_\_\_, \_\_\_\_\_); B所在的大洋是\_\_\_\_\_；澳大利亚大陆位于\_\_\_\_\_ (东或西)半球。

解析：依据经纬度的判读，图1中A点的经纬度是23.5° S, 90° E；依据位置，图中B所在的大洋是大西洋；东西半球分界线是20° W和160° E组成的经线圈，20° W以东、160° E以西为东半球，20° W以西、160° E以东为西半球。由此可判定，澳大利亚大陆位于东半球。

答案：23.5° S 90° E 大西洋 东

(2)①②所在大洲的分界线是\_\_\_\_\_运河。

解析：依据位置，①为亚洲，②为非洲，两洲的分界线是苏伊士运河。

答案：苏伊士

(3)据图2归纳澳大利亚大陆地形、地势特征：\_\_\_\_\_。(至少写两点)

解析：从图2可以看出，澳大利亚主要地形区为西部高原、中部平原（澳大利亚大盆地）、东部山地（大分水岭），地形以平原、高原为主，地势西部缓、中部低、东部高。

答案：澳大利亚主要地形区为西部高原、中部平原（澳大利亚大盆地）、东部山地（大分水岭），地形以平原、高原为主，地势西部缓中部低东部高

(4)读图 2 澳大利亚能被称为“坐在矿车上的国家”的自然原因是：\_\_\_\_\_。

解析：澳大利亚因能矿产资源丰富，被称为“坐在矿车上的国家”。

答案：矿产资源丰富

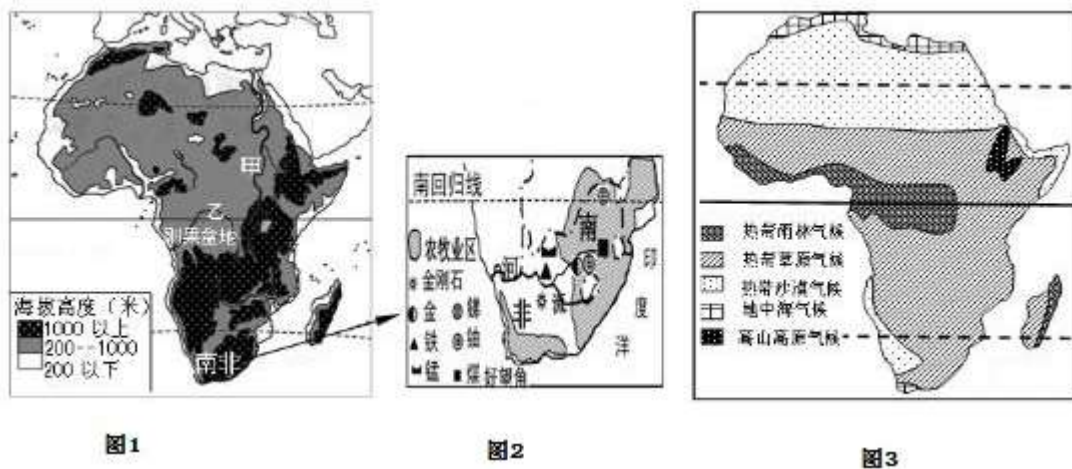
(5)墨累河流域是澳大利亚农业发达地区之一，请分析河流对农业生产的有利影响有：\_\_\_\_\_（至少一方面）。

解析：墨累河流域是澳大利亚农业发达地区之一，该河流对农业生产的有利影响表现在为农业生产提供灌溉水源，提供便利的河运，提供淡水养殖场所等。

答案：为农业生产提供灌溉水源，提供便利的河运，提供淡水养殖场所等

28.（8分）读“非洲地形、气候分布”图，结合材料，完成下列各题。

材料：南非矿产资源丰富，是世界五大矿产资源国之一，也是非洲经济最发达的国家。



(1)读图 3，非洲南北对称东西延伸面积最大的气候类型是\_\_\_\_\_气候，而热带雨林没有沿赤道向东延伸到海岸的主要影响因素是\_\_\_\_\_。

解析：热带草原气候区从北、东、南三面围绕着热带雨林气候区。非洲热带草原的面积在各大洲中最大，除发展畜牧业外，水热条件较好的地方多已开垦为耕地。图中刚果盆地是典型的热带雨林气候，此气候没有沿赤道向东延伸，是因为东部是高原，受地势的影响，东部形成热带草原气候区。

答案：热带草原 地形因素

(2)读图 1 和 3，甲、乙两河中，水量较大的河流是\_\_\_\_\_。从地形和气候两个方面说明理由：①\_\_\_\_\_；②\_\_\_\_\_。

解析：图中甲是尼罗河，乙是刚果河。水量较大的河流是刚果河。这是因为①乙河位于刚果盆地，盆地易汇水 ②乙河所在的区域属热带雨林气候，全年降水充沛，甲河流经区域降水较少。

答案：乙河 乙河位于刚果盆地，盆地易汇水 乙河所在的区域属热带雨林气候，全年降水充沛，甲河流经区域降水较少

(3)读图 1，描述南非的海陆位置：\_\_\_\_\_。

解析：南非位于非洲南部，东临印度洋，西临大西洋。

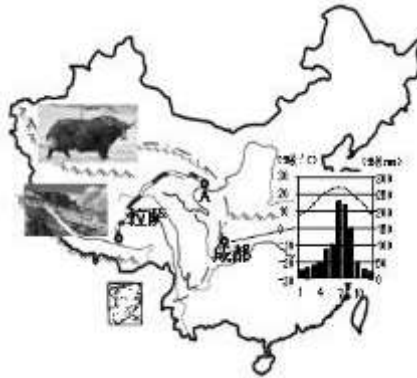
答案：南非位于非洲南部，东临印度洋，西临大西洋

(4)读图2，分析南非经济发展的有利条件\_\_\_\_\_。(至少写两点)

解析：南非经济发展的有利条件：①南非矿产资源丰富。②临海国，海运便利。③丰富的海洋资源。④绕经南非海域的好望角航线为沟通东西方交通的重要要道。

答案：①南非矿产资源丰富。②临海国，海运便利。③丰富的海洋资源。④绕经南非海域的好望角航线为沟通东西方交通的重要要道

29. (8分) 去年暑假小泉完成了一次“高原之旅”，读图，回答问题。



(1)暑假，小泉在青藏高原感受到那里显著的自然环境特征是\_\_\_\_\_。这和他家乡成都气候特征迥异，成都气候特征：夏季\_\_\_\_\_，冬季\_\_\_\_\_。

解析：地势对气候的影响，主要表现为随着地势的增高，气温降低。一般情况下，每增高100米，气温约下降0.6℃。青藏地区的主体是有“世界屋脊”之称的青藏高原，平均海拔4000米以上，地势高，气温低，形成高寒的气候特点；成都位于我国秦岭、淮河以南的东部季风区，是典型的亚热带季风气候，其最突出的特征是，冬季最冷月平均气温在0℃以上，夏季高温多雨（常说雨热同期），降水集中，四季分明。

答案：高寒 高温多雨 温暖湿润

(2)小泉在西藏品尝了当地喜凉粮食作物\_\_\_\_\_为主要原料加工的美食糌粑、酥油茶等。青藏地区河谷地带发展喜凉作物的有利条件是\_\_\_\_\_。(至少两方面)

解析：青藏地区农作物主要有青稞（大麦的一种）、豌豆、小麦、油菜等。由于河谷地带太阳光照强，昼夜温差大，青稞和小麦穗大粒饱满，单位面积产量比较高。藏族人民的主食是糌粑，即用青稞、豌豆炒熟磨制成的炒面。把糌粑用酥油茶或青稞酒拌和，用手捏成小团就可以吃了。牦牛是青藏地区代表性的畜种，它的毛厚而长，耐寒力强，体矮身健，善于爬山负重，被称为“高原之舟”。

答案：青稞 太阳光照强，昼夜温差大

(3)在西藏游玩藏传佛教圣地后，小泉登上火车准备到旅游终点站青海省的行政中心A\_\_\_\_\_市。途中见到“高原之舟”——\_\_\_\_\_，并发现被称为“中华水塔”的三江源自然保护区，存在草地沙化、水土流失、野生动物锐减等环境问题。为治理环境问题你的建议是\_\_\_\_\_。(至少1条，)

解析：青藏铁路东起A西宁，经格尔木、昆仑山口、沱沱河沿、安多、那曲、当雄，西至拉萨，全长1956千米。近年来，由于气候暖干化趋势、过度放牧以及人类活动，使三江源地区自然生态环境日趋恶化，三江源地区大片土地逐渐沙化。为了保护三江源地区的生态环境，国家设立了三江源自然保护区，采取的措施有退耕还草（林），全面禁猎，禁采砂金，休牧育草，实施天然林和天然牧场保护工程等。

答案：西宁 牦牛 退耕还草（林）、禁采砂金、休牧育草、实施天然林和天然牧场保护工程等

30.（8分）中共中央政治局2015年3月24日召开会议，审议通过广东、天津、福建自由贸易试验区总体方案、进一步深化上海自由贸易试验区改革开放方案。读图，回答问题。



(1)我国地形类型多样，西部以高原、山地、盆地为主，如A\_\_\_\_\_地、青藏高原、B\_\_\_\_\_山脉等。东部以平原，丘陵为主，如C\_\_\_\_\_平原、东南丘陵等。

解析：读图可得，A是准噶尔盆地，B是天山山脉，C是东北平原。

答案：准噶尔 天山 东北

(2)从地理角度看，四个自由贸易区有许多相同点：①相同地势条件是：位于第\_\_\_\_\_阶梯；②相同分布特点是：\_\_\_\_\_；③相同的气候特征是：\_\_\_\_\_。

解析：四个自由贸易区都位于我国地势第三阶梯，都分布在沿海地区，气候都雨热同期。

答案：三 沿海分 雨热同期

(3)连接了天津自由贸易区和上海自由贸易区的铁路线D是\_\_\_\_\_线。

解析：连接了天津自由贸易区和上海自由贸易区的铁路线D是京沪线。

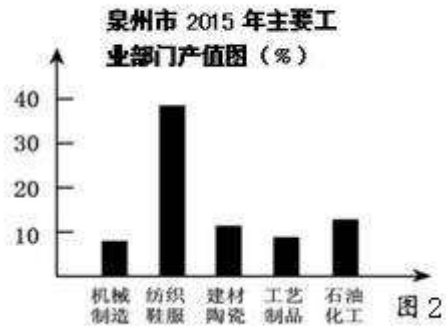
答案：京沪

(4)广东自由贸易区和其他三个自由贸易区相比，特有的经济发展有利条件：\_\_\_\_\_。

解析：广东自由贸易区和其他三个自由贸易区相比，特有的经济发展有利条件是靠近港澳，面向东南亚，有利于吸引外资等。

答案：靠近港澳，面向东南亚，有利于吸引外资等

31.（9分）阅读图表和资料，回答问题。



(1) 读“泉州市 2015 年主要工业部门产值图”（图 2），最大的重工业部门是\_\_\_\_\_。

解析：读“泉州市 2015 年主要工业部门产值图”可知，最大的重工业部门是石油化工。

答案：石油化工

(2) 各县市的工农业发展迅速，形成各具特色的地方产业，初步构成产业集群，被授予各种荣誉称号。把以下称号对应县市填在相应的空格中。

中国乌龙茶之乡 C \_\_\_\_\_，中国陶瓷之乡 A \_\_\_\_\_，中国建材之乡 D \_\_\_\_\_。

解析：各县市的工农业发展迅速，形成各具特色的地方产业，初步构成产业集群，被授予各种荣誉称号。其中，中国乌龙茶之乡是安溪，中国陶瓷之乡是德化，中国建材之乡是南安。

答案：安溪 德化 南安

(3) 泉州气候类型为\_\_\_\_\_。据图 1 可知泉州降水量自东南向西北逐渐\_\_\_\_\_（增多或减少），这种降水分布情况是受\_\_\_\_\_因素的影响。

解析：泉州气候类型为亚热带季风气候。据图 1 可知泉州西北部是山区，多降地形雨，因此降水量自东南向西北逐渐增多，这种降水分布情况是受地形因素的影响。

答案：亚热带季风气候 增多 地形

(4) 比较泉州的母亲河——晋江在安溪境内河段和南安境内至入海口河段水文特征的差异：

相同：\_\_\_\_\_。（一方面即可）

不同：\_\_\_\_\_。（一方面即可）

解析：比较泉州的母亲河——晋江在安溪境内河段和南安境内至入海口河段水文特征的差异：相同：汛期长、无结冰期等。不同：安溪境内河段比南安境内至入海口河段流量小、含沙量少等。

答案：汛期长、无结冰期等 安溪境内河段比南安境内至入海口河段流量小、含沙量少等