

绝密★启用前

四川省巴中市 2019 年中考地理试题

试卷副标题

考试范围：xxx；考试时间：100 分钟；命题人：xxx

题号	一	二	总分
得分			

注意事项：

1. 答题前填写好自己的姓名、班级、考号等信息
2. 请将答案正确填写在答题卡上

第 I 卷（选择题）

请点击修改第 I 卷的文字说明

评卷人	得分

一、选择题

根据刘慈欣同名小说改编的《流浪地球》讲述了未来太阳即将毁灭，人类开启“流浪地球”计划，试图带着地球一起逃离太阳系，寻找新家园的故事。该片于 2019 年大年初一公映，累计上映 90 天，内地总票房为 46.55 亿元，位列中国影史票房排行榜第二名。

运用相关知识回答下面小题。

1. 关于地球，毛泽东曾写到“坐地日行八万里”（1 里等于 0.5 千米），诗句中的“地”准确地说，是指（ ）
A. 本初子午线 B. 南极点 C. 赤道 D. 南北回归线
2. 地球要实现“流浪”共分为五步。第一步被称为地球的刹车时代，也就是要在地球上建造一万座转向发动机，迫使地球停止围绕自身的转动，即（ ）
A. 自转-自转的中心是地轴 B. 公转-公转的中心是太阳
C. 自转-自转的中心是太阳 D. 公转-公转的中心是地轴

【答案】

1. C
2. A

【解析】

1. 分析题干可知，“坐地日行”是指地球的自转一周的时间是一天，“八万里”指路程约为 8 万里（也就是 4 万千米），赤道是最大的纬线圈，长约 4 万千米，要想“坐地日行八万里”也就是 4 万千米，只有在赤道地区才有可能实现，故选 C。

2. 地球的自转是地球绕着地轴不停地旋转，地球自转的中心是地轴；地球的公转是地球绕着太阳不停地旋转，地球公转的中心是太阳；故选项 A 符合题意，故选 A。

2018 年 4 月 17 日，联合国教科文组织批准四川光雾山-诺水河国家地质公园成为联合国教科文组织世界地质公园。这是我省继四川自贡世界地质公园、四川兴文世界地质公园后的第 3 个、全国第 36 个世界地质公园。

运用相关知识回答下面小题。

3. 下列关于四川省的描述，有误的一项是（ ）

- A. 四川省简称川或蜀，行政中心成都
- B. 四川省境内有乐山大佛、大足石刻、秦始皇陵兵马俑等景观
- C. 四川省有蜀锦、蜀绣、川菜、川剧等文化名片
- D. 四川境内的成都平原被称为天府之国

4. 光雾山-诺水河国家地质公园成功升级为世界地质公园，对巴中有什么意义（ ）

- ①吸引游客，活跃旅游经济
- ②填补巴中在国际旅游上的空白
- ③能大力发展工业，增加财政收入
- ④提升巴中的知名度，扩大影响力

- A. ①②③ B. ①②④ C. ①③④ D. ②③④

5. 下列世界地质公园中属于甘肃省的是（ ）

- A. 敦煌世界地质公园 B. 昆仑山世界地质公园
- C. 秦岭终南山世界地质公园 D. 张家界世界地质公园

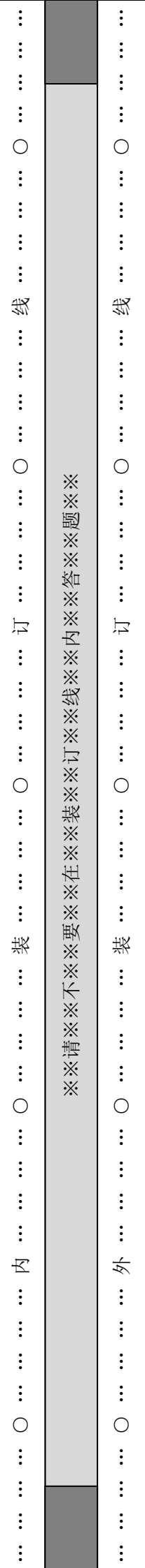
6. 关于世界地质公园的开发和保护，做法正确的是（ ）

- A. 封闭地质公园，禁止人员参观
- B. 为满足观光需求，在地质公园建大量高层建筑
- C. 对地质公园内的所有建筑予以拆除，以保护环境
- D. 适当限制参观人数，避免过度旅游

【答案】

- 3. B
- 4. B
- 5. A
- 6. D

【解析】



长江发源于青藏高原唐古拉山脉主峰各拉丹冬峰，干流先后流经青海、西藏等 11 个省级行政区域单位，最终注入东海。

10. 读图可知，图中为长江流域，长江发源于青藏高原的唐古拉山脉，自西向东注入了东海；故 B 正确，ACD 错误。

11. 长江是中国东西向交通的大动脉，自古以来就享有“黄金水道”的盛誉。近半个世纪以来，经过航道综合整治，加之三峡、葛洲坝等水利枢纽的建设，长江的通航条件得到显著改善。目前，长江干支流通航里程超过 7 万千米，货运量占全国内河货运量的 60% 左右；故选：D。

12. 长江上游应发展林业，保持水土，涵养水源，故 A 正确；长江中下游地区河湖众多，退耕还湖，增大河湖的蓄洪能力，可发展淡水养殖业，故 BCD 错误；依据题意，故选：A。

【点睛】

考查长江的概况及航运价值，要理解记忆。

2019 年 1 月 25 日，巴中市气象台发布，受北方强冷空气与寒潮影响，巴中市通江县出现最低气温 -7.2°C ，该温度是自建站以来的最低温。

运用相关知识回答下面小题。





13. “未来两天内将有寒潮影响本市，气温下降 $6^{\circ}\text{C}\sim 8^{\circ}\text{C}$ ，提醒市民注意增添衣服，预防感冒”，这说明天气与什么密切相关（ ）

- A. 农业生产 B. 交通 C. 人们生活 D. 旅游

14. 下列天气符号所示天气，每年夏秋季节，对我国东南沿海地区影响较大的气象灾害是（ ）

- A.  B.  C.  D. 

15. 每年的 6 月 5 日是联合国确定的“世界环境日”，今年的主题是“地球需要你：团结起来应对气候变化”。下列漫画最能反映气候变暖的是（ ）

- A. 
- B. 
- C. 
- D. 

【答案】

- 13. C
- 14. B
- 15. B

【解析】

13. 所谓寒潮，就是北方的冷空气大规模地向南侵袭我国，造成大范围急剧降温和偏北大风的天气过程；阅读题干可知，寒潮影响着人们的生活，故选项 C 符合题意；选项 A、B、D 不符合题意，故选 C。

14. 读图可知：A 表示的天气是小雪，B 表示的天气是台风及其中心，C 表示的天气是沙尘暴，D 表示的天气是雷雨；每年夏秋季节，对我国东南沿海地区影响较大的气象灾害是台风，故选项 B 符合题意，故选 B。

15. 近 50 年来，人类在生产、生活过程中排放的二氧化碳等温室气体急剧增加，使全球气温升高，地球变暖的一个征兆是南北极地区永久冰雪的快速消融，水平面上升，故选 B。

2019 年 3 月 5 日，第十三届全国人民代表大会第二次会议在北京人民大会堂开幕。参加本次会议的人大代表来自各个民族。

运用相关知识回答下面小题。

16. 2019 年 3 月 5 日-15 日，在北京召开了“全国人民代表大会”和“中国人民政治协商会议”，这体现了北京的城市职能是（ ）

- A.全国政治中心 B.全国经济中心 C.全国文化中心 D.国际交往中心

17. 我国是一个多民族的大家庭。下列关于我国各民族的叙述，正确的是（ ）

- A.共有 56 个少数民族 B.喝青稞酒、酥油茶是藏族传统的饮食习惯
- C.泼水节是白族传统节日 D.汉族主要分布在西南、西北、东北等地

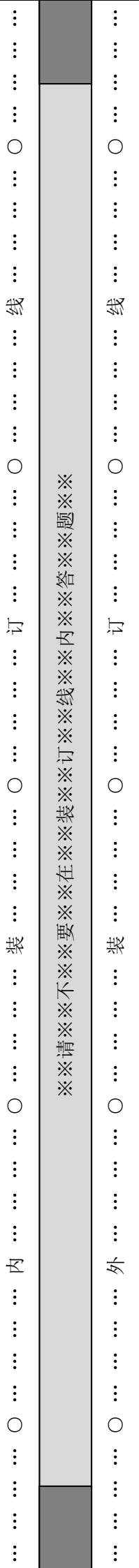
【答案】

- 16. A
- 17. B

【解析】

【分析】

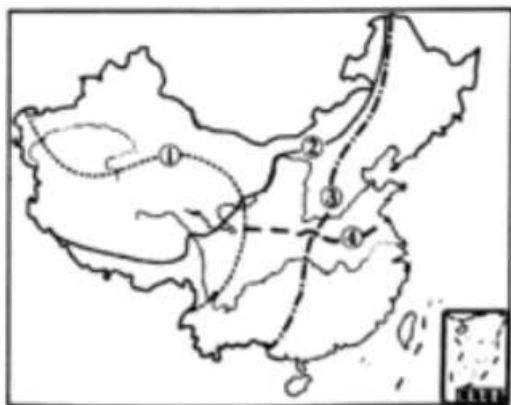
北京是我国的首都，是我国的政治中心和文化中心，位于华北平原西北边缘；我国是一个多民族的国家，除汉族外，其余 55 个是少数民族。



16. 北京是全国政治、经济、文化、交通、科研、教育和国际交往的中心；对于未来的发展北京也做出了长远规划，北京市未来的建设发展目标定位于：国家首都（政治中心）、世界城市（国际交往中心）、文化名城（文化中心），并首次提出“宜居城市”概念；全国政协会议以及全国人民代表大会在北京召开，体现了北京的政治中心城市职能，故选 A。

17. 我国共有 55 个少数民族；喝青稞酒、酥油茶是藏族传统的饮食习惯；泼水节也是傣历新年，是我国傣族重要的传统节日；少数民族主要分布在西南、西北、东北等地，故选 B。

下图示意我国中药地理界线分布，读下图完成下列各题。



18. 以下山脉位于图中界线①上的是

- A. 昆仑山脉
- B. 大兴安岭
- C. 天山山脉
- D. 太行山脉

19. 途中表示我国季风区与非季风区界线的是

- A. ①
- B. ②
- C. ③
- D. ④

20. 以下分界线与图中界线④大致吻合的是

- A. 400 毫米年等降水量线
- B. 农耕区与牧区的分界线
- C. 1 月平均气温 0℃ 等温线
- D. 暖温带与中温带的分界线

【答案】

18. A

19. B

20. C

【解析】

【分析】

我国地域辽阔，各地区之间受自然条件和社会经济条件的影响，存在很大的差异，根据气候和地形的差异，将我国划分这南方地区、北方地区、西北地区和青藏地区。

第 II 卷（非选择题）

请点击修改第 II 卷的文字说明

评卷人	得分

二、解答题

21. 读中国地形图和我国地势三级阶梯示意图，回答下列问题。



- 写出图中字母所代表的地形区名称。
A _____ 高原； C _____ 盆地
- B 盆地里有我国最长的内流河 _____
- 竺可桢先生评论中国有一条山脉，“此山脉南北二区域间之差异，盖以气候显然不同，遂使华北、华南植物之种类，旅行之方式，以及人民之特性迥然有别。”这条山脉就是 _____。
- 从图中可以看出我国地势特征为 _____，呈三级阶梯状分布。
- 长江中下游平原是我国著名的“鱼米之乡”，它位于 _____ 处。（填阶梯图中相应的数字序号）

【答案】 青藏 四川 塔里木河 秦岭 西高东低 ④

【解析】

【详解】

- 由图可知，图中 A 是青藏高原；C 是四川盆地。
- B 表示的塔里木盆地里有我国最长的内流河—塔里木河。
- 竺可桢先生评论中国的这座山脉，“此山脉南北二区域间之差异，盖以气候显然

不同，遂使华北、华南植物之种类，旅行之方式，以及人民之特性迥然有别。”这条山脉就是秦岭。

(4) 从图中的剖面图可以看出，我国地势特征为西高东低，呈三级阶梯状分布。

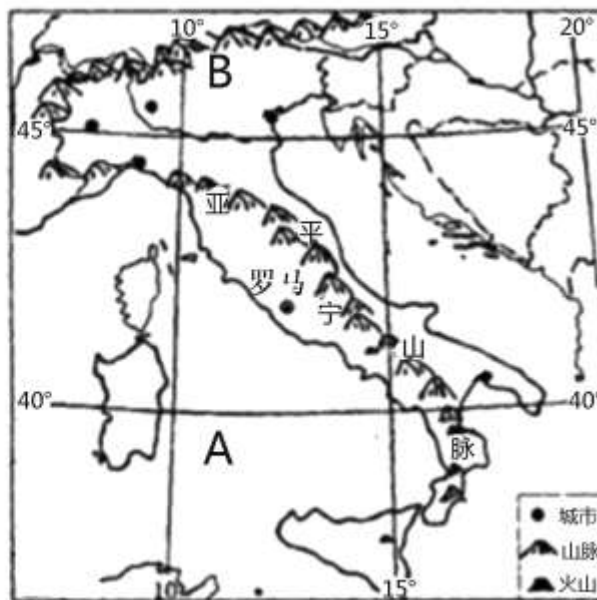
(5) 长江中下游平原处于淮河以南，属于亚热带季风气候，是我国著名的“鱼米之乡”，它位于④处。

【点睛】

本题考查我国地形地势有关知识，要知道地形地势特征给我国造成的影响。

22. 2019年3月21日，国家主席习近平出访意大利。读材料及欧洲西部气候类型分布图与意大利示意图，回答下列问题。

材料：



(1) 意大利濒临 A _____ 海，其主要气候类型为 _____。

(2) 意大利北部为欧洲著名的 B _____ 山脉。

(3) 意大利旅游资源丰富，下列旅游景点位于该国的是 _____。



A. 埃菲尔铁塔



B. 罗马斗兽场



C. 悉尼歌剧院



D. 迪拜帆船酒店

【答案】 地中海 地中海气候 阿尔卑斯 B

【解析】

【详解】

(1) 由图可知，意大利濒临 A 是南部的地中海，地中海沿岸其气候类型为地中海气候。

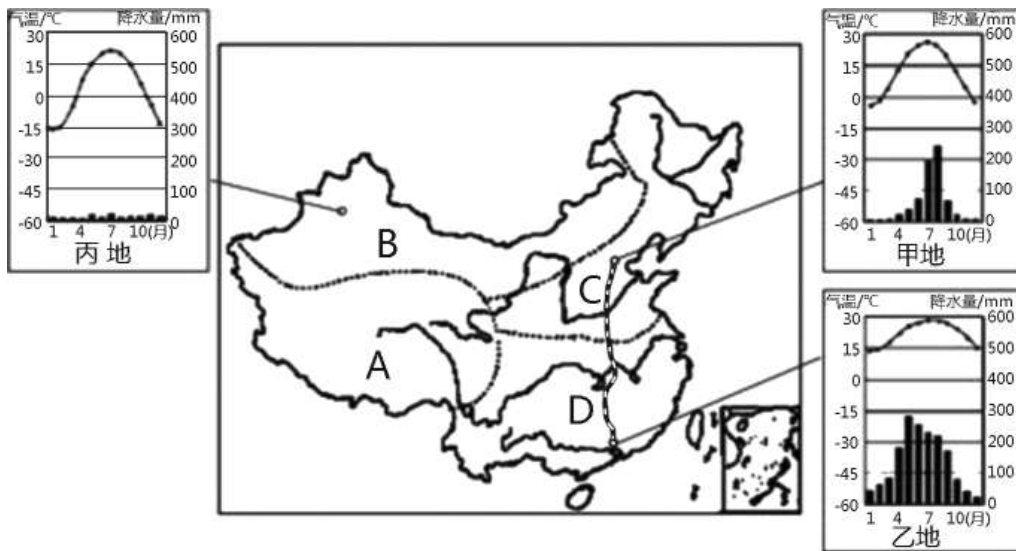
(2) 意大利北部为欧洲著名的 B 是阿尔卑斯山脉，是欧洲最高大的山脉。

(3) 旅游资源所属的国家分别是：A 是法国的埃菲尔铁塔，B 是意大利的古罗马斗兽场，C 是澳大利亚的悉尼歌剧院，D 是阿拉伯联合酋长国的迪拜帆船酒店，依据题意，故选 B。

【点睛】

本题考查欧洲西部及意大利有关知识，要识记一些欧洲西部的旅游景点。

23. 读我国四大地理区域示意图及相关气候资料图，回答问题。



- (1) 图中区域气候高寒同时太阳辐射强的是_____。(填字母)
- (2) 古代劳动人民智慧的结晶-坎儿井在哪个区域。_____ (填字母)。
- (3) 图中 C 区域的耕地类型是 _____；从干湿程度划分，D 区域属于 _____地区。
- (4) 甲、乙、丙三地，一月平均气温在 0℃ 以上的是 _____地；造成甲、丙两地降水差异的主要影响因素是 _____。(纬度位置、海陆位置、地形)

【答案】 A B 旱地 湿润 乙 海陆位置

【解析】

【分析】

在中国地图上，把秦岭-淮河一线、400 毫米年等降水量线和青藏高原边缘线（昆仑山、祁连山、横断山脉）这三条重要的地理界线结合起来，并根据实际情况作一定的调整，就把我国划分为四大地理区域。

【详解】

- (1) 四大地理区域中，气候高寒、同时太阳辐射强的是 A 表示的青藏地区。
- (2) 古代劳动人民智慧的结晶-坎儿井位于新疆地区，隶属于 B 表示的西北地区。
- (3) 图中 C 表示的北方地区的耕地类型是旱地；从干湿程度划分，D 表示的南方地区属于湿润地区。

