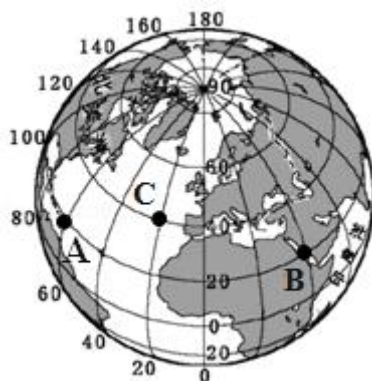


2018年广东省中考模拟试卷地理

一、单项选择题（每小题2分，共100分）

1. 读全球经纬网分布图，下列说法正确的是（ ）



- A. C 地处太平洋
- B. B 点在 A 点的正西方
- C. 图中的陆地面积大于海洋面积
- D. A 点的经纬度是 (20° N, 60° W)

解析：本题考查经纬网的判读。读图分析可知：图中 C 地处大西洋，故 A 错误。B 点在 A 点的正东方向，故 B 错误。图中的陆地面积小于海洋面积，故 C 错误。A 点的经纬度是 20° N、60° W，故 D 正确。

答案：D

2016年10月19日3时31分，神舟十一号载人飞船与天宫二号空间实验室成功实现自动交会对接，这是天宫二号自9月15日发射入轨以来，与神舟飞船开展的首次交会对接。6时32分，景海鹏、陈冬以飘浮姿态先后进入天宫二号空间实验室，顺利实现入驻。回答下列问题。

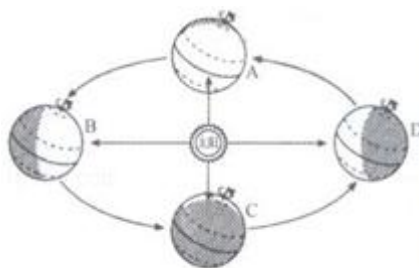


图1




图2

2. 天宫二号入轨时，地球处于公转轨道的（ ）

- A. AB 段
- B. BC 段
- C. CD 段
- D. DA 段

解析：本题考查地球公转示意图。9月15日地球运行在夏至日与秋分日即 BC 之间，此时太阳直射北半球。

答案：B

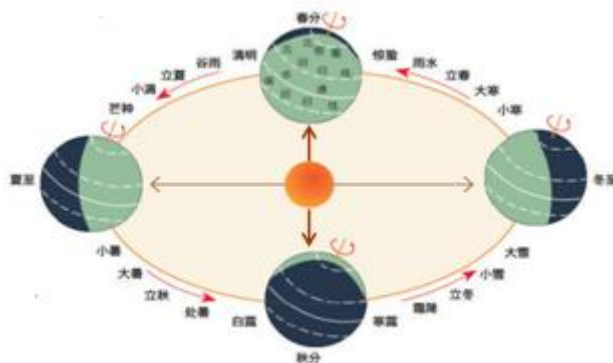
3. 两位宇航员入驻天宫二号空间实验室时，下列说法正确的是（ ）

- A. 太阳直射点位于北半球
- B. 广州正午物体影子达到一年中最短
- C. 广州此时昼短夜长
- D. 此时是北半球的冬季

解析：本题考查昼夜长短与季节的关系。两位宇航员入驻天宫二号空间实验室时间是 10 月 19 日 6 时 32 分，此时地球运行在秋分日与冬至日之间，太阳直射南半球，广州昼短夜长，此时是北半球的秋季，广州正午物体影子达到一年中最短的季节是夏季，综上所述故 C 正确。

答案：C

中国“二十四节气”被正式列入联合国教科文组织人类非物质文化遗产代表作名录。二十四节气能反映季节的变化，指导农事活动。读二十四节气分布图，回答下列问题。



4. 下列说法正确的是 ()
- A. 立春时，太阳直射赤道，全球昼夜等长
 - B. 立夏时，太阳直射点在往北移动
 - C. 立秋时，广州昼短夜长
 - D. 立冬时，北京的正午太阳高度达到一年中的最高

解析：本题考查不同节气昼夜长短的特点等。读图可得，立春位于冬至日与春分日之间，此时太阳直射南半球，故 A 错误；立夏位于春分日与夏至日之间，此时太阳直射点由赤道向北回归线即向北移动，故 B 正确；立秋位于夏至日与秋分日之间，此时太阳直射北半球，广州昼长夜短，故 C 错误；立冬位于秋分日与冬至日之间，此时北京的正午太阳高度较小，故 D 错误。

答案：B

5. 在下列各组节气中，广州的昼长时间最接近的一组是 ()
- A. 清明、白露
 - B. 立秋、立冬
 - C. 霜降、冬至
 - D. 雨水、夏至

解析：本题考查昼夜长短与季节的关系。读图可得，清明接近春分日，此时昼夜长短特点是接近昼夜等长，白露靠近秋分日，此时也接近昼夜等长，故 A 正确；立秋昼长夜短，立冬昼短夜长，故 B 错误；霜降昼短夜长，冬至昼最短，夜最长，故 C 错误；雨水昼短夜长，夏至昼长夜短，故 D 错误。

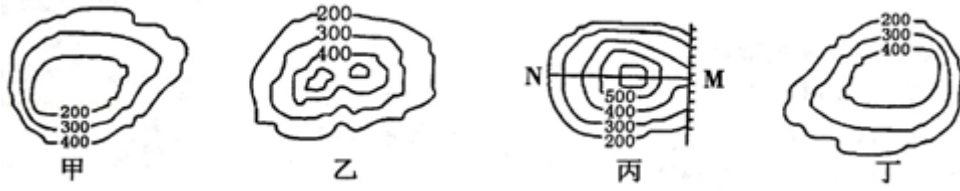
答案：A

6. 二十四节气反映了我国的自然地理环境特征，下列叙述正确的是 ()
- A. 立春前后，长江中下游出现梅雨天气
 - B. 大暑前后，我省处于一年中最热时期，学生正处于暑假的快乐时光
 - C. 霜降前后，冷空气活动逐渐减少，北方升温明显
 - D. 大雪前后，海南省多发生寒潮，降雪量达最大

解析：本题考查了地球公转产生的地理现象。“二十四节气”反映了我国的自然地理环境特征，长江中下游出现梅雨天气是在夏初，不是立春前后；大暑前后，我省处于一年中最热时期，学生正处于暑假的快乐时光；霜降前后，冷空气活动逐渐增加，北方降温明显；海南地处热带，没有降雪。

答案：B

读“等高线地形图”，完成下列问题。



7. 甲、乙、丙、丁中表示盆地的是（ ）

- A. 甲
- B. 乙
- C. 丙
- D. 丁

解析：本题考查等高线地形图的判读。依据等高线地形图中地形部位的判读，读图分析可知，甲等高线闭合且等高线数值中间低四周高为盆地，乙两山顶之间相对低洼的部位为鞍部，丙等高线重合的地方为陡崖，丁等高线闭合且等高线数值中间高四周低为山顶。

答案：A

8. 下列说法正确的是（ ）

- A. 甲图缓坡在南部
- B. 乙图山谷在南部
- C. 丙图陡崖在西部
- D. MN 线地形起伏状况是“高一低一高”

解析：本题考查等高线地形图的判读。读图分析可知：甲图缓坡在北部，故 A 错误。乙图山谷在南部，故 B 正确。丙图陡崖在东部，故 C 错误。MN 线地形起伏状况是“低—高一—低”，故 D 错误。

答案：B

下面图 1 为某班一次地理野外实习的观测点分布图，①—④为观测点编号。图 2 为该班某小组在其中一个观测点所做的记录卡片。读图，完成下列问题。



图1

图2

9. 图示区域等高距是（ ）

- A. 100 米
- B. 200 米
- C. 400 米
- D. 800 米

解析：本题考查等高线地形图的判读。等高距是指相邻两条等高线之间的高度差。读图分析可知，图示等高距为 100 米。

答案：A

10. 该班同学使用“海拔测量仪”对四个村庄的海拔进行测量，验证了左图四个村庄的海拔。其中海拔最高的是（ ）

- A. 甲
- B. 乙
- C. 丙
- D. 丁

解析：本题考查等高线地形图的判读。读图分析可知，图中等高距为100米；甲村海拔位于400—500米之间；乙村海拔约为400米；丙村海拔约为300米；丁村海拔约为600米；由此可知，甲、乙、丙、丁四个村庄中海拔最高的是丁村。

答案：D

11. 根据右图中记录的信息判断，卡片中观测点编号应为左图中的（ ）


- A. ①
- B. ②
- C. ③
- D. ④

解析：本题考查等高线地形图的判读。从等高线地形图可看出，图中等高距为100米，据此可知，①地海拔在400—500米之间，②、④两地海拔在300—400米之间，③地海拔在500—600米之间，故A、C不符合题意；②处等高线向海拔高处凸出为山谷，④处等高线向海拔低处凸出为山脊，山谷为集水线，能形成河流，山脊为分水线，不能形成河流，因此考查河流受污染的情况，应该是②处；根据指向标箭头指向北方确定方向，图中②地位于山峰A的东南方。

答案：B

2017年3月23日世界气象日将“观云识天”作为主题，以突出表现云在天气气候预测和水循环中的巨大作用。回答下列问题。

12. 有关天气与气候说法正确的是（ ）

- A. 今天蓝天白云，风和日丽，描述的是气候状况
- B. 卫星云图中白色表示云区
- C.  表示多云转小雨
- D. 广州夏季炎热干燥，冬季温和多雨

解析：本题考查有关天气与气候的相关知识点。今天蓝天白云，风和日丽，描述的是天气状况，A错误；卫星云图中白色表示云区，B正确；选项中天气符号表示的是阴转小雨，C错误；广州夏季高温多雨，冬季温和少雨，D错误。

答案：B

13. 读“中国城市天气预报图（2011年7月2日）”，下列说法错误的是（ ）



- A. 当天天气南方以晴和多云，北方以雨天为主
- B. 当天预报图表示的季节是夏季
- C. 当天广州的天气以多云为主，温差为 8℃
- D. 当天北京的天气是中雨转阴天，最低气温 25℃，最高气温 27℃

解析：本题主要考查常用的天气预报符号的解读。读图可知：当天天气南方以晴和多云，北方以雨天为主，A 正确；当天预报图表示的季节是夏季，全国普遍高温，B 正确；当天广州的天气以多云为主，温差为 8℃（34—26=8），C 正确；当天北京的天气是中雨转多云，最低气温 25℃，最高气温 27℃，D 错误。

答案：D

14. 2016 年 1 月 1 日，我国实行全面放开二孩政策。二孩政策有利于（ ）

- ①优化人口结构
- ②增加劳动力供给
- ③减缓人口老龄化压力
- ④减少地区的经济差异
- ⑤减缓人口的增长速度

- A. ①②③
- B. ①②④
- C. ③④⑤
- D. ①②⑤

解析：考查我国的人口政策。20 世纪 70 年代以来，我国实行了计划生育，在控制人口数量方面取得巨大成就，但同时也出现劳动力减少、社会养老负担加重，人口老龄化等问题。2015 年 10 月 29 日党的十八届五中全会决定：坚持计划生育的基本国策，完善人口发展战略，全面实施一对夫妇可生育两个孩子政策，有利于优化人口结构、增加劳动力供给、减缓人口老龄化压力，逐步调整完善现行的生育政策，促进人口长期均衡发展。

答案：A

2020 年夏季奥运会将在日本东京举行，根据下面表格信息，完成下列问题。

城市	纬度	经度
2020 年日本的东京	35.7° N	139.7° E
2016 年巴西的里约热内卢	22.9° S	43.2° W
2012 年英国的伦敦	51.5° N	0.1° W
2008 年中国的北京	39.9° N	116.3° E

15. 四个城市中，经度最接近本初子午线的是（ ）

- A. 东京
- B. 里约热内卢
- C. 伦敦
- D. 北京

解析：本题考查重要的经纬线。本初子午线是一条特殊的经线，其经度是 0°，该线是一条穿过英国格林尼治天文台旧址的经线。由此可判定，四个城市中，经度最接近本初子午线的是伦敦。

答案：C

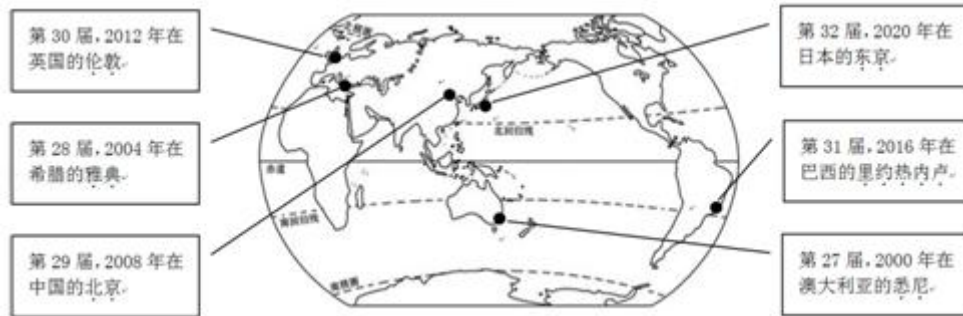
16. 下面描述正确的是（ ）

- A. 东京在北京东南方向
- B. 里约热内卢位于南半球和东半球
- C. 四个城市所在的大洲都不一样
- D. 伦敦地处高纬度，北温带

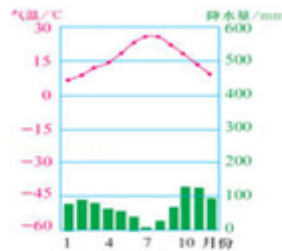
解析：本题考查利用经纬网确定任意点的位置。东京的经纬度是 35.7° N、139.7° E，北京的经纬度是 39.9° N、116.3° E；依据经纬网判定方向，东京在北京东南方向，故 A 正确。东西半球分界线是 20° W 和 160° E 组成的经线圈，20° W 以东、160° E 以西为东半球，

20° W 以西、160° E 以东为西半球。南北半球的划分是以 0° 纬线即赤道为界，赤道以北为北半球，以南为南半球。由此可判定，里约热内卢（22.9° S、43.2° W）位于南半球、西半球，故 B 错误。四个城市中，东京和北京均位于亚洲，故 C 错误。纬度划分，0° ~30° 为低纬度地区，30° ~60° 为中纬度地区，60° ~90° 为高纬度地区。热带的纬度范围是 23.5° N—23.5° S，北温带的纬度范围是 23.5° N—66.5° N，北寒带的纬度范围是 66.5° N—90° N，南温带的纬度范围是 23.5° S—66.5° S，南寒带的纬度范围是 66.5° S—90° S。由此可判定，伦敦（51.5° N、0.1° W）位于中纬度、北温带，故 D 错误。
 答案：A

根据第 27~32 届夏季奥运会举办地分布图，回答下列问题。



17. 根据下面气温曲线和降水柱状图的特点，判断下列城市的气候特点与之相似的是（ ）



- A. 悉尼
- B. 雅典
- C. 北京
- D. 东京

解析：此题考查气候资料图的判读。图中的气候应该是冬季温和多雨，夏季炎热干燥的地中海气候，四城市中，雅典属于地中海气候。

答案：B

18. 北京和东京同属季风气候，但北京比东京降水少，主要原因是（ ）

- A. 纬度位置
- B. 海陆位置
- C. 地形影响
- D. 人为影响

解析：本题考查了影响气候的主要因素。北京和东京纬度大致相当，但东京靠近海洋，气候具有较强的海洋性特点，表现为冬季比较温暖，夏季比较凉爽，且降水明显比北京多。

答案：B

19. 下列说法正确的是（ ）

- A. 悉尼位于北京的西北部
- B. 东京、悉尼和里约热内卢属于太平洋沿岸城市
- C. 英国和希腊属于欧洲西部的国家
- D. 巴西的黑白混血种人占本国人口数一半多

解析：读图可知：悉尼位于北京的东南部，A 错误；东京、悉尼属于太平洋沿岸城市，里约热内卢属于大西洋沿岸的城市，B 错误；英国和希腊属于欧洲西部的国家，C 正确；巴西的白种人占一半以上，混血种人占本国人口 1/3 多，D 错误。

答案：C

英国首相于 2017 年 3 月 29 日致函欧盟，正式开启英国“脱欧”程序。读“英国和日本示意图”，回答下列问题。



20. 关于两国国情共同特征的叙述，错误的是（ ）

- A. 英国地处欧洲西部，日本地处东亚
- B. 两地气候深受海洋影响，英国属温带海洋性气候，日本属亚热带、温带季风气候
- C. 都是发达国家，畜牧业是英国的经济支柱，服务业是日本的经济支柱
- D. 英国伦敦的白金汉宫和日本的富士山都是本国著名旅游景点

解析：本题考查英国与日本的地理特征。英国地处欧洲西部，日本地处东亚，A 正确；两地气候深受海洋影响。英国属温带海洋性气候，日本属亚热带、温带季风气候，B 正确；都是发达国家，工业都是国家的经济支柱，C 错误；英国伦敦的白金汉宫和日本的富士山都是本国著名旅游景点，D 正确。

答案：C

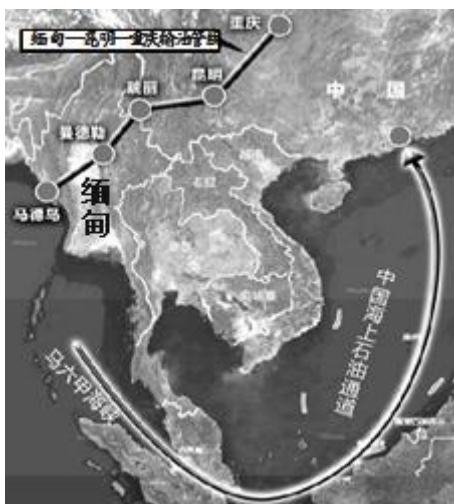
21. 据图判断下列叙述正确的是（ ）

- A. 英国是大西洋东岸的岛国，日本是太平洋东岸的岛国
- B. 东京的时间比伦敦要晚
- C. 地形都以山地为主
- D. 两国主要地处北温带

解析：本题考查英国与日本的地理特征。英国是大西洋东岸的岛国，日本是太平洋西岸的岛国，A 错误；东京位于第九区，伦敦位于中时区，东京的时间比伦敦要早，B 错误；英国地形以平原为主，日本地形以山地、丘陵为主，C 错误；英国和日本两国都主要地处北温带，D 正确。

答案：D

2017 年 4 月 10 日，在中缅两国元首的共同见证下，《中缅原油管道运输协议》在北京正式签署。报道称“这将为我国进口中东原油提供更直接的途径，从而减轻对马六甲海峡的依赖”，回答下列问题。



22. 下列说法正确的是（ ）

- A. 缅甸属于南亚国家
- B. 我国的广西和缅甸接壤
- C. “缅甸—昆明—重庆”石油输送线路采用管道运输方式
- D. 缅甸南临太平洋

解析：考查亚洲的主要国家。缅甸是亚洲（东南亚）的主要国家。A. 缅甸属于东南亚国家，故不符合题意；B. 我国的云南省和缅甸接壤，故不符合题意；C. “缅甸—昆明—重庆”石油输送线路采用管道运输方式，故符合题意；D. 缅甸南临印度洋，故不符合题意。

答案：C

23. 中缅石油管道的建成对两国的积极作用说法错误的是（ ）

- A. 有利于中国西南地区 and 缅甸的经济发展
- B. 中国从中东进口的石油可以完全通过中缅石油管道输送到国内，大大缩短运输距离
- C. 中国实现油气进口交通运输方式的多元化
- D. 中国的油气进口将减轻了对马六甲海峡的依赖，对我国的能源安全有着重要意义

解析：由图可知中缅石油管道向北经过云贵高原到达四川盆地的重庆市，应该有利于拉动我国西南地区和缅甸的经济发展。故 A 不符合题意；目前，我国石油的进口主要通过马六甲海峡通过海上到达，而中缅石油管道可以避开马六甲海峡，通过陆路运输到达我国境内，不仅仅是缩短运输距离，重要的是减轻了对马六甲海峡的依赖，实现石油进口途径多元化，保障了我国能源安全。故 B 符合题意，CD 不符合题意。

答案：B

博鳌亚洲论坛 2017 年年会于 23 日至 26 日在海南博鳌召开，主题为“直面全球化与自由贸易的未来”。据此回答下列问题。



博鳌亚洲论坛标志

24. 下列对亚洲的叙述，正确的是（ ）

- A. 亚洲地势起伏很大，中部高，四周低
- B. 亚洲气候复杂多样，海洋性气候分布广和季风气候显著
- C. 亚洲的人口数量和人口自然增长率在各大洲中都是最大
- D. 亚洲绝大多数国家都是发达国家

解析：考查亚洲的特点。A、亚洲地势起伏大，且中部高，四周低。“世界屋脊”青藏高原雄踞亚洲中部，喜马拉雅山脉等众多高大的山脉，以帕米尔高原为中心向四周延伸。故 A

符合题意；B、亚洲面积广大，地跨寒、温、热三带，且地形复杂多样，除温带海洋性气候外，世界上的各种气候在亚洲都有分布。故B不符合题意；C、非洲是人口自然增长率最高的大洲。故C不符合题意；D、亚洲绝大多数国家都是发展中国家，日本是亚洲唯一的发达国家。故D不符合题意。

答案：A

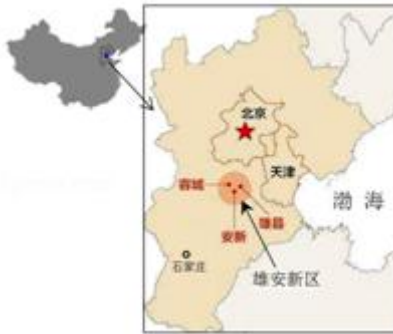
25. 某品牌手机配件来源多地，处理器来自韩国，电池来自中国，创意营销来自美国……这种现象体现了（ ）

- A. 国际商业竞争越来越激烈
- B. 国际合作与经济全球化
- C. 国家之间和平共处
- D. 国家之间经济发展相互独立

解析：本题考查的是国际合作与经济全球化。某品牌手机配件来源多地，处理器来自韩国，电池来自中国，创意营销来自美国，这些事例说明各国各地区的经济联系越来越紧密，产品生产的分工协作越来越显著，并朝着国际合作与经济全球化方向发展。

答案：B

2017年4月1日中共中央、国务院印发通知，决定设立河北雄安新区。新区规划范围涉及河北省雄县、容城、安新3县及周边部分区域，未来承担着疏解北京非首都功能，推进京津冀协同发展，是“千年大计、国家大事”。结合如图，回答下列问题。



26. 雄安新区所在省区的简称是（ ）

- A. 晋
- B. 冀
- C. 鲁
- D. 豫

解析：本题考查我国省区的简称。2017年4月1日，中共中央、国务院印发通知，决定设立“雄安新区”。“雄安新区”位于河北省，该省区简称为冀。

答案：B

27. 雄安新区经济发展的有利因素不包括（ ）

- A. 地处华北平原，地势低平
- B. 靠近渤海，水资源丰富
- C. 靠近北京和天津，交通便利
- D. 国家政策支持

解析：本题考查雄安新区的概况。雄安新区地处北方地区，该区域年降水量较少，人口众多，工农业发达，需水量大，因此该地区经济发展面临最大的限制性条件是淡水资源短缺。故B符合题意。

答案：B

28. 伴随着首都北京功能定位的调整，一些非首都核心功能部门将迁往雄安新区，这对北京的影响是（ ）

- ①政治文化中心地位将显著降低
- ②交通压力将有所下降
- ③城市空气质量将进一步提高
- ④住房紧张状况将有所缓解

- A. ①②③
- B. ①②④
- C. ②③④
- D. ①③④

解析：本题主要考查北京的自然环境问题。随着经济的繁荣和城市规模的日益扩大，北京面临着许多发展中的问题，如浮尘、扬沙和沙尘暴天气表现加剧，水资源匮乏，交通拥挤、住房紧张、空气污染严重等，一些非首都核心功能部门将迁往周边城市，可以大大缓解交通压力、提高城市空气质量、缓解住房紧张状况。

答案：C

经过数年建设，上海迪士尼乐园于2016年6月16日正式开门迎客，上海迪士尼乐园是全球第6个迪士尼乐园。回答下列问题。



29. 迪士尼乐园选择落户上海的原因不包括（ ）

- A. 海陆空交通便利
- B. 周边城市、人口稠密，临近客源市场
- C. 地处珠江三角洲地区，经济发达
- D. 我国最大的综合性工业城市，基础设施完善，接待能力强

解析：考查上海的地理位置，和经济发展状况。迪士尼乐园选择上海落户，这也标志着上海经济发展的高度，上海地处长江三角洲地区，经济发达，是我国最大的工业城市，故C符合题意，ABD叙述正确，不符合题意。

答案：C

30. 上海迪士尼乐园建成将对上海市带来的有利影响（ ）

- ①促进文化交流和融合
- ②丰富上海的旅游资源
- ③带动相关产业（酒店、交通、餐饮等）发展
- ④不利于上海的经济结构转型

- A. ①②③
- B. ②③④
- C. ①②④
- D. ①③④

解析：该题考查了迪斯尼乐园建成带来的影响。上海迪士尼乐园作为一种大型的旅游综合体，它对浦东新区、上海市乃至长三角的区域经济都将产生较大影响；上海迪士尼乐园的建成，将会提升区域的文化形象，丰富上海的旅游资源，促进文化交流和融合，成为上海的一张名片，也将体现整个地区的面貌，为本地的经济发展带来新的发展机会，带动相关产业（酒店。交通。餐饮等）发展。

答案：A

2016年7月17日，在土耳其举行的联合国教科文组织世界遗产委员会第40届大会上，中国广西左江花山岩画和湖北神农架被正式列入《世界遗产名录》，回答下列问题。

31. 表示神农架所在省份的是 ()



解析：本题主要考查我国省区的轮廓。读图分析可知，A为广西壮族自治区，B为湖北省，C为陕西省，D黑龙江省。神农架所在省份的是湖北省。

答案：B

32. 下列被列入《世界遗产名录》的名胜古迹中位于北方地区的是 ()



山西平遥古城 广西左江花山岩画 云南丽江古城 澳门历史城区

解析：本题考查我国省区的位置。山西平遥古城位于北方地区，广西左江花山岩画、云南丽江古城、澳门历史城区都位于南方地区。

答案：A

2016年6月16日，沪昆高铁全线贯通，沪昆高铁又名沪昆客运专线，有中国最美高铁之称。回答下列问题。



33. 修建沪昆高铁的意义是 ()

- A. 缓解原有沪昆铁路的货运压力
- B. 缩短运输时间，提高运输效率
- C. 促进沿线矿产资源开发，带动经济发展
- D. 加强上海和四川的联系，促进东西部经济发展

解析：本题考查沪昆高铁的意义。沪昆高铁的起止点城市是上海和昆明，修建该高铁会缓解沪昆铁路的货运压力，缩短沪昆铁路的运输时间，提高运输效率，但不会促进沿线矿产资源开发，该高铁不经过四川省，不会加强上海和四川的联系，综上所述，故AB符合题意。

答案：AB

34. 沪昆高铁的开通给云南省带来的影响，不正确的是 ()

- A. 拉动云南省旅游业的发展
- B. 加强云南与长江三角洲的经济联系
- C. 人口大量涌入使云南省的城市化水平快速提高
- D. 省会昆明对周边地区的辐射带动作用增强

解析：本题考查沪昆高铁的意义。沪昆高铁的起止点城市是上海和昆明，该铁路线拉动云南省旅游业的发展，加强云南与长江三角洲的经济联系，云南省的省会昆明对周边地区的辐射带动作用会增强，但该铁路不会使大量人口涌入云南省，故 C 符合题意。

答案：C

35. 下列景点不属于沪昆高铁沿线省区的是（ ）



解析：本题考查沪昆高铁沿线的旅游景点。读图分析可知，沪昆高速铁路途经上海、杭州、南昌、长沙、贵阳、昆明 6 座省会城市及直辖市；题干中除去广州五羊雕像之外其余的都在沪昆高铁沿线，选项 B 符合题意。

答案：B

36. 2017 年春节期间全国空城率最高的十大城市分别是东莞。佛山。广州。深圳。长沙。上海。苏州。北京。武汉。郑州。据此，回答：根据材料推测，下列说法错误的是（ ）

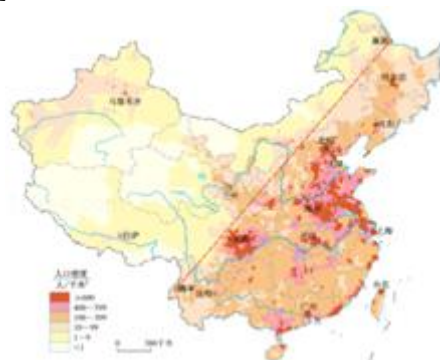
- A. 经济发达的珠三角。长三角地区成为空城率最高的区域
- B. 空城率较高说明这些城市仍旧凭借丰富的就业机会。优厚的薪资。便利的公共设施吸引了全国各地的人来到这里打拼
- C. 广东有四个城市进入前十
- D. 十大城市中属于直辖市和行政中心的共有五个

解析：本题考查我国省区的概况。由题干全国空城率最高的十大城市可知：经济发达的珠三角（包括：广州、深圳、佛山、中山、惠州、东莞、珠海、江门、肇庆以及深汕特别合作区，大珠三角包括香港特别行政区、澳门特别行政区共 12 个地区）、长三角地区（包括：上海，江苏省的南京、无锡、常州、苏州、南通、盐城、扬州、镇江、泰州，浙江省的杭州、宁波、嘉兴、湖州、绍兴、金华、舟山、台州，安徽省的合肥、芜湖、马鞍山、铜陵、安庆、滁州、池州、宣城等 26 市）成为空城率最高的区域，故 A 正确。空城率较高说明这些城市仍旧凭借丰富的就业机会，优厚的薪资，便利的公共设施吸引了全国各地的人来到这里打拼，故 B 正确。

广东有四个城市（东莞、佛山、广州、深圳）进入前十，故 C 正确。十大城市中属于直辖市和行政中心的共有（广州、长沙、上海、北京、武汉、郑州）六个，故 D 错误。

答案：D

37. 微信发布《2017 微信春节数据报告》显示，除夕至初五，全国微信红包收发总量达到 460 亿个，同比增长 43.3%。广东省以 58.4 亿个的红包收发个数遥遥领先。紧随其后的是江苏 29.3 亿个。山东 26.4 亿个。河北 24.2 亿个。浙江 24.2 亿个。不难看出，红包发送数量和当地经济发展水平。人口数量密切相关。据此，回答：结合资料和“我国的人口分布”图，下列说法错误的是（ ）



- A. 说明五个省区人口数量多，经济较发达
- B. 五个省区都是地处东部沿海地区
- C. 五个省的红包总个数占全国总数量的 43.3%
- D. 五个省区位于黑河—腾冲一线以东

解析：本题考查我国省区的概况。读图分析可知：广东省、江苏省、山东省、河北省、浙江省人口数量多，经济较发达，故 A 正确。广东省、江苏省、山东省、河北省、浙江省都是地处东部沿海地区，故 B 正确。广东省、江苏省、山东省、河北省、浙江省五个省的红包总个数占全国总数量的 $(58.4+29.3+26.4+24.2+24.2) \div 460 \approx 35.3\%$ ，故 C 错误。广东省、江苏省、山东省、河北省、浙江省位于黑河—腾冲一线以东，故 D 正确。

答案：C

2017 年春节联欢晚会在上海。广西桂林。四川凉山。黑龙江哈尔滨四地分会场举行，将分别以“光、水、火、冰”为创意源点，充分发挥自身地理环境优势和城市特色，回答下列问题。



38. 下面对四地的描述错误的是（ ）

- A. 国际化大都市上海时尚和科技的光彩炫目，若从夜空星光图看，更是光亮夺人
- B. “山水甲天下”的桂林以流水侵蚀作用形成的黄土地貌闻名遐迩
- C. 四川凉山因少数民族——彝族火把节受人瞩目
- D. 哈尔滨因纬度高，冬季冰雪覆盖时间长，发展冰雪文化，被称为“冰城”

解析：本题考查我国不同地区的特点。国际化大都市上海时尚和科技的光彩炫目，若从夜空星光图看，更是光亮夺人，故 A 叙述正确；桂林属于喀斯特地貌，故 B 叙述错误；四川省凉山因少数民族——彝族火把节受人瞩目，故 C 叙述正确；哈尔滨因纬度高，冬季冰雪覆盖时间长，发展冰雪文化，被称为“冰城”，该城市属于温带季风气候，故 D 叙述正确。

答案：B

39. 下表是四个城市的气温与降水资料，这四个城市依次是（ ）

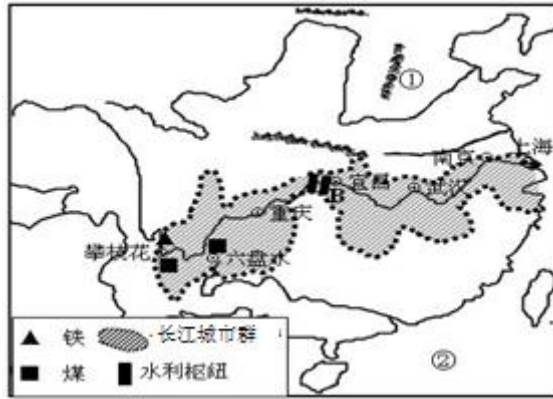
城市代号	一月		七月		年均温℃	年量 mm
	气温℃	mm	℃	mm		
①	7.7	20.5	20.2	193.4	15.4	1044.6
②	3.7	39.4	27.8	127.9	15.8	1109.8
③	7.9	63.4	28	231.3	19	1921.3
④	-18.3	3.4	23	142.7	4.3	524.4

- A. 上海、桂林、凉山、哈尔滨
- B. 凉山、上海、桂林、哈尔滨
- C. 凉山、桂林、哈尔滨、上海
- D. 桂林、上海、凉山、哈尔滨

解析：本题考查我国不同城市的气候及特点。表中③城市降水最多，气温最高，是桂林，④城市气温最低，降水最少，是哈尔滨，②城市气温较高，降水较多，是上海，①城市凉山，该城市由于海拔高，气温比上海低，故 B 正确。

答案：B

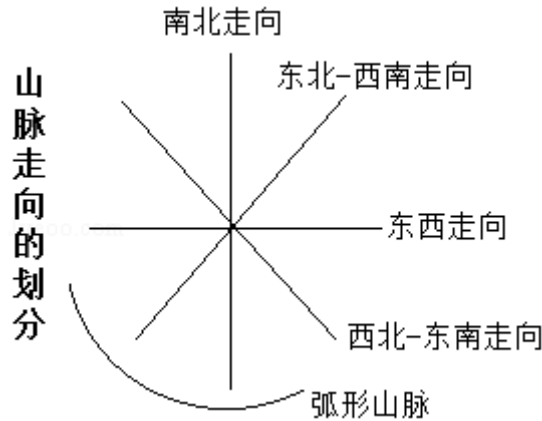
读我国区域地是事物分布图，完成下列问题。



40. ①山脉是我国阶梯分界线之一，它的走向是（ ）

- A. 南北
- B. 东西
- C. 西北—东南
- D. 东北—西南

解析：本题考查我国山脉的走向。我国是一个多山的国家，山脉纵横交错，构成地形的骨架，高原、平原、盆地、丘陵镶嵌其中。从图中看出，①是太行山，



该山脉属东北—西南走向。

答案：D

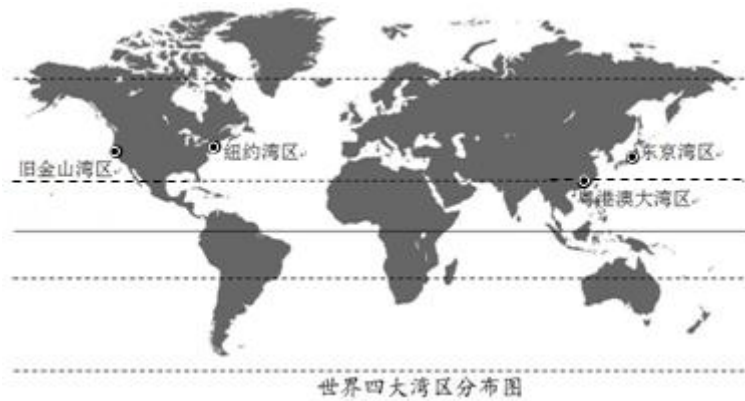
41. 下列有关长江城市群分布共同特征的叙述，正确的是（ ）

- A. 矿产资源丰富
- B. 水源充足
- C. 海运便利
- D. 技术力量雄厚

解析：本题考查长江城市群概况。读图分析可知，长江城市群分布共同的特征是沿江分布，水源充足。

答案：B

由广东的广州、深圳、珠海、佛山、惠州、东莞、中山、江门、肇庆9市和香港。澳门两个特别行政区形成的粤港澳大湾区，是我国改革开放的前沿和经济增长的重要引擎。具备建成国际一流湾区和世界级城市群的基础条件。结合图，回答下列问题。



42. 有关世界四大湾区说法错误的是（ ）

- A. 四大湾区交通便利
- B. 四大湾区地处中低纬沿海地区
- C. 四大湾区矿产资源丰富
- D. 四大湾区中，三个在太平洋沿岸，一个在大西洋沿岸

解析：该题考查世界四大湾区的地理特征。读图可知，四大湾区都位于中低纬沿海地区，交通便利，粤港澳大湾区与旧金山湾区、日本东京湾区位于太平洋沿岸，美国纽约湾区位于大西洋沿岸；故 ABD 表述正确，C 错误，日本东京湾区矿产资源贫乏，需要进口。

答案：C

43. 下列有关湾区特点描述正确的是（ ）

- ①经济发达
- ②以首都为中心
- ③优美宜人的生活环境
- ④多元包容的文化氛围
- ⑤以重工业为主
- ⑥便捷高效的交通系统

- A. ①③④⑥
- B. ①③④⑤
- C. ①②③④
- D. ③④⑤⑥

解析：该题考查世界四大湾区的相关知识。粤港澳大湾区、美国纽约湾区、旧金山湾区和日本东京湾区都位于沿海地区，交通便利，经济发达，都具有优美宜人的生活环境，具有多元包容的文化氛围，故①③④⑥符合题意；②错误，粤港澳大湾区和旧金山湾区都距离首都较远，⑤错误，粤港澳大湾区以轻工业为主。

答案：A

44. 下列不符合粤港澳大湾区事实的是（ ）

- A. 有利于广东、香港和澳门之间的合作，形成多赢局面
- B. 香港是著名自由贸易港，重要的国际金融中心等
- C. 澳门博彩旅游业发达
- D. 港澳的制造业结合广东的服务业，打造世界先进制造业和现代化服务业基地

解析：本题考查粤港澳大湾区的相关特点。粤港澳大湾区有利于广东、香港和澳门之间的合作，形成多赢局面，故 A 叙述正确；香港是著名自由贸易港，重要的国际金融中心等，故 B 叙述正确；澳门博彩旅游业发达，故 C 叙述正确；港澳的服务业结合广东的制造业，打造世界先进制造业和现代化服务业基地，故 D 叙述错误。

答案：D

2017 年 3 月 1 日，林郑月娥在香港特区第五任行政长官选举中胜出，是香港回归 20 年来，第一位女特首。回答下列问题。


45. 有关香港的描述，错误的是（ ）

- A. 和珠江三角洲内地相比，港澳的优势是服务业发达，有先进的管理经验
- B. 香港是世界著名的自由贸易港，也是国际金融、贸易、信息服务及航运中心
- C. 香港地狭人稠，自然资源匮乏
- D. 香港位于珠江口西侧，紧邻珠海，主要由香港岛、九龙和新界组成

解析：本题考查香港的位置及经济等。香港位于珠江口东侧，紧邻深圳，主要由香港岛、九龙和新界组成，选项 D 叙述错误，符合题意，选项 ABC 叙述正确，不符合题意。

答案：D

46. 对图片的描述错误的是（ ）



A. 香港的卫星图 B. 香港的大三巴牌坊 C. 香港的维多利亚港 D. 香港区旗

解析：本题考查香港的地理事物。选项 ACD 为与香港相关的地理事物，不符合题意，选项 B 大三巴牌坊为澳门的地理事物，符合题意。

答案：B

2015 年 7 月 31 日，国际奥委会第 128 次全会在吉隆坡举行。北京通过投票赢得 2022 年第 24 届冬季奥林匹克运动会的举办权，成为世界上夏季和冬季奥运都举行的城市。回答下列问题。



47. 对北京的描述，错误的是（ ）

- A. 北京气候四季分明
- B. 北京拥有长城、明清故宫、天坛等世界遗产
- C. 北京地处辽中南工业基地，经济发达
- D. 北京是全国政治文化中心

解析：考查北京的概况。A、北京属于典型的温带季风气候，春季干旱多风，夏季高温多雨，秋季晴爽宜人，冬季寒冷干燥。故 A 不符合题意；B、目前，北京共有故宫、长城、周口店“北京人”遗址、天坛、颐和园和十三陵等 6 处世界文化遗产。故 B 不符合题意；C、北京地处京津唐工业基地，经济发达。故 C 符合题意；D、对于未来的发展北京做出了长远规划，北京市未来的建设发展目标定位于：国家首都（政治中心）、世界城市（国际交往中心）、文化名城（文化中心），并首次提出“宜居城市”概念。故 D 不符合题意。

答案：C

48. 去北京旅游，下列景点不属于北京的是（ ）



解析：考查北京丰富的旅游资源。图中分别是长城、天安门广场、大三巴牌坊和鸟巢体育馆。其中长城、天安门广场和鸟巢体育馆位于北京，而大三巴牌坊是澳门的象征。

答案：C

2015 年联合国气候变化大会在巴黎举行，近 200 个缔约方一致同意通过《巴黎协定》，协定将为 2020 年后全球应对气候变暖问题作出安排，把全球平均气温较工业化前水平升高幅度控制在 2°C 内，回答下列问题。

49. 引起全球气候变暖的主要人为原因是（ ）

- A. 大量使用制冷设备
- B. 过度排放酸性气体
- C. 大量使用化肥农药
- D. 大量使用矿物燃料，如燃烧煤和石油

解析：考查人类活动对气候的影响。近 50 年来，人类在生产、生活过程中使用矿物燃料，如燃烧煤和石油等，排放的二氧化碳等温室气体急剧增加，使全球气温升高——地球变暖的一个征兆是南北极地区永久冰雪的快速消融，水平面上升。

答案：D

50. 减少碳排放，从“低碳生活”做起！下面行为有利于环境可持续发展的是（ ）

- ①短途出行建议公交车或者地铁，少开车
- ②大力推广农田秸（jié）秆焚烧肥田
- ③不坐电梯爬楼梯，省电换健康
- ④出门购物，尽量自己带环保袋
- ⑤纸张提倡单面打印

- A. ①②④
- B. ①③④
- C. ②④⑤
- D. ①③⑤

解析：本题考查低碳生活的理念。农田秸（jié）秆焚烧污染空气，纸张提倡单面打印浪费资源，而出行建议公交车或者地铁、不坐电梯爬楼梯、购物袋环保袋，节约了资源，净化了环境，符合减少碳排放，低碳生活的理念。

答案：B