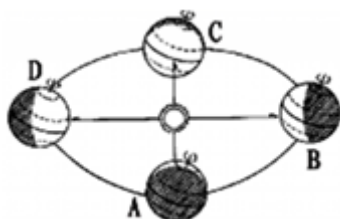


2018 年四川省资阳市中考真题地理

一、选择题（每小题只有一个正确答案，每小题 2 分，共 40 分）

读地球公转轨道示意图，据此回答下列问题。



1. 2017 年 3 月 3 日至 15 日，全国政协十二届五次会议和第十二届全国人民代表大会第五次会议在北京召开，会议召开期间下列说法正确的是（ ）

- A. 会议期间地球运行在 AB 之间
- B. 资阳昼夜长短状况是昼长夜短
- C. 资阳昼夜变化是昼变长、夜变短
- D. 沱江河正处于丰水期

解析：本题考查昼夜长短与季节的关系。3 月 3 日至 15 日地球运行在冬至日与春分日即 BC 之间，此时太阳直射点由南回归线向赤道移动，四川省的资阳昼短夜长，且昼渐长，夜渐短，沱江河处于枯水期，综上所述故 C 正确。

答案：C

2. 当地球运行到 D 点时，出现的地理现象有（ ）

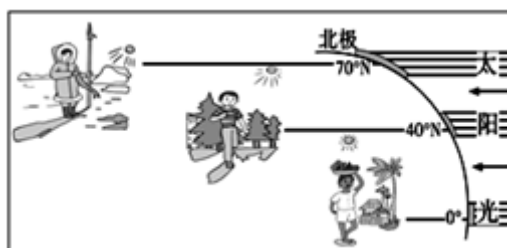
- ①太阳直射在北回归线
- ②此时正是南极考察的绝佳时机
- ③资阳在这一天昼最长、夜最短
- ④此时资阳的气候特点是高温多雨

- A. ①②③
- B. ①②④
- C. ①③④
- D. ②③④

解析：本题考查地球公转示意图。读图可得，C 是春分日即 3 月 21 日，D 是夏至日即 6 月 22 日，A 是秋分日即 9 月 23 日，B 是冬至日即 12 月 22 日。D 是北半球的夏至日，此时太阳直射北回归线，此时正是北极考察的绝佳时机，四川省资阳在这一天昼最长、夜最短，资阳属于亚热带季风气候，此时资阳的气候特点是高温多雨。

答案：C

读 3 月 21 日（春分）不同纬度地区正午影长示意图，回答下列问题。



3. 根据春分日的正午影长示意图，得出的结论错误的是（ ）

- A. 这一天太阳直射在赤道上
- B. 离直射点的越远，影子的越长
- C. 太阳光线与地面形成的角度越小，气温越低
- D. 此时北极点附近全天都是白天

解析：本题考查了地球公转的概况。春分日，太阳直射点在赤道上，全球昼夜平分，此时北极地区也是昼夜平分，故D叙述错误，ABC都是正确的。

答案：D

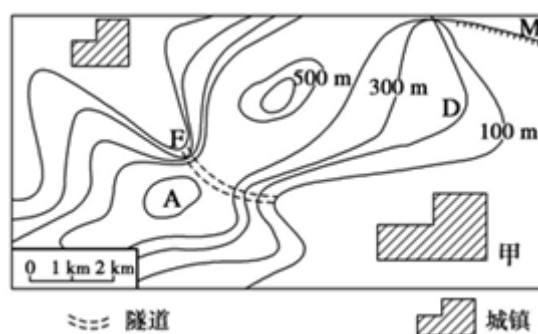
4. 这一节气全球白天与黑夜长短情况是（ ）

- A. 昼夜等长
- B. 昼短夜长
- C. 昼长夜短
- D. 不能定，纬度不同，昼夜长短不同

解析：本题考查了地球公转的概况。3月21日前后，为北半球的春分日，此时太阳直射点是赤道，这一天，全球的昼夜长短情况是：昼夜等长。

答案：A

读我国某地区的等高线示意图，完成下列问题。



5. 图中M处地形最适宜开展的运动项目为（ ）

- A. 跳水运动
- B. 飞行运动
- C. 滑雪运动
- D. 攀岩运动

解析：本题考查了等高线地形图的判读。读图可知，图中M处为几条海拔高度不同的等高线重合的部位，是陡崖；陡崖处最适宜开展攀岩运动。故选项D符合题意。

答案：D

6. 若在A处建火情瞭望台，不能观测到的地点是（ ）

- A. 图中两城镇
- B. 隧道口F处
- C. 陡崖的崖顶
- D. 山坡D处

解析：本题考查了等高线地形图的判读。读图可知，隧道口F与A点的剖面线呈“上缓下陡”形状，不利于观察。故选项B符合题意。

答案：B

7. 地图的种类很多：如地形图、旅游图、交通图、人口图、世界地图等，阅读下面三个情境，分析这三位同学分别需要选择什么类型的地图（ ）

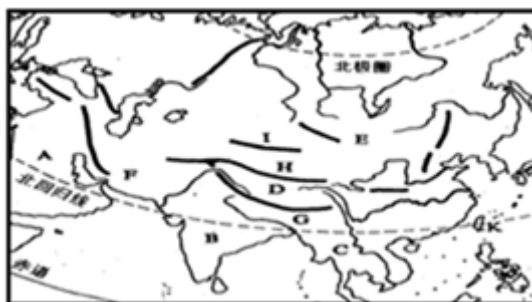
- ①班队准备到郊外的山地进行越野活动，需要设计越野路线。
- ②美国发动伊拉克战争，给伊拉克人民带来巨大灾难，小强想找一找伊拉克位置。
- ③小明想去博物馆参观，博物馆离他家很远，他得想一想怎样乘车。

- A. 交通图、世界地图、地形图
- B. 地形图、交通图、人口图
- C. 水文图、人口图、交通图
- D. 地形图、世界地图、交通图

解析：本题考查地图的应用。在庞大的地图家族中，有自然地图和社会经济地图。自然地图包括地形图、气候图、水文图、植被图等，社会经济地图包括工业图、农业图、商业图、交通图、人口分布图等。日常生活中，我们应根据实际需要选择合适的地图。班队准备到郊外的山地进行越野活动，需要设计越野路线，选择地形图；美国发动伊拉克战争，给伊拉克人民带来巨大灾难，小强想找一找伊拉克位置，选择世界地图；小明想去博物馆参观，博物馆离他家很远，他得想一想怎样乘车，选择交通图；故选项 D 符合题意。

答案：D

8. 读亚洲示意图，下列描述正确的有（ ）



- ①亚洲地势中间高、四周低，河流呈放射状。
- ②亚洲是跨纬度最广，东西距离跨度最大的大洲。
- ③亚洲气候复杂多样，以温带季风气候为主。
- ④图中 D 是世界上最大的高原——青藏高原
- ⑤图中 B 是最大的半岛——印度半岛。

- A. ①②
- B. ②③
- C. ③④
- D. ④⑤

解析：本题考查亚洲的概况。亚洲地势中间高、四周低，河流呈放射状，故①正确。亚洲是跨纬度最广，东西距离跨度最大，故②正确。亚洲气候复杂多样，以温带大陆性气候为主，故③错误。图中 D 是世界上最高的高原——青藏高原，故④错误。图中 B 是印度半岛，最大的半岛是阿拉伯半岛，⑤错误。

答案：A

9. 读某区域轮廓图，其中说法错误的是（ ）

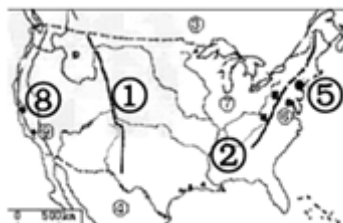


- A. 该区域被称为“两洋三洲五海”之地
- B. 该区域主要的气候是热带沙漠气候
- C. 该区域有丰富的石油资源
- D. 该区域生活的人种主要是黑色人种

解析：本题考查中东地区的概况。读图可知，该区域为中东地区；中东地区被称为“两洋三洲五海”之地，地理位置重要，A 正确；该区域主要的气候是热带沙漠气候，B 正确；该区域有丰富的石油资源，C 正确；该区域生活的人种主要是白色人种，大多为属于阿拉伯民族，D 错误。

答案：D

10. 读美国示意图，判断下列说法正确的是（ ）



- A. ①是著名的落基山脉
- B. ②河流所在地形区是美国的传统工业区
- C. ⑤城市所在农业带属于玉米带
- D. ⑧城市是美国西部著名城市洛杉矶，这里有闻名世界的“硅谷”

解析：本题考查美国的概况。读图分析可知，图中①是著名的落基山脉，②密西西比河所在地形区是美国的新兴工业区，⑤城市所在农业带属于乳畜带，⑧城市是美国西部著名城市旧金山，这里有闻名世界的“硅谷”。

答案：A

11. 2016年6月23日，英国全民公投决定脱离欧盟，全球震惊，将对世界政治、经济产生巨大的影响。下列对欧洲西部叙述正确的是（ ）

- A. 欧洲西部工农业发达，农业以种植业为主
- B. 欧洲西部地形以平原为主，冰川地貌广布
- C. 南部地中海沿岸的地中海气候，终年温暖湿润
- D. 航运发达的多瑙河，由鹿特丹注入北海

解析：本题考查欧洲西部的特点。欧洲西部工农业发达，农业以畜牧业为主，故A错误；欧洲西部地形以平原为主，冰川地貌广布，故B正确；南部地中海沿岸的地中海气候，其特点是冬季温和多雨，夏季炎热干燥，故C错误；航运发达的多瑙河，注入黑海，故D错误。

答案：B

读巴西示意图，完成下列问题。



12. 下列说法正确的是（ ）

- A. A 河流是世界第二长河，水流量最大，流域最广
- B. B 是世界上最大的水电站伊泰普水电站
- C. C 为世界上最大大洋太平洋
- D. ③城市是巴西最大的城市里约热内卢

解析：考查巴西的地理知识，A、A 是亚马孙河，是世界上水量最大、流域面积最广的河流。亚马孙河的长度仅次于尼罗河，居世界第2位。故A符合题意；B、巴西水力资源丰富，水电在全国发电量中所占比例较大。B 伊泰普水电站位于巴拉那河上，由巴西和巴拉圭两国合建，世界上最大的水电站是三峡水利枢纽。故B不符合题意；C、C 为大西洋，世界上最

大的大洋是太平洋。故 C 不符合题意；D、圣保罗是巴西第一大城市，③里约热内卢是巴西第二大城市和最大海港。故 D 不符合题意。

答案：A

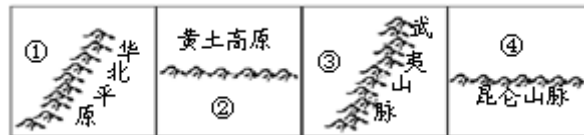
13. 关于巴西的说法，正确的是（ ）

- A. 巴西位于南美洲东部，东临 C 大洋，西临 D 大洋
- B. 在巴西高原上分布着世界上面积最大的热带雨林区
- C. 巴西农业发达，机械化和商品化程度高
- D. 巴西工业以采矿业为主，其中铁矿资源丰富

解析：本题考查巴西的地理概况，巴西位于南美洲东部，东临 C 大西洋，西部不靠海，故 A 叙述错误；在亚马孙平原上分布着世界上面积最大的热带雨林区，故 B 叙述错误；巴西农业发达，机械化但商品化不高，故 C 叙述错误；巴西工业以采矿业为主，其中铁矿资源丰富，故 D 叙述正确。

答案：D

14. 山脉是地形的骨架，往往成为重要的地理分界线，下列说法错误的是（ ）

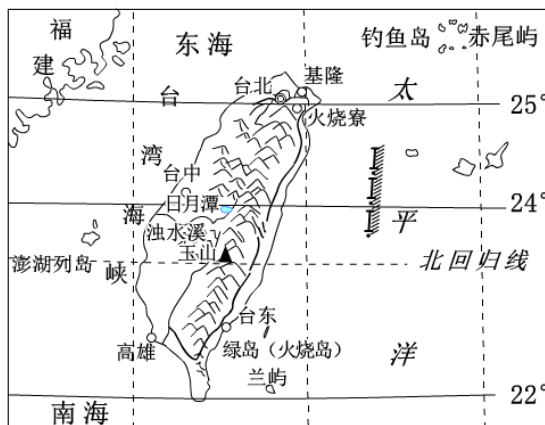


- A. ①地区支离破碎、黄土广布
- B. ②地区有“紫色盆地”之称
- C. ③在福建省
- D. ④地区内有我国最长的内流河

解析：读图分析可知：图中①为黄土高原，由于长期的流水侵蚀和搬运，黄土高原呈现出支离破碎、沟壑纵横的地表形态。故 A 正确。依据位置，图中②地区是四川盆地，位于秦岭以南被叫做“紫色盆地”。故 B 正确。武夷山脉以东是福建省，以西是③江西省。故错误。昆仑山以北是④塔里木盆地，有我国最长的内流河——塔里木河。故 D 正确。

答案：C

15. 读台湾图，下列说法错误的是（ ）

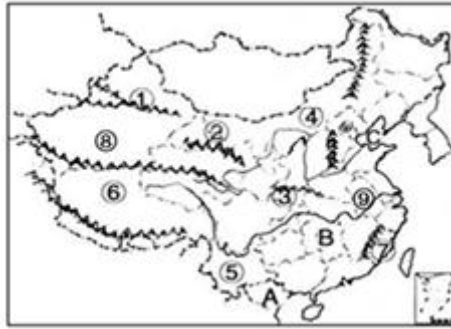


- A. 台湾南部有热带季风气候分布
- B. 火烧寮是中国年降水最多的地方是因为它位于台湾山脉的背风坡
- C. 台湾的地势是东高西低
- D. 与台湾隔海相望的省级行政区是福建省

解析：本题考查台湾省的概况。台湾南部是热带季风气候，北部是亚热带季风气候；台湾的火烧寮是我国降水最多的地方，因为它处于台湾山脉的迎风坡；台湾的地势东高西低；与台湾隔海相望的是福建省。

答案：B

读中国疆域示意图，完成下列问题。



16. 根据中国疆域示意图，下列对中国地形和气候描述正确的是（ ）

- A. 图中②山脉是我国二、三阶梯分界线
- B. 图中③山脉与我国一月份 0℃等温线和 800mm 等降水线基本重合
- C. 图中⑧地形区是我国最大的盆地，有“聚宝盆”的美誉
- D. 图中④地形区自古以来都有“鱼米之乡”的美称

解析：本题考查我国山脉、地形区的分布，我国是一个多山的国家，山脉纵横交错，构成地形的骨架，高原、平原、盆地、丘陵镶嵌其中。图中的②是祁连山，位于我国地势第一二阶梯分界线上；③是秦岭，与我国 1 月份 0℃等温线一致，也和 800mm 等降水量线一致；⑧是我国最大的盆地，聚宝盆指的是柴达木盆地；④是内蒙古高原，“鱼米之乡”指的是长江中下游平原。

答案：B

17. 下列各省描述正确的是（ ）

- A. ①省盛产水果，这里光照充足，昼夜温差大，有利于果实糖分的积累
- B. ④省的景观由西向东变化是“草原—草原荒漠—荒漠”
- C. ⑤省地貌是典型的丹霞地貌
- D. ⑥省主要以放牧业为主，主要畜种有沙漠之舟——牦牛

解析：本题考查我国省区的概况。读图分析可知：①为新疆维吾尔自治区，盛产葡萄、哈密瓜等水果，这里光照充足，昼夜温差大，有利于果实糖分的积累，故 A 正确。④为内蒙古自治区，其景观由东向西变化是“草原—草原荒漠—荒漠”，故 B 错误。⑤为云南省，其地貌是典型的喀斯特地貌，故 C 错误。⑥为西藏自治区，主要以畜牧业为主，主要畜种有高原之舟——牦牛，故 D 错误。

答案：A

18. 对我国疆域描述正确的是（ ）

- A. 图中 A 国为我国的邻国缅甸
- B. 图中 B 所在地形区，黑土广布，适宜种植茶树
- C. 图中 C 海域是我国的内海渤海
- D. 图中⑦山脉为我国四大地理单元的分界线

解析：本题考查我国的疆域及概况。图中 A 国为我国的邻国越南，故 A 错误。图中 B 所在地形区为长江中下游平原，东北平原黑土广布，故 B 错误。图中 C 海域是渤海，是我国的内海，故 C 正确。图中⑦山脉为武夷山，不是我国四大地理单元的分界线，故 D 错误。

答案：C

19. 读东北地区示意图，结合相关知识，对下列描述错误的是（ ）



- A. 东北地区是我国重要的商品农业基地，熟制为一年一熟
- B. 东北地区最典型的气候特点：冷湿
- C. 这里有中国独特的自然景观——吉林雾凇
- D. 图中 D 所在地区是九大商品粮基地之一的松嫩平原

解析：本题考查东北地区的特点。东北地区是我国重要的商品农业基地，熟制为一年一熟，该地区主要位于中温带，故 A 叙述正确；东北地区纬度较高，气候冷湿，故 B 叙述正确；东北地区有中国独特的自然景观——吉林雾凇，故 C 叙述正确；D 是三江平原，故 D 叙述错误。

答案：D

20. 读四川省略图，下列说法错误的是（ ）



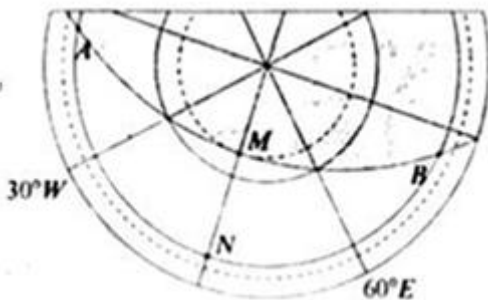
- A. 四川省地势西高东低，西部是川西高原，东部是四川盆地
- B. 图中①②铁路分别是宝成线和成昆线
- C. 城市 B 是四川重要的钢铁工业基地
- D. 四川盆地属于亚热带和半湿润地区

解析：本题考查四川省的概况。读图分析可知：四川省地势西高东低，西部是川西高原，东部是四川盆地，故 A 正确。图中铁路线①为宝成线，②为成昆线，故 B 正确。城市 B 是攀枝花，是四川重要的钢铁工业基地，故 C 正确。四川盆地属于亚热带、湿润地区，故 D 错误。

答案：D

二、综合题（每空 2 份，共 60 分）

21. （10 分）读以极点为中心的经纬网图，回答下列问题。



(1) 该图中心极点为_____。（南极/北极）

解析：本题考查经纬网图的判读。图中有字母 N，是北纬，该图中心极点为北极。

答案：北极

(2)判断图中M点的经度是_____。

解析：图中相邻两条经线的度数差是 45° ，M点的经度是 15° E。

答案： 15° E

(3)如果图中N点所属是白昼，AMB为晨昏线。那么这一天，太阳直射在_____（纬线）。

图中N点属于东西半球的_____半球。

解析：如果图中N点所属是白昼，AMB为晨昏线。那么这一天所示北极圈以内全部是极夜现象，此图所示的是北半球的冬至日，太阳直射在南回归线。图中N点的经度是 15° E，属于东西半球的东半球。

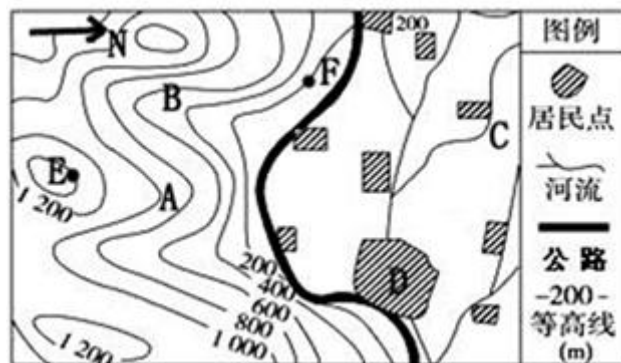
答案：南回归线 东

(4)判断图中B点在M点的_____方向。

解析：经线指示南北方向，纬线指示东西方向，图中B点在M点的东南方向。

答案：东南

22.（10分）读等高线示意图，完成下列问题。



(1)图中A、B两处，可能发育成河流的是_____。

解析：本题考查等高线地形图的判读，读图分析可知：图中A、B两处，可能发育成河流的是B，此处等高线向海拔高处凸为山谷，易集水成河。

答案：B

(2)图中C居民区位于D居民区的_____方向。

解析：依据图中指向标判断，图中C居民区位于D居民区的西北方向。

答案：西北

(3)如果此时F点的气温为 24°C ，那么E点的温度是_____ $^{\circ}\text{C}$ 。

解析：根据海拔每增高100米，气温约下降 0.6°C ；如果此时F点的气温为 24°C ，那么E点的温度是： $24^{\circ}\text{C} - (1400 - 200) \div 100 \times 0.6 = 16.8^{\circ}\text{C}$ 。

答案： 16.8

(4)假设该等高线图的比例尺为1:50000，测得A点到D居民点的图上距离为4厘米，那么它们两者的实地距离是_____千米。

解析：假设该等高线图的比例尺为1:50000，测得A点到D居民点的图上距离为4厘米，那么它们两者的实地距离是 $4 \times 0.5 = 2$ 千米。

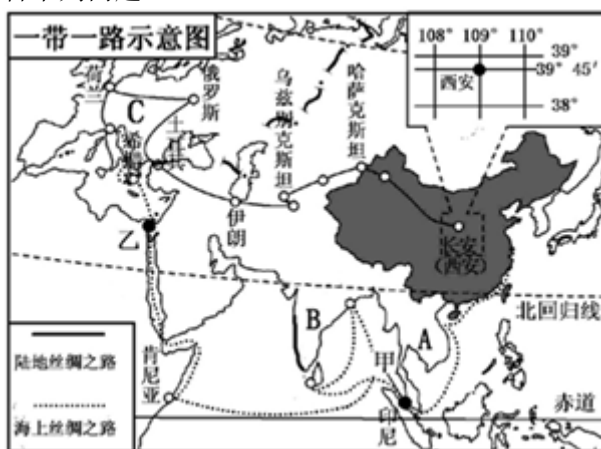
答案：2

(5)在A、B、C三处最宜开展粮食作物种植的是_____。

解析：在A、B、C三处最宜开展粮食作物种植的是C处，地形平坦开阔，靠近河流，水资源丰富。

答案：C

23. (10分) 近年, 为推动区域经济一体化发展, 我国提出了“一带一路”的国家发展战略。“一带一路”是“丝绸之路经济带”和“21世纪海上丝绸之路”的简称。如图是“一带一路示意图”。回答下列问题。



(1) 图中 A 半岛的地形特征是: _____。

解析: 本题主要考查一带一路概况。图中 A 中南半岛的地形特征是: 山河相间、纵列分布。
答案: 山河相间、纵列分布

(2) “21 世纪海上丝绸之路”的交通要道有: 被日本称为“海上生命线”的甲 _____ 海峡。

解析: “21 世纪海上丝绸之路”的交通要道有: 被日本称为“海上生命线”的甲马六甲海峡。
答案: 马六甲

(3) 图中 B 所在的国家是现在世界上重要的发展中国家, 其软件工业中心是 _____。

解析: 图中 B 印度是现在世界上重要的发展中国家, 其软件工业中心是班加罗尔。
答案: 班加罗尔

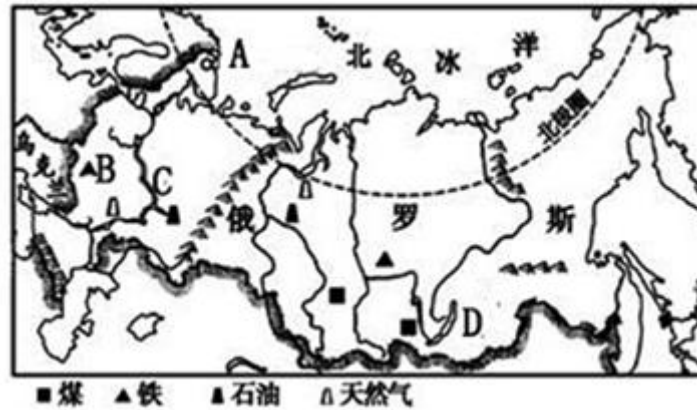
(4) 西亚被称为“五海三洲两洋”之地, 地理位置重要, “丝绸之路经济带”和“21 世纪海上丝绸之路”都要经过此地。这里盛产石油, 其主要分布在 _____ 地区。

解析: 西亚被称为“五海三洲两洋”之地, 地理位置重要, “丝绸之路经济带”和“21 世纪海上丝绸之路”都要经过此地。这里盛产石油, 其主要分布在波斯湾沿岸地区。
答案: 波斯湾沿岸

(5) “丝绸之路经济带”的最西端 C 大洲典型气候是 _____ 气候。

解析: “丝绸之路经济带”的最西端 C 欧洲典型气候是温带海洋性气候。
答案: 温带海洋性

24. (8分) 读俄罗斯疆域示意图, 回答下列问题。



(1) 图中城市 A 为俄罗斯北冰洋中终年不冻港，城市 A 为：_____。

解析：本题考查俄罗斯的地理概况，读图分析可知：图中城市 A 为俄罗斯北冰洋中终年不冻港——摩尔曼斯克。

答案：摩尔曼斯克

(2) 俄罗斯矿产资源丰富，图中 B 矿产地是_____。

解析：俄罗斯矿产资源丰富，图中 B 矿产地是库尔斯克铁矿，位于莫斯科附近。

答案：库尔斯克铁矿

(3) 河流 C 是俄罗斯的“母亲河”，也是世界上最长的内流河，它的名字是_____。

解析：河流 C 是俄罗斯的“母亲河”，也是世界上最长的内流河，它的名字是伏尔加河。

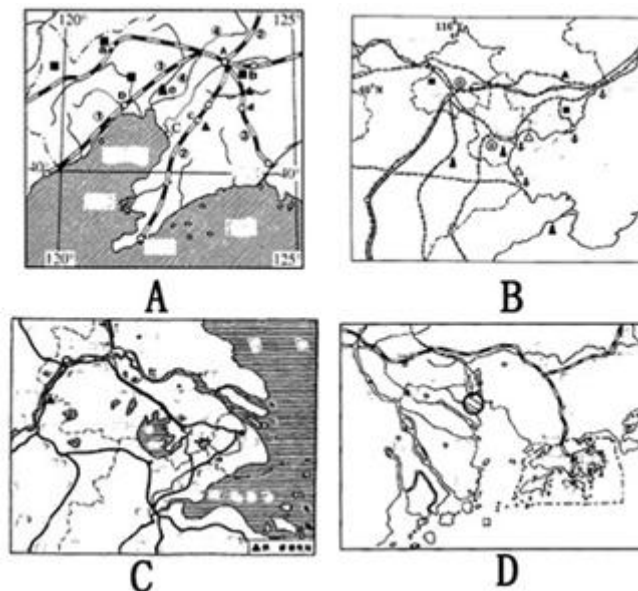
答案：伏尔加河

(4) 湖泊 D 是_____，它是世界上最深的湖泊也是淡水储量最多的湖泊。

解析：湖泊 D 是贝加尔湖，它是世界上最深的湖泊也是淡水储量最多的湖泊。

答案：贝加尔湖

25. (10 分) 读我国四大工业区示意图，回答下列问题。



(1) A 工业区的名称是_____。

解析：本题考查我国的四大工业基地的位置特点及其发展的有利条件。读图可知，A 是辽中南工业区，辽中南工业区是以重工业为主的工业基地。

答案：辽中南工业区

(2) B、C 工业区分别有我国重要的两座城市，_____铁路是连接两座城市的纽带。

解析：读图可知，京沪高铁连接了我国“四大工业基地”中的 B 京津唐工业基地和 C 沪宁杭工业基地。

答案：京沪

(3) C 工业区是我国最大的综合性工业区——沪宁杭工业区，其中“沪”代指的中心城市是_____。

解析：“沪”代指的中心城市是上海。

答案：上海

(4) D 工业区是我国重要的_____工业为主的综合性工业基地，它充分利用毗邻港澳的优势发展经济。

解析：D 珠江三角洲工业区是我国以轻工业为主的综合性工业基地，利用毗邻港澳的地缘优势和侨胞遍及世界各地的有利条件，以国际市场为导向，以国内市场为依托，推动外向型经济高水平、快速度发展。发展了以出口为主的多种加工工业和制造业，如家用电器、服装、食品等部门。

答案：轻

(5) C、D 工业区发展工业的不利条件是_____。

解析：与 A、B 工业区相比，C、D 工业区发展工业的限制性因素是缺乏矿产资源。

答案：资源短缺

26. (12 分) 读长江和黄河示意图，完成下列问题。



(1) 黄河发源于青藏高原，图中城市①是_____，它是黄河上游与中游的分界点。

解析：该题考查黄河和长江的相关知识点。黄河发源于巴颜喀拉山北麓，①是河口，是上、中游的分界点。

答案：河口

(2) F _____水利枢纽工程是黄河流域最大的水利工程，也是治黄的关键性工程。

解析：F 是小浪底水利工程；是黄河流域最大的水利工程，也是治黄的关键性工程。

答案：小浪底

(3) 黄河从地形区 B 带走大量泥沙，使下游地区成为举世闻名的“_____”。

解析：地形区 B 是黄土高原，由于黄河从这里带走大量泥沙，使下游地区成为举世闻名的“地上河”。

答案：地上河

(4) 长江发源于青藏高原上的唐古拉山脉，注入_____海。

解析：长江发源于青藏高原上的唐古拉山脉，注入东海。

答案：东

(5) 湖泊 E _____，是我国最大的淡水湖。

解析：E 是鄱阳湖；是我国最大的淡水湖。

答案：鄱阳湖

(6) 长江和黄河均流经了我国的三大阶梯，河流落差大，水能资源丰富，均主要分布在河流的 _____（上游、中游、下游）。

解析：长江、黄河均流经了我国的三大阶梯，河流落差大，水能资源丰富，两河流上游落差大，水能资源丰富。

答案：上游