

2012年甘肃兰州市中考地理试题

满分：1.00分 考试时间：50分钟

地 理

一、选择题：本大题 20 小题，每小题 2 分，共 40 分。在每小题给出的四个选项中，只有一项是符合题目要求的。

读某学校校园平面示意图（图 1），回答 1-2 题。

1. 学校的足球场位于排球场的
 - A. 西北方向
 - B. 东北方向
 - C. 西南方向
 - D. 东南方向
2. 学校篮球场区域的总宽度约为
 - A. 50 米
 - B. 150 米
 - C. 100 米
 - D. 200 米

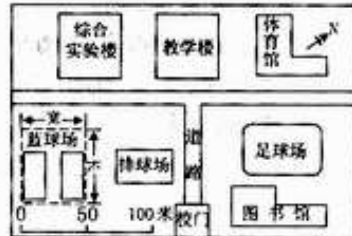


图 1 校园平面示意

3. 下列四幅等高线地形图（图 2）中，表示山脊的是

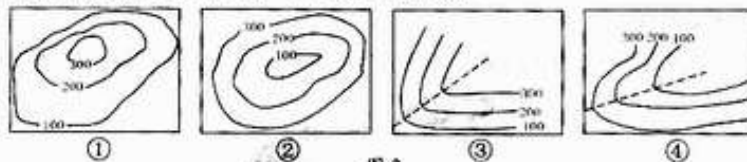


图 2

- A. ①
 - B. ②
 - C. ③
 - D. ④
4. 某一地区在 2011 年，平均每 5000 人当中，出生了 100 个婴儿，死亡 40 人。这个地区在 2011 年人口的出生率、死亡率和自然增长率分别是
 - A. 10% 4% 6%
 - B. 20‰ 8‰ 12‰
 - C. 20% 18% 12%
 - D. 20‰ 12‰ 8‰
 5. 人种的形成与地理环境关系密切，如白种的白种人鼻子高而窄，鼻孔通道较长，是长期适应下列哪种自然环境的结果
 - A. 湿热
 - B. 高寒缺氧
 - C. 炎热干燥
 - D. 寒冷
 6. 下列民居中体现气候湿热的是
 - A. 东南亚的高脚屋
 - B. 因纽特人的冰屋
 - C. 华北地区的四合院
 - D. 内蒙古高原上的蒙古包
 7. 下列描述中表示气候的是
 - A. 多云转晴
 - B. 四季如春
 - C. 暴风骤雨
 - D. 风和日丽
 8. 在欧洲人的餐桌上，最常见的食品是
 - A. 豆浆与油条
 - B. 牛排与奶酪
 - C. 饺子
 - D. 寿司
 9. 图 3 所示的景观（金字塔）位于
 - A. 非洲北部
 - B. 亚洲东部
 - C. 大洋洲
 - D. 欧洲西部
 10. 下列地形区与所在的大洲组合正确的是
 - A. 刚果盆地——南美洲
 - B. 安第斯山脉——非洲
 - C. 阿尔卑斯山脉——北美洲
 - D. 青藏高原——亚洲



图 3

11. 图4所示动物(长颈鹿)长期生活的地理环境是

- A. 热带雨林地区
- B. 热带草原地区
- C. 热带沙漠地区
- D. 亚寒带针叶林地区



图4

12. 去年寒假, 小李同学乘火车从哈尔滨到广州游玩, 他发现这两座城市的气温差异很大, 造成这种差异的主要原因是

- A. 纬度因素
- B. 海陆位置
- C. 地形因素
- D. 洋流因素

13. 图示省区的简称是

- A. 冀
- B. 辽
- C. 鲁
- D. 豫

14. 该省区濒临的海洋甲、乙分别是

- A. 东海、黄海
- B. 渤海、东海
- C. 北海、东海
- D. 渤海、黄海



图5

15. 将兰州市安宁区的两吨白粉桃运送到皋兰果品批发市场出售, 最恰当的运输方式是

- A. 航空运输
- B. 铁路运输
- C. 公路运输
- D. 水路运输

16. 50元人民币(图6)上所显示的景观及其所处的位置分别是

- A. 故宫——华北平原
- B. 布达拉宫——青藏高原
- C. 桂林山水——江南丘陵
- D. 苏州园林——长江中下游平原



图6

17. 下列生活行为中符合“绿色、节能、低碳”的是

- A. 垃圾分类回收, 废物再利用
- B. 出门尽量开车
- C. 购物时常使用一次性塑料袋
- D. 电脑经常开着

18. 兰州市所辖三县五区中, 面积最大的是永登县, 其面积约为 6100 平方千米, 人口约 49 万, 则其人口密度大约为

- A. 80 人/平方千米
- B. 80 人/平方米
- C. 800 人/平方千米
- D. 8 人/平方千米

19. 甘肃省民勤县气候干旱, 周围有大面积沙漠, 形成的主要原因是

- A. 纬度较高
- B. 地势较高
- C. 距海遥远
- D. 热量较多

20. 下列旅游景观位于兰州市的是

- A. 莫高窟
- B. 麦积山
- C. 红军会师纪念碑
- D. 五泉山

二、填空题: 本大题 5 小题, 每空 1 分, 共 10 分。

21. 按经济发展水平的高低来划分, 法国属于_____国家, 巴西属于_____国家。

22. 当今世界的人口问题, 主要是由于人口增长_____ (过快、过慢) 造成的。解决的措施主要有_____。

23. 亚洲的河流大多呈放射状流向四周。据此可以判断亚洲的地势特点为中部_____, 四周_____。

24. 黑龙江、黄河、长江三条河流相比, 年径流量较大的是_____, 结冰期较长的是_____。

25. 我国首都北京市位于_____平原, 夏季的气候特征为_____。

三、综合题：本大题 5 小题，共 50 分。

26. (8 分) 读经纬网示意图 (图 7)，完成下列要求。




图 7

- (1) 根据图中提供的经纬度数值，总结经度和纬度度数大小的递变规律：
东经：_____。
南纬：_____。
- (2) 写出 B 点的经纬度位置：
B: (_____, _____)
- (3) A、B、C 三地中，位于中纬度地带的是_____地，位于热带的是_____地，有极昼极夜现象的是_____地。

27. (11 分) 读海陆分布示意图 (图 8)，完成下列要求。

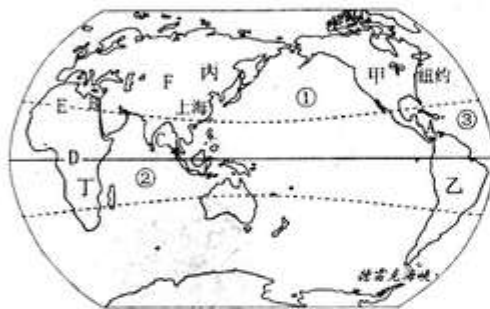


图 8 世界海陆分布示意图

- (1) 辨认图中数字序号代表的大洋名称：
① _____；② _____；
③ _____。
- (2) 辨认图中文字序号代表的大洲名称：
甲：_____；丁：_____。
- (3) 在世界航海线上，有很多海峡和运河是重要的交通要道。图中甲、乙两洲的洲界 A 是_____，丙、丁两洲的洲界 B 是_____，沟通①、②两大洋的 C 是_____。

- (4) 由于各地所处的纬度位置和海陆位置不同，因而有不同的气候类型。图中，赤道穿过的 D 处为_____气候，北回归线穿过的 E 处为_____气候，F 处因深居内陆为_____气候。

28. (10 分) 读黄河流域示意图 (图 9)，完成下列要求。

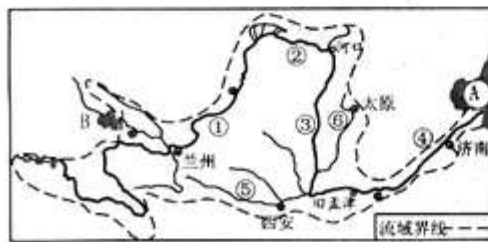


图 9 黄河流域示意图

- (1) 黄河发源于巴颜喀拉山脉，它注入的海域 A 是_____。
- (2) 图中的 B 是我国最大的湖泊、也是最大的咸水湖_____。
- (3) 黄河上、中游的分界是图中的城市_____，中、下游的分界是图中的城市_____。
- (4) 黄河在中游接纳了两条较大的支流，其中⑤是_____，⑥是_____。
- (5) 黄河是世界上含沙量最大的河流，其泥沙主要来自①、②、③、④四个河段中_____河段所在的流域。解释其原因：_____。

29. (12分) 读“我国四大地理区域示意图”及甲、乙两地“气温曲线和降水柱状图”，完成下列要求。

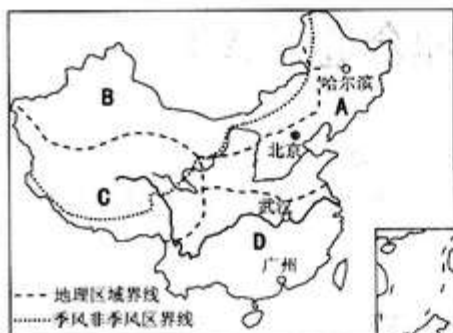


图10 我国四大地理区域示意图

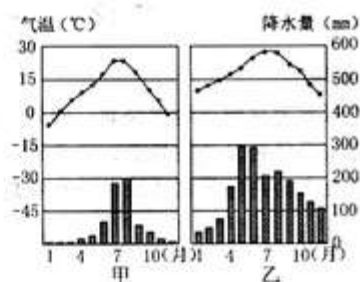


图11 气温曲线降水柱状示意图

- (1) 受地理位置、地形地势等因素影响，四大地理区域自然环境差异较大。其中气候较为干旱的是_____，冬冷夏凉的是_____，水热条件最为优越的是_____，平原面积较广的是_____。(以上均填字母)
 - (2) A、B 两区域中，农业生产方式以畜牧业为主的是_____，C、D 两区域中，农业生产方式以种植业为主的是_____。(以上均填字母)
 - (3) 根据图中季风区非季风区界线来判断，四大地理区域中，大部分位于季风区的两个区域是_____，大部分位于非季风区的两个区域是_____。(以上均填字母)
 - (4) 图中的广州、武汉、北京、哈尔滨四城市中，年降水最多的是_____，年均温最低的是_____。
 - (5) 如果甲、乙两种气候代表北京和广州两地的气候，符合北京的是_____，符合广州的是_____。
30. (9分) 阅读材料，完成下列问题。

材料一：2011年12月14日，兰州大气污染指数居当日全国重点监测城市之首，污染指数高达314，为重度污染。

材料二：由于兰州依黄河河谷盆地而建，向东西两头延伸，南北方向是高山，受特殊地形和气象条件制约，污染物难以扩散。

材料三：工业废气污染、燃煤污染、扬尘污染、机动车尾气污染是兰州市冬季大气污染的“四大污染源”。其中，工业污染在兰州大气污染中的比重最大，约占到大气污染物排放总量的50%左右；机动车尾气污染约占17%左右；扬尘污染约占20%左右；其他各种生活污染源约占13%左右。

根据上述材料回答：

- (1) 造成兰州市大气污染严重的自然原因主要有_____、_____。
- (2) 造成兰州市冬季大气的四大污染源中，比重最大的是_____，其比重大约占_____；污染比重排名第二的是_____。
- (3) 提出两条改善兰州市大气环境的合理建议。

