

2015 年江苏省连云港市中考真题地理

三、选择题：本大题共 15 小题，每小题 1 分，共 15 分。在每小题给出的四个选项中，只有一项是符合题目要求的。

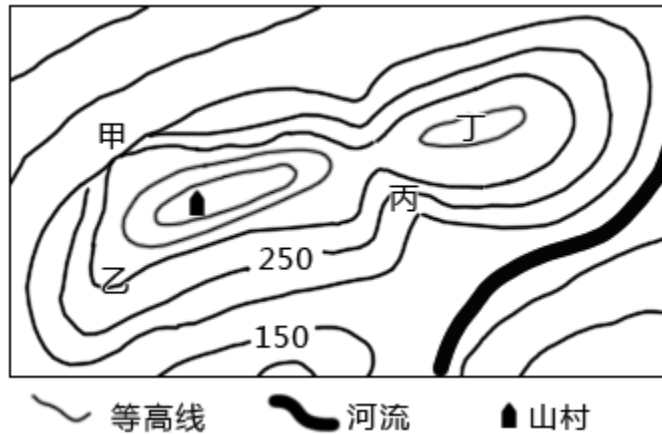
20. 我们学校所在地的气候类型是（ ）

- A. 亚热带季风气候
- B. 地中海气候
- C. 温带季风气候
- D. 温带海洋性气候

解析：本题主要考查我国气候类型的分布。我们学校山东省，位于秦岭、淮河以北的东部季风区，是典型的温带季风气候，冬季气候寒冷干燥，夏季炎热多雨，四季分明，雨热同期。

答案：C

21. 如图为某地等高线地形图（海拔：米），图中位于山脊的是（ ）

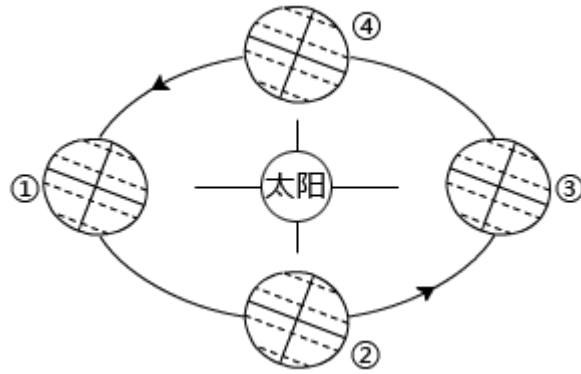


- A. 甲
- B. 乙
- C. 丙
- D. 丁

解析：本题主要等高线地形图的判读。在等高线地形图上，等高线向海拔低处凸为山脊；图中乙为山脊；结合选项。

答案：B

“世界这么大，我想去看看”，小强同学计划 7 月下旬利用暑假去澳大利亚旅游，结合如图，回答 22 - 23 题。



22. 下面是小强查询到的有关澳大利亚资料，其中错误的是（ ）

- A. 是独占一个大陆的国家
- B. 旅游期间正值澳大利亚的冬季
- C. 被称为“坐在矿车上的国家”
- D. 首都悉尼是澳大利亚最大城市

解析：本题考查的是澳大利亚的地理概况。澳大利亚是世界上唯一拥有整个大陆的国家，国内矿产资源丰富，被称为“坐在矿车上的国家”7月下旬，位于北半球的我国正值夏季，南北半球季节相反，位于南半球的澳大利亚正值冬季，澳大利亚首都是堪培拉，答案项D符合题意；选项A、C、B不符合题意。

答案：D

23. 小强在澳大利亚旅游期间，地球在公转轨道上位于（ ）

- A. ①②之间
- B. ②③之间
- C. ③④之间
- D. ①④之间

解析：本题主要考查了地球公转的概况。从图中看出，当地球运动到④处时，太阳光线直射赤道，时间为3月21日前后；当地球运动到①处时，太阳光线直射北回归线，时间为6月22日前后；当地球运动到②处时，太阳光线直射赤道，时间为9月23日前后；当地球运动到③处时，太阳光线直射南回归线，时间为12月22日前后。7月下旬地球运动到夏至和秋分之间，即地球运动到①②之间，答案项A符合题意。

答案：A

24. 撒哈拉以南非洲的经济特征是（ ）

- A. 以农业为主的经济
- B. 以采矿业为主的经济
- C. 以单一商品为主的经济
- D. 工农业发达的民族经济

解析：本题主要考查非洲经济的发展状况。非洲国家在政治上取得独立以后，民族经济取得不同程度的发展，但大多数国家的工业基础仍很薄弱，片面发展一种或几种面向出口的农矿初级产品，成为发达国家的原料供应地和工业品市场，在国际贸易中处于不利地位，历史上遗留下来的单一商品经济形态还未得到根本性的扭转。

答案：C

25. 下列民居建筑中，能反映西亚自然地理环境特点的是（ ）

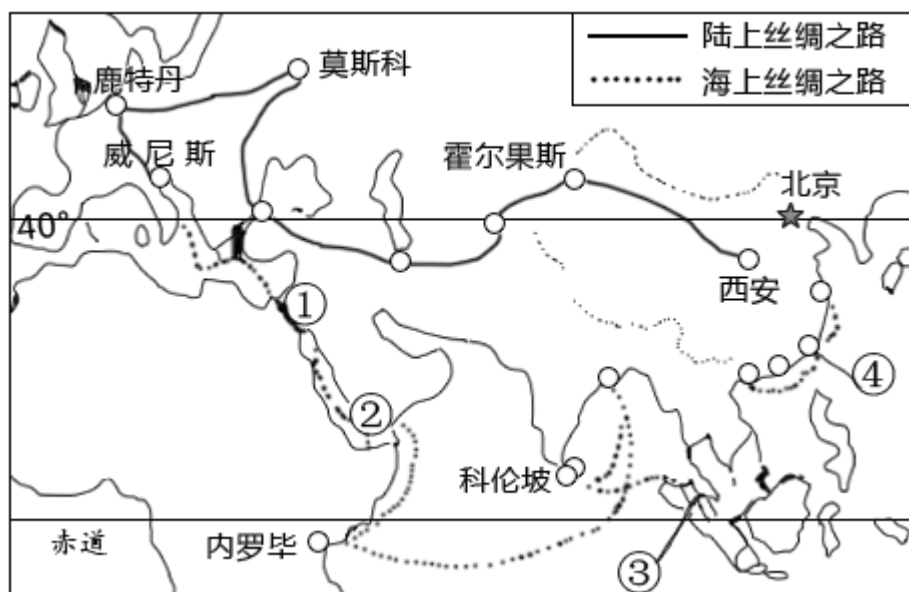


- A. ①
- B. ②
- C. ③
- D. ④

解析：本题主要考查的是民居与当地的自然环境的关系。世界各地民居的建筑风格有很大的不同，这与当地的自然环境有很大关系。从图中看出，①是江南水乡传统民居，沿河流而居，适应气候炎热多雨的特点；②是碉堡屋，西亚地区属于热带沙漠气候，人们为了防风沙，建造了墙厚、窗小的碉堡屋；③是窑洞，黄土高原上的居民因黄土的疏松直立性质，就地取材，开挖了窑洞；④是高脚屋，在东南亚一带气候湿热，为了避免炎热、潮湿，避免虫蛇，当地木、竹较多，人们就地取材，搭建了高脚屋来居住，楼上住人，楼下饲养牲畜。

答案：B

“一带一路”是指丝绸之路经济带和 21 世纪海上丝绸之路。读图，回答 26 - 27 题。



26. 陆上丝绸之路经济带与海上丝绸之路大宗货物运输最重要的方式分别是（ ）

- A. 铁路和海运
- B. 公路和海运
- C. 管道和航空
- D. 铁路和河运

解析：本题主要考查各种主要运输方式的特点。“一带一路”是指“丝绸之路经济带”和“21 世纪海上丝绸之路”。陆上丝绸之路经济带的主要运输方式是铁路，我国部分由陇海线、兰新线和北疆铁路组成。海上丝绸之路的主要运输方式是海洋运输。

答案：A

27. 在海上丝绸之路上（ ）

- A. ①是直布罗陀海峡，连接印度洋与大西洋
- B. ②是苏伊士运河，沟通印度洋与红海
- C. ③是马六甲海峡，连通太平洋与印度洋
- D. ④是台湾海峡，连接黄海与东海

解析：本题主要考查马六甲海峡的重要地理意义。读图可知，图中①是苏伊士运河，直接沟通了地中海与红海，间接沟通了印度洋和大西洋；②是曼德海峡，沟通了红海和阿拉伯海；③是马六甲海峡，沟通太平洋与印度洋；④是台湾海峡，连接南海与东海；答案项 C 符合题意。

答案：C

28. 美国“硅谷”形成的优势条件是（ ）

- A. 气候温暖湿润
- B. 矿产资源丰富
- C. 海运交通便利
- D. 科技力量雄厚

解析：本题考查美国的高新技术产业。美国的阳光地带是指南部地区和西部地区，硅谷在旧金山附近。美国的硅谷是世界上最大的高新技术产业区，该地区发展工业的有利条件是科技力量雄厚。

答案：D

29. 关于秦岭—淮河线的叙述，正确的是（ ）

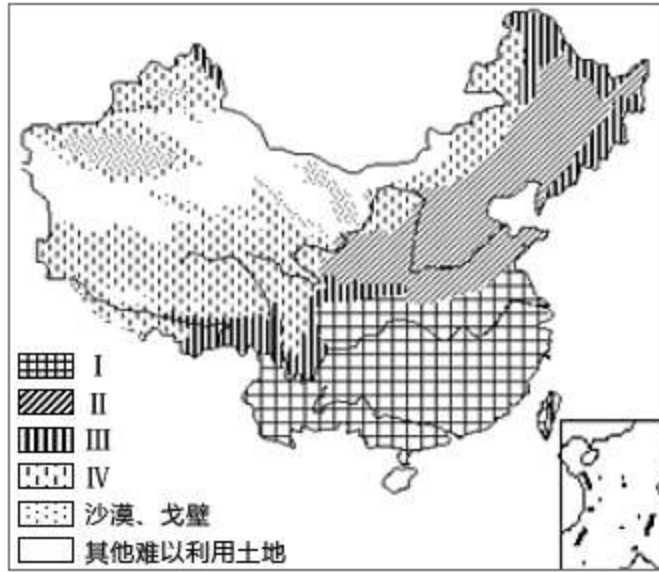
- ①年平均气温 0℃等温线
- ②湿润地区与半湿润地区的分界线
- ③亚热带与暖温带的分界线
- ④内流区与外流区的分界线

- A. ①②
- B. ②③
- C. ③④
- D. ①④

解析：本题主要考查秦岭与淮河的地理区域和地理界线。秦岭、淮河一线是我国四大区域中，南方地区与北方地区的分界线；一月份 0℃等温线通过的地方；800mm 等降水线通过的地方；温度带中，暖温带与亚热带分界线；干湿地区中，湿润区与半湿润区分界线；温带季风气候与亚热带季风气候分界线；亚热带常绿阔叶林与温带落叶阔叶林的分界线；耕地中水田和旱地的分界线等。

答案：B

30. 如图为我国主要土地利用类型分布图，判断下列土地利用类型分布正确的是（ ）

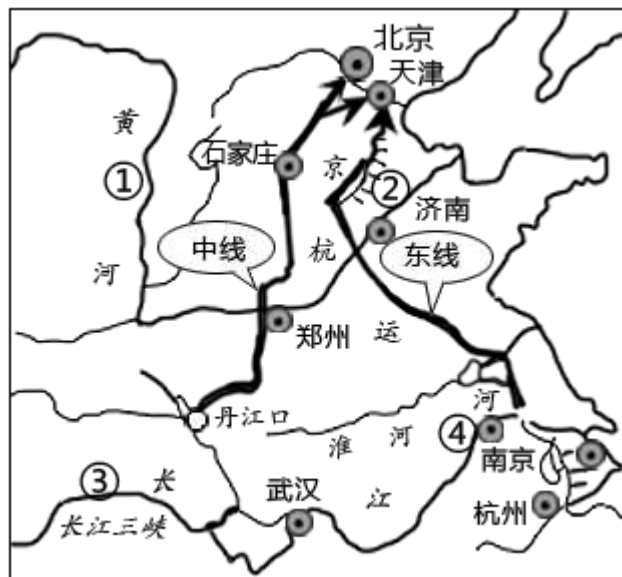


- A. I 为旱地
- B. II 为草地
- C. III 为林地
- D. IV 为水田

解析：本题考查我国土地资源的分布。我国的耕地主要分布在半湿润、湿润的平原、盆地和丘陵地区，北方以旱地为主，南方以水田为主；林地主要分布在东北、西南、东南山区。我国的草地主要分布在内蒙古高原的东部、青藏高原的东部和南部。据图中的图例符合的分布位置可得，II 是旱地，I 是水田；III 是林地；IV 是草地。

答案：C

2014 年 12 月 12 日，南水北调中线工程正式通水。读南水北调东线和中线工程调水线路示意图，回答 31 - 32 题。



31. 下列关于南水北调工程的叙述，正确的是（ ）

- A. 东线工程沿线地区人口稀疏

- B. 中线工程可通过黄河向西北地区输水
- C. 解决了我国水资源时间分布不均的问题
- D. 缓解了华北地区水资源的紧张状况

解析：本题主要考查南水北调工程的有关问题。A、东线方案是从长江下游扬州附近抽引长江水，沿着京杭大运河苏北段和沿途河湖北上，在山东西部穿过黄河，进入河北再抵达天津、北京，沿线地区人口稠密。故 A 不符合题意；B、中线方案由汉江上游的丹江口水库引水，跨长江、淮河、黄河、海河四大流域，经郑州、石家庄等城市一直流向北京、天津。故 B 不符合题意；C、由于我国水资源地区分布不平衡，为了合理利用水资源，有必要兴建跨流域的调水工程。目前规划上马的南水北调工程，将把长江流域的水调入缺水的华北、西北地区。故 C 不符合题意；D、兴修水利工程，能在相当程度上调节水资源的时空分布，南水北调东线和中线工程有效缓解了华北地区水资源的紧张状况。故 D 符合题意。

答案：D

32. 有“地上河”之称的河段是（ ）

- A. ①
- B. ②
- C. ③
- D. ④

解析：本题主要考查黄河上中下游的分界点及各河段的特征。黄河中游流经黄土高原，由于水土流失严重，河流泥沙大增，②下游在华北平原上，河床宽坦，水流缓慢，泥沙大量淤积，使河床抬高，成为举世闻名的地上河。基本无支流汇入，流域面积狭小。

答案：B

33. 与长江三角洲城市群形成不相关的自然条件是（ ）

- A. 矿产资源丰富
- B. 气候温暖湿润
- C. 地势低平
- D. 临江面海

解析：本题主要考查长江三角洲工业基地的位置和特点。沪宁杭是全国最大的综合性工业基地。该工业基地发展工业的有利条件是工业基础和科技力量雄厚，消费市场广阔，水陆交通便利等，发展的不利条件是能源和矿产资源缺乏。答案项 A 符合题意。

答案：A

34. 下列四位同学对家乡的描述，正确的是（ ）

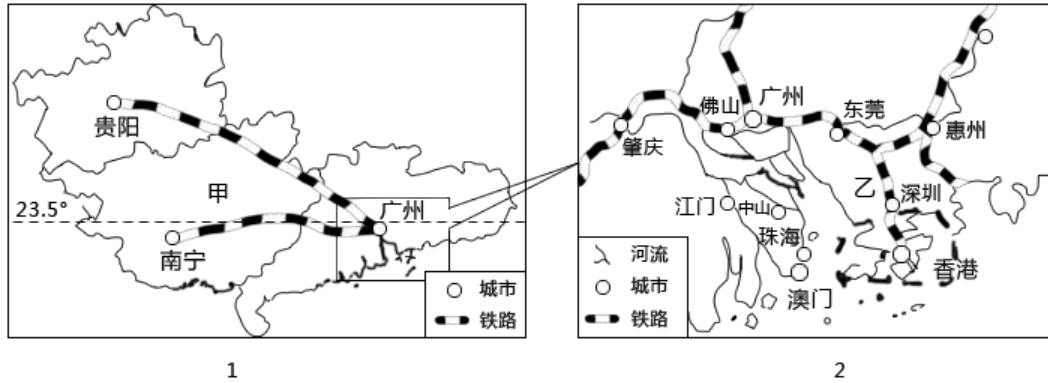
- A. 我家在东北平原，这里热量充足，农作物一年两熟
- B. 我家在华北平原，这里黑土肥沃，盛产小麦
- C. 我家在长江中下游平原，这里河湖密布，莲藕是常见的食材
- D. 我家在黄土高原，这里地形平坦，适宜大规模机械化耕作

解析：本题主要考查人民生活与地理环境的关系。我国不同地区的气候、地形特点。我国地域辽阔，地区差异大，人们的生活也有显著地差异，依据人民生活与地理环境的关系解答。A、东北地区由于纬度较高，属于温带气候，农作物一年一熟，叙述错误，不符合题意；B、华北平原，这里是黄土，盛产小麦等，叙述错误，不符合题意；C、长江中下游平原，这里河湖密布，有“鱼米之乡”之称，莲藕是常见的食材，叙述正确，符合题意；D、黄土高原，这里千沟万壑，不适宜大规模机械化耕作，叙述错误，不符合题意。

答案：C

四、综合题（共 15 分）

35. 2014 年 12 月 26 日，贵广高铁和南广高铁同时开通运营。读贵广、南广高铁线路示意图和珠江三角洲地区图，回答下列问题。



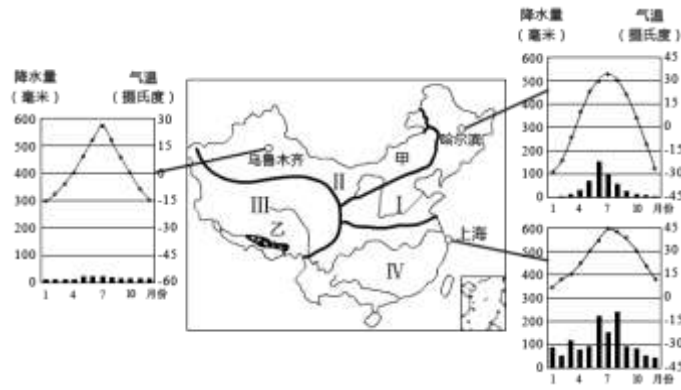
- (1) 贵广高铁经过的省级行政区甲是_____。
- (2) 贵阳、南宁、广州三个城市中位于北温带的是_____。
- (3) 图 1 中三省区所在区域的主要农产品有_____。（单项选择）
 - A. 小麦、苹果
 - B. 水稻、柑橘
 - C. 谷子、芒果
 - D. 玉米、梨
- (4) 图 2 中乙为_____铁路。
- (5) 香港、澳门与广东经济的互补性强，与广东相比，香港的优势条件是_____。

解析：本题主要考查重要的铁路干线、高铁；中国各省级行政区的简称和行政中心。

- (1) 贵广高铁连接广州和贵阳，经过的省级行政区甲是广西壮族自治区。
- (2) 北温带是指北回归线与北极圈之间的地区，贵阳、南宁、广州三个城市中，贵阳位于北回归线以北的北温带。
- (3) 图 1 中三省区所在区域是热带和亚热带，主要粮食作物是有水稻，主要糖料作物是甘蔗，柑橘是主要的水果。
- (4) 图 2 中乙为京九铁路，连接北京与香港九龙。
- (5) 香港、澳门与广东经济的互补性强，与广东相比，香港的优势条件是资金雄厚、科技发达。珠江三角洲和香港的关系非常密切，其合作形式以“前店后厂”为基本模式。

答案：(1) 广西壮族自治区
(2) 贵阳
(3) B
(4) 京九
(5) 资金雄厚、科技发达

36. 读图，回答下列问题。



(1) 哈尔滨和上海两地相比，气温年较差较大的是_____；哈尔滨年降水量比乌鲁木齐年降水量多的原因是_____。

(2) 下列四大地理区的景观描述，正确的是_____。（单项选择）

- A. I - 枯藤老树昏鸦，小桥流水人家
- B. II - 大漠孤烟直，长河落日圆
- C. III - 千里冰封，万里雪飘
- D. IV - 远看是山，近看成川

(3) 甲地形区的地形特征是_____。

(4) 乙是III地理区重要的农业区，简要分析该地农业生产的有利条件：_____。

解析：本题主要考查我四大地理区域及其划分。

(1) 哈尔滨和上海两地相比，气温年较差较大的是哈尔滨；哈尔滨年降水量比乌鲁木齐年降水量多的原因是哈尔滨较乌鲁木齐距海近，受夏季风的影响明显。

(2) 图中 I 是北方地区，II 是西北地区，III 是青藏地区，IV 是南方地区；大漠孤烟直，长河落日圆是描写的西北地区的景观；枯藤老树昏鸦，小桥流水人家，小桥流水主要描写的是南方地区的景观；千里冰封，万里雪飘，描写的是北方地区的景观；远看是山，近看成川，描写的是青藏高原的地表形态特点，是青藏地区的景观；故 B 选项符合题意。

(3) 甲地形区是内蒙古高原，地形特征是地势平坦。

(4) 乙是III青藏地区重要的农业区雅鲁藏布江谷地，该地农业生产的有利条件：位于河谷地带，地势较低，热量充足。

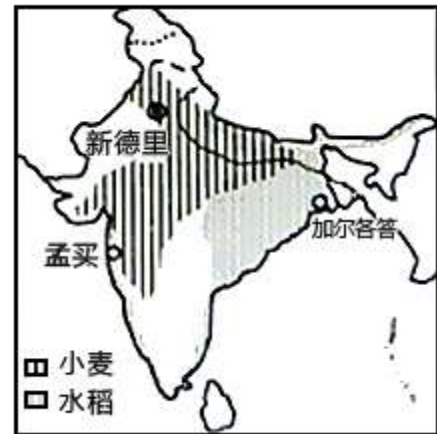
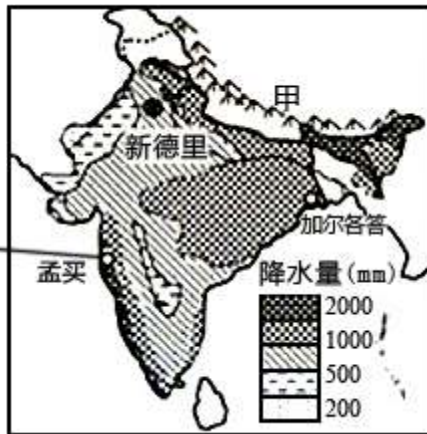
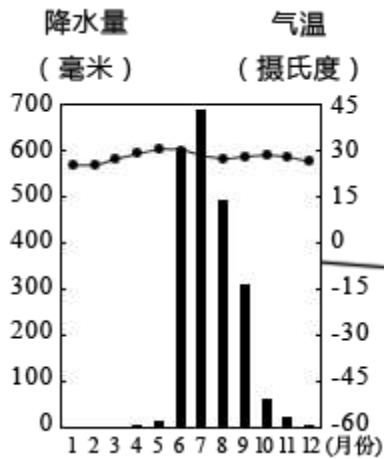
答案：(1) 哈尔滨 哈尔滨较乌鲁木齐距海近

(2) B

(3) 地势平坦

(4) 位于河谷地带，地势较低，热量充足。

37. 2015 年 5 月 14 日，印度总理莫迪抵达西安，开始为期 3 天的对华正式访问，中印两国交往历史悠久。读孟买气候资料图 1、印度年降水量分布图 2 及注意粮食作物分布图 3，回答下列问题。



- (1) 读图 1 分析，孟买的气候特点是_____。
- (2) 图 2 中甲山脉是_____。
- (3) 据图 2、3 说出水稻分布区与小麦分布区的气候差异：_____。
- (4) 印度粮食总产量居世界前列，粮食却不能自给，每年需大量进口粮食。请你为印度总理出谋划策，可采取哪些措施来解决上述问题？_____（至少两条）

解析：本题主要考查印度的概况。

- (1) 印度热带季风气候最显著的特征是全年高温，一年可分为雨、热、凉三季（或旱、雨两季）。
- (2) 印度北部是高大的甲喜马拉雅山。
- (3) 印度的农业以水稻种植为主，主要分布于印度东北部和西部沿海地区的多雨区。其次为小麦，主要分布于西北部干旱少雨地区。
- (4) 2009 年印度人口达 11.6 亿，居世界第二位，是粮食不能自给的主要原因，要实行计划生育，控制人口增长。同时发展科技兴农，提高粮食产量。

- 答案：(1) 全年高温，一年可分为雨、热、凉三季
- (2) 喜马拉雅山
- (3) 小麦分布于少雨地区，而水稻分布于多雨地区
- (4) 实行计划生育、科技兴农等。