

2016年黑龙江省绥化市中考真题地理

一、选择题（共20小题，每小题2分，满分40分）

1. 地球仪上的 0° 纬线也叫（ ）

- A. 赤道
- B. 本初子午线
- C. 南回归线
- D. 北回归线

解析：纬线的长短规律是由赤道向两极逐渐变短，赤道是最长的纬线，即 0° 纬线。

答案：A

2. 地图种类繁多用途广泛，想找到某个国家的准确位置最好查找（ ）

- A. 世界地形图
- B. 世界植被图
- C. 世界政区图
- D. 世界气候类型分布图

解析：在庞大的地图家族中，有自然地图和社会经济地图。自然地图包括地形图、气候图、水文图、植被图等，社会经济地图包括工业图、农业图、商业图、交通图、人口分布图等。日常生活中，我们应根据实际需要选择合适的地图。我们想找到某个国家的准确位置最好查找世界政区图。

答案：C

3. 世界上使用范围最广的语言是（ ）

- A. 汉语
- B. 英语
- C. 俄语
- D. 阿拉伯语

解析：英国是英语发源地，由于历史上英国的殖民地遍及全球，英语的影响也波及世界，以英语为母语的人现已超过4亿；英语主要分布在英国、美国、加拿大、印度、澳大利亚以及新西兰等国家，英语是世界上使用范围最广的语言；汉语是世界上使用人数最多的语言。

答案：B

4. 亚洲地势特点是（ ）

- A. 中部高，四周低
- B. 西高东低
- C. 东高西低
- D. 中部低，四周高

解析：亚洲地势中部高，四周低。“世界屋脊”青藏高原雄踞亚洲中部，喜马拉雅山脉等众多高大的山脉，以帕米尔高原为中心向四周延伸。

答案：A

5. 下列属于日本著名旅游胜地的是（ ）

- A. 下龙湾

- B. 玉山
- C. 富士山
- D. 乞力马扎罗山

解析：日本著名的旅游胜地是富士山，下龙湾位于越南，玉山位于台湾，乞力马扎罗山位于非洲。

答案：C

6. 东南亚地区中南半岛的地形特点是（ ）

- A. 山河相间，纵列分布
- B. 大江东去，千沟万壑
- C. 水流平缓，一望无际
- D. 九曲回肠，林海雪原

解析：中南半岛因在中国以南而得名。中南半岛北部地势高峻，与我国山水相连，高山和大河由北向南延伸，形成山河相间、纵列分布的地表形态。

答案：A

7. 我国南北纬度跨度大，从纬度位置看我国主要位于五带中的（ ）

- A. 南温带
- B. 北温带
- C. 南寒带
- D. 热带

解析：我国从东西半球来看，位于东半球；从南北半球来看，位于北半球；我国位于亚洲东部，太平洋的西岸；我国领土南北跨纬度很广，大部分位于中纬度地区，属北温带，南部少数地区位于北回归线以南的热带，没有寒带，只有在高山地区才有终年冰雪带。

答案：B

8. 位于非洲北部，世界上最大的沙漠是（ ）

- A. 塔克拉玛干沙漠
- B. 撒哈拉沙漠
- C. 维多利亚大沙漠
- D. 阿塔卡马沙漠

解析：“撒哈拉”，阿拉伯语意为“大荒漠”。撒哈拉沙漠北起非洲北部的阿特拉斯山脉，南至苏丹草原带，宽 1300~2200 千米；西自大西洋边，东达红海沿岸，长 4800 千米，面积达 770 多万平方千米，是世界上面积最大的沙漠。

答案：B

9. 世界上唯一独占整个大陆的国家是（ ）

- A. 澳大利亚
- B. 美国
- C. 俄罗斯
- D. 巴西

解析：澳大利亚位于南半球，经济发达，是世界上唯一拥有整个大陆的国家。

答案：A

10. 印度软件外包产业的发源地是（ ）

- A. 新德里
- B. 孟买
- C. 加尔各答
- D. 班加罗尔

解析：印度软件外包产业的发源地是班加罗尔，该城市位于印度的南部。

答案：D

11. 酷寒、干燥、烈风形容的大洲是（ ）

- A. 亚洲
- B. 非洲
- C. 南极洲
- D. 北美洲

解析：酷寒、干燥、烈风形容的大洲是南极洲，该大洲是世界上纬度最高的大洲。

答案：C

12. 以下河流不发源于三江源地区的是（ ）

- A. 长江
- B. 黄河
- C. 澜沧江
- D. 黑龙江

解析：青藏地区的主体是有“世界屋脊”之称的青藏高原。青藏地区是亚洲众多大江大河的源头，长江、黄河、澜沧江、雅鲁藏布江、恒河、印度河都发源于这里。本区拥有藏羚羊、雪豹、野驴等许多珍稀动物，但自然环境严酷，生态脆弱。

答案：D

13. 我国重要的人口地理界线是（ ）

- A. 黑河—腾冲一线
- B. 秦岭—淮河一线
- C. 400 毫米等降水量线
- D. 大兴安岭—太行山—巫山—雪峰山一线

解析：中国人口地区分布不均。一般来说，以黑龙江省的黑河—云南省的腾冲线为界，东部地区人口多（稠密），西部地区人口少（稀疏）；此线以东人口稠密，面积仅占全国总面积的 43%，人口却占全国总人口的 94%，此线以西人口稀疏，面积占全国总面积的 57%，人口只占总人口的 6%。

答案：A

14. 我国是一个多民族的国家，共有民族（ ）

- A. 56 个
- B. 55 个
- C. 45 个
- D. 50 个

解析：中国是一个团结统一的多民族大家庭，有汉、壮、蒙古、回、藏、维吾尔、苗等 56 个民族。各民族中，汉族人数最多，约占全国人口总数的 91.5%；其他民族人口总数约占 8.5%，

统称为少数民族。

答案：A

15. 被称为“经济发展的先行官”的是（ ）

- A. 工业
- B. 农业
- C. 畜牧业
- D. 交通运输业

解析：交通运输业是指利用各种运输工具，促使客、货沿特定路线实现空间位移的生产部门。它起着联结产业之间、区域之间、城乡之间的纽带作用。在经济社会发展的过程中，交通运输业被称为“经济发展的先行官”。

答案：D

16. 下列资源属于可再生资源的是（ ）

- A. 森林
- B. 铁矿石
- C. 煤炭
- D. 石油

解析：可再生资源是指被人类开发利用后，可以在较短时间内更新、再生，或者能够重复利用、循环使用的自然资源，如气候资源、生物资源、水资源和土地资源等。

答案：A

17. 下列文化遗产，位于北京的是（ ）

- A. 龙门石窟
- B. 承德避暑山庄
- C. 长城
- D. 丽江古城

解析：北京的文化遗产有故宫、天坛、颐和园、长城等，而龙门石窟位于河南省，承德避暑山庄位于河北省，丽江古城位于云南省。

答案：C

18. 黄河是我国含沙量最大的河流，治理黄河的关键是（ ）

- A. 治沙
- B. 加固大堤
- C. 裁弯取直
- D. 防止水污染

解析：“治黄”的关键在于“治沙”，根本措施是在上、中游，特别是黄土高原地区，大力开展水土保持工作，控制水土流失，减少泥沙下泄；另一方面在下游修堤筑坝，加固黄河大堤。这样，对确保黄河下游两岸人民生命财产安全起到了很大作用。

答案：A

19. 被称为“鱼米之乡”的地区是（ ）

- A. 东北地区
- B. 西北地区

C. 长江三角洲地区

D. 三江源地区

解析：长江三角洲地区地势低平、湖泊众多、河渠稠密、水田连片，是我国著名的“鱼米之乡”和“水乡”。

答案：C

20. 台湾省西隔台湾海峡与祖国大陆相望的省是（ ）

A. 广东省

B. 福建省

C. 浙江省

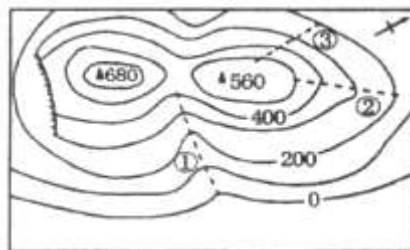
D. 江苏省

解析：台湾省位于我国东南海域，主体是台湾岛；台湾西隔台湾海峡与福建省相望，临东海和南海。

答案：B

二、读图解析题（共8小题，每空1分，满分50分）

21. 读等高线地形图，回答问题。



(1) 图中最高峰海拔____米，两座山峰的相对高度是____米。

解析：读图可知，图中最高峰海拔是680米，另一山峰海拔高度为560米，两座山峰的相对高度是680米—560米=120米。

答案：680 120

(2) ②、③两条山路坡度更缓的是____。（填序号）

解析：②、③两条山路中，②线路处等高线稀疏，坡度平缓。

答案：②

(3) ①处山体部位的名称是____。

解析：①处等高线向海拔高处凸，为山谷。

答案：山谷

22. 读俄罗斯（图1）、美国（图2）地形图，回答下列问题。



图1



图2

(1) 俄罗斯北邻 A _____ 洋，首都 B 是_____。

解析：俄罗斯北邻 A 北冰洋，首都 B 是莫斯科，该城市是俄罗斯最大的城市。

答案：北冰 莫斯科

(2) 俄罗斯有世界上最深、蓄水量最大的淡水湖 C 是_____。

解析：俄罗斯有世界上最深、蓄水量最大的淡水湖 C 是贝加尔湖。

答案：贝加尔湖

(3) 读美国图，世界第四长河 D 是_____，F 是_____山脉，邻国 E 是_____。

解析：世界第四长河 D 是密西西比河，该河流自北向南注入墨西哥湾，F 是落基山脉山脉，邻国 E 是加拿大。

答案：密西西比河 落基山脉 加拿大

(4) 两国中属于横跨亚欧两大洲的欧洲国家是_____。

解析：俄罗斯地跨亚欧两大洲，其工业和城市主要分布在欧洲部分。

答案：俄罗斯

(5) 俄罗斯从中国进口的货物中最有可能的是_____。（填字母）

- A. 天然气
- B. 石油
- C. 钢铁
- D. 轻工业产品。

解析：俄罗斯从中国进口的货物中最有可能的是轻工业产品，因为俄罗斯工业以重工业为主，轻工业比较落后。

答案：D

23. 读澳大利亚（见图1）和巴西图（见图2），回答问题。



图1



图2

(1) 山脉 B 是_____。

解析：山脉 B 是大分水岭。

答案：大分水岭

(2) ①是世界上面积最大的_____平原，这里分布着地球上面积最大的_____（植被），它具有巨大的环境效益和经济效益。②是世界上面积最大的_____高原。

解析：①是世界上面积最大的亚马孙平原，这里分布着地球上面积最大的热带雨林，它具有巨大的环境效益和经济效益，有“地球之肺”之称。②是世界上面积最大的巴西高原。

答案：亚马孙 热带雨林 巴西

(3) 巴西首都 A 是_____。

解析：巴西首都 A 是巴西利亚，位于巴西高原上。

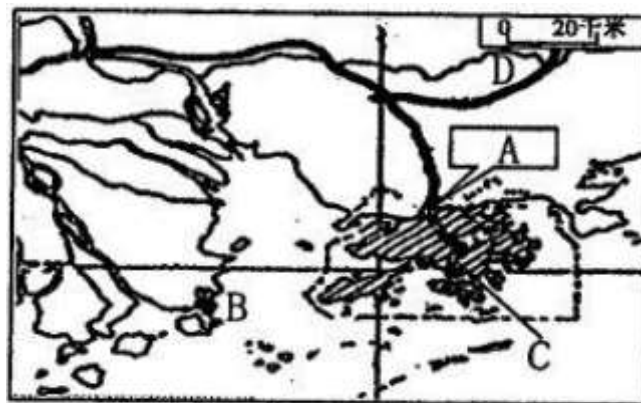
答案：巴西利亚

(4) 由图可知，巴西和澳大利亚的人口和城市主要分布在_____地区。

解析：巴西和澳大利亚的人口和城市主要分布在东南沿海地区，该地区气候温和湿润，交通运输便利。

答案：东南沿海

24. 读图，回答问题。



(1) 澳门特别行政区 B 的经济支柱是_____。

解析：读图分析可知：澳门特别行政区的经济支柱是博彩旅游业。

答案：博彩旅游业

(2) 位于珠江口东侧的 C 是_____特别行政区，与它毗邻的经济特区 A 是_____。

解析：位于珠江口东侧的 C 是香港特别行政区，与它毗邻的经济特区 A 是深圳。

答案：香港 深圳

(3) 改革开放初期，珠江三角洲地区与港澳地区的经济模式是“_____”。

解析：改革开放初期，珠江三角洲地区与港澳地区的经济模式是“前店后厂”。港澳地区为珠江三角洲提供丰富的资金、技术和管理经验，控制产品的质量，进行市场推广和对外营销，扮演“店”的角色，而珠江三角洲为港澳地区提供土地、自然资源和劳动力，进行产品的加工、制造和装配，扮演“厂”的角色。

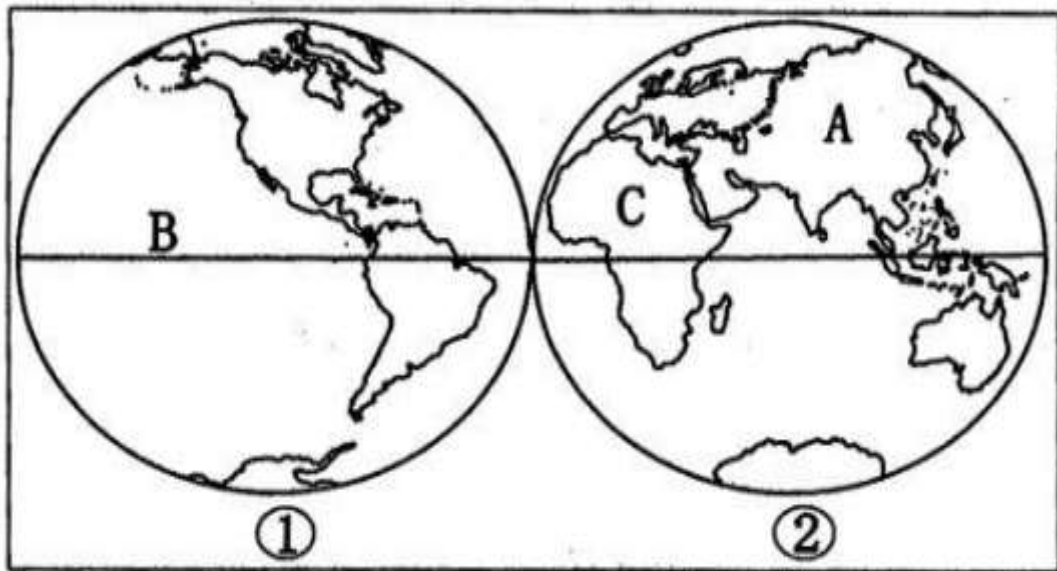
答案：前店后厂

(4) 北京到香港九龙的铁路 D 是_____线。

解析：北京到香港九龙的铁路 D 是京九线。

答案：京九

25. 读东、西半球图，回答下列问题。



(1) 图①表示的是_____（东或西）半球，B 是四大洋中面积最大的_____洋。

解析：读图分析可知：依据大洲大洋的分布，图中①图表示的是西半球，②图表示的是东半球，B 是四大洋中面积最大的太平洋。

答案：西 太平

(2) A 是世界上跨纬度最广、东西距离最长的大洲，它是_____洲。

解析：A 是亚洲，是世界上跨纬度最广、东西距离最长的大洲。

答案：亚

(3) 大洲 A 和大洲 C 的分界线是_____运河。

解析：大洲 A 亚洲和大洲 C 非洲的分界线是苏伊士运河。

答案：苏伊士

(4) 本初子午线与赤道的交点位于_____半球。

解析：本初子午线与赤道的交点位于东半球。

答案：东

26. 读我国地势阶梯分布图，回答下列问题。



(1) A是_____山脉，它是我国第一级阶梯与第二级阶梯的分界线。

解析：A是昆仑山脉，它是我国第一级阶梯与第二级阶梯的分界线。

答案：昆仑

(2) 山脉A南侧是_____高原，是世界上海拔最高的高原，被称为“_____”。

解析：昆仑山南侧是青藏高原，是世界上海拔最高的高原，被称为“世界屋脊”。

答案：青藏 世界屋脊

(3) 我国地势第二级阶梯的地形以高原和_____为主。

解析：我国地势第二级阶梯的地形以高原和盆地为主，第三阶梯的地形以平原和丘陵为主。

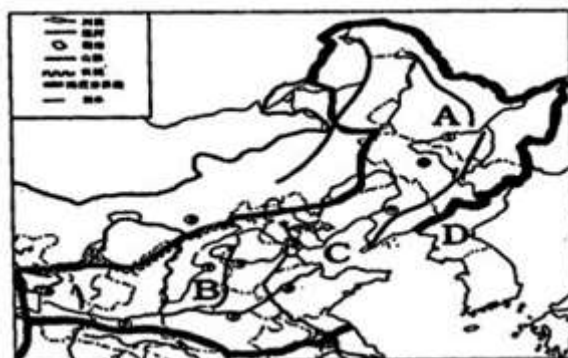
答案：盆地

(4) 我国第一大岛B是_____。

解析：我国第一大岛B是台湾岛，第二大岛屿是海南岛。

答案：台湾岛

27. 读我国北方地区地形图，回答下列问题。



(1)A是我国的家乡____省，它的简称是_____。

解析：读图可得，A是黑龙江省，B是太行山，C是渤海。A是黑龙江省，其简称是黑。

答案：黑龙江 黑

(2)B是____山脉（第二、三阶梯的分界线），它的西侧是____高原。

解析：B是太行山脉，它的西侧是黄土高原，东侧是华北平原。

答案：太行 黄土

(3)我国有两个内海，其中C是____海。

解析：图中C是渤海，位于山东半岛与辽东半岛之间。

答案：渤

(4)我国邻国众多，D是_____。

解析：我国邻国众多，D是朝鲜。

答案：朝鲜

(5)下列工业不宜在东北三省发展的是_____。（填字母）

A. 机械制造业

B. 石油化工业

C. 家具制造业

D. 甘蔗制糖业

解析：东北三省适宜发展机械制造业、石油化工业、家具制造业，甘蔗是我国南方地区的糖料作物。

答案：D

(6)东北三省气候冷湿，其作物熟制是_____（填字母）

A. 一年一熟

B. 两年三熟

C. 一年两熟

D. 一年三熟

解析：东北三省气候冷湿，主要位于中温带，其作物熟制是一年一熟。

答案：A

28. 读长江水系和我国四大地理区域图，回答以下问题。

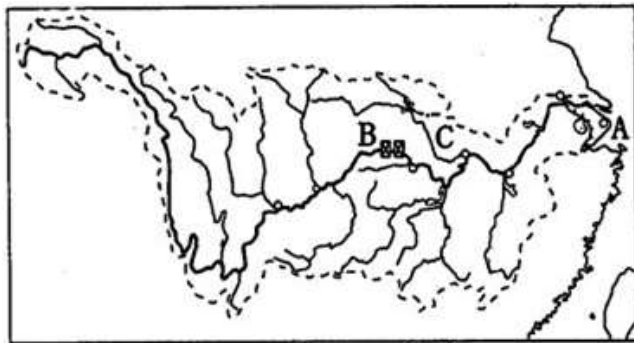


图1

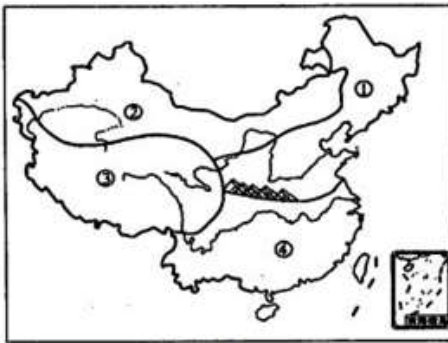


图2

(1)长江发源于青藏高原上的_____山脉，注入A_____海。

解析：长江发源于青藏高原上的唐古拉山脉，注入A东海。

答案：唐古拉 东

(2)长江水能资源丰富，被称为“水能宝库”，其水能资源主要集中在_____（填“上游”或“下游”）河段。

解析：长江水能资源丰富，被称为“水能宝库”，其水能资源主要集中在上游（填“上游”或“下游”）河段。

答案：上游

(3)我国最大的水利枢纽B是_____，长江主要支流C是_____江。

解析：我国最大的水利枢纽B是三峡，长江主要支流C是汉江。

答案：三峡 汉

(4)西北地区②最突出的自然环境特征是_____。

解析：西北地区②最突出的自然环境特征是干旱。

答案：干旱

(5)地区①、④的分界线与我国一月份_____℃等温线，_____mm等降水量线基本吻合。

解析：地区①、④的分界线与我国一月份0℃等温线，800mm等降水量线基本吻合。

答案：0 800

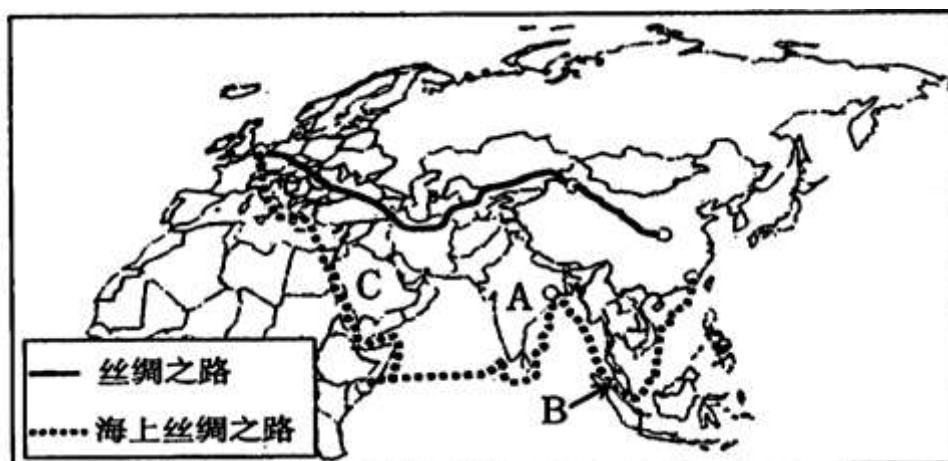
(6)“黄梅时节家家雨，青草池塘处处蛙”描述的是我国_____地区的特点。（填序号）

解析：“黄梅时节家家雨，青草池塘处处蛙”描述的是我国南方地区④地区的特点。

答案：④

三、材料分析题（共2小题，满分10分）

29. 阅读材料，回答下列问题。



材料一：2014年，习近平主席在亚峰会上提出有关“丝绸之路经济带”和“21世纪海上丝绸之路”的倡议，得到沿线50多个国家的积极响应参与。“一带一路”贯穿亚欧大陆，东边连接亚太经济圈，将有力带动周边国家和世界经济发展，对开创我国全方位对外开放新格局、促进地区及世界和平发展具有重大意义。

材料二：“一带一路”示意图如图所示。

(1) 图中 C 是世界上面积最大的半岛_____，该半岛居民大多信仰_____教。

解析：读图可知，图中 C 是世界上面积最大的半岛阿拉伯半岛，该半岛居民大多信仰伊斯兰教，这里以白色人种为主，为热带沙漠气候。

答案：阿拉伯半岛 伊斯兰

(2) 图中“一带一路”的最西端是世界上发达国家最集中的地区，该区域城市的旅游资源不包括_____。(填字母)

- A. 英国白金汉宫
- B. 法国埃菲尔铁塔
- C. 越南下龙湾
- D. 荷兰风车

解析：图中“一带一路”的最西端是欧洲西部，是世界上发达国家最集中的地区，该区域城市的旅游资源丰富，如英国的白金汉宫、法国的埃菲尔铁塔、越南的下龙湾、荷兰的风车等；越南的下龙湾位于东南亚，故选项 C 符合题意。

答案：C

(3) 根据材料二，图中 A 处是典型的热带季风气候，由于夏季风不稳定，经常遭受的气象灾害是_____灾害。

解析：根据材料二，图中 A 处是南亚，属于典型的热带季风气候，由于夏季风不稳定，经常遭受旱涝灾害，影响了该地的粮食生产。

答案：旱涝

(4) “海上丝绸之路”从中国南海起，途径被称为“海上生命线”的 B_____海峡。

解析：“海上丝绸之路”从中国南海起，途径被称为“海上生命线”的 B 马六甲海峡，该海峡沟通了太平洋和印度洋，地理位置十分重要。

答案：马六甲

30. 阅读材料，回答下列问题。

材料一：从空间分布看，我国水资源南丰北缺。大致以长江流域北界为界，南方水资源占全国 80%以上，北方不足 20%。特别是华北和西北地区，缺水最为严重。

材料二：解决水资源地区分布不均的有效办法之一是跨流域调水。为了缓解北方地区严重缺水的状况，我国正在实施南水北调工程，把长江流域丰富的水资源调到华北和西北地区。如图所示。

材料三：漫画



南水北调线路示意图

(1) 根据材料一，我国严重缺水的地区是西北和_____地区。

解析：我国严重缺水的地区是西北地区和华北地区。

答案：华北

(2) 根据材料二，解决水资源地区分布不均的有效办法是_____。

解析：解决水资源地区分布不均的有效办法是修建跨流域调水工程，解决水资源时间分布不均的办法是修建水库。

答案：修建跨流域调水工程

(3) 南水北调工程是从_____流域调的水。

解析：南水北调工程是把长江流域调的水调到西北地区和华北地区。

答案：长江

(4) 漫画中表现的是我国在水资源利用上存在的_____现象，从某种意义上讲，_____比调水更重要。

解析：漫画中表现的是我国在水资源利用上存在的水浪费现象，从某种意义上讲，节水比调水更重要。

答案：水浪费 节水