

# 黄冈市2012年初中毕业生学业考试 文科综合试题

(思想品德: 45 分, 历史: 40 分, 地理: 35 分 考试时间: 100 分钟)

## 第 I 卷选择题(共54 分)

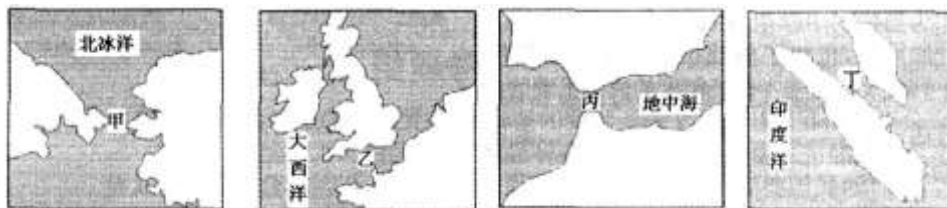
### 一、选择题(每小题只有一个选项符合题意)



地球仪是地理学习的重要工具。观察地球仪, 回答1—2 题。

- 1、夏至时, 图中甲点可能出现的景象是
  - A、碧玉妆成一树高, 万条垂下绿丝绦
  - B、接天莲叶无穷碧, 映日荷花别样红
  - C、停车坐爱枫林晚, 霜叶红于二月花
  - D、千里黄云白日曛, 北风吹落雪纷纷
- 2、对图中甲、乙两点的描述, 不正确的是
  - A、甲点位于东半球、北半球
  - B、乙点一年中有两次太阳直射现象
  - C、乙点位于甲点的西南方向
  - D、甲点的坐标为120° W, 30° N

读下列四幅世界著名海峡图, 回答3—4 题。

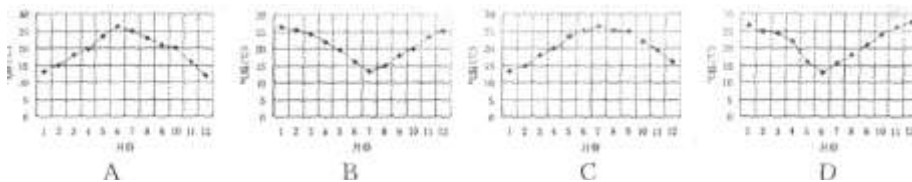


- 3、2012 年的英国伦敦奥运会即将举行, 图中最靠近举办地的海峡是
  - A、丁 B、丙 C、乙 D、甲
- 4、有关四个海峡的叙述不正确的是
  - A、甲、丙海峡都是大洲的分界线
  - B、乙海峡附近的陆地主要是温带海洋性气候
  - C、丙海峡沟通了地中海与大西洋
  - D、丁海峡是西方国家的“海上生命线”

根据某地的气温和降水资料, 回答5—6题。

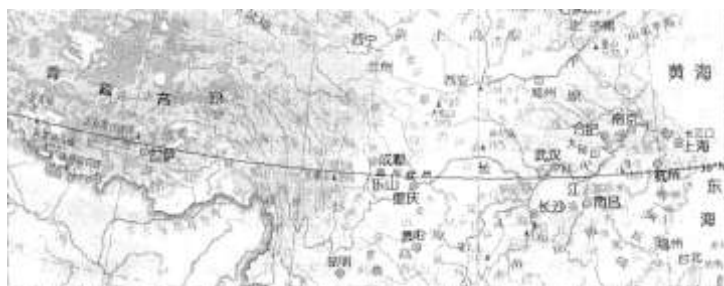
时间(月)	1	2	3	4	5	6	7	8	9	10	11	12
气温(℃)	26.4	25.3	24.1	22.0	19.4	16.2	13.2	15.0	18.1	19.8	23.4	25.2
降水量(mm)	21	13	25	59	101	108	113	98	61	47	35	9

- 5、根据表中数据, 四位同学分别绘制了该地的气温年变化曲线图, 其中最准确的是



- 6、该地最可能是
  - A、南非的开普敦 B、希腊的雅典
  - C、巴西的巴西利亚 D、英国的伦敦

话说《西游记》中唐僧师徒四人, 一日兴起, 决定从东海沿北纬30° 一路西行, 再进行一次



“西天取经”。读图回答7—8 题。

- 7、师徒四人将沿途的见闻感受发在微博上，其中不可信的是
- A、为师拜访了蜀地的乐山大佛、西藏的布达拉宫
- B、俺老孙喜欢江南的阴雨连绵，也喜欢拉萨的阳光灿烂
- C、俺老猪见识了鱼米之乡的平坦广阔，也见识了青藏高原的千沟万壑
- D、俺老沙发现长江下游江面宽阔，水流平缓；上游江面狭窄，滩多流急
- 8、师徒四人一日在黄冈地区小憩，他们发现黄冈地区位于长江
- A、中游北岸B、中游南岸C、下游北岸D、下游南岸
- 9、严格官员管理，健全监察制度是防止政府权力被滥用的重要途径。为此，秦始皇时期设立了
- A、丞相B、御史大夫C、门下省D、军机处
- 10、有学者指出：“经济重心的南移是我国历史发展的一个重大事件，也是迄今经济地理格局唯一的一次巨大变迁。”人们普遍认为我国经济重心南移完成于
- A、三国时期B、隋唐时期C、两宋时期D、明清时期
- 11、编年体是我国传统史书的一种体裁，特点是按年、月、日编排史实，记述历史。下列属于这种体裁的史学著作是
- A、《史记》B、《离骚》C、《资治通鉴》D、《红楼梦》
- 12、为“自强”，洋务派创办了一批军事工业；为“求富”，他们又创办了一批民用企业。下列哪个企业是洋务派为“求富”而兴建的？



- A、江南制造总局B、福州船政局C、南通大生纱厂D、汉阳铁厂
- 13、辛亥革命是中国近代历史进程中的一个重要里程碑。下列有关它的表述，不正确的是
- A、它结束了两千多年的封建帝制
- B、它颁布了《中华民国临时约法》
- C、它引起了社会习俗的新变化
- D、它吹响了新文化运动的号角
- 14、我国在“一五”时期各部门的投资比例表

部门	工业	农林水利	交通运输	文化教育卫生	其它
投资比例	58.2%	7.6%	19.2%	7.2%	7.8%

注：在工业内部，轻重工业之间的投资比例约为1：7.9。

- 由此可见，我国当时
- A、农轻重三业均衡发展B、优先发展重工业
- C、优先发展交通运输业D、已进入社会主义初级阶段
- 15、人类曾生活在彼此隔绝的地区，后来世界逐步连成一片，走向整体。在此过程中起决定性作用的因素是
- A、交通事业的发展B、地理知识的积累
- C、资本主义的兴起与发展D、航海探险家的贡献
16. “诉诸武力的办法是由英王选择的，北美大陆已接受了这个挑战”。与这句话相关的历

史事件是

- A、英国资产阶级革命
- B、法国大革命
- C、美国独立战争
- D、俄国农奴制改革

17、历史结论的提出，必须言之有理、论之有据。下列历史结论，不正确的是

- A、1861年改革，使俄国走上了资本主义发展道路
- B、“凡尔赛——华盛顿”体系的建立，意味着帝国主义列强之间矛盾的彻底消除
- C、东欧剧变和苏联解体，标志着两极格局的终结
- D、纳米比亚的独立，宣告欧洲殖民者奴役非洲几百年的历史结束

18、2011年感动中国人物——孟佩杰从8岁开始为生计而操劳，12年无怨无悔地承担起侍奉养母的重任。她以自己的实际行动告诉我们

①孝敬父母是中华民族的传统美德②孝敬父母应从身边的小事做起：③赡养父母是每一个子女从小就要履行的法律义务④孝敬父母就要爱父母，帮助父母，为父母分忧

- A、①②③
- B、①②④
- C、②③④
- D、①③④

19、随着互联网的快速发展，近年来网络谣言也在滋生蔓延。它不仅败坏个人名誉，给受害人造成极大的精神困扰，也损害国家形象，影响社会稳定。在净化网络，消除网络谣言的行动中，



青少年不应该做的是

- A、充分利用网络优势，做网络的主人
- B、提高自己的辨别觉察能力和抗诱惑能力
- C、积极参与其中，推波助澜
- D、遵守法律和道德，不制造、传播谣言

20、漫画《校车猛于虎》，表明校车安全问题直接关系到青少年的

- A、人身自由权
- B、生命健康权
- C、财产所有权
- D、受教育权

21、2011年10月，国务院启动了农村义务教育学生营养改善计划，中央财政每年安排160多亿

元专项资金，为680个国家试点县的所有农村义务教育学生提供每天3元钱的营养膳食补助。这一措施

- A、体现了义务教育的强制性和统一性
- B、体现了国家为公民的受教育权提供物质帮助
- C、表明义务教育是国家的事情，与家庭和个人无关
- D、表明义务教育的目的是保障学生的生命健康权

22、目前一些地方在公开招聘中，出现了为干部子女“量身定做”

招聘条件的事件。图中的漫画《量身定做》就是网友对这种不公平现象的有力讽刺。这类事



件受到谴责是因为

- ①不利于社会稳定和发展
- ②违背了公平竞争的原则
- ③公平总是相对的，要受社会条件的制约
- ④使更多的人失去了公平发展的机会

A、①②③ B、①③④ C、①②④ D、②③④

23、2012年5月8日，在黑龙江省佳木斯市第十九中学门口，一辆公交车突然失控，冲向刚刚放学的学生，危急时刻，女教师张丽莉推开学生，自己却被汽车撞成重伤。女教师张丽莉的事迹感动着我们身边每一个人，人们称她为“最美女教师”。你认为，她“美”在

①热爱学生、关爱学生的崇高师德②热心公益，服务社会的优秀品质③高度的社会责任感④舍己为人的无私奉献精神

A、①③④ B、②③④ C、①②③ D、①②④

24、中国共产党成立90周年以来，中国人民经历了由站起来——富起来——逐步强起来的发展历程。改革开放以来，在党的领导下，我国实现由“富起来”到“逐步强起来”的根本原因是

A、坚持了中国共产党的领导

B、坚持了党的基本路线不动摇

C、坚持了以经济建设为中心

D、开辟了中国特色社会主义道路，形成了中国特色社会主义理论体系



25、读下面两幅漫画，要解决地球和农民的困惑，我们必须

①实行保护和节约资源的基本国策

②落实科学发展观

③实施可持续发展战略

④实行对外开放的基本国策

A、①②③ B、②③④ C、①②④ D、①③④

26、作为当代的中学生，在感受经济生活巨大变化的同时，也应了解我国的基本经济制度。下列关于我国基本经济制度的说法正确的是

下列关于我国基本经济制度的说法正确的是

A、公有制是我国社会主义经济制度的基础，是国民经济的主导力量

B、公有制经济主要包括国有经济、集体经济、个体经济和私营经济

C、现阶段，我国要毫不动摇地巩固和发展公有制经济，限制非公有制经济发展

D、现阶段我国基本经济制度的确立，是由我国社会主义性质和初级阶段国情决定的

27、构建社会主义和谐社会，是从中国特色社会主义总体布局和全面建设小康社会全局出发提出的重大战略。下列事件中符合构建和谐社会要求的是

①国家大力推进保障性住房的建设

②反腐倡廉，开展廉政文化进校园活动

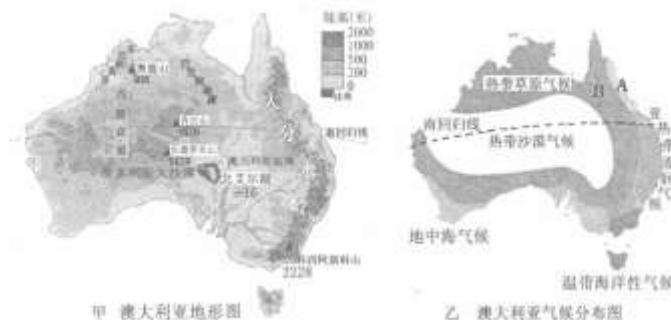
③少数制药企业用工业明胶生产“有毒胶囊”

④公安机关集中开展“打四黑除四害”行动

A、①②③ B、②③④ C、①③④ D、①②④

### 第II卷非选择题(共66分)

地理部分



28、(9分)读图，回答下列问题：

(1)该国是\_\_\_\_\_洲中面积最大的国家，也是世界上唯一拥有整个大陆的国家。(1分)

(2)从甲图可知，该国地形分为三部分，呈南北纵列分布，西部是广阔低矮的\_\_\_\_\_；中部是大面积的平原；东部是自北向南纵贯的\_\_\_\_\_。(2分)



(3)从甲图中可知,澳大利亚的地势最高点是\_\_\_\_\_山,最低点是\_\_\_\_\_湖,两地相对高度为\_\_\_\_\_米。(3分)

(4)从乙图中气候分布可知,热带草原气候呈\_\_\_\_\_状分布在热带沙漠气候外围。(1分)

(5)在乙图中,A地为\_\_\_\_\_气候,该地降水明显比B地多,请结合甲图分析其主要原因。A地降水多的主要原因是:\_\_\_\_\_。(2分)

29、(10分)我国领土辽阔,区域差异显著。读“北方地区”图,回答下列问题。



(1)图中的秦岭—淮河一线,与我国1月\_\_\_\_\_等温线和\_\_\_\_\_毫米年等降水量线相吻合。(2分)

(2)图中\_\_\_\_\_海是我国的内海;\_\_\_\_\_平原是我国面积最大的平原,并以“黑土地”著称。(2分)

(3)图中\_\_\_\_\_ (山脉)是我国季风区与非季风区的分界线。黄土高原地处我国地势的第\_\_\_\_\_级阶梯上。(2分)

(4)黄土高原上的传统民居是\_\_\_\_\_。(1分)

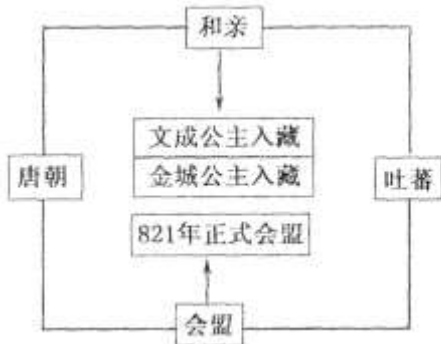
(5)黄土高原水土流失严重,造成这种后果的气候原因是\_\_\_\_\_。(1分)

(6)要实现黄土高原的可持续发展,必须加强生态建设。对治理黄土高原的水土流失,你有什么好的建议?(回答两点即可)(2分)

我的建议:\_\_\_\_\_。

历史部分

30、(8分)民族团结、国家统一是我国历史发展的主流。阅读下列材料,回答问题。



材料一右图是某老师所绘的《唐蕃关系示意图》:

材料二元朝的统一给各族人民相互交往和学习提供了有利的环境。蒙古等族人民成批迁往内地,汉族人也大量来到边疆,契丹、女真等族人民早已进入黄河流域,各族人民杂居相处,互通婚姻,逐渐融合。当时,许多阿拉伯人、波斯人迁入中国,同维吾尔、蒙、汉等民族逐步融合,形成一个新的民族——回族。

——摘编自中学历史课本

材料三17世纪,漠西蒙古准噶尔部的噶尔丹勾结沙俄,大搞分裂,发动叛乱。康熙帝三次率军亲征,大败噶尔丹。18世纪,回部首领大、小和卓发动叛乱,乾隆帝派兵平息。接着,清朝设置伊犁将军,管辖整个新疆地区。

——摘编自中学历史课本

(1)材料一表明,唐朝和吐蕃之间友好交往的主要形式有哪些?吐蕃是我国哪个民族的祖先?(3分)

(2)依据材料二并结合所学知识,概括指出元朝时期我国民族关系的发展有何特点?原因是什

么？(2分)

(3)依据材料三，概括归纳噶尔丹的分裂阴谋不能得逞的主要原因。清朝设置伊犁将军有何重要意义？(3分)

31、(7分)阅读下列材料，回答问题。

材料一辛亥革命后，中华民国临时政府颁布一系列保护、鼓励工商业发展的政策，提高了民族资产阶级的地位，推动了民族工业的进一步发展。第一次世界大战期间，由于帝国主义忙于战争，暂时放松了对中国的经济侵略，客观上为中国民族工业的发展提供了一个有利的外部环境。民族工业出现了“短暂的春天”。

材料二1957—1966年，中国共产党领导全国人民探索社会主义道路，尽管发生了严重失误，但仍取得了社会主义建设的重大成就。



大炼钢铁中的土高炉



人民公社食堂

——以上材料均摘编自中学历史课本

(1)依据材料一，概括民族工业出现“短暂的春天”的主要原因。(2分)

(2)材料二中的“严重失误”主要指的是什么？为纠正“失误”，党中央在1960年提出了什么经济方针？由此，你获得了哪些认识？(5分)

32、(7分)制度创新是社会发展的主要推动力。阅读下列材料，回答问题。

材料一：1921年列宁说：“目前很清楚，我们用冲击的方法，即用简捷、迅速、直接的办法实行社会主义生产和分配的原则的尝试已经失败了。……政治形势向我们表明，在许多经济问题上，必须退到国家资本主义上去，从冲击转到围攻的方法上去。”

——引自《苏联兴之史》

材料二：从1933年罗斯福上台开始，美国出台了《农业调整法》《工业复兴法》《联邦紧急救济法》等700多个法令，建立了全国工业复兴署、联邦紧急救署等几十个委员会和管理局，国家支出达350亿美元。

——据历史教材整理

材料三：斯塔夫里阿诺斯在《全球通史》中说：“(苏联)五年计划(1928—1932年)引起了全世界的关注。尤其是因为同一时期西方经济的崩溃。……因此，原先的怀疑态度转变为真正的兴趣，有时转变为模仿。”

(1)依据材料一，结合所学知识，概括指出苏俄的经济政策发生了怎样的变化？这种变化在农业方面的表现是什么？(4分)

(2)材料二中的做法体现了罗斯福新政的什么特点？(1分)

(3)依据材料三，结合所学知识，分析西方国家对苏联由“怀疑”到“模仿”的原因。(2分)

政治部分

33、(7分)(维护权益共筑诚信)

材料一2012年1月28日，一位网友发布微博：朋友春节在三亚吃海鲜，3个普通菜被宰近4000元。邻桌客人点一条大鱼，花费6000多元。此微博迅速引发网民强烈反应。针对此事件，三亚市工商局迅速行动，封存微博曝光的该海鲜店近期销售台帐，令其停业整顿。

材料二2012年我国“3·15”消费者权益保护日的主题是“共筑诚信，有你有我”。(见右图)



阅读上述材料，运用所学知识，回答下列问题：

(1)[案例剖析]“三亚宰客”事件侵犯了消费者的哪两项权益？(2分)

(2)[依法维权]假如你遇到材料一中的这种情况，你应通过哪些正当、合法的途径维护自己的权益？(3分)

(3)[建言献策]“共筑诚信，有你有我”。请你说明诚信的基本要求。(2分)

34、(8分)[传承文明繁荣文化]

材料一2011年10月15日，中共第十七届六中全会在北京召开。全会审议通过了《中共中央关于深化文化体制改革、推动社会主义文化大发展大繁荣若干重大问题的决定》，首次提出了建设社会主义文化强国的战略目标。《决定》指出：建设社会主义文化强国，就是要着力推动社会主义先进文化更加深入人心，推动社会主义精神文明和物质文明全面发展。

材料二到目前为止，我国在世界上80多个国家创办了300多所“孔子学院”，增进了世界各国对我国传统文化的了解；近年来，我国与美国、法国、俄罗斯等几十个国家开展了互办“文化周”“文化年”活动，增强了彼此在文化上的交流；当中国歌唱家在维也纳金色大厅演唱中国民歌时，中国的文艺节目“星光大道”上，也出现了不少外国人的身影；当世界许多国家饶有兴致地过“中国年”时，“圣诞节”“情人节”“愚人节”等洋节也开始走入中国人的生活之中……

阅读材料，回答下列问题：

(1)[时政解读]为什么要推动社会主义文化大发展大繁荣？(4分)

(2)[观点聚焦]在当代中国，发展先进文化，就是建设社会主义精神文明。加强社会主义精神文明建设的根本任务是什么？(2分)

(3)[感悟行动]在文化大发展大繁荣的时代大潮中，面对不同文化，青少年应如何做一名友好往来的使者？(2分)



35、(10分)[弘扬精神再铸辉煌]

材料一2011年11月17日，神舟八号飞船返回舱在内蒙古中部预定区域安全着陆。至此，天宫一号与神舟八号交会对接任务圆满成功(见上图)，标志着我国空间技术发展跨入国际先进行列。我国的载人航天工程培养造就了一支能够站在世界科技前沿、勇于开拓创新的高素质人才队伍，培育铸就了特别能吃苦，特别能战斗，特别能攻关，特别能奉献的载人航天精神。从航天精神中，我们看到了中华民族万众一心、团结协作的凝聚力和昂扬奋发的民族精神。

材料二在庆祝天宫一号与神舟八号交会对接任务圆满成功大会上，国家主席胡锦涛发表了重要讲话，强调指出：建设创新型国家，实现我国发展的战略目标，最关键的是要大幅提高自主创新能力。全党全军全国各族人民要大力弘扬载人航天精神，万众一心，拼搏奉献，满怀信心为夺取全面建设小康社会新胜利，开创中国特色社会主义事业新局面而不懈奋斗。

请联系并分析上述材料，运用所学知识谈谈你的感受。

### 历史参考答案

选择题：

9. B 10. C 11. C 12. D 13. D 14. B 15. C 16. C 17. B

非选择题

30 ( 1) 形式：和亲（或联姻）和会盟。藏族。

(2) 特点：出现民族大融合盛况。

原因：元朝实现了全国大统一；元代疆域空前辽阔。

(3) 原因：①噶尔丹勾结沙俄分裂祖国的行为是非正义的，违背广大人民的意愿。

②康熙帝反分裂态度坚决果断，举措得当。

意义：加强对新疆地区的管辖，促进了新疆经济的

发展；有利于维护国家的统一和领土的完整。

31. (1) 原因：① 辛亥革命的推动（或中华民国临时政府颁布的政策有利于民族工业发展。）

② “一战”的影响（或帝国主义列强忙于“一战”，暂时放松了对中国的经济侵略。）

(2) 失误：“大跃进”和人民公社化运动。

方针：“调整、巩固、充实、提高。”

认识：搞经济建设必须遵循客观经济规律；进行社会主义建设必须从中国国情出发，坚决克服急躁冒进情绪，坚持实事求是的思想路线；中国共产党在探索社会主义建设道路过程中，既允许犯错误，又敢于纠正自身的不足和错误；正确领导是社会主义建设成败的关键等等（言之有理即可）

32 ( 1) 变化：以新经济政策代替战时共产主义政策。

表现：以粮食税代替余粮收集制，或农民交税后可自由处理自己的粮食。

(2) 国家全面干预经济。

(3) 原因：①当时苏联的经济建设取得巨大成就，综合国力不断提升。②西方爆发了严重的经济危机。

政治参考答案

18. B 19. C 20. B 21. B 22. C 23. A 24. D 25. A

26. D 27. D

33. (1) 知情权，公平交易权。（2分）

(2) ① 与经营者协商和解；② 请求消费者协会调解；③向有关行政部门申诉；④根据与经营者达成的仲裁协议，提请仲裁机构仲裁；⑤向人民法院提起诉讼。（3分。）

(3) 对人守信，对事负责。（每点1分，共2分）

34. (1) ① 中国特色的社会主义社会是经济建设、政治建设、文化建设、社会建设相辅相成、协调发展的社会。（2分）

②社会主义精神文明是改革开放和现代化建设的重要目标，也是搞好改革开放和现代化建设



的重要保证。(2分)

(2) 提高全民族的思想道德素质和科学文化素质,(1分)培养一代又一代有理想、有道德、有文化、有纪律的公民。(1分)

(3) ①面对不同的文化,应采取客观、平等的态度,尊重因文化不同而导致的行为方式的差异,要善于虚心学习其它文化的优点、长处。(1分)

②不仅要以开放的心态尊重不同的文化,还要宣传、弘扬我们的民族文化,让世界了解飞速发展的中国,了解中国源远流长、博大精深的文化。(1分)

35 (1) 民族精神是民族文化的精髓。(1分)中华民族形成了以爱国主义为核心的团结统一、爱好和平、勤劳勇敢、自强不息的伟大民族精神。(2分)这一伟大的民族精神是鼓舞我们民族迎难而上,战胜困难的不竭动力之源。(1分)载人航天精神是中华民族精神在新的条件下的集中体现。(1分)我们每一个中华儿女都有责任、有义务弘扬和培育民族精神。(1分)(共5分)

(2) 创新精神是一个国家和民族发展的不竭动力,也是一个现代人应该具备的素质。(1分)要进一步推进科教兴国和人才强国的战略,就必须加强自主创新能力的培养,弘扬创新精神。

(1分)科技创新能力,已越来越成为综合国力竞争的决定因素。(1分)在激烈的国际科技竞争面前,如果我们的自主创新能力上不去,一味靠技术引进,就永远难以摆脱技术落后的局面。(1分)(共4分)

(3) “神州八号”与“天宫一号”交会对接的成功,是大力弘扬和培育民族精神和创新精神的成果。我们青少年要大力弘扬和培养民族精神和创新精神,努力学习,立志成才。(1分)

#### 地理参考答案

一、选择题(每小题2分,共16分)

题号1 2 3 4 5 6 7 8

答案B D C D B A C A

二、综合题(共19分)

28、①大洋②高原大分水岭(山地或山脉)

③科西阿斯科北艾尔2244 ④半环

⑤ 热带雨林A 地位于大分水岭东侧,地处山地迎风坡。(多地形雨),降水丰富(只要答到“山地迎风坡”或“多地形雨”即可得分)

29. ①0℃ 800 ②渤东北③大兴安岭二

④窑洞⑤夏季降水集中,多暴雨

⑥ 植树种草;修建梯田、打坝淤地;退耕还林还草;合理放牧;加强计划生育,控制人口数量等