

2018 年重庆市中考真题历史 B 卷

一、选择题：本大题共 15 小题，每小题 1 分，共 15 分。在备选答案中只有一项是符合题目要求的。

1.(1 分)某位皇帝不仅使“贞观之风一朝重振”，而且使唐朝进入鼎盛时期。这位皇帝是()

- A.唐太宗
- B.唐高宗
- C.武则天
- D.唐玄宗

解析：唐玄宗不仅使“贞观之风一朝重振”，而且使唐朝进入鼎盛时期。唐玄宗即位后，任用姚崇等人当宰相，重视地方吏治，把中央优秀官吏下放到地方任职，并亲自考核县令政绩，还注意节俭，这些改革措施使开元年间政局为之一新。唐玄宗统治前期，政治清明，经济空前繁荣，仓库充实，人口增加，唐朝进入全盛时期，史称“开元盛世”。

答案：D。

2.(1 分)唐朝著名诗人王维对渝州有这样的描述：登高远眺，万家井邑出现，两江之中舟船济济，水国乡民舟中行商，二水流过，分外澄明。王维的描述直接反映了渝州()

- A.政治清明
- B.经济繁荣
- C.民族团结
- D.文教昌盛

解析：分析材料“登高远眺，万家井邑出现，两江之中舟船济济，水国乡民舟中行商，二水流过，分外澄明”。描述了唐朝时期渝州商业发展、人民生活繁荣的状况，B 选项符合题意。

答案：B。

3.(1 分)对于如图所示著作，日本科学史家三枝博音曾指出：“‘天工’是与人类行为对应的自然界的行爲，而‘开物’则是根据人类生存的利益将自然界中所包藏的种种由人类加工出来。”这部著作()



- A.认为人类在自然界面前无能为力
- B.广泛记载了农业和手工业的技术
- C.主要记述了重要历史人物和事件

D.着重介绍了我国古代商业的情况

解析：明朝杰出的科学家宋应星所著的《天工开物》，总结明代农业和手工业生产技术，还反映了明代我国手工工场的生产面貌，涉及到农业和手工业等三十多个生产部门，作者在书中强调人类要和自然相协调、人力要和自然力相配合。这部书被外国学者称为“中国 17 世纪的工艺百科全书”。B 符合题意。

答案：B。

4.（1 分）维护国家统一是中华民族的根本利益所在。下列属于清朝统治者维护国家统一的措施有（ ）

- ①戚继光抗倭
- ②设置驻藏大臣
- ③设置台湾府
- ④平定大小和卓叛乱

A.①②③

B.①②④

C.①③④

D.②③④

解析：戚继光抗倭属于明朝维护国家统一的措施；设置驻藏大臣、设置台湾府、平定大小和卓叛乱属于清朝统治者维护国家统一的措施。②③④属于清朝统治者维护国家统一的措施。

答案：D。

5.（1 分）文学作品能够反映时代的面貌。下列明清时期的小说，描写了封建家族的衰亡，揭示了封建社会必然崩溃历史命运的是（ ）

A.《水浒传》

B.《三国演义》

C.《西游记》

D.《红楼梦》

解析：清朝曹雪芹创作的《红楼梦》是中国古典小说的巅峰，它描写了贾、王、史、薛四大封建家庭衰亡和贵族青年贾宝玉与林黛玉爱情悲剧，深刻鞭挞了封建礼教和封建制度的罪恶，揭示了封建社会必然崩溃的历史趋势，具有高度的思想性和艺术性，堪称中国古典小说巅峰之作。选项 D 符合题意。

答案：D。

6.（1 分）“5 日，学生请校方出面救人……19 日，北京所有大专学校的学生拒绝上课……18、20、21 日，日本驻华公使向北京政府提出三次抗议，要求镇压学生的反日活动……26 日，上海 2 万多学生罢课。”上述材料叙述的历史事件应是（ ）

A.五四运动

B.中国共产党成立

C.北伐战争

D.西安事变

解析：由材料“北京，学生的反日活动”结合所学，1919 年，中国在巴黎和会上外交失败的消息传到国内，5 月 4 日，北京的青年学生走上街头，举行集会、抗议等活动，五四运动爆发。可知，A 符合题意。

答案：A。

7. (1分) 重庆有着丰富的红色旅游资源。周末, 小邱和同学去酉阳南腰界参观了某红军会师旧址。该红军会师指的是 ()

- A. 红一、二方面军会师
- B. 红一、二、四方面军会师
- C. 红二、四方面军会师
- D. 红六军团与红三军(红二军团)会师

解析: 1934年10月24日, 红六军团冲破敌人重围, 到达黔东根据地, 与贺龙率领前来接应的红二军团在黔东印江县木黄胜利会师。会师后, 奉中央命令, 红三军正式恢复了红二军团番号。26日, 二、六军团在叫川酉阳南腰界召开会师庆祝大会。

答案: D。

8. (1分) 文学艺术因时而兴, 与时代同共振。1937年出生于上海, 1939年1月来到重庆, 担负时代使命, 开展抗日宣传活动, 演出《猴儿大王》等戏剧的剧团是 ()

- A. 中华剧艺社
- B. 孩子剧团
- C. 七七少年剧团
- D. 中国青年剧社

解析: 演出《猴儿大王》等戏剧的剧团是孩子剧团。孩子剧团建团初期, 在上海街头里弄演出了吴雪导演的《放下你的鞭子》及《仁丹胡子》、《捉汉奸》、《街头》等, 激发了人们的抗日热情。“皖南事变”后, 1942年12月剧团演出了石凌鹤、张莺等根据张天翼的同名小说改编的5幕童话剧《秃秃大王》, 国民党当局借口此剧影射蒋介石而下令禁演, 后经交涉和修改, 将剧名改为《猴儿大王》始得演出。

答案: B。

9. (1分) 照片定格了历史的瞬间, 是第一手史料。如图照片按照拍摄时间的先后排序, 正确的是 ()



①中国军队在卢沟桥上自卫反击



②日军装甲车进入沈阳城



③中国军队在台儿庄与日军巷战



④彭德怀在炮团哨所指挥作战

- A. ①②③④
- B. ①②④③
- C. ②①③④
- D. ③①②④

解析：分析图片可知，1937年7月7日爆发七七事变；1931年9月18日夜，日军在炸断柳条湖一小段铁路后，随即调兵向北大营发起攻击，攻占沈阳城。台儿庄战役发生在1938年3月；百团大战发生在1940年下半年，所以按照拍摄时间的先后排序，正确的是②①③④。

答案：C。

10. (1分) 1951年，著名民主人士梁漱溟参加西南地区土地改革之后对毛泽东说：“土地改革是深得民心之举，很必要，也很及时。”同时，他也谈到土改有过火现象。毛泽东说：“你说的情况别的地方也有发生……关键是土改工作队的干部，只要他们能执行好政策，就出不了大的偏差。”这表明（ ）

- A. 土地改革只在西南地区进行
- B. 梁漱溟极力反对土地改革
- C. 毛泽东对土改工作充满信心
- D. 各地土改没出现任何偏差

解析：1950年，中央人民政府颁布《中华人民共和国土地改革法》，规定废除地主阶级封建剥削的土地所有制，实行农民土地所有制。材料中梁漱溟对土地改革意义重大，但是认为土改有过火现象，毛泽东认为土改工作队的干部能执行好政策，就出不了大的偏差，表明对土地改革持支持态度，C选项符合题意。

答案：C。

11. (1分) 如图所示石碑刻有“此为确立真正福祉及仁政于国内的常胜之王汉谟拉比所制定的公正的法律”等文字。下列有关该石碑文字内容的叙述正确的是 ()



- A.反映了古代埃及建造金字塔的情况
- B.反映了公元前 18 世纪古巴比伦王国的社会面貌
- C.反映了古代印度严格的等级制度
- D.证明了古代雅典城邦民主政治发展到顶峰

解析: 注意抓住题干中的关键信息“此为确立真正福祉及仁政于国内的常胜之王汉谟拉比所制定的公正的法律”“石碑”, 联系所学可知, 公元前 18 世纪, 汉谟拉比制定了一部法典, 被刻写在—块巨大的石柱上, 这是世界上现存的古代第一部比较完备的成文法典。所以石碑文字内容反映了公元前 18 世纪古巴比伦王国的社会面貌。

答案: B。

12. (1分) 正确认识史实与结论之间的关系, 是历史学习的重要目标。下列表格中史实与结论关系对应正确的是 ()

选项	史实	结论
A	隋朝大运河的开凿	主要加强了中国东西部地区的交通
B	布匿战争	使罗马共和国走向衰落
C	瓦特改良蒸汽机	为轮船和火车的发明提供了条件
D	西藏和平解放	使祖国实现了统一

- A.选项 A
- B.选项 B
- C.选项 C
- D.选项 D

解析: 依据所学, 大运河的开通促进了南北政治、经济、文化交流, A 对应不正确。布匿战争, 罗马获胜, 使罗马共和国走向繁荣, B 对应不正确。西藏和平解放标志着祖国大陆实现统一, D 对应不正确。富尔敦利用瓦特改良蒸汽机为动力发明了轮船, 史蒂芬孙得用瓦特改良蒸汽机为动力发明了火车, C 对应正确。

答案: C。

13. (1分) 《国民政府对日宣战布告》昭告中外: “中国为酷爱和平之民族, 过去四年余之神圣抗战, 原期侵略者之日本于遭受实际之惩创后, 终能反省……不料残暴成性之日本, 执迷不悟, 且更悍然向我英、美诸友邦开衅, 扩大其战争侵略行动……兹特正式对日宣战……。”下列对上述材料解读正确的是 ()

- A.国民政府在日本发动全面侵华时就正式对日宣战
- B.日本对自身的侵略行为进行了认真反省
- C.日本对美国发动战争使二战进一步扩大
- D.国民政府对日宣战标志着世界反法西斯同盟正式形成

解析：分析材料可知，体现了中国全面抗日战争持续四年；日本偷袭美国珍珠港，太平洋战争爆发，体现了日本对美国发动战争使二战进一步扩大，C选项符合题意。

答案：C。

- 14.（1分）如图所示毕加索的作品《格尔尼卡》，被公认为不朽的世界名画。这是因为该作品（ ）



- ①采用了高超、新奇的艺术手法
- ②深刻揭露了德国法西斯的罪行
- ③生动地描绘了都市生活的人物形象
- ④深刻揭露了美国社会的黑暗和腐败

- A.①②
- B.①③
- C.②③
- D.②④

解析：毕加索的作品《格尔尼卡》，被公认为不朽的世界名画。这是因为该作品①采用了高超、新奇的艺术手法②深刻揭露了德国法西斯的罪行。③④不符合题意。《格尔尼卡》描绘了西班牙小镇格尔尼卡遭德军飞机轰炸后的惨状，表达了作者对法西斯的谴责和抗议，控拆了法西斯屠杀无辜平民的血腥罪行，是20世纪艺术中的珍品，立体派绘画的代表作。

答案：A。

- 15.（1分）纪录片《辉煌中国-创新活力》中说：在中国，每三个手机用户，就有两个在使用移动支付，这里是全球最大的移动支付市场。这反映了中国充分应用了第三次科技革命才出现的（ ）

- A.计算机网络技术
- B.电讯技术
- C.生物工程技术
- D.内燃机技术

解析：据“在中国，每三个手机用户，就有两个在使用移动支付，这里是全球最大的移动支付市场”并结合所学知识可知，这反映了中国充分应用了第三次科技革命才出现的计算机网络技术。当前科学技术发展最快的是信息技术，信息技术的发展使得人类进入了信息时代，

到 20 世纪末，计算机技术与网络技术日新月异，通过信息高速公路，人们可以发送电子邮件、收看网络电影电视、实现远程教育、进行电子商务等。网络时代的到来加强了世界各地之间的联系，丰富了人们的日常生活，改变了人们的生活和工作方式。

答案：A。

二、判断题：本大题共 1 小题，每小题 5 分，共 5 分。

16. (5 分) 阅读以下材料后判断：

唐代，伴随着我国通往海外的航路纷纷开通与延伸，海上丝绸之路成为我国对外交往的主要通道。宋代的造船和航海技术明显提高，指南针广泛应用于航海，促进了宋代海上丝绸之路的持续发展。明代海上丝绸之路航线已扩展至全球，郑和远航的成功，标志着海上丝路发展到了极盛时期。清代，从海禁到广州一口通商，广州的丝路贸易比唐、宋两代获得更大的发展。但整体而言，海上丝绸之路进入衰落期。

通过海上丝绸之路，中国还传播着中华民族的工艺和儒道思想。海上丝绸之路带动了不同文化的交流碰撞，推动了世界的进步和发展。“友善、包容、互惠、共生、坚韧”的海上丝绸之路的文化内涵，对于建设 21 世纪海上丝绸之路，对于中国与世界更深层次的互动，无疑具有深刻的启迪和极其重要的当代意义。

——据人民网 2014 年 5 月 20 日《海上丝绸之路千年兴衰史》等
以下表述是从以上材料中得出的，请在对应题号后答“A”；违背了以上材料所表述的意思，请在对应题号后答“B”；是以上材料没有涉及的，请在对应题号后答“C”。

- (1)从唐朝到清代，海上丝绸之路一直保持兴盛局面。()
- (2)科技进步为宋代海上丝绸之路的发展提供了重要条件。()
- (3)郑和的远航比欧洲航海家的远航早半个多世纪。()
- (4)海上丝绸之路传播了中国文化，带动了世界不同文明的交流。()
- (5)海上丝绸之路不仅是古代中外交往的通道，其文化内涵也深刻影响当代中国。()

解析：

(1)据材料“清代，从海禁到广州一口通商，广州的丝路贸易比唐、宋两代获得更大的发展。但整体而言，海上丝绸之路进入衰落期”可知，清代海上丝绸之路进入衰落期，故“从唐朝到清代，海上丝绸之路一直保持兴盛局面”的叙述违背了以上材料所表述的意思。

(2)据材料“宋代的造船和航海技术明显提高，指南针广泛应用于航海，促进了宋代海上丝绸之路的持续发展”可知，“科技进步为宋代海上丝绸之路的发展提供了重要条件”的表述是从以上材料中得出的。

(3)据材料“郑和远航的成功，标志着海上丝路发展到了极盛时期”可知，“郑和的远航比欧洲航海家的远航早半个多世纪”是以上材料没有涉及的。

(4)据材料“通过海上丝绸之路，中国还传播着中华民族的工艺和儒道思想。海上丝绸之路带动了不同文化的交流碰撞”可知，“海上丝绸之路传播了中国文化，带动了世界不同文明的交流”的表述是从以上材料中得出的。

(5)据材料“友善、包容、互惠、共生、坚韧”的海上丝绸之路的文化内涵，对于建设 21 世纪海上丝绸之路，对于中国与世界更深层次的互动，无疑具有深刻的启迪和极其重要的当代意义”可知，“海上丝绸之路不仅是古代中外交往的通道，其文化内涵也深刻影响当代中国”的表述是从以上材料中得出的。

答案：

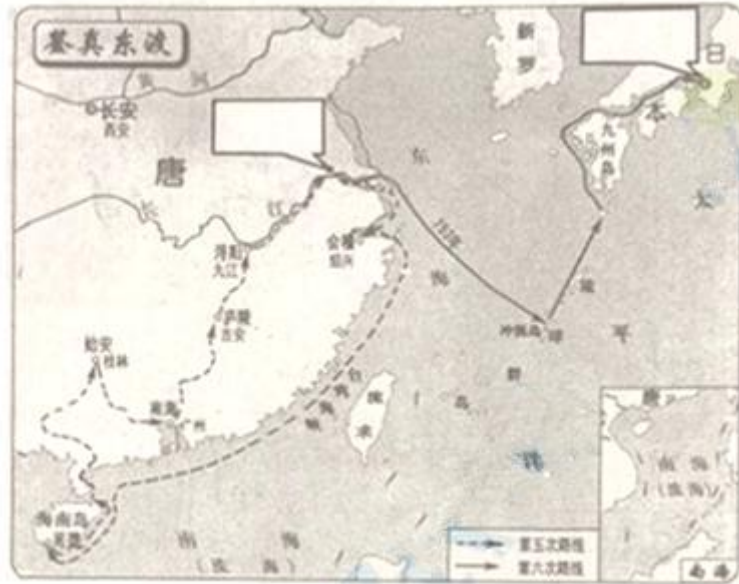
- (1)B。
- (2)A。
- (3)C。

(4)A。

(5)A。

三、填图题：本大题共 2 小题，第 17 题 3 分，第 18 题 2 分，共 5 分。

17. (3 分) 观察如图：



(1) 请将下列地点的英文字母代号填入答题图中对应的方框内。

A. 广陵

B. 平城京

(2) 观察图中鉴真第五次和第六次东渡日本的路线，据此指出鉴真东渡的特点。

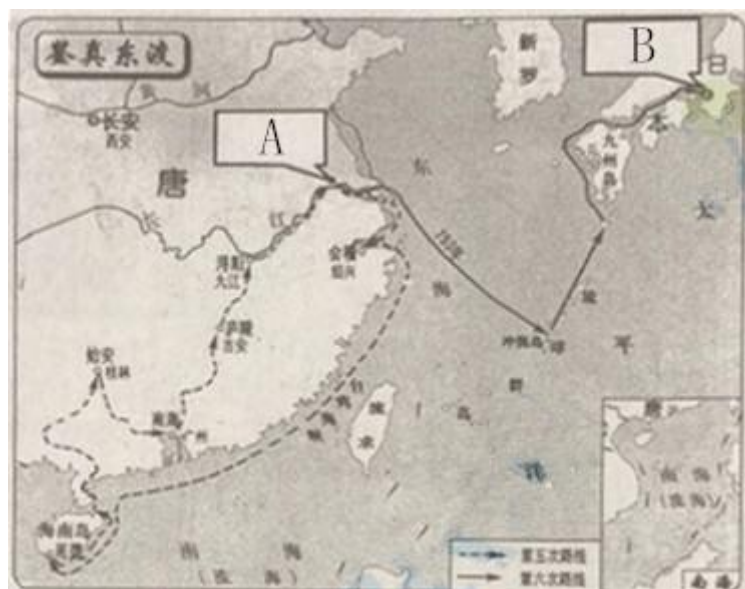
解析：

(1) 根据所学知识可知，A. 广陵是古城扬州的先名；B. 平城京是日本古都。

(2) 观察图中鉴真第五次和第六次东渡日本的路线并结合所学知识可知，鉴真东渡的特点是走海路，路线曲折。

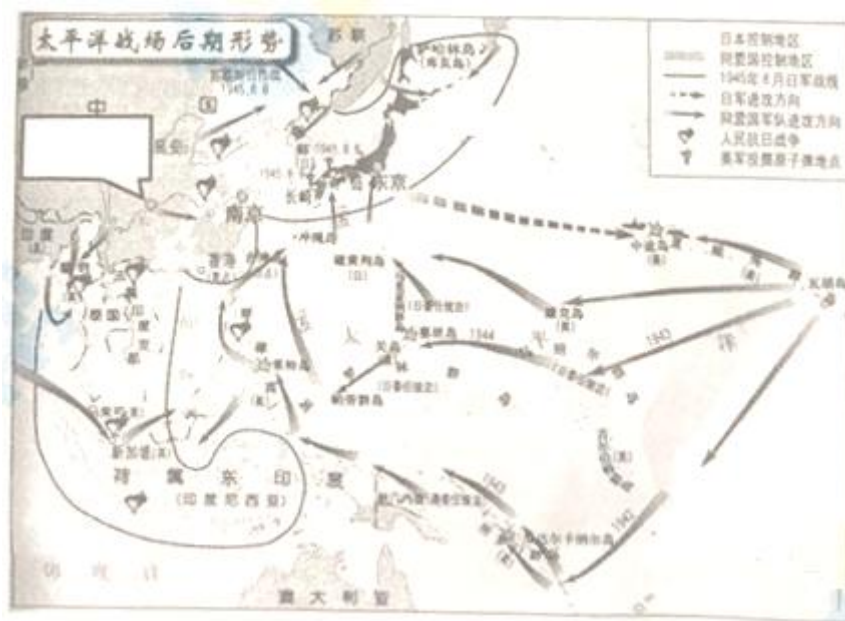
答案：

(1)



(2)走海路，路线曲折。

18. (2分) 观察图：



(1)请在图中的方框内写出中华民国陪都的名称。

(2)观察“人民抗日战争”的图例，据图指出亚洲人民抗日战争的特点。

解析：

(1)根据所学知识可知，抗日战争爆发后，日本于 1937 年 12 月占领了中国的首都南京，国民政府迁往了重庆，重庆成为战时陪都，外国的驻华使馆也都迁到了重庆。

(2)仔细观察“人民抗日战争”的图例可知，亚洲人民抗日战争的特点是亚洲战场是阻击法西斯扩张的前哨战，有力地支援了太平洋战场的抗日战争。在抗击法西斯侵略扩张的过程中，中国的局部抗战是阻击法西斯扩张的前哨战。在战胜法西斯的战争中，中国是反法西斯同盟与日本法西斯在亚洲大陆较量的主要战场，中国军民是战胜日本法西斯的主体力量。苏联、美国等国家先后派出军队与中国军队并肩作战。来自 20 多个国家的国际友人参加了中国抗战。中国的抗战完全融入了世界反法西斯战争的进程，是战胜日本法西斯的决定性因素。

答案：

(1)



(2)亚洲战场是阻击法西斯扩张的前哨战，有力地支援了太平洋战场的抗日战争。

四、材料分析题：本大题共 2 小题，第 19 题 7 分，第 20 题 6 分，共 13 分。

19. (7 分) 阅读下列材料：

材料一：值得注意的是，宋朝发生了一场对整个欧亚大陆有重大意义的商业革命。这场革命的根源可以在中国经济生产率的明显增长中找到。技术的稳步发展提高了传统工业的产量。同样，水稻早熟品种的引进，使作物在过去只能一季一熟的地方达到一季两熟，从而促进了农业。贸易量也随着经济活动的迅速发展而上升。

——摘编自斯塔夫里阿诺斯《全球通史》

材料二：在组装 T 型车的过程中，福特使用复合的装配台，每个装配台都有不同的任务，每个工人只需熟悉掌握一个装配任务，这使工人完成一个任务的时间从 8 小时 30 分降低到 2 分 30 秒。紧接着他又创造性地使用了移动装配线，以节省工人们在装配台前移动的时间，组装一辆汽车所耗费的人工下降了 88%。这使 T 型车比别人几乎便宜一半。

——摘编自杜君立《历史的细节》

材料三：从计划经济向市场经济转变，首先思想上要变革。在落后的计划经济时代，人们看不到时间的价值。在市场经济时期，经济、科技发展的速度加快，时间成为人类最宝贵的财富。市场主体之间的竞争归根到底是人才的竞争，更是人在时间利用上的竞争。深圳的崛起，中国的崛起就是例证。

——摘编自罗勇琼《对“时间就是金钱，效率就是生命”再认识》

请回答：

- (1)根据材料一，指出宋朝发生“商业革命”的根源。并结合所学知识，回答宋代重庆地区在手工业领域反映这一根源的具体表现。
- (2)根据材料二并结合所学知识，指出材料中的“T 型车”是哪次工业革命的产物，并概括福特公司组织生产“T 型车”的特点。
- (3)根据材料三并结合所学知识分析深圳崛起的原因。
- (4)综上，谈谈对我国社会主义现代化建设的启示。

解析：

(1)据材料一“值得注意的是，宋朝发生了一场对整个欧亚大陆有重大意义的商业革命。这

场革命的根源可以在中国经济生产率的明显增长中找到。技术的稳步发展提高了传统工业的产量。同样，水稻早熟品种的引进，使作物在过去只能一季一熟的地方达到一季两熟，从而促进了农业。贸易量也随着经济活动的迅速发展而上升”可知，宋朝发生“商业革命”的根源是经济生产率的明显增长，技术的稳步发展。结合所学知识可知，宋代重庆地区在手工业领域反映这一根源的具体表现是农业的发展为手工业发展提供了充足的原材料，商业繁荣为手工业发展提供了广阔的市场。

(2)据材料二“1908年，福特汽车公司生产出世界上第一辆普及型汽车—T型车。在组装T型车的过程中，福特使用复合的装配台，每个装配台都有不同的任务，每个工人只需熟悉掌握一个装配任务，这使工人完成一个任务的时间从8小时30分降低到2分30秒。紧接着他又创造性地使用了移动装配线，以节省工人们在装配台前移动的时间，组装一辆汽车所耗费的人工下降了88%。这使T型车比别人几乎便宜一半”并结合所学知识可知，材料中的“T型车”是第二次工业革命的产物，福特公司组织生产“T型车”的特点是通过技术和管理方式的革新降低成本，提高产品的竞争力。

(3)据材料三“从计划经济向市场经济转变，首先思想上要变革。在落后的计划经济时代，人们看不到时间的价值。在市场经济时期，经济、科技发展的速度加快，时间成为人类最宝贵的财富。市场主体之间的竞争归根到底是人才的竞争，更是人在时间利用上的竞争。深圳的崛起，中国的崛起就是例证”并结合所学知识可知，深圳崛起的原因是最早从计划经济向市场经济转变，经济、科技发展的速度加快，时间成为人类最宝贵的财富。市场主体之间的竞争归根到底是人才的竞争，更是人在时间利用上的竞争。

(4)本题是开放性题目，言之有理即可，如善于抓住机遇，加强国际间的经济联系；要重视引进和发展高科技；要坚持改革开放，坚持以经济建设为中心，推动生产力的发展；要善于学习借鉴人类优秀的成果，敢于创新，勇于实践，制定适合本国国情的经济发展战略；要重视教育培养人才，坚持走和平发展的道路。

答案：

(1)经济生产率的明显增长，技术的稳步发展；农业的发展为手工业发展提供了充足的原材料，商业繁荣为手工业发展提供了广阔的市场。

(2)第二次工业革命；通过技术和管理方式的革新降低成本，提高产品的竞争力。

(3)最早从计划经济向市场经济转变，经济、科技发展的速度加快，时间成为人类最宝贵的财富。市场主体之间的竞争归根到底是人才的竞争，更是人在时间利用上的竞争。

(4)善于抓住机遇，加强国际间的经济联系；要重视引进和发展高科技；要坚持改革开放，坚持以经济建设为中心，推动生产力的发展；要善于学习借鉴人类优秀的成果，敢于创新，勇于实践，制定适合本国国情的经济发展战略；要重视教育培养人才，坚持走和平发展的道路。

20. (6分) 阅读下列材料：

材料一：马克思和恩格斯都接受费尔巴哈的唯物主义和人本主义，对唯心主义的黑格尔哲学加以改造。马克思……流亡英国，接触了各种工人活动家和社会主义者。他吸收了英国政治经济学、英法空想社会主义以及有关法国大革命的史学研究等成果……恩格斯对工业革命的历史和英国工人状况进行了深入的调查，得出了与马克思相似的结论。1844年，马克思和恩格斯开始了终生的合作，建构基于唯物史观的社会主义理论。他们称自己的学说为“共产主义”或“科学社会主义。”

——摘编自武寅《简明世界历史读本》

材料二：在马克思主义的工农联盟思想中，工人阶级既是领导者，又是主力军，而农民只能作为工人阶级的同盟军和后备军，配合无产阶级开展斗争。毛泽东运用马克思主义阶级分析的方

法，从中国实际出发，对农民作了深入、具体的分析，得出结论认为，中国农民是革命的动力和无产阶级同盟军，贫农“是中国革命的最广大的动力，是中国革命队伍的主力军。”

——摘编自毛军吉、杨戩《论农民的主力军作用与无产阶级领导权的关系》

请回答：

(1)据材料一，概括马克思、恩格斯创立“共产主义”学说运用的方法。结合所学知识指出马克思主义诞生的标志。

(2)根据材料二，指出毛泽东对马克思主义的创新和发展之处。并结合所学知识，说明毛泽东在新民主主义革命中是如何实践这一“创新和发展”的。

解析：

(1)由材料“马克思和恩格斯都接受费尔巴哈的唯物主义和人本主义，对唯心主义的黑格尔哲学加以改造。马克思……流亡英国，接触了各种工人活动家和社会主义者。他吸收了英国政治经济学、英法空想社会主义以及有关法国大革命的史学研究等成果……恩格斯对工业革命的历史和英国工人状况进行了深入的调查，得出了与马克思相似的结论。1844年，马克思和恩格斯开始了终生的合作，建构基于唯物史观的社会主义理论”可知，马克思、恩格斯创立“共产主义”学说运用的方法包括接受费尔巴哈的唯物主义和人本主义；对唯心主义的黑格尔哲学加以改造；马克思流亡英国；恩格斯对工业革命的历史和英国工人状况进行了深入的调查。1848年，《共产党宣言》的发表，标志着马克思主义的诞生，从此无产阶级运动有了科学理论的指导，更加蓬勃地发展起来。

(2)由材料毛泽东运用马克思主义阶级分析的方法，从中国实际出发，对农民作了深入、具体的分析，得出结论认为，中国农民是革命的动力和无产阶级同盟军，贫农“是中国革命的最广大的动力，是中国革命队伍的主力军。”可知。毛泽东对马克思主义的创新和发展之处是中国农民是革命的动力和无产阶级同盟军，贫农“是中国革命的最广大的动力，是中国革命队伍的主力军”。如中国共产党在开辟新民主主义革命道路创新表现是开辟农村包围城市、武装夺取政权的革命道路。

答案：

(1)接受费尔巴哈的唯物主义和人本主义；对唯心主义的黑格尔哲学加以改造；马克思流亡英国；恩格斯对工业革命的历史和英国工人状况进行了深入的调查。《共产党宣言》的发表。

(2)中国农民是革命的动力和无产阶级同盟军，贫农“是中国革命的最广大的动力，是中国革命队伍的主力军。”。开辟农村包围城市、武装夺取政权的革命道路。

五、简答题：本大题共2小题，每小题6分，共12分。

21.（6分）中国智慧深深影响了世界。结合所学知识回答：

(1)中国古代科技发明彰显中国智慧，造福人类。请以隋唐科技成就为例，对此予以说明。

(2)历史上，中国治理国家的方略也影响到邻邦日本。列举大化改新效仿隋唐进行政治改革的内容。概述大化改新对日本社会演进产生的影响。

(3)中国外交智慧影响世界。1953年底，周恩来代表中国政府提出的、处理中印关系的原则名称是什么？1955年，周恩来在万隆会议上又提出了哪一倡议，促进了会议的圆满成功和亚非国家的团结与合作？（2分）

解析：

(1)印刷术是我国古代四大发明之一，隋唐时期已有雕版印刷的佛经、日历和诗集等。唐朝868年印制的《金刚经》是现存的世界最早的、标有确切日期的雕版印刷品；隋唐时期建筑水平高超，隋朝工匠李春设计并主持建造的赵州桥是世界上现存最古老的一座石拱桥；我国世界上最早发明火药的国家，火药的研究始于古代炼丹术，唐朝中期的书籍里，已经有了制成火药的配方，唐朝末年，火药开始运用于军事。

(2)大化改新的内容是政治上废除世袭贵族统治制度，建立中央集权体制，中央设二官八省，地方设国、郡、里，由中央派人管理。大化改新的意义是为日本确立了一套在当时颇为先进的管理体制，使日本社会环境稳定，社会经济得到发展，为以后的繁荣奠定了基础。是日本由奴隶社会过渡到封建社会的标志。

(3)1953 年底，我国政府同印度就两国在西藏地区的关系问题进行谈判。周恩来首次提出了和平共处五项原则，作为处理两国关系的原则。和平共处五项原则在国际上产生了深远的影响，成为处理国与国之间关系的基本准则。1955 年，亚洲和非洲国家政府首脑在印度尼西亚的万隆举行会议，由于帝国主义的破坏和与会各国间矛盾错综复杂，会议出现尖锐分歧，周恩来及时提出“求同存异”的方针，推动会议取得圆满成功。

答案：

(1)雕版印刷术（《金刚经》），建筑技术（赵州桥），火药等。

(2)废除世袭贵族统治制度，建立中央集权体制，中央设二官八省，地方设国、郡、里，由中央派人管理；为日本确立了一套在当时颇为先进的管理体制，使日本社会环境稳定，社会经济得到发展，为以后的繁荣奠定了基础。是日本由奴隶社会过渡到封建社会的标志。

(3)和平共处五项原则；“求同存异”的方针。

22. (6 分) 实现中华民族伟大复兴，是中华民族近代以来最伟大的梦想。结合所学知识回答：

(1)晚清时期，考中状元但放弃高官厚禄、创办大生纱厂的是谁？他提出了哪一救国主张？

(2)新中国建立之初，国家面临严峻的困难局面。为保家卫国，我国政府被迫进行哪一战争？这场战争对中华民族的伟大复兴起了什么作用？

(3)强军兴军是中华民族伟大复兴的重要保证。人民海军诞生的标志是什么？1966 年中国组建了哪一新军种？

解析：

(1)晚清时期，考中状元但放弃高官厚禄、创办大生纱厂的是张謇；他提出了实业救国的主张。清末状元张謇深感要挽回中国的利益，必须发展本国的工商业，于是他提出了“实业救国”的口号，主动放弃高官厚禄，回乡创办大生纱厂等一系列企业。

(2)新中国建立之初，国家面临严峻的困难局面。为保家卫国，我国政府被迫进行抗美援朝战争；这场战争对中华民族的伟大复兴起的作用体现在维护了亚洲和世界和平，大大提高了新中国的国际威望，为新中国赢得了一个相对稳定的和平环境。

(3)强军兴军是中华民族伟大复兴的重要保证。人民海军诞生的标志是华东军区海军成立；1966 年中国组建了战略导弹部队。1949 年 4 月，人民解放军的第一支海军——华东军区海军成立。1950 年，海军领导机关在北京成立标志着人民海军正式成为人民解放军的一个军种。1966 年，中国组建主要担任核反击任务的战略导弹部队，在几十年中不断发展壮大，陆续装备了中程、远程、洲际导弹核武器，还有其他多种型号的导弹，具有较强的战斗力。

答案：

(1)张謇；实业救国。

(2)抗美援朝战争；维护了亚洲和世界和平，大大提高了新中国的国际威望，为新中国赢得了一个相对稳定的和平环境。

(3)华东军区海军成立；战略导弹部队。