

2015 年黑龙江省齐齐哈尔市中考真题地理

一、选择题：每小题 1 分，共 40 分。在每小题给出的四个选项中，只有一项是符合题目要求的。

1. 全球共分为_____个大洲_____个大洋？（ ）

- A. 四、七
- B. 七、八
- C. 七、四
- D. 四、八

解析：本题主要考查海陆分布。全球共有七大洲、四大洋。七大洲为亚洲、非洲、北美洲、南美洲、南极洲、欧洲和大洋洲。四大洋为太平洋、大西洋、印度洋、北冰洋。

答案：C

2. 地球公转产生的现象是（ ）

- A. 昼夜交替
- B. 四季变化
- C. 时间差异
- D. 南北半球划分

解析：本题主要考查了地球公转产生的现象。地球在自转的同时还要绕着太阳不停地转动叫地球公转，公转的方向为自西向东，产生的现象是季节的变化和太阳高度角的变化。答案项 B 符合题意。

答案：B

3. 比例尺为 1：1000 000 的地图上，图上距离为 3.5 厘米，该地的实地距离为（ ）

- A. 350 千米
- B. 35 千米
- C. 3500 千米
- D. 3500000 千米

解析：本题主要考查比例尺的计算。根据比例尺的公式：比例尺=图上距离/实地距离，得：实地距离=3.5 厘米×1000000=3500000 厘米=35 千米。

答案：B

4. 天气符号  表示（ ）

- A. 多云
- B. 晴
- C. 沙尘暴
- D. 阴

解析：本题主要考查常用天气符号与天气图。该符号表示的是阴的天气符号。

答案：D

5. 日本从波斯湾沿岸进口石油必经的海上要道是（ ）

- A. 土耳其海峡
- B. 苏伊士运河

C. 直布罗陀海峡

D. 马六甲海峡

解析：本题主要考查马六甲海峡的重要地理意义。中东地区的石油主要在波斯湾及其沿岸地区，日本从波斯湾沿岸进口石油的海上路线为：波斯湾—霍尔木兹海峡—印度洋—马六甲海峡—太平洋—日本。答案项 D 符合题意。

答案：D

6. 考试这一天，同学们家乡的昼夜长短情况是（ ）

A. 昼夜平分

B. 夜长昼短

C. 昼长夜短

D. 极昼

解析：本题考查的是地球公转产生的地理现象。考试时间一般为 6 月 12 日，地球运行在春分（3 月 21 日前后，全球昼夜等长）和夏至（6 月 22 日前后，北半球昼最长夜最短）之间，位于北半球的同学们家乡此时昼长夜短。

答案：C

7. 被称为“世界雨极”的是（ ）

A. 乞拉朋齐

B. 阿塔卡马沙漠

C. 塔克拉玛干沙漠

D. 火烧寮

解析：本题考查世界的降水之最。人们迄今所记录到的年降雨量最多的地方有两处：一处是印度东北部的乞拉朋齐（东经 $91^{\circ} 50'$ ，北纬 $25^{\circ} 20'$ ），多年平均年降雨量 10818 毫米；另一处在夏威夷群岛卡维金尼山（西经 $159^{\circ} 30'$ ，北纬 $22^{\circ} 5'$ ）的东北山麓，多年平均年降雨量 11684 毫米。人们形象地称它们为地球的“雨极”。

答案：A

8. 亚洲唯一的发达国家是（ ）

A. 韩国

B. 新加坡

C. 日本

D. 中国

解析：本题考查亚洲国家的经济发展状况。根据经济发展水平的差异，通常把世界上的国家分为发达国家和发展中国家。在亚洲众多的国家中，日本是唯一经济发达的国家。

答案：C

9. 我国人口界线大体是（ ）

A. 漠河—腾冲

B. 黑河—昆明

C. 黑河—腾冲

D. 漠河—昆明

解析：本题考查我国的人口分布特点。中国人口地区分布不均。一般来说，以黑河—腾冲线为界，东部地区人口多，西部地区人口少；此线以东人口稠密，面积仅占全国总面积的 43%，

人口却占全国总人口的 94%，此线以西人口稀疏，面积占全国总面积的 57%，人口只占总人口的 6%。

答案：C

10. 在卫星云图上，绿色表示（ ）

- A. 海洋
- B. 陆地
- C. 云区
- D. 平原

解析：本题主要考查卫星云图与天气预报。在卫星云图上，绿色代表陆地，有绿色的地区，说明该地区天气晴朗。

答案：B

11. 南美洲和北美洲的分界线是（ ）

- A. 巴拿马运河
- B. 苏伊士运河
- C. 白令海峡
- D. 土耳其海峡

解析：本题主要考查洲界线。巴拿马运河是北美洲与南美洲的分界线，苏伊士运河是亚洲与非洲的分界线，白令海峡是亚洲与北美洲的分界线，土耳其海峡是亚洲与欧洲的分界线。

答案：A

12. 下列国家中属于东南亚重要稻米出口国的是（ ）

- A. 印度尼西亚
- B. 泰国
- C. 菲律宾
- D. 马来西亚

解析：本题考查东南亚的国家和农业生产。东南亚各国普遍种植水稻，稻米是当地居民的主要粮食，也是传统的出口产品。泰国、越南、缅甸是世界上重要的稻米出口国。

答案：B

13. 欧洲西部旅游业发达，下列著名旅游胜地位于该地区的是（ ）

- A. 日月潭
- B. 丽江古城
- C. 下龙湾
- D. 罗马古斗兽场

解析：本题考查欧洲西部的旅游业。日月潭位于中国台湾省，丽江古城位于中国云南省，下龙湾位于越南，罗马古斗兽场位于意大利；故位于欧洲西部的是罗马古斗兽场。

答案：D

14. 地中海气候的特点是（ ）

- A. 夏季高温多雨，冬季寒冷干燥
- B. 冬无严寒，夏无酷暑
- C. 夏季炎热干燥，冬季温和多雨

D. 全年温和湿润

解析：本题考查世界主要气候类型的分布及气候特点。地中海气候主要分布在南北纬 30° ~ 40° 的大陆西岸，以地中海地区最为典型，所以称为地中海气候。与亚热带季风气候相比，地中海气候全年的降水较少，而且高温季节雨量甚少。夏季炎热干燥，冬季温和多雨，是地中海气候最显著的特征。

答案：C

15. 目前世界第一人口大国是（ ）

- A. 中国
- B. 俄罗斯
- C. 印度
- D. 日本

解析：本题考查世界上人口最多的国家。世界上人口最多的国家是中国，其次是印度，俄罗斯和日本的人口也较多，都已经过亿。

答案：A

16. 南极地区具有代表性的动物是（ ）

- A. 企鹅
- B. 北极熊
- C. 袋鼠
- D. 大熊猫

解析：本题考查南极地区的动物。南极地区的代表动物是企鹅，北极地区的代表动物是北极熊。

答案：A

17. 目前世界上使用范围最广的语言是（ ）

- A. 汉语
- B. 阿拉伯语
- C. 英语
- D. 俄语

解析：本题主要考查世界主要语言及其分布地区。英语是世界上使用范围最广的语言。

答案：C

18. 俄罗斯的最大城市是（ ）

- A. 圣彼得堡
- B. 符拉迪沃斯托克
- C. 莫斯科
- D. 新西伯利亚

解析：本题主要考查俄罗斯的主要城市。俄罗斯首都莫斯科位于东欧平原，既是全国最大的城市和综合性工业中心，也是俄罗斯的政治、文化和交通中心。

答案：C

19. 因放养绵羊数量和出口羊毛最多而被称为“骑在羊背上的国家”是（ ）

- A. 巴西

- B. 澳大利亚
- C. 印度尼西亚
- D. 印度

解析：本题考查澳大利亚的农牧业。澳大利亚西部高原地势宽广平坦，没有大型野生食肉动物，有利于养羊业的发展；澳大利亚中部平原海拔较低，地下水丰富，有利于养羊业的发展；澳大利亚是放养绵羊和出口羊毛最多的国家，被称为“骑在羊背上的国家”。

答案：B

20. 美国境内最著名的河流是（ ）

- A. 密西西比河
- B. 长江
- C. 尼罗河
- D. 亚马孙河

解析：本题考查美国的主要河流。美国境内长度最长的河流是密西西比河，该河流是世界第四长河；该河是美国的母亲河，注入墨西哥湾。

答案：A

21. 美国有寒带的海外州是（ ）

- A. 宾夕法尼亚州
- B. 夏威夷州
- C. 加利福尼亚州
- D. 阿拉斯加州

解析：本题考查美国领土组成及海外州纬度位置。美国的两个海外州分别是位于北美大陆西北端的阿拉斯加州和太平洋中的夏威夷州。其中阿拉斯加州被北极圈穿过，夏威夷州被北回归线穿过。

答案：D

22. 西北地区气候干旱的主要原因（ ）

- A. 纬度较高
- B. 深居内陆，距海遥远
- C. 海拔较高
- D. 温度较高

解析：本题考查西北地区的位置特点。西北地区深居内陆，远离海洋，受重重山岭的阻隔，海洋水汽难以到达，西北地区降水稀少，所以干旱是西北地区自然环境的主要特征。

答案：B

23. 我国有“黄金水道”之称的河流是（ ）

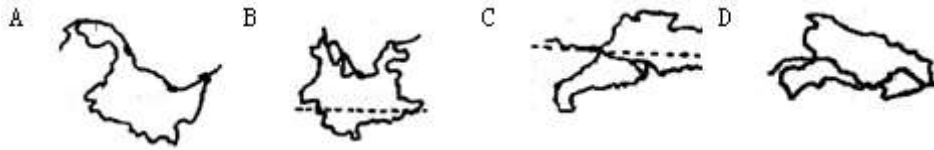
- A. 黄河
- B. 长江
- C. 珠江
- D. 松花江

解析：考查长江的航运价值。长江是中国东西向交通的大动脉，自古以来就享有“黄金水道”的盛誉。近半个世纪以来，经过航道综合整治，加之三峡、葛洲坝等水利枢纽的建设，长江的通航条件得到显著改善。重庆、武汉、南京等长期作为水陆交通的重要枢纽。目前，长江

干支流通航里程超过 7 万千米，货运量占全国内河货运量的 60%左右。

答案：B

24. 下列四幅图中，表示湖北省的是（ ）



解析：本题主要考查我国省级行政单位的名称和位置。图中 A 是黑龙江省，B 是云南省，C 是广东省，D 是湖北省。

答案：D

25. 我们家乡黑龙江省广泛分布的土壤是（ ）

- A. 黄土
- B. 红土
- C. 黑土
- D. 紫色土

解析：本题主要考查北方与南方的自然差异。东北平原的典型土壤主要是黑土，该地区土壤肥沃。紫色土分布在四川盆地。黄土主要分布在黄土高原和华北平原。红土主要分布在江南丘陵地区。

答案：C

26. 我国各民族分布的特点是（ ）

- A. 东多西少
- B. 均匀分布
- C. 大散居、小聚居
- D. 西北、东北

解析：本题主要考查民族的分布特点。中国各民族分布的特点是“大散居，小聚居，交错杂居”。汉族分布最广，主要集中在东部和中部地区。少数民族则主要分布在西南、西北和东北部地区。汉族地区有少数民族聚居，少数民族地区也有汉族居住。

答案：C

27. 下列省级单位中有两个简称的是（ ）

- A. 贵州省
- B. 黑龙江省
- C. 湖北省
- D. 浙江省

解析：本题主要考查中国各省级行政区的简称和行政中心。贵州省简称贵或黔，黑龙江省简称黑，湖北省简称鄂，浙江省简称浙。故 A 符合题意。

答案：A

28. 我国东北平原的土地利用类型是（ ）

- A. 耕地
- B. 林地

- C. 草地
- D. 难以利用的土地

解析：本题主要考查北方与南方的自然差异。根据因地制宜的原则，我国东北平原地形平坦，以肥沃的黑土著称，土地利用类型以耕地为主。

答案：A

29. 我国年降水量分布的总趋势是（ ）

- A. 夏秋多、冬春少
- B. 均匀分布
- C. 内陆多、沿海少
- D. 由东南沿海向西北内陆递减

解析：本题考查我国降水量的分布规律。我国降水量分布的总趋势是从东南沿海向西北内陆降水逐渐减少。

答案：D

30. 我国解决水资源季节变化大的主要工程措施是（ ）

- A. 跨流域调水
- B. 兴建水库
- C. 节约用水
- D. 防治水污染

解析：本题主要考查水资源分布不均的影响及对策。我国水资源的季节分配不平衡，年际变化大，有必要兴建水库，洪水期蓄水，枯水期放水，以调剂各季节的河流水量。新中国建立后，我国已兴建了大量水库，用于调控水量，提高防洪、抗旱能力，并扩大灌溉面积。

答案：B

31. 五千吨钢材由上海运往济南，最合适的运输方式是（ ）

- A. 铁路运输
- B. 航空运输
- C. 内河运输
- D. 公路运输

解析：本题主要考查各种主要运输方式的特点。货运要根据货物的性质、数量、运输距离、价格、时效等情况，选择运输方式。一般来说，贵重或急需的货物而数量又不大的，多由航空运送；容易死亡、变质的活物或鲜货，短程可由公路运送，远程而又数量大的可用铁路上的专用车；大宗笨重的货物，远距离运输，尽可能利用水运或铁路运输。所以五千吨钢材由上海运往济南，最合适的运输方式是沿京沪线用铁路运输。

答案：A

32. 我国首个国家级高新技术产业开发区是（ ）

- A. 深圳
- B. 北京中关村
- C. 武汉东湖
- D. 上海

解析：本题考查我国高新技术产业的分布。北京的中关村聚集了中科院、清华、北大等院校的人才，并且各高校的实验室成为最方便的可利用、可合作资源，由此可见北京中关村发展

高新技术产业的优势是人才密集、技术优势。北京的中关村是我国最早建立的高新技术开发试验区。

答案：B

33. 澳门经济发展的支柱产业是（ ）

- A. 加工制造业
- B. 博彩旅游业
- C. 工矿业
- D. 农牧业

解析：本题主要考查澳门的经济发展特点。澳门的主要经济支柱有博彩业、旅游业、加工业、建筑业等，以博彩业和旅游业为主。

答案：B

34. 北京的传统民居是（ ）

- A. 吊脚楼
- B. 蒙古包
- C. 平顶屋
- D. 四合院

解析：考查了北京的传统民居。四合院是北京传统民居形式，辽代时已初成规模，经金、元，至明、清，逐渐完善，最终成为北京最有特点的居住形式。所谓四合，“四”指东、西、南、北四面，“合”即四面房屋围在一起，形成一个“口”字形。经过数百年的营建，北京四合院从平面布局到内部结构、细部装修都形成了京师特有的京味风格。

答案：D

35. 青藏地区居民的日常主食是（ ）

- A. 糌粑
- B. 米饭
- C. 寿司
- D. 面食

解析：本题主要考查青藏地区的自然地理特征。青藏高原平均海拔 4000 多米，光照强、昼夜温差大，主要种植青稞，用青稞面做的糌粑是当地人们的主食。

答案：A

36. 我国地势特征是（ ）

- A. 东高西低
- B. 西高东低
- C. 中部高、四周低
- D. 南高北低

解析：本题主要考查地势西高东低、呈阶梯状分布。中国地势西高东低，大致呈三级阶梯状分布，并且向海洋倾斜，有利于海洋湿润气流深入内地，形成降水。这种地势，使许多大河滚滚东流，沟通了东西交通，加强了沿海与内地的联系。

答案：B

37. 我国南方地区和北方地区的分界线是（ ）

- A. 400 毫米年等降水量线
- B. 大兴安岭
- C. 秦岭—淮河线
- D. 长江

解析：本题主要考查四大地理区域及其分界线。我国南方与北方地区的分界线是秦岭—淮河一线，该线还是一月份 0℃等温线通过的地方；800mm 等降水量线通过的地方；温度带中，暖温带与亚热带分界线；干湿地区中，湿润区与半湿润区分界线；温带季风气候与亚热带季风气候分界线；长江流域与黄河流域分界线；水田与旱地的分界线等。

答案：C

38. 我国人数最多的少数民族是（ ）

- A. 蒙古族
- B. 汉族
- C. 朝鲜族
- D. 壮族

解析：本题考查我国各民族的构成特点。

中国各少数民族的人口数量相差悬殊，其中人口最多的是壮族，约 1 700 万；人数少的民族仅几千人，如珞巴族、赫哲族等。

答案：D

39. 我国地势第二、三级阶梯的分界线是（ ）

- A. 大兴安岭—阴山—贺兰山—巴颜喀拉山
- B. 昆仑山—祁连山—横断山
- C. 大兴安岭—太行山—巫山—雪峰山
- D. 秦岭—淮河线

解析：本题主要考查地势三大阶梯的分界线。我国地势第二阶梯和第三阶梯的分界山脉是大兴安岭、太行山、巫山、雪峰山一线。

答案：C

40. 我国夏季气温最低的地方是（ ）

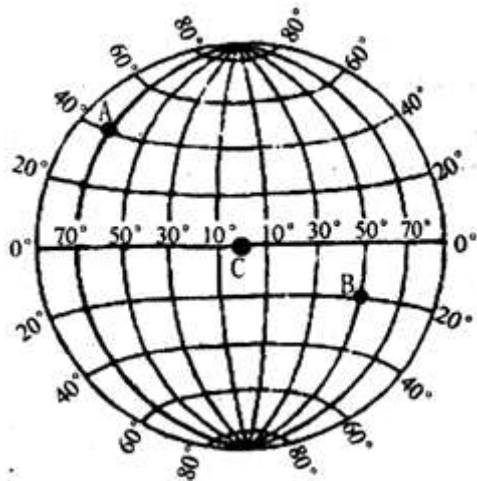
- A. 大兴安岭
- B. 漠河
- C. 青藏高原
- D. 新疆北部

解析：本题主要考查夏季气温的分布特点。地势越高气温越低，海拔每升高 100 米气温下降 0.6℃。青藏高原平均海拔在 4000 米以上，是世界上最高的高原，也是我国夏季气温最低的地方。答案项 C 符合题意。

答案：C

二、读图分析题：共 60 分。

41. 读经纬网示意图，回答下列问题。



- (1) 写出 A 点的纬度位置：_____，B 点的经度位置：_____。
 (2) C 点位于_____。(温度带)
 (3) A、B、C 三点中，位于西半球的点是_____，四季变化明显的点是_____。

解析：本题主要考查用经纬网确定方向和任意地点的位置。

(1) 依据在经纬网上，经线的度数叫做经度，若相邻两条经线的经度向东增大，就是东经，用符号 E 表示，若相邻两条经线的经度向西增大，就是西经，用符号 W 表示；纬线的度数叫纬度，若相邻两条纬线的纬度向北增大，就是北纬，用符号 N 表示，若相邻两条纬线的纬度向南增大，就是南纬，用符号 S 表示。读图分析可知，A 点的经纬度是 40° N，70° W；B 点的经纬度是 20° S，50° E；C 点的经纬度是 0° ， 0° 。

(2) 热带的纬度范围是 23.5° N—23.5° S，北温带的纬度范围是 23.5° N—66.5° N，北寒带的纬度范围是 66.5° N—90° N，南温带的纬度范围是 23.5° S—66.5° S，南寒带的纬度范围是 66.5° S—90° S。依据 C 点的纬度可知，C 点位于热带。

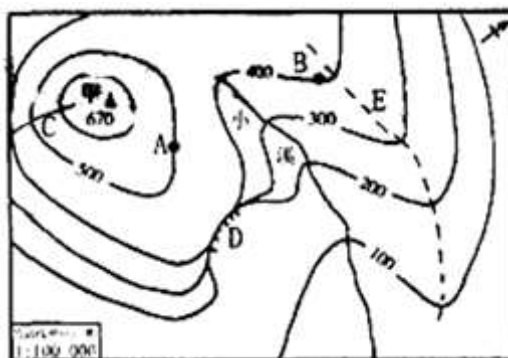
(3) 热带有阳光直射现象，寒带有极昼极夜现象，温带既无阳光直射也无极昼极夜现象，四季变化明显。东西半球分界线是 20° W 和 160° E 组成的经线圈，20° W 以东、160° E 以西为东半球，20° W 以西、160° E 以东为西半球。由此可知，A、B、C 三点中，位于西半球的点是 A 点。四季变化明显的点是 A 点。

答案：(1) 40° N 50° E

(2) 热带

(3) A A

42. 读等高线地形图，回答下列问题。



(1) A 点与 B 点的相对高度是_____米。

(2) 图中小溪的流向大致是_____。

(3)若要登上山顶甲处，从_____ (C、D)处比较容易攀登。

(4)虚线E处表示的地形部位是_____。(山脊、山谷)

解析：本题主要考查等高线地形图的判读。

读图可知，(1)图中的A点海拔为500米，B点的海拔为400米，两点的相对高度是500米—400米=100米。(2)根据图中的指向标判断，图中小溪的流向大致是自西向东流。(3)从C、D两处选择攀登甲山，C处等高线稀疏，坡度平缓，容易攀登。(4)图中的虚线E处等高线向海拔低处凸，为山脊。

答案：

(1)100

(2)自西向东流

(3)C

(4)山脊

43. 读亚洲图，回答下列问题。



(1)A是_____高原，B是_____山脉，是亚洲与_____洲的分界。

(2)C是世界最大的_____半岛。

(3)D是世界最深和蓄水量最大的淡水湖：_____。

(4)E是世界最大的_____群岛。

(5)F是与我国隔海相望的国家：_____。

(6)G是跨经度最多的大洋：_____。

解析：本题主要考查亚洲的地形、地势及其影响；亚洲的河湖；中国的陆上邻国和隔海相望的国家。

(1)A是青藏高原，是世界海拔最高的高原。B是乌拉尔山脉，是亚洲与欧洲的分界线。

(2)C是阿拉伯半岛，面积约300万平方千米，是世界上最大的半岛。

(3)位于西伯利亚的D贝加尔湖是最深、淡水储量最大的湖泊。

(4)E马来群岛是世界第一大群岛，在海岛世界中，是个“人丁兴旺”的群岛“家族”。由印度尼西亚13000多个岛屿和菲律宾约7000个岛屿组成。

(5)与我国隔海相望的国家有日本、韩国、菲律宾、马来西亚、文莱、印度尼西亚等。其中F是菲律宾。

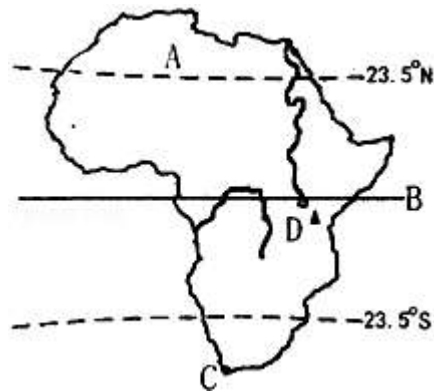
(6)由于所有的经纬交汇于两极地区，四个大洋中只有北冰洋跨北极地区，因此北冰洋跨经度最广。

答案：

(1)青藏 乌拉尔 欧

- (2) 阿拉伯
- (3) 贝加尔湖
- (4) 马来
- (5) 菲律宾
- (6) 北冰洋

44. 读图，回答下列问题。



(1) 填出图中字母代表的地理事物名称：

A 是世界最大的_____沙漠。此沙漠以南的地区是_____（人种）的故乡。B 是_____。（纬线）

(2) C 处是非洲最南端的_____，也是中东石油输出路线必经地之一。

(3) D 是非洲最高山：_____。

解析：本题主要考查非洲的主要岛屿、山脉、裂谷、河流。

(1) 依据位置，图中字母代表的地理事物名称为：A 撒哈拉沙漠，是世界最大的沙漠。此沙漠以南的地区是黑种人的故乡。B 赤道穿过非洲中部。

(2) 图中，C 处是好望角，位于非洲最南端，是中东石油输出路线必经地之一。

(3) 图中 D 是乞力马扎罗山，是非洲最高峰。

答案：

(1) 撒哈拉 黑种人 赤道

(2) 好望角

(3) 乞力马扎罗山

45. 读巴西图，回答下列问题。



(1) A 是_____河。

- (2) B 是_____高原。
- (3) 首都 C: _____。
- (4) 海洋 D: _____。
- (5) 该国重点保护的植被是: _____。

解析: 本题考查巴西不同地理事物的分布。

- (1) A 是亚马孙河, 是世界上年径流量最大的河流。
- (2) B 是巴西高原, 是世界上面积最大的高原。
- (3) 首都 C 是巴西利亚。
- (4) 海洋 D 是大西洋。
- (5) 巴西重点保护的植被是热带雨林, 分布在亚马孙平原。

答案: (1) 亚马孙

- (2) 巴西
- (3) 巴西利亚
- (4) 大西洋
- (5) 热带雨林

46. 读中国地图, 回答下列问题。



- (1) A 是_____山脉。
- (2) B 是_____盆地, 其所在省区古老的引水工程是_____。
- (3) C 是_____海。
- (4) D 是我国最大的淡水湖: _____。
- (5) E 是_____铁路。
- (6) F 是世界含沙量最大的河: _____, 其下游形成举世闻名的“_____”。
- (7) G 是_____。(城市)
- (8) H 岛属于_____省(区)。

解析: 本题主要考查我国主要山脉的走向和分布; 中国的地形的特征和分布; 重要的铁路干线、高铁。

- (1) A 是天山山脉, 是塔里木盆地与准噶尔盆地的分界线。
- (2) B 是塔里木盆地, 其所在省区是新疆维吾尔自治区, 该省区古老的引水工程是坎儿井。
- (3) C 是渤海, 是我国的一个内海。
- (4) D 是我国最大的淡水湖鄱阳湖, 位于江西省。
- (5) E 是青藏铁路, 起止点城市是西宁和拉萨。
- (6) F 是世界含沙量最大的河黄河, 其下游形成举世闻名的“地上河”。

- (7)G 是北京。
 (8)H 岛是海南岛，属于海南省。

答案：(1)天山

(2)塔里木 坎儿井

(3)渤

(4)鄱阳湖

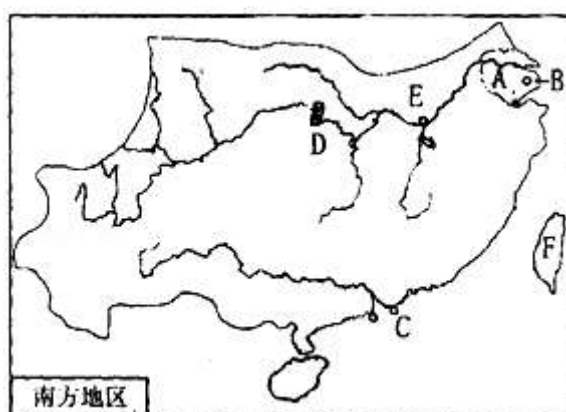
(5)青藏

(6)黄河 地上河

(7)北京

(8)海南

47. 读南方地区图，回答下列问题。



(1)A 是_____工业基地，其核心城市 B 是_____。

(2)C 是_____特别行政区。

(3)D 是我国最大的_____水电站。

(4)E 是所在河流的中、下游分界点：_____。

(5)F 岛上主要少数民族是：_____，该岛因盛产_____（糖料作物），被称为“东方甜岛”。

解析：本题主要考查长江三角洲工业基地的位置和特点；葛洲坝水利枢纽与三峡水利枢纽工程的位置；台湾省的地理位置和地域组成。

(1)A 是长江三角洲，是我国最大的工业基地，其核心城市 B 是上海。

(2)C 是香港特别行政区，位于珠江口东侧。

(3)D 是我国最大的三峡水电站，位于巫山附近。

(4)E 是长江中、下游分界点湖口。

(5)台湾岛上主要少数民族是高山族，该岛因盛产甘蔗，被称为“东方甜岛”。

答案：

(1)长江三角洲 上海

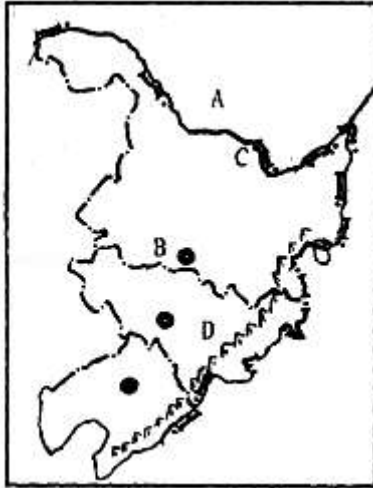
(2)香港

(3)三峡

(4)湖口

(5)高山族 甘蔗

48. 读东北三省图，回答下列问题。



- (1) 邻国：A _____。
- (2) B 所在省的行政中心是 _____，该省的作物熟制是 _____。
- (3) 河流：C _____。
- (4) 山脉：D _____。
- (5) 本区是我国最大的 _____（重、轻）工业基地。

解析：本题主要考查我国的邻国、东北三省的城市分布，以及作物熟制等内容。

- (1) 从图中位置得知，A 是我国陆上邻国俄罗斯。
- (2) 从图中位置得知，B 所在省区是黑龙江省，其行政中心是哈尔滨，由于该省纬度较高，热量不足，作物熟制是一年一熟。
- (3) 从图中位置得知，C 河流是黑龙江。
- (4) 从图中位置得知，D 山脉是长白山。
- (5) 东北地区矿产资源丰富，水陆交通便利，有我国最大的重工业基地辽中南地区。

答案：(1) 俄罗斯

(2) 哈尔滨 一年一熟

(3) 黑龙江

(4) 长白山

(5) 重

49. 阅读材料，回答下列问题。

材料 一位多次去过西藏的朋友介绍他的旅游经验：最好的时节是每年的8月到10月；携带物品的原则是轻便、实用；防护用品最好带上墨镜、遮阳帽和防晒霜等物品；衣物中最好带上羽绒服和防水服等；心、肺、脑和血液系统疾病患者不宜进入高原；最好携带吸氧用具等。

(1) 下列甲、乙、丙三幅图展示的景观，游客有可能在青藏高原看到的是 _____。



甲



乙



丙

(2) 针对这位朋友的下列建议，结合所学地理知识加以解释说明。

- ① “携带物品的原则是轻便、实用”，“最好携带吸氧用具”是因为_____。
- ② “防护用品最好带上墨镜、遮阳帽和防晒霜等物品”是因为_____。
- ③ “衣物中最好带上羽绒服”是因为_____。

解析：本题主要考查人民生活与地理环境的关系。

(1) 从三幅景观图看出，甲是位于西藏的布达拉宫，乙是位于黄土高原的窑洞，丙是位于南方地区的热带雨林。

(2) ① “携带物品的原则是轻便、实用”，“最好携带吸氧用具”是因为青藏高原海拔高，空气稀薄，气压低，缺氧；② “防护用品最好带上墨镜、遮阳帽和防晒霜等物品”是因为高原地区空气稀薄，太阳辐射强；③ “衣物中最好带上羽绒服”是因为高原上气温日较差大，早晚气温较低。

答案：(1) 甲

(2) 海拔高，空气稀薄，气压低，缺氧，造成游客体力消耗大；空气稀薄，太阳辐射强；高原上气温日较差大，早晚气温较低。

50. 阅读下面的材料，回答问题。

材料一：地质学家认为，进入 21 世纪以来，全球的地壳活动进入活跃期，尤其是近些年这种趋势越来越明显。如 2000—2010 年间，印度尼西亚及附近地区发生里氏 7 级以上的大地震就多达 12 次。今年 5 月，尼泊尔发生强烈地震，昔日繁华的城镇瞬间满目疮痍，更为严重的是这次地震使许多名胜古迹遭到严重破坏，留下永久的遗憾。

材料二：板块与火山地震带分布局部图



- (1) 尼泊尔地处亚欧板块和_____交界处。
- (2) 尼泊尔地处_____火山地震带。
- (3) 地震属于自然灾害中的_____。(地质灾害、气象灾害)
- (4) 如果地震发生时你正在上课，该采取什么应急措施？(至少两点)

解析：本题主要考查六大板块及其示意图，火山地震带及火山地震产生的原因。

(1) 尼泊尔地处亚欧板块和印度洋板块的交界处，地壳比较活跃，多火山地震。(2) 世界上有两大火山地震带，即环太平洋火山地震带和地中海—喜马拉雅火山地震带，尼泊尔地处地中海—喜马拉雅火山地震带。(3) 地震是由于板块的运动产生的灾害，属于自然灾害中的地质灾害。(4) 如果地震发生时你正在上课，该采取的应急措施有：有时间时快速离开教室，跑到空旷地方去；来不及外逃时，双手抱头躲避在卫生间墙角或坚实的家具下，亦可转移到承

重墙较多、面积较小的房间内。

答案：

(1)印度洋

(2)地中海—喜马拉雅

(3)地质灾害

(4)有时间时快速离开教室，跑到空旷地方去；来不及外逃时，双手抱头躲避在卫生间墙角或坚实的家具下，亦可转移到承重墙较多、面积较小的房间内。