

2019 年海南省高考地理试题

试卷副标题

考试范围：xxx；考试时间：100 分钟；命题人：xxx

题号	一	二	总分
得分			

注意事项：

1. 答题前填写好自己的姓名、班级、考号等信息
2. 请将答案正确填写在答题卡上

第 I 卷（选择题）

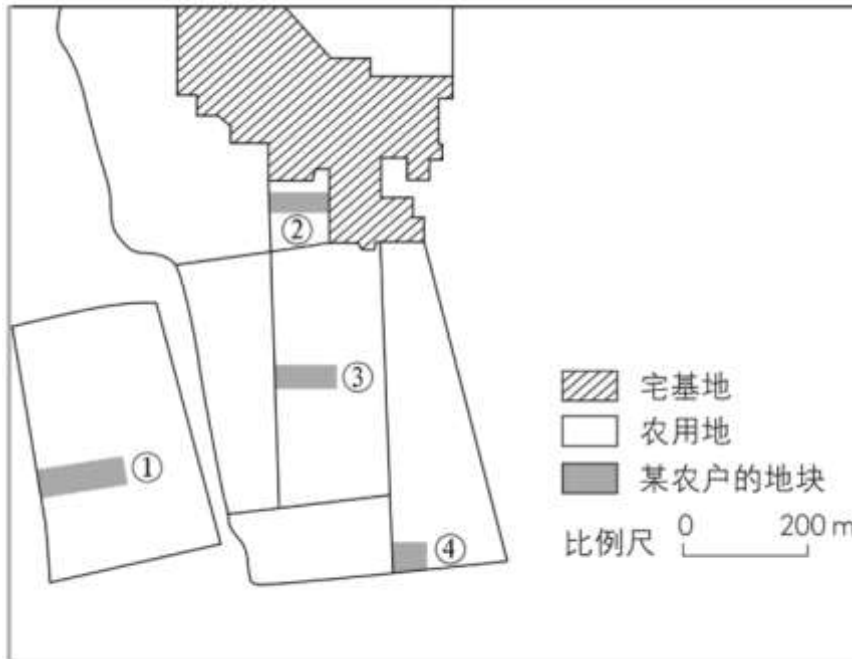
请点击修改第 I 卷的文字说明

评卷人	得分

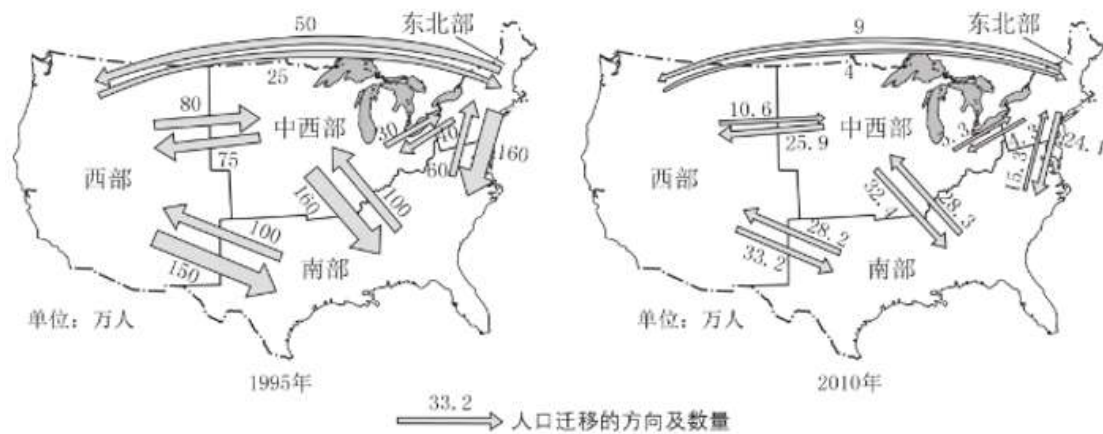
一、单选题

下图示意我国中部平原地区某村庄的土地利用情况。该村将不同位置的农用地按人口进行均分，图中①②③④分别示意某农户分到的地块。该村主要种植粮食作物和蔬菜。与粮食作物相比，蔬菜种植的劳动投入较多。随着农民进城落户，该村农用地逐步向种田专业户集中。

据此完成下面小题。



1. 该农户分到的地块中，最便于种植蔬菜的是
A. ① B. ② C. ③ D. ④
2. 该农户不购置大型农用机械种植农作物，主要原因是该农户的地块



4. 1995 年美国本土人口净流入的地区是

- A. 东北部
- B. 南部
- C. 中西部
- D. 西部

5. 与 1995 年相比, 2010 年美国本土人口

- A. 数量减少
- B. 向中西部大量回流
- C. 迁移规模变小
- D. 净流入的地区减少

6. 影响美国本土人口迁移变化的主导因素可能是

- A. 经济
- B. 交通
- C. 文化
- D. 教育

【答案】

- 4. B
- 5. C
- 6. A

【解析】

【分析】

本题主要考查人口迁移及其影响因素。

4. 据图可以判断, 三个最粗的箭头, 即迁移人口数量最大的箭头, 从三个不同地区指向了南部地区, 说明 1995 年美国本土人口净流入的地区是南部, 故 B 正确, ACD 错误。

5. 据图可以看出, 与 1995 年相比, 2010 年美国本土各区之间的人口迁移数量明显变小, 故 C 正确。图中只是显示了国内人口迁移情况, 因为一个地区人口数量的变化, 受自然增长和机械增长两个因素的影响, 而材料中既没有提到自然增长, 也没有提到与其他国家之间的人口迁移, 所以单从材料中, 是无法判断美国本土的人口数量变化的, 故 A 错误。通过计算, 可知 1995 年中西部地区以迁出为主, 2010 年依然是迁出为主, 故 B 错误。1995 年只有南部为净迁入, 2010 年南部和西部都是净迁入, 所以净流入的地

区增多，故 D 错误。

6. 经济因素是人口迁移中主要的，经常起作用的因素，哪个地方发展速度较快，提供的就业机会就会较多，就会吸引大量人口迁入。南部新兴企业的发展曾经吸引大量人口迁入，随着人员的逐渐饱和，以及西部的发展，南部地区净迁入变小，西部也由净迁出，变为净迁入，所以影响美国本土人口迁移变化的主导因素可能是经济，故 A 正确。交通、文化、教育也是影响人口迁移的因素，但是材料中没有明显的提示内容，故 BCD 错误。

【点睛】

经济因素是人口迁移中主要的，经常起作用的因素，因为地区间经济和发展的不平衡会形成推力和拉力，促使人口迁移的发生。

2015 年，我国某服装企业在卢旺达建立成衣制造厂，生产的服装 20%在卢旺达销售，80%出口欧美国家。2015 年中国商务部公布的数据显示，在非洲投资的中国企业超过 2 500 家，其中民营中小企业超过 70%。

据此完成下面小题。

7. 该服装企业在卢旺达建立成衣制造厂的有利条件是

- A. 基础设施好
- B. 人工成本低
- C. 本地市场大
- D. 获取信息快

8. 我国在非洲投资的民营中小企业较多，主要是因为其

- A. 工人素质高
- B. 融资能力强
- C. 适应能力强
- D. 研发能力强

9. 要使走出去的我国民营中小企业强起来，需要

- A. 打造自主品牌
- B. 快速更新产品
- C. 增强售后服务
- D. 符合国际标准

【答案】

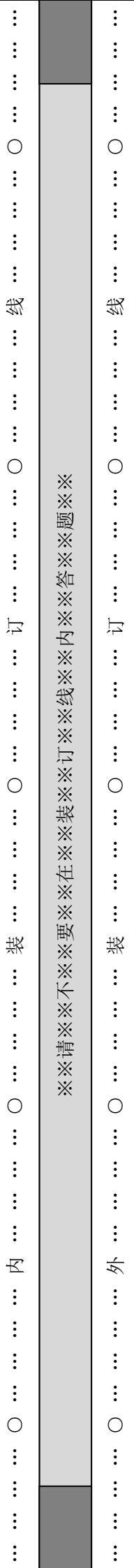
- 7. B
- 8. C
- 9. A

【解析】

【分析】

本题主要考查工业的区位因素和工业的转移。

7. 卢旺达位于非洲，这里的基础设施在全球而言，属于相对较差的，故 A 错误。非洲人口多，经济发展水平低，工资水平低，吸引成衣制造等劳动密集型产业，故 B 正确。



学校：_____ 姓名：_____ 班级：_____ 考号：_____

“生产的服装 20%在卢旺达销售，80%出口欧美国家”，说明产品主要出口欧美国家，本地市场小，所以市场因素不是在此建厂的主要因素，故 C 错误。非洲地区信息业不发达，获取信息较慢，故 D 错误。故选 B。

8. 非洲人口多，经济发展水平低，劳动力素质低，企业在此发展，主要是因为这里人工成本低，这样低成本的人工，素质是不高的，故 A 错误。中小企业融资能力较弱，研发能力弱，在非洲这样的落后地区发展制造业，也无法提高其融资能力和研发能力，故 BD 错误。中小企业规模小，容易调整生产方向，组织生产，适应性比较强，C 正确，故选 C。

9. 品牌是企业开拓市场、占领市场的最强有力的武器之一。站在市场的角度看，品牌是企业的第一生产力。从产品的角度看，生产的技术、工艺和质量决定和产生产品的价值，而品牌则可以使产品产生更大的附加值。品牌有时代表的不仅仅是企业的信誉，背后还隐含着国家、民族、社会甚至是政府的信誉，要使走出去的我国民营中小企业强起来，就需要打造出自主品牌，从而占领国内外市场，故 A 正确。快速更新产品、增强售后服务、符合国际标准是这些走出去的中小企业发展的重要内容，但不是变强的最主要内容，故 BCD 错误。故选 A。

【点睛】

俗话说，船小好调头，对于工业来说，规模较小的企业，适应能力更强，对于一个城市的发展来说，人口规模过于庞大，也是不利于管理的，所以很多特大城市建设了卫星城，分担其人口和职能。

中国足球超级联赛（中超联赛）2018 赛季共有 16 支球队参加，每支球队至多有 4 名外籍球员。据此完成下面小题。

10. 某支中超联赛球队中的外籍球员多为巴西籍，该球队为巴西籍球员配备的翻译人员宜熟练掌握

- A. 德语
- B. 意大利语
- C. 法语
- D. 葡萄牙语

11. 中超联赛大结局阶段，巴西实施夏令时（时间提早 1 小时）。11 月 11 日中超联赛最后一轮开赛时间是 15 时，此时巴西首都巴西利亚（西三区）夏令时为

- A. 11 月 10 日 4 时
- B. 11 月 11 日 3 时
- C. 11 月 11 日 5 时
- D. 11 月 12 日 1 时

【答案】

10. D

【答案】

12. C

13. B

【解析】

【分析】

本题主要考查区域定位和建筑与自然环境的关系。

12. “沿海小镇”“迎接了中国大陆新千年的第一缕曙光”“在方圆四、五平方千米的山坳里，房屋多用石块砌成”提示信息包括：沿海地区；山地地形；大陆新千年是指2000年1月1号，此时北半球昼短夜长，纬度越高，昼越短；第一缕曙光指最早见到日出。海南地形中高周低，四周地势低平，山地少，且位置靠西，日出会相对晚些，不符合题意，故A错误。广东省沿海地区地势低平，山地少，不符合题意，故B错误。山东省沿海地区地形较平坦，且最东部与浙江的最东部所处的经度相差不多，而此时纬度越高昼越短，即日出越晚，所以山东沿海小镇日出比浙江沿海小镇日出要晚些，故D错误。浙江省地形以山地丘陵为主，纬度较低且位置靠东，冬季日出较早，故C正确。

13. 根据上题结论已知该镇位于浙江，浙江纬度较低，受寒潮影响较小，故A错误。该地区山地地形，降水较多，容易发生泥石流，但是石砌建筑也无法抵御泥石流，故C错误。冰雹主要发生在中纬度大陆地区，通常山区多于平原，内陆多于沿海，浙江冰雹较少，故D错误。浙江位于东南沿海，台风较多，石砌建筑“依地势而建”，“房屋多用石块砌成，屋顶瓦片也多压着石块，形成“屋咬山，山抱屋”的石砌建筑群”，这样的建筑，抵御台风的能力相对较高，故B正确。

2019年2月19日，我国在塔里木盆地顺北油气田完成某钻井钻探，钻井深8588米，创亚洲陆上钻井最深纪录。据此完成下面小题。

14. 该钻井

- A. 未穿透地壳
- B. 深达莫霍面
- C. 已穿透岩石圈
- D. 即将穿透地幔

15. 该钻井深达8 500多米表明当地拥有深厚的

- A. 侵入岩
- B. 喷出岩
- C. 变质岩
- D. 沉积岩

【答案】

14. A

15. D

伏汛，故 A 错误。生活用水量受季节变化的影响较小，故 B 错误。该地“流域内多年平均降水量约为 300 毫米”，可见水分条件较差，植被不会特别繁茂，而且河流附近的植被蒸腾作用非常有限，不会导致“伏汛不明显”这样的结果。故 C 错误。该地主要为牧区，部分地区为种植业，夏季农业用水量较大，导致河流中的水被大量使用，因此 D 正确。

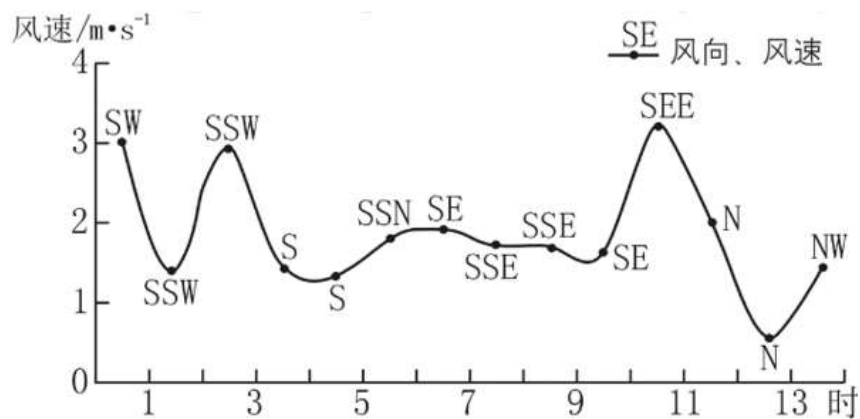
18. 该地“流域内多年平均降水量约为 300 毫米”，可见为半干旱地区，典型植被为草原，故 B 正确。我国季风气候区的植被一般以森林为主，年降水量一般大于 400 毫米。年降水量小于 200 毫米的地区一般植被以荒漠为主。故 AC 错误。区域典型的自然景观一般为森林草原和荒漠，故 D 错误。

【点睛】

河流补给水源中，形成春汛的一般为积雪融水，形成夏汛的一般为降水或者高山冰雪融水。地下水补给是最稳定的，有些湖泊与河流之间存在相互补给，河流汛期，河流补给湖泊，河流枯水期，湖泊补给河流。

山谷风是山区昼夜间风向发生反向转变的风系。白天太阳辐射导致山坡上的空气增温强烈，暖空气沿坡面上升，形成谷风；反之，则形成山风。祁连气象站位于祁连山中段的山谷中，山谷风环流较为强盛。下图示意 2006 年 8 月 24 日该气象站记录的山谷风风向、风速的变化。

据此完成下面小题。



19. 祁连气象站所在地谷风的风向是

- A. 偏南风 B. 偏东风 C. 偏北风 D. 偏西风

20. 祁连气象站所处山谷段的大致走向及地形特征是

- A. 南北走向，西高东低 B. 东西走向，北高南低
C. 南北走向，东高西低 D. 东西走向，南高北低

【答案】

第 II 卷（非选择题）

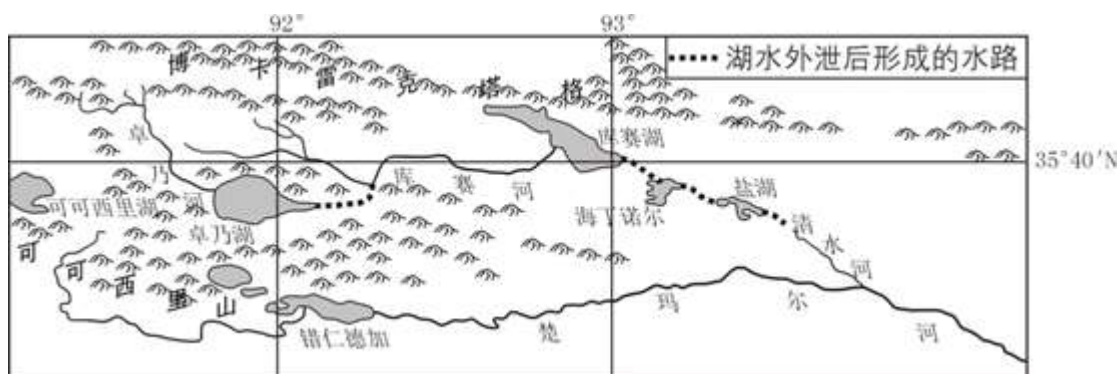
请点击修改第 II 卷的文字说明

评卷人	得分

二、综合题

21. 阅读图文材料，完成下列要求。

青藏高原可可西里地区的河流以降水补给为主，并有冰川融水补给。发源于该地区的楚玛尔河是长江北源之一，卓乃湖、库赛湖、海丁诺尔和盐湖是该地区的重要湖泊。自 20 世纪 80 年代以来，可可西里地区气温持续上升，降水增加。2011 年 8 月中下旬至 9 月上旬的强降水导致卓乃湖湖水外泄，依次贯通了库赛湖、海丁诺尔和盐湖。下图示意卓乃湖周边地区地理环境。



- (1) 说明造成此次湖泊贯通的自然条件。
- (2) 指出卓乃湖湖水外泄对下游河湖的影响。
- (3) 如果未来气候持续暖湿化，导致盐湖与清水河贯通，推测该地区水系及水环境的变化。

【答案】(1) 近年来降水持续增加，卓乃湖水位持续升高，此次强降水，导致卓乃湖湖水外泄。地形西高东低，卓乃湖海拔高，外泄后的湖水连通库赛河，注入库赛湖，随之贯通海拔更低的海丁诺尔和盐湖。

(2) 库赛湖、海丁诺尔和盐湖面积增加，湿地范围扩大；加剧地表冲刷，形成新的河道。

(3) 内流水系变成外流水系，现今长江北源河流水系发生改变。湖水盐度降低，水生生态系统发生改变。

【解析】

【分析】

本题主要考查自然地理中的河流湖泊。

【详解】

(1) 在审题时注意关键词为“说明”“湖泊贯通”“自然条件”。思考顺序应为降水

导致湖水增加乃至外泄,地形导致水由高处流向低处,最终贯通各湖泊。结合具体内容,答案表述如下:近年来降水持续增加,卓乃湖水位持续升高,此次强降水,导致卓乃湖湖水外泄。地形西高东低,卓乃湖海拔高,外泄后的湖水连通库赛河,注入库赛湖,随之贯通海拔更低的海丁诺尔和盐湖。

(2) 本题关键词为“指出”“对下游河湖”“影响”。“指出”即不用分析解释,只需要指出。影响既包括有利影响,又包括不利影响。有利影响为:库赛湖、海丁诺尔和盐湖面积增加,湿地范围扩大;不利影响为:加剧地表冲刷;最终:还能形成新的河道。

(3) “楚玛尔河是长江北源之一”,盐湖与清水河贯通的话,就与楚玛尔河相连通了,内流水系变成外流水系,现今长江北源河流水系发生改变。变成外流河后,湖水流出,会导致湖水盐度降低,水生生态系统发生改变。

22. 阅读材料,完成下列要求。

东盟是由东南亚 10 个国家形成的经济一体化组织。2000 年以来,人口由 5 亿左右增长至现在的 6 亿以上。与此同时汽车产业快速发展,目前东盟年产汽车约 400 万辆,是全球六大汽车生产基地之一,生产的汽车除满足当地市场外,还持续扩展外销规模。指出东盟人口变化的特点,并说明人口因素对其汽车产业发展的影响。

【答案】人口变化特点:增长快,劳动人口数量增多。

发展影响:从生产者角度看,劳动力充足且价格较低,降低了汽车生产成本,汽车的市场竞争力强;从消费者角度看,人口多和增长快使本地汽车市场规模大,劳动人口数量多,收入水平提高,增强了对汽车的购买力。

【解析】

【分析】

本题主要考查人口的变化及其影响。

【详解】

人口变化特点:“2000 年以来,人口由 5 亿左右增长至现在的 6 亿以上”,说明人口增长快,劳动人口数量也会随之增多。

人既是生产者,也是消费者,所以分析人口因素对其汽车产业发展的影响时要从两个角度进行分析:从生产者角度看,劳动力充足且价格较低,降低了汽车生产成本,汽车的市场竞争力强;从消费者角度看,人口多和增长快使本地汽车市场规模大,劳动人口数量多,收入水平提高,增强了对汽车的购买力。

23. (地理一选考 3: 旅游地理) 阅读材料,回答问题。

出境旅游已成为许多人欢度春节的方式。近年来日本成为我国游客春节假期的主要旅游目的地。

分析春节假期日本成为我国游客主要旅游目的地的地理原因。

【答案】距离近，易满足春节7天假期旅游时间要求。文化既具有独特性，又有许多与我国相近或相似之处。旅游资源（商品）丰富多样，满足不同的旅游体验。经济发达，交通和住宿等配套设施完善，服务水平高，满足人们生活水平迅速提高后对旅游服务的更高要求。

【解析】

【分析】

本题考查旅游资源的开发条件评价。

【详解】

旅游资源开发条件评价内容包括：旅游资源的价值、地理位置与交通、旅游资源与客源市场的距离、基础设施、旅游的环境承载量等。日本成为我国游客主要旅游目的地的地理原因也从这几个角度进行分析即可。1 旅游资源与客源市场的距离：距离近，易满足春节7天假期旅游时间要求。2 旅游资源的价值：文化既具有独特性，又有许多与我国相近或相似之处。旅游资源（商品）丰富多样，满足不同的旅游体验；3 交通与基础设施：经济发达，交通和住宿等配套设施完善，服务水平高，满足人们生活水平迅速提高后对旅游服务的更高要求。

24.（地理—选考6：环境保护）阅读材料，回答问题。

近年来，随着攀登珠穆朗玛峰人数增多，产生的废弃物增多，所引发的环境问题已引起世人关注。我国登山管理部门相继提出控制登山人数、成立高山环保基金会、制定登山管理办法等措施，以减少对珠穆朗玛峰地区环境的不利影响。

分析珠穆朗玛峰地区废弃物增多易引发环境问题的原因。

【答案】珠穆朗玛峰地区海拔高，废弃物难以分解，清理废弃物难度大；生态环境脆弱，易退化，难恢复。

【解析】

【分析】

本题考查环境问题的原因。

【详解】

珠穆朗玛峰地区废弃物增多易引发废弃物污染及生态退化等环境问题，这和该地独特的自然环境有很大关系，在其他地方可以分解的废弃物，在这里却难以分解，废弃物增多在这里更容易引发环境污染问题；这里生态环境非常脆弱，人类排放的废弃物在这里破坏了生态之后，生态环境就不能回复到原来的样子了。