

## 2017 年山东省东营市中考真题历史

一、选择题：本大题共 25 小题，每小题 2 分，共 50 分。在每小题所列出的四个选项中，只有一项是符合题意的。

1. 某同学绘制了一幅我国原始居民生活场景的想象图，下列内容与河姆渡原始居民相符的是（ ）

- ①生活在黄河流域
- ②种植水稻
- ③住干栏式房子
- ④挖井饮水

- A. ①②③
- B. ②③④
- C. ①②④
- D. ①③④

解析：河姆渡原始居民生活于长江流域，住干栏式房屋，会挖井饮水，已种植水稻，我国是世界上最早种植水稻的国家。

答案：B.

2. 《史记》：“有军功者，各以率受上爵。……耕织致粟帛多者复其身。……宗室（国君家族）非有军功论，不得为属籍（列入家族名册）。”材料反映的是（ ）

- A. 管仲改革
- B. 商鞅变法
- C. 文景之治
- D. 北魏孝文帝改革

解析：商鞅变法的法令规定，奖励耕战，生产粮食布帛多的人，可以免除徭役；根据军功大小授予爵位和田宅，废除没有军功的旧贵族的特权。因此题干中的材料反映的是商鞅变法的内容。

答案：B

3. 图中，政府在标★号的区域设立的管辖机构是（ ）



- A. 西域都护
- B. 安西都护府
- C. 伊犁将军
- D. 北庭都护府

解析：由图片文字“长安”“西汉”结合所学，公元前 60 年，西汉政府在西域设置西域都护，

管理西域的军事、政治、保护往来商旅。是新疆地区正式归属中央政府统辖的开始。可知，图中，政府在标★号的区域设立的管辖机构是西域都护。

答案：A

4.一位中国作家评论道：此项工程的发起者隋炀帝“虽使他的朝代缩短了许多年，但给子孙万代却带来莫大的好处。”“此项工程”是（ ）

- A.都江堰
- B.灵渠
- C.赵州桥
- D.大运河

解析：依据所学可知，隋炀帝时期，大运河的开凿虽然耗费了大量的人力财力，民不聊生，引起社会动荡，加速了隋朝的灭亡。但是从长远来看，大运河是我国南北交通的大动脉，它大大促进了我国南北政治经济的交流，有利于国家的统一。由此可知大运河符合“虽使他的朝代缩短了许多年，但给子孙万代却带来莫大的好处。”的说法。

答案：D

5.如图是日本奈良唐招提寺，它见证了唐朝与日本的文化交流。下列与之相关的人物是（ ）



- A.张骞
- B.玄奘
- C.鉴真
- D.班超

解析：据图片并结合所学知识可知，唐玄宗时期，鉴真东渡日本，在日本主持修建了唐招提寺。唐招提寺是中日友好交往的见证。

答案：C

6.历史图片被称为“凝固的历史”，对下列图片信息解读不正确的是（ ）



① 司母戊鼎



② 罗盘针



③ 纸币铜板拓片



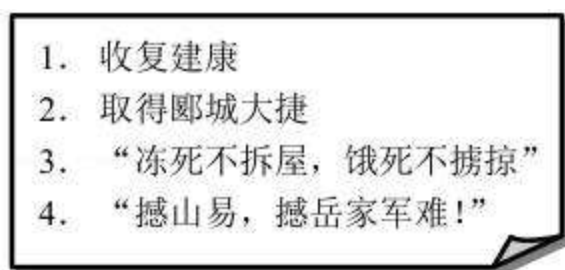
④ 《天工开物》

- A.图①反映了商朝高超的青铜铸造工艺
- B.图②中的发明对航海事业产生重要影响
- C.图③反映了宋代活字印刷技术的高超水平
- D.图④中的著作被称为“中国 17 世纪的工艺百科全书”

解析：图③是纸币铜版拓片，结合所学知识：北宋前期，四川地区出现交子，是世界上最早的纸币，反映了商品经济的繁荣，所以 C 选项图片信息解读不正确；ABD 选项都是对图片信息的正确解读，排除。

答案：C

7.如图是某班同学为历史故事会收集的材料，由此判断他要讲述的是（ ）



- A.卫青北击匈奴
- B.岳飞抗金
- C.文天祥抗元
- D.戚继光抗倭

解析：由“收复建康”“取得郾城大捷”判断是岳飞抗金。南宋岳飞是领导的军队作战勇敢，纪律严明，深受人民的爱戴，被称为“岳家军”。他从金军收复了建康，后又在郾城大败金军骑兵主力，收复许多失地。

答案：B.

8.明太祖在中央废除丞相，撤销中书省，其目的是（ ）

- A.提高行政效率
- B.扩大统治基础
- C.加强君主权力
- D.避免藩王割据

解析：朱元璋是一个权力欲极强的人，而且对于大臣十分猜忌，而宰相权力太大，朱元璋认为宰相权力太大会威胁到皇权，为了加强君主权力，所以将宰相废除。明太祖为了防止相权太重而有篡位夺权的危险，便在洪武十三年，对左丞相胡惟庸以“图谋不轨”诛杀后，干脆乘机废除宰相制度。

答案：C

9.《全球通史》：“在 15 世纪早期这段异乎寻常的历史中，……航海业以其杰出的技术和惊人的范围，明确证明了中国在世界航海业中的领先地位”能证明以上观点的是（ ）

- A.郑和下西洋
- B.吴国船队到夷洲
- C.郑成功收复台湾
- D.清军进入台湾

解析：据所学知，能够证明中国在 15 世纪在世界航海业中的领先地位的事件是郑和下西洋，

1405 到 1433 年，郑和率船队先后七次下西洋，最远到达非洲东海岸和红海沿岸。促进了中国同亚非多国的经济文化交流和友好往来，是世界航海史上的壮举。

答案：A

10. “中国的首都几次被西方的武装力量所占领，这是近代中国最痛苦的一个时期。”与“中国的首都”曾在下列哪两次战争中被“占领”（ ）

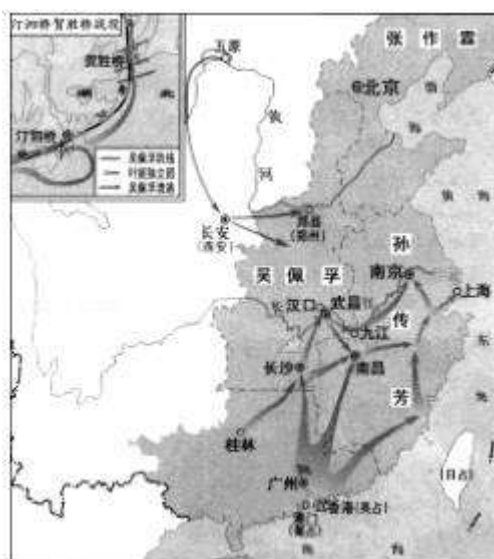
- ①鸦片战争
- ②第二次鸦片战争
- ③甲午中日战争
- ④八国联军侵华战争

- A. ①②
- B. ③④
- C. ①③
- D. ②④

解析：根据所学可知，中国近代史上北京两次被攻占发生在第二次鸦片战争和八国联军侵华战争中。第二次鸦片战争中，英法联军攻陷北京，洗劫并火烧圆明园。1900 年 8 月，八国联军攻陷北京，并在北京城内烧杀抢掠。

答案：D

11. 读图，该示意图反映的是中国近代史上哪一重大事件（ ）



- A. 武昌起义
- B. 南昌起义
- C. 北伐战争
- D. 秋收起义

解析：依据图片“吴佩孚、孙传芳”可知，与北伐战争有关。为推翻北洋军阀的统治，统一全国，广东国民政府决定北伐，北伐的主要对象是吴佩孚、孙传芳、张作霖三个军阀。1926 年 7 月，北伐军出师北伐，蒋介石任总司令。

答案：C

12. 1945 年 8 月 15 日，日本宣布无条件投降。14 年浴血奋战，中国人民……终于取得了近

代反抗外敌入侵的第一次完全胜利，也为世界反法西斯战争做出了重大贡献。（《筑梦中国》解说词）下列说法不正确的是（ ）

- A. “九一八事变”成为中国人民抗日战争的起点
- B. 西安事变和平解决，抗日民族统一战线初步形成
- C. “七七事变”成为中国全民族抗战的开端
- D. 日本侵略者在中国制造了死难人数超过 300 万人的南京大屠杀

解析：1937 年 12 月，日军占领南京后，在六周之内，屠杀中国军民三十万人以上，不是 300 万。

答案：D

13. 1947 年夏，刘伯承、邓小平率晋冀鲁豫解放军主力，在山东西南强渡黄河，挺进大别山。这标志着（ ）

- A. 全面内战爆发
- B. 战略进攻开始
- C. 战略决战到来
- D. 渡江战役开始

解析：1947 年夏，刘伯承、邓小平率晋冀鲁豫解放军主力，在山东西南强渡黄河，挺进大别山。这标志着战略进攻开始。1947 年夏，刘伯承、邓小平率领晋冀鲁豫解放军主力，在山东西南强渡黄河，向国民党统治区发动大规模进攻，直插敌人兵力空虚的大别山地区，刘邓大军开辟了大别山根据地，严重地威胁了国民党统治中心南京和湖北重镇武汉，揭开了人民解放军全国性战略进攻的序幕。

答案：B

14. 宣传报道带有鲜明的时代印记。与如图类似的报道会出现在（ ）



- A. 第一个五年计划时期
- B. “大跃进”时期
- C. “文化大革命”时期
- D. 社会主义现代化建设新时期

解析：题干“旱稻亩产三万六千九百多斤”的报纸报道是大跃运动浮夸风的表现。由于党和人民对于我国社会主义所处的发展阶段认识不足，对如何建设社会主义缺乏经验，又急于求成，忽视了经济发展的客观规律。1958 年发动的“大跃进”运动，导致以高指标、瞎指挥、浮夸风和“共产”风为标志的“左”倾错误泛滥。

答案：B

15. 邓小平明确提出“把马克思主义的普遍真理同我国的具体实际结合起来，走自己的路，建设有中国特色的社会主义”的会议是（ ）

- A. 中共十二大
- B. 中共十三大

- C.中共十四大
- D.中共十五大

解析：依据题干信息“把马克思主义的普遍真理同我国的具体实际结合起来，走自己的路，建设有中国特色的社会主义”，结合所学知识：1982年，在中共十二大上，邓小平提出：我们的现代化建设，必须从中国的实际出发。“把马克思主义的普遍真理同我国的具体实际结合起来，走自己的路，建设有中国特色的社会主义”。

答案：A

16. “1959年，一批中国最优秀的科学家突然从公众的视线里消失了，甚至连他们的家人也不知道他们去了哪里。这个谜底直到五年之后，才随着大西北戈壁荒原上升起的蘑菇云得以揭开。”这个“谜底”是我国研制（ ）

- A.战略核潜艇
- B.人造地球卫星
- C.长征运载火箭
- D.原子弹

解析：据“1959年，一批中国最优秀的科学家突然从公众的视线里消失了，甚至连他们的家人也不知道他们去了哪里。这个谜底直到五年之后，才随着大西北戈壁荒原上升起的蘑菇云得以揭开。”可知，这个“谜底”是我国研制的原子弹。1964年10月16日，我国第一颗原子弹爆炸成功，它加强了我国的国防力量，也打破了帝国主义的核垄断，对于维护世界和平具有重要意义。

答案：D

17. “中国万达” 2017年黄河口（东营）国际马拉松赛于5月7日举行，该项赛事举办十年来，已荣获国际田联“金标赛事”等多项荣誉。与马拉松运动起源相关的是（ ）

- A.希波战争
- B.布匿战争
- C.罗马帝国的扩张
- D.特洛伊战争

解析：题干给出的马拉松比赛起源于希波战争。这个比赛项目的起源要从公元前490年9月12日发生的一场战役讲起。这场战役是波斯人和雅典人在离雅典不远的马拉松海边发生的，史称希波战争，雅典人最终获得了反侵略的胜利。为了让故乡人民尽快知道胜利的喜讯，统帅米勒狄派一个叫菲迪皮茨的士兵，为了让故乡人早知道好消息，他一个劲地快跑，当他跑到雅典时，已上气不接下气，激动地喊道“欢…乐吧，雅典人，我们…胜利了”说完，就倒在地上死了。为了纪念这一事件，在1896年举行的现代第一届奥林匹克运动会上，设立了马拉松赛跑这个项目。

答案：A

18. 下列表格中，历史现象与原因的对应关系正确的是（ ）

	历史现象	原因
选项 A	公元前 5 世纪后半期，雅典一度达到全盛	查理·马特改革
选项 B	632 年，阿拉伯半岛基本统一，统一的阿拉伯国家建立	穆罕默德创立伊斯兰教
选项 C	阿拉伯数字传遍了全世界	《马可·波罗行纪》

选项 D	1453 年，君士坦丁堡陷落，拜占廷帝国灭亡	亚历山大大帝东征
------	------------------------	----------

- A.选项 A
- B.选项 B
- C.选项 C
- D.选项 D

解析：穆罕默德创立伊斯兰教，伊斯兰教的传播加速了阿拉伯半岛的统一，到穆罕默德病逝时，阿拉伯半岛已基本统一，统一的阿拉伯国家建立起来。他的继承者们经过一系列大规模的征服和扩张，将穆罕默德创立的阿拉伯国家建成一个地跨亚、欧、非三洲的阿拉伯帝国。632 年，阿拉伯半岛基本统一，统一的阿拉伯国家建立和穆罕默德创立伊斯兰教这个历史现象与原因搭配是正确的。

答案：B

19.1836 - 1848 年间，英国工人掀起了一场规模宏大、持续时间长久的运动。这场运动是世界上第一次群众性的、政治性的无产阶级革命运动。该运动是（ ）

- A.文艺复兴
- B.巴黎公社
- C.宪章运动
- D.十月革命

解析：1836 - 1848 年间，在英国发生的争取实现人民宪章的工人运动，是早期三大工人运动之一。宪章运动的目的是，工人们要求取得普选权，以便有机会参与国家的管理。列宁评价英国的宪章运动是“世界上第一次广泛的、真正群众性的、政治性的无产阶级革命运动”。

答案：C

20.为反抗英国殖民统治，1857-1859 年印度爆发了民族大起义。其领袖是（ ）

- A.玻利瓦尔
- B.章西女王
- C.卡斯特罗
- D.尼赫鲁

解析：1857 年-1859 年印度爆发了一场反抗英国殖民统治的“士兵”起义，后发展成全民族的反英大起义。章西女王是起义队伍中的女英雄，她在 1858 年 3 月率领起义军与英军作战，最后壮烈牺牲。

答案：B

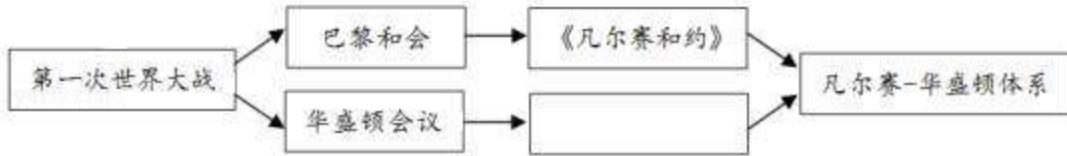
21.列宁说：“农民获得‘自由’的时候，已经被剥夺得一干二净。”这是由于 1861 年废除农奴制的法令规定（ ）

- A.农奴在法律上是“自由人”
- B.地主不许买卖农奴
- C.农奴的份地必须出钱赎买
- D.地主不许干涉农奴的生活

解析：1861 年，沙皇亚历山大二世签署了废除农奴制的法令。法令规定，农奴获得解放时可以得到一定数量的份地，但必须出钱向地主赎买，赎金比当时的地价还高。“农民获得‘自由’的时候，已经被剥夺得一干二净”这句话充分揭示了这场改革的实质是一场沙皇和地主勾结起来对农民进行的一次双重敲诈和掠夺的改革。

答案：C

22.如图是一战后帝国主义列强建立新秩序的示意图，图中的空白处应是（ ）



- A. 《九国公约》
- B. 《北大西洋公约》
- C. 《华沙条约》
- D. 《开罗宣言》

解析：根据图中的空白处前面的华盛顿会议可知此处应是《九国公约》。巴黎和会主要是暂时调整了帝国主义列强在西方的关系。而它们在远东和太平洋地区的矛盾仍然十分尖锐，尤其是美日之间的竞争更为激烈。在美国的倡议下，1921年 - 1922年，英、法、美、日、意、荷、葡和中国在华盛顿召开举行会议。1922年，九国代表签署了关于中国问题的《九国公约》，表面上尊重中国的主权、独立与领土完整，遵守各国在中国的“门户开放”、“机会均等”的原则。实际上打破了日本独霸中国的局面，使中国又回复到几个帝国主义国家共同宰割的局面，为美国在中国的扩张提供了方便。华盛顿会议实质上是巴黎和会的继续和补充，它确立了帝国主义在东亚、太平洋地区的统治新秩序。

答案：A

23.1929年，资本主义世界爆发空前严重的经济危机。对此次危机认识不正确的是（ ）

- A. 导致德日走上了法西斯道路
- B. 激化了各主要资本主义国家的社会矛盾
- C. 是资本主义国家推行干预经济政策的结果
- D. 从美国开始席卷了整个资本主义世界

解析：1929年，资本主义世界爆发空前严重的经济危机是资本主义国家放任经济自由发展的结果，不是推行干预经济政策的结果。

答案：C

24.某同学在研究性学习活动中找到了以下三幅图片，他研究的主题是（ ）



修建柏林墙



北约标志



古巴导弹危机漫画

- A. 美苏两极对峙
- B. 殖民体系瓦解
- C. 欧洲国家联合
- D. 世界格局多极化

解析：题目给出的柏林墙、北约和古巴导弹危机这三幅图片都是美苏两极对峙时期的产物和



史实。在军事方面美国建立了北大西洋公约组织；苏联采取针锋相对的措施，成立华沙条约组织，两极格局由此形成。20世纪五六十年代，苏联的军事实力远不如美国，美国在争霸过程中占有优势，典型表现为1962年古巴导弹危机。柏林墙始建于1961年8月13日，全长155公里。最初是以铁丝网和砖石为材料的边防围墙，后期加固为由瞭望塔、混凝土墙、开放地带以及反车辆壕沟组成的边防设施。柏林墙是德国分裂的象征，也是冷战的重要标志性建筑。

答案：A

25.第二次世界大战对人类社会产生了重大影响。受这次大战影响而创作的艺术作品是( )

A.达·芬奇的《最后的晚餐》

B.梵高的《向日葵》

C.达利的《记忆的永恒》

D.毕加索的《格尔尼卡》

解析：第二次世界大战对人类社会产生了重大影响。受这次大战影响而创作的艺术作品是毕加索的《格尔尼卡》。西班牙著名画家毕加索在1937年为抗议德国法西斯轰炸西班牙小镇格尔尼卡而创作的《格尔尼卡》，它控诉了法西斯的暴行。

答案：D

二、非选择题：本大题共4小题，第26题14分，第27题12分，第28题12分，第29题12分，共50分。

26.中华传统文化是中华民族智慧的结晶，内涵丰富，源远流长。阅读材料，回答问题。

材料一：为政以德，譬如北辰，居其所而众星共之。

——《论语》

(1)材料一是哪位思想家的言论？他是哪一学派的创始人？

解析：由“为政以德”可知，材料一是孔子的言论。孔子是我国古代著名的思想家，儒家学派创始人。

答案：孔子；儒家。

材料二：从后来的历史看，中国最重要的改革之一是废弃了早先在诸王国发展起来的写法众多的语言文字，而代之以全中国都能理解的统一文字。这种统一文字……证明是一种非常有效且持久的统一的粘合剂。

——斯塔夫里阿诺斯《全球通史》

(2)材料二中的“统一文字”指的是什么书体？文字的统一有何历史意义？

解析：由“统一文字”结合所学，秦始皇统一全国后，统一文字，以小篆作为标准文字，颁行天下。可知，材料二中的“统一文字”指的是小篆。文字的统一有利于维护国家统一，有利于文化发展。

答案：小篆；有利于维护国家统一，有利于文化发展。

材料三：



2017年5月15日，“一带一路”高峰论坛文艺晚会的开场舞《千年之约》，将多种古老艺术呈现在世人面前，也把观众带回到了千年前那个见证丝绸之路畅通繁荣的地方敦煌。

(3)结合所学知识，你从材料中能感受到哪些古老的艺术？

解析：敦煌是中国艺术的宝库，它所包含的古代艺术有壁画（绘画）、音乐、舞蹈、雕塑等。

答案：壁画（绘画）、音乐、舞蹈、雕塑等。

(4)在弘扬中华民族传统文化方面，你有哪些好的建议？

解析：本题为开放性试题，言之有理即可。诵读经典、练习书法、欣赏绘画等。

答案：诵读经典、练习书法、欣赏绘画等。

27.近代先进的中国人不断学习西方，寻求变革，推动了社会进步。阅读材料，回答问题。

材料一：



1862年京师同文馆学生跟洋教头学外语 1872年留美幼童在轮船招商局前合影

(1)材料一反映的措施与哪一重大历史事件相关？这些措施起到了什么作用？

解析：依据材料一“1862年京师同文馆学生跟洋教头学外语”、“1872年留美幼童在轮船招商局前留影”可知，这与洋务运动有关。19世纪60-90年代，洋务派掀起了一场“师夷长技”的洋务运动。洋务派起初以“自强”为口号，创办一批近代军事工业，19世纪70年代，洋务派又提出“求富”的口号，创办民用工业，80年代中期，洋务派筹建了南洋、北洋和福建三支海军。1872年轮船招商局在上海成立，这是当时中国规模最大的民用企业之一。京师同文馆是清末第一所官办外语专门学校，由恭亲王奕訢于1861年1月奏请开办，开始以培养外语翻译、洋务人才为目的。这些措施培养了近代外交、军事和科技人才；改变了传统的教育模式；传播了科学技术；传播了西方的思想观念。

答案：洋务运动；培养了近代外交、军事和科技人才；改变了传统的教育模式；传播了科学技术；传播了西方的思想观念。

材料二：倡导维新的人物，无一不受到西方的影响。真正了解西方文化，又能洞悉中国病源所在的为严复。……他复就物竞、天择、弱肉强食、优胜劣败、适者生存的原理，阐发救亡

的论证。

——郭廷以《近代中国史纲》

(2)根据材料二，严复维新救亡的理论来源于西方的什么思想？

解析：依据材料二“真正了解西方文化，又能洞悉中国病源所在的为严复。…他复就物竞、天择、弱肉强食、优胜劣败、适者生存的原理，阐发救亡的论证。”可知，严复维新救亡的理论来源于西方的物竞天择，适者生存的进化论思想。

答案：进化论。

材料三：



(3)根据材料三并结合所学知识，孙中山提出了什么思想？这一思想对资产阶级民主革命运动有什么重要作用？

解析：1905年孙中山在日本东京成立中国同盟会，同盟会的革命政纲是“驱除鞑虏，恢复中华，创立民国，平均地权”，后来孙中山在《民报》发刊词中把此革命纲领阐发为“民族、民权、民生”三大主义，合称“三民主义”。三民主义，成为孙中山领导辛亥革命的指导思想。

答案：思想：三民主义（民族、民权、民生）；作用：三民主义是孙中山领导辛亥革命的指导思想。

28.新中国成立以来，随着我国综合国力的逐步提升，外交事业也取得了辉煌的成就。阅读材料，回答问题。

材料一：我们并不要求各人放弃自己的见解，因为这是实际存在的反映……我们应该承认，在亚非国家中是存在有不同的思想意识和社会制度的，但这并不妨碍我们求同和团结。

——周恩来

(1)材料一体现了周恩来在哪次国际会议上提出的什么方针？

解析：依据材料一“在亚非国家中是存在有不同的思想意识和社会制度的，但这并不妨碍我们求同和团结”可知，1955年，亚洲和非洲国家政府首脑在印度尼西亚的万隆举行会议，由于帝国主义的破坏和与会各国间矛盾错综复杂，会议出现尖锐分歧，周恩来及时提出“求同存异”的方针，推动会议取得圆满成功。

答案：万隆会议；“求同存异”的方针。

材料二：一个更为显著的变化是在外交领域，在不断加深与亚、非、拉国家友谊的同时，二十世纪七十年代，新中国一步步打开西方世界的封锁，为国家发展开拓了新的空间。

——《筑梦中国》解说词

(2)请用两个事例说明，二十世纪七十年代，新中国外交“为国家发展开拓了新的空间。”

解析：依据材料二“二十世纪七十年代，新中国一步步打开西方世界的封锁，为国家发展开拓了新的空间”可知，注意题中的时间要求“二十世纪七十年代”，这一时期我国对外关系

取得的主要成就有：1971年，恢复中国在联合国的合法席位，有利于中国在国际事务中发挥更大的作用；1972年，美国总统尼克松访华，美国承认只有一个中国，台湾是中国的一部分；1972年，中日建交；1979年，中美建交。中美两国二十多年的对抗结束了，两国关系开始走向正常化。

答案：1971年，中国在联合国合法席位的恢复，有利于中国在国际事务中发挥更大的作用；1972年，中美双方签署《中美联合公报》，中美两国二十多年的对抗结束了，两国关系开始走向正常化。

材料三：要推动教育合作，扩大互派留学生规模，提升合作办学水平。要发挥智库作用，建设好智库联盟和合作网络。在文化、体育、卫生领域，要创新合作模式，推动务实项目。要用好历史文化遗产，联合打造具有丝绸之路特色的旅游产品和遗产保护。

——摘自习近平“一带一路”高峰论坛开幕式主旨演讲

(3)根据材料三并联系现实，推进“一带一路”建设将会给我们的生活带来怎样的变化。

解析：本题属于发挥性试题，言之有理即可。如“增加出国留学的机会；方便出国旅游；提供更多的就业机会；方便对‘一带一路’参与国的全面了解和学习的”等方面解答。

答案：增加出国留学的机会；方便出国旅游；提供更多的就业机会；方便对“一带一路”参与国的全面了解和学习的等。

29.近代以来，人类逐渐步入相互联系、相互依赖的世界一体化阶段。阅读材料，回答问题。

材料一：欧洲人发现南北美洲并来此定居时，带到新大陆来的禽畜和作物，加上偷偷溜上船的老鼠，不小心带来的杂草种子，所有这些组成了一个“生物旅行箱”，这个旅行箱由原产于欧洲的，加上来自非洲的和亚洲的一些物种组成。

(1)发现“新大陆”的航海家是谁？依据材料一概括新航路开辟的主要影响。

解析：1492年，哥伦布横渡大西洋，到达今天的美洲古巴、海地等地，发现了美洲大陆。由材料欧洲人到美洲定居，原产于欧洲的，加上来自非洲的和亚洲的一些物种被带到了美洲大陆，可以看出新航路开辟的影响是促进了新旧大陆的人员、物种交流，世界开始连成一个整体。

答案：哥伦布；促进了新旧大陆的人员、物种交流（或丰富了人类物质生活）；世界开始连成一个整体（或各个地区各个民族之间的联系日益紧密）。

材料二：二战以来，交通运输技术迅速发展，特别是20世纪90年代以来信息技术的迅猛发展，把世界各国各地区更加紧密地联系在一起，加速了原材料、资本和劳动力的国际流动。跨国公司和各种国际组织成为经济全球化的强有力的推动者。

(2)根据材料二并结合所学知识，概括推动二战后经济全球化的主要因素。

解析：由材料可以看出，推动二战后经济全球化的主要因素有交通运输技术迅速发展；信息技术迅猛发展；跨国公司和各种国际组织的推动。

答案：交通运输技术迅速发展；信息技术迅猛发展；跨国公司和各种国际组织的推动。

材料三：



2001年12月中国正式成为世界贸易组织的一员

(3)作为发展中国家的一员，我们应该如何认识经济全球化？

解析：本题为开放性试题，言之有理即可。经济全球化对发展中国家既是机遇，又是挑战。

答案：既是机遇，又是挑战。