

2018 年辽宁省沈阳市中考真题历史

一、单项选择题（本题 15 小题，每小题 2 分，共 30 分）

1.（2 分）“河姆渡文化”是中国长江流域下游地区古老而多姿的新石器文化。在该遗址中，考古学家发现了大量人工栽培的稻谷遗存。这是目前发现的世界最古老、最丰富的稻类文化遗址。上述考古发现能为“河姆渡文化”哪一表现提供直接佐证（ ）



- A. 种植作物
- B. 磨制石器
- C. 饲养家畜
- D. 打猎捕鱼

解析：本题考查河姆渡原始居民的生活状况。生活在距今约七千年浙江省余姚市（长江流域）的河姆渡原始居民，使用磨制石器、骨器、用耒耜耕地，住干栏式房屋，种植水稻。所以“河姆渡文化”遗址中，考古学家发现了大量人工栽培的稻谷遗存，是目前发现的世界最古老、最丰富的稻类文化遗址，表明河姆渡原始居民最早种植水稻，A 选项符合题意。

答案：A

2.（2 分）汉武帝即位后，令各郡县保举贤良、方正、直言之士，由他亲自出题，让被举荐的人作答。通过这样的考察，大汉呈现出人才济济的盛况：大经学家、政论家董仲舒，大史学家司马迁，文学家司马相如，大军事家卫青、霍去病，大探险家张骞都出现在这一时期。上述材料说明了汉武帝（ ）

- A. 树立皇帝权威
- B. 重视选拔人才
- C. 削弱贵族势力
- D. 推儒家思想

解析：本题考查汉武帝推进大一统措施的知识点。据“汉武帝即位后，令各郡县保举贤良、方正、直言之士，由他亲自出题，让被举荐的人作答”“通过这样的考察，大汉呈现出人才济济的盛况：大经学家、政论家董仲舒，大史学家司马迁，文学家司马相如，大军事家卫青、霍去病，大探险家张骞都出现在这一时期”可知，材料说明了汉武帝重视人才，重视选拔人才。

答案：B

3.（2 分）清政府一些官员认为台湾土地狭小、人口稀少，设立地方政府要靠朝廷供养，浪费粮饷，主张放弃台湾岛。大臣施琅劝告康熙帝，没有台湾，东南沿海不得安宁，虽然边远，其实是沿海要害所在。于是，康熙帝决定设立台湾府管理台湾。上述材料表明清朝设立台湾府的目的是（ ）

- A. 接受汉族文化
- B. 发展海外贸易
- C. 巩固东南海防
- D. 鼓励官员进谏

解析：本题主要考查台湾府的设立的相关史实。据“……大臣施琅劝告康熙帝，没有台湾，东南沿海不得安宁，虽然边远，其实是沿海要害所在。于是，康熙帝决定设立台湾府管理台湾。”可知，材料表明清朝设立台湾府的目的是巩固东南海防。1684年，清政府设台湾府，隶属福建省。台湾府的设置，加强了台湾同祖国大陆的联系，促进了台湾的开发，巩固了祖国的海防。

答案：C

4. (2分) 1912年元旦，中华民国正式成立。同年，孙中山辞去临时大总统职务，由袁世凯继任。就任后，袁世凯于1914年修订《总统选举法》，不但自己可以终身担任总统，还可以由他的子孙继任，这与封建帝制已无多少差别，体现辛亥革命成果的资产阶级民主制度遭到破坏，“中华民国”只剩下一块空招牌。上述材料中，“辛亥革命成果”遭到破坏的时间是()

- A. 民国元年
- B. 民国二年
- C. 民国三年
- D. 民国四年

解析：本题考查了民国纪年与公元纪年的换算。1912年元旦，中华民国正式成立。同年，孙中山辞去临时大总统职务，由袁世凯继任。就任后，袁世凯于1914年修订《总统选举法》，不但自己可以终身担任总统，还可以由他的子孙继任，这与封建帝制已无多少差别，体现辛亥革命成果的资产阶级民主制度遭到破坏，“中华民国”只剩下一块空招牌。上述材料中，“辛亥革命成果”遭到破坏的时间是民国三年。题目给出的时间为1914年，1912年1月1日，孙中山在南京宣誓就职，宣告中华民国正式成立。 $1914-1912+1=3$ 。因为1912年为民国1年，需要加上这个1。

答案：C

5. (2分) 1927年，一声枪响掀起了中国共产党领导武装斗争的大幕，开启了创建人民军队的新时期。中国共产党走上了一条依靠自己的力量来完成民族独立和人民解放的道路。与上述材料相关的历史事件是()

- A. 南昌起义
- B. 汀泗桥战役
- C. 百团大战
- D. 辽沈战役

解析：本题考查南昌起义的相关知识。由材料信息可知反映的是南昌起义。1927年的南昌起义，打响了武装反抗国民党反动统治的第一枪，是中国共产党独立领导武装斗争，创建人民军队和武装夺取政权的开始。

答案：A

6. (2分) 1949年10月1日下午3时，首都30万军民齐集天安门广场，毛泽东向全世界庄严宣告：中华人民共和国中央人民政府成立了！接着，受检阅部队以海军的两个排为前导，步兵师、炮兵师、战车师、骑兵师依次通过主席台，空军14架飞机在会场上空飞行受阅。与上述材料相关的史实是()

- A. 开国大典
- B. 抗美援朝
- C. 土地改革
- D. 三大改造

解析：本题考查开国大典的相关知识。据材料“1949年10月1日下午3时，首都30万军民齐集天安门广场，毛泽东向全世界庄严宣告：中华人民共和国中央人民政府成立了！接着，受检阅部队以海军的两个排为前导，步兵师、炮兵师、战车师、骑兵师依次通过主席台，空军14架飞机在会场上空飞行受阅”结合所学可知，这反映的是开国大典，标志着中华人民共和国的成立，中国人民从此站立起来，成为新国家、新社会的主人。

答案：A

7.（2分）古埃及文字（见右图）同苏美尔文、古印度文以及中国的甲骨文一样，都是独立地从原始社会最简单的图画和花纹中产生出来的。埃及人依靠那些代表动物、事物、地方和人的复杂符号来表情达意，记录活动。由此可知，能够帮助我们了解古埃及的文字是（ ）



- A. 楔形文字
- B. 梵文
- C. 象形文字
- D. 字母文字

解析：本题考查了象形文字。古埃及文字（见右图）同苏美尔文、古印度文以及中国的甲骨文一样，都是独立地从原始社会最简单的图画和花纹中产生出来的。埃及人依靠那些代表动物、事物、地方和人的复杂符号来表情达意，记录活动。由此可知，能够帮助我们了解古埃及的文字是象形文字。古代埃及人最早使用的文字是形成于公元前3000年左右的象形文字，它用图形表示事务，通常被刻在庙墙、宗教纪念物和纸草上。古埃及象形文字对以后的字母文字产生了重要的影响。

答案：C

8.（2分）公元前6世纪时，释迦牟尼创立宗教，反对婆罗门种姓的优越地位，提出“众生平等”，力图在宗教领域内破除种姓之间的严格界限。他认为，种姓之间没有贵贱之分，看人不应分种姓出身，应看其行为和才能。与上述材料相关的宗教是（ ）

- A. 佛教
- B. 道教
- C. 基督教
- D. 伊斯兰教

解析：本题考查佛教。佛教起源于公元前6-5世纪的古印度。其创始人悉达多·乔达摩。释迦牟尼是佛教徒对他的尊称，其意是“释迦族的圣人”。由材料“公元前6世纪时，释迦牟尼创立宗教，反对婆罗门种姓的优越地位，提出‘众生平等’”等知道，这是对佛教的描述。

答案：A

9. (2分) 查理·马特改革后，西欧逐渐形成了从国王到骑士的金字塔形的政治制度。国王是最高的领主，以下是公爵、侯爵、伯爵、子爵、男爵，最后是骑士。在这种体系下，各级领主依次从属，只能直接管辖自己的附庸，不能管辖附庸的附庸。上述材料反映的西欧政治制度是()

- A. 雅典民主制
- B. 封建等级制
- C. 君主立宪制
- D. 民主共和制

解析：本题考查了西欧封建等级制度。查理·马特改革后，西欧逐渐形成了从国王到骑士的金字塔形的政治制度。国王是最高的领主，以下是公爵、侯爵、伯爵、子爵、男爵，最后是骑士。在这种体系下，各级领主依次从属，只能直接管辖自己的附庸，不能管辖附庸的附庸。上述材料反映的西欧政治制度是封建等级制。8世纪前期，查理·马特任宫相时，改变以前无条件赏赐贵族土地的做法，实行有条件的土地分封。得到封地的人必须为封主服兵役，这次改革在封建贵族内部形成了严格的等级制度。西欧封建等级制：国王——贵族（公爵、侯爵、伯爵、子爵、男爵、骑士）——农民。西欧封建社会虽有严格的等级制度，但在不同等级的贵族之间，没有严格的上下级制约关系。

答案：B

10. (2分) 文艺复兴揭开了近代欧洲历史的序幕。教会宣扬的悲观厌世观念逐渐失去市场，人们把关注的中心由教会所代表的“神”转到人类自身上，这就是历史学家所说的“人的发现”。上述材料反映出文艺复兴()

- A. 主张建立“节俭教会”
- B. 推动了自然科学发展
- C. 解释了封建神学观念
- D. 转变了人的价值观念

解析：本题考查了文艺复兴运动。文艺复兴揭开了近代欧洲历史的序幕。教会宣扬的悲观厌世观念逐渐失去市场，人们把关注的中心由教会所代表的“神”转到人类自身上，这就是历史学家所说的“人的发现”。上述材料反映出文艺复兴转变了人的价值观念。文艺复兴运动的核心思想是人文主义，即要求以人为中心，而不是以神为中心；提倡发扬人的个性，追求人在现实生活中的幸福。文艺复兴推动了欧洲文化思想领域的繁荣，为欧洲资本主义社会的产生奠定了思想文化基础。

答案：D

11. (2分) 17世纪晚期，奴隶贸易给非洲社会带来的混乱升级了。欧洲人诱骗非洲一些部落用奴隶交换火药武器，得到新式武器的部落能够轻易地从周围手无寸铁的其他部落中猎取奴隶，再向欧洲人换取更多的武器，依靠武器迅速扩张。对上述材料理解最准确的是()

- A. 奴隶贸易使欧洲奴隶贩子获得大量财富
- B. 奴隶贸易给非洲带来了部落之间的争斗
- C. 奴隶贸易刺激了欧洲资本主义经济发展
- D. 奴隶贸易为美洲提供了大量廉价劳动力

解析：本题考查了“三角贸易”。17世纪晚期，奴隶贸易给非洲社会带来的混乱升级了。欧洲人诱骗非洲一些部落用奴隶交换火药武器，得到新式武器的部落能够轻易地从周围手无寸

铁的其他部落中猎取奴隶，再向欧洲人换取更多的武器，依靠武器迅速扩张。对上述材料理解最准确的是奴隶贸易给非洲带来了部落之间的争斗。因欧洲殖民者大肆屠杀印第安人，导致美洲种植园缺乏大量劳动力，欧洲殖民者发现贩卖黑人奴隶有利可图，纷纷加入罪恶的黑奴贸易行列。奴隶贩子带着廉价的工业品从欧洲出发，到非洲购买、换取甚至直接猎取黑人，用船运到美洲，卖给种植园主充当奴隶，然后带着满船的黄金、白银和欧洲需要的经济作物返回欧洲。

答案：B

12. (2分) 18世纪中期，英国人用马车在脏兮兮的路上或者用风力和水力在海上将货物缓慢地运到市场。到1850年，火车冒着蒸汽在英国2000英里的铁轨上轰鸣运行，将人和货物迅速、便宜、可靠地运到分布各地的车站，给制造业、商业和贸易带来了巨大的变化。上述材料反映了工业革命对英国的影响是()

- A. 改变了生产方式
- B. 提高了运输能力
- C. 促进了城市发展
- D. 加剧了环境污染

解析：本题考查工业革命的影响。分析材料可知，体现了工业革命的影响。工业革命创造的巨大生产力，使社会面貌发生了天覆地的变化，人类进入“蒸汽时代”。率先完成工业革命的西方资本主义国家逐步确立起对世界的统治，世界形成了西方先进、东方落后的局面，资本主义的世界市场初步形成。材料反映了工业革命对英国的影响是提高了运输能力，B选项符合题意。

答案：B

13. (2分) 无尽的轰炸使法国大量农田变得寸草不生，近百万只羊、无数头牛和约50万匹马被消耗；近100万栋建筑物及难以计数的铁路和公路、许多桥梁、大部分工厂等被破坏。上述材料反映出第一次世界大战对法国的影响是()

- A. 国际政治地位大幅度下降
- B. 国内的阶级矛盾空前尖锐
- C. 社会结构发生了剧烈变化
- D. 经济和基础设施受损严重


解析：本题考查第一次世界大战的影响。第一次世界大战是一场帝国主义战争，给各国人民带来了深重的灾难，参战各国共死伤三千多万人，其中被战争、饥饿、疾病等夺去生命的人超过一千万。材料体现了第一次世界大战对法国的影响，表现在经济和基础设施受损严重，D选项符合题意。

答案：D


14. (2分) 科学探索如同一场永无终点的接力赛，科学家的前赴后继使人类的文明绚丽多彩。将下列科学家的序号与相应成就前的字母符号连接正确的一组是()



①牛顿



②达尔文



③爱因斯坦

a 现代物理学的开创者和奠基人，提出了相对论，奠定了系统、科学的物质观和时空观

b 进化论奠基人，著有《物种起源》，提出了生物进化论学说

c 近代科学体系奠基人，提出了万有引力定律，构建了经典力学体系

A. ①-a ②-b ③-c

B. ①-b ②-a ③-c

C. ①-c ②-a ③-b

D. ①-c ②-b ③-a

解析：本题考查近代科学家的知识点。a 爱因斯坦是现代物理学的开创者和奠基人，提出了相对论，奠定了系统、科学的物质观和时空观，对应③；b 达尔文是进化论奠基人，著有《物种起源》，提出了生物进化论学说，对应②；c 牛顿是近代科学体系奠基人，提出了万有引力定律，构建了经典力学体系，对应①。

答案：D

15. (2 分) 重大的会议往往对人类历史产生极其重要的影响。将下列图片中的会议按发生时间的先后排序，正确的是 ()



a 周恩来出席万隆会议并发表演讲



b 巴黎和会上，协约国与德国签订和约



c 美、苏、英三国首脑在雅尔塔举行国际会议

A. abc

B. cba

C. bca

D. cab

解析：本题考查重大的会议的知识点。仔细观察图片并结合所学知识可知，万隆会议召开于 1955 年、巴黎和会召开于 1919 年、雅尔塔会议召开于 1945 年。C 符合题意。

答案：C

二、读图说史 (本题 2 小题，16 题 6 分，17 题 6 分，共 12 分)

16. (6 分) 大唐以博大的胸襟迎接世界各地的客人，显示了高度的自信和恢弘的气度。观

看下面图片并阅读相关文字介绍，回答问题。



陕西乾县唐朝章怀太子墓壁画《客使图》（部分）

该壁画展现了三名唐朝官员（左）在接见外国使节的场景，这些使节可能来自拜占廷帝国、朝鲜和西伯利亚，他们在向唐朝的代表表达敬意。

唐朝是一个国际性的时代。政府专门设置了鸿胪（lú）寺来接待各国的使者；推行与邻国之间的朝贡关系，即邻国及其民众要经常向大唐献上贡品并行叩头之礼——在皇帝面前下跪，以前额触地，唐朝回报进贡国家奢华的礼物。记载，唐朝曾在大明宫麟德殿宴过 70 多个国家和地区的宾客。天竺（今印度、巴基斯坦）及驃国（今缅甸）、真腊（今柬埔寨）、林邑（今越南）、室利佛逝（今苏门答腊），西域和中亚各国，西方的拜占廷（东）波斯（今伊朗）、大食哈里发帝国（阿拉伯）等均有使节来到大唐，长安城内到处可见来自世界各国的商旅、僧侣和留学生。

(1) 该壁画属于史料类别中的哪一类？

- A. 实物资料
- B. 文献资料

解析：据“陕西乾县唐朝章怀太子墓壁画《客使图》”可知，该壁画属于史料类别中的实物资料，故选 A。

答案：A

(2) 根据以上图片及文字介绍，你能获取哪些关于对外交往方面的历史信息？

信息点一：_____

信息点二：_____

解析：据以上图片及文字介绍可知，我们能获取的关于对外交往方面的历史信息可从朝代、交往国家、机构名称、交往礼节、交往方式等方面回答。如：朝代：唐朝是一个国际性的时代。交往国家：唐朝曾有 70 多个国家和地区来到中国唐朝，如：天竺（今印度、巴基斯坦）及驃国（今缅甸）、真腊（今柬埔寨）、林邑（今越南）、室利佛逝（今苏门答腊），西域和中亚各国，西方的拜占廷（东）波斯（今伊朗）、大食哈里发帝国（阿拉伯）等国家。机构名称：政府专门设置了鸿胪（lú）寺来接待各国的使者。交往礼节：邻国及其民众要经常向大唐献上贡品并行叩头之礼——在皇帝面前下跪，以前额触地，唐朝回报进贡国家奢华的礼物。交往方式：使节、商旅、僧侣和留学生。（答出其中任意三点即可）


答案：示例：朝代：唐朝。交往国家：唐朝曾有 70 多个国家和地区来到中国唐朝，如：天竺（今印度、巴基斯坦）及驃国（今缅甸）、真腊（今柬埔寨）、林邑（今越南）、室利佛逝（今苏门答腊），西域和中亚各国，西方的拜占廷（东）波斯（今伊朗）、大食哈里发帝国（阿拉伯）等国家。机构名称：鸿胪（lú）寺。交往礼节：邻国及其民众要经常向大唐献上贡品并行叩头之礼——在皇帝面前下跪，以前额触地，唐朝回报进贡国家奢华的礼物。交往方式：使节、商旅、僧侣和留学生。

(3) 根据以上图文内容，你能得出什么历史认识？

解析：据以上图文内容可知，唐朝对外交往广泛。

答案：唐朝对外交往广泛。

17. (6分) 马克思主义理论如壮丽的日出，照亮了人类探索历史规律和寻求自身解放的道路。观看下面三幅图片并阅读相关文字介绍，回答问题。



图一 《共产党宣言》手稿



图二 列宁回到彼得格勒



图三 起义形式

图一：1848年，由马克思、恩格斯起草的《共产党宣言》发表，标志着马克思主义的诞生。宣言第一次全面系统地阐述了科学社会主义理论，号召全世界无产者联合起来，为获得自己的解放而斗争。

图二：列宁继承和发展了马克思主义。1917年4月，他克服困难回到彼得格勒，于10月10日主持召开了党中央会议，通过了关于组织武装起义的决定。

图三：1917年11月7日晚，全副武装的工人、士兵和水兵向政府所在地一冬宫发起了猛烈进攻。这是世界上第一次胜利的社会主义革命，它使科学社会主义理论化为现实，给各国无产阶级和殖民地半殖民地人民展示了一条崭新的寻求解放的道路。

(1) 根据以上图片及文字介绍，你能获取哪些历史信息？

信息点一：_____

信息点二：_____

信息点三：_____

信息点四：_____

解析：由图一“1848年，由马克思、恩格斯起草的《共产党宣言》发表，标志着马克思主义的诞生。宣言第一次全面系统地阐述了科学社会主义理论，号召全世界无产者联合起来，为获得自己的解放而斗争”可以得到《共产党宣言》的起草人是马克思和恩格斯，宣言的主要内容是“第一次全面系统地阐述了科学社会主义理论，号召全世界无产者联合起来，为获得自己的解放而斗争”。由图二“列宁继承和发展了马克思主义。1917年4月，他克服困难回到彼得格勒，于10月10日主持召开了党中央会议，通过了关于组织武装起义的决定”可以得到，列宁回到彼得格勒的时间是1917年4月，列宁主持召开了党中央会议，通过了关于组织武装起义的决定。由图三“1917年11月7日晚，全副武装的工人、士兵和水兵向政府所在地一冬宫发起了猛烈进攻。这是世界上第一次胜利的社会主义革命，它使科学社会主义理论化为现实，给各国无产阶级和殖民地半殖民地人民展示了一条崭新的寻求解放的道路”可以得到十月革命的时间是1917年11月7日，起义的结果是取得了胜利等。

答案：《共产党宣言》的起草人是马克思和恩格斯；宣言的主要内容是“第一次全面系统地阐述了科学社会主义理论，号召全世界无产者联合起来，为获得自己的解放而斗争”；列宁回到彼得格勒的时间是1917年4月；列宁主持召开了党中央会议，通过了关于组织武装起义的决定；十月革命的时间是1917年11月7日；起义的结果是取得了胜利。（答出其中任意四点即可）

(2) 图三与俄国历史上哪一重大历史事件有关？

解析：由图三“1917年11月7日晚，全副武装的工人、士兵和水兵向政府所在地一冬宫发起了猛烈进攻。这是世界上第一次胜利的社会主义革命，它使科学社会主义理论化为现实，给各国无产阶级和殖民地半殖民地人民展示了一条崭新的寻求解放的道路”可知，这反映的是俄国十月革命，十月革命是世界上第一次胜利的社会主义革命，建立了世界上第一个社会主义国家。

答案：十月革命。

(3) 结合上述图文资料，请你谈谈理论对实践的作用。

解析：结合上述图文资料可以得出，理论指导实践，正是在马克思主义的指导下，俄国取得了十月革命的胜利。

答案：理论指导实践。

三、材料解析题（本题3小题，18题5分，19题6分，20题7分，共18分）

18.（5分）历史上的重大改革都是在时代呼唤下的伟大社会实践活动。阅读材料，回答下列问题。

材料一：公元前350年，商鞅以孝公迁都至或咸阳为契机，将原本分散的小乡、邑等自然聚落编制在一起，设立县，由国君派出官吏进行管理，职位不世袭。这种县制的推行，把分散的权力汇聚到国君手中。英国历史学家汤因比认为，这是秦国国力日强，最终打败群雄，建立中华一统帝国的根本原因。

——选自《中国通史》

材料二：1895年，康有为创办《万国公报》，宣传“新法之益”。不久，他在北京、上海组织强学会，并于1806年创办《强学报》，宣传变法维新、救亡图存。

——选自《历史上重大改革回眸》

1896年，梁启超等在上海创办《时务报》，这份报刊成为宣扬维新思想的重要阵地。1898年，他入京创办京师大学堂，培养了大量具有维新倾向的新知识分子。

——选自《历史上重大改革回眸》

1897年，谭嗣同协助湖南巡抚陈宝箴、署按察使黄遵宪在长沙设立时务学堂，创办《湘学报》。1898年，他和唐才常等组织南学会，创办《湘报》，宣传维新变法。

——选自《中国历史》

材料三：改革开放以来，人们日益讲究穿戴，注重衣服的面料、质地、花色、款式和品位；从凭票供应肉、蛋、油到各种美味食品应有尽有，以至于“减肥”成为时尚；居住条件的改善引发了“装修热”；从自行车出门到开私家车远行，“自驾游”成为时尚。

——选自《经济成长历程》

(1) 根据材料一回答，秦国的权力发生了怎样的变化？

解析：据材料“商鞅以孝公迁都至或咸阳为契机，将原本分散的小乡、邑等自然聚落编制在一起，设立县，由国君派出官吏进行管理，职位不世袭。这种县制的推行，把分散的权力汇聚到国君手中”并结合所学知识可知，秦国的权力由分散到集中。

答案：由分散到集中。

(2) 根据材料二概括维新派宣扬变法的方式有哪些？

解析：据材料“1895年，康有为创办《万国公报》”“1896年，梁启超等在上海创办《时务报》”并结合所学知识可知，维新派宣扬变法的方式有创办报刊、据材料“不久，他在北京、

上海组织强学会”并结合所学知识可知，维新派宣扬变法的方式有组织学会、据材料“1898年，他入京创办京师大学堂”“1897年，谭嗣同协助湖南巡抚陈宝箴、署按察使黄遵宪在长沙设立时务学堂”并结合所学知识可知，维新派宣扬变法的方式有兴办学堂。

答案：创办报刊、组织学会、兴办学堂。（答出任意两个即可）

(3)材料三说明了什么？

解析：据材料“改革开放以来，人们日益讲究穿戴，注重衣服的面料、质地、花色、款式和品位；从凭票供应肉、蛋、油到各种美味食品应有尽有”并结合所学知识可知，材料三说明了改革开放改变了人们的生活方式。

答案：改革开放改变了人们的生活方式。

19. (6分) 阅读材料，回答下列问题。

材料一：1816年以后，玻利瓦尔率领起义军由北向南解放了哥伦比亚、委内瑞拉和厄瓜多尔等地；同时，圣马丁率领起义军由南向北解放了阿根廷、智利和秘鲁首府。两人实行南北夹攻，给西班牙殖民者以有力的打击。在打碎了殖民枷锁后，拉丁美洲各国取得了和世界其他国家平等往来的权利。

——选自《深刻影响人吴社会的重大战争》

材料二：在战略防御阶段，国民党正面战场是抗战的主战场，国民党军队组织了淞沪、徐州、太原等会战，吸引、消耗了日军大量兵力，使得八路军、新四军能够深入敌后，开辟抗日根据地，形成敌后战场；在战略相持阶段，敌后战场抗击了日军的主力，成为抗战的主战场，为国民党赢得在西南休整的时间；在战略反攻阶段，正面战场和敌后战场在不同的区域向日军发起进攻，迎来了抗战的最后胜利。

——选自《历史》必修第一册

材料三：1942年元旦，中、美、英、苏等206个国家在华盛顿举行会议，签署了《联合国家宣言》。虽然在同盟内部，各国的社会制度和意识形态并不一致，作战目的也不尽相同，甚至不时产生各种矛盾和斗争，但是摧毁法西斯的共同目标使他们互相配合、互相支援，最终取得战争胜利。

——选自《不可不读世界历史》

材料四：多年来，联合国为维护世界和平，进行着长期不懈的努力，并发挥了重大的作用。随着国际形势的变化，联合国向冲突地区派出军事观察团或维和部队，监督、控制并化解敌对各方之间的冲突，近年来，联合国的维和行动获得良好声誉，被认为是维持和平、解决争端的一种十分有效的方式。

——选自《20世纪的战争与和平》

(1)根据材料一写出反抗西班牙殖民统治的两位代表人物。

解析：由材料一“1816年以后，玻利瓦尔率领起义军由北向南解放了哥伦比亚、委内瑞拉和厄瓜多尔等地；同时，圣马丁率领起义军由南向北解放了阿根廷、智利和秘鲁首府。两人实行南北夹攻，给西班牙殖民者以有力的打击。”可知，反抗西班牙殖民统治的代表人物是玻利瓦尔、圣马丁。

答案：玻利瓦尔、圣马丁。

(2)根据材料二回答，抗日战争取得胜利的原因是什么？

解析：由材料二“在战略防御阶段，国民党正面战场是抗战的主战场，国民党军队组织了淞沪、徐州、太原等会战，吸引、消耗了日军大量兵力，使得八路军、新四军能够深入敌后，开辟抗日根据地，形成敌后战场；在战略相持阶段，敌后战场抗击了日军的主力，成为抗战

的主战场，为国民党赢得在西南休整的时间；在战略反攻阶段，正面战场和敌后战场在不同的区域向日军发起进攻，迎来了抗战的最后胜利”可知，抗日战争取得胜利的原因是正面战场和敌后战场的相互配合。

答案：正面战场和敌后战场的相互配合。

(3) 材料三与哪一场战争有关？这是一场什么性质的战争？

解析：由材料三“1942年元旦，中、美、英、苏等206个国家在华盛顿举行会议，签署了《联合国宣言》。”可知，这与第二次世界大战有关。第二次世界大战是一场世界反法西斯战争。

答案：第二次世界大战；世界反法西斯战争。

(4) 根据材料四回答，联合国起到怎样的作用？

解析：由材料四“多年来，联合国为维护世界和平，进行着长期不懈的努力，并发挥了重大的作用。”可知，联合国起到维护世界和平的作用。

答案：维护世界和平。

20. (7分) 阅读材料，回答下列问题。

材料一：19世纪，南方各州向英国提供大量的棉花，从英国输入绝大部分的消费品，凡乎所有的食物也都在当地的农场里生产。他们过着自给自足的生活，认为并不需要联邦的其他地区。1861年，南方的一些州联合起来，宣布组成一个独立国家，号称“南部联盟”。南方独立后，北方一家报纸发表社论：如果任何地区都有独立权利的话，那一个国家就会不停地面临内部要求独立的纷争。如此一来，任何一个政府都不可能维持稳定，不可能推动社会发展。四此，联邦体制必须维护，对分裂叛乱活动必须武力镇压。

——选自《新金球史》

材料二：明治政府成立伊始，就把教育视为推动近代化的关键所在，提出“邑无不学之户，家无不学之人”的目标。明治政府仿照欧美国家的教育制度，建立基础教育体制，增加自然科学方面的教学内容，在国家财力紧张的情况下，短短数年内兴办了26000所小学校。

——选自《历史上重大改革回眸》

材料三：如图表所示，第二次工业革命中，随着新发明和新技术的广泛应用，科学家们提炼出多种化学物质，并以此为工业原料，制成染料、塑料、药品、炸药和人造纤维等多种化学合成材料，众多发明使化学工业迅速发展成为重要的工业部门。

时间	事件
1877年	英国赛璐培制造公司用硝酸纤维素塑料生产台球等塑料制品
1884年	法国人圣·夏尔东发明了人造纤维
1887年	德国化学家门捷列夫提出“煤在地下气化”和“以化学精炼石油”的主张
1887年	瑞典人诺贝尔改进了制造无烟火药的技术
1898年	德国化学家弗兰克和卡罗研制出硫酸氨

——选自《西方近代文明》

材料四：1932年是美国大萧条时期最残酷的一年，作为重工业链条的钢铁工业，开工率只有19.1%，全国劳动力有1/3失业，整个社会陷入及为严重的经济和社会危机中。危机时刻，富兰克林·罗斯福当选总统，他一改传统的自由放任政策，利用国家干预手段，开辟了一条新的发展道路，为美国经济复苏、社会稳定发挥了积极的作用。罗斯福在施政初期也遇到许多阻碍，最大障碍之一是在最高法院思想保守的首席大法官休斯主持下，最高法院把他的新法取缔了11种之多。之后，罗斯福向国会提出加强司法工作的法案，经过斗争，最

高法院恢复了被取消的部分新法。

——选自《话说世界历史》

(1) 根据材料一回答，北方对南方独立持什么态度？

解析：由“联邦体制必须维护，对分裂叛乱活动必须武力镇压。”可知，北方对南方独立持反对态度。

答案：反对。

(2) 根据材料二写出明治政府关注的是哪一阶段教育？

解析：由“明治政府仿照欧美国家的教育制度，建立基础教育体制，增加自然科学方面的教学内容，在国家财力紧张的情况下，短短数年内兴办了 26000 所小学校”可知，明治政府关注的是基础阶段教育。

答案：基础教育。

(3) 根据材料三写出第二次工业革命在哪一方面取得了重大成就？

解析：由“如图表所示，第二次工业革命中，随着新发明和新技术的广泛应用，科学家们提炼出多种化学物质，并以此为工业原料，制成染料、塑料、药品、炸药和人造纤维等多种化学合成材料，众多发明使化学工业迅速发展成为重要的工业部门。”可以看出，第二次工业革命在化学工业方面取得了重大成就。

答案：化学工业。

(4) 根据材料四回答，“新的发展道路”指的是哪一历史事件？材料四体现出美国的政治原则是什么？

解析：由“危机时刻，富兰克林·罗斯福当选总统，他一改传统的自由放任政策，利用国家干预手段，开辟了一条新的发展道路，为美国经济复苏、社会稳定发挥了积极的作用。”可知，“新的发展道路”指的是罗斯福新政。由“罗斯福在施政初期也遇到许多阻碍，最大障碍之一是在最高法院思想保守的首席大法官休斯主持下，最高法院把他的新法取缔了 11 种之多。之后，罗斯福向国会提出加强司法工作的法案，经过斗争，最高法院恢复了被取消的部分新法。”可以看出，美国的政治原则是三权分立。

答案：罗斯福新政；三权分立。

(5) 上述材料给我们的社会发展带来了哪些启示？（写出两点即可）

解析：开放性试题，言之有理即可。国家独立统一是发展的前提；改革创新是国家发展的动力。

答案：国家独立统一是发展的前提；改革创新是国家发展的动力。