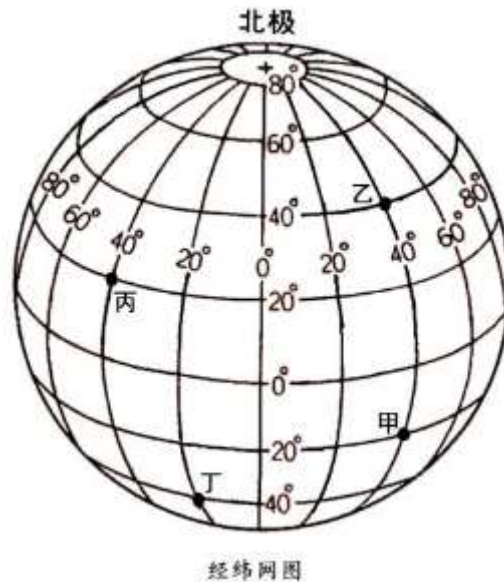


## 2016年四川省乐山市中考真题地理

### 一、选择题（每小题3分，共12分）

读经纬网地图，完成下列问题。



1. 甲地的经纬度是（ ）

- A. 40° E, 20° S
- B. 20° E, 40° S
- C. 40° W, 20° N
- D. 20° W, 40° N

解析：在经纬网上，若相邻两条经线的经度向东增大，就是东经，用符号 E 表示，若相邻两条经线的经度向西增大，就是西经，用符号 W 表示；若相邻两条纬线的纬度向北增大，就是北纬，用符号 N 表示，若相邻两条纬线的纬度向南增大，就是南纬，用符号 S 表示。读图分析可知，甲地的经纬度是 40° E, 20° S。

答案：A

2. 图中，甲点位于乙点的□（ ）

- A. 正北方向
- B. 东南方向
- C. 正南方向
- D. 西南方向

解析：在经纬网地图上，用经纬网定方向，纬线指示东西方向，经线指示南北方向。读图分析可知，甲和乙位于同一条经线上，甲位于乙的正南方向。

答案：C

3. 甲、乙、丙、丁四地，下列说法正确的是□（ ）

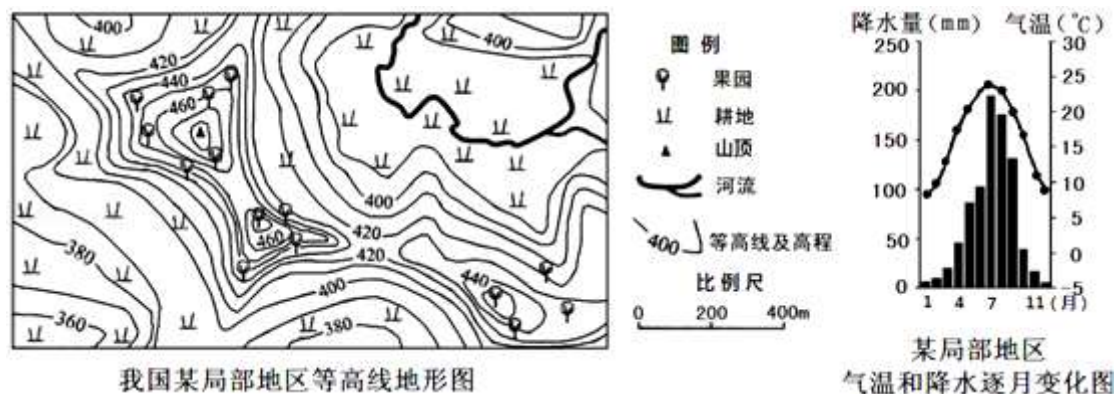
- A. 甲位于东半球、南半球、高纬度地区
- B. 乙位于东半球、北半球、低纬度地区
- C. 丙位于西半球、北半球、低纬度地区

D. 丁位于西半球、南半球、低纬度地区

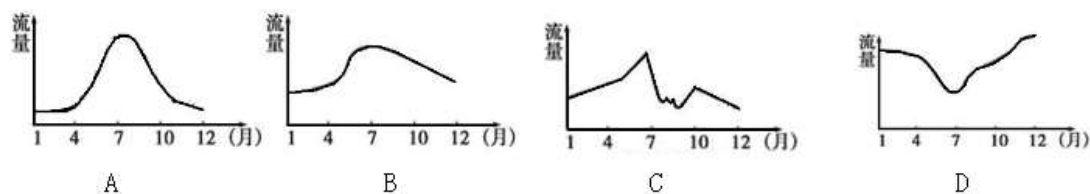
解析：依据经纬度的判读，读图分析可知，甲地的经纬度是 40° E，20° S；乙地的经纬度是 40° E，40° N；丙地的经纬度是 40° W，20° N；丁地的经纬度是 20° W，40° S。东西半球分界线是 20° W 和 160° E 组成的经线圈，20° W 以东、160° E 以西为东半球，20° W 以西、160° E 以东为西半球。南北半球的划分是以 0° 纬线即赤道为界，赤道以北为北半球，以南为南半球。纬度划分，0° ~30° 为低纬度地区，30° ~60° 为中纬度地区，60° ~90° 为高纬度地区。由此可知，甲位于东半球、南半球、低纬度，乙位于东半球、北半球、中纬度，丙位于西半球、北半球、低纬度，丁位于东西半球分界线上、南半球、中纬度。

答案：C

如图为我国某局部地区等高线地形图，并结合该地气候资料图，回答下列问题。



4. 与该地区河流流量变化特点最相符的是 ( )



解析：读图可知，该地区的气候特点为夏季高温多雨，冬季温和少雨，为亚热带季风气候；该地 5~9 月份降水多，为雨季，河流流量大。故选项 A 符合题意。

答案：A

5. 图示区域中耕地和果园中最可能种植的粮食作物和果树分别是 ( )

- A. 小麦、香蕉
- B. 水稻、柑橘
- C. 水稻、苹果
- D. 小麦、苹果

解析：从该地气温曲线图看出，该地 7 月气温最高，为 24°C，1 月气温最低，为 8°C；从该地降水柱状图看出，该地降水季节分配不均匀，主要集中在夏季；从气温曲线和降水柱状图看出，该地为亚热带季风气候，与北京市的气候类型类似，当地的粮食作物和果树分别是水稻、柑橘。故选项 B 符合题意。

答案：B

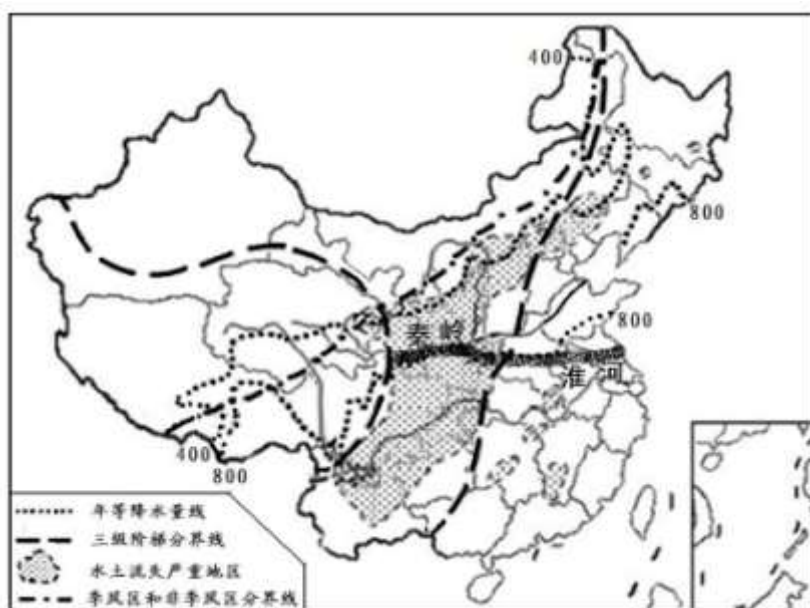
6. 图示区域中最大相对高度可能是 ( )

- A. 100m
- B. 110m
- C. 130m
- D. 140m

解析：海拔是地面某一个地点高出海平面的垂直距离，相对高度是指地面某个地点高出另一个地点的垂直距离，即两个地点之间的高度差。读图分析可知，该等高线地形图上的等高距为10米，图示区域内最高海拔在480米—490米之间，最低海拔在350—360米之间，因此其相对高度位于 $490-350=140$ 米与 $480-360=120$ 米之间。

答案：C

读图，完成下列问题。



7. 我国水土流失严重地区不包括的省级行政区域是（ ）

- A. 滇、黔
- B. 蜀、渝
- C. 秦、晋
- D. 新、闽

解析：读图分析可知，我国水土流失严重地区包括的省级行政区域有：云南省（云或滇）、四川省（川或蜀）、湖北省（鄂）、重庆市（渝）、贵州省（贵或黔）、甘肃省（甘或陇）、宁夏回族自治区（宁）、陕西省（陕或秦）、山西省（晋）、河北省（冀）；新是新疆维吾尔自治区的简称，闽是福建省的简称。

答案：D

8. 图中秦岭—淮河一线与下列界限大致一致的是（ ）

- ①一月0℃等温线
- ②季风区与非季风区分界线
- ③第二级阶梯与第三级阶梯分界线
- ④亚热带与暖温带的分界线
- ⑤800mm年等降水量线
- ⑥南方地区与北方地区的分界线

- A. ①②③④
- B. ③④⑤⑥
- C. ①④⑤⑥
- D. ②③④⑤

解析：①秦岭、淮河一线是一月 0℃ 等温线，故①正确；②我国季风区与非季风区分界线是大兴安岭、阴山、贺兰山、巴颜喀拉山和冈底斯山一线，故②错误；③第二级阶梯与第三级阶梯分界线是大兴安岭、太行山、巫山、雪峰山，故③错误；④亚热带与暖温带的分界线是秦岭、淮河一线，故④正确；⑤800mm 年等降水量线是秦岭、淮河一线，故⑤正确；⑥南方地区与北方地区的分界线是秦岭、淮河一线，故⑥正确。

答案：C

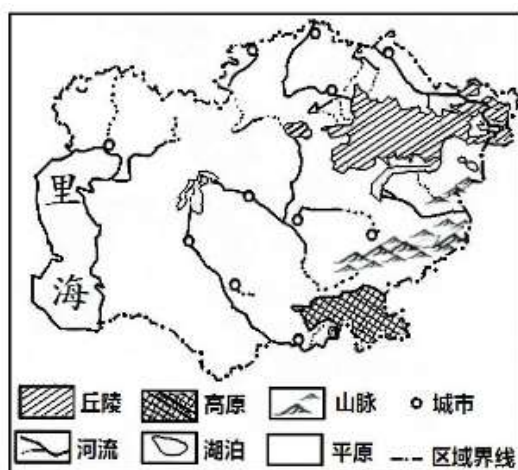
9. 防止水土流失的措施正确的有（ ）
- ①因地制宜，宜耕则耕，宜林则林，宜草则草
  - ②加强土地保护，防止过度开发利用
  - ③尽量将这些地方开发成耕地，增加粮食产量
  - ④将山坡绿化与发展农业经济相结合，进行生态治理

- A. ①②③
- B. ①②④
- C. ②③④
- D. ①③④

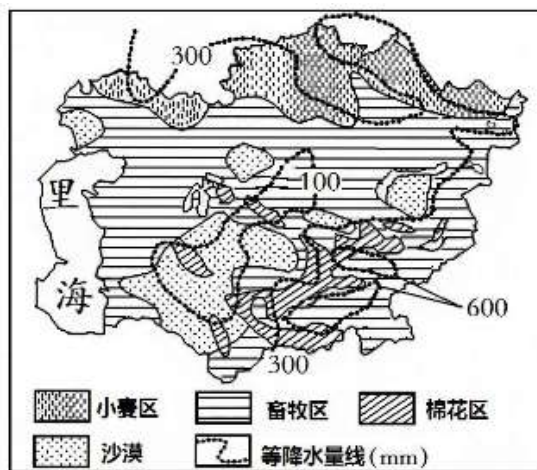
解析：黄土高原是我国水土流失最严重的地区，防止水土流失的措施有因地制宜，宜耕则耕，宜林则林，宜草则草，加强土地保护，防止过度开发利用，将山坡绿化与发展农业经济相结合，进行生态治理等，为增加粮食产量大量开发成耕地会更加重水土流失，故 B 正确。

答案：B

阅读“中亚地区地理简图”和“中亚地区农业分布示意图”，回答下列问题。



中亚地区地理简图



中亚地区农业分布示意图

10. 中亚地区的地势特点是（ ）
- A. 西高东低
  - B. 东北高，西南低
  - C. 北高南低
  - D. 东南高，西北低

解析：中亚的地势特征是东南高，中部及西北低，受地势影响，锡尔河和阿姆河的流向大致是自东南流向西北，注入咸海。

答案：D

11. 下列关于本地区城市分布特点的叙述正确的是（ ）

- A. 降水较多的地区
- B. 种植业发达的地区
- C. 畜牧业发达的地区
- D. 地形平坦水源较充足的河流沿岸

解析：读图可得，中亚地区的城市主要分布在地形平坦水源较充足的河流沿岸，该地区多内流河。

答案：D

12. 下列关于该地区小麦区分布特点说法正确的是（ ）

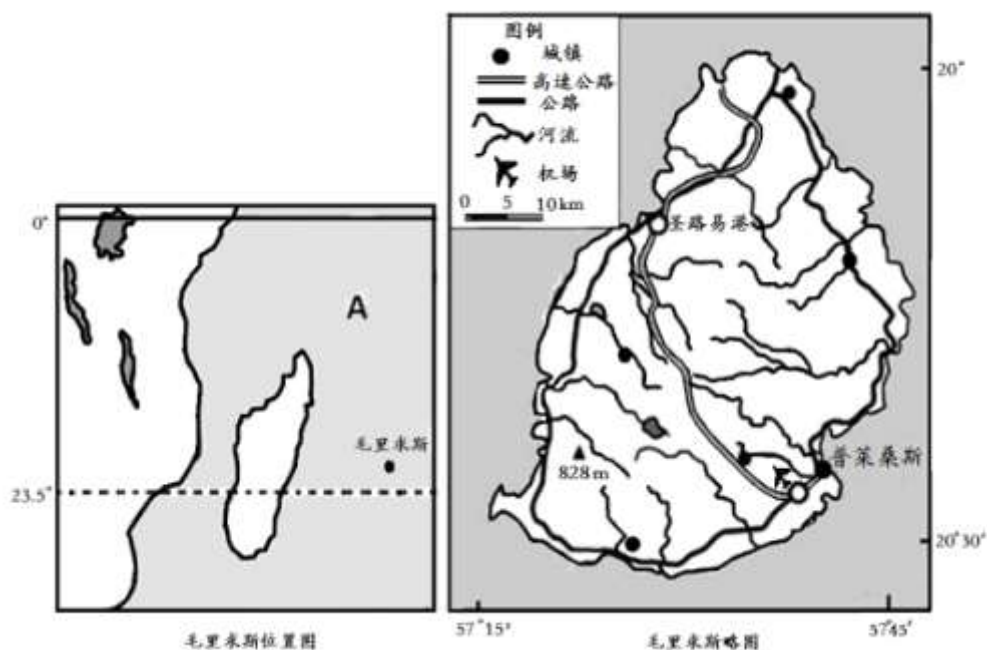
- A. 降水较多的北部平原
- B. 降水较少的北部高原
- C. 降水较多的东南部高原
- D. 降水较少的中部平原

解析：据图中的图例分布可得，中亚地区的小麦主要分布在降水较多的北部平原，主要的地势特点是东南高，西北低。

答案：A

## 二、非选择题（18分）

13. （9分）读材料，完成下列各题。



材料一 毛里求斯是火山岛国，岛上地貌千姿百态，沿海是狭窄平原，中部是高原山地。人口约 129 万，面积约 2040 平方千米。该国全年高温多雨，大量种植甘蔗，以制糖工业、出

口加工业和旅游业为主要经济来源。

材料二 毛里求斯位置图、毛里求斯略图。

(1)A是\_\_\_\_\_ (大洋名称)。

解析：读图分析可知：依据位置，图中A是印度洋。

答案：印度洋

(2)该国公路(不含高速公路)呈\_\_\_\_\_状分布,主要原因是①\_\_\_\_\_,②\_\_\_\_\_。

解析：从图中可以看出，该国公路(不含高速公路)呈环状分布，主要原因在于沿海地区为平原，城镇密集，修建难度较小。

答案：环 沿海地区为平原 城镇密集，修建难度较小

(3)旅游业是该国其主要经济来源之一，请从以下两方面分析其原因。

①从旅游资源来看：\_\_\_\_\_。②从交通运输条件来看：a \_\_\_\_\_，  
b \_\_\_\_\_。

解析：旅游业是该国其主要经济来源之一，从旅游资源来看：有热带海岛风光，地貌千姿百态。从交通运输条件来看：岛上建有有机场，航空运输便利；建有港口，海洋运输便利；有环岛公路和高速公路，便于参观游览。

答案：有热带海岛风光，地貌千姿百态 岛上建有有机场，航空运输便利 建有港口，海洋运输便利

(4)该国大量种植甘蔗(甘蔗在我国某些地区亦普遍种植)。试从气候、河流和劳动力等方面分析其原因。①\_\_\_\_\_,②\_\_\_\_\_,③\_\_\_\_\_。

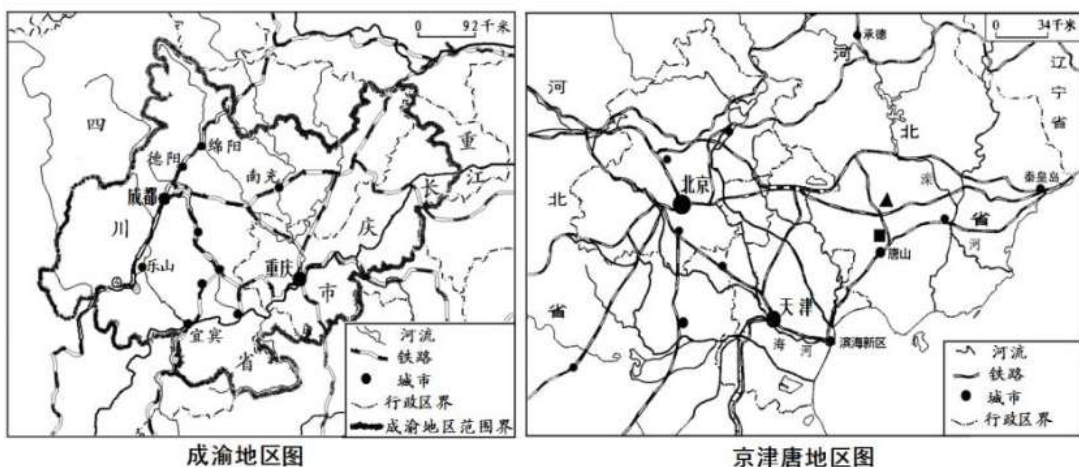
解析：该国大量种植甘蔗，原因在于该国地处热带，高温多雨；有众多河流，便于灌溉；人口密度大，劳动力资源丰富。

答案：该国地处热带，高温多雨 有众多河流，便于灌溉 人口密度大，劳动力资源丰富

14. (9分) 读下列材料，回答问题：

材料一：京津唐工业基地是我国 20 世纪 50 年代发展起来的综合性工业基地。北京是我国的政治、文化中心、信息中心、科技中心。成渝地区总面积 20.61 平方千米，区域内人口接近 1 亿；成渝地区农业发达，工业基础雄厚，资源丰富。

材料二：京津唐地区图、成渝地区图



(1) 填出京津唐地区和成渝地区对比表

	地形区	气候类型	主要自然植被	世界自然、文化遗产
京津唐地区	①_____	温带季风气候	③_____	故宫、长城
成渝地区	四川盆地	②_____	常绿阔叶林	④_____（只填1个）

解析：读图可知，京津唐地区位于华北平原上，主要为温带季风气候，植被类型为温带阔叶落叶林，世界自然、文化遗产有故宫、长城；成渝地区位于四川盆地，主要是亚热带季风气候，植被类型为亚热带常绿阔叶林，世界自然、文化遗产有乐山大佛。

答案：

	地形区	气候类型	主要自然植被	世界自然、文化遗产
京津唐地区	①华北平原	温带季风气候	③落叶阔叶林	故宫、长城
成渝地区	四川盆地	②亚热带季风气候	常绿阔叶林	④乐山大佛

(2) 读图分析，两个地区图中，比例尺较大的是\_\_\_\_\_。大宗工业产品运输选择的最佳交通运输方式是\_\_\_\_\_运输。

解析：读图分析，京津唐地区图的比例尺为图上1厘米代表实地距离34千米，成渝地区图的比例尺为图上1厘米代表实地距离92千米，两个地区图中，比例尺较大的是京津唐地区图。大宗工业产品运输选择的最佳交通运输方式是运速较快，运量较大，运费较低的铁路运输方式。

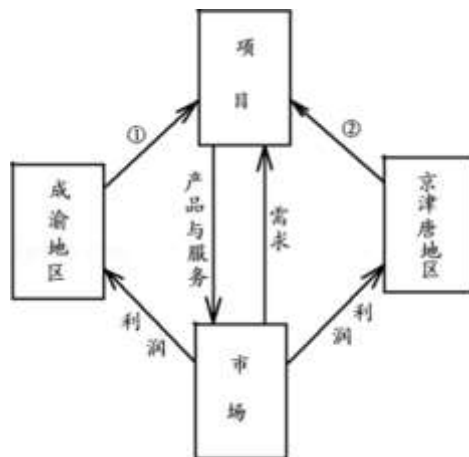
答案：京津唐地区图 铁路

(3) 两个地区中高新技术产业最发达的是\_\_\_\_\_（城市名称）。

解析：两个地区中高新技术产业最发达的是京津唐地区，这里有众多的科学院校和科研机构。

答案：北京市

(4) 京津唐地区与成渝地区的优势要素有所不同，在经济发展中，可以进行优势互补，协同发展。请填出右图中①\_\_\_\_\_，②\_\_\_\_\_所表示的优势要素。（提示：可从资源、资金、劳动力、信息、科技等方面选择，各选填2个）



解析：京津唐地区与成渝地区的优势要素有所不同，在经济发展中，可以进行优势互补，协同发展。右图中成渝地区可以为项目提供①资源、劳动力，京津唐地区可以为项目提供②资金、科技所表示的优势要素。

答案：资源、劳动力 资金、科技