

2014 年安徽省中考真题历史

注意事项：本试卷共五大题，满分 70 分。历史与思想品德考试时间共 120 分钟。你可以参考教科书和其他资料。请你仔细审题，认真作答。

一、单项选择题（本大题共 10 小题，每小题 2 分，共 20 分。请将正确选项填入答题框）

1. 人们对中国古代帝王的称谓不同，有的称年号，有的称庙号，有的称谥号。下列与“汉武帝”称谓相似的是（ ）

- A. 孝文帝
- B. 唐太宗
- C. 宋太祖
- D. 康熙帝

解析：本题考查的是中国古代帝王的称谓，在中国古代，皇帝的称呼往往和年号、谥号和庙号联系在一起，汉武帝就是谥号，孝文帝也是谥号，唐太宗、宋太祖是年号，康熙帝是年号，所以答案是 A。

答案：A

2. 据《变迁中的古代社会》统计，公元前 722 至前 464 年的 259 年中，38 年没有战争；公元前 463 至前 222 年的 242 年中，约 89 年没有战争。这一“变迁”的历史时期是（ ）

- A. 夏商时期
- B. 西周时期
- C. 春秋战国时期
- D. 秦汉时期

解析：本题考查的是春秋战国的相关知识，春秋时期是从公元前 770 年至公元前 476 年；而战国时期是从公元前 475 年至公元前 221 年，因此题文中所述这一“变迁”的历史时期是春秋战国时期，所以答案是 C。

答案：C

3. 《新庸书》的选举志提及“唐制取士之科多由隋旧”。这表明（ ）

- A. 唐朝官员由民主选举产生
- B. 科举制起源于隋朝
- C. 唐朝科举制缺乏创新精神
- D. 隋朝选举制度陈旧

解析：本题考查的是科举制度的相关知识，科举制度起源于隋朝，隋炀帝时创立科举制，唐朝对科举制度进行了发展，材料中“唐制取士之科多由隋旧”，可以判断出科举制起源于隋朝，所以答案是 B。

答案：B

4. 2013 年底，中国珠算被联合国教科文组织人类非物质文化遗产名录。集中国古代珠算之大成，为中国珠算走向世界奠定基础的徽州籍数学家是（ ）

- A. 梅文鼎
- B. 程大位
- C. 方以智
- D. 王贞仪

解析：本题考查的是珠算的历史，徽州籍数学家程大位，集中国古代珠算之大成，为中国珠算走向世界奠定了基础，所以答案是 B。

答案：

5. 图 1 是 1947 年《东北话报》上发表的题为《沉重的铁锤连续地打在蒋介石的脊骨上》的漫画。该漫画反

映的历史事件是（ ）



- A. 全面内战的爆发
- B. 三大战役
- C. 千里跃进大别山
- D. 渡江战役

解析：本题考查的是解放战争的相关知识，A 全面内战的爆发的时间是 1946 年，B 三大战役从 1948 年开始，D 渡江战役发生在 1949 年，因此符合题文中的 1947 年的是千里跃进大别山，所以答案是 C。

答案：C

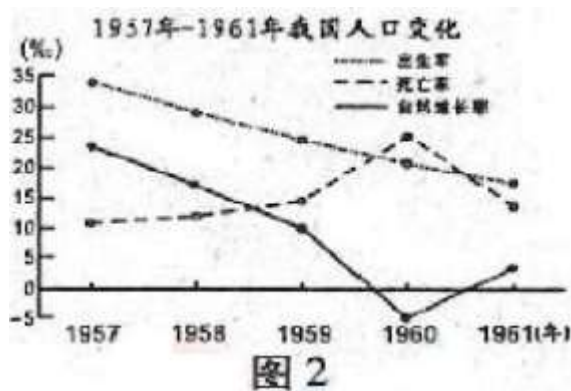
6. 根据“求同存异”、“小球转动大球”、“伙伴关系”等内容提炼出一个最恰当的学习主题是（ ）

- A. 伟大的历史转折
- B. 挑战两极格局
- C. 艰难的探索历程
- D. 走向世界舞台

解析：本题考查的是我国取得的外交成就，“求同存异”反映的是 1955 年在万隆会议上周恩来提出的外交方针；“小球转动大球”指的是中美建交中发生的重大事件，所以答案是 D。

答案：D

7. 图 2 中人口死亡率最高点与自然增长率最低点出现的主要原因是（ ）



- A. 社会主义改造的基本完成
- B. 大跃进与人民公社化运动
- C. 国民经济的调整
- D. 文化大革命爆发

解析：本题考查的是大跃进与人民公社化运动的相关知识，人口死亡率最高点与自然增长率最低点出现在 1960 年，1960 年正处于大跃进与人民公社化运动时期，所以答案是 B。

答案：B

8.图 3 为某历史兴趣小组做的研究性学习展板，你认为最合适的人物是（ ）

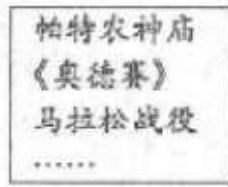


图 3

- A.伯利克里
- B.屋大维
- C.穆罕默德
- D.查理·马特

解析：本题考查的是西方文明发源地——古希腊的相关知识，其中帕特农神庙、马拉松战役均与希腊有关，伯利克里当政时期希腊雅典民主政治发展到古世界最高峰，所以答案是 A。

答案：A

9. “假设一对大象自 30 岁起至 90 岁止，每 10 年生育一头小象，并活到 100 岁，740 年后，这一对大象的家庭就有近 1900 万头。可事实上世界上的大象存活数远低于这个值。”下列可以解释这一现象的理论是（ ）

- A. 相对论
- B. 物种不变论
- C. 经典力学
- D. 生物进化论

解析：本题考查的是欧洲近代自然科学成就中，达尔文的相关知识，通过阅读材料的现象，我们可判断出这讲的是达尔文的生物进化论，打破了神创论和物种不变论，所以答案是 D。

答案：D

10. 对下表解读正确的是（ ）

主要经济体国民生产总值占世界国民生产总值的比重变化(%)

经济体 年份 比重	美国	欧共体	日本	其他国家
1955	36.3	17.5	2.2	44
1976	24.9	21.7	8.1	45.3

- A. 日本经济发展较为缓慢
- B. 欧盟成立促进经济发展
- C. 美国经济霸主地位动摇
- D. 其他同家经济发展停滞

解析：本题考查的是二战后美国、西欧、日本等国家和地区经济发展情况，其中日本经济高速发展，当时欧盟还未成立，所以 B 项所述错误，其他国家经济也得到发展，所以答案是 C。

答案：C

二、组合列举（本大题共 3 小题；每空 1 分，共 10 分。）

11. 中华医学源远流长，独树一帜。

(1) “医圣”张仲景著有《\_\_\_\_\_》一书，奠定了中医治疗学的基础。

(2) “神医”华佗观察动物的活动姿态，创制了一套“\_\_\_\_\_”用来锻炼身体。

(3) “东方医学巨典”《本草纲目》是明代杰出医学家\_\_\_\_\_的著作。

答案：

(1) 伤寒杂病论

(2) 五禽戏

(3) 李时珍

解析：

(1) 本题考查的是东汉医学家：张仲景的主要贡献，东汉医学家张仲景被称之为“医圣”，代表作是《伤寒杂病论》，阐述了有关中医的理论原则，奠定了我国中医治疗学的基础，因此本题的答案是：《伤寒杂病论》。

(2) 本题考查的是汉朝医学家华佗的主要贡献，华佗被称之为神医，他最擅长的是外科手术，他的主要贡献是创造了麻沸散，也就是今天的麻药的来源，并且通过观察动物的活动姿态，创造了一套五禽戏来锻炼身体，因此本题的答案是：五禽戏。

(3) 本题考查的是明朝医学家李时珍的主要医学成就，李时珍是明朝也是中国历史上最著名的医学家、药学家之一，其主要代表作是《本草纲目》，是一部总结性的药物学著作，并且被称之为“东方医学巨典”，对后世影响巨大，因此本题的答案是：李时珍。

12. 非洲是一块古老而又神秘的土地。

(1) \_\_\_\_\_是古埃及法老专制统治的历史和古埃及文明的象征。

(2) 明代郑和船队最远曾到达非洲东海岸和\_\_\_\_\_沿岸。

(3) 1935年意大利军队侵略矛头直指非洲的\_\_\_\_\_（国名），英、法等国对意大利采取绥靖政策，这一政策在\_\_\_\_\_会议上达到顶峰。

答案：

(1) 金字塔

(2) 红海

(3) 埃塞俄比亚 慕尼黑

解析：

(1) 本题考查的是古代东方文明中古代埃及的人类文明，埃及被称之为尼罗河的馈赠，古代埃及的人类文明成果主要有金字塔、狮身人面像和象形文字，而被称之为见证古埃及法老专制统治并且是古埃及文明的象征是：金字塔。

(2) 本题考查的是郑和下西洋的相关知识，1405年—1433年，明成祖在位时，郑和率领船队共七下西洋，最远到达红海沿岸和非洲东海岸，一方面宣扬了国威，另一方面也加强了中外经济文化交流，因此本题的答案是：红海。

(3) 本题考查的是绥靖政策相关知识，1935年意大利军队侵略矛头直指非洲的埃塞俄比亚，为了维护自身的利益，英、法等国对意大利采取绥靖政策，而绥靖政策达到顶峰的标志是慕尼黑会议，因此本题的答案是：埃塞俄比亚 慕尼黑。

13. 新中国成立以来，社会主义建设取得辉煌成就。

(1) 1954年一届人大通过了《\_\_\_\_\_》，确立了我国的根本政治制度。

(2) 1964年我国成功爆炸第一颗\_\_\_\_\_，迈入了核大国行列。

(3) 20世纪80年代初提出的“\_\_\_\_\_”伟大构想，成为完成祖国统一大业的基本方针。

答案：

(1) 中华人民共和国宪法

(2) 原子弹

(3) 一国两制或一个国家，两种制度

解析：(1) 本题考查的是第一届全国人民代表大会的相关知识，1954 年，第一届全国人民代表大会在北京召开，大会通过了《中华人民共和国宪法》，这是我国第一部社会主义类型的宪法，并且确立了我国的根本政治制度，因此本题的答案是：《中华人民共和国宪法》。

(2) 本题考查的是新中国成立后，我国取得的科技成就，1964 年我国成功爆炸第一颗原子弹，标志着中国国防现代化进入了一个新阶段。这对美帝国主义核垄断、核讹诈的政策是一个有力的打击，对全世界一切爱好和平的人民是一个极大的鼓舞，因此本题的答案是：原子弹。

(3) 本题考查的是我国实现祖国统一的基本方针，新中国成立后，邓小平从维护祖国和中华民族的根本利益出发，创造性的提出了一国两制的伟大方针，这为香港、澳门回归祖国开辟了重要途径，因此本题的答案是：一国两制。

### 三、辨析改错（8 分）

14. 辨别下列史实的正误，在题前括号内正确的打“√”；错误的打“×”，并加以改正。

【 】 (1) 长征途中召开的中共七大是党的历史上生死攸关的转折点。

改正：

【 】 (2) 西安事变的和平解决标志国共十年对峙局面基本结束，预示着团结抗日新局面到来。

改正：

【 】 (3) 台儿庄战役是敌后抗日根据地游击战争的重大胜利，坚定全国人民抗战胜利的信心。

改正：

【 】 (4) 新中国第一个五年计划的重点是集中力量优先发展农业，改变了一穷二白的面貌。

改正：

答案：

【×】 (1) 中共七大改为遵义会议

【√】 (2)

【×】 (3) 台儿庄战役改为百团大战

【×】 (4) 农业改为重工业

解析：(1) 本题考查的是遵义会议的相关知识，红军长征途中，召开了遵义会议，遵义会议确立了以毛泽东为核心的党中央的正确领导，这次会议挽救了党、挽救了红军、挽救了革命，是党的历史上生死攸关的转折点，所以本题是错误的，应将中共七大改为遵义会议。

(2) 本题考查的是西安事变和平解决的历史影响，中国共产党从维护祖国和中华民族的根本利益出发，争取一切力量抵抗日本的侵略，最终西安事变得和平解决，而西安事变和平解决标志着国共十年内战基本结束，抗日民族统一战线初步形成，因此本题所述是正确的。

(3) 本题考查的是抗日战争时期的重要战役，1938 年的台儿庄战役，指挥者是李宗仁，因此台儿庄战役是正面战场的重大胜利，而百团大战发生时间是在 1940 年，指挥者是彭德怀，是抗日战争中，中国军队主动出击日军最大规模的战役，因此，应将台儿庄战役改为百团大战。

(4) 本题考查的是一五计划的相关知识，为了有计划的进行社会主义现代化建设，从 1953 年开始，国家开始实施第一个五年计划，它的基本任务是：集中力量发展重工业，建立国家工业化和国防现代化的初步基础，因此，应将农业改为重工业。

### 四、材料解析（本大题共 2 小题；每小题 10 分，共 20 分。）

15. 阅读材料，结合所学知识回答问题。

材料一：道光、咸丰年间的人没有领受军事失败的教训，战后与战前完全一样，麻木不仁，妄自尊大。直到咸丰末年，英、法联军攻进了北京，然后有少数人觉悟了，知道非学西洋不可。

——摘自蒋廷黻《中国近代史》

(1) “军事失败”与“少数人觉悟”各指什么具体事件？(2分)

材料二：在中国社会缓慢地发生变化的同时，出现了《海国图志》、《瀛环志略》等著作……可惜的是，在当时，对这两部意在醒世的著作予以最大注意的，不是中国人，而是日本人。日本社会因炮声震撼而惊醒，中国社会却在炮声沉寂后又昏昏睡去……知识分子是民族的大脑，揭示民族的使命是他们的使命。

——摘自陈旭麓《近代中国社会的新陈代谢》

(2) 结合材料一、二，分析“惊醒”与“昏昏睡去”对两国各产生了怎样的影响？(4分)

(3) 结合所学知识，概述 19 世纪末 20 世纪初中国的知识分子是如何“揭示民族的使命是他们的使命”的？(4分)

答案：

(1) 鸦片战争；洋务运动。(2分)

(2) 日本：受到西方列强侵略后实行明治维新，走上资本主义道路。(2分)

中国：没有及时变革，妄自尊大，第二次鸦片战争使半殖民地化程度进一步加深。(2分)

(3) 康有为、梁启超等掀起了救亡图存的维新变法运动；孙中山等发动辛亥革命，建立中华民国；陈独秀等发起新文化运动，动摇了封建正统思想。(每点 2 分，任答两点得 4 分，其他言之成理酌情赋分)

解析：

(1) 通过材料一中“道光、咸丰年间的人没有领受军事失败的教训”，我们可判断出发生在道光、咸丰年间的这次军事失败指的是鸦片战争；通过“咸丰末年，少数人觉悟”，我们可判断出这次觉悟指的是由地主阶级洋务派掀起的洋务运动。

(2) 本题考查的是面对西方列强的侵略，中国和日本截然不同的反映。面对美国的侵略，日本实行明治维新，使日本从一个闭关锁国落后的封建国家转变为资本主义国家；而中国面对西方列强的侵略，没有及时变革，第二次鸦片战争使半殖民地化程度进一步加深。

(3) 本题考查的是面对西方列强的侵略，19 世纪末 20 世纪初中国的知识分子是如何承担使命的？19 世纪末 20 世纪初，中国资产阶级维新派掀起了戊戌变法；资产阶级革命派领导了辛亥革命；陈独秀等人领导了新文化运动，动摇了封建统治思想。

16. 阅读材料，结合所学知识回答问题。

材料一：(苏俄)彼得格勒省农民说：“我们那里发生过把手枪对着人家太阳穴这样的强制行为，人们很气愤”。吉尔吉斯的农民说：“粮食被收集得象扫帚扫过一样干净，一点也没剩。”

——摘自周尚文、叶书宗、王斯德《苏联兴亡史》

(1) 苏俄农民对什么政策感到气愤和不满？为此，列宁又进行了怎样的探索？(4分)

材料二：改革开放胆子要大一些，敢于试验……计划多一点还是市场多一点最，不是社会主义与资本主义的本质区别。计划经济不等于社会主义，资本主义也有计划；市场经济不等于资本主义，社会主义也有市场。计划和市场都是经济手段。

——1992 年邓小平南方谈话

(2) 依据材料二指出中国经济体制改革的目标是什么？这一“改革”与列宁的“探索”在内容是有何相似之处？(4分)

(3) 综合上述材料，指出社会主义经济建设应遵循哪些原则？(2分)

答案：

(1) 战时共产主义政策(或余粮收集制)。(2分) 新经济政策(或粮食税)。(2分)

(2) 建立社会主义市场经济体制。(2分) 强调市场的作用，允许自由贸易。(2分)

(3) 解放思想、与时俱进；实事求是；尊重客观经济规律；根据本国的国情等。(任答一点得 2 分，其他言之成理亦可)

解析：

(1) 本题考查的是苏联社会主义道路探索的相关知识，材料中让苏俄农民感到愤怒的是三年国内战争时期实

施的战时共产主义政策，为了扭转这种局面，1921 年开始苏俄开始实施新经济政策，允许多种经济并存，大力发展商品经济，因此本题的答案是：战时共产主义政策新经济政策。

(2) 本题考查的是中国经济体制改革的目标，1992 年中共十四大决定建立社会主义市场经济体制，所以中国经济体制改革的目标是建立社会主义市场经济体制；这和列宁新经济政策大力发展商品经济的共同点是：强调市场的作用，允许自由贸易。

(3) 本题是一个开放性的问题，考查的是社会主义经济建设应遵循哪些原则？社会主义经济建设制定的经济政策应该符合本国的国情，应该符合广大人民群众的利益，应该能够满足人民日益增长的物质文化需要。解放思想、与时俱进；实事求是；尊重客观经济规律等。

## 五、活动与探究(12分)

17. 历史地图蕴含着丰富的信息。请仔细观察、比较下列两幅地图，探究以下问题。

### 【史实回顾】



图4

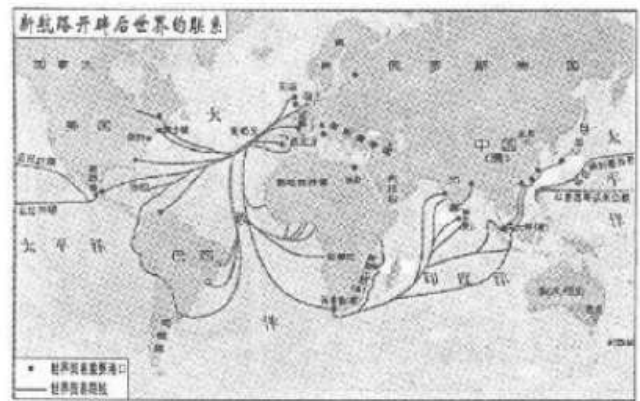


图5

(1) 阿拉伯数字通过图\_\_\_\_的商路传入欧洲，原产于美洲的玉米、马铃薯等通过图\_\_\_\_的商路传入中国。(2分)

### 【对比分析】

(2) 对比两幅地图，提取两个不同点并结合所学知识加以说明。(8分。要求：观点明确，史论结合，表达清楚)

### 【深入探究】

(3) 从图4到图5商路的变化反映了世界历史发展呈现出什么趋势？(2分)

答案：

(1) 4, 5(2分)

(2) (8分。每点4分，含观点和论述。要求：观点明确，史论结合，表达清楚。) 示例：①欧洲商路、贸易中心变化：图4：地中海沿岸是欧洲商路和贸易中心；图5：大西洋沿岸成为欧洲商路和贸易中心。②世界主要贸易体(商人)变化：图4：阿拉伯、意大利、中国商人为主；图5：西欧国家(英国等)商人为主。(其他观点，论述合理亦可)

(3) 世界从分散走向整体；资本主义世界市场日益形成；经济全球化趋势等。(任答一点得2分，其他言之成理亦可)

解析：

(1) 本题考查的是古代文明的传播与发展，图4反映的是14世纪前后欧洲主要商路；图5反映的是新航路开辟后世界的联系，阿拉伯数字传入欧洲时，新航路还未开辟，所以阿拉伯数字通过图1的商路传入欧洲；美洲的玉米、马铃薯是在新航路开辟后传入中国的，因此原产于美洲的玉米、马铃薯等通过图1的商路传入中国。

(2) 本题实际考查的是新航路开辟后，世界发生了怎样的变化？比如：新航路开辟引起了贸易中心的变化，

从事贸易的商人也发生了变化，因此答案是：图 4，地中海沿岸是欧洲商路和贸易中心；图 5：大西洋沿岸成为欧洲商路和贸易中心。②世界主要贸易体（商人）变化：图 4：阿拉伯、意大利、中国商人为主；图 5：西欧国家（英国等）商人为主。

(3) 本题考查的是新航路开辟后，给世界带来的影响？世界出现了什么样的趋势？新航路开辟后，世界开始连成一个整体，各地区之间的联系越来越密切；新航路开辟后，开始了经济全球化历程，新航路开辟后，欧洲殖民者开始了殖民扩张和殖民掠夺，资本主义世界市场日益形成。