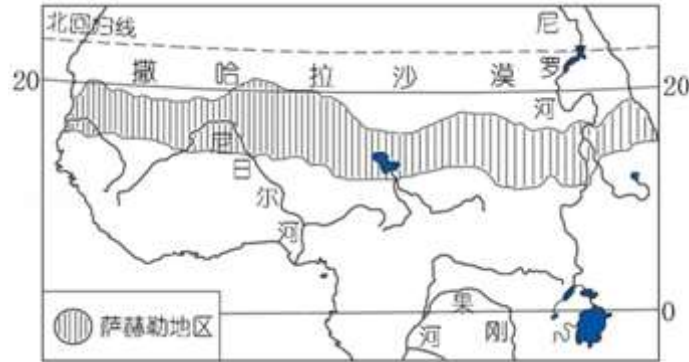


## 2016 年湖南省娄底市中考真题地理

一、选择题（每小题只有一项最符合题意的答案）（60 分）

萨赫勒是阿拉伯语的音译，意为“边缘”，指沙漠之边。萨赫勒地区是撒哈拉沙漠南部向热带草原过渡的东西向狭长地带，宽约 300~400 千米，是半干旱的草原地区。读萨赫勒地区示意图，完成下列各题。



1. 推测萨赫勒地区主要的农业部门是（ ）

- A. 渔业
- B. 林业
- C. 种植业
- D. 畜牧业

解析：热带沙漠气候主要分布在南北回归线经过的内陆地区以及大陆的西岸地区，以非洲北部的撒哈拉沙漠地区最为广大。萨赫勒地区位于沙漠边缘，是撒哈拉沙漠南部向热带草原过渡的东西向狭长地带，宽约 300~400 千米，是半干旱的草原地区，故其主要的农业部门是畜牧业。

答案：D

2. 萨赫勒地区主要的生态环境问题是（ ）

- A. 土地沙漠化
- B. 水土流失
- C. 森林破坏
- D. 湿地退化

解析：热带沙漠气候主要分布在南北回归线经过的内陆地区以及大陆的西岸地区，以非洲北部的撒哈拉沙漠地区最为广大，由于萨赫勒地区位于沙漠之边，降水稀少，主要的生态环境问题是土地沙漠化。

答案：A

3. 欧洲西部是全球橄榄油（由橄榄果榨取）重要的产地，该地区生产橄榄油的国家主要分布于（ ）

- A. 波罗的海沿岸
- B. 北海沿岸
- C. 地中海沿岸
- D. 北冰洋沿岸

解析：世界橄榄油产国集中在地中海沿岸国家，主要为西班牙、意大利、希腊、突尼斯、土

耳其、叙利亚、摩洛哥。

答案：C

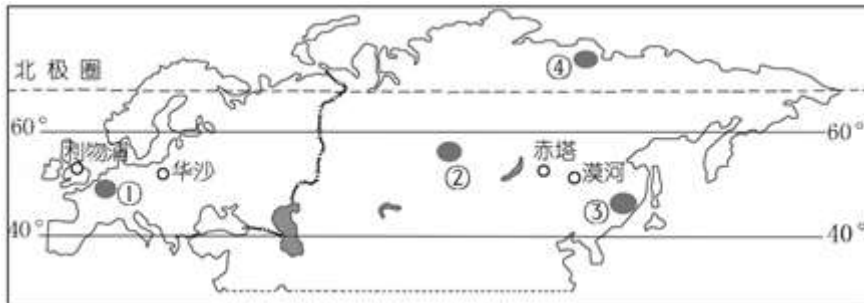
4. “世界那么美！应该去看看”，要游览、观赏热带沙漠风景，适宜选择去的国家是（ ）

- A. 法国
- B. 加拿大
- C. 澳大利亚
- D. 俄罗斯

解析：热带沙漠气候主要分布在南北回归线经过的内陆地区以及大陆的西岸地区。法国、加拿大、澳大利亚和俄罗斯四国中，只有澳大利亚被（南）回归线穿过，分布着广阔的沙漠，其它三国无沙漠分布。

答案：C

读图获取信息，完成下列各题。



5. 图中数码表示的阴影区域，人口稠密的是（ ）

- A. ②③
- B. ①③
- C. ②④
- D. ①④

解析：读图可知，图中四个人口稠密的地区分别是：①欧洲西部；②亚洲中部；③亚洲东部；④亚洲北部等，①③位于中低纬度近海的平原地区。这两个区域在气候上的共同特点温和湿润。是人口稠密的地区。

答案：B

6. 从利物浦→华沙→赤塔，降水量的变化（ ）

- A. 逐渐减少
- B. 逐渐增多
- C. 降水都很少
- D. 降水都很多

解析：中纬度沿海地区降水多，内陆地区降水少。受海陆因素的影响，从沿海到内陆，从利物浦→华沙→赤塔，降水量逐渐减少。

答案：A

7. 我国地大物博，地域饮食文化特色鲜明，各色菜肴在烹饪中形成了许多流派……下列著名菜系中源出我国北方地区的是（ ）

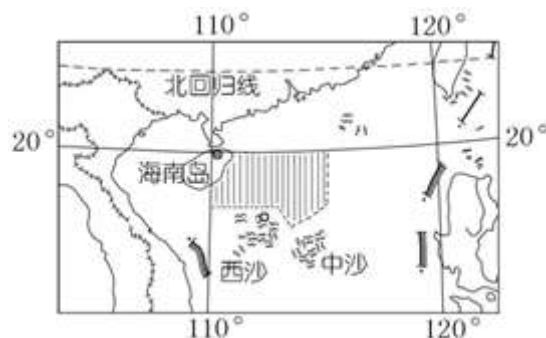
- A. 湘菜

- B. 川菜
- C. 鲁菜
- D. 粤菜

解析：湘菜中的湘是湖南省的简称，湖南省位于南方地区；川菜中的川是四川省的简称，四川省主要位于南方地区；粤菜中的粤是广东省的简称，广东省位于南方地区；鲁菜中的鲁是山东省的简称，山东省位于北方地区。

答案：C

中国海军某型护卫舰正在某海区（图中阴影范围）进行战备巡航，保卫祖国的蓝色海疆。读图完成下列各题。



8. 战舰巡航海区东至（ ）

- A. 115° E
- B. 115° W
- C. 110° E
- D. 110° W

解析：依据经纬度的判读，读图分析可知，战舰巡航海区的经度范围是 110° E - 115° E；由此可知，战舰巡航海区东至 115° E。

答案：A

9. 战舰巡航海区位于（ ）

- A. 渤海
- B. 黄海
- C. 东海
- D. 南海

解析：依据战舰巡航海区所处的经纬度，读图分析可知，战舰巡航海区位于南海。

答案：D

10. 2016 年 1 月 5 日，国际天文学联合会批准“嫦娥三号”探测器着陆点周边区域命名为“广寒宫”…我国月球探测取得非凡成就主要归功于大力发展了（ ）

- A. 机械工业
- B. 高新技术产业
- C. 冶金工业
- D. 飞机制造工业

解析：航空航天属于高新技术产业，我国月球探测取得非凡成就主要归功于我国发展高新技术产业。

答案：B

11. 手抓羊肉是我国西部牧区蒙、藏、回、维等民族喜爱的传统食物。手抓羊肉，相传有近千年的历史，原以手抓食用而得名…我国下列地区中，可能是“手抓羊肉”这种传统食物源出地的是（ ）

- A. 洞庭湖平原
- B. 内蒙古草原
- C. 珠江三角洲
- D. 南海诸群岛

解析：洞庭湖平原、珠江三角洲和南海诸群岛都位于我国东部季风区，这些地区的居民没有手抓羊肉的习惯，内蒙古草原畜牧业比较发达，其居民有手抓羊肉的习惯。

答案：B

12. 近年来，针对珠江三角洲工业区出现“用工荒”的问题，采取的合理措施是（ ）

- A. 减小企业投资规模
- B. 关停高新技术产业
- C. 进行产业升级和设备更新
- D. 迁移大型先进制造业

解析：珠江三角洲利于其紧邻港澳的优越地理位置，引进了大量的外资和先进的技术及管理经验，创办了一大批对劳动力要求较多的加工制造，近年来出现的“用工荒”问题，较为合理措施是产业升级和设备更新。故选项C符合题意。

答案：C

13. 有关城市及其美称对应正确的是（ ）

- A. 南京——中国丝都
- B. 杭州——六朝古都
- C. 广州——羊城
- D. 上海——海上花园

解析：中国丝都是指杭州，六朝古都是指南京，羊城是指广州，海上花园是指澳门，选项C对应正确，符合题意。

答案：C

14. 北京将在2022年举办冬季奥运会，你认为比赛时间最适宜安排在（ ）

- A. 1月
- B. 4月
- C. 7月
- D. 10月

解析：北京属于典型的温带季风气候，春季干旱多风，夏季高温多雨，秋季晴爽宜人，冬季寒冷干燥。根据北京的气候特点可以判定，2022年举办冬季奥运会的时间应该是1月份。

答案：A

15. 台湾有“东方甜岛”的美誉，主要得益于该岛能大量种植（ ）

- A. 菠萝
- B. 木瓜
- C. 甜菜

D. 甘蔗

解析：台湾盛产甘蔗，有“东方甜岛”之称；台湾盛产香蕉菠萝等，有“水果之乡”之称；台湾盛产稻米，有“海上米仓”之称；台湾的森林面积广阔，有“森林之海”之称；台湾的植物种类繁多，有“天然植物园”之称；台湾盛产海盐，有“东南盐库”之称。依据题意。

答案：D

读“娄底市天气预报图”回答下列各题。



娄底市天气预报图

16. 该日，最低气温可能出现在（ ）

- A. 双峰
- B. 娄底
- C. 涟源
- D. 大熊山

解析：地势对气候的影响表现在随着地势的增高，气温降低，海拔每升高 100 米，气温约下降  $0.6^{\circ}\text{C}$ ；读图可知，图中大熊山海拔 1622 米，海拔最高，因此气温可能最低。

答案：D

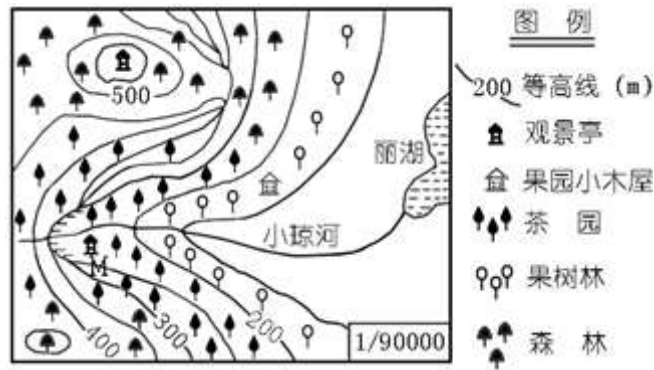
17. 根据天气预报图及依据你的生活体验判断，这段时期所处的季节（ ）

- A. 双峰城乡——寒风瑟瑟随雨雪
- B. 大熊群山——山花烂漫
- C. 娄底新城——赤日炎炎似火烧
- D. 涟源山野——橘子熟了

解析：读图可知，这段时期气温较低，处于冬季，而且伴有雨雪天气，因此选项 A 叙述正确，BCD 叙述错误。

答案：A

读湖南某地等高线示意图，完成下列各题。



18. 果园小木屋的海拔是 ( )

- A. 100~200 米
- B. 100~150 米
- C. 150~200 米
- D. 200~250 米

解析：读图分析可知，图中等高距为 50 米，果园小木屋的海拔位于 150 - 200 米之间。

答案：C

19. 登临 M 观景台，不可能观赏到的风景是 ( )

- A. 仰望飞瀑
- B. 俯瞰奇峰
- C. 近观茶园
- D. 远眺丽湖

解析：读图分析可知，M 观景台处于陡崖下方，位于茶园中；因此，登临 M 观景台可以仰望飞瀑、近观茶园、远眺丽湖。

答案：B

20. 四月，春暖花开，地理兴趣小组成员徒步考察小琼河，下列景观可能见到的是 ( )

- A. 金黄的稻田一片片，风吹稻穗香两岸
- B. 嫩绿的茶园里人们采茶正忙
- C. 满山坡的苹果树挂满了红彤彤的果子
- D. 青稞地点染着河谷嫩绿的春色

解析：读图分析可知：小琼河两岸没有种植水稻，因此看不到金黄的稻田，故 A 错误；小琼河两岸种植有茶园，嫩绿的茶园里人们采茶正忙，故 B 正确；湖南省位于南方地区，苹果属于温带水果，因此，看不到满山坡的苹果树，故 C 错误；青稞是青藏地区的主要粮食作物，位于河谷地带，在湖南看不到此景观，故 D 错误。

答案：B

## 二、综合题 (40 分)

21. (10 分) 阅读图文材料，完成下列各题。



材料 1：山西“杏花村”（如图）从南北朝以来，就以产“汾酒”著名，这里有历代文人雅士盛赞佳酿的题诗碑刻……杏花村水源优质，马跑神泉和古井泉水被人们称为“神泉”，晋中、吕梁地区盛产无污染的优质高粱、大麦、豌豆等。

材料 2：杜牧（唐）《清明》：清明时节雨纷纷，路上行人欲断魂。借问酒家何处有，牧童遥指杏花村。

(1) 汾河是\_\_\_\_\_河的支流；汾河流经的地形区是\_\_\_\_\_。

解析：黄河中游穿行于土质疏松的黄土高原，侵蚀出壮观的峡谷地貌。黄河中游有无定河、汾河、渭河等支流汇入，随着流量的不断增加，河水的含沙量也急剧上升。进入黄河的泥沙近 90%来自于中游流域。

答案：黄 黄土高原

(2) 简述山西“杏花村”发展酿酒业有利的资源条件。

解析：山西“杏花村”位于汾河沿岸，附近地区盛产无污染的优质高粱、大麦、豌豆等，酿酒原料优质而充足。水源为优质的地下水。为发展酿酒业提供了有利的资源条件。

答案：附近地区盛产无污染的优质高粱、大麦、豌豆等，酿酒原料优质而充足。水源为优质的地下水。

(3) 从地理学的角度思考分析，杜牧诗中的“杏花村”是否指的就是山西的“杏花村”？请简要说明理由。

解析：不是。我国“清明时节”雨带位于南方地区，“雨纷纷”是南方地区出现的天气现象，而山西杏花村位于北方地区。

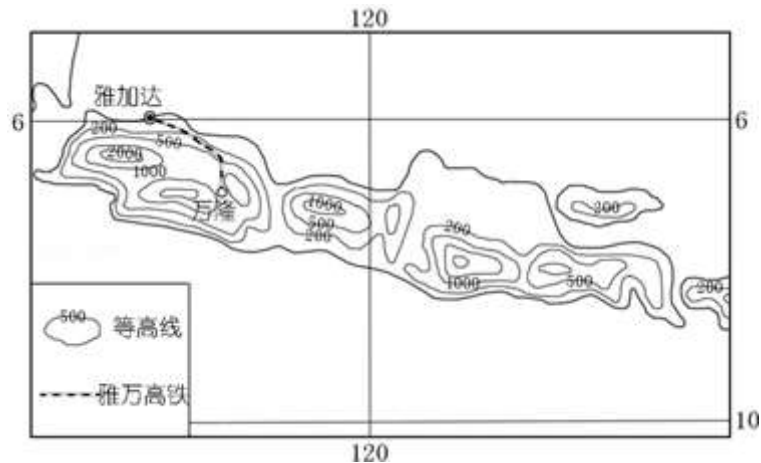
答案：不是。我国“清明时节”雨带位于南方地区，“雨纷纷”是南方地区出现的天气现象，而山西杏花村位于北方地区。

22. (10 分) 阅读图文材料，回答下列问题。

材料 1：2015 年 10 月，中国与印度尼西亚签署协议，共同建设和运营雅加达至万隆高铁项目。雅万高铁全长 150 千米，将全部采用中国装备。

爪哇岛四面环海，地壳运动活跃，多地震和火山，地形以山地、丘陵为主。爪哇岛的气候类型为热带雨林气候，终年炎热潮湿。

材料 2：爪哇岛等高线地形图



(1) 爪哇岛多地震和火山的原因是\_\_\_\_\_。

解析：爪哇岛位于板块（欧亚板块与印度洋板块）的交界地带，地壳运动活跃。故多地震和火山。

答案：位于板块（欧亚板块与印度洋板块）的交界地带，地壳运动活跃。

(2) 为修建雅万高铁，有一批大型工程机械从中国广州运往雅加达，适宜的运输方式是\_\_\_\_\_。

解析：中国广州位于沿海地区，印度尼西亚属于岛国，故从中国广州运往雅加达，适宜的运输方式是海运。

答案：海运

(3) 说明雅万高铁的修建对印尼的积极影响。

解析：雅万高铁对于推进基础设施建设，拉动就业；改善交通运输条件，方便人们出行；带动相关产业，促进经济发展；促进旅游业发展等方面都起着重要的作用。

答案：①推进基础设施建设，拉动就业；②改善交通运输条件，方便人们出行；③带动相关产业，促进经济发展；④促进旅游业发展。

(4) 修建雅万高铁需要克服的不利地理条件有哪些？

解析：印度尼西亚属于岛国，地形崎岖，起伏较大；气候炎热潮湿，降雨多（穿越热带雨林区，蚊虫叮咬、动物侵袭等）；多地震和火山，地质条件复杂，这些都是修建雅万高铁需要克服的不利地理条件。

答案：地形崎岖，起伏较大；气候炎热潮湿，降雨多（穿越热带雨林区，蚊虫叮咬、动物侵袭等）；多地震和火山，地质条件复杂。

23. (10分) 阅读图文材料，回答下列问题。

材料：西藏西部和西北部是西藏最重要的食盐产地，这里的食盐广泛分布于湖边，根本无须晒盐。古代，西藏的牧民以十几户为一团队，组织上百头大型牲畜在冰雪消融的季节到西藏西部和西北部地区运输食盐。





(1) 西藏西部和西北部地区多食盐的湖泊属于\_\_\_\_\_ (内流湖、外流湖)。

解析：西藏西部和西北部地区多食盐的湖泊不能流入海洋中，属于内流湖。

答案：内流湖

(2) 推测古代西藏牧民运输食盐使用的大型牲畜是\_\_\_\_\_。

解析：古代西藏牧民运输食盐使用的大型牲畜是牦牛。

答案：牦牛

(3) 西藏牧民在食盐运输路线上需要克服的地理上的困难主要有哪些？

解析：西藏地形崎岖难走；高寒、缺氧、紫外线强烈；地质灾害多，这些都是西藏牧民在食盐运输路线上需要克服的地理上的困难。

答案：地形崎岖难走；高寒、缺氧、紫外线强烈；地质灾害多。

(4) 专家建议大力发展西藏地区的旅游业。你是否赞成这一建议，试简要说明理由。

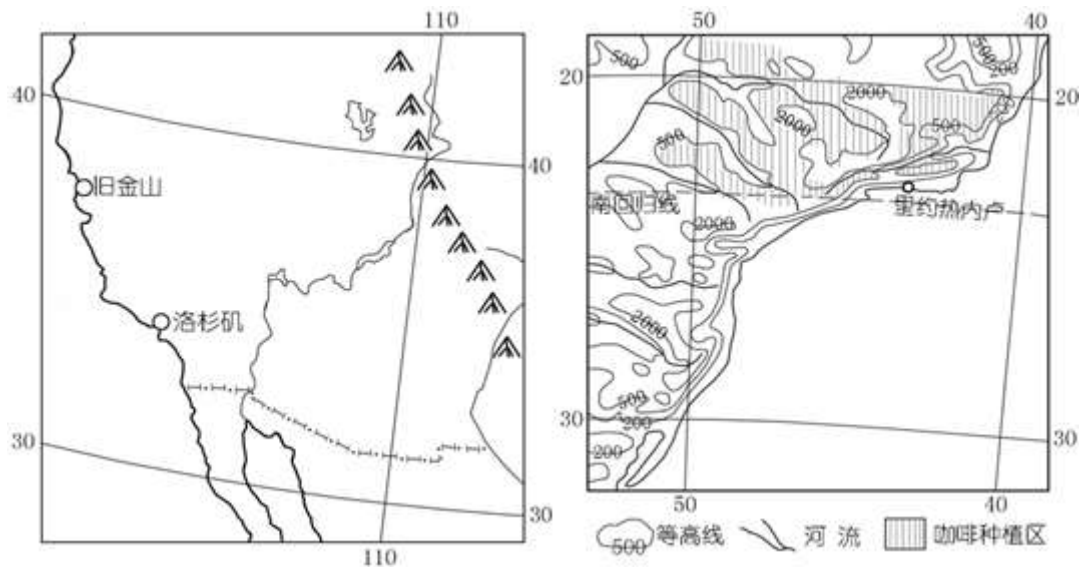
解析：西藏地区旅游资源丰富（雪山、草原、湖泊等自然风光秀美，佛教寺庙神奇，藏族文化、民俗独特），能吸引大量游客，可以发展西藏地区的旅游业。

答案：赞成。西藏地区旅游资源丰富（雪山、草原、湖泊等自然风光秀美，佛教寺庙神奇，藏族文化、民俗独特），能吸引大量游客，发展旅游业。

24. (10分) 阅读图文材料，完成下列各题。

材料：洛杉矶属冬雨夏干的地中海气候，7、8月份的平均气温约为21~25℃。1984年7月28日至8月12日，洛杉矶举办了第23届夏季奥林匹克运动会。

第31届夏季奥林匹克运动会，将于2016年8月5日~21日在巴西里约热内卢举行，是首个举办奥运会的南美洲城市。



(1) 填表比较洛杉矶和里约热内卢。

港口城市	濒临海洋	居民语言	著名旅游景点	所在国大量出口的农产品
洛杉矶	太平洋			小麦、玉米
里约热内卢		葡萄牙语	耶稣基督雕像	

解析：洛杉矶使用的语言是英语；著名的旅游景点有好莱坞影视城；里约热内卢濒临大西洋；大量出口咖啡、可可、柑橘、大豆、牛肉等农产品。

答案：

港口城市	濒临海洋	居民语言	著名旅游景点	所在国大量出口的农产品
洛杉矶	太平洋	英语	好莱坞影视城	小麦、玉米
里约热内卢	大西洋	葡萄牙语	耶稣基督雕像	咖啡、可可、柑橘、大豆、牛肉

(2) 从地理学的角度分析洛杉矶奥运会时间选择的合理性。

解析：洛杉矶属冬雨夏干的地中海气候，7、8月份平均气温约为21℃~25℃，气温较适宜，且降雨很少，晴朗天气多，适宜开展体育比赛；故洛杉矶奥运会时间选择在7、8月份。

答案：洛杉矶属冬雨夏干的地中海气候，7、8月份平均气温约为21℃~25℃，气温较适宜，且降雨很少，晴朗天气多，适宜开展体育比赛。

(3) 奥运会期间，巴西将向全球展示“美丽巴西”、“绿色巴西”、“人文巴西”的风采…请选择上述任一主题，画一幅宣传漫画。

解析：漫画符合环保主题即可。

答案：



绿色巴西