

# 2013年福州市中考地理试卷

二〇一三年福州市一四届初中学业统一考试

## 地 理 试 卷

(满分:100分;考试时间:60分钟)

友情提示:所有答案都必须填涂在答题卡相应的位置上,答在本试卷上一律无效。

毕业学校 \_\_\_\_\_ 姓名 \_\_\_\_\_ 考生号 \_\_\_\_\_

一、选择题(本大题共25小题,每小题2分,共计50分。在每小题列出的四个选项中,只有一项最符合题目要求。)

根据《福州市城市总体规划(2009—2020)》,福州将从“三山”时代跨入“沿江面海”时代。读图1福州城市总体规划略图,回答1~2题。

1. 福州的“三山”是

- A. 屏山、乌山、于山
- B. 屏山、鼓山、于山
- C. 屏山、乌山、旗山
- D. 五虎山、乌山、于山

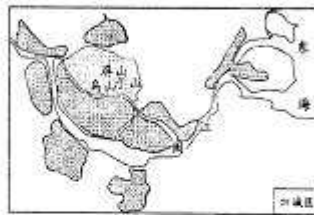


图1

2. “沿江面海”的“江”和“海”分别是

- A. 闽江和南海
- B. 长江和东海
- C. 闽江和东海
- D. 长江和南海

2012年7月24日,海南省三沙市正式成立。

读图2南海示意图,回答3~5题。

3. 三沙市地处

- A. 渤海
- B. 黄海
- C. 东海
- D. 南海

4. 我国领土最南端在4°N附近的

- A. 帕米尔高原
- B. 漠河
- C. 曾母暗沙
- D. 乌苏里江

5. 珠江三角洲地区吸引外资的有利条件是

- A. 矿产资源丰富
- B. 毗邻港澳和东南亚
- C. 人口稀少
- D. 重工业基地



图2

“天山南北好牧场,葡萄瓜果甜又甜……戈壁沙滩变良田,

积雪融化灌农庄……”,根据歌词回答6~8题。

6. 歌词描述的省级行政区是

- A. 云南省
- B. 湖北省
- C. 海南省
- D. 新疆维吾尔自治区

7. “戈壁沙滩变良田,积雪融化灌农庄”体现当地富有特色的  
 A. 河谷农业      B. 水田农业      C. 绿洲农业
8. 天山南侧有我国最大的盆地  
 A. 四川盆地      B. 准噶尔盆地      C. 柴达木盆地

- D. 基塘农业
- D. 塔里木盆地

读图3某区域等高线地形图,回答9~10题。

9. 甲表示的地形部位是  
 A. 山顶      B. 山谷  
 C. 陡崖      D. 鞍部
10. 某地理兴趣小组准备登顶考察,选择坡度最缓的线路是  
 A. ①      B. ②  
 C. ③      D. ④

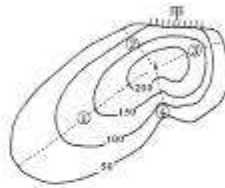


图3

读图4我国东南沿海局部图,回答11~13题。

11. 台湾岛东、西两侧濒临的海域分别是  
 A. 大西洋 琼州海峡      B. 太平洋 琼州海峡  
 C. 大西洋 台湾海峡      D. 太平洋 台湾海峡
12. 台湾素有“水果之乡”的美称,盛产的热带、亚热带水果有  
 ①甜菜    ②香蕉    ③菠萝    ④苹果  
 A. ①②      B. ②③  
 C. ①④      D. ③④



图4

13. 台湾岛的地形特点是  
 A. 平原主要分布在西部      B. 地势西高东低  
 C. 山地主要分布在西部      D. 山脉为东西走向

2013年3月第十二届全国人民代表大会在北京召开。回答14~15题。

14. 全国人大会议在北京召开,体现了北京是我国的  
 A. 文化中心      B. 政治中心      C. 经济中心      D. 国际交往中心
15. 福州的人大代表赴北京参加会议,选择最快捷的交通工具是  
 A. 火车      B. 汽车      C. 轮船      D. 飞机

读图5亚洲大陆沿30°N地形剖面示意图、图6亚洲大陆沿80°E地形剖面示意图,回答16~17题。




图5




图6

16. 亚洲地势特点是  
 A. 西部高 中部低      B. 东部高 西部低      C. 中部高 四周低      D. 中部低 四周高
17. 亚洲北部河流主要注入  
 A. 太平洋      B. 北冰洋      C. 印度洋      D. 大西洋

读图7“中南半岛略图”，回答18-19题。

18. 源流顺澜沧江流到  
 A. 伊洛瓦底江  
 B. 红河  
 C. 湄南河  
 D. 湄公河
19. 中南半岛城市大多分布在  
 A. 河流沿岸地区  
 B. 东部地区  
 C. 北回归线沿线地区  
 D. 北部地区



图7

读图8漫画“鲸吞农田”，回答20-21题。

20. 漫画反映的问题是  
 A. 住房占用耕地  
 B. 水资源枯竭  
 C. 大气污染严重  
 D. 全球气候变暖
21. 解决该问题的有效措施有  
 ①控制人口增长      ②跨流域调水  
 ③保护耕地          ④垃圾分类处理
- A. ①④      B. ②③      C. ①③      D. ②④



图8

家住福州的小明同学计划寒假到澳大利亚旅游，读图9澳大利亚示意图，回答22-23题。

22. 澳大利亚此时的季节是  
 A. 春季  
 B. 夏季  
 C. 秋季  
 D. 冬季
23. 选择该国城市最密集的地区旅游，行程主要集中在  
 A. 东北沿海  
 B. 中部内陆  
 C. 东南沿海  
 D. 西北沿海



图9

读图10甲、乙两地气候统计图，回答24-25题。

24. 气候的两大要素是  
 A. 阴晴、风雨  
 B. 气温、降水  
 C. 干、湿  
 D. 降水、风向
25. 甲、乙两地相比  
 A. 夏季降水量甲大于乙  
 B. 冬季降水量甲大于乙  
 C. 最低气温都出现在7月  
 D. 气温年较差甲小于乙

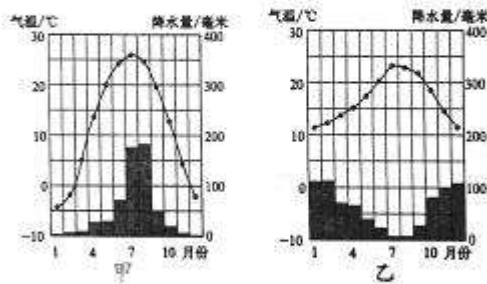


图10

以上答案都答对了吗？后面的答案要用水笔！不要错位，越界答题哦！加油！

二、非选择题(本大题共6小题,共计50分。)

26. (9分)油菜是一种油料作物,花期大约为一个月。读图11我国四大地理区域示意图,回答问题。

- (1) A、B两地分别在4月和7月盛开美丽的油菜花。B地油菜开花时间更迟的原因主要是: B地位于我国地势的第\_\_\_\_\_级阶梯,海拔高,气温\_\_\_\_\_。

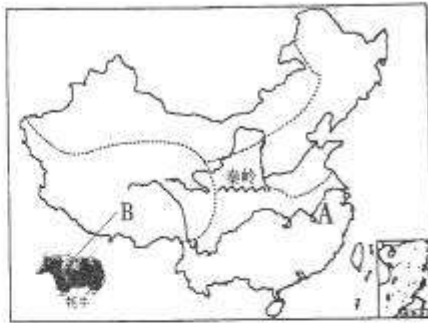


图11

- (2) 图中\_\_\_\_\_ (山脉)-淮河一线与一月\_\_\_\_\_℃等温线接近。

- (3) A位于我国四大地理区域中的\_\_\_\_\_地区,该地区耕地类型主要为\_\_\_\_\_ (水田或旱地),主要的粮食作物是\_\_\_\_\_。

- (4) B地区是\_\_\_\_\_族(少数民族)聚居地。本区的农业以畜牧业为主,\_\_\_\_\_被称为“高原之舟”。

27. (8分)清新福州任你游,读图12三坊七巷游览简图,回答问题。

- (1) 三坊七巷周边可供选择的公交车站有\_\_\_\_\_处,自行车停放点有2处。

- (2) 小榕从市区出发,选择\_\_\_\_\_ (绿色出行)方式到达三坊七巷。从杨桥路起,步行游览\_\_\_\_\_坊的“水榭戏台”和宫巷的“沈葆桢故居”,最后到达光禄坊。请把游览线路画在游览图上。



图12

- (3) 小榕可品尝的特色闽菜有\_\_\_\_\_,可购买福州特艺三宝有\_\_\_\_\_。(各写出一个即可)

- (4) 为守护家乡清新空气,我们能做的是\_\_\_\_\_。

28. (8分) 读图 13 日本主要工业地带分布图、图 14 印度略图, 回答问题。



图 13



图 14

- (1) 两国中, 与中国隔海相望的国家是\_\_\_\_\_; 印度隔\_\_\_\_\_山脉与中国相邻, 首都是\_\_\_\_\_。
- (2) 日本海岸线曲折, 多优良\_\_\_\_\_, 对外交通便利, 工业主要分布在濑户内海沿岸和\_\_\_\_\_沿岸。印度最大的棉纺织中心是\_\_\_\_\_, 周边盛产棉花。
- (3) 日本位于环太平洋火山地震带, 多\_\_\_\_\_灾害; 印度由于受西南季风的影响, 年降水量极不稳定, \_\_\_\_\_灾害频繁。

29. (9分) 学校开展“水土流失与植被的关系探究”研究性学习, 读图 15 黄河流域示意图、图 16 水土流失与植被关系实验图及材料, 完成活动报告。

材料: 历史上, 黄土高原曾经植被繁茂, 沟壑稀少。后来, 植被逐渐遭到破坏, 水土流失越来越严重, 形成了如今千沟万壑的景观。

- (1) 【观察发现】图 15 中的两瓶水, 浑浊的是\_\_\_\_\_瓶, 反映水中泥沙含量\_\_\_\_\_, 该水样取自黄河\_\_\_\_\_ (上、中) 游河段。



图 15

- (2) 【实验探究】观察图 16 得出结论: 同等降雨量、同等坡度下, 甲地表植被茂密, 水土流失\_\_\_\_\_; 乙地表植被\_\_\_\_\_, 水土流失多。观察比较: 图 15 中水样 A 与图 16 \_\_\_\_\_ (甲或乙) 实验现象相似。

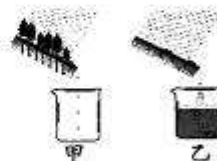


图 16

- (3) 【联系实例】黄河中游流经\_\_\_\_\_高原, 严重的水土流失使该地区地表呈现\_\_\_\_\_的景观。
- (4) 【提出对策】为了保持水土, 可采取的措施有\_\_\_\_\_等。

30. (8分) 读图 17 非洲气候分布图、图 18 撒哈拉以南非洲某国主要商品占本国进出口商品百分比图, 回答问题。



图 17

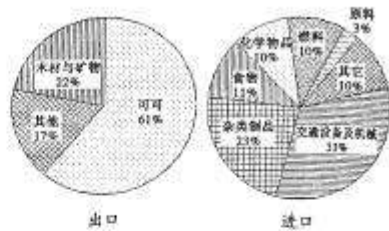


图 18

- (1) 撒哈拉以南的非洲大部分位于南、北\_\_\_\_\_线之间, 处于地球五带中的\_\_\_\_\_带, 是\_\_\_\_\_ (人种) 的故乡。
- (2) 撒哈拉以南非洲的气候类型以赤道为轴, 呈\_\_\_\_\_对称, 分布最广的是\_\_\_\_\_气候。
- (3) 图 18 中, 可可占出口商品\_\_\_\_\_% , 进口商品比重最大的是\_\_\_\_\_, 该国经济比较落后。请提出改变这种局面的合理化建议:\_\_\_\_\_。

31. (8分) 用灯光作为太阳光, 演示地球的自转和公转, 读图回答问题。

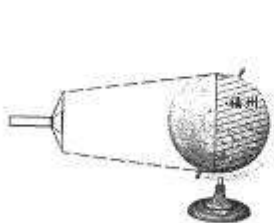


图 19

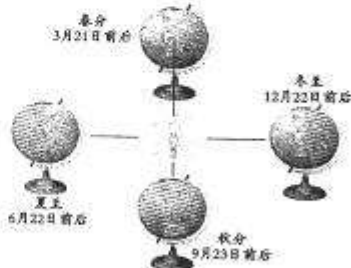


图 20

- (1) 图 19 实验 1, 演示地球的\_\_\_\_\_转, 用手\_\_\_\_\_ (方向) 轻轻拨动地球仪, 演示\_\_\_\_\_交替的地理现象。当地球运动到图示位置时, 福州是\_\_\_\_\_ (黑夜或白昼)。
- (2) 图 20 实验 2, 演示地球的\_\_\_\_\_转, 地球围绕\_\_\_\_\_自西向东运动。6 月 1 日最接近二分二至中的\_\_\_\_\_节气, 福州的昼夜长短情况是\_\_\_\_\_。

都答完了吗? 再仔细查查, 相信你能考得更好!