

2018年重庆市北碚区中考真题地理

一、选择题：每小题1分，共40分。

1. 重庆一座“网红”城市，2018年暑假快到了，远自台湾的小华准备到重庆游玩，他最需要的地图是（ ）

- A. 重庆市人口分布图
- B. 重庆市交通图
- C. 重庆市水系示意图
- D. 重庆市地形图

解析：本题考查地图的应用。在庞大的地图家族中，有自然地图和社会经济地图。自然地图包括地形图、气候图、水文图、植被图等，社会经济地图包括工业图、农业图、商业图、交通图、人口分布图等。日常生活中，我们应根据实际需要选择合适的地图。台湾的小华准备到重庆游玩，他最需要的地图是重庆市交通图。

答案：B

2. 我们所生活的亚洲有众多的大江大河，它们大多呈放射状流向周边的海洋，由此可推断亚洲的地势特点是（ ）

- A. 南高北低
- B. 西高东低
- C. 中部高四周低
- D. 东低西高

解析：本题主要考查亚洲地形特点。亚洲地形以高原、山地为主，平均海拔高；地面起伏大，高低悬殊，地势中间高、四周低。亚洲的地势特点是中部高四周低。

答案：C

3. 2020年奥运会将在东京举行，举办地日本领土的四个大岛中，纬度最高的是（ ）

- A. 北海道岛
- B. 本州岛
- C. 四国岛
- D. 九州岛

解析：日本是东亚岛国，领土由北海道、本州、九州、四国四个大岛以及附近一些小岛组成；其中纬度位置最高的岛屿是本州岛。故选项B符合题意。


答案：B

4. 西南严重干旱，可能会影响到（ ）

- A. 彝族火把节
- B. 傣族泼水节
- C. 藏族雪顿节
- D. 蒙古族那达慕大会

解析：我们要尊重各民族的风俗习惯，巩固和发展民族团结。各民族之间应和睦相处。西南地区是我国少数民族聚居的地方，泼水节是西南地区云南傣族人民每年都举行的重大节日。按照傣历，泼水节大约在清明节后的4月13日至15日举行。过去，在节日清晨，男女老幼沐浴更衣到佛寺“赧（音dǎn，意为奉献）佛”，然后大家泼水嬉戏，认为能够消灾祛病，西南严重干旱会影响傣族泼水节的活动。

答案：B

5. 聪聪在“天气预报”节目中看到爸爸捕鱼的海域明天的天气符号是“”，他给爸爸发去的手机短信内容应该是（ ）

- A. 老爸，明天海上四级风，可继续捕鱼
- B. 老爸，明天海上有微风，当心

- C. 老爸，明天天气有变化，后天返航
 D. 老爸，明天有 7~8 级大风，请速返航

解析：本题考查风力的判定。在风向标上，风干指的方向是风向，风尾表示风力，每道 2 级。每道风尾表示风力 2 级，4 道风尾表示风力 8 级。

答案：D

根据以下内容回答问题：小李同学在暑假游记中写道：那天我终于看到“美丽的草原我的家，风吹草低遍地花，牛羊好似珍珠撒，蒙古包就像白莲花”的美景。这让我想起了我家乡的另一番景象：“春花、夏蝉、秋果、冬雪，每一季都有不同的风韵，更有那渤海湾的大螃蟹，横行脑际。”

6. 该游记中描述的两个地区分别是（ ）

- A. 南方地区、青藏地区
 B. 西北地区、青藏地区
 C. 北方地区、南方地区
 D. 西北地区、北方地区

解析：本题主要考查我国四大地理区域的概况。该游记描述的是我国的西北地区和北方地区。我国西北地区深居内陆，远离海洋，降水较少，以畜牧业为主，有“美丽的草原我的家，风吹草低遍地花，牛羊好似珍珠撒，蒙古包就像白莲花”的景观；我国北方地区夏季高温多雨，冬季寒冷干燥，有“春花、夏蝉、秋果、冬雪，每一季都有不同的风韵”的景观。故 D 符合题意。

答案：D

7. 该同学的家乡应该是以下哪个城市（ ）

- A. 沧州
 B. 福建
 C. 拉萨
 D. 呼和浩特

解析：本题主要考查我国四大地理区域的概况。我国西北地区深居内陆，远离海洋，降水较少，以畜牧业为主，有“美丽的草原我的家，风吹草低遍地花，牛羊好似珍珠撒，蒙古包就像白莲花”的景观；我国北方地区夏季高温多雨，冬季寒冷干燥，有“春花、夏蝉、秋果、冬雪，每一季都有不同的风韵，更有那渤海湾的大螃蟹”的景观，属于北方地区的是沧州，沧州位于渤海湾地区。故 A 符合题意。

答案：A

8. 在欧洲人的餐桌上，常见的食品是（ ）

- A. 米饭
 B. 牛排与奶酪
 C. 馒头
 D. 油条与豆浆

解析：欧洲的地形以平原为主，气候类型为温带海洋性气候，适合牧草生长，畜牧业发达，所以他们通常以牛羊肉和牛羊排及奶酪为食。故 ACD 不符合题意。

答案：B

9. 一艘货轮从我国的上海驶往法国西海岸，依次经过的海峡是（ ）



- A. ①②③④
 B. ④①②③

C. ④②①③

D. ②①③④

解析：本题考查上海到法国的路径。读图可得：①是曼德海峡，②是马六甲海峡，③是直布罗陀海峡，④是台湾海峡。一艘货轮从我国的上海驶往法国西海岸，其路径是上海→东海→台湾海峡→南海→太平洋→马六甲海峡→印度洋→曼德海峡→红海→苏伊士运河→地中海→直布罗陀海峡→大西洋→法国。

答案：C

10. 不同国家和地区其物产和经济结构都有很大差异。将来你可能会去俄罗斯参加产品订货会，带上什么产品，你会收到更多的订单（ ）

A. 汽车

B. 飞机

C. 石油

D. 生活日用品

解析：考查俄罗斯的经济状况。俄罗斯工业基础雄厚，部门齐全，能源、冶金、机械、化工、航空航天、核工业等重工业部门占据突出地位。轻工业不发达，去俄罗斯参加产品订货会，带上儿童玩具这种轻工业产品，会收到更多的订单。近年来，俄罗斯积极发展与人民生活密切相关的消费品工业，工业结构得到改善。

答案：D

11. 海拔 5895 米的乞力马扎罗山是非洲第一高峰，山顶冰峰峭立，白雪皑皑，形成奇异的“赤道雪峰”景观。为什么会这样呢？算一算你就会明白了。该山上海拔 900 米处气温为 20℃，山顶的气温会是多少呢？（ ）

A. 约 20℃

B. 约-5℃

C. 约-10℃

D. 约-20℃

解析：本题主要考查地形地势对世界气候的影响。世界气温分布规律中，地势越高，气温越低，海拔每升高 100 米，气温约下降 0.6℃。先算出相对高度，再计算两地气温差，最后算出山顶气温。山顶的气温为： $(5895\text{m}-900\text{m}) \div 100 \times 0.6^\circ\text{C} = 29.97^\circ\text{C}$ ， $20^\circ\text{C} - 29.97^\circ\text{C} = -9.97^\circ\text{C}$ ，约-10℃。

答案：C

12. “冬季比较温和，夏季比较凉爽，年降水量比较多，季节分配均匀”。描述的气候类型是（ ）

A. 温带大陆性气候

B. 温带海洋性气候

C. 亚热带季风气候

D. 地中海气候

解析：考查部分气候的特点，关于温带海洋性气候还应掌握其分布特点，它在欧洲西部分布的最为典型，可以从地形、洋流、海陆轮廓等方面去分析原因。温带海洋性气候的特点是冬季比较温和，夏季比较凉爽，年降水量较多而且分配比较均匀，故 B 符合题意。

答案：B

13. 日本在太平洋沿岸和濑户内海沿岸形成四大工业区的主要原因是（ ）

A. 矿产资源丰富

B. 气候炎热干燥

C. 海运便利，有利于进口原料出口产品

D. 人口稀少，人均资源丰富

解析：本题考查日本工业的分布。日本在太平洋沿岸和濑户内海沿岸形成四大工业区的主要原因是海岸线曲折，多优良港湾，海运便利，有利于进口原料出口产品，故 C 正确。

答案：C

14. 欧洲旅游胜地组合正确的一组是（ ）

- A. 观赏花卉与风车——西班牙
- B. 参观艾菲尔铁塔——伦敦
- C. 观看斗牛比赛——法国
- D. 参观水城威尼斯——意大利

解析：A、观赏花卉与风车——荷兰；B、参观艾菲尔铁塔——法国巴黎；C、观看斗牛比赛——西班牙。由此得知：ABC 不符合题意。

答案：D

15. “南北对话”是指（ ）

- A. 发达国家与发展中国家之间的商谈
- B. 南美洲国家与北美洲国家之间的商谈
- C. 中国与美国的商谈
- D. 南半球国家与北半球国家之间的商谈

解析：本题考查南北对话的含义。发展中国家与发达国家之间关经济、政治等方面的商谈称为南北对话，发展中国家之间的互助合作称为南南合作；故选项 A 符合题意。

答案：A

16. 位于北碚区的缙云山 5A 国家森林公园成为避暑胜地的主要因素是（ ）

- A. 纬度因素
- B. 地形因素
- C. 洋流因素
- D. 海陆因素

解析：本题考查了影响气候的因素。重庆缙云山 5A 国家森林公园成为避暑胜地海拔较高，气温较低，夏季比较凉爽，成为避暑胜地。影响其气候的主要是因素是地形地势因素。

答案：B

17. 下列四个大洲轮廓图中，表示南美洲的是（ ）



解析：本题主要考查大洲轮廓图的认读。读图可知，A 图是非洲，B 图是北美洲，C 图是南美洲，D 图是南极洲。故选项 C 符合题意。

答案：C

18. 亚洲众多的河流呈放射状流向周边海洋，其影响因素是（ ）

- A. 亚洲的气候
- B. 亚洲的形状
- C. 亚洲的人口
- D. 亚洲的地势

解析：本题考查影响河流流向的主要因素。亚洲地势中间高、四周低，受地势影响，大河多发源于中部的高原山地，顺地势呈放射状向四周奔流入海。

答案：D

19. 由于有“地球之肺”称号而受到全世界关注和保护的自然环境是（ ）

- A. 热带雨林
- B. 热带草原

- C. 野生动物
- D. 亚马孙河水源

解析：有“地球之肺”称号而受到全世界关注和保护的自然环境是巴西境内的热带雨林。

答案：A

20. 下列因大量出口石油，而成为比较富裕的亚洲国家是（ ）

- A. 日本
- B. 沙特阿拉伯
- C. 韩国
- D. 新加坡

解析：西亚各国所产石油的 90% 供出口，主要输往西欧、美国和日本。西亚的石油资源主要分布在波斯湾及其沿岸地区。沙特阿拉伯、伊朗、科威特和伊拉克是世界上重要的产油国。比较题干中的四个国家可得：沙特阿拉伯位于西亚，该国家是一个因出口石油而成为比较富裕的国家。

答案：B

21. 我国三级行政区划指的是（ ）

- A. 省、地、市
- B. 省、自治区、直辖市
- C. 省、县、乡
- D. 国家、首都、省

解析：考查我国行政区划的划分。我国现行的行政区划基本上划分为省（自治区、直辖市）、县（自治县、县级市）、镇（乡）三级。直辖市和较大的市分为区、县。国家还根据实际情况需要设立特别行政区。

答案：C

22. 澳门经济发展的重要支柱产业是（ ）

- A. 博彩旅游业
- B. 转口贸易业
- C. 工业
- D. 交通运输业

解析：本题考查澳门的经济支柱。澳门的主要经济支柱有博彩业、旅游业、加工工业、建筑业等，以博彩业和旅游业为主。

答案：A

23. 关于台湾农业的叙述，正确的是（ ）

- ①西部平原地区水稻种植普遍
 - ②甘蔗和蔗糖闻名于世
 - ③四季鲜果不断，有热带、亚热带“水果之乡”的美称
 - ④茶叶、香蕉、菠萝驰名中外
- A. ①②
 - B. ①②③
 - C. ①②③④
 - D. ②③④

解析：本题考查台湾农业的概况。台湾岛地势中东高西低，中东部为山地，西部为平原，西部平原地区水稻种植普遍；台湾岛为亚热带、热带季风气候，四季鲜果不断，有热带、亚热带“水果之乡”的美称；台湾岛盛产甘蔗，甘蔗和蔗糖闻名于世，有东方甜岛之称；另外台湾岛的茶叶、香蕉、菠萝驰名中外。故选项 C 符合题意。

答案：C

24. 玲玲正准备去新疆旅游，下面是她妈妈的嘱咐，你认为没有必要的是（ ）

- A. “要是口渴，可买些哈密瓜和葡萄吃。”
- B. “白天阳光强烈，要带些防晒霜。”
- C. “那里雨水多，不要忘了带雨具。”
- D. “骑骆驼时一定要注意安全。”

解析：A. 新疆的哈密瓜和吐鲁番葡萄闻名全国，故可买些哈密瓜和葡萄吃。不符合题意；B. 新疆全年多晴天，日照特别强烈，降水稀少。故要带些防晒霜。不符合题意；C. 新疆气候最主要的特征是干旱，故没有必要带雨具。符合题意；D. 我国面积最大的塔克拉玛干沙漠，骆驼被称为“沙漠之舟”。故玲玲可能骑骆驼。不符合题意。

答案：C

25. 小丽学了一个成语“得陇望蜀”，发现成语中蕴含着我国两个省级行政区的简称，其中“蜀”“陇”分别指的是（ ）

- A. 陕西、甘肃
- B. 四川、陕西
- C. 广东、广西
- D. 四川、甘肃

解析：本题考查我国不同省区的简称。蜀是四川省的简称，陇是甘肃省的简称。

答案：D

26. 来自重庆的小明同学，阳春三月慕名去到海南旅游，小明想品尝最能体现海南特色的水果，以下哪样水果不合适（ ）

- A. 甘蔗
- B. 苹果
- C. 香蕉
- D. 椰子

解析：考查我国水果的地区分布。我国北方地区盛产温带水果，比如苹果、梨、桃、杏、柿、枣、葡萄等。南方地区热量充足，降水丰沛，盛产亚热带、热带水果，如柑橘、菠萝、甘蔗、香蕉、荔枝等。海南位于南方热带地区，而苹果属于温带水果，故B不适合。

答案：B

27. 从海陆位置看，中国位于（ ）

- A. 亚洲南部、印度洋北岸
- B. 欧洲东部、大西洋西岸
- C. 北美洲东部、太平洋东岸
- D. 亚洲东部、太平洋西岸

解析：主要考查我国的地理位置。从海陆位置看，我国位于世界最大的大陆——亚欧大陆的东部，西部深入亚欧大陆内部，与许多国家接壤。

答案：D

28. 请你帮助张明同学从下列风景明信片中挑选一张属于欧洲风光的明信片（ ）

- A. 安第斯山脉
- B. 阿尔卑斯山
- C. 落基山
- D. 珠穆朗玛峰

解析：本题考查世界重要地理事物的位置。安第斯山脉位于南美洲，阿尔卑斯山位于欧洲，落基山位于北美洲，珠穆朗玛峰位于亚洲，选项ACD错误。

答案：B

29. 世界上使用人数最多和使用范围最广的语言分别是（ ）

- A. 英语和阿拉伯语
- B. 汉语和西班牙语

- C. 汉语和英语
- D. 俄语和英语

解析：汉语是世界上使用人数最多的语言，英语是世界上分布最广泛的语言。

答案：C

30. 下列地形区中，位于我国地势第一阶梯上的是（ ）

- A. 青藏高原
- B. 塔里木盆地
- C. 内蒙古高原
- D. 准噶尔盆地

解析：第一阶梯上的主要地形区有青藏高原和柴达木盆地。

答案：A

31. 对我国农业生产影响最大、最常见且分布范围最广的气候灾害是（ ）

- A. 台风
- B. 寒潮
- C. 干旱
- D. 梅雨

解析：对我国农业生产影响最大、最常见、分布范围最广的气候灾害是旱灾。在我国，不仅降水稀少的西北地区旱情严重，而且在东部季风区也常出现旱灾。

答案：C

32. 小明同学购买了一瓶矿泉水，商标上注有“渝卫食证”等字样，问此矿泉水注册于（ ）

- A. 四川省成都市
- B. 重庆市
- C. 重庆省
- D. 重庆特别直辖市

解析：本题考查我国的行政区划及简称。渝是重庆市的简称，因此，小明同学购买的商标上注有“渝卫食证”等字样的矿泉水，注册于重庆市。四川省简称川或蜀，重庆省、重庆特别直辖市本身说法错误。

答案：B

33. 《西游记》故事中，唐僧师徒从“西天”取回的经书属于（ ）

- A. 伊斯兰教
- B. 佛教
- C. 天主教
- D. 基督教

解析：本题考查世界三大宗教的发源地。《西游记》故事中，唐僧师徒从“西天”（古印度）取回的经书是佛经，属于佛教。

答案：B

34. 香港与下列哪个城市毗邻（ ）

- A. 深圳
- B. 广州
- C. 澳门
- D. 台北

解析：此题考查香港的地理位置。香港位于珠江口东侧，北与广东省深圳相连，紧靠祖国大陆。

答案：A

35. 东南亚地区交通“十字路口”的咽喉，指的是（ ）

- A. 台湾海峡
- B. 马六甲海峡
- C. 白令海峡
- D. 直布罗陀海峡

解析：该题主要考查马六甲海峡的重要地理意义。东南亚地区交通“十字路口”的咽喉，指的是马六甲海峡。

答案：B

36. “温室效应”的成因主要是受（ ）

- A. 地形因素的影响
- B. 人类活动的影响
- C. 海陆因素的影响
- D. 洋流因素的影响

解析：考查人类活动对气候的影响。近 50 年来，人类在生产、生活过程中排放的二氧化碳等温室气体急剧增加，使全球气温升高，旱涝等灾害频繁。在人口密度大、工业集中的城市，往往中心城区的气温比郊区高，风速比郊区小，上升气流显著，雾和低云增多，这就是温室效应，可以说温室效应是人类不良活动的结果。

答案：B

37. 金砖国家中面积最小的是（ ）

- A. 俄罗斯
- B. 南非
- C. 巴西
- D. 印度

解析：考查部分国家的地理特征。金砖国家中面积最大的国家的是俄罗斯，最小的是南非，位于非洲最南端。

答案：B

38. 金砖国家分布在（ ）

- A. 两个大洲
- B. 三个大洲
- C. 四个大洲
- D. 五个大洲

解析：本题主要考查的知识点是金砖国家及金砖国家的分布地区。“金砖国家”主要分布在东半球。除南极洲外没有“金砖国家”分布外，大洋洲、北美洲也没有“金砖国家”分布。

答案：C

39. 横亘在塔里木盆地与准噶尔盆地之间的山脉是（ ）

- A. 天山
- B. 阴山
- C. 昆仑山
- D. 阿尔泰山

解析：山脉是地形的骨架，也是很多重要地形的分界，了解中国地形，最重要的是掌握山脉的分布。新疆主要的地形特征是：三山夹两盆，即：阿尔泰山脉、天山山脉、昆仑山脉中间夹着准噶尔盆地、塔里木盆地，其中的天山山脉横亘于新疆中部。

答案：A

40. 新疆地区地表径流的补给主要靠的是（ ）

- A. 地下水

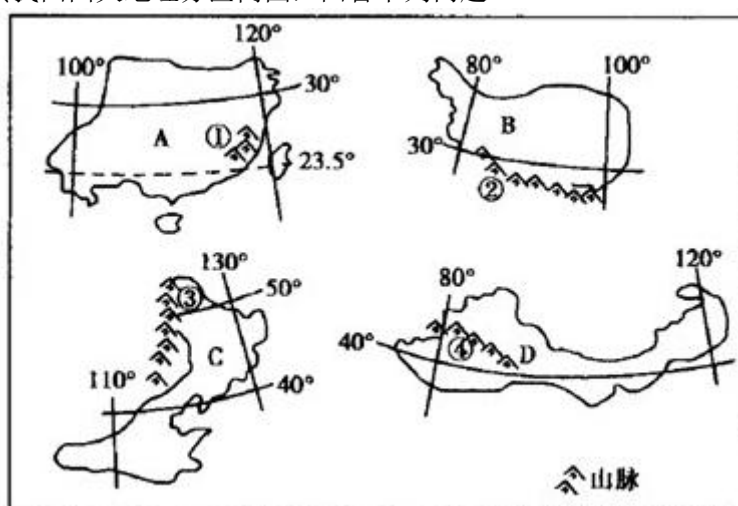
- B. 山地降水和地下水
- C. 山地降水和高山冰雪融水
- D. 高山冰雪融水和地下水

解析：本题考查新疆的水源。新疆位于我国的西北内陆地区，远离海洋，降水稀少，新疆地区地表径流的补给主要靠的是山地降水和高山冰雪融水。

答案：C

二、综合题：共 40 分。

41. (10 分) 读我国四大地理分区简图，回答下列问题。



(1) 根据图中信息判断：B _____ 地区，C _____ 地区。

解析：本题主要考查我国四大地理区域的概况。从我国四大地理分区简图看出，B 图基本位于 30°N 以北，80°E~100°E 之间，应是青藏地区；C 图地理事物有山东半岛、辽东半岛等，应属于北方地区。

答案：青藏 北方

(2) 图中数字代号所代表的山脉分别是：③ _____，④ _____。

解析：从我国四大地理分区简图看出，山脉③是 C 北方地区与 D 西北地区的分界山脉大兴安岭，位于 D 西北地区的山脉④应是天山山脉。

答案：大兴安岭 天山

(3) A、C 两区的地理分界线在地面上的标志是 _____，该界线是我国重要的地理分界线，请列举其地理意义：_____，_____。（至少列举两个）

解析：从我国四大地理分区简图看出，A 图有海南岛等地理事物，应属于南方地区，它与 C 北方地区的分界线是秦岭—淮河线，该线地理意义有 1 月 0℃ 等温线经过的地方；800 毫米年等降水量线经过的地方；暖温带与亚热带的分界线；半湿润地区与湿润地区的分界线等。

答案：秦岭—淮河 1 月 0℃ 等温线经过的地方 800 毫米年等降水量线经过的地方

(4) C 区域的土地利用类型以 _____ 为主；A 区域的主要能源是 _____。

解析：C 北方地区的土地利用类型以耕地为主，A 南方地区水资源丰富，其主要能源是水能。

答案：耕地 水能

(5) D 区域的天然植被自东向西依次是 _____，产生这种变化的主要影响因素是 _____。


解析：D 西北地区深居内陆。远离海洋，其降水自东向西逐渐减少，因此受降水影响天然植被自东向西依次是草原—荒漠草原—荒漠。

答案：草原—荒漠草原—荒漠 降水

42. (7分) 2020年东京奥运会举办在即, 让我们一起去感受一下日本的魅力吧!。读图A、图B、图C, 回答问题。



A 日本工业分布图



B



C

(1) 日本的首都是_____。著名的山峰_____山是日本的象征, 日本传统的民族服装_____。

解析: 本题考查了日本的地理知识点, 读图可知, 日本的首都是东京, 位于本州岛上; 富士山是日本的象征, 它是日本的最高峰; 和服是日本传统的民族服装。

答案: 东京 富士 和服

(2) 从经济发展水平看, 日本属于_____国家(发达国家或发展中国家)。日本工业区主要分布在_____沿岸和_____沿岸。近年来, 许多日本企业在中国投资建厂, 中国的优势主要是_____。(选下列中的两项, 只要填写字母)

- A. 资金和技术
- B. 管理经验
- C. 众多廉价的劳动力
- D. 丰富的自然资源

解析: 从经济发展水平看, 日本经济发展水平高, 属于发达国家; 日本矿产资源贫乏, 工业原料和燃料需要进口, 国内市场狭小, 工业产品需要出口, 日本工业区主要分布在太平洋沿岸和濑户内海沿岸。中国人口众多, 资源丰富; 近年来, 许多日本企业在中国投资建厂, 得益于中国众多廉价的劳动力和丰富的自然资源。

答案: 发达 太平洋 濑户内海 CD

43. (5分) 读图, 完成下列要求。



(1) 地球主要有_____大板块，其中 A 是_____板块，B 是_____板块。

解析：本题考查世界六大板块图。读图可得：A 是欧亚板块，B 是印度洋板块。地质学家经过长期的研究，提出了板块构造学说，认为全球由六大板块组成，一般来说板块内部比较稳定，板块与板块交界地带，地壳比较活跃，多火山、地震。

答案：六 欧亚 印度洋

(2) 喜马拉雅山脉是由_____和_____相撞挤压形成的。

解析：喜马拉雅山脉又由于欧亚板块和印度洋板块的挤压形成的。

答案：欧亚板块 印度洋板块

44. (6分) 阿里在网络上的“旅游天地”聊天室里与网友们互谈暑假旅游见闻。阿里说：我终于看到了“美丽的草原我的家，风吹草低遍地花，牛羊好似珍珠撒，蒙古包就像白莲花”的风景。小明说：我乘坐的火车行驶在世界上海拔最高的铁路上，跨越“世界屋脊”，尽情领略着“雪域高原”的神奇。贝贝说：我品尝到正宗甜美的哈密瓜，骑着骆驼欣赏“大漠孤烟直”的景观。奇奇说：我在“上有天堂，下有苏杭”的“苏杭”里游览着祖国的江南美景。丽丽说：我到山区去寻找革命的足迹，见识了革命老区翻天覆地的变化……

根据材料，回答下列问题：

(1) 阿里看到的美丽草原位于内蒙古高原。当地是我国_____族（少数民族）的聚居地。

解析：阿里看到的美丽草原位于内蒙古高原。当地是我国蒙古族的聚居地。

答案：蒙古

(2) 小明领略的“雪域高原”指的是_____高原，其是我国最大的高原，有“世界屋脊”之称。

解析：小明领略的“雪域高原”指的是青藏高原，该高原是我国最大的高原，有“世界屋脊”之称。

答案：青藏

(3) 贝贝的旅游地位于我国_____（填省级行政单位的名称），该地区是我国最大的省级行政区。

解析：贝贝的旅游地位于我国新疆维吾尔自治区，该地区是我国最大的省级行政区。

答案：新疆维吾尔自治区

(4) 奇奇游览了“苏杭”是位于_____、_____（填省级行政单位的名称）两个省，它们的行政中心分别是_____、_____。

解析：奇奇游览了“苏杭”是位于江苏省、浙江省，它们的行政中心分别是南京、杭州。

答案：江苏省 浙江省 南京 杭州

(5) 丽丽在山区中碰到了自然灾害常见的有_____（至少写两种），开发利用山区会碰到了不利条件是_____。

解析：丽丽在山区中碰到了自然灾害常见的有崩塌、滑坡、泥石流，开发利用山区会碰到不利条件是山区地面较为崎岖，交通不便，基础设施建设难度较大。

答案：崩塌、滑坡、泥石流 山区地面较为崎岖，交通不便，基础设施建设难度较大

45. (6分) 北京时间 2008 年 5 月 12 日 14 时 28 分，在四川汶川县 (31°N , $103^{\circ} 24' \text{E}$) 发生 8.0 级地震。人员伤亡惨重。全国各族人民齐心协力、众志成城、抗震救灾，三年后基本完成了灾后恢复重建。今年是汶川大地震十周年，请你读图，完成下列要求。



汶川地震受灾地区示意图

(1) 此次地震的震中，位于我国地势的_____阶梯与_____阶梯的交界处。

解析：该题考查了我国的省级行政区及地震带，读图可知，汶川地震地处我国地势的一二阶梯交界处。

答案：一 二

(2) 该地震波及范围广，图中示意受灾省区：①为四川省；②为_____；⑥为_____。

解析：图中受灾省区为：①为四川省；②为陕西省；③为甘肃省；④为云南省；⑤为湖北省；⑥为重庆市。

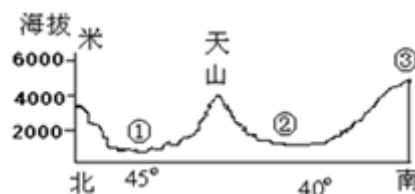
答案：陕西省 重庆市

(3) 为什么我国西部易发生地震？

解析：我国西部靠近亚欧板块和印度洋板块交界处，地壳运动活跃，易发地震。

答案：我国西部靠近亚欧板块和印度洋板块交界处，即靠近地壳运动活跃处，易发地震。

46. (6分) 读图，我国西部某省区沿东经 85° 附近的地形剖面图，完成下列要求。



(1) 图中①是_____盆地，塔里木河是我国最大的内流河，位于_____（填数字）。

解析：本题考查新疆的地形及城市。读图可得：图中①是准噶尔盆地，塔里木河是我国最大的内流河，位于塔里木盆地。

答案：准噶尔 ②

(2)③是_____山脉，是地势_____阶梯分界线，天山的走向是_____走向。

解析：③是昆仑山脉，是地势第一、二阶梯分界线，天山的走向是东西走向。

答案：昆仑 第一、二 东西

(3) 该省区的行政中心在天山以_____（南、北）。

解析：新疆维吾尔自治区的行政中心是乌鲁木齐，在天山以北。

答案：北