

## 2018年湖南省郴州市中考模拟试卷地理

一、选择题（本大题共 25 小题，每小题只有一个正确答案，每小题 2 分，共 50 分）  
2017 年 9 月 3 日至 5 日，金砖国家领导人在中国福建省厦门市举行第九次会晤。读“金砖国家分布图”，回答下列问题。



1. 下列关于金砖国家的叙述，错误的是（ ）
- A. 金砖国家分布在 4 个大洲
  - B. 巴西和南非隔大西洋相望
  - C. 金砖五国中面积最大的国家是俄罗斯
  - D. 中国和印度的合作属“南北对话”

解析：本题考查金砖五国的相关知识。中国、印度为发展中国家，中国是最大的发展中国家，中国和印度的合作属南南合作。

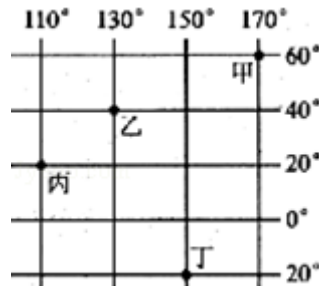
答案：D

2. 关于金砖国家的语言、人种及宗教的说法中，正确的是（ ）
- A. 金砖五国中没有使用阿拉伯语的国家
  - B. 巴西居民多使用西班牙语
  - C. 中国和俄罗斯居民均以黄色人种为主
  - D. 印度居民多信仰基督教

解析：金砖五国中没有使用阿拉伯语的国家，巴西居民多使用葡萄牙语，中国黄色人种为主，俄罗斯以白色人种为主，印度居民多信仰印度教。

答案：A

读“经纬网图”，回答下列问题。



3. 图中丙地的经纬度是（ ）
- A. 20° N、110° W
  - B. 20° N、110° E
  - C. 20° S、110° W
  - D. 20° S、110° E

解析：本题考查经纬网图中经纬度的判读。据图中经纬度的变化规律读图可得，丙的经纬度是  $20^{\circ} \text{N}$ ， $110^{\circ} \text{E}$ ，故 B 正确。

答案：B

4. 图中甲乙丙丁四地，位于西半球的是（ ）

- A. 甲地
- B. 乙地
- C. 丙地
- D. 丁地

解析：本题考查经纬网图的判读。读图可得，甲的经度是  $170^{\circ} \text{E}$ ，乙的经度是  $130^{\circ} \text{E}$ ，丙的经度是  $110^{\circ} \text{E}$ ，丁的经度是  $150^{\circ} \text{E}$ ，其中甲位于西半球，乙、丙和丁都位于东半球。

答案：A

5. 2017 年 11 月 10 日，“2017 中国（湖南）红色旅游文化节”在郴州市汝城县文明瑶族乡沙洲村隆重开幕。如图是汝城县当日的天气预报图，其天气状况是（ ）

汝城县



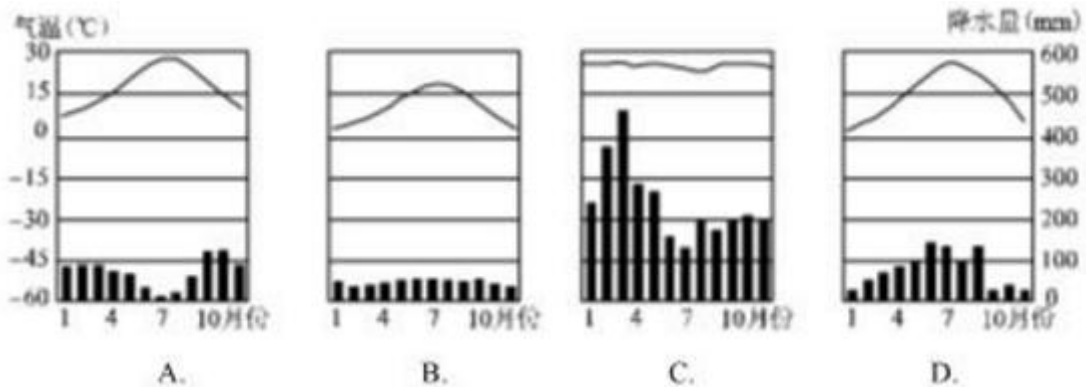
14—22 $^{\circ}\text{C}$

- A. 晴转小雨，最低气温  $14^{\circ}\text{C}$ ，最高气温  $22^{\circ}\text{C}$
- B. 小雨转晴，最低气温  $14^{\circ}\text{C}$ ，最高气温  $22^{\circ}\text{C}$
- C. 多云转小雨，最低气温  $14^{\circ}\text{C}$ ，最高气温  $22^{\circ}\text{C}$
- D. 小雨转多云，最低气温  $14^{\circ}\text{C}$ ，最高气温  $22^{\circ}\text{C}$

解析：本题主要考查常用的天气预报符号的解读。读图可知，汝城县当日的天气状况是多云转小雨，最低气温  $14^{\circ}\text{C}$ ，最高气温  $22^{\circ}\text{C}$ 。

答案：C

6. 欧洲西部畜牧业发达，与下列哪种气候类型相关（ ）



- A. A
- B. B
- C. C
- D. D

解析：世界不同的气候类型有不同的气候特征，不同的气候特征适合不同农业的发展，学习时要掌握气候和农业生产的关系。欧洲西部大西洋沿岸属于温带海洋性气候，冬季比较温和，夏季比较凉爽，全年降水均匀，基本没有旱涝灾害，适合牧草的生长，畜牧业发达。四个选项中 B 代表温带海洋性气候，符合题意。

答案：B

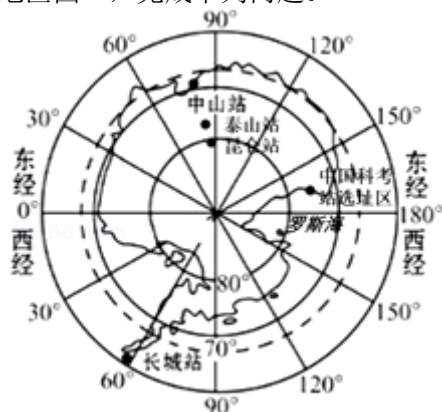
7. 西亚被称为“世界石油宝库”。西亚的石油资源集中分布在（ ）

- A. 波斯湾及其沿岸地区
- B. 红海及其沿岸地区
- C. 地中海及其沿岸地区
- D. 黑海及其沿岸地区

解析：本题考查西亚石油的分布。西亚的石油资源集中分布在波斯湾及其沿岸地区。

答案：A

罗斯海是南太平洋深入南极洲的大海湾，是地球上船舶所能到达的最南部海域之一。2018年2月7日，中国第五个南极科考站——罗斯海新站在南极恩克斯堡岛正式选址奠基，预计2022年建成。读“南极地区图”，完成下列问题。



8. 拟建的罗斯海新站位于昆仑站的（ ）方向

- A. 西南
- B. 东南
- C. 西北
- D. 东北

解析：本题考查经纬网图上方向的判读。在经纬网地图上，用经纬网定方向，纬线指示东西方向，经线指示南北方向。读图分析可知，此图是以南极点为中心的经纬网图，可判定，罗斯海新站位于昆仑站的东北方向。

答案：D


9. 在南极建科考站将会遇到的困难是（ ）

- ①酷寒
  - ②烈风
  - ③沙尘暴
  - ④暴雨
- A. ①②
  - B. ③④
  - C. ①③
  - D. ②④

解析：本题考查南极地区的气候特点。南极地区的气候特点是酷寒、多狂风，降水稀少，故A正确。

答案：A

10. 法国是世界上著名的旅游大国，以下风景名胜属于法国的是（ ）



解析：本题考查法国的旅游建筑。法国的旅游业非常发达，该国是世界上接待外国游客人数最多的国家，埃菲尔铁塔、凯旋门、罗浮宫是法国首都巴黎的象。读图分析可知，图 A 所示的是印度的泰姬陵，图 B 所示的是埃及的金字塔，图 C 所示的是澳大利亚的悉尼歌剧院，图 D 所示的是法国的埃菲尔铁塔。

答案：D

2018 年 3 月 19 日，普京在俄罗斯大选中获胜，以超 76% 的得票率连任俄罗斯总统。读俄罗斯示意图，完成下列问题。



11. 如图所示，关于俄罗斯的叙述，正确的是（ ）

- A. ①是乌拉尔山，以东是东欧平原，以西是西西伯利亚平原
- B. ②是贝加尔湖，是世界上面积最大的淡水湖
- C. ③是重要的不冻港——摩尔曼斯克，“不冻”的原因是北大西洋暖流流经
- D. ④是西西伯利亚平原，是俄罗斯重要的农业区

解析：本题考查俄罗斯的相关知识点。①是乌拉尔山，以西是东欧平原，以东是西西伯利亚平原，A 错误；②是贝加尔湖，是世界上最深的湖泊，面积最大的淡水湖是苏必利尔湖，B 错误；③是重要的不冻港——摩尔曼斯克，“不冻”的原因是北大西洋暖流流经，C 正确；④是西西伯利亚平原，东欧平原和南部顿河流域是俄罗斯重要的农业区，D 错误。

答案：C


12. 俄罗斯有“天然气王国”之誉。我国从俄罗斯进口天然气，主要的运输方式是（ ）

- A. 铁路运输
- B. 管道运输
- C. 水路运输
- D. 航空运输

解析：考查交通运输方式的选择。货运要根据货物的性质、数量、运输距离、价格、时效等情况，选择运输方式。一般来说，液体（石油等）、气体（天然气等）多选择管道运输。俄罗斯有“天然气王国”之誉。我国从俄罗斯进口天然气，主要的运输方式是管道。

答案：B

读“2015~2017 年我国人口统计图”，完成下列问题。



13. 2015 年至 2017 年期间，我国人口自然增长率的变化说明（ ）

- A. 人口先增加，后减少
- B. 人口先减少，后增加
- C. 人口增长速度先变快，后变慢
- D. 人口增长速度先变慢，后变快

解析：考查我国的人口问题。2015 年至 2017 年期间，我国人口自然增长率呈现低高低的变化。可见人口增长速度先变快，后变慢。

答案：C

14. 有关我国人口增长问题的叙述，正确的是（ ）

- A. 人口基数庞大，出现负增长最好
- B. 人口增长越慢越好，最好停止增长
- C. 地大物博，人口增长再快也无妨
- D. 人口增长要同经济和社会发展相适应

解析：考查我国的人口问题。自 20 世纪 70 年代初期大力推行计划生育政策以来，中国人口过快增长的势头得到了有效遏制。由于中国人口基数大，青少年的比重较高，在今后一段较长的时期内，人口总量还将持续增长，在经历高峰期后，人口总数才会呈缓慢下降的趋势。但人口素质不高的状况在短期内还难以根本改变，人口问题依然十分突出。人口不能无节制地增长。人口的增长应与资源、环境相协调，与社会经济发展相适应。我国大力推行计划生育政策，在很大程度上减轻了人口对资源和环境的压力。

答案：D

中国人民银行决定自 2018 年 5 月 1 日起停止使用第四套人民币部分券别。如图为第四套人民币的 1 元和 5 元纸币。据此，回答下列问题。



15. 1 元人民币上的景观描绘的是（ ）

- A. 湖南的衡山
- B. 山东的泰山
- C. 北京的长城
- D. 西藏的布达拉宫

解析：此题考查了我国的主要旅游景点。1元人民币上的景观描绘的是长城，又称“万里长城”，是中国古代在不同时期为抵御塞北游牧部落联盟侵袭而修筑的规模浩大的军事工程的统称。

答案：C

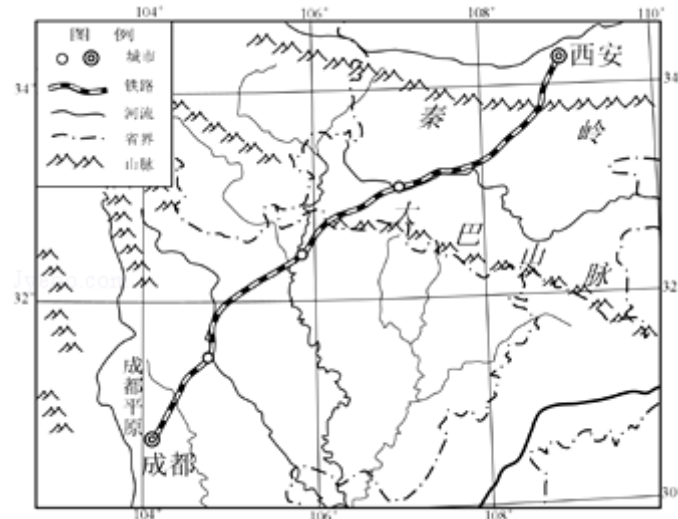
16. 5元人民币上的人物肖像刻画的是藏族同胞和回族同胞，这两个民族最主要的聚居区分别是在哪两个省区（ ）

- A. 青、新
- B. 藏、宁
- C. 滇、桂
- D. 蒙、甘

解析：本题主要考查我国民族的分布特点。我国有55个少数民族，主要分布在西南、西北和东北地区，其中藏族主要聚居区为西藏自治区，简称藏，回族主要聚居区为宁夏回族自治区，简称宁。故选项B符合题意。

答案：B

17. 2017年12月6日，西成高铁正式开通运营。西成高铁穿越了我国地质环境极其复杂的环境，修建难度大。读“西成高铁路线图”，西成高铁修建难度大的原因是（ ）



- A. 穿越我国地势的三级阶梯
- B. 跨越南北走向的山脉河流
- C. 经过大面积的冻土分布区
- D. 穿越地势起伏大的秦岭等山区

解析：考查我国部分山脉和铁路线的分布位置。西成铁路的起止点是西安到成都，沿途主要经过起伏高大的秦岭，这也是该铁路修建难度最大的地方。

答案：D

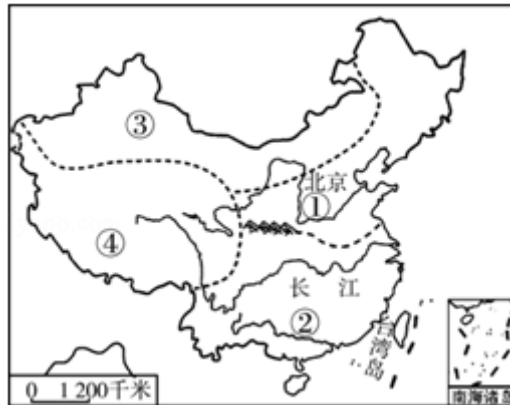
18. 下列属于可再生资源的是（ ）

- A. 森林
- B. 金矿
- C. 天然气
- D. 石油

解析：可再生资源是指被人类开发利用后，可以在较短时间内更新、再生，或者能够重复利用、循环使用的自然资源，如气候资源、生物资源（森林）、水资源和土地资源（耕地）等。

答案：A

读我国“四大地理分区示意图”，回答下列问题。



19. 有关图中①②区域分界线地理意义的叙述，不正确的（ ）

- A. 暖温带与亚热带的分界线
- B. 内外流域的分界线
- C. 1月0℃等温线
- D. 湿润区与半湿润区的分界线

解析：地理区域体现了区域内部的地理相似性，地理界线反映出区域之间的地理差异性。秦岭、淮河一线是我国四大区域中，②南方地区与①北方地区的分界线；一月份0℃等温线通过的地方；800mm等降水线通过的地方；温度带中，暖温带与亚热带分界线；干湿地区中，湿润区与半湿润区分界线；不是内流区、外流区的分界线。

答案：B

20. 关于④区域的描述正确的是（ ）

- A. 稻田遍野甘蔗田
- B. 长绒棉白瓜果甜
- C. 青稞糌粑酥油香
- D. 旱地麦浪苹果香

解析：本题考查我国四大地理区域的概况。读图可得，①是北方地区，②是南方地区，③是西北地区，④是青藏地区。稻田遍野甘蔗田描述的是南方地区，长绒棉白瓜果甜描述的是西北地区，青稞糌粑酥油香描述的是青藏地区，旱地麦浪苹果香描述的是北方地区。

答案：C

21. 2018年全国两会期间，北京市遭严重雾霾侵袭。雾霾天气发生时，下列防护措施不正确的是（ ）

- A. 外出时戴防雾霾专用口罩
- B. 尽量减少户外活动
- C. 尽量少开窗户
- D. 外出时打遮阳伞

解析：考查雾霾天气的预防措施。雾霾天气是大气污染的表现，各类排污企业的达标排放是造成雾霾天气的主要原因，雾霾会造成人们呼吸困难，诱发多种疾病，雾霾天气时，要注意关闭门窗，尽量不要外出，外出要养成出门戴口罩的习惯。而外出时打遮阳伞是为了避免阳光直接照射。

答案：D

22. 2018年央视一套的原创综艺《经典咏流传》将传统经典诗词与新时代流行元素相结合，让经典流行起来。其中，凤凰传奇把李白《将进酒》诗句“黄河之水天上来，奔流到海不复回……”唱得荡气回肠。歌词中的“天上”、“海”分别指的是（ ）

- A. 喜马拉雅山、南海
- B. 唐古拉山、东海

- C. 巴颜喀拉山、渤海
- D. 昆仑山、黄海

解析：本题考查黄河的发源地及注入的海洋。“黄河之水天上来”的“天上”是指黄河的发源地巴颜喀拉山，“奔流到海不复回”的“海”是指黄河最终注入的海洋渤海。

答案：C

23. 读长江沿江地带示意图，与上海相比攀枝花发展钢铁工业的突出优势是（ ）



- A. 资金、技术
- B. 劳动力、信息
- C. 原料、能源
- D. 交通、市场

解析：本题考查我国钢铁工业的分布。上海钢铁工业基地的布局主要是因为这里有便利的交通运输条件、广大的消费市场、资金、技术、信息等，与上海相比攀枝花发展钢铁工业的突出优势是靠近铁矿和煤矿，原料、能源丰富。

答案：C

24. 2017年12月17日，国产大型客机C919-10102架机在其公司总部上海首次飞上蓝天，这是继C919-10101架机于2017年5月5日首飞之后，实现首飞的第二架C919飞机。读“我国四大工业基地图”，我国国产大型客机C919公司总部位于（ ）



- A. 甲工业基地
- B. 乙工业基地
- C. 丙工业基地
- D. 丁工业基地

解析：考查我国四大工业基地的分布情况。从位置和轮廓上判断甲乙丙丁分别是沪宁杭工业基地、京津唐工业基地、辽中南工业基地、珠江三角洲工业基地，其中我国国产大型客机C919公司总部位于沪宁杭工业基地。

答案：A

25. 2018年是中国改革开放40周年。改革开放以来，珠江三角洲依靠独特的地理优势，外向型经济得到迅猛发展。在与港澳地区的经济合作发展中，珠江三角洲地区的优势是（ ）

- A. 国际金融、航运中心
- B. 科学的管理水平
- C. 先进的技术、充足的资金
- D. 价格相对低廉的土地资源

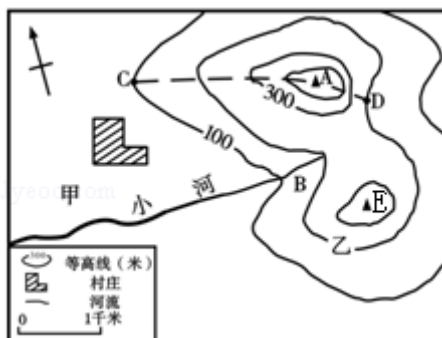


解析：本题考查珠江三角洲与港澳地区的经济。港澳地区为珠江三角洲提供丰富的资金、技术和管理经验，控制产品的质量，进行市场推广和对外营销，扮演“店”的角色，珠江三角洲提供价格相对低廉的土地资源和劳动力，扮演了“厂”的角色。

答案：D

二、综合题（本大题共5小题，每小题10分，共50分，其中《湖南地方文化常识》占10分）

26.（10分）如图为东南沿海某地等高线地形图（单位：米），读图回答下列问题。



(1) 甲村所在虚线区域内的地形类型是\_\_\_\_\_。虚线 AC 表示的地形部位是\_\_\_\_\_。

解析：读图可知，甲村处海拔低于 100 米，且地形平坦开阔，为平原；虚线 AC 处等高线向海拔低处凸，为山脊。

答案：平原 山脊

(2) C 点与 D 点的相对高度为\_\_\_\_\_米。若测得 D、E 两地的图上距离为 1.5 厘米，则两地实际距离是\_\_\_\_\_千米。

解析：C 点海拔高度为 100 米，D 点海拔高度为 200 米，两点的相对高度为 200 米 - 100 米 = 100 米；若测得 D、E 两地的图上距离为 1.5 厘米，则两地实际距离是 1.5 × 1 千米 = 1.5 千米。

答案：100 1.5

(3) 该地夏季高温多雨，冬季温和少雨，推测该地的自然带为\_\_\_\_\_。

解析：该地夏季高温多雨，冬季温和少雨，为温带季风气候；该地的自然带为亚热带常绿阔叶林带。

答案：亚热带常绿阔叶林带

(4) CA 和 DA 两条线路相比更陡的是\_\_\_\_\_，理由是\_\_\_\_\_。

解析：CA 和 DA 两条线路相比，DA 处等高线比 CA 处等高线密集，因此 DA 处坡度更陡。

答案：DA DA 处等高线比 CA 处等高线密集

(5) E、B 两地降水量多的是\_\_\_\_\_，原因是\_\_\_\_\_。

解析：E、B 两地中，E 地位于山地的迎风坡（夏季刮东南风），降水多。

答案：E E 地位于迎风坡，降水多

(6) 图中小河的流向大致是\_\_\_\_\_。

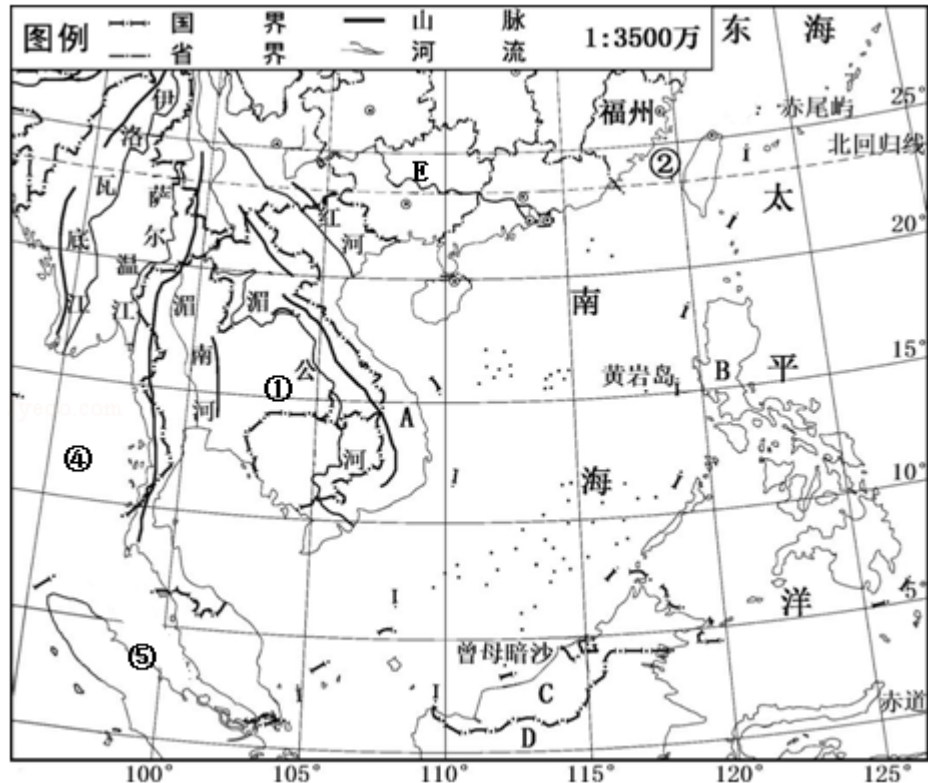
解析：根据图中的指向标判断，图中小河的流向大致为自东向西流。

答案：自东向西

27.（10分）阅读图文材料，回答下列问题。

材料一：2017 年 11 月 10 日至 14 日，国家主席习近平出席在越南岘港举行的亚太经合组织（APEC）第二十五次领导人非正式会议，并对越南和老挝进行国事访问。习近平主席此

次东南亚之行秉持互信、包容、合作、共赢的伙伴关系精神和亲诚惠容的周边外交理念，提出“中国方案”，阐释“中国机遇”，为亚太大家庭发展繁荣注入强大的“中国动力”。  
材料二：亚洲局部地区图。



(1) 填出亚洲局部地区图中数码所代表的地理事物名称：

海峡②：\_\_\_\_\_，海洋④：\_\_\_\_\_。

解析：读图可得，②是台湾海峡，④是印度洋。

答案：台湾海峡 印度洋

(2) 东南亚由\_\_\_\_\_群岛和①半岛组成，该半岛因地处 E \_\_\_\_\_（国家）之南而得名。

解析：东南亚由马来群岛和①中南半岛组成，该半岛因地处 E 中国之南而得名。

答案：马来 中国

(3) 此次 APEC 峰会召开的地点是 A、B、C 三国中的\_\_\_\_\_。

解析：此次 APEC 峰会召开的地点在越南，图中 A 是越南，B 是菲律宾，C 是马来西亚。

答案：A

(4) 字母 D 是\_\_\_\_\_（国家），该国多火山地震，主要是因为

\_\_\_\_\_。

解析：字母 D 是印度尼西亚，该国多火山地震，主要是因为处在太平洋板块、印度洋板块和亚欧板块的交界地带，地壳比较活跃。

答案：印度尼西亚；处在太平洋板块、印度洋板块和亚欧板块的交界地带，地壳比较活跃

(5) 日本人视⑤海峡为“海上生命线”，这是为什么？

解析：日本人视⑤马六甲海峡为“海上生命线”，其原因是马六甲海峡是沟通太平洋和印度洋的咽喉要道，是日本与亚、非、欧沿岸国家往来的重要海上通道，日本进口的石油、煤炭、铁矿等能源和矿产，大都要经过这里。

答案：马六甲海峡是沟通太平洋和印度洋的咽喉要道，是日本与亚、非、欧沿岸国家往来的重要海上通道，日本进口的石油、煤炭、铁矿等能源和矿产，大都要经过这里。

28. (10分) 阅读图文材料, 回答下列问题。

材料一: 2017年11月8日, 美国总统特朗普抵达北京, 开始对中国进行为期3天的国事访问。这是特朗普上任以来对中国进行的首次国事访问, 也是中共十九大胜利召开后访华的首位外国元首, 中美两国对此都高度重视。11月9日上午9时许, 国家主席习近平在人民大会堂东门外广场举行仪式欢迎美国总统特朗普访华, 随后与特朗普举行会谈。

材料二: 美国国土示意图。

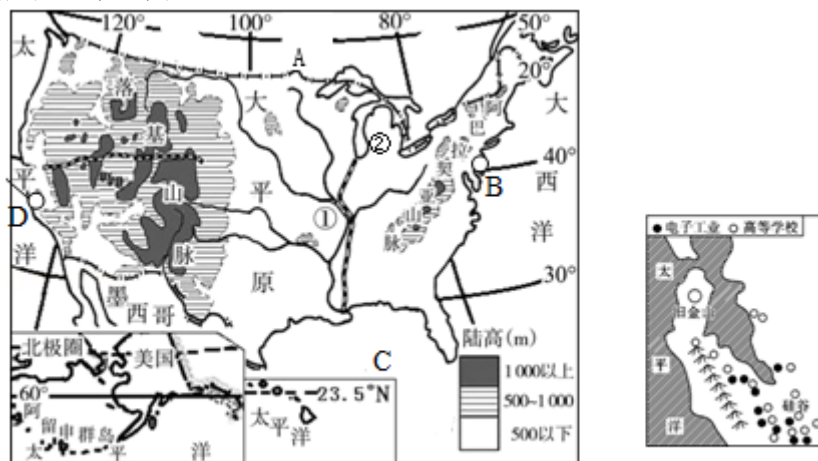


图1

图2

(1) 美国北部的邻国 A 是\_\_\_\_\_。美国领土由本土 48 个州、1 个特区和 2 个海外州组成, 其中两个海外州分别是位于北美洲西北角的\_\_\_\_\_州和位于太平洋北回归线附近的夏威夷州。美国最大的城市、联合国总部所在地是 B \_\_\_\_\_。

解析: 读图分析可知: 美国北部的邻国 A 是加拿大。美国领土由本土 48 个州、1 个特区和 2 个海外州组成, 其中两个海外州分别是位于北美洲西北角的阿拉斯加州和位于太平洋北回归线附近的夏威夷州。美国最大的城市、联合国总部所在地是 B 纽约。

答案: 加拿大 阿拉斯加 纽约

(2) 美国西部的主要山脉是落基山脉, 它是\_\_\_\_\_山系的一部分。贯穿美国中部的①\_\_\_\_\_河是北美洲最大的河流, 它向南注入 C \_\_\_\_\_湾。

解析: 美国西部的主要山脉是落基山脉, 它是科迪勒拉山系的一部分。贯穿美国中部的①密西西比河是北美洲最大的河流, 它向南注入 C 墨西哥湾。

答案: 科迪勒拉 密西西比 墨西哥

(3) 美国农业以专门化为特色, 五大湖附近②是\_\_\_\_\_ (农业带)。

解析: 美国农业以专门化为特色, 五大湖附近②是乳畜带。

答案: 乳畜带

(4) 一艘客轮要走最近的路线从 B 城驶往 D 城, 它的航线应该为: B 城→大西洋→\_\_\_\_\_运河→太平洋→D 城。

解析: 一艘客轮要走最近的路线从 B 城驶往 D 城, 它的航线应该为: B 纽约城→大西洋→巴拿马运河→太平洋→D 洛杉矶城。

答案: 巴拿马

(5) 位于旧金山东南的硅谷, 是美国高新技术产业中心, 请简述硅谷成为美国高新技术产业中心的有利条件。(至少写出两点)

解析: 位于旧金山东南的硅谷, 是美国高新技术产业中心, 硅谷成为美国高新技术产业中心的有利条件: ①高等院校多, 科技力量雄厚; ②地理位置优越, 交通便捷。

答案: ①高等院校多, 科技力量雄厚; ②地理位置优越, 交通便捷。

29. (10分) 读图 1 西北地区略图, 回答下列问题。

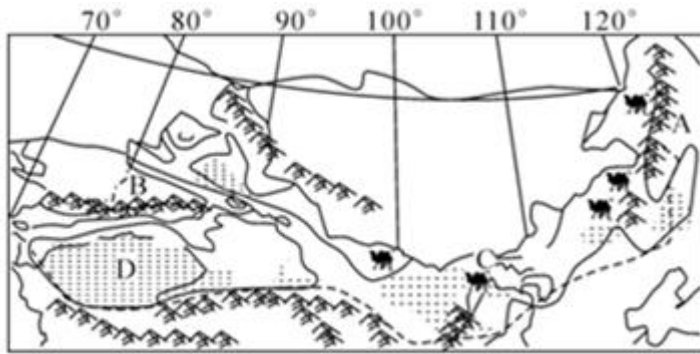


图1

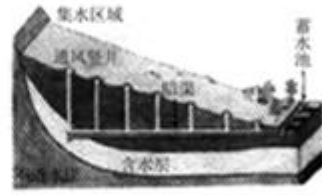


图2

(1) 山脉 A 是\_\_\_\_\_，B 是\_\_\_\_\_山脉。C 地有被誉为“塞外江南”的\_\_\_\_\_灌溉农业区。

解析：图中 A 是大兴安岭，B 是天山山脉。C 是被誉为“塞外江南”的河套平原，它是西北地区重要的灌溉农业区。

答案：大兴安岭 天山 河套平原

(2) 新疆石油和天然气资源丰富，集中分布在 D 盆地，该盆地内有我国最大的沙漠\_\_\_\_\_沙漠。来自这里以及中亚的天然气输送到我国的东部，这项工程是“\_\_\_\_\_”工程。新疆还有著名的地下水灌溉工程（如图 2），它的名称是\_\_\_\_\_。

解析：图中 D 塔里木盆地位于新疆南部，是中国最大的内陆盆地。盆地内的塔克拉玛干沙漠，是中国最大的沙漠。盆地中发现有储量较大的内陆油气田。西气东输工程将铺设两条直径 1.5 米的主干输气管道，将来自中亚和新疆塔里木盆地的石油和天然气，往东直通南京、上海，成为横贯中国的能源大动脉。图中坎儿井的新疆人民开发利用地下水的一种很古老式的水平集水建筑物，适用于山麓、冲积扇缘地带，主要是用于截取地下潜水来进行农田灌溉和居民用水，其水源主要来自高山冰雪融水。

答案：塔克拉玛干 西气东输 坎儿井

(3) 西北地区农业以\_\_\_\_\_业为主。但该区生态环境脆弱，过度放牧等人类不合理活动，容易导致\_\_\_\_\_等环境问题。

解析：西北地区是我国主要的牧区，所出产的肉、奶、皮、毛等畜产品在国内占据突出地位。内蒙古大草原、河西走廊、天山牧场是重要的畜牧基地。但是由于长期以来靠天养畜，超载放牧或弃牧毁草开荒，再加上管理不善，造成 1/3 的草地不同程度的退化，土地荒漠化严重。因此，在牧区要划区轮牧，做好防灾工作，提高草地的生产力。

答案：畜牧 草场退化、土地荒漠化

(4) 图中从 A 到 C 再到 D，自然景观大致呈现出由草原向荒漠草原、荒漠的变化，这是为什么？\_\_\_\_\_。

解析：我国的西北地区，由于深居内陆，远离海洋，气温冷热变化剧烈，年降水量表现出由东向西逐渐减少的态势。新疆的东部和南部降水甚少，总的来说，干旱是本区自然环境的主要特征。受降水的影响，从东到西（或从 A 到 C 再到 D），西北地区自然景观大致上呈现出由草原向荒漠草原、荒漠的变化。

答案：距离海洋越来越远，降水量由东向西逐渐减少。

30. (10 分) 读湖南省示意图，回答下列问题。



(1) 洞庭湖是我国第\_\_\_\_\_大淡水湖，湖南省因地处该湖以南而得名。湖南又被称为“三湘四水”，“四水”中水力资源最丰富的是\_\_\_\_\_。

解析：洞庭湖是我国第二大淡水湖，湖南省因地处该洞庭湖以南而得名。湖南又被称为“三湘四水”，“四水”中水力资源最丰富的是沅江。

答案：二 沅江

(2) 湖南省主要的油料作物是\_\_\_\_\_。作物熟制是\_\_\_\_\_。

解析：湖南省属于亚热带季风气候，位于亚热带，主要的油料作物是油菜。作物熟制是一年两熟。

答案：油菜 一年两熟

(3) 位于湖南省南部边境，呈东西走向的山脉是\_\_\_\_\_。

解析：位于湖南省南部边境，呈东西走向的山脉是南岭。

答案：南岭

(4) 连接焦柳线和京广线，并且经过常德市的铁路线是\_\_\_\_\_。

解析：连接焦柳线和京广线，并且经过常德市的铁路线是石长铁路。

答案：石长铁路

(5) 被称为“世界有色金属博物馆”的是\_\_\_\_\_市。

解析：被称为“世界有色金属博物馆”的是郴州市。

答案：郴州

(6) 郴州是国家森林城市、首批国家水生态文明城市。家住北京的玲玲想亲身感受郴州的秀美山水，你会向她推荐：\_\_\_\_\_（请将答案的序号填在横线上）

①洞庭湖 ②东江湖 ③武陵源 ④莽山

解析：郴州是国家森林城市、首批国家水生态文明城市。家住北京的玲玲想亲身感受郴州的秀美山水，主要的旅游景观有东江湖和莽山等；

答案：②④

(7) 2018年湖南省政府工作报告指出，要促进大湘南开放发展，抢抓加工贸易向中部梯度转移机遇，加快承接产业转移示范区建设。试分析郴州市承接产业转移的有利条件。（至少写出两点）

解析：郴州市承接产业转移的有利条件有：郴州地理位置优越，毗邻粤港澳，是东部沿海地区和中西部地区过渡带的前沿；交通便利；劳动力充足；资源富集，生态优美；政府政策支持等。

答案：郴州地理位置优越，毗邻粤港澳，是东部沿海地区和中西部地区过渡带的前沿；交通便利；劳动力充足；资源富集，生态优美；政府政策支持等。