

## 2015 年安徽省淮北市中考真题地理

一、选择题：本大题共 20 小题，每小题 2 分，共 40 分。在每小题给出的四个选项中，只有一项是符合题目要求的。

2014 年 4 月以来，淮北市建设城市公共自行车服务系统，推进节能减排和绿色出行，获得市民点赞。据此完成 1 - 2 题。

1. 有关设置公共自行车服务系统的叙述，不正确的是（ ）

- A. 方便市民出行
- B. 倡导绿色交通
- C. 减小交通压力
- D. 增加财政收入

解析：淮北市设置公共自行车能够方便市民出行，倡导绿色交通，保护环境，也能够减小交通压力，与增加财政收入无关。

答案：D

2. 鼓励市民选用步行、骑自行车、乘坐公交车等绿色交通方式出行，这有利于（ ）


- ①减轻大气污染
- ②减少能源消耗
- ③传递绿色环保理念
- ④减少交通事故

- A. ①
- B. ①②
- C. ①②③
- D. ①②③④

解析：“绿色出行，从我做起”应该成为每个人的消费理念。鼓励市民选用步行、骑自行车、乘坐公交车等绿色交通方式出行，这有利于减轻大气污染、减少能源消耗、也有利于传递“绿色出行，从我做起”的理念。

答案：C

据中国地震台网测定：尼泊尔当地时间 4 月 25 日 9 时 51 分在发生 8.1 级地震，震源深度 20 千米，震中为尼泊尔著名旅游城市博卡拉。据此完成 3 - 4 题。



3. 小明在地球仪上找到了地震发生地点的经纬度位置大致是北纬 28.2 度，东经 84.7 度，并作出了以下判断，其中正确的是（ ）

- A. 发生地点位于南半球
- B. 处于板块交界地带

- C. 发生地点位于西半球
- D. 地震可能是由于地公转引起的

解析：本题主要考查六大板块及其示意图。一般来说，板块的内部比较稳定，板块与板块交界的地带，有的张裂拉伸，有的碰撞挤压，地壳比较活跃。由尼泊尔所处的位置及板块运动的方向判定，尼泊尔地震是由于亚欧板块与印度洋板块碰撞挤压形成的。

答案：B

4. 假如同学们正在二楼的教室上课，当地震发生时，下列应急措施正确的是（ ）
- A. 靠近窗户的同学迅速从窗户跳下，逃离教学楼
  - B. 争先恐后地跑下教学楼
  - C. 如果条件允许，应及时、有序撤离到安全空旷地带
  - D. 大哭大叫，以排遣心中的恐惧

解析：本题主要考查主要地震带的分布。日常生活中，我们要学习一些在火灾、地震、水灾中逃生的科学知识，在一些突发事件中，要充分利用科学知识，进行逃生。当地震来临时，要保持清醒、冷静的头脑，及时将身边的书包或柔软的物品顶在头上；有时间时快速离开教室，跑到空旷地方去；来不及外逃时，双手抱头躲避在卫生间墙角或坚实的家具下，亦可转移到承重墙较多、面积较小的房间内。假如地震时迅速于高处跳楼逃生或乘电梯快速下楼都是不正确的，那样有生命危险。如不幸被埋压在废墟下，应该保持体力，不要大声呼喊，最好用敲击的方式求救。

答案：C

2014年6月中国政府申报的“中国大运河”项目和中国、哈萨克斯坦、吉尔吉斯斯坦三国政府联合申报的“丝绸之路：长安-天山廊道的路网”项目通过世界遗产委员会审议，双双列入《世界遗产名录》。丝绸之路：起始段和天山廊道的路网。暑假期间，小雨在我国某地旅游，拍摄到如下美丽的自然风光。完成5-6题。



喀拉库河月亮湾      天山天池      魔鬼域

5. 小雨旅游的地区在（ ）
- A. 西藏
  - B. 新疆
  - C. 北京
  - D. 台湾

解析：新疆维吾尔自治区位于中国西北边陲，土地面积约166万平方千米<sup>2</sup>，约占中国陆地总面积的1/6，是中国陆地面积最大的省级行政区域单位。新疆边境线漫长，与俄罗斯、哈萨克斯坦等8个国家接壤。新疆战略位置十分重要，是古代丝绸之路的必经之地。喀拉库河月亮湾、天山天池和魔鬼域是新疆著名的旅游景点。

答案：B

6. 对该地区人文地理方面的描述与实际不符的是（ ）
- A. 有著名的水利设施“坎儿井”

- B. 绿洲灌溉农业较发达
- C. 居民点集中分布于山麓地带
- D. “那达慕大会”盛况空前

解析：题干中描述的是西北地区新疆维吾尔自治区的景观特征，该地区深居内陆，远离海洋，降水稀少，干旱是西北地区自然环境的主要特征。新疆深居亚欧大陆内陆，离海较远，降水稀少，河流多为内流河。农业生产必须依靠灌溉，塔里木盆地和准噶尔盆地边缘有灌溉水源的地带，分布着众多的绿洲，绿洲是新疆的主要农业区，那达慕大会是内蒙古自治区蒙古族的节日，选项D叙述错误，符合题意。

答案：D

《新西游记》里的孙悟空重返“西天”圣地，惊奇地发现：“西天”改称为南亚，“天竺”改称为印度；“印度河”干流却没有流经印度；佛教发源地绝大多数人不信佛教；络绎不绝的人群在参观一个用白色大理石砌成的古建筑，听说这是古代一个皇妃的陵墓……据此完成7-8题。

7. 印度河干流流经的国家是（ ）
- A. 朝鲜
  - B. 巴基斯坦
  - C. 埃及
  - D. 印度

解析：本题主要考查世界上的国家和地区概况。印度河主要位于巴基斯坦境内，注入阿拉伯海，答案项B符合题意。

答案：B

8. “白色大理石砌成的古建筑”是如图中的（ ）



解析：本题主要考查世界上的国家和地区概况。泰姬陵是印度的著名旅游胜地，泰姬陵是一座为爱而生的建筑，它是全部用白色大理石建成的宫殿式陵园，泰姬陵最引人瞩目的就是用纯白大理石砌建而成的高62米的穹顶形主体建筑。四角高40米的白色大理石塔楼之间耸立了镶满35种不同类型宝石的墓碑，与主体陵园遥相呼应，令人叹为观止。

答案：C

生活中，我们接触到的事物很多都蕴含着丰富的地理知识。据图，回答9-10题。



9. 50元人民币上的景观，其建筑所在地区的主要少数民族为（ ）
- A. 壮族

- B. 蒙古族
- C. 傣族
- D. 藏族

解析：本题主要考查中国的 56 个民族。读图可得，50 元人民币上的景观，其建筑是西藏自治区的布达拉宫，该省区主要的民族是藏族。

答案：D

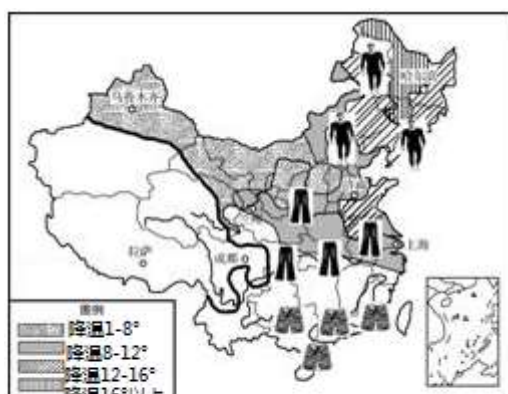
10. 图中汽车牌照的属地为（ ）

- A. 四川
- B. 重庆
- C. 广西
- D. 云南

解析：本题主要考查中国各省级行政区的简称和行政中心。据图可知，50 元人民币上景观是布达拉宫，此景点在我国的西藏自治区，该自治区的主要少数民族是藏族；图中的渝是我国重庆市的简称。

答案：B

2013 年 10 月 11 日~15 日，一股强冷空气横扫我国大部地区，北方不少城市最低气温跌破 0℃。网友戏言：秋裤一步一步占领中华大地！读“冷空气过境实况图”完成 11~12 题。



冷空气过境实况图

11. 造成图中穿衣分布差异的主要原因是（ ）

- A. 纬度差异
- B. 地势高低
- C. 海陆位置
- D. 风俗习惯

解析：本题主要考查季风气候的特点及季风区与非季风区的划分。气候复杂多样，是我国气候的主要特征之一。我国地域辽阔，地跨众多的温度带和干湿地区，加上我国地形复杂，地势高低悬殊，更增加了我国气候的复杂多样性我国位于北半球，南北跨将近 50 个纬度。在冬季，太阳直射在南半球，对北半球来说，纬度越高，正午太阳高度角越低。我国北方地区正午太阳高度角比南方低，白昼短，得到太阳的光热少。另外，我国北方地区邻近冬季风的源地，寒冷的冬季风加剧了我国北方的严寒。而冬季风在翻越重重山岭到达南方地区时，风力大大减弱。所以，我国冬季南北气温差异大，南方温暖，而越往北气温就越低。夏季南北普遍高温。

答案：A

12. 此时，济南的降温幅度达到（ ）

- A. 4 - 8℃
- B. 8 - 12℃
- C. 12 - 16℃
- D. 16℃以上

解析：本题主要考查天气与气候的区别。天气是指某个地方距离地表较近的大气层在短时段内的具体状态。天气现象的突出特点是多变。气候是指一个地方多年的天气平均状况，它具有相对的稳定性。根据图中济南的位置与图例提供的信息可知，此时，济南的降温幅度达到8 - 12℃。

答案：B

淮北市努力打造国家级食品产业基地，食品产业已成为淮北市地标准性的名词。2014 年度凤凰山食品工业园区工业总产值突破 190 亿元，同比增长 24.3%，完成 13 - 14 题。

13. 淮北市位于我国四大区域中的（ ）

- A. 北方地区
- B. 南方地区
- C. 西北地区
- D. 青藏地区

解析：本题主要考查我四大地理区域及其划分。我国幅员辽阔，自然环境复杂多样，形成了各具特色的地理区域。在中国地图上，把秦岭—淮河线、400 毫米年等降水量线和青藏高原边缘线这三条重要的地理界线结合起来，并根据实际情况作一定的调整，就把我国划分为四大地理区域，即北方地区、南方地区、西北地区和青藏地区。淮北市，简称淮，安徽省省辖市，位于淮河以北，属于北方地区。地处苏鲁豫皖四省之交，北接萧县，南临蒙城，东与宿州毗邻，西连涡阳县和河南永城市。

答案：A

14. 淮北最主要的粮食作物是（ ）

- A. 水稻
- B. 玉米
- C. 油菜
- D. 小麦

解析：本题主要考查安徽省。淮北市位于淮河以北，气候为温带季风气候，最主要的粮食作物是小麦；淮南市最主要的粮食作物是水稻。

答案：D

近年来中俄贸易频繁，交往密切。据此回答 15 - 16 题。

15. 下列商品，中国从俄罗斯大量进口的是（ ）

- A. 花卉
- B. 石油
- C. 棉纺织品
- D. 家用电器

解析：本题主要考查俄罗斯的煤、铁、石油、森林资源。俄罗斯幅员辽阔，面积 1709.8 万

千米<sup>2</sup>，是世界上面积最大的国家，也是唯一地跨亚、欧两大洲和东、西两半球的国家。俄罗斯自然资源丰富，矿产资源中，石油、天然气、煤、铁、金、铜、铅、锌、镍、钴、钾盐等的储量均居世界前列。俄罗斯工业基础雄厚，部门齐全，能源、冶金、机械、化工、航空航天、核工业等重工业部门占据突出地位，轻工业欠发达。近年来，俄罗斯积极发展与人民生活密切相关的消费品工业，工业结构得到改善。全国主要工业区大多分布在欧洲部分。

答案：B

16. 2015年春节期间，安徽省一经贸团出访俄罗斯，以下温馨提示，最合理的是（ ）

- A. 俄罗斯地域广，请携带指南针
- B. 俄罗斯光照强，请携带防晒霜
- C. 俄罗斯纬度高，请多带衣物
- D. 俄罗斯淡水少，请多带矿泉水

解析：本题考查俄罗斯的气候特点。俄罗斯地处中、高纬度地区，以温带大陆性气候为主，冬季严寒而漫长，夏季凉爽而短促。由于领土辽阔，各地气候差异显著。北冰洋沿岸属寒带气候，太平洋沿岸属温带季风气候。西伯利亚地区冬季非常寒冷。东欧平原气候比较温和，人口和城市主要集中在这里。因此合理的是C俄罗斯纬度高，请多带衣物。

答案：C

我国的某高原上，这里有湛蓝的天空，绵延的雪山，无边的草原，成群的牦牛，虔诚的喇嘛，同时这里也是我国生态环境最脆弱的地区。据此完成17-18题。

17. 材料中描述的高原为（ ）

- A. 青藏高原
- B. 云贵高原
- C. 内蒙古高原
- D. 黄土高原

解析：本题主要考查青藏地区的自然地理特征。我国的四大高原是青藏高原、内蒙古高原、黄土高原和云贵高原。青藏地区的主体是有“世界屋脊”之称的青藏高原。这里有湛蓝的天空，绵延的雪山，无边的草原，成群的牦牛，虔诚的喇嘛，同时这里也是我国生态环境最脆弱的地区。

答案：A

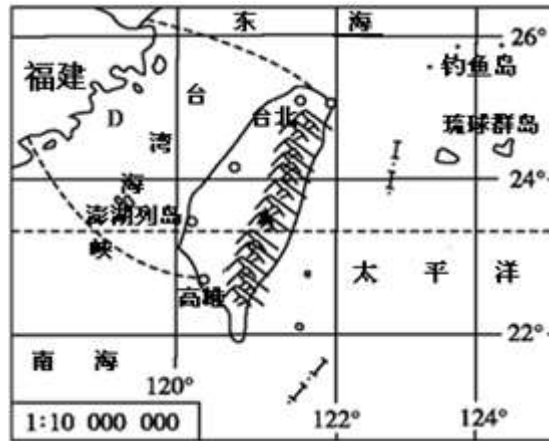
18. 该地区农作物单产高的自然原因是（ ）

- A. 二氧化碳浓度高
- B. 气温高
- C. 光照强，昼夜温差大
- D. 降水量适中

解析：本题考查青藏地区的气候与农业。青藏地区的农作物主要有青稞（大麦的一种）、豌豆、小麦、油菜等。由于太阳光照强、日照时间长、昼夜温差大，有利于农作物养分的积累，因此青藏地区农作物的单位面积产量比较高。本区又是全国重要的牧区，主要牲畜有牦牛、藏绵羊、藏山羊等。

答案：C

台湾岛是祖国的宝岛，西隔台湾海峡与福建省相望，自大陆赴台旅游开通后，游客日益增大，如图为台湾岛轮廓图，完成19-20题。



19. 下列选项符合台湾岛地理概况的是 ( )

- A. 阿里山、日月潭是著名的旅游胜地
- B. 基隆是台湾最大的城市
- C. 水果之乡，盛产苹果、香蕉和芒果
- D. 位于温带和亚热带季风区

解析：本题主要考查台湾省的地理位置和地域组成。阿里山、日月潭是台湾著名的旅游胜地，故 A 正确；台北是台湾最大的城市，故 B 错误；台湾盛产香蕉、菠萝、芒果等，有“水果之乡”之称，苹果属于温带水果，故 C 错误；台湾属于亚热带和热带季风气候，故 D 错误。

答案：A

20. 读图，下列各地不属于台湾省范围的是 ( )

- A. 台湾岛
- B. 澎湖列岛
- C. 钓鱼岛
- D. 琉球群岛

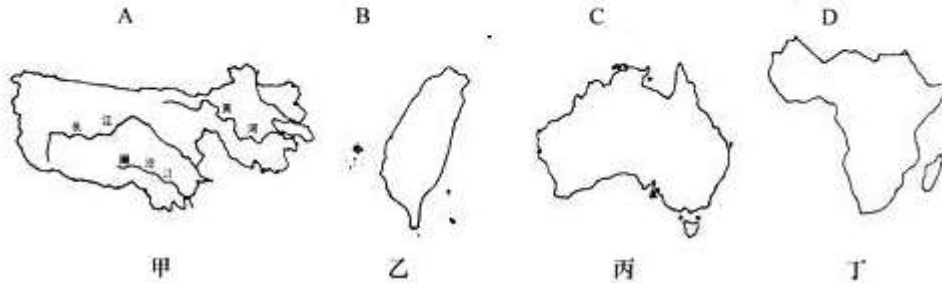
解析：本题主要考查台湾省的地理位置和地域组成。台湾省位于我国东南海域，主体是台湾岛，此外，还有周围的澎湖列岛、钓鱼岛等 200 多个岛屿，其中台湾岛是我国最大的岛屿；台湾西隔台湾海峡与福建省相望，临东海和南海，而且台湾岛东海岸直接面向太平洋。琉球群岛位于东中国海上，呈东北西南向，包括大隅群岛、吐噶喇群岛、奄美群岛、冲绳群岛、宫古群岛、八重山群岛等，目前由二战战败国日本管辖。

答案：D

## 二、非选择题（本大题共 5 小题，共 60 分）

21. 读图文填下表。区域空间定位是看图解题的关键，根据图文信息进行区域定位是学习地理的重要方法之一。请根据提供的地理信息完成下表。





①黑种人的故乡 ②世界活化石博物馆 ③美丽富饶的宝岛 ④中华水塔

	甲	乙	丙	丁
对应的字母	_____	_____	_____	_____
对应的序号	_____	_____	_____	_____

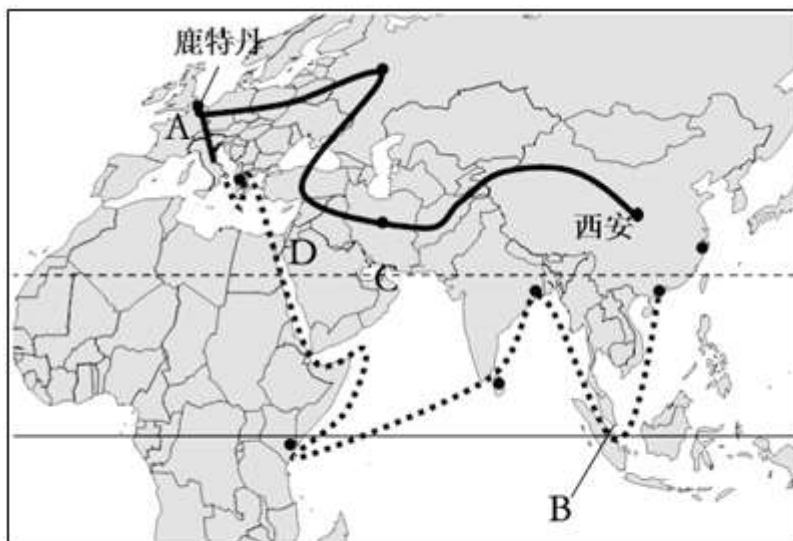
解析：本题主要考查世界上的国家和地区概况。读图可得，甲是我国的青藏地区，乙是台湾岛，丙是澳大利亚，丁是撒哈拉以南非洲。三江源地区有中华水塔之称，其河流有长江、黄河和澜沧江，位于我国的青藏地区，其珍稀动物有藏羚羊等；撒哈拉以南非洲有黑种人的故乡之称，该地区以热带草原气候为主；澳大利亚因多古老动物，如袋鼠、鸸鹋等，被称为“世界活化石博物馆”之称；台湾岛著名的旅游景点是日月潭，该岛屿因资源丰富，有我国美丽富饶的宝岛之称。

答案：甲 乙 丙 丁

对应的字母 A B C D

对应的序号 ④ ③ ② ①

22. 如图1为“陆上丝绸之路与海上丝绸之路”路线示意图，读图完成下列问题。



—— 陆上丝绸之路 海上 ..... 丝绸之路

图1



图2



(1)陆上丝绸之路东起我国陕西省的\_\_\_\_\_市，向西出新疆、经中亚、西亚，最后到A\_\_\_\_\_洲，从经济发展水平看，A洲大多数国家属\_\_\_\_\_国家，这些国家与我国有关政治、经济的商谈称为“\_\_\_\_\_”。

(2)下面是船员林朋7月3日从泉州港沿海上丝绸之路航行途中给朋友发的微信片段，根据所学知识将其补充完整。

林朋：现在我们的船只航行到 B \_\_\_\_\_海峡，这里有许多向东航行的满载油轮，这些油轮最有可能是从 C \_\_\_\_\_(海湾)驶出的，看来这里地理位置真的很重要哦……

林朋：今天，我们的船只到达印度的加尔各答港口，此时正值印度的\_\_\_\_(雨或旱)季，盛行\_\_\_\_季风，由于该季风很不稳定，使得印度多\_\_\_\_灾害。

林朋：图2是我在\_\_\_\_地(填字母)拍的照片，该地居民多信仰教。

(3)与海上丝绸之路相比，陆上丝绸之路在交通运输方面的优势是\_\_\_\_\_。

解析：本题主要考查七大洲的地理分布和概况；发展中国家与发达国家的地区分布特点。

读图可得，A是欧洲，B是马六甲海峡，C是波斯湾，D是阿拉伯半岛。

(1)陆上丝绸之路东起我国陕西省的西安市，向西出新疆、经中亚、西亚，最后到A欧洲，从经济发展水平看，欧洲大多数国家属发达国家，这些国家与我国有关政治、经济的商谈称为“南北对话”。

(2)图中B是马六甲海峡，C是波斯湾，该地区有丰富的石油资源；7月是北半球的夏季，此时正值印度的雨季，盛行西南季风，由于西南季风不稳定，多旱涝灾害；图2所示的是西亚阿拉伯民族的景观图，该地区主要信奉伊斯兰教，图1中的D位于西亚地区。

(3)与海上丝绸之路相比，陆上丝绸之路在交通运输方面的优势是路程短。

答案：(1)西安 欧 发达 南北对话

(2)

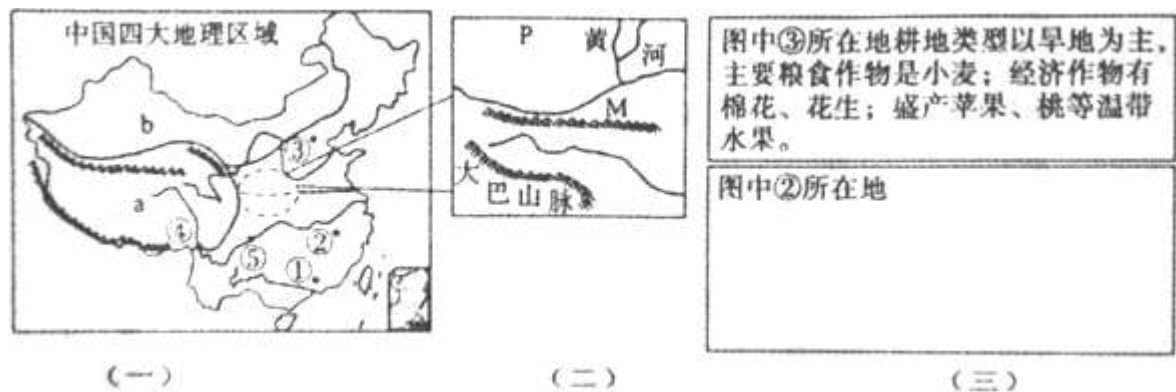
林朋：现在我们的船只航行到 马六甲海峡，这里有许多向东航行的满载油轮，这些油轮最有可能是从 波斯湾驶出的，看来这里地理位置真的很重要哦……

林朋：今天，我们的船只到达印度的加尔各答港口，此时正值印度的雨(雨或旱)季，盛行西南季风，由于该季风很不稳定，使得印度多旱涝灾害。

林朋：图2是我在 D地(填字母)拍的照片，该地居民多信仰教。

(3)路程短

23. 读我国四大地理区域图，结合所学知识完成下列问题。



(1)我国东部①②③三地中，农业生产最易受到春旱威胁的是\_\_\_\_\_。④⑤两地中，水能资源较丰富的是\_\_\_\_\_。

(2)为了促进 a 区域社会经济的发展，我国建成了被人们称为“天路”的\_\_\_\_\_铁路。依据因地制宜的原则，a 地区发展了哪些农业？

(3)下列属于 a 区域三江源地区面临的主要生态环境是（多项选择）\_\_\_\_\_。

- A. 湖泊和湿地面积不断缩小
- B. 水土流失加剧、草场退化严重
- C. 野生动物锐减、生态环境恶化
- D. 台风、旱涝灾害严重

(4)M 为\_\_\_\_\_山脉（我国南北方的分界线），P 所在的地形区是\_\_\_\_\_高原，位于我国地势的第\_\_\_\_\_阶梯上。该高原最大的生态环境问题是\_\_\_\_\_。近几年，对该高原采取的整治措施主要有哪些？

(5)请参照图（三）中③的描述，完成图（三）②的内容。

解析：本题考查我国四大地理区域的特征。读图分析可知，a 是青藏地区，b 是西北地区，P 是黄土高原。

(1)我国降水的分布不均匀，位置越偏南，雨季越长，降水越多；我国东部①、②、③三地中，农业生产最易受到春旱威胁的是③华北地区；④⑤两地中，水能资源较丰富的是④，该地位于地势阶梯交界处，河流落差大。

(2)为了促进 a 青藏区域社会经济的发展，我国建成了被人们称为“天路”的青藏铁路；青藏地区最典型的自然特征是高寒，依据因地制宜的原则，a 青藏地区适宜发展高寒牧业，并且在海拔较低的河谷发展了河谷农业。

(3)长江、黄河、澜沧江等大江大河的重要水源，被誉为“中华水塔”；三江源地区面临的主要生态环境是：湖泊和湿地面积不断缩小，水土流失加剧、草场退化严重，野生动物锐减、生态环境恶化。

(4)M 为秦岭山脉，是我国南北方的分界线；右图所示地区是黄土高原和四川盆地的一部分，位于我国地势的第二阶梯上；P 地所在的地形区是黄土高原，该高原最大的生态环境问题是水土流失；近几年，对该高原采取的整治措施主要有植树种草（植树造林），退耕还林还草，恢复植被。

(5)图中②地区是我国的南方地区，主要属于亚热带季风气候，因此耕地类型以水田为主，主要粮食作物是水稻，经济作物有棉花、油菜，盛产柑橘、甘蔗、香蕉等热带、亚热带水果。

答案：(1)③ ④

(2)青藏 a 区域可以发展高寒牧业、河谷农业。

(3)ABC

(4)秦岭 黄土 二 水土流失 植树种草（植树造林）

(5)如图：

图中③所在地耕地类型以旱地为主，主要粮食作物是小麦；经济作物有棉花、花生；盛产苹果、桃等温带水果。

图中②所在地耕地类型以水田为主，主要粮食作物是水稻，经济作物有棉花、油菜，盛产柑橘、甘蔗、香蕉等热带、亚热带水果。

(三)

24. 2014年12月27日南水北调中线一期工程正式通水进京，如图分别为“南水北调中线工程示意图”如图1和“中国水资源的供需状况示意图”如图2。据此完成下列各题。



图 1



图 2

(1) 中线调水工程的水源地丹江口水库位于长江的支流\_\_\_\_\_，该工程解决了我国水资源\_\_\_\_\_（填“时间”或“空间”）分配不均的问题。

(2) 由图可知，输水线经郑州市后，大致沿着太行山以东的\_\_\_\_\_平原往北；调入的终点城市\_\_\_\_\_。

(3) 很多专家认为，跨流域调水包括南水北调能缓解我国北方地区水资源短缺的问题，你认为还有哪些行之有效的措施？（至少写两点）

解析：本题主要考查南水北调工程。

(1) 中线调水工程的水源地丹江口水库位于长江的支流汉江。该工程解决了我国水资源空间分配不均的问题。

(2) 东线输水线路经郑州后，大致沿着太行山以东的华北平原往北，其中郑州地处京广（南北走向）、陇海（东西走向）两大铁路的交会处，是国内最重要、最繁忙的铁路枢纽之一。调入的终点城市北京。

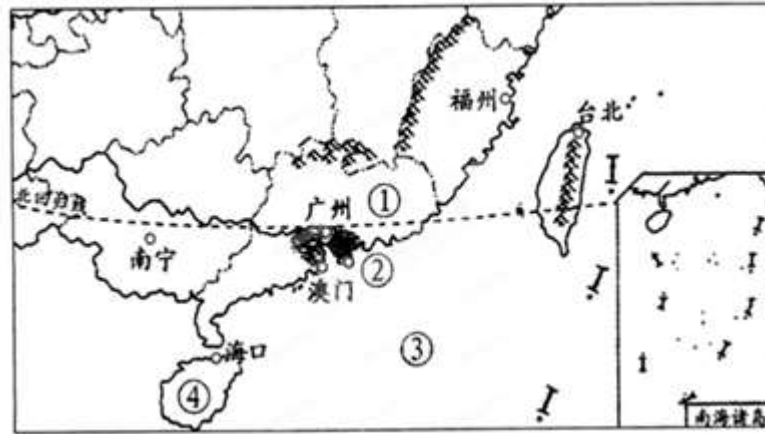
(3) 兴修水库即在多雨季节，利用水库把水贮存起来；节约用水；防止和治理水污染；提高水的利用率。

答案：(1)汉江 空间

(2)华北 北京

(3)兴修水库即在多雨季节，利用水库把水贮存起来；节约用水；防止和治理水污染；提高水的利用率。

25. 读图，回答下列问题。



(1) 写出图中序号代表的地理事物名称：

①\_\_\_\_\_省，②\_\_\_\_\_特别行政区，③\_\_\_\_\_海，④\_\_\_\_\_岛。

(2) 台湾岛地形以\_\_\_\_\_为主，大部分属\_\_\_\_\_气候。

(3) 从福州赴台湾旅游最经济的交通方式是\_\_\_\_\_。

(4) 自 20 世纪 60 年代开始，台湾省利用自身的一些优势和条件，重点发展了出口加工工业，形成“\_\_\_\_\_”型的经济，工业产品在出口贸易中的比重稳步上升。

(5) 台湾岛被称为“美丽富饶的宝岛”，试举一些美称。(至少两项)

解析：本题主要考查台湾省的概况。读图分析可知：

(1) 依据位置，图中序号代表的地理事物名称为：①广东省，②香港特别行政区，③南海；④海南岛。

(2) 台湾岛多山，高山和丘陵面积占全部面积的三分之二以上；台湾气候为热带和亚热带季风气候，以亚热带季风气候为主。

(3) 从福州赴台湾旅游，考虑到省钱，最经济的交通方式是海洋运输。

(4) 自 20 世纪 60 年代开始，台湾省利用自身的一些优势和条件，重点发展了出口加工工业，形成“进口—加工—出口”型的经济。

(5) 台湾盛产甘蔗，有“东方甜岛”之称；台湾盛产香蕉菠萝等，有“水果之乡”之称；台湾盛产稻米，有“海上米仓”之称；台湾的森林面积广阔，有“森林之海”之称；台湾的植物种类繁多，有“天然植物园”之称；台湾盛产海盐，有“东南盐库”之称。

答案：(1) 广东 香港 南海 海南

(2) 山地 亚热带季风

(3) 海洋运输

(4) 进口—加工—出口

(5) “东方甜岛”、“水果之乡”、“植物王国”、“东南盐库”、“森林之海”。