

2012 年普通高等学校招生全国统一考试(福建卷)

文科综合能力测试

第 I 卷(选择题共 144 分)

本卷共 36 小题,每小题 4 分,共 144 分。在每小题给出的四个选项中,只有一项是最符合题目要求的。

图 1 示意近 8 年来中国对美国投资总额分布。读图完成 1—2 题。

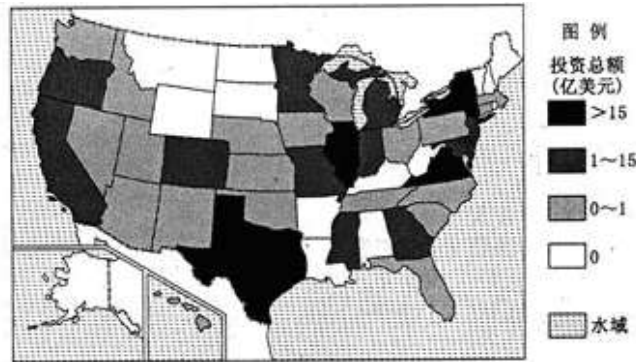


图 1

1. 中国对美国投资主要分布在
A. 太平洋及北冰洋沿岸地区 B. 太平洋沿岸地区
C. 五大湖及大西洋沿岸地区 D. 墨西哥湾沿岸地区
2. 影响中国企业到美国投资家电制造业的主要因素是
A. 矿产与技术 B. 政策与市场 C. 能源与交通 D. 土地与劳动力

图 2 中四条折线示意中国、全世界、发展中国家和发达国家的城市化水平激起变化趋势。读图完成 3—4 题。

3. 图中代表中国城市化进程的折线是
A. 甲 B. 乙 C. 丙 D. 丁
4. 200 年后,发达国家城市化水平提高带来的主要影响是
A. 促进区域经济发展 B. 工业产值的比重持续增大
C. 城市环境趋于恶化 D. 城市中心区人口不断增多

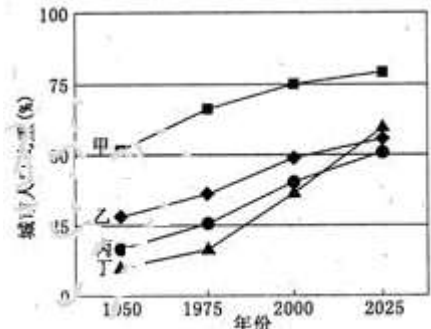


图 2

气候生产潜力是指一个地区光、热、水等要素的数量及其配合协调程度。图 3 示意中国东北地区玉米气候生产潜力的空间分布。读图完成 5—7 题。

5. 影响甲处等值线向北凸出的主要因素是
A. 纬度位置 B. 大气环流 C. 地形因素 D. 海陆分布

6. 在中国东北地区, 玉米气候生产潜力空间变化规律变化基本一致的指标是

A. $\geq 10^{\circ}\text{C}$ 积温 B. 日照时数 C. 太阳辐射量 D. 年降水量

7. 对东北地区玉米气候生产潜力空间变化分析的手段属于

A. 计算机网络 B. 地理信息系统 C. 全球定位系统 D. 遥感

图4为中国某河干流区不同土地利用类型的日蒸发量和日蒸发总量(各类用地面积与其日蒸发量的乘积)。读图完成8—9题。



图4

8. 影响该河干流区日蒸发量差异的主要因素是

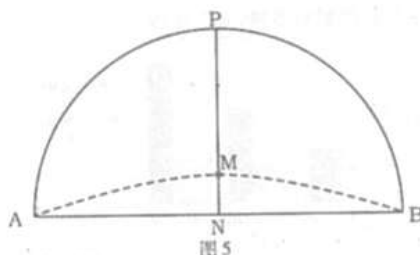
A. 土层厚度和植被覆盖率 B. 太阳辐射和土层厚度

C. 植被覆盖率和水分条件 D. 水分条件和太阳辐射

9. 该河有可能是

A. 塔里木河 B. 松花江 C. 淮河 D. 珠江

图5中N为北极点, A、M、B位于地球表面, NP为经线, NM的球面最短距离为2553千米。读图完成10—12题。



10. 若AM为昏线, 则此时节

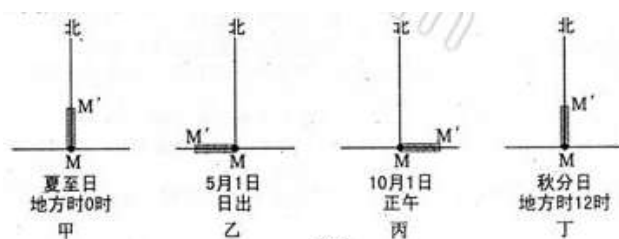
A. 巴黎香榭丽舍大道落叶遍地 B. 日本富士山樱花烂漫

C. 阿根廷潘帕斯草原牧草枯黄 D. 北京颐和园雪飞冰封


11. 若观测到M地日日影最短的时刻是北京时间12时40分, 则M地大致位于

A. 66°N , 110°E B. 67°N , 110°E C. 66°N , 130°E D. 67°N , 130°E

12. 若在M地垂直立竿, 则图6中MM'所示日照竿影朝向正确的是



A. 甲 B. 乙 C. 丙 D. 丁

13.  《说文解字》释读为: “大册也。”今人认为似乎手捧册置于架上。该释读与下列记录文字信息材料相关的是

A. 甲骨 B. 丝帛 C. 竹木简 D. 石碑

14. 《隋都城图》题记: “畦分棋布, 闾巷中绳墨, 坊有墉(墙), 墉有门, 逋亡奸伪无所容

足。而朝廷宫寺、民居市区不复相参，亦一代之精制也。”由此可见，的隋都城设计重在

- A. 打破市坊的空间界限
- B. 便利居民的交通出行
- C. 加强官府的严格控制
- D. 促进城市的离业活动

15. 《司马光奏议》载，“夫农、工、商贾者，财之所自来也。……公家之利，舍其细而取其大，胜诸近而取诸远，则商贾流通矣，农、工、商贾皆乐其业而安其富，则公家何求而不获乎？”在这里，司马光

- A. 坚持“重农抑商”政策
- B. 指出商品流通的重要性
- C. 提出“农本商末”观点
- D. 说明保持社会稳定的必要性

16. 虽成“空壳”，但仍作为辛亥革命成果象征的是

- A. 中国同盟会 三民主义
- B. 中国同盟会 中华民国
- C. 三民主义 《中华民国临时约法》
- D. 中华民国 《中华民国临时约法》

17. 学者段海光在论及五四运动时，认为它以 iconoclasm（打到偶像）和 enlightenment（启蒙）为动力，是一场“中国知识最光荣的运动”。在他看来，这场运动主要倡导

- A. 自强与求富
- B. 进化与革断
- C. 改良与革命
- D. 民主与科学

18. 通过日内瓦会议和万隆会议，新中国

- A. 发挥了大国应有的政治影响力
- B. 促成了“一超多强”的国际格局
- C. 确立了不结盟运动的领袖地位
- D. 巩固了社会主义阵营的内部团结

19. 15 世纪学者费奇诺说：“这是一个黄金时代,(在佛罗伦萨)几乎所有以前原本消失的自由科目，如诗歌、雄辩术、绘画、建筑、雕塑、音乐都复活了。”这反映了在该地

- A. 希腊罗马文化开始兴起
- B. 人文精神得到传承
- C. 宗教改革思想开始传播
- D. 启蒙思想影响巨大

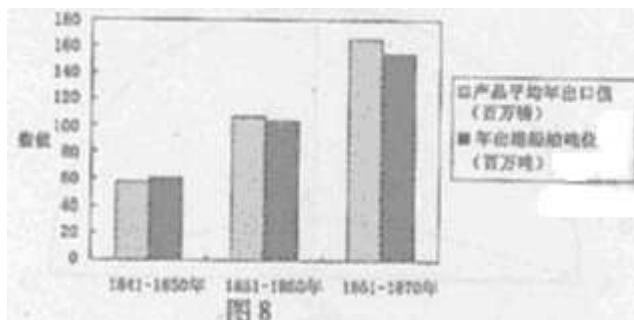
20. 法国大革命初期一首流行歌谣唱到：“把高个儿截短，把矮个儿拉长……”这种呼声化为图景就成了图 7 所示漫画，它表达的政治理念是

- A. 平等
- B. 自由
- C. 人权
- D. 博爱



图 7

21. 图 8 所示英国部分经济数据变化的因素有多种，其中包括



- A. 奴隶贸易的兴起
- B. 自由贸易政策的推行
- C. 内燃机的应用
- D. 垄断组织的形成

22. 表 1 是苏联 20 世纪二三十年代粮食产量的统计数据。出现这一变化的主要原因是

年代	1925-1927 年	1928-1932 年	1933-1937 年
年均粮食产量(万吨)	7527	7360	7290

- A. 地广人稀
- B. 自然灾害频发
- C. 斯大林农业政策的扩形
- D. 赫鲁晓夫农业改革的实施

23. 1912 年 4 月，“泰坦尼克”号客轮在从英国到美国的首航中不幸沉没。某历史兴趣小

组搜集了该客轮的背景材料，其中符合史实的是

①使用电灯照明 ②豪华客舱配备电视③航线经过地中海 ④用无线电报与外界联络

A. ①②B. ①④ C. ②③D. ③④

24. 第二次世界大战后，日本政府解散财阀，资本占有结构出现明显变化。表 2 为日本不同所有者的分布状况（%）

表 2

所有者 年份	政府和公共机关法人	金融机关	其他国内法人	外国法人	个人	其他
1950 年	3.2	12.6	11	0	61.3	11.9
1960 年	0.2	23.1	17.8	1.1	46.3	11.5
1969 年	0.3	32.2	21.3	3.2	40.1	2.9

对其解读有误的是

A. 政府实行自由放任经济政策 B. 股票市场对外开放程度有所提高

C. 金融机关的影响力逐渐增强 D. 个人持股比例逐步降低

25. 2012 年 1 月 1 日起实施的《中华人民共和国行政强制法》规定，行政机关不得对居民生活采取停止供水、供电、供热、供燃气等方式迫使当事人履行相关行政决定。这一规定

A. 确立了法律的权威和尊严

B. 方便了公民参与政治生活

C. 体现了国家尊重和保障人权

D. 缩小了行政机关的权力范围

26. 某市十二届人大三次会议于 2012 年 1 月中旬召开。会前，部分人大代表针对食品安全问题深入基层进行调研，形成议案提交大会。会议期间，市政府工作报告经代表们审议后，在全体会议上获得通过。这表明人大代表有权依法

① 向人大提出议案

② 向政府机关提出质询

③ 决定国家重大事项

④ 表决各项决定

A. ①④ B. ②③ C. ①②④ D. ②③④

27. 由于世界人口急剧增长，加上极端气候及病虫害所带来的粮食减产，目前，全球有约 10 亿人在挨饿，数以百万计的人陷入更深的贫困，世界粮食安全问题日益突出。由此可见

A. 世界各国面临的根本利益是一致的

B. 经济全球化是当今世界的基本特征

C. 世界和平与发展面临着严峻的挑战

D. 全球发展最突出问题是粮食安全问题

28. 在福建平潭综合实验区建设和发展过程中，要坚持经济建设与环境保护并重，实现经济可持续发展，以下建议符合上述要求的有

① 点重点发展以高科技为特征的新兴产业

② 实验区建设以开发为主，注重经济效益

③ 充分利用其丰富的风力资源，发展风电产业

④ 把增加物质资源消耗作为其经济发展的主要方式

A. ①③ B. ①② C. ②④ D. ③④

29. 假设人民币对美元的汇率基准价为 630.00，美元存款年利率为 3%，人民币一年期储蓄利率为 2.5%，一年期国债利率为 3.7%。不考虑其他因素，分别用 10000 元人民币进行一年的投资，其收益对比正确的是

A. 人民币储蓄存款大于购买国债

B. 购买国债大于兑换美元后用美元存款

C. 兑换美元后用美元存款等于购买国债

D. 兑换美元后用美元存款小于人民币储蓄存款

30. 图 9 中 M、N 曲线分别代表两类商品的价格与需求量的关系。在一般情况下，可以推断出的正确结论是

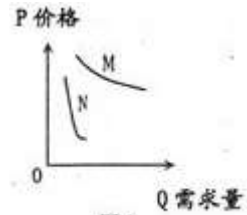


图 9

- A. M 商品是生活必需品，企业应扩大该商品的生产
- B. N 商品是高档耐用品。企业应减少该商品的生产
- C. 当 M N 商品同时提价时，政府应对 M 商品征收增值税
- D. 当 N 商品价格过高时，政府应对低收入者发放生活补贴

31. 表 3 是某地不同群体对所喜爱的文化活动的选择情况

表 3

群体	老年人	中年人	青少年
喜爱的文化活动	听戏曲、打太极拳	看电视、阅读书报	上网、听音乐

某班同学分析表中信息后提出下列建议，你认为合理的是

- A. 倡导高雅文化，引领人们的精神生
- B. 提高文化修养，缩小人们鉴赏水平的差异
- C. 发展大众文化，满足人们不同的文化需求
- D. 增加经济收入，改变人们对文化生活的选择

32. 杜甫是“大地的诗人”，他如如此深情地注视着吾土吾民。他对公正的关切，对天下苍生的关怀，源于他最深刻的生命体验。杜甫活着，他依然行走于大地 … … 。这表明

- A . 以人为本，维护人民利益始终是中华文化的价值追求
- B . 立足实践，反映人民的利益与呼声才能获得艺术的永恒
- C . 中华文化的感召力源于中华民族仁爱、中和的善良本性
- D . 中华传统美德以其先进性推动中华文化从历史走向未来

33 . 下列选项能体现图 10 漫画寓意的有



图 10

- ① 实现文化创新要避免出现与过去重复的东西
- ② 漠视对传统文化的继承就失去了文化创新的动力
- ③ 不符合社会发展要求的传统文化是我们前进的包袱
- ④ 创新是民族文化永葆生命力和凝聚力的重要保证

- A. ①③ B. ②④ C. ①② D. ③④

34 . 在实现福建科学发展跨越发展的历史时期，弘扬“爱国爱乡、海纳百川、乐善好施、敢拼会赢”的福建精神，具有重要的现实意义。这说明

- ① 先进的社会意识有利于促进社会经济文化的发展
- ② 正确的价值观是指符合可持续发展要求的价值观
- ③ 正确的价值观可以转化为服务于经济社会的力量
- ④ 符合规律的社会意识能够直接转化为物质力量

- A. ①②B. ①③C. ②④D. ③④

35 . 在牛顿经典力学问世后的 200 多年时间里，许多科学家认为，整个宇宙都要服从这一“永恒定律”。20 世纪初爱因斯坦发现牛顿的运动定律只有在宏观低速的情况下才是正确的，牛顿力学的“永值定律”神话被打破。这启示我们

- A . 真理是主观与客观的具体的历史的统一
- B . 人们对同一确定对象会有多个真理性认识
- C . 对同一事物的判断因人的主观性而产生差异
- D . 真理适用于任何已知和确定的历史条件和范围

36 . 图 11、图 12 蕴涵的哲理有

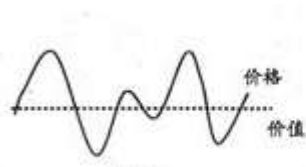


图 11

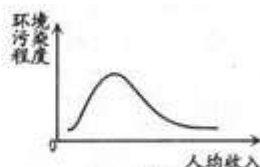


图 12

- ①图 11 表明把握规律有利于预见事物变化发展的趋势
 ②图 12 表明事物量变过程实质上就是质变的过程
 ③图 11、图 12 表明事物的发展是前进性与曲折性的辩证统一
 ④图 11、图 12 表明事物之间的联系因其体条件的变化而变化
 A. ①② B. ③④ C. ①④ D. ②③

第 II 卷（非选择题 共 168 分）

必考部分（116 分）

37. (37 分) 图 13 示意中国东部某区域，阅读图文材料，回答下列问题。

国家“十二五”规划纲要提出：要大力 软件和信息服务、商贸流通、金融保险等新兴服务出口。积极支持东部地区加快产业结构的调整与升级，进一步提高能源、土地、海洋等资源的利用效率。

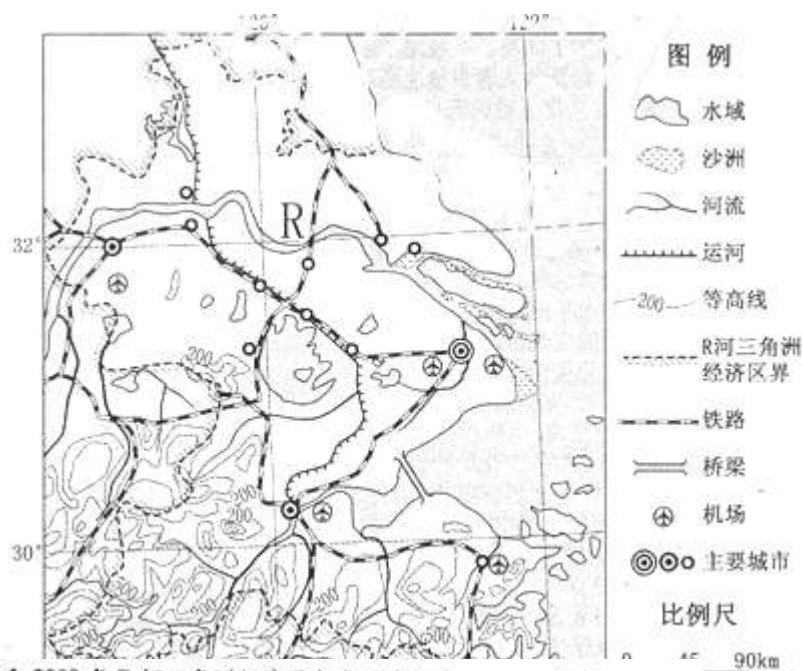


表 4 1991 年和 2008 年 R 河三角洲经济区各类用地比重 (%)

年份	水田	旱地	林地	草地	园地	城镇	陆地水域	滩涂	未利用地
1991	48.08	14.47	18.72	0.34	0.21	9.65	7.96	0.35	0.22
2008	41.87	9.89	17.27	0.04	0.03	23.91	6.35	0.63	0.01

- (1) 描述图示区域地形的主要特点。(7 分)
 (2) 分析 R 河河口地段多沙洲的自然原因。(8 分)
 (3) 据表 4 归纳的 R 河三角洲经济区土地利用结构变化的特点，并指出该变化对自然地理环境可能产生的不利影响。(10 分)
 (4) 分析 R 河三角洲经济区大力发展新兴服务业的社会经济原因。(12 分)

38. (37 分) 近代以来，为了民族独立和国家富强，先进的中国人进行艰辛探索，走上了

民族复兴之路。阅读下列材料，回答问题。

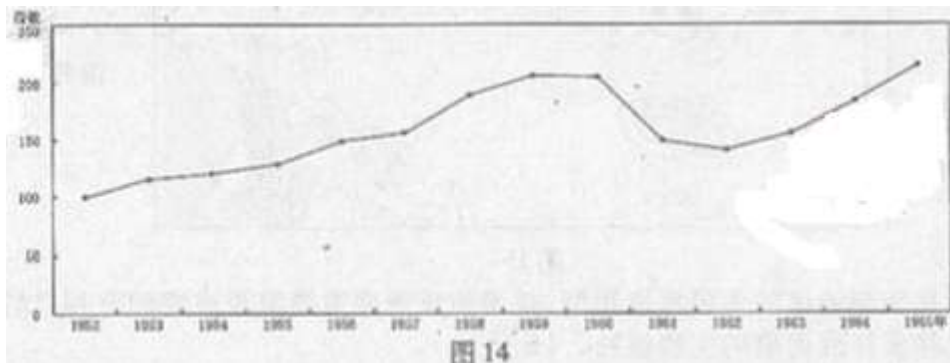
材料一 民国初期，陈嘉庚说：“今日国势危如累卵，所赖以维持者，惟此方兴之教育与未死之民心耳”。黄炎培说：“今吾中国至重要，至困难问题，厥惟生计；曰求根本上解决生计问题，厥惟教育。”

——朱英《辛亥革命与近代中国社会变迁》

材料二 从现在起，开始了由城市到乡村并由城市领导乡村的时期。党的工作重心由乡村移到了城市。……使中国逐步地由农业国转变为工业国，把中国建设成一个伟大的社会主义国家。……中国的革命是伟大的，但革命以后的路程更长，工作更伟大，更艰苦。

——毛泽东在中共七届二中全会上的报告（1949年3月）

材料三 1952—1965年国民生产总值指数图（1952年=100）



——摘自国家统计局国民经济综合统计司编《新中国五十年统计资料汇编》

材料四 邓小平在向外宾介绍中国改革开放的由来时说：“我们现在的路线、方针、政策是在总结了成功时期的经验、失败时期的经验和遭受挫折时期的经验制定的。”

——郭德宏等《中华人民共和国专题史稿》

(1) 据材料一概括两人共同的救国主张。联系所学知识，指出此类主张的积极意义和无法实现的原因。（8分）

(2) 指出材料二“城市到乡村”、“城市领导乡村”的时代背景和基本内涵。（8分）

(3) 据材料三，概括20世纪五六十年代我国国民生产总值的变化，分别分析其主要原因。据此说明为什么“革命以后的路程更长，工作更伟大，更艰苦”。（15分）

(4) 据材料四，分析改革开放与邓小平所阐述的历史经验之间的关系。（6分）

39. (42分) 阅读材料，回答问题。

义利观是中国传统文化价值观的核心。当前，弘扬具有社会进步意义的义利观，对构建和谐社会，实现中华民族伟大复兴具有积极而深远的影响。

材料一 人们对义利观的探索随着时代的变迁和社会经济的发展而变化。孔子主张“君子喻于义，小人喻于利”；孙中山提倡“大义所在”，坚持革命和民主大义，反对“重私心而忘公义”。中国共产党倡导“把国家和人民利益放在首位而又充分尊重公民个人自身的合法利益”的社会主义义利观。

材料二 福建某著名民营企业确立“以人为本”的管理理念，强调礼义兼顾，诚信不欺，重视节能减排，依法纳税，积极捐助慈善事业，取得了良好的经济和社会效益。

材料三 雷锋，以其短暂的一生谱写了一曲全心全意为人民服务的壮丽诗篇。大力弘扬雷锋精神，对于不断提升公民道德素质和社会文明程度具有重要意义。

(1) 材料一中义利观的演变过程如何现了矛盾观点？（12分）

(2) 请运用政治生活有关知识，说明党和政府努力践行社会主义义利观的理由。（9分）

(3) 有人认为：“市场经济条件下企业应追求利益最大化。”结合材料二，运用社会主义市场

经济有关知识，对上述观点加以评析。(11分)

(4) 根据材料三，从文化生活角度，请你以“弘扬雷锋精神，促进社会文明”为主题向社会发出倡议。(10分)(要求：①写出倡议书内容的提纲；②不得显示个人身份的任何信息。)

选考部分(40分)

40.(15分) 地理

在 A、B、C 三题中任选一题作答。答题时请在答题卡对应的位置上填涂选答题号后面的方框。

A.【选修2——海洋地理】

“海洋资源多样性与可持续发展”是人类共同关注的议题。图 15 示意东亚部分区域。读图回答下列问题。



图 15

(1) 指出图示半岛南郊地区的主要海岸类型，并说明该海岸发展滨海旅游的有利自然条件。(9分)

(2) 简述海洋生物多样性面临的主要威胁。(6分)

B.【选修5——自然灾害与防治】红层地貌是地质历史时期红色珍珠岩等岩层，发育的侵蚀地貌，多陡崖，性具有软硬互层特点。图 16 示意中国某区域红层地貌的分布。读图回答下列问题。

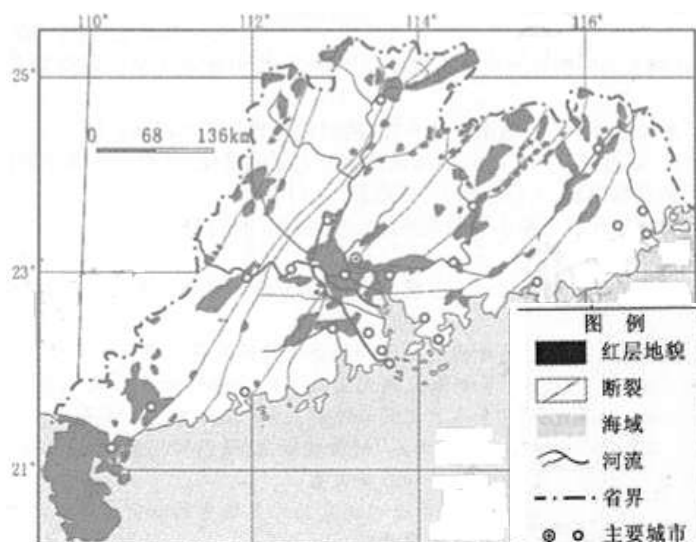



图 16

(1)指出图示红层地貌区由外力作用引起的主要地质灾害类型，并说明该类灾害形成的自然原因。(9分)

(2)简述红层地貌区地质灾害的主要危害。(6分)

C.【选修6——环境保护】

图17为2000年中国南北方城市生活垃圾的成分构成。读图回答下列问题。



(1)指出中国城市生活垃圾中不可回收物成分构成的地区差异，并从气候角度说明其原因。(9分)

(2)简述城市生活垃圾产生的主要危害。(6分)

41.(15分)历史

考生在A、B、C三题中任选一题作答。答题时请在答题卡对应的位置上填涂选答题号后面的方框。

A.【选修1——历史上重大改革回眸】

阅读下列材料，回答问题。

材料一 (德意志)“所有教士职位都应该脱离那暴虐的教皇,并且要恢复地方主教的职权”;“应该规定,凡属世俗的事都不应该送到罗马判决,只应该由世俗当局处理。”

——马丁·路德(致德意志民族基督教贵族公开书)(1520年)

材料二 (致德意志民族基督教贵族公开书)第一版印了4000册,不到一周便销售一空。这本书在一年之中,至少重版了十三次。

——克利斯坦(宗教改革)

材料三 《九十五条论纲》原本只是那个时代教会改革声中的一声……就像一个在黑暗森林中行走的小孩,他划着一支火柴本来是为了看清脚下的路,却点燃了整片森林。

——刘新利《欧洲文艺复兴史》

(1)据材料一指出马丁·路德的主张。为什么材料二所述“公开书”销售这么大?(7分)

(2)如何理解材料三中“他划着一支火柴本来是为了看清脚下的路,却点燃了整片森林”?

推动“点燃了整片森林”的力量还有哪些?(8分)

B.【选修2——近代社会的民主思想与实践】

阅读下列材料,回答问题。

材料一 享受英国习惯法的保护,包括由附近地区陪审团审议权利、举行公开集会以讨论群众疾苦的权利、向英王请愿的权利,是殖民地人民的天赋权利。

——第一届大陆会议《殖民地权利宣言》(1774年)

材料二 13个主权国家既彼此争斗,又一起同联邦首都斗,必然会很快地同归于尽。可是,如果我们能制定出一部充满活力的开明的宪法,实行严格的相互制约和相互监督,我们就完全有可能一定程度上恢复我们的尊严和举足轻重的地位。

——华盛顿·欧文《华盛顿传》

(1)指出材料一所述宣言与《独立宣言》对美洲政治属性认识的差异。结合所学知识,分析

出现上述差异的原因。(7分)

(2) 材料二所述独立后的美国政治局面,是如何通过“充满活力的开明的宪法”改变的?(8分)

C. 【选修 4——中外历史人物评说】

阅读下列材料,回答问题。

材料一 雍正五年(1772年)台海知府沈起元条陈台海事宜称:“津泉内地无籍之民,无田可耕,无工可佣,无食可觅。一到台地,上之可以致富,下之可以温饱。”……据统计,台海归统时约有人口 20 万左右,到嘉庆中期,总人口已达 200 万之众。

——陈锋等《中国经济通史》

材料二 1684 年,清政府设立台湾府,下辖台湾、凤山、诸罗三县。……从康熙到嘉庆年间,先后担任府儒学教授的 36 人、训导 23 人,台清县儒学教谕 36 人、训导 25 人,凤山县儒学教谕 34 人、训导 11 人,全部都是福建人。

——陈孔立《台海历史纲要》

(1) 材料一中的“台湾归统”是在怎样的历史背景下出现的?指出材料二所述康熙帝在台湾设一府三县的政治意图。(7分)

(2) 据上述材料,评述康熙帝统一台湾对加强闽台经济、文化联系的积极作用。(8分)

42.(10分) 思想政治

在 A、B 两题中任选一题作答。答题时请在答题卡对应位置上填涂选答题号后面的方框。

A. 【选修 3 ——国家和国际组织常识】

材料一 由于受“全美步枪协会”的影响,美国政府反对联合国旨在打击轻小武器非法贸易的《行动纲领》中的有关限制个人拥有枪支及限制枪支合法生产和交易的条款。

材料二 2011 年至 2012 年 6 月底,我国县乡进行人大换届选举。按照选举法的要求,新一届人大代表选举增加了生产和工作第一线代表名额;实践城乡同比原则。我国社会主义民主政治得到进一步完善和发展。

(1) 材料一中的“全美步枪协会”属于美国的(3分)

A. 利益集团 B. 政府 C. 议会 D. 政党

(2) 有人认为“美国民主能充分体现民意,因而它是符合时代的民主”。请结合上述材料,从国体角度谈谈你的看法。(7分)

B. 【选修 4 ——科学思维常识】

某农场运用生物技术,把杂草、生活垃圾变成有机肥料,施放到农田,用来生产粮食、蔬菜的一部分用来养猪,猪粪与杂草混合,加工成牛饲料;再把牛粪与杂草混合制成高效农肥,经处理后回施到水田,成了养鱼的饵料。在这一良性生态循环的农场里没有废物排放,避免了环境污染,土地又能够重复耕种,解决了土地贫瘠的问题。

(1) 材料中良性生态循环农场的建立运用的思维方法是(3分)

A. 直觉 B. 想象 C. 灵感 D. 聚合思维

(2) 材料如何体现了这一思维方法的特征?(7分)

2012 年普通高等学校招生全国统一考试(福建卷)

文科综合能力测试参考答案

第 I 卷共 36 小题，每小题 4 分，共 144 分。

1——5 CBDAC 6——10 ABCAD 11——15 BDCCB 16——20 DDABA

21——25 BCBAC 26——30 ACABD 31——36 CBDBAC

第 II 卷共 6 大题，共 156 分。

【必考部分】（116 分）

37. (37)

(1) 本区北部以平原为主，南部以低山丘陵为主；地势南高北低；北部海岸线较平直，南部海岸线曲折，多岛屿。

(2) 河流径流量大，携带泥沙量大；位于河流入海口，地势低平，流速缓慢，以堆积作用为主，泥沙大量堆积；地处海陆交界地带，海水的顶托便堆积作用增强，在 R 河的河口地段形成众多的沙洲，

(3) 特点：城镇用地比重明显增大，摊涂比重略有增加；其他各类用地比重减小。不利影响：水资源减少，水质下降；生物多样性减少；城市“热岛效应”增强；生态调节功能减弱。

(4) 城市密集，经济发达，市场需求量大；海陆空交通便捷，信息网络发达，对外辐射能力强；国家政策支持力度大；科技文化水平高，高校多，高素质人才多；占用土地等资源少，能耗低，污染小。

38. (37 分)

(1) 主张：教育救国。意义：有利于提高国民素质，是进步的爱国的。原因：半殖民地半封建社会性质没有改变，此类救国主张无法实现。

(2) 背景：三大战役胜利结束；新民主主义革命即将取得胜利。内涵：解放全中国；开展以工业化为核心的经济建设。

(3) 变化：总体上是增长的，50 年代持续增长；50 年代末 60 年代初下降；60 年代中期恢复。

主要原因：过渡时期总路线的指引、中共八大的正确决策、“一五”计划完成等；“大跃进”、人民公社化运动、自然灾害等，制定并贯彻“调整、巩固、充实、提高”的方针。

原因：经济基础薄弱，缺乏建设经验；任务的长期性、复杂性和艰巨性。

(4) 关系：在总结不同历史时期各种经验的基础上，中国共产党制定的正确的路线、方针、政策成为改革开放取得巨大成功的重要保障。

39. (42 分)

(1) ①对义利关系的探索，推动了人们对义利观认识的不断深化，体现了矛盾是事物发展的源泉和动力。②对义利关系的认识既看到二者的不同，又看到二者的统一，体现了矛盾的对立统一，全面地看问题。

③不同历史时代的义利观各有其特点，体现了矛盾具有特殊性，具体问题具体分析。

(2) ①是党的性质和宗旨的要求，体现党“以人为本，执政为民”的理念，有利于巩固党的执政地位。

②是由我国的国家性质决定的，是我国政府的宗旨、原则及履行职能的要求，有利于提高政府公信力，树立政府权威。

③维护了广大人民的根本利益，有利于调动人民的积极性，构建和谐社会，实现国家富强。

(3) ①市场经济条件下企业追求利益的最大化，是竞争的需要，是企业自身和社会发展的要求。

②社会主义市场经济条件下，企业在追求利益最大化的同时，还必须遵守法律和道德，诚实守信，支持环境保护和公益事业，承担社会责任，推动共同富裕目标的实现。

(4) ①开展多种形式的学雷锋活动，推动学雷锋活动常态化。

②努力提高自己的科学文化修养和思想道德修养。

③弘扬以爱国主义为核心的民族精神，赋予雷锋精神新的时代内涵。

④用社会主义荣辱观引领风尚，建设社会主义核心价值体系。

⑤脚踏实地，从身边做起、从现在做起、从小事做起。

【选考部分】（40分）

40.（15分）地理

A. 【选修2——海洋地理】

（1）基岩海岸。

海岸线曲折，多岛屿，有众多的海蚀地貌景观；海域水浅，光照充足，水生生物多样；亚热带季风气候，气候宜人。

（2）过度捕捞；海洋污染与近岸海域生态环境的破坏；全球气候变化（变暖）等。

B. 【选修5——自然灾害与防治】

（1）崩塌、滑坡、泥石流。

断裂发育，岩石破碎；多河谷，地形坡度大；气候湿热，风化强，多暴雨。

（2）加速地表侵蚀，造成水土流失（生态破坏）；破坏农田、城镇与村庄、工矿企业、道路等；造成人畜伤亡。

C. 【选修6——环境保护】

（1）地域差异：无机物的比重北方多于南方，有机物的比重南方多于北方。

原因：北方冬季气温低，需要燃煤取暖，产生大量煤灰等；南方水热条件好，蔬菜种类多、产量大，产生的菜叶等生活垃圾多。

（2）堆放垃圾占用土地或水域；污染地下水和大气；危害人体健康。

41.（15分）历史

A. 【选修1——历史上重大改革回眸】

（1）主张：建立民族教会；司法权实行政教分离。

原因：反映了德意志民族的迫切要求；印刷技术的应用。

（2）理解：路德原本反对罗马教会兜售赎罪券，结果引发了西欧宗教和世俗社会的改革。

力量：国王、诸侯等；人民群众；卡尔文（加尔文）等教会人士。

B. 【选修2——近代社会的民主思想与实践】

（1）差异：前者是殖民地；后者是独立国家。原因：前者对宗主国英国存在幻想；后者幻想破灭，走上独立战争道路。

（2）改变：改邦联制为联邦制，确立三权分立体制。

C. 【选修4——中外历史人物评说】

（1）背景：镇压地方分裂割据势力，统一已成历史趋势；殖民势力的入侵，威胁清王朝的统治。意图：加强对台湾的管辖。

（2）作用：经济上，大量移民进入台湾，缓解了福建沿海人口和生活压力，促进了台湾经济开发；文化上，输送福建教育人才，促进台湾文化教育发展。

42.（10分）思想政治

A. 【选修3——国家和国际组织】

（1）A

（2）①美国的民主在历史上在历史上曾经起过进步作用，但美国是资产阶级专政的国家，其民主具有隐蔽性、欺骗性和阶级局限性。美国的利益集团机制实质上是少数资产阶级在“民意”的幌子下操控国家权力，根本不能代表广大人民的利益，②我国是人民民主专政的社会主义国家。我国的民主具有广泛性和真实性，体现广大人民的利益，符合时代的要求。随着社会主义民主实践的发展，我国的民主不断成熟、完善，日益显示其强大的生命力和巨大的优越性。

B. 【选修 4——科学思维常识】

(1)D

(2) ①材料中运用逻辑思维方法对建立良性生态循环系统进行聚合思维，体现了聚合思维的过程具有严谨性特征。

②材料中的思维活动都围绕着建立良性生态循环系统这一目标来进行，体现了聚合思维的思路具有归一性特征。

③运用生物技术建立良性生态循环系统，解决了环境污染和土地贫瘠问题，在实践中具有可行性，体现了聚合思维的结论具有可论证性特征。