
2009 杭州市历史与社会和思想品德中考卷

一、选择题 1（本大题有 8 小题，每小题 1 分，共 8 分。请选出各题中一个最符合题意的选项。不选、多选、错选均不给分）

1. 2008 年 10 月，党的十七届三中全会审议通过了《中共中央关于推进农村改革发展若干重大问题的决定》。《决定》指出，必须坚守_____亩耕地这条红线，实施最严格的耕地保护制度和最严格的_____制度，

- A. 15 亿 土地使用 B. 16 亿 土地管理
C. 17 亿地 土地征用 D. 18 亿 节约用地

2. 2008 年 10 月 24 日，第七届亚欧首脑峰会第一次会议在北京举行。重点讨论了当前全球面临的_____问题。

- A. 金融危机 B. 粮食危机 C. 能源危机 D. 恐怖主义

3. 2008 年 12 月 4 日是全国法制宣传日，其主题是弘扬_____，服务_____。

- A. 法治精神 科学发展 B. 中华文化 祖国家园 C. 民族精神 人民大众 D. 抗震精神 灾区人民

4. 2008 年 12 月 18 日，纪念党的十一届三中全会_____周年大会在北京举行。胡锦涛总书记指出，新时期最鲜明的特点是_____。

- A. 20 坚持四项基本原则 B. 30 改革开放
C. 50 高举社会主义旗帜 D. 60 坚持党的领导

5. 2009 年 1 月 19 日，西藏自治区九届人大二次会议一致通过决议，将每年 3 月 28 日设为“西藏_____纪念日”，以纪念 50 年前在西藏进行的民主改革。

- A. 和平解放 B. 改革发展 C. 民主改革 D. 百万农奴解放

6. 2009 年 2 月 2 日，位于南极内陆冰雪最高点冰穹 A 地区的_____举行开站仪式，这是我国首个南极内陆科学考察站。

- A. 长城站 B. 中山站 C. 昆仑站 D. 天山站

7. 2009 年 3 月，一年一度的“两会”在北京召开。“两会”是

- A. 全国人民代表大会和中国人民政治协商会议的简称
B. 中国共产党全国代表大会和全国人民代表大会的简称
C. 全国农村工作会议和中央经济工作会议的简称
D. 中国人民政治协商会议和中国共产党全国代表大会的简称

8. 2009 年 1 月 20 日，宣誓就任美国总统，这是美国历史上首位黑人总统。

- A. 布什 B. 希拉里 C. 奥巴马 D. 麦凯恩

二、选择题Ⅱ（本大题有 25 小题，每小题 2 分，共 50 分。请选出各题中一个最符合题意的选项，不选、多选、错选均不给分）

中国历史上的改革推动了社会发展的进程。据此回答 9—10 题。

9. 有关商鞅变法的说法，正确的是

- ①变法代表了新兴地主阶级的利益 ②“奖赐军功，按功授爵”，是改革的一项及要措施
③改革措施体现了法家思想 ④商鞅被杀说明改革违背了历史发展潮流 A. ①②③④ B. ②③④ C. ①②④ D. ①③④

10. 北魏孝文帝改革促进了社会发展，主要表现在

- A. 打击了隋朝的残暴统治 B. 加快了北方民族融合的步伐
C. 奠定了中国古代经济重心南移的基础 D. 结束了南北长期分裂的局面

11. 1919 年春，胡老太爷从绍兴到上海探亲。此时，他不可能看到

- A. 西式洋楼里，身着旗袍的摩登女郎正在吃西餐
B. 且轮船往来于黄浦江上，汽车行驰在南京路上
C. 报童在大街上叫喊：“卖报！卖报！《申报》头条新闻——巴黎和会召开了”
D. 大孙子正在为进京参加科举考试作准备

12. 下列属于 1929 年——1939 年的常用语是

- A. 经济危机、国家干预经济、法西斯 B. 经济危机、苏维埃政府、联合国
C. 国家干预经济、法西斯、国民公约 D. 苏维埃政府、法西斯、原子弹

13. 1949 年——1953 年，新中国在巩固新生政权方面取得的成就有

- ①抗美援朝战争的胜利 ②建立起社会主义的基本制度
③大陆基本完成土地改革 ④提前完成第一个五年计划 A. ①② B. ③④ C. ①③ D. ②④

14. 下列四幅图中反映我国 20 世纪 70 年代外交成就的有



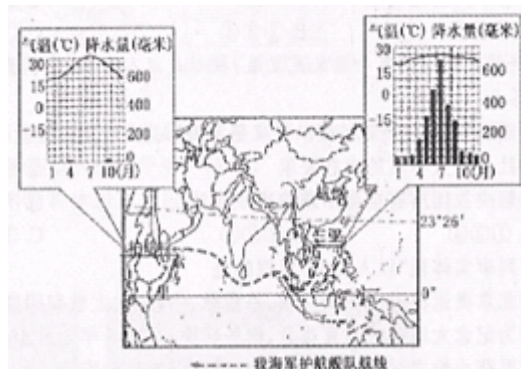
- A. ①③④ B. ①③ C. ②④ D. ①②③④

为打去日益猖獗的海盗活动，2008 年 12 月 26 日，中国首支海军护航舰队从海南三亚启程，赴亚丁湾、索马里海城执行护航任务。

据图回答 15—18 题。

15. 三亚位于杭州的

- A. 东南方向



U . 东北方向

C . 西北方向

D . 西南方向

16 . 亚丁湾、索马里海域属于四大洋中的

A. 太平洋

B. 大西洋

C. 印度洋

D. 北冰洋

17 . 2009 年 1 月 6 日，护航舰队在连续航行 8100 多千米后，顺利到达预定海域。某校九（1）班小华同学在一张地图上量得航线长度为 81 厘米。该图的比例尺是

A . 1 : 10000000 B. 图上 1 厘米代表实际距离 10 千米 C. 1:1000000 D. 1:100

18. 濒临亚丁湾的柏培拉（Bbrbera）是索马里的港口城市，从多年气候统计数据看，该地属于干旱的热带沙漠

气候。而纬度相似的三亚则显得非常湿润。主要原因是

A. 柏培拉不称海

B. 两地经度不同

C. 三亚受夏季风影响大

D. 柏培拉地势高

右图为某地等高线地形图。据图回答 19—20 题。

19. 图中字母 P、S、T、N 分别代表四个地点，其中海拔最高的是

A . P 点 B . S 点

C . T 点 D . N 点

20 . 图中甲、乙、丙、丁代表四条小河，画法明显错误的是

A. 甲 B. 乙

C. 丙 D. 丁

21 . 右图中被解山环绕的甲区域是我国著名的四大盆地之一，该盆地是

A . 柴达木盆地

B . 塔里木盆地

C . 准格尔盆地


D . 四川盆地

22 . 右边漫画的寓意是

A . 要尊重老年人

B . 不要溺爱孩子

C . 要减轻学生的课业负担



D. 小孩子不要太调皮

23. 据国家版权局统计,在北京奥运会开幕式结束后三天,精彩的开幕式盛况饭盗俩播了1600多起,其中85%发生在发达国家。这是侵害

A. 隐私权的行为 B. 生命健康权的行为 C. 名誉权的行为 D. 知识产权的行为

24. 根据《中华人民共和国宪法》,下列机关中有权制定地方性法规的是

A. 中共杭州市委 B. 杭州市法院 C. 杭州市人大 D. 杭州市政协

25. 我国公民享有广泛而真实的权利,有少年在行使自己的权利时

① 必须在法律允许的范围内行使 ② 必须在老师或家长同意的情况下行使

③ 应在不妨碍自己个性、爱好发展的前提下行使 ④ 不得损害国家、社会、集体的利益

A. ① ② B. ① ④ C. ② ③ ④ D. ① ② ④

26. 作为一名成熟的消费者,应该

① 不迷信广告宣传 ② 不买“三无”产品

③ 既不买便宜货也不买高档商品 ④ 购物后索要发票或凭证

A. ① ③ ④ B. ② ③ ④ C. ① ② ③ D. ① ② ④

科学发展观的第一要义是发展;核心是以人为本;基本要求是全面协调可持续;根本方法足统筹兼顾。据此回答27—30题。

27. 在理解“科学发展观的第一要义是发展”时,要着重抓住发展生产力这一关键,这是因为,大力发展生产力是

① 社会主义本质的内在要求 ② 推动社会全面进步的根本动力

③ 解决我国所有社会矛盾的唯一方法 ④ 不断增强综合国力,提高我国国际地位的途径

A. ① ② ④ B. ② ③ ④ C. ① ③ ④ D. ① ③ ④

28. 下列事实体现“以人为本”思想的是

① 北京奥运村设有伊斯兰教、基督教、佛教、犹太教和印度教的宗教中心

② 为纪念大地震中的死难者,国务院决定2008年5月19日至21日为全国哀悼日

③ 抓获小偷之后,将其挂牌示众,以此促进社会安定

④ 杭州城区增设公交自行车网点,方便市民租用

A. ① ② B. ①②④ C. ① ③ D. ② ③ ④

29. 下列观点与“全面协调可持续”思想相一致的是

① 选举权和被选举权是公民最基本的权利

② 正确处理改革、发展、稳定三者的关系

③ 努力把我国建设成为资源节约型、环境友好型社会

④ “一个中心”与“两个基本点”互相依存、缺一不可

A . ① ② B. ① ③ ④ C . ① ③ D. ② ③ ④

30 . 作为根本方法的“统筹兼顾”，同样可以指导中学生的学习和生活。为此，我们

① 应该根据自己爱好，全力以赴培养自己的特长

② 既要掌握课内知识，又要吸取课外的知识

③ 在提高学习成绩的同时，重视身体锻炼，提升道德素养

④ 务必一心一意读书，国事、家事、他人事，事事不关心

A. ① ② B. ① ③ ④ C . ② ③ D. ② ③ ④

31 . 2008 年 12 月 15 日，两岸空运、海运直航和直接通邮启动，标志着两岸全面“三通”基本实现，这表明

A . 中国的统一是世界各国的根本利益 B. 两岸的敌对状态从此一去不复返 C. 两岸同胞交往和交流更加便捷

D . “和平统一，一国两制”全面实现

32 . 2009 年初，杭州市面向低保和困难家庭、企业退休人员、中小學生等 50 万居民发放了总额为 1 亿元的消费券。这一做法

① 符合执政为民的理念② 是落实依法治国方略的具体表现③ 对生产具有刺激作用④是消除贫困，走向共同富裕的根本办法

A . ① ③ B. ① ③ ④ C . ① ② D. ② ③ ④

33 . 从 2002 年以来，连续八年，杭州市查处党员干部违纪违法案件的数量都在 1000 件左右。今年 1 — 4 月份共查处 234 起案件，同比下升 11 . 4 %。可见杭州市的反腐倡廉

① 富有成效② 刚刚起步③ 大功告成④ 任重道远

A . ① ④ B . ① ③ ④ C . ① ③ D . ② ③ ④

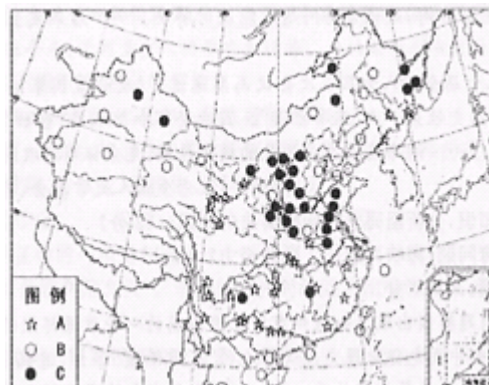
三、非选择题（本大题有 5 小题，按序为 8 分、8 分、8 分、7 分、11 分，共 42 分）

34 . 下图是“我国三种主要能源产地分布示意图”，读图回答下列问题。（共 8 分）

（1）图例 A 所代表的是_____。图例 B 所代表的是_____。图例 C 所代表的是_____。（3 分）

（2）C 所代表的能源主要分布在我国_____。（2 分）

（3）目前，我国东部地区 A 能源的生产远远不能满足需要，除了在东部地区增加 A 能源



的生产外，你认为还可以采取哪些合理措施解决东部地区 A 能源的供需矛盾？（3 分）

35. 浮雕是历史的丽卷，碑文是历史的陈诉。下列材料体现了中国人民百年来前赴后继、英勇奋斗的光辉历程。阅读材料，回答下列问题。（共 8 分）

材料一：人民英雄纪念碑部分浮雕图



材料二：三年以来，在人民解放战争和人民革命中牺牲的人民英雄们永垂不朽！三十年以来，在人民解放战争和人民革命中牺牲的人民英雄们永垂不朽！由此上溯列一千八百四十年，从那时起，为了反抗内外敌人、争取民族独立和人民自由幸福，在历次斗争中牺牲的人民英雄们永垂不朽！

（1）浮雕 1 反映了材料二中所说的“三年以来”的哪一历史场景？（1 分）

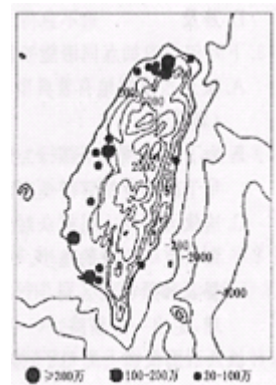
（2）写出浮雕 2 反映的“揭开中国新民主主义革命序幕”的事件名称，这一事件取得了哪些初步胜利？（4 分）

（3）浮雕 3 反映了“南昌起义”这一历史场景，请你说说它的历史意义。（1 分）

（4）浮雕 4 反映的是自 1840 年以来，中国人民在反抗侵略的斗争中取得的第一次完全胜利。这是什么历史事件？它胜利的伟大意义还有哪些？（2 分）

36. 台湾是我国神圣领土上不可分割的一部分。近年来，台湾与大陆之间的经

贸交流和人员往来越来越频繁。阅读下列材料，结合所学知识回答问题。



(共 8 分)

材料一：台湾岛等高线和主要城市分布示意图。

(1) 从台湾东部海域开始，按逆时针方向，台湾岛濒临的海域分别是太平洋、_____、台湾海峡、_____。(2 分)

(2) 根据材料一说明台湾岛城市分布与地形的关系。(2 分)

材料二：……不久爆发了朝鲜战争，美国海军第七舰队进入台湾海峡，空军第十三航空队进驻台湾，致使台湾问题没能及时解决。

……后来发生了“文化大革命”，使对台工作受到严重干扰。

2005 年 3 月 14 日，十届全国人大第三次会议高票通过了《反分裂国家法》……大陆“海协会”与台湾“海基会”……实现了历史性第一次“汪辜会谈”。因李登辉和陈水扁“台独”立场干扰破坏，“海协会”和“海基会”中断联系多年。……两岸政党高层领导的频繁接触，充分证明海峡两岸关系发展的良好势头。——《纪念全国人大常委会〈告台湾同胞书〉发表 30 周年》

(3) 根据材料二及所学知识，分析障碍台湾问题解决的因素。(2 分)

(4) 三十年来为解决台湾问题，海峡两岸作了哪些努力？(2 分)

37. 阅读以下材料，回答问题。(共 7 分)

近几年，食品安全问题频频出现，如杭州市场上畅销的一种碧绿鲜嫩的海带，是用印染化工染料浸泡山来的“毒海带”。又如中央电视台曝光武汉等地的“人造蜂蜜”事件，造假分子在假蜂蜜中加入了增稠剂、甜味剂、防腐剂、香精和色素等化学物质。“毒海带”经营者和蜂蜜造假分子都受到了法律的制裁。

在杜绝造假、售假现象的献计献策会议上，有人提出：要彻底消除食品安全问题，必须取缔所有的小商小贩。

(1) 请另列举一个食品安全问题的具体事例。(1 分)

(2) 蜂蜜造假分子和“毒海带”经营者共同侵害了消费者的哪些合法权益？(2 分)

(3) 运用“我国基本经济制度”的相关知识，分析“必须取缔所有的小商小贩”这一说法的错误。(4 分)

38. 阅读以下材料，回答问题。(共 11 分)

回望 2008 年，悲喜交集，惊叹难忘，从年初夺取抗击“冰雪灾害”的胜利，到挫败 3.14 “藏独分子”的捣乱；从汶川大地震的悲憾，到神七“太空漫步”的壮举和成功举办北京奥运会、残奥会；在世界金融风暴面前我们从容面对，“中国信心”成为世界战胜经济危机的旗帜！中国人让世界瞩目！让国人奋起！2008 年，我们胜利了！

(1) 世界金融风暴的发生，反映了当今世界经济的什么基本特征？(1 分)

(2) 材料能否说明我国已经成为世界发达国家？为什么？(4 分)

(3) 分析“2008 年，我们胜利了”的原因。(6 分)

思想品德·历史与社会参考答案

一、选择题（第1—8题每题1分，第9—33题每题2分，满分58分）

题号	1	2	3	4	5	6	7	8	9	10	11
答案	D	A	A	B	D	C	A	C	A	B	D
题号	12	13	14	15	16	17	18	19	20	21	22
答案	A	C	A	D	C	A	C	B	B	A	C
题号	23	24	25	26	27	28	29	30	31	32	33
答案	D	C	B	D	A	B	D	C	C	A	A

二、非选择题（共5小题，共42分）

34.（8分）

- （1）水电（电力）、石油、煤炭，
- （2）主要分布在华北和西北地区。
- （3）节约用电、跨区域调配（从中部输电）。

35.（8分）

- （1）胜利渡长汉（渡江战役）。
- （2）五四运动。初步胜利，释放被捕学生，罢免了曹汝霖等人的职务，拒绝在巴镇和约上签字。
- （3）打响武装反抗的第一枪，是中国共产党创建军队的开始。
- （4）抗日战争。抗战的胜利显示了中华民族的觉醒和民族团结的巨大力量，为世界反法西斯战争作出了重要贡献。

36.（8分）

- （1）东海、南海，
- （2）主要分布在平原地区。
- （3）阻碍因素：美国的介入（美国海军第七舰队进入台湾海峡）、文化大革命的干扰；台独势力。

作出的努力：《告台湾同胞书》；“一国两制”的提出，“汪辜会谈”；《反分裂国家法》；两岸政党高层领导的频繁接触；两岸三通。

37.（7分）

- （1）事例具体、表达到位。
- （2）侵害了消费者的安全权、公平交易权、知情权。
- （3）因为小商小贩属于非公有制经济，非公有制经济是社会主义市场经济的重要组成部分。现阶段，发展非公有制经济对充分调动社会各方面积极性，加快生产力发展具有重要的作用。我国鼓励、支持和引导非公有制经济的发展

38. (11 分)

(1) 反映了经济的全球化。

(2) 材料不能说明我国已经成为世界发达国家。因为我国仍处于社会主义初级阶段。生产力水平还比较低；科学技术水平、民族文化素质还不够高；社会主义具体制度还不完善。

(3) 略。