

# 江苏省宿迁市 2010 年初中毕业暨升学考试

## 政治·历史

### 答题注意事项

1. 答案全部写在答题卡上，写在本试卷上无效。
2. 答选择题时使用 2B 铅笔，把答题卡上对应题号的选项字母涂满、涂黑。如需修改，要用绘图橡皮轻擦干净再选涂其他选项。
3. 答非选择题使用 0.5mm 黑色签字笔，在答题卡上对应题号的答题区域书写答案。注意不要答错位置，也不要超界。
4. 本试卷为政史合卷，请注意分配答题时间。

本试卷分第 I 卷（选择题，第 1—33 题）和第 II 卷（非选择题，第 34—40 题）两部分。第 I 卷 1 至 4 页，第 II 卷 5 至 8 页。满分 110 分（政治 50 分，历史 60 分）。考试时间 100 分钟。闭卷考试。

### 第 I 卷（选择题，共 48 分）

第 I 卷共 33 题，其中第 1—18 题为政治部分，每小题 1 分；第 19—33 题为历史部分，每小题 2 分。每小题的四个选项中，只有一个选项最符合题意。

1. 2010 年 1 月 11 日，国家科学技术奖励大会在北京人民大会堂隆重举行，▲和▲两位院士获得 2009 年度国家最高科技奖。  
A. 叶笃正 吴孟超                      B. 谷超豪 孙家栋  
C. 王忠诚 徐光宪                      D. 闵恩泽 吴征镒
2. 2009 年 12 月 7 日，联合国      大会在丹麦哥本哈根开幕。本次会议主要讨论《京都议定书》第一承诺期到期后的温室气体减排工作。  
A. 经济发展      B. 绿色环保      C. 金融危机      D. 气候变化
3. 今年我市各校都不定期举行地震逃生演练活动。小明同学对此不以为然：又没发生地震，用得着那样练吗？他的看法  
A. 错误，因为这种演练有助于增强珍爱生命的意识  
B. 正确，因为人的生命独特性突出表现在与众不同  
C. 错误，因为这种演练是实现生命价值的唯一途径  
D. 正确，因为参加演练活动一定会使学习成绩下降
4. “有什么比石头更硬？有什么比水更软？坚持不懈，水滴石穿。”这句谚语告诉我们培养和锻炼意志要  
A. 独立行事，拒绝外援                      B. 顺其自然，听天由命  
C. 固执己见，我行我素                      D. 持之以恒，善始善终
5. 当你遭遇不法侵犯时，你认为下列做法不可取的是  
A. 稳住歹徒，巧妙周旋                      B. 不顾一切，以死相拼  
C. 拨打“110”，求助警方                      D. 讲究智斗，减免损伤
6. 从 2009 年 12 月到 2010 年 5 月底，全国“扫黄打非”办在全国范围内联合开展了整治互联网和手机媒体淫秽色情及低俗信息专项行动。这一举措体现了对未成年人的  
A. 家庭保护      B. 学校保护      C. 社会保护      D. 司法保护
7. 权利的实现需要义务的履行，义务的履行确保权利的实现。这表明权利和义务具有

- A. 一致性      B. 平等性      C. 矛盾性      D. 双重性
8. 有人说：“沟通是一座桥，渡你淌过疑水；沟通是一溪水，帮你浇熄怒火。”这表明沟通可以
- A. 避免分歧，消除差异      B. 加深理解，化解矛盾  
C. 宽容自己，苛求他人      D. 彼此信任，事事忍耐
9. 俗话说：“半大小子，气死老子。”许多家长报怨说，孩子进入初中后特别不听话，叫他向东他偏向西，不让他干他非要干。孩子的这种心理属于
- A. 从众心理      B. 逆反心理      C. 攀比心理      D. 自卑心理
10. 温家宝总理在今年两会后答记者问时指出，“公平正义比太阳还要有光辉”。这是因为公平正义是
- ①社会稳定和发展的需要      ②人类追求的唯一目标  
③我国现阶段的根本任务      ④构建和谐社会的需要
- A. ①②      B. ①③      C. ②③      D. ①④
11. 2009年7月16日，教育部、国家民委印发的《全国中小学民族团结教育工作部署视频会议纪要》指出，我国将把民族团结教育纳入小学阶段考查和中、高考及中职毕业考试范围。这一举措有利于
- ①增强学生民族团结的意识      ②建立民族平等、共同繁荣的新型民族关系      ③提升各民族的凝聚力和向心力      ④实现社会的稳定和国家的长治久安
- A. ①②③      B. ①②④      C. ①③④      D. ②③④
12. 右边漫画中，谷歌公司侵犯了权利人的
- A. 智力成果权  
B. 生命健康权  
C. 人生自由权  
D. 人格尊严权
13. 2009年度“感动中国人物”李灵，走街串巷收购旧书，用汗水载回孩子们的“精神食粮”；她挑着孩子们沉甸甸的梦想，欠债办起了希望小学……她被网友称为“‘80’后最美乡村女校长”。李灵的“美”集中体现在
- A. 团结与合作      B. 开拓与创新      C. 责任与奉献      D. 爱国与守法
14. “一根筷子轻轻被折断，十双筷子牢牢抱成团。”这句歌词告诉我们要
- A. 加强个人修养      B. 坚持集体主义  
C. 积极奉献社会      D. 培育文明风尚
15. 爱国主义是民族精神的核心，下列能体现这一核心的说法有
- ①差之毫厘，谬以千里      ②天下兴亡，匹夫有责  
③位卑未敢忘忧国      ④苟利国家，不求富贵
- A. ①②③      B. ①②④      C. ①③④      D. ②③④
- 2010年3月14日，第十一届全国人民代表大会第三次会议作出了关于修改选举法的决定，我国将实行城乡按相同人口比例选举人大代表。据此回答16~17题
16. 材料表明，全国人民代表大会是我国最高
- A. 权力机关      B. 行政机关      C. 审判机关      D. 检察机关
17. 全国人大的这一决定有利于进一步保障公民的
- A. 监督权      B. 建议权      C. 政治自由      D. 选举权与被选举权
18. 下表反映了我市张强一家出行方式的变化

1980年	1990年	2000年	2010年
步行	骑自行车	骑摩托车	乘小轿车

发生这种变化的原因有

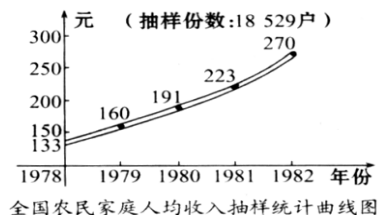
①我市经济的发展②我市居民收入的增加 ③全面小康的实现 ④改革开放政策的实行

A. ①②③ B. ①③④ C. ①②④ D. ②③④

19. “知足常乐”源于古代“无为而治”思想，提出这一思想的学派是  
A. 儒家 B. 法家 C. 道家 D. 墨家
20. “北通涿郡（北京）之渔商，南运江都（扬州）之转输，其为利也博哉！”是对古代哪一水利工程历史作用的评价  
A. 郑国渠 B. 白渠 C. 大运河 D. 都江堰
21. 在某朝代的疆域示意图中，我们宿迁地区位于“河南江北行省”。这一朝代是  
A. 秦朝 B. 汉朝 C. 唐朝 D. 元朝
22. 一学习小组开展以“明清时期反抗外来侵略”为主题的历史探究活动，其收集的资料中不恰当的是  
A. 戚继光抗倭 B. 岳飞抗金  
C. 郑成功收复台湾 D. 雅克萨之战
23. 上海开始融入世界是在近代哪一条约之后  
A. 《南京条约》 B. 《北京条约》 C. 《马关条约》 D. 《辛丑条约》
24. 张謇是近代著名民族企业家，其创建的大生纱厂是近代民族资本主义发展的一个缩影。你认为大生纱厂经营“最景气”时期是在  
A. 甲午战争后 B. “一战”期间  
C. 抗日战争时期 D. 解放战争时期
25. “重走长征路”摄制组想拍摄长征途中具有生死攸关意义的会议场景，他们应到  
A. 瑞金 B. 遵义 C. 南昌 D. 井冈山
26. 在央视“非常6+1”知识竞答中，一选手对屏幕提示（如下）所反映的历史事件难以决断。若给你打求助电话，你应该选择  
A. 平型关大捷  
B. 台儿庄战役  
C. 百团大战  
D. 淞沪会战

彭德怀  
1940年、华北  
粉碎日军“囚笼政策”

27. 右图反映了1978年以来我国农民家庭人均收入的变化情况。这一变化的主要原因是  
A. 土地改革的完成  
B. 农业生产合作社的开展  
C. 大跃进和人民公社化运动的掀起  
D. 家庭联产承包责任制的实行



28. 古印度是世界文明发源地之一，其文明成就突出表现在  
A. 形成种姓制度 B. 制定《汉谟拉比法典》  
C. 建造金字塔 D. 实行民主政治
29. “公元1500年前后的地理大发现，拉开了不同国家相互对话和相互竞争的历史大幕。”对文中的“地理大发现”作出重大贡献的是  
A. 张骞 B. 玄奘 C. 郑和 D. 哥伦布
30. 下列哪一文献奠定了君主立宪政体的理论和法律基础  
A. 《人权宣言》 B. 《权利法案》 C. 《独立宣言》 D. 《1787年宪法》
31. 以“解放”农民为突破口，使国家逐步走上资本主义发展道路的重大改革是  
A. 俄国1861年改革 B. 中国戊戌变法

- C. 日本明治维新  
D. 美国废除黑人奴隶制
32. 为资本主义进行体制性自我调整、实施国家干预经济提供宝贵经验的是  
A. 战时共产主义政策  
B. 新经济政策  
C. 罗斯福新政  
D. 法西斯专政
33. 20世纪80年代末90年代初以来世界政治格局表现为  
A. 同盟国和协约国的对峙  
B. 凡尔赛—华盛顿体系  
C. 雅尔塔体制  
D. 多极化趋势发展

## 第II卷（非选择题，共62分）

第II卷共7题，第34—36题为政治部分，计32分；第37—40题为历史部分，计30分。

- 34.（本题10分）生活中，我们常会发现如下现象：

镜头一：有些同学经常在校门口附近的小摊上购买到劣质食品。

镜头二：少数同学象右边漫画中同学那样，穿着追求“名牌”。

镜头三：一些同学常使用发泡塑料餐盒、一次性塑料袋盛装食品。



“嘿，我穿的‘名牌’！”

请结合所学知识，回答下列问题：

- (1) 镜头一中的学生作为消费者\_\_\_\_\_▲\_\_\_\_\_权被侵犯。（2分）
- (2) 镜头二中少数同学的消费行为与我们所提倡的\_\_\_\_\_①▲\_\_\_\_\_精神不相符合。（2分）发扬这种精神我们应该  
在学习上：\_\_\_\_\_②▲\_\_\_\_\_；（1分）  
在生活上：\_\_\_\_\_③▲\_\_\_\_\_。（1分）
- (3) 你对镜头三中这些同学的做法赞同吗？为什么？（4分）

- 35.（本题10分）孔子是我国春秋末期一位著名的思想家、政治家、教育家，他的教育思想集中体现在《论语》一书之中，该书内容丰富，包括伦理、教育、哲学、政治、经济、历史等方面，千百年来广为流传。

阅读材料，并结合所学知识回答下列问题：

- (1) 《论语》一书内容丰富，广为流传折射出中华文化的特点是：\_\_\_\_\_▲\_\_\_\_\_、\_\_\_\_\_▲\_\_\_\_\_。（2分）
- (2) 孔子的教育思想对于青少年健康成长有着积极的影响。请你用直线将左边的提法和右边孔子的格言对应连起来。（5分）

交往篇	言必行，行必果。
惜时篇	不学礼，无以立。
学习篇	己所不欲，勿施于人。
诚信篇	逝者如斯夫，不舍昼夜。


- (3) 依据上题中孔子的格言，结合自身实际谈谈你应该如何做？（3分）（友情提醒：至少写出三个方面，不得照抄上题中原句）

- 36.（本题 12 分）2010 年上海世博会在万众瞩目中如期举行，某校九年级（2）班以“喜看上海世博 畅想宿迁园博”为主题召开班会。

**【了解世博】**

第一组同学展示了收集到的上海世博会的相关信息，如下：

主题：城市，让生活更美好



会徽



吉祥物

依据上述信息，回答问题（4 分）

- (1) ①上海世博会于 2010 年     ▲     月     ▲     日至 10 月 31 日举行；（1 分）上海世博会吉祥物的名称是     ▲    。（1 分）  
②会徽以绿色为主色调，吉祥物以“人”为核心创意，符合科学发展观的理念，这一理念的核心是     ▲    。（2 分）

**【理解世博】**

第二组同学介绍到世博会举办期间，在世博园区内一千辆新能源汽车的尾气实现“零排放”；世博会的照明全面使用半导体照明（LED），在不减少亮度的基础上可节省能源百分之九十；世博园区的太阳能发电总功率预计可达十兆瓦……

- (2) 结合所学知识，谈谈材料中的“零排放”、“LED”、“太阳能”体现了我国实施的哪些国策或战略？（4 分）

【畅想园博】

第三组同学在关注世博会的同时，还从网络上获知，第七届江苏省园艺博览会将于 2011 年 9 月 26 日在宿迁市湖滨新城开发区举行，届时我省各市将齐聚宿迁，全面展示各地园林绿化建设和园林事业发展的成果。为了让更多的市民了解、关注本次园艺博览会，他们倡导全校师生参与以下活动。

(3) 请你参与其中，为本次园艺博览会 (4 分)

①设计一条主题标语：\_\_\_\_\_▲\_\_\_\_\_。(2 分)

②设计一个吉祥物：以\_\_\_\_\_▲\_\_\_\_\_核心创意，(1 分)

理由是：\_\_\_\_\_▲\_\_\_\_\_。(1 分)

37. (本题 8 分) 迄今为止，人类社会已进行了三次科技革命，第三次科技革命仍方兴未艾。科技革命给世界、也给中国产生了深刻影响。请回答：

(1) 分别列举三次科技革命标志性的发明或应用 (各举 1 例)。(3 分)

(2) 前两次科技革命分别把人类社会推进到什么时代? (2 分) 19 世纪 60—90 年代中国曾掀起“师夷长技以自强”的一场运动，历史上称作什么? (1 分)

(3) 新中国成立后，党和政府高度重视科技发展、紧抓第三次科技革命机遇，20 世纪 80 年代为加快发展高技术而作出的重大决策是什么? (2 分)

38. (本题 8 分) 某班同学在观看新中国建国 60 周年庆典后，想了解 1919 年以来中华民族的奋斗历程，他们发现在九十年的历史进程中，中华民族经历了“三个三十年”的伟大探索与实践，于是分成三个小组对三个阶段开展探究学习。

请你加入他们的学习活动并积极发表意见：

(1) 第一小组 (1919—1949 年)：学习中决定搞一期“新民主主义革命图片展”，一位同学将《武昌首义》图片列入其中。你认为适合吗？说明理由。(3 分)

(2) 第二小组 (1949—1979 年)：在梳理重大事件后，认为在 1956 年、1978 年有两件大事推动了中国社会的历史性转折。你认为哪两件大事? (2 分)

(3) 第三小组 (1979—2009 年)：想给学习活动明确一个主题，你觉得在“民族独立”、“曲折发展”、“和平崛起”三个词语中，哪一个最贴切? (1 分)

(4) 在深入学习后，大家对中国共产党的领导地位有了进一步认识。请你简要加以概括。(2 分)

39. (本题 6 分) 上个世纪 90 年代以来, 经济全球化趋势迅速发展, 在加速世界经济发展和繁荣的同时, 也加剧了全球竞争中的利益失衡。阅读下列材料:

材料一: 我市某城区的一组图片



第一幅



第二幅



第三幅

材料二: 古巴前领导人菲德尔·卡斯特罗说: “由于不公正的国际经济秩序, 经济全球化并没有使广大的发展中国家从中受益, 反而造成富国愈富、穷国愈穷”。

材料三: “坚持对外开放的基本国策, 把‘引进来’和‘走出去’更好结合起来, 扩大开放领域, ……形成经济全球化条件下参与国际经济合作和竞争新优势。”

——胡锦涛“十七大”报告

请回答:

(1) 材料一中的哪幅图片能反映出“经济全球化就在我们身边”? (1 分)

(2) 根据材料二, 指出经济全球化对世界经济产生了怎样的影响? (2 分)

(3) 材料三反映了中国对经济全球化趋势持何态度? (1 分) 本世纪初, 最能体现中国这一态度的重大举措(事件)是什么? (2 分)

40. (本题 8 分) 新疆, 以她迷人的西域风情、悠久的文明历史, 令人神往和遐想。让我们走进新疆, 追溯历史、憧憬明天。

(1) 从西汉到隋唐的千余年间, 一条商路穿越新疆、蜿蜒西行, 把古老的中国文化与印度、波斯、阿拉伯以及古希腊、罗马文化连接起来。请写出这条商路的名称。(2 分)

(2) 清朝前期, 为维护国家统一, 清政府在新疆地区采取了哪些平叛行动和加强管辖措施? 针对 19 世纪 60、70 年代阿古柏侵入新疆, 清政府又采取了什么重大行动? (3 分)

(3) 新中国建立后, 1955 年设立新疆维吾尔自治区、2010 年中央安排 19 个省市对口援建新疆, 你认为这些举措有何意义? (3 分, 不少于 3 点)

历史参考答案 (60 分)

---

一、选择题（30分）

19. C    20. C    21. D    22. B    23. A    24. B    25. B    26. C    27. D    28. A  
29. D    30. B    31. A    32. C    33. D

二、非选择题（30分）

37.（1）第一次：蒸汽机或火车（蒸汽机车）、汽船（1分）；第二次：电机、内燃机或相应的发明成就（1分，答出1点即可）；第三次：电子计算机、原子能、空间技术、生物工程及成果（1分，答出1点即可）

（2）“蒸汽时代”、“电气时代”（2分）“洋务运动”（1分）

（3）制订“863计划”或中国高技术发展计划纲要（《高技术研究发展计划纲要》）（2分）

38.（1）不适合。（1分）因为武昌起义爆发于1911年，是资产阶级民主革命或旧民主主义革命。（2分，答出时间或性质均可）

（2）三大改造完成、十一届三中全会召开（2分）

（3）和平崛起。（1分）

（4）只有中国共产党才能救中国或只有中国共产党才能发展中国或中国共产党是中国革命和建设事业的领导核心。（2分，价值观正确即可）

39.（1）第三幅。（1分）

（2）经济全球化扩大了发达国家与发展中国家的贫富差距或没有使广大发展中国家从中受益或造成富国愈富、穷国愈穷。（2分）

（3）积极参与。（1分）加入世界贸易组织（WTO）。（2分）

40.（1）丝绸之路（2分）

（2）平定准噶尔部及大、小和卓木叛乱（1分，答出1点即可）；设（派驻）伊犁将军（1分）；派左宗棠收复新疆（1分）。

（3）有利于少数民族当家作主，有利于经济的快速发展，有利于促进民族团结，有利于维护国家统一，有利于把国家政策同少数民族地区具体实际结合起来，有利于把国家的发展和少数民族的发展结合起来，有利于推进“西部大开发”战略等。（3分，答出3点即可，有其他答案只要观点正确、言之有理也可酌情给分）



题号									
答案									
题号	0	1	2	3	4	5	6	7	8
答案									

## 政治参考答案 (50分)

### 一、选择题 (18分)

### 二、非选择题 (32分)

34. (1) 安全权、知情权、公平交易权 (答对其一即可给 2 分)

(2) 艰苦奋斗 (2 分)

学习上: 顽强拼搏或自强不息; (1 分) 生活上: 艰苦朴素或勤俭节约。(1 分)

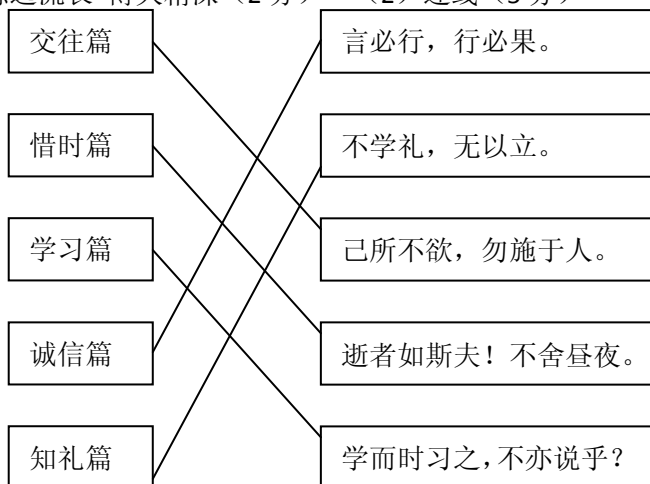
(其他言之有理亦可)

(3) 不赞同, 这是不合理消费。(1 分)

理由是: 这样做既不利于自己的身心健康, 也不利于社会的可持续发展。(3 分)

(若学生从“在消费过程中, 我们应该用环保的眼光去选购商品, 坚持绿色消费”角度作答可酌情给分。)

35. (1) 源远流长 博大精深 (2 分) (2) 连线 (5 分)



(3) 做法: 与人为善、换位思考; 珍惜学习时间; 掌握学习方法; 诚信做人; 礼貌待人等。(答出其中三方面即可得 3 分, 其它言之有理可酌情给分)

36. (1) 时间: 5 月 1 日 (1 分) 名称: 海宝或四海之宝 (1 分) 核心: 以人为本 (2 分)

(2) 节约资源; 保护环境; 可持续发展战略; 科教兴国战略。(答出两点即可得 4 分)

(3) ①主题标语: 精彩园艺, 休闲绿洲; 湖光园影, 酒醉绿都; 喜迎园艺博览, 走进绿色宿迁; 相约西楚古都 共享和谐自然; 一花一世界 相约在宿迁; “园”聚宿迁, “艺”揽天下等。(2 分, 答出一点即可, 其他言之有理亦可)

②示例 1: 以奔腾的“骏马”为核心创意, 理由是奔腾的“骏马”象征着敢试敢闯、自立自强的宿迁精神。

示例 2: 以挺拔的“杨树”为核心创意, 理由是挺拔的“杨树”(市树), 既象征着宿迁人蓬勃

---

向上的精神，又体现宿迁人的环保理念。

示例 3：以飘香的“桂花”为核心创意，理由是飘香的“桂花”（市花）代表着“花都之乡”，展现了热情好客的宿迁人对美好生活的向往。

（其他凡体现宿迁精神、生态、环保等要素的均可）