

2016年湖南省益阳市中考真题地理

一、选择题（下列各题只有一个符合题意的选项，每题2分，共40分。）

湖南卫视2016年2月25日新闻报导：2月24日19时48分16秒，桃江县境内发生里氏3.2级地震，震中位于桃江县境内（北纬28.56度，东经112.04度），震源深度7公里。据地震专家介绍，里氏3.2级地震属有感地震，人们能够感觉到，一般情况下不会对地面建筑物造成破坏。据此回答下列各题。

1. 家住长沙市的小明想知道桃江县在哪，需查阅（ ）

- A. 中国气候分布图
- B. 世界政区图
- C. 湖南省政区图
- D. 长沙市交通图

解析：在庞大的地图家族中，有自然地图和社会经济地图。自然地图包括地形图、气候图、水文图、植被图等，社会经济地图包括工业图、农业图、商业图、交通图、人口分布图等。日常生活中，我们应根据实际需要选择合适的地图。所以家住长沙市的小明想知道桃江县在哪，需查阅湖南省政区图。

答案：C

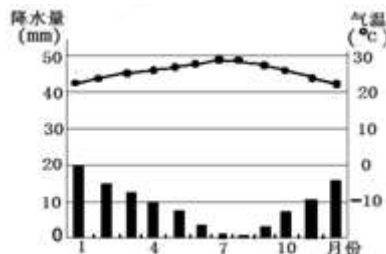
2. 据桃江县县志记载：有史以来，桃江县境内没有发生过里氏5级以上的地震。其原因可能是由于桃江县（ ）

- A. 位于环太平洋地带
- B. 位于板块的内部
- C. 位于板块的交界处
- D. 位于地中海—喜马拉雅地带

解析：板块运动学说认为，由岩石组成的地球表面并不是一块整体，而是由板块拼合而成的。全球大致划分为亚欧板块、太平洋板块、非洲板块、美洲板块、印度洋板块和南极洲板块六大板块，各大板块处于不停的运动中。一般来说，板块内部地壳比较稳定；板块与板块的交界地带，地壳比较活跃。世界上的火山地震，也集中分布在板块交界的地带。世界上两大火山地震带是环太平洋火山地震带和地中海—喜马拉雅山地震带，桃江县属于我国的湖南省，位于板块内部。

答案：B

3. 如图为某地各月降水柱状和气温曲线图，该地的气候特征是（ ）



- A. 全年温和湿润
- B. 夏季炎热干燥，冬季温和多雨
- C. 全年高温，降水稀少

D. 夏季高温多雨，冬季温和少雨

解析：读图可知，从气温上看，各月气温都在 20℃ 以上，全年高温；从降水上看，降水最多的 1 月只有 20 毫米，其他月份均低于 20 毫米，降水稀少。因此气候特点为全年高温，降水稀少，应为热带沙漠气候；故选项 C 符合题意。

答案：C

4. 下列组织最不能体现“南南合作”的是（ ）

- A. 东盟（东南亚国家联盟的简称）
- B. 上海合作组织（中国、俄罗斯、以及中亚四国）
- C. 欧盟（欧洲主要国家联盟的简称）
- D. 金砖国家（俄罗斯、中国、巴西、印度和南非之间的合作）

解析：东南亚国家都属于发展中国家，因此东盟之间的合作属于南南合作，故 A 不符合题意；中国、俄罗斯、以及中亚四国都属于发展中国家，因此上海合作组织成员国之间的合作属于南南合作，故 B 不符合题意；欧盟成员国大多为发达国家，因此欧盟国家之间的合作不属于南南合作，故 C 符合题意；金砖国家（俄罗斯、中国、巴西、印度和南非）都属于发展中国家，因此金砖国家之间的合作属于南南合作，故 D 不符合题意。

答案：C

5. 有关日本和澳大利亚的说法，正确的是（ ）

- A. 都是岛国，且多火山地震
- B. 都位于东半球、北半球
- C. 都属热带国家
- D. 都濒临世界最大的海洋

解析：A、澳大利亚是大洋洲面积最大的国家，也是世界上唯一独占一块大陆的国家。故 A 不符合题意；B、澳大利亚位于南半球。故 B 不符合题意；C、日本主要属温带季风气候和亚热带季风气候。四季分明，降水较多，冬季较为温暖，夏季较为凉爽，气候的海洋性特征明显。故 C 不符合题意；D、日本位于亚洲东部，太平洋西北部。澳大利亚位于太平洋和印度洋之间，由澳大利亚大陆和塔斯马尼亚岛等岛屿组成。所以两国都濒临世界最大的海洋——太平洋。故 D 符合题意。

答案：D

6. 有关亚洲的叙述，正确的是（ ）

- A. 跨东西距离最长，跨经度最广的大洲
- B. 气候类型复杂多样，季风气候分布最广
- C. 地势中部高四周低，河流呈向心状流向
- D. 北、东、南三面环绕着北冰洋、太平洋和印度洋

解析：亚洲是跨东西距离最长，跨纬度最广的大洲，跨经度最广的大洲是南极洲，故 A 错误；亚洲气候类型复杂多样，大陆性气候分布最广，故 B 错误；亚洲地势中部高、四周低，河流呈辐射状流向四周，故 C 错误；亚洲北、东、南三面分别濒临北冰洋、太平洋和印度洋，故 D 正确。

答案：D

7. 如图中①②③④代表的地形类型分别是（ ）



- A. 平原、山地、平原、高原
- B. 平原、平原、高原、山地
- C. 山地、高原、平原、平原
- D. 高原、平原、平原、山地

解析：俄罗斯地势东高西低，地形以平原和高原为主，其中平原约占全国总面积的 70%。主要山脉有乌拉尔山、大高加索山等，西伯利亚东部和南部多山地。乌拉尔山脉以西①为东欧平原，向东依次为②西西伯利亚平原、③中西伯利亚高原和④东西伯利亚山地等；故选项 B 符合题意。

答案：B

8. 有关撒哈拉以南非洲的叙述，不正确的是（ ）

- A. 以黑色人种为主，有“黑种人的故乡”之称
- B. 地形以高原为主
- C. 金刚石、黄金的储量和产量均居世界首位
- D. 许多国家的经济发展缓慢，以出口工业制成品为主

解析：长期的殖民统治，使非洲成为世界上经济发展水平最低的一洲。非洲国家在政治上取得独立以后，民族经济取得不同程度的发展，但大多数国家的工业基础仍很薄弱，片面发展一种或几种面向出口的农矿初级产品，进口工业制成品，成为发达国家的原料供应地和工业品市场，在经济发展中处于不利的地位。非洲实现经济独立并加速社会经济发展的任务仍十分艰巨。

答案：D

9. 有关两极地区的说法，正确的是（ ）

- A. 南极中心是海洋，北极中心是陆地
- B. 南极地区降水多，北极地区降水少
- C. 南极的“主人”是企鹅，北极的“主人”是北极熊
- D. 南极地区矿产资源丰富，北极地区矿产资源贫乏

解析：南极中心是陆地，北极中心是海洋，故 A 错误；南极地区是世界上降水最少的地区，故 B 错误；南极的“主人”是企鹅，北极的“主人”是北极熊，故 C 正确；南极地区和北极地区都有丰富的矿产资源，故 D 错误。

答案：C

10. 贝贝在欧洲西部旅游时拍摄了许多旅游景点图片（如图所示），他在网上发送给玲玲时，有张图片标注错了，请你帮忙找出来（ ）



法国白金汉宫



荷兰风车



意大利古斗兽场



挪威峡湾风光

A

B

C

D

解析：英国的白金汉宫、荷兰的风车、意大利的古斗兽场、挪威的峡湾风光都是欧洲西部著名的旅游景点。

答案：A

11. 2015 年 10 月，中国共产党十八届五中全会决定：完善人口发展战略，全面实施一对夫妇可生育两个孩子的政策。国家实施这一政策是为了积极应对（ ）

- A. 我国人口老龄化的问题
- B. 我国人口性别比例失调的问题
- C. 我国人口过少的问题
- D. 我国人口增长过快的问题

解析：2015 年 10 月，中国共产党十八届五中全会决定：完善人口发展战略，全面实施一对夫妇可生育两个孩子的政策。我国坚持计划生育的基本国策，以应对预计 2025 年后出现的人口老龄化、劳动力渐渐不足及社会负担加重等问题，启动实施一方是独生子女的夫妇可生育两个孩子的政策，逐步调整完善现行的生育政策，促进人口长期均衡发展。

答案：A

12. 当自然灾害来临时，采取适当的方法，可以有效避灾，下列避灾方法错误的是（ ）

- A. 当地震发生时，应及时、有序撤到安全的空旷地带
- B. 当地震发生时，如果不能及时撤离，可以暂时躲在小开间的墙角
- C. 当发生泥石流时，应马上向泥石流流动的方向跑到空旷的平地
- D. 当发生泥石流时，应向垂直于泥石流流动方向的山坡上跑

解析：在楼上的教室上课时发生地震，不要惊慌，要就近躲在课桌下面，并用书包护住头部，千万不要恐惧，更不能从窗户跳下。如身处一楼或者平房，要赶快跑到开阔的地方，远离建筑物。地震中不应乘车逃命，远离交通工具。发生地震时应远离建筑物、危险品，就近采取防护措施，更不能躲进防空洞。而当遇到泥石流或者山洪时，应该向垂直于泥石流流动方向的山坡上跑，这样逃生的机会更大；故选项 C 符合题意。

答案：C

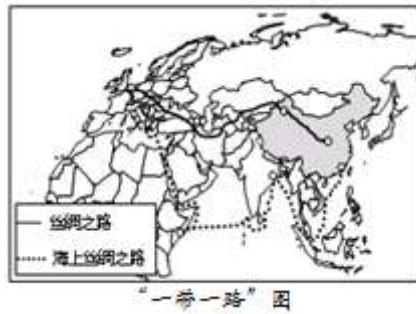
13. 《中华人民共和国水法》中明确提出建设节水型社会，要求在生产和生活中节约用水，防治水污染。下列做法不符合这一要求的是（ ）

- A. 种植耐旱、耗水量少的农作物
- B. 工业污水处理，达标排放
- C. 生活用水一水多用
- D. 大量使用洗涤剂和清洁剂

解析：建设节水型社会，要求在生产和生活中节约用水，防治水污染，如种植耐旱、耗水量少的农作物；工业污水处理，达标排放；生活用水一水多用等；少用洗涤剂和清洁剂。

答案：D

14. 中国国家主席习近平提出的“丝绸之路经济带”和“21 世纪海上丝绸之路”成为当前的热点话题。读“一带一路”图，中国通过“一带一路”与其他国家和地区进行大批商品贸易，最适宜的运输方式是（ ）



- A. 航空和铁路
- B. 铁路和水运
- C. 水运和管道
- D. 公路和航空

解析：货运要根据货物的性质、数量、运输距离、价格、时效等情况，选择运输方式。一般来说，货物数量大的大宗笨重的货物远程，多铁路和水运运送。因此，中国通过“一带一路”与其他国家和地区进行大批商品贸易，最适宜的运输方式，铁路和水运。

答案：B

15. 关于我国气候的叙述，正确的是（ ）

- A. 气候复杂多样
- B. 冬季南北温差小
- C. 降水的空间分布均匀
- D. 热带气候分布广

解析：A、我国地域辽阔，地跨众多的温度带和干湿地区，加上我国地形复杂，地势高低悬殊，更增加了我国气候的复杂多样性。故 A 符合题意；B、我国冬季南北气温差异大，南方温暖，而越往北气温就越低。夏季南北普遍高温。故 B 不符合题意；C、季风的影响是导致降水时空分配不均的主要原因。受夏季风的影响，我国降水自东南沿海向西北内陆逐渐减少，且全年降水量集中在夏季，冬季降水一般不足全年的 10%。故 C 不符合题意；D、我国大部分地区位于北温带，少部分位于热带，没有寒带。故 D 不符合题意。

答案：A

16. 2016 年 3 月 16 日，第十二届全国人民代表大会第四次会议在北京人民大会堂闭幕，大会批准了政府工作报告等。这体现了北京的城市职能是（ ）

- A. 全国政治中心
- B. 国际交往中心
- C. 全国旅游中心
- D. 全国文化中心

解析：对于未来的发展北京做出了长远规划，北京市未来的建设发展目标定位于：国家首都（政治中心）、世界城市（国际交往中心）、文化名城（文化中心），并首次提出“宜居城市”概念。2016 年 3 月 16 日，第十二届全国人民代表大会第四次会议在北京人民大会堂闭幕，大会批准了政府工作报告等。这是北京政治中心职能的体现。

答案：A

17. 黄土高原是世界上水土流失最严重的地区之一，造成黄土高原水土流失的人为原因是（ ）

- ①黄土土质疏松，许多物质易溶于水
 - ②过垦过牧导致生态环境恶化
 - ③夏季降水集中且多暴雨
 - ④修路、采矿等活动破坏地表
- A. ①②
B. ①③
C. ②④
D. ①②③④

解析：黄土高原每年流失大量土壤。引起水土流失的原因，既有自然原因，也有人为原因。自然原因——地势较高，起伏较大；降水集中，多暴雨；植被覆盖较差；黄土结构疏松，多裂隙，易溶于水；人为原因——人类不合理利用土地资源，导致植被破坏。如过度开垦、过度放牧、过度樵采、不合理开矿等。

答案：C

18. 港澳地区与祖国内地的经济合作中，港澳具有的优势条件是（ ）

- A. 丰富的自然资源
- B. 众多的劳动力资源
- C. 先进的管理经验
- D. 广大的消费市场

解析：港澳地区的经济发展与祖国内地联系密切。港澳地区经济发达，技术先进，管理科学；而内地有丰富的自然资源和劳动力资源，可与内地产业结构形成互补，促进彼此经济发展。所以，港澳地区与祖国内地的经济合作中，港澳地区的优势是人才技术、管理经验丰富。

答案：C

读台湾海峡海底通道三方案示意图，台湾海峡海底隧道工程线路有北线、中线、南线 3 个方案。据此完成下列各题。



19. 图中台湾海峡三条海底隧道所处的海域属于（ ）

- A. 渤海
- B. 黄海
- C. 东海
- D. 南海

解析：读图分析可知，图中三条海底隧道位于台湾海峡，台湾海峡位于台湾省与福建省之间，该海峡属于东海。

答案：C

20. 台湾的城市大多位于西部，其主要原因是（ ）

- A. 西部降水最丰富，有利于发展农业
- B. 西部地形平坦，更有利于发展经济
- C. 西部和大陆近，更利于与祖国大陆往来
- D. 西部风景优美，更利于发展旅游业

解析：台湾岛多山，高山和丘陵面积占全部面积的三分之二以上，台湾省西部地区以平原为主，人口、城市主要位于西部。

答案：B

二、填空题（把答案填在答题卡上的相应处，每小题 2 分，共 10 分。）

21. 在卫星云图上，白色表示_____。天气符号  表示的天气状况是_____。

解析：在卫星云图上，白色、绿色和蓝色分别表示不同含义，白色表示云雨区，白色程度越

浓，表示云层越厚，雨可能越大； 表示晴转多云。

答案：云雨区 晴转多云

22. 在 15 平方千米的小岛上，2014 年底住有 400 人，2015 年共死亡 5 人，新生儿并存活 25 个。那么 2015 年该岛的人口自然增长率为_____%。到 2015 年底该岛的人口密度为_____人/平方千米。

解析：人口自然增长率=出生率—死亡率= $\frac{25}{400} \times 100\% - \frac{5}{400} \times 100\% = 5\%$ 。人口密度= $\frac{\text{人口}}{\text{面积}} = 420 \div 15 = 28$ 人/平方千米。

答案：5 28

23. 印度粮食生产很不稳定的原因是_____季风很不稳定，水旱灾害频繁。目前，印度的_____产业发展迅速，成为了本国的支柱产业。

解析：印度热带季风气候对农业有非常重要的影响。每年西南季风带来的丰沛雨水，是印度农业生产的主要水源。但由于西南季风到来的时间和强弱程度不一，因而降水的年际变率大，容易发生旱涝灾害，给农业生产造成不同程度的损害，所以印度粮食生产很不稳定。印度独立后，在原来利用煤、铁资源发展重工业的基础上，电子、汽车制造、原子能、航空航天等新兴工业逐渐崛起。近年来，印度的电脑软件产业发展迅速，成为了本国的支柱产业。

答案：西南 电脑软件

24. 我国的内海包括渤海和_____。我国人口最多的少数民族是_____族。

解析：我国是世界上重要的海洋大国，从北到南，濒临的海洋依次是渤海、黄海、东海和南海，渤海和琼州海峡是我国的内海。在我国 56 个民族中，人数最多的是汉族；少数民族中人数最多的是壮族，主要分布在广西壮族自治区。

答案：琼州海峡 壮

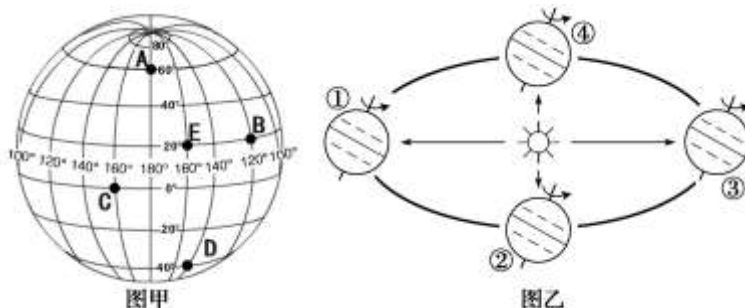
25. 我国西气东输一线工程西起新疆的_____盆地，该盆地生产的瓜果特别甜的原因是

解析：“西气东输”工程是我国距离最长、口径最大的输气管道，西起塔里木盆地的轮南，东至上海。因为在新疆沙漠绿洲里，白天日照充足，热量丰富，植物光合作用效率很高；到了夜晚，骤然降温，昼夜温差大，大气和土壤中的热量迅速散失，植物进入“休眠”状态，自身呼吸作用大幅度减弱，白天借助于光合作用所形成的养分得以有效积累，从而使瓜果特别甜。

答案：塔里木 日照充足，昼夜温差大

三、综合题（把答案填在答题卡上的相应处，6 个小题，共 50 分。）

26.（8 分）读经纬网图（图甲）和地球公转运动的二分二至图（图乙），回答问题。



(1) 甲图 A 点的经度是_____，图中 A、B、C、D 四点中，位于 E 点西南方向的是_____点。

解析：读图分析可知：依据经纬度的判读，甲图 A 点的经纬度是 180°；在经纬网地图上，用经纬网定方向，纬线指示东西方向，经线指示南北方向。可判定，图中 A、B、C、D 四点中，位于 E 点西南方向的是 C 点。

答案：180° C

(2) 甲图中，当 A 地为一年中的 7 月时，D 地为_____月，A、D 两地同一时期季节相反，是由于地球的_____转运动造成的。

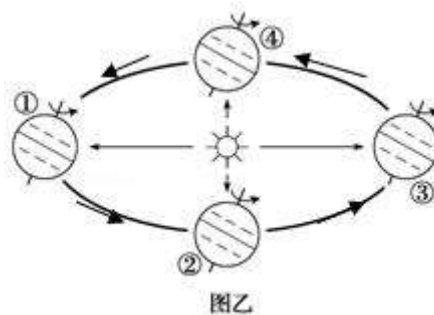
解析：甲图中，当 A 地为一年中的 7 月时，D 地为 1 月，由于地球的公转运动造成 A、D 两地同一时期季节相反。

答案：1 公

(3) 在乙图的公转轨道上，标出地球公转运动的方向。

解析：地球公转运动的方向是自西向东。

答案：如图：



(4) 图乙①②③④四个位置中，太阳直射南纬 23.5° 的是_____（填序号），此时，益阳市的昼夜长短情况是_____。

解析：图乙①、②、③、④四个位置中，太阳直射南纬 23.5° 的③，此时为北半球的冬季，益阳市的昼夜长短情况是昼短夜长。

答案：③ 昼短夜长

(5)当太阳直射点在图甲 C 点所在的纬线上，并且向北移动时，则地球处在图乙公转轨道上的_____处附近（填序号）。

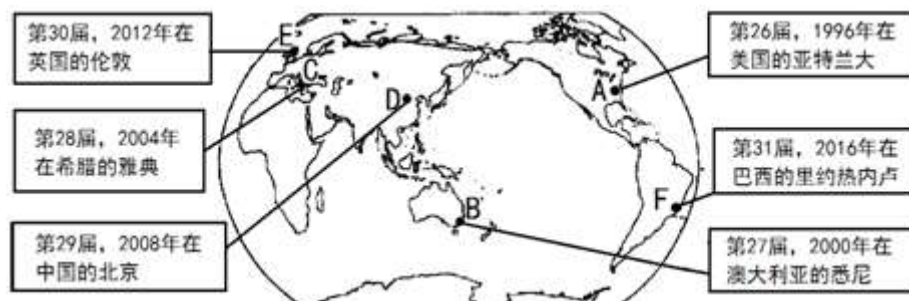
解析：从图中可以看出，当太阳直射点在图甲 C 点所在的纬线上（赤道），并且向北移动时，地球处在图乙公转轨道上的④处（春分日）附近。

答案：④

27.（8分）阅读下列图文资料，回答问题。

材料一：相约奥运，狂欢里约。第 31 届夏季奥林匹克运动会，将于 2016 年 8 月 5 日~21 日在巴西的里约热内卢举行。

材料二：第 26~31 届奥运会举办地分布图（图中字母代表主办城市）



(1)图中 A、B、C、D、E、F 六个奥运会举办城市中，位于印度洋板块的是_____（填字母），A 城市所在大洲与 D 城市所在大洲的分界线是_____。

解析：B 悉尼位于澳大利亚，属于印度洋板块。A 城市所在大洲北美洲与 D 城市所在大洲亚洲的分界线是白令海峡。

答案：B 白令海峡

(2)从国家经济总量来看，最大的发展中国家是_____城市所在的国家（填字母）。

解析：从国家经济总量来看，中国是最大的发展中国家，首都 D 北京。

答案：D

(3)C 城市所在的大洲主要以_____种人为主，E 城市所在的国家主要信仰_____教。

解析：C 城市雅典是希腊的首都，E 城市伦敦是英国的首都，两地位于欧洲西部，当地以白色人种为主，主要信仰基督教。

答案：白 基督

(4)在今年巴西里约热内卢奥运会开幕式上，你将会看到最具本国特色的舞蹈是_____，除了使用本国语言外，一定还会使用_____语。

解析：从 16 世纪时起，起源于非洲西海岸的桑巴舞随黑人奴隶传到巴西，它吸收了葡萄牙人和印第安人舞蹈和音乐艺术的风格，演变成巴西的桑巴舞。这种舞蹈紧张、欢快、热烈活泼，舞蹈者的每一块肌肉都在抖动，因而不同于一般的轻歌曼舞。受殖民主义的影响，巴西以葡萄牙语为主，但英国作为世界性语言，奥运会期间一定还会使用。

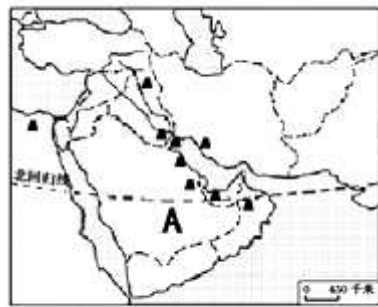
答案：桑巴舞 英

(5)巴西北部的亚马孙平原，人口分布稀少的原因是_____。

解析：亚马孙平原气候终年高温多雨，为植物生长提供了得天独厚的条件，形成了世界上最大的热带雨林区。这里森林茂密，动植物种类繁多，有“世界动植物王国”之称。林中幽暗潮湿，人烟稀少，通行困难。

答案：气候湿热

28. (8分) 读世界两大区域图，回答问题。



图甲



图乙

(1)图甲所示地区最丰富的能源资源是_____，主要分布在_____湾及其沿岸地区。

解析：读图可知，图甲所示地区为中东地区，该区最丰富的能源资源是石油，主要分布在波斯湾及其沿岸地区。

答案：石油 波斯

(2)从气候来讲，A半岛上少有河流的原因是_____。

解析：读图可知，A半岛为阿拉伯半岛，从气候来讲，阿拉伯半岛上少有河流的原因是大部分属于热带沙漠气候，降水少，气候干旱。

答案：大部分属于热带沙漠气候，降水少，气候干旱

(3)图乙中B半岛的地形特点是_____，绝大部分属于_____气候（填气候类型）。

解析：图乙中B半岛为中南半岛，该半岛的地形特点是山河相间，纵列分布，绝大部分属于热带季风气候。

答案：山河相间，纵列分布 热带季风

(4)图乙所示地区是世界上重要的热带经济作物生产基地，其中泰国是世界最大的_____生产国。

解析：图乙所示地区是世界上重要的热带经济作物生产基地，其中泰国是世界最大的天然橡胶生产国。

答案：天然橡胶

(5)分别简述甲乙两图所示地区地理位置的重要性：

甲地区_____；

乙地区_____。

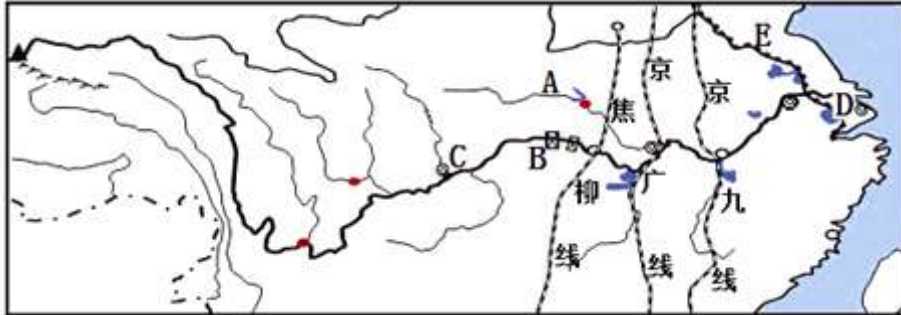
解析：中东地区地处三洲五海之地，沟通印度洋和大西洋的枢纽地位，是东西方交通要道；东南亚处在亚洲与大洋洲、印度洋与太平洋的“十字路口”，是世界海洋运输和航空运输的重要枢纽。

答案：地处三洲五海之地，沟通印度洋和大西洋的枢纽地位，是东西方交通要道；处在亚洲与大洋洲、印度洋与太平洋的“十字路口”，是世界海洋运输和航空运输的重要枢纽。

29. (8分) 读下列图文资料，回答问题。

材料一：长江发展论坛暨长江流域园区与产业合作对接会于2015年10月11日上午在上海国际展览中心举行。本次对接会主题为“共建长江经济带，共享发展新机遇”。

材料二：长江流域图



(1) 写出图中字母代表的地理事物名称：

长江支流 A _____，水利枢纽 B _____，城市 C _____，工业基地 D _____，运河 E _____。

解析：读图分析可知：依据位置，图中字母代表的地理事物名称为：支流 A 为汉江，是长江最大的支流；水利枢纽 B 为三峡，是世界最大的水利枢纽工程；城市 C 为重庆，是中国最年轻的直辖市；工业基地 D 为沪宁杭，是中国最大的综合性工业基地；运河 E 为京杭运河。

答案：汉江 三峡 重庆 沪宁杭 京杭运河

(2) 经过长江干流中、下游分界点附近的南北向铁路干线是_____。

解析：从图中可以看出，经过长江干流中、下游分界点湖口附近的南北向铁路干线是京九线。

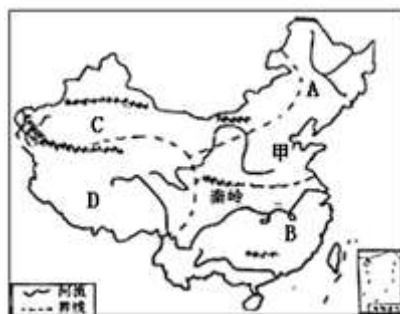
答案：京九线

(3) 根据材料和所学知识，简析长江流域发展经济的有利条件：(至少写出两点)_____，_____。

解析：长江流域发展经济的有利条件是农业和工业基础雄厚，多条铁路穿越长江，水陆交通便利等。

答案：农业和工业基础雄厚 水陆交通便利

30. (8分) 读图(图中 A、B、C、D 表示我国四大地理区域)，回答问题。



(1) 我国东西走向的山脉主要有北、中、南三列，其中间一列是_____和秦岭。

解析：读图可得，A 是北方地区，B 是南方地区，C 是西北地区，D 是青藏地区，甲是华北平原。我国东西走向的山脉主要有三列：最北一列是天山—阴山，中间一列是昆仑山—秦岭，

最南一列是南岭。

答案：昆仑山

(2) A 地区中甲所在地是_____平原，从干湿状况来分，属于_____地区，按土地利用类型来分，属于农业用地中的_____。

解析：甲所在地是华北平原，从干湿状况来分，属于半湿润地区，按土地利用类型来分，属于农业用地中的旱地。

答案：华北 半湿润 旱地

(3) B 地区主要的糖料作物是_____，C 地区的农业生产部门主要以_____为主。

解析：南方地区主要的糖料作物是甘蔗，西北地区的农业生产部门主要以畜牧业为主。

答案：甘蔗 畜牧业

(4) D 地区的自然特征是_____，如果你家人去这里旅游，在生活上你有哪些好的建议或提醒：_____。

解析：青藏地区地势高，气候寒冷，最显著的自然环境特征是高寒。同时海拔高，云层薄，太阳辐射强，空气稀薄，遮阳伞、羊毛衫、防晒霜、吸氧用具等是必备品。

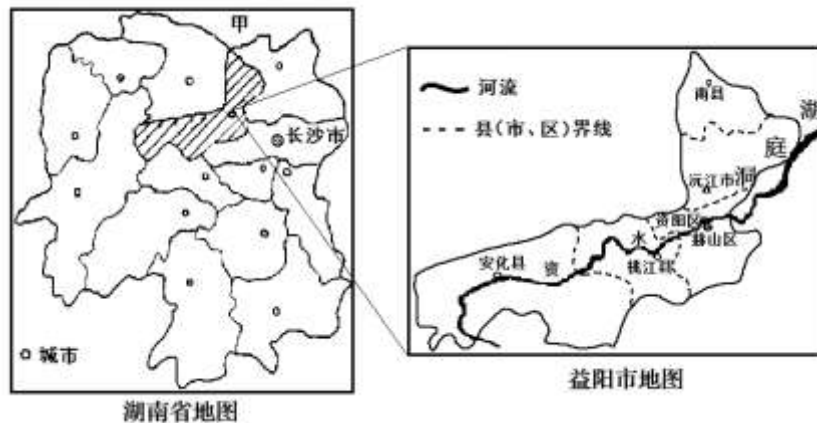
答案：高寒 需要带防晒霜、吸氧用具等

31. (10分) 读下列图文资料，回答问题。

材料一：益阳市地势西南高、东北低。西南部山高坡陡、中部丘岗起伏、东北部平坦开阔。整个地势自西南向东北递降，依次形成山地、丘岗、平原三级阶梯。

材料二：“十三五”时期，益阳市将全面进入大益阳城市圈建设，我市计划规划形成“一核两心三片区”的空间发展格局，即以益阳市城区为核心，沅江市城区、桃江县城为副中心，大力推进东接东进的东部两型发展片区、北联北通的北部发展片区和西连西拓的西部发展片区建设。

材料三：湖南省和益阳市地图。



(1) 据图可知，益阳市位于湖南省的_____部，与甲省相邻，该邻省的简称是_____。

解析：读图分析可知：从图中可以看出，益阳市位于湖南省的北部，与湖北省相邻，湖北省的简称是鄂。

答案：北 鄂

(2) 益阳市的中部地形以_____为主。南县、沅江市所在地形区是_____平原的一部分。

解析：益阳市地势西南高、东北低。西南部山高坡陡、中部丘岗起伏、东北部平坦。南县、沅江市所在地形区是洞庭湖平原的一部分。

答案：丘陵 洞庭湖

(3) 流经益阳市的主要河流是_____，其流向为_____。

解析：从图中可以看出，流经益阳市的主要河流是资水，其流向为自西南流向东北。

答案：资水 自西南流向东北

(4) 益阳市六个县（市、区）中，面积最大的是_____，其盛产的_____（芦笋、南洲大曲、黑茶、竹织品）闻名中外。

解析：从图中可以看出，益阳市六个县（市、区）中，面积最大的是安化县，其盛产的黑茶闻名中外。

答案：安化县 黑茶

(5) 据材料二可知，大益阳城市圈除益阳中心城区外，还包括附近的县级城市_____和_____。

解析：据材料二可知，大益阳城市圈除益阳中心城区外，还包括附近的沅江市城区、桃江县城。

答案：沅江市 桃江县城