

2015 年四川省攀枝花市中考真题历史

满分 100 分。

第一部分（选择题共 60 分）

一、选择题：本大题共 30 小题，每小题 2 分，共 60 分。在每小题列出的四个选项中，只有一项是最符合题目要求的。

1. 小明同学的家人计划到北非某国家旅游，下面是他收集到的一张反映该国古代文明的图片。请你判断小明家人旅游的目的地是（ ）



- A. 印度
- B. 埃及
- C. 伊朗
- D. 伊拉克

解析：该图所示的旅游景区是埃及的金字塔和狮身人面像，它们是古埃及文明的象征。故答案选 B。

答案：B

2. 下图人物曾经说过这样一句话：“我们的制度之所以称为民主政治，因为政权是掌握在全体公民手中，而不是在少数人手中。”他的话反映了希腊雅典的政治状况。此人应是（ ）



- A. 汉谟拉比
- B. 屋大维
- C. 伯利克里
- D. 亚力山大

解析：材料反映的是雅典民主政治的概况，而把雅典民主政治推向古代世界最高峰的是伯利克里。故答案选 C。

答案：C

3. 阿拉伯人被誉为“东西方文明交流的使者”，对世界文化的传播与交流作出过重大贡献。下列史实不能说

明这一观点的是（ ）

- A. 罗盘针经阿拉伯人传入欧洲
- B. 改造 0 到 9 十个数字计数法并传入欧洲
- C. 火药和火药武器经阿拉伯人西传
- D. 佛教产生以后经阿拉伯人向西传入欧洲

解析：四个选项中，ABC 三项都是阿拉伯人的贡献，都能说明阿拉伯人被誉为“东西方文明交流的使者”，对世界文化的传播与交流作出过重大贡献，D 项的佛教产生以后，并没有经阿拉伯人传入欧洲，佛教也没有传入欧洲，佛教产生以后，向北沿着丝绸之路传入中国，后来传到朝鲜半岛和日本等东亚国家，向南传入斯里兰卡、东南亚和我国云南的傣族地区，但不是经过阿拉伯人传播的，故答案选 D。

答案：D

4. 恩格斯说：“意大利是一个典型的国家，自从现代世界的曙光在那里升起的那个时代以来，它产生过许多伟大人物。”这里的“许多伟大人物”包括（ ）

- ①但丁
- ②莎士比亚
- ③达·芬奇
- ④阿基米德

- A. ①③
- B. ②③
- C. ①④
- D. ①②③

解析：材料反映的史实是文艺复兴在意大利兴起，并且产生了许多伟大人物，如但丁、达·芬奇等，而阿基米德不是文艺复兴时期的人物，莎士比亚虽然是文艺复兴时期的人物，但他是英国人，不是意大利人。故答案选 A。

答案：A

5. 小李同学参加历史知识抢答赛抽到这样一道题目：“英国资产阶级革命开始的标志是什么？”请你帮助他回答，你应选（ ）

- A. 苏格兰人民起义
- B. 查理一世召集议会，筹集军费
- C. 查理一世挑起内战
- D. 查理一世被处死，成立共和国

解析：本题主要考查英国资产阶级革命开始的标志性事件。英国资产阶级革命开始的标志是 1640 年查理一世召集议会，筹集军费，因为当时资产阶级利用议会同查理一世作斗争，因此说它是英国资产阶级革命开始的标志，英格兰人民起义是导火线，查理一世挑起内战和查理一世被处死，成立共和国发生于资产阶级革命开始之后。故答案选 B。

答案：B

6. 1776 年 7 月 4 日，大陆会议发表《独立宣言》，标志着（ ）


- A. 独立战争的开始
- B. 美利坚合众国诞生
- C. 独立战争的转折
- D. 英国承认美国独立

解析：本题主要考查《独立宣言》发表的作用。1776 年 7 月 4 日，大陆会议发表《独立宣言》，标志着北美

13 个殖民地脱离英国而独立，即美利坚合众国的诞生，而独立战争开始标志是莱克星顿枪声，独立战争的转折是萨拉托加大捷，英国承认美国独立，标志着美国完全实现民族独立。故答案选 B。

答案：B

7. 对下图中历史事件的叙述，不准确的是（ ）



攻占巴士底狱

- A. 发生在 1789 年 7 月 14 日的法国巴黎
- B. 它揭开了法国大革命的序幕
- C. 它是法国大革命的导火线
- D. 7 月 14 日后来成为法国的国庆日

解析：图片反映的史实是巴黎人民攻占巴士底狱，它发生在 1789 年 7 月 14 日的巴黎，揭开了法国大革命的序幕，7 月 14 日因此成为法国的国庆日，但法国大革命的导火线不是巴黎人民攻占巴士底狱，是三级会议的召开。故答案选 C。

答案：C

8. 美国历史学家斯塔夫里阿诺斯在《全球通史》中指出：“拿破仑在其所有征服地区贯彻法国革命的一些基本原则……变革在许多地方得到普遍的支持。法国的统治是进步的……”。这种“进步”包括（ ）

- ①颁布《法典》
- ②多次打败反法同盟
- ③远征俄罗斯
- ④巩固资产阶级统治

- A. ①②③
- B. ①③④
- C. ①②④
- D. ①②③④

解析：史料主要对拿破仑的统治作了充分的肯定，主要是因为拿破仑在位期间，颁布《法典》，巩固了资产阶级统治，多次打败反法同盟，在被征服地区摧毁封建势力，传播法国大革命思想，这些都体现了它的“进步性”，但是拿破仑远征俄罗斯和奴役被征服地区的人民属于非正义的侵略战争，不能说是“进步”的。故答案选 C。

答案：C

9. 17-18 世纪，英、美、法三国先后进行了资产阶级 革命，其共同点不包括（ ）

- A. 扫除了资本主义发展障碍

- B. 建立了资产阶级民主政体
- C. 促进了资本主义经济发展
- D. 赢得了国家和民族的独立

解析：本题可以先肯定 AC 两项，因为资产阶级革命如果成功的话，必然会扫除了资本主义发展障碍，促进了资本主义经济发展，B 项建立了资产阶级民主政体也是正确的，但比较难理解，考生也许会认为英国在资产阶级革命后实行君主立宪制，不属于民主政体，其实资产阶级民主政体包括民主共和制和君主立宪制，美国和法国是实行民主共和制，而英国是实行君主立宪制，D 选项当然不是它们的共同点，因此只有美国独立战争赢得了国家和民族的独立，而英国和法国不存在这一任务。故答案选 D。

答案：D

10. 下列图中的人物都是民族解放运动的领导人，其中一位与其他三位反抗的殖民统治者不同，他（她）是（ ）



A. 华盛顿



B. 玻利瓦尔



C. 章西女王



D. 尼赫鲁

解析：四位人物都是民族解放运动的领导人，但是，玻利瓦尔是反对西班牙殖民者的，华盛顿、章西女王和尼赫鲁都是反对英国殖民者的。故答案选 B。

答案：B

11. 一部外国影视片中有这样一个场景，一群工人在集会中手拿《人民宪章》的小册子，高呼：“我们也要选举权”。与这个场景相关的史实是（ ）

- A. 英国宪章运动
- B. 印度民族大起义
- C. 巴黎公社成立
- D. 《共产党宣言》发表

解析：看到《人民宪章》“选举权”，就应该知道与这个场景相关的史实是英国宪章运动，而印度民族大起义争取的是民族独立，巴黎公社成立是无产阶级夺取政权，《共产党宣言》的发表反映了无产阶级要求推翻资产阶级统治的愿望。故答案选 A。

答案：A

12. 著名诗人惠特曼写过一首诗歌《啊，船长！我的船长》，在诗中将林肯比喻为率领美国这艘船破浪前进的船长。以下属于林肯的历史贡献的是（ ）

- A. 使国家获得了独立
- B. 开创了民主政治制度
- C. 维护了国家的统一
- D. 使美国成为世界强国

解析：本题主要考查林肯的历史贡献。林肯的历史贡献是领导北方资产阶级镇压南方叛乱，取得南北战争的胜利，废除了黑人奴隶制和维护了国家的统一，使国家获得独立和开创民主政治制度的是华盛顿，使美国成为世界强国的美国总统不止林肯一人，比如说华盛顿、罗斯福都是。故答案选 C。

答案：C

13. “农奴先笑了，后来又哭了；地主先哭了，后来又笑了。”这句话描述的情景最有可能发生在下列哪一事件中？（ ）

- A. 法国大革命
- B. 美国南北战争
- C. 日本明治维新
- D. 俄国 1861 年改革

解析：材料中的“农奴先笑了”是因为农奴获得了解放，“后来又哭了”是因为农奴在获得解放的同时，被剥夺得一干二净，“地主先哭了”是因为他们再也不能拥有农奴，“后来又笑了”是因为地主在解放农奴时，

获得了大量的赎金，与之相关的事件是俄国 1861 年废除农奴制改革，而法国大革命跟、美国南北战争、日本明治维新跟农奴制无关。故答案选 D。

答案：D

14. 像鸟一样在 天空翱翔，是人类长期的梦想。20 世纪初，制成飞机并试飞成功，把人类这一理想变为现实的是（ ）

- A. 爱迪生
- B. 莱特兄弟
- C. 爱因斯坦
- D. 卡尔·本茨

解析：20 世纪初，制成飞机并试飞成功的是莱特兄弟，爱迪生是发明电灯，给人类带来了光明，爱因斯坦在 20 世纪初提出了相对论，使人类进入原子时代，卡尔·本茨发明了汽车，缩短了世界的距离，方便人们的出行。

答案：B

15. 下图是第一次世界大战前形成的两大军事集团示意图。英、法、俄组成的是（ ）



- A. 三国协约
- B. 三国同盟
- C. 轴心国集团
- D. 反法西斯联盟

解析：本题主要考查第一次世界大战前形成的两大军事集团。第一次世界大战前形成的两大军事集团，包括德、奥、意组成的三国同盟集团和英、法、俄组成的三国协约集团，而轴心国集团和反法西斯联盟是二战中形成两大军事集团。故答案选 A。

答案：A

16. 在学习“第一次世界大战”的历史课上，有些同学认为德国是有罪的，而有些同学则主要责备英国和法国，还有些同学说这罪行双方都有份。总的说来，第一次世界大战的性质应该是（ ）

- A. 德国蓄意发动的侵略战争
- B. 英法被迫应战的正义战争
- C. 帝国主义争夺霸权的战争
- D. 塞尔维亚的民族解放战争

解析：本题主要考查分析问题的能力。第一次世界大战中，无论是同盟国一方的德国，还是协约国一方的英国和法国，都会被认为是有罪的，主要是因为第一次世界大战的性质是帝国主义争夺霸权的战争，交战双方的参战目的就是为了争夺世界霸权，都是非正义的，因此，除了塞尔维亚是因维护民族独立而战，不会被谴责，其余交战各国无论是蓄意发动，还是被迫应战，都会被谴责。故答案选 C。

答案：C

17. 小张同学在学习了十月革命后对其进行了评价，你认为正确的是（ ）

- ①人类第一次获胜的社会主义革命
- ②革命胜利后建立了第一个社会主义国家
- ③推动了国际社会主义运动的发展
- ④鼓舞了殖民地半殖民地人民的解放斗争

A. ①②③④

B. ②③④

C. ①②④

D. ①③④

解析：本题主要考查对俄国十月革命的评价。俄国十月革命是人类历史上第一个获得胜利的社会主义革命，世界上第一个社会主义国家苏维埃俄国由此诞生，它推动了国际社会主义运动的发展（一战后，东欧国家有进行了社会主义革命），鼓舞了殖民地半殖民地人民的解放斗争（如：中国的国民革命运动）。故答案选 A。

答案：A

18. 1919年1月，27个国家的代表团出席巴黎和会。在5个月的会议期间，多数国家的代表整日忙于参加交谊舞会和鸡尾酒会。造成这一现象的主要原因是（ ）

A. 这些国家的代表素质不高

B. 会议的内容与这些国家毫无关系

C. 会议主办国有意拉拢这些国家

D. 这些国家在和会中的地位无足轻重

解析：造成材料中“多数国家的代表整日忙于参加交谊舞会和鸡尾酒会”这一现象的主要原因是这些国家在和会中的地位无足轻重，它们是被宰割的对象，它们的代表根本没有发言权。故答案选 D。

答案：D

19. 第一次世界大战后，帝国主义列强建立了“凡尔赛—华盛顿体系”，构成这一体系的主要条约《凡尔赛和约》与《九国公约》的相同之处是（ ）

A. 宰割中国

B. 削弱英国

C. 限制日本

D. 瓜分德国

解析：《凡尔赛和约》与《九国公约》的相同之处是宰割中国，因为《凡尔赛和约》将战前德国在山东的特权转让给日本，《九国公约》使中变为到由几个帝国主义国家共同支配的地位。而两个条约并没有削弱英国，也没有瓜分德国，但是《凡尔赛和约》有瓜分德国的海外殖民地，《九国公约》有限制日本在中国的扩张。故答案选 A。

答案：A

20. 一位美国学者在评价罗斯福新政时写道：“其实罗斯福新政之所以成为神话，与其说是因为他经济上的成功，不如说是政治上的成功。”“政治上的成功”主要体现在（ ）

A. 使经济缓慢地恢复过来

B. 调整和巩固了资本主义制度

C. 极大地改善了人民生活

D. 成功开启美苏“冷战”模式

解析：材料的意思是说罗斯福新政通过在经济上加强资本主义国家对经济的干预和指导，使美国缓慢渡过了经济危机，极大地改善了人民生活，从而在政治上调整和巩固了资本主义制度，而成功开启美苏“冷战”模式的是 1947 年杜鲁门主义的出台。故答案选 B。

答案：B

21. 丘吉尔说：“俄国的灾难就是我们的灾难”，“我们要给俄国人民以一切可能的援助”。他持这种态度主要是因为（ ）

- A. 威胁法西斯德国
- B. 要 欺骗国际舆论
- C. 英俄面临共同敌人
- D. 丘吉尔同情苏联

解析：本题主要考查阅读分析能力。丘吉尔之所以这么做，主要是因为它们面临共同敌人德国法西斯的侵略，英俄两国的命运是捆绑在一起的。故答案选 C。

答案：C

22. 1990 年 10 月 3 日 0 时，联邦德国与民主德国合并，德国重新统一。下列哪次国际会议决定对德国进行分区占领而造成德国分裂的？（ ）

- A. 1919 年巴黎和会
- B. 1921 年华盛顿会议
- C. 1938 年慕尼黑会议
- D. 1945 年雅尔塔会议

解析：1945 年雅尔塔会议决定对德国进行分区占领而造成德国的分裂，当时盟国的主要目的是一是彻底根除德国的法西斯主义，二是为了划分势力范围，而 1919 年巴黎和会主要是决定瓜分德国的海外殖民地，1921 年华盛顿会议是缓和帝国主义国家地东亚、太平洋地区的矛盾，1938 年慕尼黑会议是迫使捷克斯洛伐克将苏台德等地割让给德国。故答案选 D。

答案：D

23. 石油价格的波动，会使世界经济随之动荡，甚至发生世界性经济危机。最典型的事件就发生在（ ）

- A. 1914 年-1918 年
- B. 1929 年-1933 年
- C. 1939 年-1945 年
- D. 1974 年-1975 年

解析：石油价格的波动，会使世界经济随之动荡，甚至发生世界性经济危机。最典型的事件就发生在 1974 年-1975 年，当时中东阿拉伯国家因为不满美国等资本主义国家支持以色列，大幅度提高石油价格，引发了 1974 年-1975 年的经济危机，而 1914 年-1918 年期间发生了第一次世界大战，1929 年-1933 年发生空前的资本主义经济危机，但与石油无关，1939 年-1945 年期间发生了第二次世界大战。故答案选 D。

答案：D

24. 读 1950-1970 年主要资本主义国家经济增长率统计表，从表中能得出的信息是（ ）

国家	联邦德国	意大利	法国	英国	日本	美国
年均增长率	6.7%	5.6%	5.3%	2.9%	9.6%	3.5%

①主要资本主义经济都有增长




- ②联邦德国经济增长率超过了美国
- ③日本的经济增长率居首位
- ④美国丧失了世界第一经济大国地位

- A. ①②③
- B. ①②④
- C. ①③④
- D. ①②③④

解析：表格中的数据 displays 1950-1970 年主要资本主义国家经济都有增长，联邦德国经济增长率为 6.7%，超过了美国的 3.5%，日本经济增长率为 9.6%，居首位，但表格数据并不能说明美国丧失了世界第一经济大国地位。故答案选 A。

答案：A

25. 漫画中的历史：请你为这组历史漫画（下图）归纳一个相同的主题。它是（ ）



- A. 英国衰落
- B. 大国争霸
- C. 世界大战
- D. 两极对峙

解析：左图是德国水兵向英国士兵提出挑战，右图反映了美、苏两国在古巴导弹危机中的较量，它们反映的共同主题就是大国争霸，左图可以说明英国的衰落，但右图不能，左图反映的史实导致第一次世界大战爆发，但无法反映世界大战的主题，右图反映了两极对峙，但左图不能。故答案选 B。

答案：B

26. 前苏联有一个笑话：农夫伊万在河里捉到一条大鱼，高兴地回到家里对老婆说：“看，我们有炸鱼吃了！”老婆说：“没有油啊。”伊万说：“那就煮。”老婆说：“没锅。”伊万说：“那就烤。”老婆说：“没有柴。”伊万气坏了，走到河边把鱼扔了回去。那鱼在水里划了一个半圆，上身出水，举起右鳍激动地高呼：“斯大林万岁！”该笑话反映的是（ ）

- A. 农民生产积极性受到极大的损害
- B. 高度集中的经济体制带来的弊端
- C. 新经济政策恢复自由贸易的后果
- D. 个人崇拜达到了相当严重的程度

解析：材料反映了苏联高度集中的经济体制带来的弊端。国民经济比例严重失调，导致苏联重工业过于发达，而农业和轻工业长期落后，而材料并没有反映农民生产积极性受到极大的损害的信息，新经济政策是列宁实施的，跟斯大林无关。故答案选 B。

答案：B

27. 2011 年 5 月，欧元区财长会议批准对葡萄牙 780 亿欧元的援助案。使葡萄牙受益的国际组织是（ ）



A. 欧洲联盟



WTO OMC

B. 世界贸易组织



C. 亚太经合组织



D. 联合国

解析：欧元是部分欧洲联盟成员国流通的货币，世界贸易组织是世界性经济组织，亚太经合组织仅限于亚太地区，联合国是维护世界和平与安全的机构，这些国际组织均跟欧元无关。故答案选 A。

答案：A

28. 1959 年，通过武装斗争，推翻美国扶持的傀儡政权，建立革命政府，走上社会主义道路的国家是（ ）

A. 埃及

B. 印度

C. 古巴

D. 纳米比亚

解析：。1959 年，通过武装斗争，推翻美国扶持的傀儡政权，建立革命政府，走上社会主义道路的国家是古

巴，而印度是 1947 年摆脱英国的殖民统治而独立的，埃及是 1952 年独立的，纳米比亚是 1990 年独立王国的。故答案选 C。

答案：C

29. 历史结论离不开对史实的正确解读，下列各项史实与结论对应关系正确的是（ ）

- A. 史实：日本明治维新。结论：成为仅次于美国的资本主义经济大国。
- B. 史实：杜鲁门主义出台。结论：两极格局正式形成。
- C. 史实：赫鲁晓夫改革。结论：是对斯大林模式的根本变革。
- D. 史实：经济全球化。结论：给世界各国带来了新的发展机遇和挑战。

解析：日本明治维新使日本摆脱了沦为半殖民地国家的命运，成为亚洲的强国，但并没有成为仅次于美国的资本主义经济大国，日本是在 20 世纪 60 年代末才成为仅次于美国的资本主义经济大国，杜鲁门主义的出台，标志着美苏冷战的开始，而华沙条约组织的成立才是两极格局形成的标志，赫鲁晓夫改革只是在一定程度上冲击了斯大林模式，并没有对斯大林模式产生根本性变革，经济全球化，使世界各国参与国际分工，因此，它给世界各国带来了新的发展机遇和挑战。故答案选 D。

答案：D

30. 下图封面中的“你”（全球网民）能够成为美国《时代周刊》年度风云人物，首先要感谢（ ）



- A. 第一次科技革命的成果
- B. 第二次科技革命的成果
- C. 第三次科技革命的成果
- D. 国际格局多极化的趋势

解析：网民肯定跟计算机网络技术有关，而计算机网络技术是第三次科技革命的核心，不是第一次科技革命和第二次科技革命的成果，跟国际格局多极化趋势没有直接联系。故答案选 C。

答案：C

## 第二部分（非选择题共 40 分）

二、历史诊所：找出题中的错误并改正。共 10 分。

31.（10 分）以下是九年级一班小勇同学对第二次世界大战的叙述，其中有 5 处错误，请细心的你指出来并改正。

1939 年 9 月 1 日，德国对奥地利发动突然进攻。英法对德宣战，第二次世界大战全面爆发。1940 年 6 月，德军发动了对苏联的侵略战争，苏联军民在斯大林的领导下英勇抗击侵略者。1941 年 12 月 7 日，日军偷袭太平洋美军基地檀香山，第二次世界大战的规模进一步扩大。1942 年 1 月 1 日，美、英、苏、中等 26 个国家的代表在美国纽约举行会议，并签署了《联合国宣言》，保证将用自己的全部人力和物力，联合起来，彻底打跨法西斯国家。1942 年 7 月至 1943 年 2 月进行的莫斯科战役是第二次世界大战的转折点。1945 年

5月8日，德国投降。8月15日，日本法西斯宣布无条件投降，9月2日，日本正式签署投降书。第二次世界大战结束。

解析：

(1) 本题主要考查第二次世界大战全面爆发的标志问题。1939年9月1日，德国对波兰发动突然进攻，由于英法是波兰的盟国，不得不于9月3日对德宣战，标志着第二次世界大战全面爆发。因此，此处奥地利应改为波兰。

(2) 本题主要考查德军发动对苏联的侵略战争的时间。1941年6月22日，德军对苏联发动侵略战争，苏联军民在斯大林的领导下英勇抗击侵略者，并取得了莫斯科保卫战的胜利，1940年，德军正对北欧和西欧发动进攻。因此，此处1940年应改为1941年。

(3) 本题主要考查日本军进攻美国的地点。1941年12月7日，日军偷袭太平洋美军基地珍珠港，第二天，美国对日宣战，第二次世界大战的规模进一步扩大，全世界绝大部分地区和人口都被卷入这场人类历史上空前的浩劫之中。因此，此处的檀香山应改为珍珠港。

(4) 本题主要考查《联合国宣言》签署的地点。1942年1月1日，美、英、苏、中等26个国家的代表在美国华盛顿举行会议，并签署了《联合国宣言》，保证将用自己的全部人力和物力，联合起来，彻底打跨法西斯国家。因此，本题中的纽约应改为华盛顿。

(5) 本题主要考查第二次世界大战的转折点。1942年7月至1943年2月进行的斯大林格勒战役是第二次世界大战的转折点，此后，苏军开始向德军展开进攻，德军开始转为防守。因此，此处莫斯科战役应改为斯大林格勒战役。

答案：(1) 错误：奥地利；(1分) 改正：波兰。(1分)

(2) 错误：1940年；(1分) 改正：1941年。(1分)

(3) 错误：檀香山；(1分) 改正：珍珠港。(1分)

(4) 错误：纽约；(1分) 改正：华盛顿。(1分)

(5) 错误：莫斯科战役；(1分) 改正：斯大林格勒战役。(1分)

三、材料分析题：每小题8分，共16分。

32. (8分) 阅读材料，回答问题。

材料一 1688年英国“光荣革命”(实际是一次政变)大概是我心目中最完美的一次政治设计。它在一个有长期专制传统的国家找到了一个摆脱革命与专制的循环，能有效地控制“控制者”的办法……这大概是改造专制制度以进行制度创新…走向长治久安的最完美的例子。

——杨小凯《中国政治随想录》

(1) 材料一中作者所推崇的“控制‘控制者’”的办法是指的什么制度？它是通过什么文献开始确立起来的？(2分)

材料二 下面是《人权宣言》的部分引文。

国民议会在主面前并在他的庇护之下确认并宣布下述的人与公民的权利：

第一条 在权利方面，人们生来是而且始终是自由平等的，只有在公共利用上面才显出社会上的差别。

第二条 任何政治结合的目的都在于保存人的自然的和不可动摇的权利，这些权利就是自由、财产、安全和反抗压迫。

第三条 整个主权的本原主要是寄托于国民。……

第六条 法律是公共意志的表现……在法律面前所有的公民都是平等的……除德行和才能上的差别外不得有其他差别……

(2) 根据材料二，指出《人权宣言》规定了哪些最基本的人权？(4分) 为什么《人权宣言》能在欧洲迅速传播？(2分)

解析：(1) 本题主要考查阅读分析能力。材料一介绍了英国在“光荣革命”之后巩固资产阶级革命成果的措施。1688年，英国进行了光荣革命，推翻了封建专制统治，并于1689年由议会通过《权利法案》，对国王

的权利作出明确的制约，由此，英国确立了君主立宪制的政治体制。

(2) 本题主要考查阅读分析能力。材料二认为人生来自由平等，享有各种主权，法律面前人人平等，这反映了《人权宣言》规定了自由、财产、安全、反抗压迫等最基本的人权。《人权宣言》能在欧洲迅速传播，主要是因为欧洲社会正进入资产阶级革命时期，推翻封建专制统治，建立资产阶级统治成为时代的要求；《人权宣言》适应时代需要，成为资产阶级反封建斗争的思想理论武器。

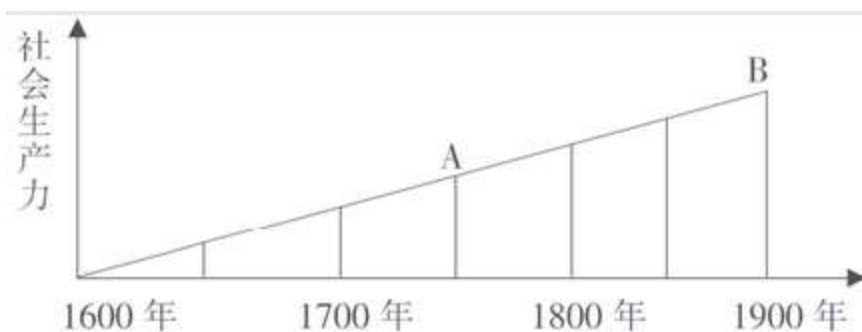
答案：

(1) 君主立宪制。(1分) 《权利法案》。(1分)

(2) 自由、财产、安全、反抗压迫。(4分) 欧洲社会正进入资产阶级革命时期，推翻封建专制统治，建立资产阶级统治成为时代的要求；《人权宣言》适应时代需要，成为资产阶级反封建斗争的思想理论武器。(2分)

33. (8分) 阅读下列材料，回答问题。

材料一 恩格斯说：“科学是一种在历史上起推动作用的、革命的力量。”下图显示了社会生产力发展与工业发展之间的关系。



(1) 指出 A 点对应历史时期的科技革命的名称、发生的政治前提，完成的标志。(3分)

(2) 指出 B 点对应历史时期的科技革命的名称、主要标志以及新兴工业部门。(3分)

材料二 瓦特机发明前，英国工业生产动力主要是水力……这样的动力缺陷是明显的。煤炭是英国工业革命的主要动力来源……(大不列颠拥有)“供应不会枯竭的优质煤炭”。英国工业革命……在人类历史上首次创造了烟囱多于教堂尖顶的图景。

——马克·布洛赫等《世界文明史》

材料三 一些学者已经为工业化对环境的影响感到不安了。1827年，法国数学家富里埃指出二氧化碳的排放会使大气变暖。在他以后，瑞典学者阿伦尼乌斯提出了“温室效应”。

——德尼兹·加亚尔等《欧洲史》

(3) 根据材料一、二、三，分析两次工业革命对社会发展的直接影响。(2分)

解析：

(1) 本题主要考查阅读分析能力。材料一所示的统计图反映了 1600 年至 1900 年社会生产力发展与工业发展之间的关系。A 点处于 18 世纪中期，此时的英国正进行第一次工业革命，它的政治前提是英国资本主义制度的确立，扫清了资本主义发展的障碍，第一次完成的标志是大机器生产成为工业生产的主要方式。

(2) 本题主要考查阅读分析能力。材料一所示的统计图反映了 1600 年至 1900 年社会生产力发展与工业发展之间的关系。B 点处于 19 世纪末，此时的欧美国家正进行第二次工业革命，其主要标志是电力的广泛使用，此外还有内燃机、汽车、飞机等机器和交通工具问世，由此诞生的新工业部门有电力工业、石油工业和汽车工业等。

(3) 本题主要考查阅读分析能力。材料一显示了在两次工业革命的推动下，社会生产力得到迅速发展，说明了两次工业革命极大地提高了生产力；材料二显示了工厂烟囱多于教堂尖顶，材料三显示工业化产生了“温室效应”，这些说明了工业革命加剧了环境污染。

答案：(1) A 点：名称：第一次工业革命；(1分) 政治前提：英国资本主义制度的确立；(1分) 完成的标志：大机器生产成为工业生产的主要方式。(1分)

- (2)B点：名称：第二次工业革命；(1分)标志：电力的广泛使用；(1分)新工业部门：电力工业、石油工业和汽车工业等。(1分，任答一点)
- (3)极大地提高了生产力；(1分)同时，加剧了环境污染。(1分)

四、活动与探究：共14分。

34. (14分)政策的调整、创新能推动经济的发展和国家的强盛。阅读下列材料，回答问题。

材料一 1918年列宁说：“在一个遭受帝国主义战争破坏的国家里，实行余粮收集制，禁止自由贸易，严格地计算和平均分配每一磅粮食，不仅是为了维持生活和对付战争，而且已经超越‘一般革命’任务，是推进社会主义的‘真正的主要的门径’。”

——《列宁全集》

(1)根据材料一，指出苏俄实行了什么政策和实行该政策的目的是有哪些？(3分)

材料二 列宁说：“在战争结束的时候，俄国就像是一个被打得半死的人……而现在，谢天谢地，他居然能够拄着拐杖走动了！”

——《大国崛起·风云新途》解说词

(2)结合所学知识，指出材料二中苏俄“能够拄着拐杖走动了”的含义。(2分)

材料三 在两个五年计划期间，苏联共建成六千多个大型工矿企业，建立起飞机、汽车、拖拉机、化工、电力、机器制造等部门，形成了比较完备的工业体系。

1932-1937年苏联工业产值及重要工业品在欧洲和世界的排名

项目 \ 年份	1932年		1937年	
	世界	欧洲	世界	欧洲
工业生产总产值	3	2	2	1
机器制造业	2	1	2	1
拖拉机	2	1	2	1
电力	7	4	3	2
石油	2	1	2	1
钢	5	4	3	2

——据《世界历史》九年级下册(岳麓版)编辑

(3)根据材料三，概括指出苏联社会主义建设取得的成就，(3分)并分析原因。(3分)

材料四 阅读2015年5月俄罗斯红场阅兵的图片。



(4)2015年5月俄罗斯红场阅兵是为了庆祝卫国战争胜利多少周年？(1分)材料三与苏联卫国战争的胜利有什么关系？(2分)

解析：

(1) 本题主要考查阅读分析能力。材料一中的“余粮收集制”和“禁止自由贸易”所体现的政策是战时共产主义政策；列宁说“不仅是为了维持生活和对付战争，而且已经超越‘一般革命’任务，是推进社会主义的‘真正的主要的门径’”这说明了苏俄政府当时实行这一政策的目的是：保障战争胜利，向社会主义过渡。

(2) 本题主要考查阅读分析能力。材料二中苏俄“能够拄着拐杖走动了”的含义是苏俄经济由于十月革命后三年内战的破坏，濒临崩溃，但由于新经济政策的实施，使苏俄经济走出了困境，有效地巩固了苏维埃政权。

(3) 本题主要考查阅读分析能力。材料三中表格的数据显示苏联在实施第一、第二个五年计划之后，其工业总产值在欧洲和世界都名列前茅，说明了当时苏联社会主义建设取得的巨大成就有：苏联由传统的农业国变成强盛的工业国；工业总产值跃居欧洲第一，世界第二；国防力量也大为增强。其原因主要有：苏联实施社会主义工业化建设；1928-1937年先后进行了两个五年计划建设；实行了高度集中的经济政治体制。（斯大林模式）

(4) 本题主要考查联系的方法地分析问题的能力。苏联卫国战争是在1945年5月8日取得胜利的，距今刚好70周年。材料三中苏联在20世纪工业生产取得了巨大成就，它与材料四中卫国战争胜利之间的关系是：30年代苏联社会主义建设取得的成就为苏联卫国战争胜利奠定了坚实的物质基础，是卫国战争胜利的前提和保障。

答案：(1) 政策：战时共产主义政策；(1分) 目的：保障战争胜利，向社会主义过渡。(2分)

(2) 含义：新经济政策的实施，使苏俄经济走出了困境，有效地巩固了苏维埃政权。(2分)

(3) 成就：苏联由传统的农业国变成强盛的工业国；工业总产值跃居欧洲第一，世界第二；国防力量也大为增强。(3分)

原因：苏联实施社会主义工业化建设；1928-1937年先后进行了两个五年计划建设；实行了高度集中的经济政治体制。（斯大林模式）(3分)

(4) 70周年。(1分)

关系：30年代苏联社会主义建设取得的成就为苏联卫国战争胜利奠定了坚实的物质基础，是卫国战争胜利的前提和保障。(2分)