

2008 年普通高等学校招生全国统一考试（宁夏卷）

文科综合能力测试

本试卷分第 I 卷（选择题）和第 II 卷（非选择题）两部分，其中第 II 卷第 41~44 题为选考题，其它题为必考题。考生作答时，将答案答在答题卡上，在本试卷上答题无效。考试结束后，将本试卷和答题卡一并交回。

注意事项：

- 1、答题前，考生务必先将自己的姓名、准考证号填写在答题卡上，认真核对条形码上的姓名、准考证号，并将条形码粘贴在答题卡的指定位置上。
- 2、选择题答案使用 2B 铅笔填涂，如需改动，用橡皮擦干净后，再选涂其它答案标号；非选择题答案使用 0.5 毫米的黑色中性（签字）笔或碳素笔书写，字体工整、笔迹清楚。
- 3、请按照题号在各题的答题区域（黑色线框）内作答，超出答题区域书写的答案无效。
- 4、保持卡面清洁，不折叠，不破损。
- 5、做选考题时，考生按照题目要求作答，并用 2B 铅笔在答题卡把所选题目对应的题号涂黑。

第 I 卷

本卷共 35 个小题，每小题 4 分，共 140 分。在每小题给出的四个选项中，只有一项是符合题目要求的。

读表 1，完成 1-2 题。

表 1 某区域 2000-2004 年湿地的转化 单位：hm²

转化来源 湿地类型	旱田	城镇用地	工矿用地	草地	其他
河渠	489	-7	0	235	48
海涂	43	-155	-2027	0	17627
水库坑塘	25657	-33	-211	5694	926
水田	76	-793	1053	0	0

注：表中数据正值表示正向转化——湿地面积增加，负值表示逆向转化——湿地面积减少。

1. 各类湿地面积变化幅度由小到大顺序为
- A. 水库坑塘 海涂 水田 河渠
 - B. 河渠 水田 海涂 水库坑塘
 - C. 水田 河渠 水库坑塘 海塘
 - D. 河渠 水库坑塘 海涂 水田

2. 与 2000 年相比, 2004 年该区域
- A. 物种多样性有所减少
 - B. 水鸟栖息地减少
 - C. 生态环境有所改善
 - D. 湿地面积减少

图 1 示意不同纬度三地白昼长度变化。读图 1, 完成 3~4 题。

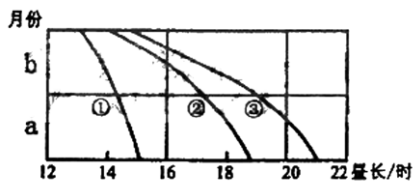


图 1

3. 若此图表示南半球三地的白昼变化, 则 a、b 两月分别是
- A. 1 月、2 月
 - B. 3 月、4 月
 - C. 6 月、7 月
 - D. 11 月、12 月
4. 在图示月份中
- A. ②地夜长超过 10 小时
 - B. 三地中①地昼长最长
 - C. 三地昼长变化率在 a 月相等
 - D. 三地中③地昼长变化最大

图 2 示意日本部分地区樱花初放日期。读图 2, 完成 5-6 题。

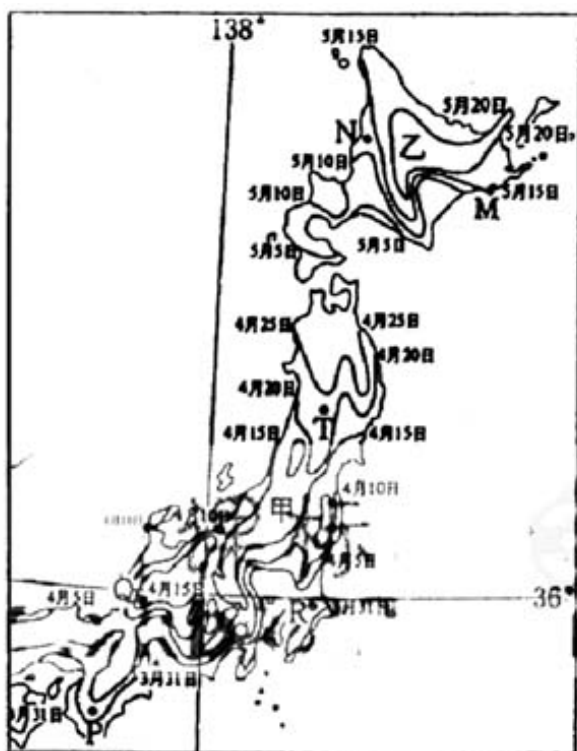


图 2

5. 符合纬度地域分异的表现是
- A. T 地与 Q 地樱花初放日期相近
 - B. 樱花初放日期在 Q 地晚于 R 地
 - C. R 地与 P 地樱花初放日期相近
 - D. 樱花初放日期在 T 地晚于 R 地

6. 影响乙岛 M、N 两地樱花初放日期不同的主要原因是
- A. N 地接受太阳辐射较多 B. M 地受南下寒流影响
- C. N 地地势较为地平 D. M 地受北上暖流影响

图 3 示意某国部分地区的地形 (a) 和人口密度 (b)。读图 3, 完成 7-9 题。

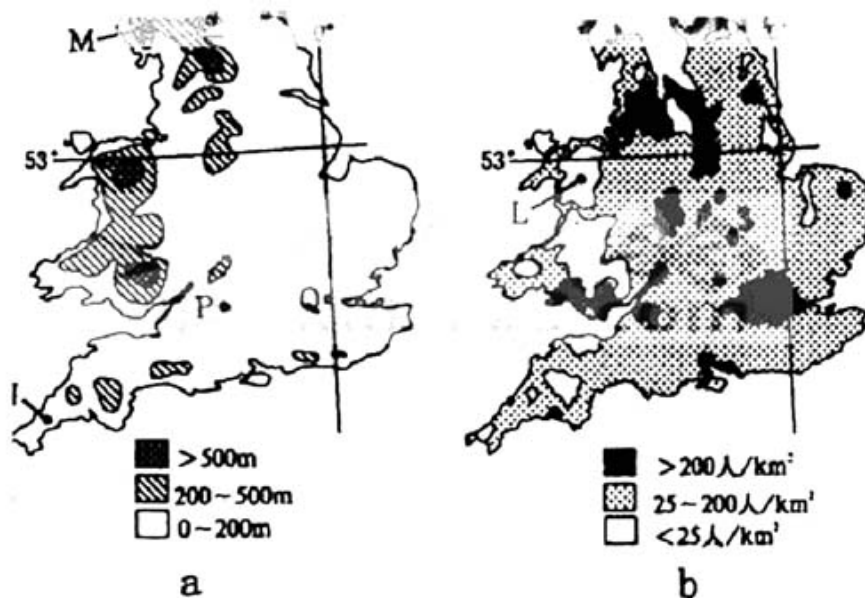


图 3

7. M、N、P、Q 四地中, 降水量最多的是
- A. M 地 B. N 地 C. P 地 D. Q 地
8. 影响 L 地人口稀少的主要自然因素是
- A. 地形 B. 纬度位置 C. 洋流 D. 距海远近
9. 图示地区主要的农业地域类型是
- A. 商品谷物农业 B. 乳畜业 C. 大牧场放牧业 D. 游牧业

溶解氧 DO 是指溶解于水中的氧的含量, 是衡量水质的重要指标。生化需氧量 BOD 是微生物分解水中的有机物体时需要消耗氧的数量, 它用于监测水体有机物的污染状况。图 4 为某河由 M 河段至 Q 河段水中溶解氧和生化需氧量浓度变化曲线。据些完成 10-11 题。

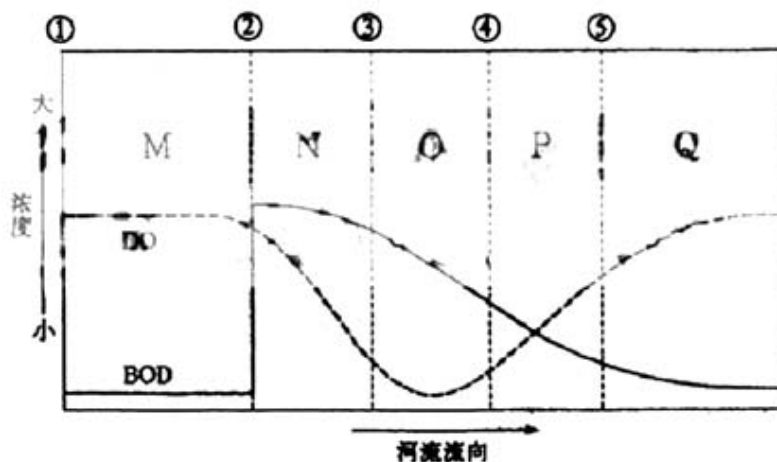


图 4

10. 图 4 中有机污染源在
A. ① B. ② C. ③ D. ④
11. 最容易导致鱼类死亡的河段是
A. M B. N C. O D. P
12. 某国 2007 年生产 M 商品 10 亿件，价值总额为 100 亿元。如果 2008 年从事 M 商品生产的劳动者数量增加 10%，社会劳动生产率提高 20%，其他条件不变，则 2008 年 M 商品的价值总额为
A. 110 亿元 B. 120 亿元 C. 130 亿元 D. 132 亿元
13. 甲经营两年的个人资企业由于市场不景气而破产。对企业债务，甲应
A. 以个人财产承担无限责任 B. 以注册资本为限承担责任
C. 以法人资产为限承担责任 D. 承担无限连带责任
14. 维持市场平衡健康发展，防止股市泡沫，是政府宏观调控的主要任务之一。当股市增长过快时，政府可采取的调节措施是
①降低银行存贷款利率 ②降低利息税
③上调股票交易印花税 ④扩大基金发行规模
A. ①② B. ②③ C. ①④ D. ③④
15. 2005 年 7 月 21 日，美元兑人民币的汇率由 1 美元=8.21 人民币调整为 1 美元=8.11 人民币元。此后，人民币持续小幅升值，截至 2008 年 4 月，人民币累计升值约为 16%，人民币升值有利于
①. 我国出口贸易的发展 ②. 我国进口贸易的发展
③. 我国对外投资的增加 ④. 吸引外商在我国投资
A. ①② B. ①③ C. ②③ D. ③④
16. 如果说民主是指一种与个人专制独裁统治不同的、实行“多数人的统治”的国家形式，那么，这个“多数人”指
A. 统治阶级中的多数人
B. 全体国民中的多数人
C. 国家政权机关的多数人
D. 包括被统治阶级在内的多数人
17. 《国家教育事业发展“十一五”规划纲要》提出，要特别加大对农村、中西部地区、边疆地区、民族地区的支持力度，同时要解决好进城务工者子女在居住地平等接受义务教育的问题……努力让每个孩子都能接受合格的义务教育。《纲要》集中体现了政府
A. 保护公民各项合法权益的职能
B. 缩小城乡差距的政策导向
C. 加强社会服务的公共职能
D. 促进社会公平正义，构建社会主义和谐社会的施政理念
18. 某市建设城市轨道交通线路方案公示后，很多市民通过电话、写信、上访和网络评议等方式参与讨论，提出各种意见和建议。市政府召开多次市民代表座谈会，听取各方面意见，对原方案进行调整修改，最后获得了大多数市民的认同。这体现了
A. 市政府和市民共同履行公共管理职能
B. 政府决策遵循少数服从多数的民主原则
C. 公民参与、民主决策的原则
D. 依法执政、民主执政的理念

19. 维吾尔族的《第七木卡姆朱拉》、蒙古族长调《成吉思汗》、纳西族《嫁女调》、鄂西土家族《神农溪纤夫号子》……各具特色的民族服饰、语言、曲调和歌声，展现在 CCTV 舞台上。人们为多姿多彩的民族音乐而激动，更为音乐盛典丰厚广博的文化内涵而感动。这从一个侧面表明
- ①各具特色的民族文化都代表着中华文化的前进方向
 - ②中华各民族的文化都是中华文化的瑰宝
 - ③中华文化呈现着多民族文化的丰富色彩
 - ④各民族传统文化相互融合，形成推动当代中国发展的时代精神
- A. ①② B. ②③ C. ①④ D. ③④
20. 海伦·凯勒曾说，假如给我有视觉的一天，我将“向过去和现在的世界匆忙瞥一眼”，而要做到这一点，“当然是能过博物馆”。为更好地发挥博物馆、纪念馆的作用，2008 年 1 月 23 日中央宣传部等单位下发《关于全国博物馆、纪念馆免费开放的通知》。博物馆、纪念馆免费开放是
- ①加强社会主义核心价值体系建设和公民思想道德建设的有效手段
 - ②国家实现和保障人民群众基本文化权益的积极举措
 - ③对某些文化产品经济价值的否定和社会价值的肯定
 - ④把文化产业从市场中分离出来加以发展的措施
- A. ①② B. ①③ C. ②③ D. ②④
21. “ $100-1=0$ ”被一些管理学家奉为定律，意在提醒人们防止因 1% 的错误导致 100% 的失败。“ $100-1=0$ ”蕴含的哲理是
- ①部分决定整体，整体的性质决定于部分的性质
 - ②整体决定部分，部分的作用取决于其在整体中的地位
 - ③整体与部分相互制约，关键部分的功勇关系整体的成败
 - ④整体与部分相互联系，部分的作用有时大于整体的作用
- A. ①② B. ①④ C. ②③ D. ③④

随着科学技术的发展，目前 72 小时的气象预报可以和 25 年前 36 小时的气象预报一样可靠。但由于受天气状况原始数据、计算手段、分析能力等条件的限制，气象预报难以避免误差。在这个意义上，气象预报仍然是一门不精确的科学。回答 22 - 23 题。

22. 随着气象预报科学技术的发展，人们能够作出更精确和更长期的气象预报，其哲学依据是
- ①大气运动尽管复杂，但有规律并可以被认识
 - ②大气运动的偶然性逐渐向有规律的必然性转化
 - ③科学技术的发展使人们认识这些规律的能力不断提高
 - ④科学技术的发展已使人们完全掌握大气运动的规律
- A. ①② B. ①③ C. ②④ D. ①④
23. “气象预报仍然是一门不精确的科学”，此论断给我们的启示是，自然现象的无限复杂性决定了
- ①人的认识永远不能达到真理 ②人的真理性认识包含谬误的成分
 - ③人的真理性认识具有相对性 ④人的认识有待于进一步发展
- A. ①② B. ②③ C. ①③ D. ③④
24. 中国古代用 12 种动物与“子、丑、寅、卯、辰、巳、午、未、申、酉、戌、亥”十二地支相配，组成十二生肖。相传唐玄宗因属鸡而热衷斗鸡，唐玄宗出生之年应该是
- A. 庚申年 B. 癸卯年 C. 甲辰年 D. 乙酉年

25. 《旧唐书·良吏传》记载了一名叫王方翼的官员，“(高宗)永徽中累授安定令，诛大姓皇甫氏，盗贼止息，号为善政”。当时此类的记载尚有许多，这说明
- 官府与大姓的关系是地方治理的关键
 - 朝廷一直压制门阀士族
 - 朝廷对地方缺乏影响力
 - 士族大姓势力膨胀导致割据
26. 中国古代吏治腐败时会出现以钱买官的现象。“三千索，直秘阁；五百贯，擢通判”，就是对这一现象的揭露。这句话所反映的情况发生在
- 秦代
 - 汉代
 - 唐代
 - 宋代
27. 《四库全书总目提要》称某人的著述“狂悖乖谬，非圣无法”，“排击孔子，别立褒贬”。这里的“某人”是指
- 李贽
 - 黄宗羲
 - 顾炎武
 - 王夫之
28. 实行民主制的雅典国家被称作“男性公民的俱乐部”，这意味着雅典国家的主人是
- 全体奴隶主
 - 除奴隶之外的全体成年男性
 - 除奴隶和外邦人之外的成年男性
 - 从事工商业的成年男性
29. 据记载，1888 年清朝政府在北京西苑修建了一条铁路，慈禧太后因火车司机坐在自己前面开车，弃用了人德国引进的蒸汽机车而改用太监牵拉。这说明
- 顽固势力拒绝引进西方科技
 - 封建等级制度阻碍社会发展
 - 清廷天朝大国思想根深蒂固
 - 封建迷信阻碍近代科技传播
30. 表 2 1870 - 1910 年中国一些进口货物占总进口值的百分比

年份	棉布	金属和矿物	机械
1870	28.0	5.8	-
1880	24.9	5.5	-
1890	20.2	5.7	0.3
1900	21.5	4.7	0.7
1910	14.7	4.3	1.5

表 2 反映出

- 中国对工业产品需求量减少
 - 西方列强对华资本输出扩大
 - 近代中国工矿企业发展壮大
 - 中国的传统手工业衰败没落
31. 《上海县竹枝词》有诗云：“卅年求富更求强，造炮成船法仿洋。海面未收功一战，总归虚牝掷金黄。”与上述内容有关的历史事件是
- 第二次鸦片战争
 - 中法马尾海战
 - 中日甲午战争
 - 八国联军侵华
32. 民国时期，民间多因循传统，视农历正月初一为“元旦”，1949 年以后则以公历 1 月 1 日为“元旦”。这一变化表明
- 民国时期传统节日得到完整保留

- B. 1949 年以后传统节日彻底改变
 C. 近代西方节日在中国得到普及
 D. 西方节日融入了中国文化元素
33. 1960 年，中共中央开始纠正大跃进和人民公社化运动中出现的一些错误。这主要是因为
- A. 人民公社化运动的弊病充分暴露
 B. 国民经济出现了严重困难
 C. 确定了“调整、巩固、充实、提高”的方针
 D. 反“右倾”斗争深入开展
34. 1980 年，珠海是一个普通的小县城。20 世纪 90 年代，珠海发展成为环境优美的现代化城市，并获得联合国“国际改善人居环境最佳范例奖”。珠海快速发展的主要原因是
- A. 毗邻港澳
 B. 政策扶持
 C. 科技领先
 D. 资源丰富
35. 美国历史学家斯塔夫里亚诺斯指出：“正如整个世界感受到斯蒂芬森的机车、富尔顿的汽船和加特林的机枪的影响一样，它也感受到《独立宣言》《人权和公民权宣言》和《共产党宣言》的影响。”斯塔夫里亚诺斯在这里说明的是
- A. 世界各地的横向联系进一步加强
 B. 工业革命对历史发展有重大影响
 C. 美国革命和法国大革命影响深远
 D. 科技革命对社会的影响越来越大

第 II 卷

本卷包括必考题和选考题两部分。第 36~40 题为必考题，每个试题考生都必须作答。第 41~44 题为选考题，考生根据要求作答。

36. (28 分) 阅读资料，完成下列要求。

图 5 所示地区属于北温带季风气候区。当冷空气缓慢进入并滞留于图中某些地区时，气温下降致使水汽过饱和会产生浓雾，并对人类的生产生活造成影响。

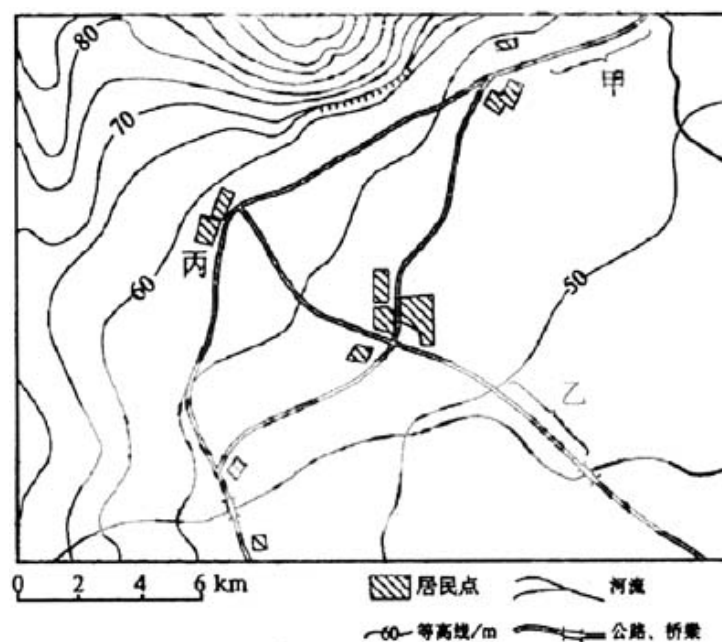


图 5

(1) 甲、乙两路段多发浓雾，试说明其原因；两路段中哪一段受浓雾影响频次更多，时间更长，为什么？（14分）

(2) 随着人口的增加，丙村要扩建居民点。若只考虑沿着山前公路扩建，试比较说明在丙村东北方向和南偏西方向建设民居条件的差异。（14分）

37. (28分) 阅读资料，完成下列要求。

杭州湾跨海大桥于 2008 年 5 月 1 日正式通车。大桥南起宁波慈溪，北至嘉兴海盐（图 6），是世界上建造难度最大的跨海大桥之一。

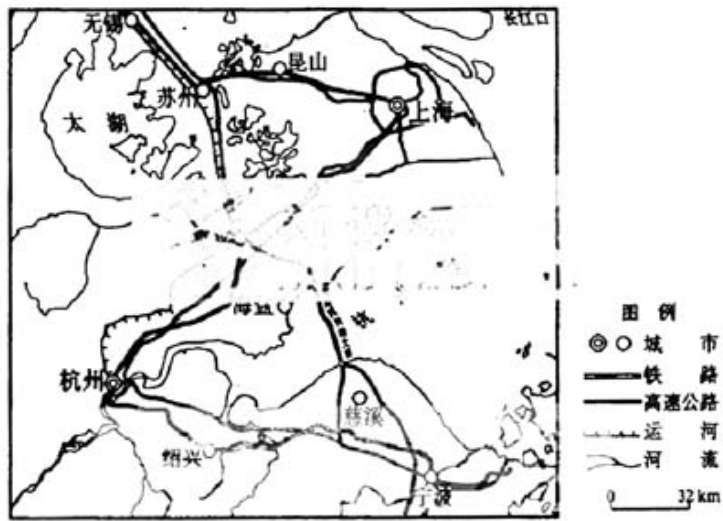


图 6

(1) 分析造成大桥施工困难的自然原因。（12分）

(2) 从宁波到上海，经该桥将比走原有公路路程短。据图估算缩短的里程约为____千米。（4分）

(3) 试评价大桥建成后产生的主要经济和环境效益。（12分）

38. (16分) 阅读资料，完成下列要求。

圆明园是我国古代园林和建筑艺术的杰出代表，1860 年被英法联军大肆抢劫后焚毁，现在是我国重要的文化遗址。20 世纪 80 年代以来，关于圆明园遗址保护和重建方案的争论充分展开，目前主要有原址整体重建、原址部分重建、遗址附近重建、异地重建等观点。

(1) 赞成上述哪种观点？请从文化教育功能和文化遗产的角度阐述你的理由。（7分）

(2) 选择方案的过程也就是权衡利弊的过程。简述其中所体现的得与弊的辩证关系。（6分）

(3) 假如让你制定方案，首先应抓什么环节？在这个环节你主要应做哪些工作？（3分）

39. (36分) 阅读资料，完成下列要求。

材料一

20 世纪 80 年代以来，联合国政府间气候变化专门委员会（IPCC）组织数百位科学家经过长期的观测、调查、实验和分析探讨，先后发布了四个“气候评估报告”。1990 年报告称

“近百年气候变化可能是自然波动，或人为活动，或二者共同影响的结果”；1995 年报告指出，人类活动对地球气候和气候系统的影响已经可以“被检测出来”；2001 年报告认为，“新的更强证据表明，过去 50 年观测到的大部分气候变暖可能归因于人类活动”；2007 年报告强调，“人类活动很可能是气候变暖的主要原因”，并将这种可能性从 2001 年的约 66% 提升到 90% 以上。

材料二

虽然中国的人均二氧化碳的排放量相当于美国的 14%，世界平均水平的 65%，但面对全球气候变暖和我国国内严重的环境污染以及能源紧张情况，中国政府高度重视资源节约和环境保护。胡锦涛主席在 APEC 第十五次领导人非正式会议上向国际社会庄严承诺，中国将全力落实应对气候变化国家方案，在发展经济的同时努力减缓温室气体排放，并提出了坚持合作应对、坚持可持续发展、坚持公约主导地位、坚持科技创新等四点应对全球气候变化的建议。

材料三

气候变化与工业生产带来的污染有密切的联系。在发展经济的同时，我国近年不断加大对工业污染治理的投资力度，政府通过政策引导企业减少污染排放，避免“先污染后治理”。

表 3 中国工业污染治理投资来源构成

年份	投资总额 (亿元)	国家预算内 资金 (%)	企业自筹 (%)	国内贷款 (%)	利用外资 (%)	其他 (%)
2001	174.48	20.83	4.29	38.46	4.14	---
2002	188.37	22.28	4.25	23.12	3.85	---
2003	221.79	8.45	64.00	11.32	3.06	---
2004	308.11	4.50	73.81	9.42	1.49	---
2005	458.19	1.70	78.93	8.51	1.55	---

(资料来源：根据《中国统计年鉴 2006》数据计算)

- (1) 结合“气候评估报告”关于地球变暖原因的描述，说明人类追求和发展真理的特点。(12 分)
- (2) 胡锦涛主席向国际社会所作的庄严承诺以及提出的建议是如何体现我国外交政策的？(12 分)
- (3) 分析表 3 数据，指出我国工业污染治理投资来源的变化趋势以及导致这种变化趋势的成因。(4 分)
- (4) 运用所学经济知识，提出政府在引导企业减少污染排放方面可采取的调控手段和措施。(8 分)

40. (37 分) 阅读材料回答问题。

材料一

1932 年，美国国民总产值从 1929 年的 1040 亿元下降到 410 亿元。当年有 27.3 万户人家被房东撵走。农民每收一英亩小麦，就要亏一元五角。用玉米棒子当燃料，比卖玉米买煤烧还合算。肉价惨跌，一只羊送到市场，运费一元一角，售价不足一元。

这时全国再也没人搞货币兑换了。纽约州一位州参议员到首府开会，自带一周吃的东西……在麦迪逊广场花园举办“金手套”锦标赛半决赛，门票除五分钱娱乐税必须付现金外，其余可以用任何食物偿付，其中有香肠、床垫、帽子、鞋子、大衣、女睡衣、照相机、玩具、高尔夫球裤、机工工具、涂脚药膏、《圣经(新约)》等。

——摘编自(美)威廉·曼彻斯特《光荣与梦想》

材料二

罗斯福认为，拯救国家的希望在于迅速克服经济崩溃的威胁。1933 年 3 月 6 日，他命令所有银行关闭 4 天，并禁止支付和出口黄金。3 月 9 日，国会召开特别会议，并在 4 小时

之内通过紧急银行法。财政部根据紧急银行法采取的迅速行动，立即恢复了企业界信心。到4月的第一个星期，货币便有10亿美元以上回流到银行，储藏者已将黄金送返联邦储备银行，财政部官员则只须发行少量新联邦储备货币。

——摘编自（美）阿瑟·林克等《1900年以来的美国史》

材料三

新政挽救资本主义结构的计划，还有两方面值得注意。首先是1933年6月建立的房主贷款公司。在这个机构存在的三年之中，它向100万以上的房主共贷款30多亿美元。其次，为刺激近于停工的房屋建筑业，国会于1934年6月建立联邦住房管理局，发放建筑新房和修理房屋的抵押贷款。运用长期低息贷款，联邦住房管理局对恢复私营住房建筑业起了巨大作用。在1934年至1940年之间，它发放修理住房贷款合计9.45亿美元，发放建筑新房贷款合计23亿美元。

——摘自（美）阿瑟·林克等《1900年以来的美国史》

材料四

美国“次贷危机”是从2006年春季开始逐步显现的，2007年8月席卷美国、欧盟和日本等世界主要金融市场。次级抵押贷款是美国部分贷款机构向信用程度较差和收入不高的借款人提供的贷款方式之一。在借款人无力偿债而不得不将名下财产抵押的情况下，贷款机构为了规避风险又把抵押品上市转成基金。鉴于住房市场降温，银行利率上升，很多借款人无力履约的局面引发了美国“次贷危机”，造成贷款机构遭受重创，导致大量买入次级抵押贷款衍生出来的证券投资产品的投资基金陷入困境，引发金融形势激烈变化，殃及国际市场。

——摘编自《光明日报》，2007年8月17日

- (1)根据材料一并结合所学知识，指出为什么当时美国出现了用实物进行交换的反常现象。（10分）
- (2)根据材料二并结合所学知识，从金融措施的角度说明罗斯福新政取得成功的原因。（10分）
- (3)根据材料三并结合所学知识，指出房主贷款公司和联邦住房管理局在缓解危机中所发挥的作用。（11分）
- (4)比较材料三、四，指出房贷为什么在新政时期有利于缓解经济危机，而在当前却引发了次贷危机。（6分）

请考生在第41、42、43、44四题中任选一题作答，如果多做，则按所做的第一题计分。作答时请写清题号。

41.（15分）历史上的重大改革回眸

材料一

昔彼得为欧洲所摈，易装游法，变真而遂霸大地。日本为俄美所迫，步武泰西，改弦而雄视东方。此二国者，其始遭削弱与我同，其次后底盛强与我异。闻日本地势近我，政俗同我，成效最速，条理尤详，取而用之，尤易措手。

——汤志鈞编《康有为政论集》

材料二

1682-1725年在位的彼得一世，采纳西欧模式，对俄国进行彻底改革。1697-1698年，他率团往德、荷、英考察，学习其政府管理模式和军事技术，大量招募外国专家为俄国服务，对军事、行政体制和生活方式等进行大刀阔斧的改革。其中，强制剪须割袍即是其改革的戏剧性一幕。在当时的俄国，大多数贵族饱食终日，往往懒洋洋地拖着长袍，留着被视为“上帝赐予的装饰品”的大胡须，无所事事。彼得下令：除神职人员外，一律禁止留须，他甚至亲自将贵族的胡子剪掉，还在宴会上亲自剪短贵族的旧式长袍，规定只穿西欧式的短袍。改革引起包括其子阿历克塞在内的一些人的反对，几经犹豫后，彼得将儿子处死，“在整个历

史上,几乎没有什么能产生如此大的个人影响……他通过各种方法急切地把一种新的文化强加于俄罗斯,从而为他的帝国确定了未来性质……由于他的努力,俄国显然摆脱了孤立的状态……此后,俄国的历史成为欧洲史的一部分,并愈益成为世界史的一部分”。

——摘编自(美)帕尔默等《近现代世界史》

- (1) 根据材料一,概括指出康有为的主要观点。(6分)
- (2) 根据材料一,二并结合所学知识,说明彼得改革和明治维新的共同之处。(9分)

42. (15分) 近代社会的民主思想与实践

材料一

1946年,中国民主建国会主张:“建设一种新资本主义的经济和新民主主义的政治,而起斗争方法和态度又是和平的、渐进的,在本质上而是改良的”;“走向改良进步的道路,坚决反对保守反动的道路,也不愿意走向暴力革命的道路”。这一主张得到了多数民主党派的赞成。

——摘编自《中国现代史资料简编》

材料二

1947年底到1948年初,中国民主同盟指出:“在民主运动胜利高潮快要到来的现阶段,中国已分成了两个营垒,一方面是反动的营垒,另一方面是革命的营垒;一方面是民主的人民的营垒,另一方面是独裁的人民的营垒。不属于这个营垒,就是属于哪个营垒。中间的地位是已经不存在了。”

——摘编自《中国民主同盟历史文献》

- (1) 根据材料一、二,指出民主当派的政治主张发生了哪些变化。(6分)
- (2) 说明民主当派的政治主张发生变化的原因。(9分)

43. (15分) 20世纪的战争与和平

材料一

欧洲在战后一个严寒的黎明醒来。1947年难得冬天是气候恶劣的季节。从1月倒月,一股冷风横扫德、意、法、英等国……狂风呼啸,积雪如山,交通断绝,浮冰堵住了泰晤士河口;运载着食品激扬的火车转眼之间救灾铁轨上;驶往巴黎的运煤船被冰块堵在水上航行不得。在柏林……作为应急措施,每户德国家庭分配到一棵树作为取暖之用。

整个欧洲,供水系统、下水道排污以及其他大部分生活设施瘫痪;事物供应日减,煤的储备不断减少……英国的失业人口在两个月之内增加了100万。政府和工业都在冰雪中停止运作了。生命似乎已被冻僵;400万头羊、3万头牛冻饿而死。在置身其间的哲学家以赛亚·伯林看来,这里“空旷,寥无人际,就像一具幽雅的尸体”。

——摘编自(英)·斯·桑德斯《文化冷战与中央情报局》

材料二

我无须对诸位说:世界局势很严重……我们的政策不是反对任何国家、任何注意。而是反对饥饿、贫穷、悲惨、混乱。

在美国政府能够尽力缓和局势,协助欧洲走上复兴道路之前,显然地,欧洲国家……事先应该获致若干协议。这是欧洲人的事情,最初的意见应该由欧洲提出……这个计划必须是联合性质的,假使不能商得所有欧洲国家的同意,也得商得一部分国家的同意。

——摘自美国国务卿马歇尔在哈佛大学的演说(1947年6月5日)

- (1)根据材料一并结合所学知识,概括指出欧洲成为“一具优雅的尸体”的原因。(6分)

(2)根据材料二并结合所学知识,说明马歇尔计划对欧洲的影响。(9分)

44. (15分)中外历史人物评说

材料一

予观雁荡诸峰,皆峭拔险怪,上耸千尺,穹涯巨谷,不类他山,皆包在诸谷中,自岭外望之,都无所见;至谷中则森然干霄。原其理,当是为谷中大水冲激,沙土尽去,唯巨石岿然挺立耳。

日月之形如丸。何以知之?以月盈亏可验也……如一弹丸,以粉涂其半,侧视之,则粉处如钩;对视之,则正圆。此有以知其如丸也。

——摘自沈括《梦溪笔谈》

材料二

中国的传统历法是阴阳合历,节气与月份的关系并不固定,而节气对农业生产等活动有着很大影响。为使节气与月份之间建立起相对固定的关系,沈括大胆提出了一种纯阳历的历日制度,即十二节气历法。这种历法可以说是历法史上带有革命性的创意。它完全以太阳运动为计算依据,按节气定历,既简便易算,又有利于农事活动的安排。但由于这种阳历否定了中国几千年传统的阴阳合历,不可避免地招致“怪怨攻骂”而难以实行。可是,沈括充满信心地说:“然异时必有用予之说者。”如今,世界通用的阳历,其实质与沈括的“十二节气历”是很相似的。

——摘编自白寿彝总主编《中国通史》

(1)根据材料一、二,概括指出沈括进行科学研究时使用的方法。(6分)

(2)根据材料一、二,指出沈括作为科学家所具有的素质。(9分)

2008年普通高等学校招生全国统一考试

文科综合能力测试参考答案

第一卷

1.B 2.C 3.A 4.D 5.D 6.B 7.A 8.A 9.B 10.B 11.C 12.A 13.A 14.B 15.C
16.A 17.D 18.C 19.B 20.A 21.C 22.B 23.D 24.D 25.A 26.D 27.A 28.C
29.B 30.C 31.C 32.D 33.B 34.B 35.A

第二卷

36.答案要点:

(1) 地势比较低(冷空气容易进入) 水汽较多(靠近河流) (易产生浓雾)。乙路段 乙路段地势较甲路段(更)低平,(离山较远,冷空气更容易进入) 接近(开阔)河谷的路段比甲路段更长(水汽较多)

(2) 东北方向:山前到公路间的区域较狭窄 相邻山坡比较陡,有峭壁,存在洪水、滑坡等自然灾害的隐患

南偏西方向:山前到公路间的区域较宽阔,可以使用的建筑用地较多 相邻山地比较和缓,一般不存在洪水、滑坡等自然灾害的隐患

37.答案要点:

(1) ①海域宽阔 ②台风多 ③潮差大 ④流速急 ⑤水深,风浪大
⑥海洋腐蚀环境作用严重 ⑦桥墩地基。

(2) (在85—105间的值均可得分)

(3) 降低交通成本 加强区域经济联系(增进区域经济整合) 实现节能减排(减少运输油耗及尾气排放,减轻环境污染)

38.答案要点:

(1) 文化具有教育塑造人的功能,可以帮助人们形成正确的世界观、人生观和价值观,提升人的精神境界,增强人的精神力量 通过遗址或通过遗址与复建部分的对比进行爱国主义教育,可以增强人们的忧患意识,提醒人们勿忘国耻,激励人们不甘屈辱,弘扬自强不息的民族精神 以圆明园为代表的中国古代园林和建筑艺术在世界文明史上具有独特地位,通过复建或重建,推陈出新,可以使我国古代的园林建筑艺术得以传承和发展(注:考生赞成任何一种观点,只要答案中包含上述要点,或者其他合理内容,均可给分)

(2) 利与弊是对立统一的关系。每个方案都既有利又有弊,两者既相互区别又相互依存:利与弊作为矛盾的双方,有主次方面之分,其主要方面决定着事物的性质,只有利大于弊的方案才是合理的 不同的方案之间也存在利与弊的比较,我们在不同方案的选择中同样需要进行利弊矛盾分析,作出趋利弊害的正确选择

(3) 调查研究 查找和核实有关圆明园的原始资料,通过座谈会、互联网等渠道听取意见、征询建议,了解有关文化遗址保护的法规,走访有关专家和技术人员等。 要求至少写出两项。若有其他答案,只要言之有理均可得分)

39.答案要点:

(1) 追求和发展真理以实践为基础。关于地球变暖原因的研究课题来源于人类社会实践,“气候评估报告”是科学家在长期观察实验的基础上形成并由实践检验而不断发展的,反映了人类解决气候变暖问题、实现人类可持续发展的强烈愿望和迫切要求 追求和发展真理是一个在不同观点争鸣中不断克服谬误、逐步接近真理的反复过程。人类对地球气候变暖原因的真理认识不是一次完成的,而是在实践和认识

的循环往复中获得的

追求和发展真理没有止境。目前人类获得的关于地球气候变暖原因的真理认识不是终极真理，而是具体的、有条件的。随着实践的继续发展和科学技术水平的不断提高，人类对气候变暖原因的认识必然会不断扩展和深化

(2) 气候变暖问题关系人类的生存和发展。中国政府高度重视全球气候变暖问题，并全力落实应对气候变化国家方案，与中国外交政策的基本目标是一致的

“在发展经济的同时努力减缓温室气体排放”的主张既积极回应了国际社会对中国的减排要求，又充分考虑了中国的国情，体现了中国政府在对外活动中坚持独立自主的基本立场。面对气候变暖问题，中国政府所提的四点建议体现了和平、发展、合作、共赢的外交政策新理念

(3) 表 3 显示，在我国工业污染治理投资中，国家预算内资金所占比重下降，企业自筹资金所占比重大幅度上升，国内贷款和利用外资所占比重下降。这说明企业在污染治理中发挥越来越重要的作用，体现了“谁污染谁治理”的原则

(4) 经济手段：对污染企业征收排污费、污染税，对节能环保企业优惠贷款利率，限制为污染环境的企业提供贷款（若回答出污染排放许可证交易之类的措施，可适当加分，但不能超过）行政手段：强制关闭污染环境的企业或限产；发放排污许可证 法律手段：环境立法，追究污染环境企业的法律责任

40.答案要点：

- (1) 当时美国经济危机是生产相对过剩性危机；物价下跌，通货紧缩；消费者持币观望
- (2) 整顿银行，恢复信用；实行美元贬值，提高物价；扩大政府财政支出（采取赤字政策），刺激社会需求
- (3) 刺激房地产业恢复和发展，缓解住房危机；带动相关产业的复兴；扩大就业，提高社会购买力；缓解社会矛盾
- (4) 评分说明：本问为开放性问题，考生可以从以下角度回答问题。
 - ① 从金融背景的角度说明：例如，通货膨胀时期和通货紧缩时期不同，或危机阶段和繁荣阶段不同。
 - ② 从贷款性质的角度说明：例如，良性贷款和不良贷款的不同，或适度贷款和过度贷款的不同。
 - ③ 从贷款发放者的角度说明：例如，政低息房贷和商业房贷的不同。考生能从上述三个角度中的两个角度进行说明，即可得 6 分；若考生另有答案，言之有理，可酌情给分。

41.答案要点：

- (1) 从主张走中间道路，到承认中间道路失败；从主张和平改良，到反对国民党的独裁统治，支持中国共产党的革命主张
- (2) 民主党派没有实现其主张的条件；国民党统治集团坚持独裁内战，对民主党派实行政治迫害；解放战争进入战略反攻阶段，受中国共产党新民主主义的思想影响和统一战线政策的推动

42.答案要点：

- (1) 俄、日改革，由弱变强；中国仿效日本，更易见效
- (2) 都是自上而下的改革；想西方学习，涉及政治、经济、军事、文化和社会风俗等各方面；改革成效显著，国力增强，摆脱了封闭与孤立状态

43.答案要点:

- (1) 原因: 第二次世界大战对欧洲各国经济造成严重破坏; 1947 年冬季的恶劣气候使民众生活进一步恶化 人们的心理受到冲击
- (2) 影响: 西欧各国进一步向美国靠拢; 加速了以美国为首的欧美联合与结盟; 客观上有利于西欧走向联合; 遏制社会主义的影响

44.答案要点:

- (1) 实地考察; 模拟实验; 总结经验和规律
- (2) 具有积极探索的精神, 勤于思考; 掌握科学的研究方法, 注重实践; 突破陈见, 勇于创新