

2017 年江苏省苏州市中考真题历史

一、单项选择题：在每小题列出的四个选项中，只有一项是最符合题目要求的（本大题共 20 小题，每小题 1 分，共 20 分）。

1. 考古发现是了解人类社会发展的主要证据。下面一组图片反映的是不同时期的遗址发掘出土的文物，其中能够见证我国信史（文字记载历史）开始的文物图片是（ ）



解析：本题考查甲骨文的有关知识。甲骨文是中古一种文字，是汉字的早期形成，有时也被认为汉字的书体形式之一，也是现存中国王朝时期最古老的一种成熟文字，我国文字可考历史从商朝开始。ABD 的和题文无关，故选 C。

答案：C

2. 斯塔夫里阿诺斯《全球通史》记载：“周以后的秦朝尽管存在时间短暂，却用一个组织得很严密的帝国结构取代了周朝的制度……所有这些使中国得到了世界上最稳定、最持久的统治。”秦朝在地方上取代了周制的“帝国结构”是指（ ）

- A. 分封制
- B. 郡县制
- C. 郡国并行制
- D. 行省制

解析：本题考查的是郡县制的相关知识点。根据所学知识，中国古代继宗法血缘分封制度之后出现的以郡统县的两级地方行政制度，盛行于秦汉。郡县制是古代中央集权制在地方政权上的体现，它是秦始皇在地方的政治制度。ACD 和秦朝无关，不符合题意，故答案选择 B。

答案：B

3. 下图是 2016 年 5 月中国邮政发行“二十四节气”（中国文明的独特贡献）特种邮票中的两张，这两张邮票最能直接体现中国古代农业经济的基本特点是（ ）



- A. 刀耕火种
- B. 铁犁牛耕
- C. 耕织结合
- D. 农商皆本

解析：结合所学知识可知，第一张图内容是男耕，第二张图内容是女织，两张邮票最能直接体现中国古代农业经济的基本特点是男耕女织相结合，故 B 正确；材料体现不出土地私有、铁犁牛耕，排除 AB；自给自足是生产的目的是满足自己生活需要，与商业无关，故 ABD 不符合题意。故选 C。

答案：C

4. 《宋史》记载：“国家根本，仰给东南”和民间谚语“苏湖熟，天下足”。这两段材料所反映的现象主要说明了（ ）

- A. 国家重点支持东南沿海的开发
- B. 苏州和湖州是我国的经济重心
- C. 东南沿海地区农民赋税负担重
- D. 江南地区已成为全国经济重心

解析：根据所学知识可以知道，从唐朝中晚期至五代，我国经济重心逐渐南移，到南宋时，经济重心南移完成。“苏湖熟，天下足”的谚语和“国家根本，仰给东南。”都是经济重心的南移的表现，说明江南地区已成为全国经济重心。ABC 不符合题意，所以 D 选项是正确的。

答案：D

5. 蒋廷黻《中国近代史》指出：“当时的人对于这些条款最痛心的是五口通商。……协定关税和治外法权是我们近年来所认为不平等条约的核心。”材料中所涉及的条约给中国带来的主要影响是（ ）

- A. 开始沦为半殖民地半封建社会
- B. 半殖民地半封建化的程度加深
- C. 列强对华开始大规模资本输出
- D. 清政府已完全沦为洋人的朝廷

解析：根据题干材料可以知道这是中英《南京条约》，《南京条约》使中国开始沦为半殖民地半封建社会，故 A 项符合题意；B 项是第二次鸦片战争的影响；C 项是《马关条约》签订的影响；D 项是《辛丑条约》签订的影响。故 A 选项是正确的。

答案：A

6. 史论结合是历史学习的基本方法。下表中的推论与史实不相符的是（ ）

选项	史实	推论
A	洋务运动	提倡“自强”“求富”，揭开了中国近代化的序幕
B	百日维新	宣传“变法图强”，是近代中国一次思想解放运动
C	辛亥革命	践行“三民主义”，推翻中国 2000 多年的封建统治
D	新文化运动	启发人们追求民主和科学，积极探索救国救民的真理

解析：A 项，洋务运动虽然以失败告终，但引进了西方资本主义国家的一些先进科学技术，使中国出现了第一批近代企业；为中国近代企业积累了经验，培养了技术力量；在客观上促进了中国民族资本主义的产生和发展，为中国的近代化开辟了道路。故 A 项史论相符。B 项，戊戌变法是在甲午战败、民族危机空前严重的背景下开展的，它是一次资产阶级的爱国政治运动，试图通过政制变革实现国家的富强，加快了近代化的进程。这次变法对中国社会起到了思想启蒙的作用，因此是近代中国一次思想解放运动。故 B 项史论相符。C 项，辛亥革命虽然推翻了清政府的统治，结束了封建帝制，但它并未推翻封建统治。故 C 项史论不相符。D 项，辛亥革命后，以陈独秀为代表的先进知识分子，高举“民主”和“科学”的旗帜，兴起了新文化运动。新文化运动启发了人们追求民主和科学，探索救国救民的真理，并且为马克思主义在中国传播创造了条件。故 D 项史论相符。本题要求选择史论不相符的一项。综上所述，本题正确答案为 C。

答案：C

7. 作为南京安全区国际委员会主席的德国人约翰·拉贝，亲眼目睹了 1937 年 9 月到 1938 年 2 月间侵华日军的暴行，并用日记记录了下来，这就是著名的《拉贝日记》。同时，拉贝还保存了 80 多张现场拍摄的照片和洋实说明。《拉贝日记》可以作为研究南京大屠杀史料的最主要理由是（ ）



- A. 作者经历的真实性
- B. 日记时间的一致性
- C. 作者身份的特殊性
- D. 日记内容的丰富性

解析：我们要研究南京大屠杀这段历史，最有力的证据是屠杀现场遗迹与当时的新闻照片。只有当时的遗迹和新闻照片最客观。《拉贝日记》是作者的亲身经历，具有真实性。所以A选项是正确的。BCD不是最主要理由。故选A。

答案：A


8. “中华人民共和国是工人阶级领导的，以工农联盟为基础的人民民主国家。……行使国家权力的机关是全国人民代表大会和地方各级人民代表大会。……国家对工商业采取利用、限制和改造的政策，……逐步以全民所有制代替资本家所有制。”以上内容出自（ ）

- A. 《中华民国临时约法》
- B. 《中国人民政治协商会议共同纲领》
- C. 《中华人民共和国土地改革法》
- D. 《中华人民共和国宪法》（1954年）

解析：本题考查现代中国的政治建设。根据材料可知，其内容涉及新中国的国家性质及根本政治制度，应出自《中华人民共和国宪法》。结合所学知识可知，在《宪法》获得通过之前，《共同纲领》一定程度上行使着《宪法》的职能。《共同纲领》规定：“中华人民共和国为新民主主义即人民民主的国家，实行工人阶级领导的、以工农联盟为基础的、团结各民主阶级和国内各民族的人民民主专政。”故ABC和题文材料无关，故本题正确答案为D。

答案：D

9. 不同时代的宣传漫画体现了不同的时代风貌。下面的两幅图出现在（ ）



- A. “大跃进”运动时期
- B. 社会主义过渡时期
- C. “文化大革命”时期
- D. 现代化建设新时期

解析：本题主要考查“大跃进”运动。根据图片可知，这是“大跃进”运动时期的浮夸风。由于党和人民对于我国社会主义所处的发展阶段认识不足，对如何建设社会主义缺乏经验，

又急于求成，忽视了经济发展的客观规律。1958年发动的“大跃进”运动，导致以高指标、瞎指挥、浮夸风和“共产”风为标志的“左”倾错误泛滥。图片漫画正是浮夸风的表现。

答案：A

10. 1971年美国从中国进口490万美元，出口则是微乎其微；而1972年美国从中国进口额达3230万美元，对华出口为6020万美元。导致这一变化的主要原因是（ ）

- A. 中国提出了和平共处五项原则
- B. 中美两国关系开始得到了改善
- C. 中国恢复在联合国的合法席位
- D. 中美两国顺利建立了外交关系

解析：本题考查新中国的外交的有关知识。根据材料可知1971-1972年中美之间的进出口总量出现大幅度变化，结合所学材料可知1972年2月美国总统尼克松访问美国，中美两国关系开始走向正常化。中美两国关系开始得到了改善是1971-1972年中美之间的进出口总量出现大幅度变化的主要原因。A是1953年；C是1971年，但和题文无关；D是1979年。因此ACD不符合题意，B正确。

答案：B

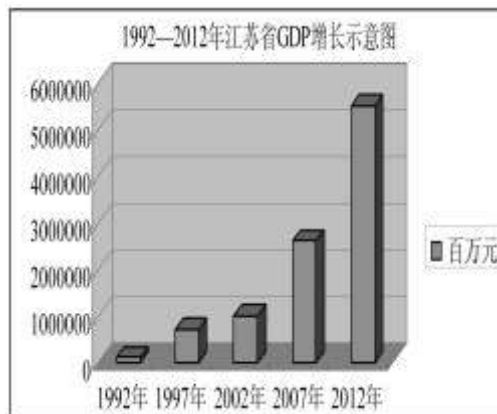
11. 国家主席习近平在纪念孙中山先生诞辰150周年大会上指出：“两岸同胞是血脉相连的骨肉兄弟。两岸是割舍不断的命运共同体。两岸关系和平发展是维护两岸和平、促进共同发展、造福两岸同胞的正确道路”。“两岸关系和平发展”的关键是（ ）

- A. 实现直接“三通”
- B. 坚持“一个中国”原则
- C. 加强经济密切合作
- D. 传承中华优秀传统文化

解析：本题主要考查海峡两岸的关系。依据课本知识，坚持一个中国原则，是两岸关系和平发展的政治基础。这是“两岸关系和平发展”的关键。

答案：B

12. 经济统计数据是史学研究的重要资料。观察下侧柱状图，推动江苏省GDP增长的最主要原因是（ ）



- A. 南通和连云港沿海港口城市的开放
- B. 上海浦东开发开放带来的推动作用
- C. 中国加入WTO积极融入经济全球化
- D. 社会主义市场经济体制的确立与完善

解析：观察题干“1992-2012年江苏省GDP增长示意图”柱状图可以知道，推动江苏省GDP增长的最主要原因是社会主义市场经济体制的确立与完善。1992年10月在北京举行中国共产党第十四次全国代表大会。形成了以江泽民为核心的党的第三代领导集体，确立了邓小平建设有中国特色社会主义理论在全党的指导地位，明确提出我国经济体制改革的目标是建立社会主义市场经济体制。此后改革开放和现代化建设事业进入从计划经济体制向社

会主义市场经济体制转变的新阶段。ABC 不属于江苏省 GDP 增长的最主要原因，所以 D 选项是正确的。

答案：D

13. 科学家拉格朗日把 17 世纪的《自然哲学的数学原理》誉为人类心灵的最高产物，并说：“因为宇宙只有一个，而在世界历史上也只有一个人能做它的定律的解释者。”拉格朗日所褒誉的这个人（ ）

- A. 伽利略
- B. 牛顿
- C. 达尔文
- D. 爱因斯坦

解析：本题以科学家拉格朗日把 17 世纪的《自然哲学的数学原理》誉为人类心灵的最高产物为依托，考查牛顿。牛顿是人类历史上出现过的最伟大、最有影响的科学家，通过观察苹果落地确立了万有引力定律，同时也是物理学家、数学家和哲学家，他在 1687 年 7 月 5 日发表的不朽著作《自然哲学的数学原理》里用数学方法阐明了宇宙中最基本的法则——万有引力定律和三大运动定律。建立了完整的力学理论体系。

答案：B

14. 有学者认为：“18 世纪末至 19 世纪中期，对欧洲大陆来说是一个大动荡的时代，同时也是历史性变革的时代。”推动“历史性变革”的思想因素是（ ）

- A. 文艺复兴
- B. 空想社会主义
- C. 启蒙运动
- D. 马克思主义

解析：18 世纪的启蒙运动倡导理性，启蒙思想家们著书立说，孟德斯鸠“三权分立”、卢梭“社会契约论”等学说更是照亮了欧洲近代社会发展的道路，描绘了资本主义政治体制的宏伟蓝图，推动了欧洲历史的变革。ABD 不符合题意，故 C 项正确。

答案：C

15. 美国国土安全部 2017 年 2 月 4 日发布声明称，根据美国华盛顿州两区联邦地方法院法官詹姆斯·罗巴特 3 日作出的裁决，在全美范同内暂停实施总统特朗普颁布的限制难民等群体入境的行政令。国土安全部将恢复此前对待入境旅客的检查方式。据此可知美国（ ）

- A. 司法权高于行政权
- B. 总统必须要对联邦法院负责
- C. 地方权力高于中央
- D. 总统权力受到联邦法院制约

解析：分析题文的美国国土安全部 2017 年 2 月 4 日发布声明称，根据美国华盛顿州两区联邦地方法院法官詹姆斯·罗巴特 3 日作出的裁决，在全美范同内暂停实施总统特朗普颁布的限制难民等群体入境的行政令。国土安全部将恢复此前对待入境旅客的检查方式。据此可以知道美国总统权力受到联邦法院制约。1787 宪法确立美国是一个联邦制国家，实行三权分立，总统是国家元首和政府首脑，享有行政权；国会掌握立法权；最高法院掌握司法权；ABC 不能正确解读材料，所以 D 选项是正确的。

答案：D

16. 以下是近代英国城乡人口变迁表，导致出现这种变迁现象的主要原因是（ ）


时间	1750 年	1800 年	1850 年
城市人口(%)	21.0%	27.5%	52.0%
农村人口(%)	79.0%	72.5%	18.0%

- A. “光荣革命”的发动
- B. 殖民扩张的开展

- C. 工业革命的推动
- D. 自由贸易的拓展

解析：本题主要考查工业革命的影响。1785年以后，瓦特改进的蒸汽机首先在纺织部门投入使用，随后应用于许多生产部门，人们利用蒸汽机提供的动力带动机器，进行生产，极大地促进了大工厂生产的发展。从此，人类进入了“蒸汽时代”。因此，导致近代英国城乡人口变迁的主要原因是工业革命的推动。ABD 不符合题意，故选 C。

答案：C

17. 下图是“欧洲两大帝国主义集团对峙图”，图中  所表示的军事侵略集团是（ ）



- A. 三国协约
- B. 三国同盟
- C. 轴心国同盟
- D. 北大西洋公约组织

解析：本题考查一战前两大军事对峙集团的形成。19 世纪末，帝国主义国家在激烈的角逐中纷纷寻找伙伴以壮大自己的力量，逐渐结成了“三国同盟”和“三国协约”两大对立的军事集团。1882 年 5 月，德国、奥匈帝国、意大利三国在维也纳签订《德奥意三国同盟条约》，正式建立三国同盟军事集团。英国、法国、俄国三国的协约则是以两两协约的原则进行的条约签订。三国协约正式形成于 1907 年。题文所问的军事集团为英、法、俄三国协约。BCD 不符合题意，故本题正确答案为 A。

答案：A

18. 《大国崛起》解说词：“1917 年 11 月 7 日，震撼世界的十月革命爆发。以此为起点，这个占世界陆地面积近五分之一的国家，开始了一次对 20 世纪的历史产生深刻影响的伟大实践。”这里的“伟大实践”是指（ ）

- A. 推翻了沙皇俄国专制统治
- B. 诞生了第一个社会主义国家
- C. 建立了资产阶级临时政府
- D. 实现了苏联社会主义工业化

解析：本题以《大国崛起》解说词为切入点，考查十月革命的相关知识。由材料“1917 年 11 月 7 日，震撼世界的十月革命爆发”可知，材料中的“伟大实践”是指诞生了第一个社会主义国家。1917 年 11 月 7 日，俄国爆发了十月革命，建立了世界上第一个社会主义国家，开辟了人类历史的新纪元。

答案：B

19. 下面图 1 和图 2 分别宣传 20 世纪前期苏联、美国的某项措施。这两项措施的实施都（ ）



图 1: 五年计划, 四年完成



图 2: 工作付酬的美国

- A. 体现了政府对经济的干预
- B. 处于相似的国内外经济环境
- C. 暴露了发展重工业的弊端
- D. 迅速推进本国工业化的完成

解析: 本题以图片为依托, 考查苏联两个五年计划和罗斯福新政。图 1 反映的是苏联进行工业化建设, 是斯大林模式下计划经济体制的体现; 图 2 是罗斯福新政中的“以工代赈”, 反映的是国家加强对经济的干预, 二者的共同之处是政府对经济的干预。苏联工业化建设牺牲了农民的利益, 没有调动农民的生产积极性。斯大林执政前, 苏联没有实现工业化, 而美国在罗斯福新政已经完成工业化; 罗斯福新政是受经济危机影响而实行的, 苏联当时没有受危机冲击。苏联实行斯大林模式, 排斥市场经济。故 BCD 解读错误, 所以此题选 A。
答案: A

20. “(20 世纪) 80 年代, 人类刮起了一场巨大的求变之风……80 年代成为当代史的分界线。民主精神恢复了自信, 开始广泛传播。”(保罗·约翰逊《现代: 从 1919 到 2000 年的世界》) 材料中的这场“求变之风”最终()

- A. 延缓了西方政治民主化进程
- B. 壮大了国际社会主义的力量
- C. 实现了世界政治文明的统一
- D. 改变了世界政治的两极格局

解析: 本题以保罗·约翰逊《现代: 从 1919 到 2000 年的世界》中的观点切入考查两极格局的瓦解。“(20 世纪) 80 年代, 人类刮起了一场巨大的求变之风……80 年代成为当代史的分界线。民主精神恢复了自信, 开始广泛传播。”根据题干中的这个时间及“民主精神恢复了自信”可知材料中的这场“求变之风”指的是东欧剧变、苏联解体, 它最终改变了世界政治的两极格局。

答案: D

二、判断题: 判断正误, 并在答题卡相应的方框内填涂, 正确的填涂 A, 错误的填涂 B (本大题共 6 小题, 每小题 1 分, 共 6 分)。

21. 《史记》记载: “于蜀, 蜀守冰凿离碓(即堆), ……穿二江成都之中。”该材料描述的是我国战国时期著名的水利工程——都江堰。()

解析: 本题以《史记》记载为切入点, 主要考查我国战国时期著名的水利工程——都江堰。据“于蜀, 蜀守冰凿离碓(即堆), 穿二江成都之中。”可以知道, 该材料描述的是我国战国时期著名的水利工程——都江堰。战国时期, 秦国蜀郡太守李冰在岷江中游修筑的都江堰, 它既能防洪, 又能灌溉, 它使成都平原变得“水旱从人, 不知饥馑”, 因而获得了“天府之国”的美称, 两千多年来, 都江堰一直造福于人民。

因此, 本题说法正确, 故选 A。

答案: A

22. 武昌起义打响了资产阶级革命派反抗清朝专制统治的第一枪；南昌起义则打响了中国共产党武装反抗国民党反动统治的第一枪。（ ）

解析：本题考查武昌起义和南昌起义的相关知识。结合所学知识可以知道，同盟会成立后，在武昌起义前，发动了一系列武装起义，其中以黄花岗起义最为壮烈。故“1911年武昌起义打响了资产阶级革命派反抗清朝封建统治的第一枪”说法错误。南昌起义则打响了中国共产党武装反抗国民党反动统治的第一枪的说法正确。据此可以知道题干说法错误。故选B。

答案：B

23. 下图所示战役发生于全面抗战初期，粉碎了日寇三个月灭亡中国的狂妄计划，是抗战以来的首次大捷。（ ）



解析：本题考查淞沪会战，据图片并结合所学知识可知，这是发生在1937年的淞沪会战，淞沪会战粉碎了日寇三个月灭亡中国的狂妄计划。1937年9月的平型关大捷是抗战以来的首次大捷。

答案：B

24. 俄国伟大作家列夫·托尔斯泰完成了《战争与和平》《安娜·卡列尼娜》和《复活》等不朽名著。列宁称他为“俄国革命的镜子”。（ ）

解析：本题以判断题的形式考查俄国伟大作家列夫·托尔斯泰。列夫·托尔斯泰是19世纪俄国著名作家和教育家，批评现实主义文学巨匠，被列宁称为“俄国革命的镜子”，代表作有《战争与和平》、《安娜·卡列尼娜》、《复活》，这些作品深刻地揭示了19世纪后期到20世纪初俄国社会的基本矛盾，展现了俄国剧烈的社会变动。故本题说法正确，故选A。

答案：A

25. 1921年苏俄开始实施新经济政策，允许多种经济并存，大力发展商品经济，促进国民经济的恢复和发展。（ ）

解析：本题以判断题的形式考查新经济政策的实施以及作用。粉碎国内外反革命叛乱和武装干涉后，苏维埃俄国的经济形势十分严峻，为了扭转这种局面，1921年，苏俄放弃战时共产主义政策，开始实行新经济政策。用固定的粮食税代替余粮征集制，允许多种经济并存，大力发展商品经济，促进国民经济的恢复和发展。苏维埃俄国工业生产逐渐恢复到一战前水平，苏维埃政权得以进一步巩固。因此本题说法正确，故选A。

答案：A

26. 二战期间国际反法西斯联盟建立的标志是1942年26国在华盛顿签署的《联合国宣言》。（ ）

解析：本题以二战为依托，考查二战期间国际反法西斯联盟建立的标志。二战中法西斯国家的侵略扩张，激起了世界人民的广泛愤怒，中、美、苏等国家为了对付共同的敌人法西斯，逐渐走向联合，1942年苏、英、美、中等26个国家在华盛顿签署《联合国宣言》

建立了国际反法西斯联盟，鼓舞了各国人民的斗志，壮大了反法西斯的力量，奠定了打败法西斯国家的基础。题干说法正确。

答案：B

三、填空题：（本大题共3小题，每小题2分，每空1分，共6分）。

27. 1405~1433年，明朝_____，是中外航海史上的壮举。1492年，意大利航海家_____横渡大西洋，到达美洲，发现了新大陆。

解析：本题主要考查学生对航海家有关知识的识记。依据学过的知识已知，明朝前期，国力强盛，积极遣使到亚非各地，促进中外交流，为了宣扬国威，加强与海外诸国的联系，1405-1433年郑和奉命七次下西洋，先后拜访30多个在西太平洋和印度洋的国家和地区，最远到达了红海沿岸和非洲东岸。郑和下西洋是中外航海史上的壮举。1492年哥伦布从西班牙出发，横渡大西洋，到达了美洲的古巴、海地等地，发现了新大陆。

答案：郑和下西洋 哥伦布

28. 新中国成立后，为了维护祖国统一，促进民族平等、民族团结和共同发展，党和政府实行的基本国策和基本政治制度是_____。20世纪80年代初，邓小平从维护祖国和中华民族的根本利益出发，尊重历史和现实，把党中央多年来酝酿的和平统一祖国的构想，创造性地概括为“_____”。

解析：主要考查民族区域自治制度和一国两制。依据所学知识可知，新中国成立后，为了解决民族问题而制定的基本政策是民族区域自治制度。全国已建立五个省级自治区和许多自治州、自治县等。民族区域自治对祖国统一、民族平等、民族团结和地区发展具有重大的意义，成为我国的一项基本国策和基本政治制度。“一国两制”就是在中华人民共和国境内，大陆实行社会主义制度，台湾、香港和澳门实行资本主义制度，在一国两制伟大构想的指引下，香港、澳门作为特别行政区分别于1997年、1999年顺利回归祖国。

“一国两制”是20世纪80年代初，邓小平提出来的。

答案：民族区域自治（制度） 一国两制

29. 1776年，北美大陆会议发表《_____》，宣告北美13个殖民地脱离英国独立。1789年法国资产阶级颁布《_____》，宣称人们生来自由，权利平等，私有财产神圣不可侵犯。

解析：本题以“1776年，北美大陆会议”等为切入点，考查美国独立战争和法国大革命的知识。1776年7月4日，大陆会议发表《独立宣言》，《独立宣言》痛斥了英国国王对殖民地的暴政，宣布一切人生而平等，人们有生存、自由和追求幸福等不可转让的权利，同时宣告北美13个殖民地脱离英国独立，标志着美国诞生。1789年7月14日巴黎人民攻占巴士底狱，法国资产阶级革命爆发，革命期间颁布的《人权宣言》宣称人们生来自由，权利平等，私有财产神圣不可侵犯，对法国大革命具有重要意义。

答案：独立宣言 人权宣言

四、材料解析题：阅读材料，根据设问，依据材料以及结合所学知识，回答问题（本大题共3小题，每小题6分，共18分）。

30. （6分）唐朝，一个不筑长城的统一王朝，具有开拓创新的气魄，更有昂扬进取的精神。阅读材料，回答下列问题。

材料一 忆昔开元全盛日，小邑犹藏万家室。稻米流脂粟米白，公私仓廩俱丰实。九州道路无豺狼，远行不劳吉日出。齐纨鲁缟车班班，男耕女桑不相失。

——唐·杜甫《忆昔》

材料二 唐朝户数在639年（唐太宗贞观13年）达300万户，705年有615万户，740年（唐玄宗开元28年）为841万户，754年有918万户。

——冻国栋《中国人口史》（第二卷）

（1）据材料一指出该诗人生活在唐朝的什么特殊时代？他的诗被后人称誉为什么？（2分）

解析：根据材料一的出处人物为杜甫，他生活在唐朝唐朝由盛转衰的时代；他的诗被后人称誉为诗史。杜甫生活在唐朝由盛转衰的时代，他的诗深刻反映了那个动荡的历史时代，

真挚地表现了他关心国家盛衰和民生疾苦的心情，人们称之为“诗史”。杜甫的诗感情真挚，笔触细腻，风格雄浑，语言精练凝重，被后人尊为“诗圣”。

答案：特殊时代：唐朝由盛转衰的时代；“诗史”。

(2)材料一反映了当时怎样的社会现实？材料二的数据印证了材料一中哪一句诗所描述的情况？（2分）

解析：结合所学知识可知，唐玄宗统治前期，政治清明，经济空前繁荣，仓库充实，人口明显增加，唐朝进入全盛时期，历史上称为“开元盛世”。材料一的“小邑犹藏万家室”反映出唐朝开元年间国家呈现经济繁荣，政治清明，社会安定，百姓富足的景象。

答案：社会现实：开元盛世时期国家呈现经济繁荣（人口众多，粮食丰盈，国库允实），政治清明，社会安定，百姓富足的景象。印证：“小邑犹藏万家室”。

(3)材料二中，639~751年间唐朝的户数数据呈现出怎样的趋势？据上述材料并结合所学知识，概括出现这一趋势的主要原因。（2分）

解析：本题考查学生分析材料数据的能力。分析材料二的数据“639年达300万户，705年有615万户，740年（唐玄宗开元28年）为841万户，754年有918万户”可以看出639~751年间唐朝的户数数据呈现出连续增长的趋势。从639~751年间唐朝先后经历了唐太宗、武则天和唐玄宗三位皇帝的统治，出现了“贞观之治”；“政启开元，治宏贞观”；“开元盛世”的繁荣局面。

答案：趋势：连续增长（上升）。

原因：“贞观之治”（奠基）；“政启开元，治宏贞观”（继续发展）；“开元盛世”（全盛）。

31.（6分）中华民族的伟大复兴是近代以来亿万中华儿女的共同理想。阅读材料，回答下列问题。

材料一 东西各国之强，皆以立宪法开国会之故。国会者，为国民共议一国之政法也。人君与千百万之国民，合为一体，国安得不强？吾国行专制政体，一君与大臣数人共治其国，国安得不弱？……今变行新法，固为治强之计。

——康有为《请定立宪开国会折》

材料二 我们推倒满洲政府，从驱除满人那一面说是民族革命，从颠覆君主政体那一面说是政治革命，并不是把它分作两次去做。讲到那政治革命的结果，是建立民主立宪政体。……外人断不能瓜分我中国，只怕中国人自己瓜分起来，那就不可救了！所以我们定由平民革命，建国民政府。

——孙中山《民族、国民的、社会的国家》（1906.12.2）

(1)据材料一，概括康有为认为国弱的主要因素以及强国的具体主张。（2分）

解析：本题考查学生概括材料的能力。依据材料一的“吾国行专制政体，一君与大臣数人共治其国，国安得不弱？”可以看出康有为认为国弱的主要因素是君主专制。从材料一的“东西各国之强，皆以立宪法开国会之故。国会者，为国民共议一国之政法也。人君与千百万之国民，合为一体，国安得不强？”可以概括出康有为认为强国的具体主张是维新变法，实行君主立宪。

答案：原因：君主专制（专制政体）；主张：维新变法；君主立宪（行宪法、开国会）。

(2)据材料二，指出孙中山“政治革命”的目的。并概括孙中山“民权主义”思想的特点。（2分）

解析：由材料二“讲到那政治革命的结果，是建立民主立宪政体。……外人断不能瓜分我中国，只怕中国人自己瓜分起来，那就不可救了！所以我们定由平民革命，建国民政府。”可知，孙中山“政治革命”的目的是建立民主立宪政体（或创立民国、建国民政府）；孙中山“民权主义”思想的特点是把民族革命和政治革命结合起来（民族和民权相结合）（认为推翻清朝的反动统治具有双重意义）。

答案：目的：建立民主立宪政体（或创立民国、建国民政府）；

特点：把民族革命和政治革命结合起来（民族和民权相结合）（认为推翻清朝的反动统治具有双重意义）。

(3)综合上述材料，归纳康有为和孙中山思想的共同之处。（2分）

解析：本题考查学生的分析归纳能力。康有为认为强国的具体主张是维新变法，实行君主立宪。孙中山领导辛亥革命的的目的是：建立民主立宪政体。由此可见，康有为和孙中山思想的共同之处是：反对君主专制，建立民主政治；救亡图存，实现民族复兴。

答案：共同：反对君主专制，建立民主政治；救亡图存（民族复兴）。

32.（6分）与世界历史上前几次全球化相比，中国“一带一路”引领的全球化是实现人类和平与发展的新型全球化。阅读材料，回答下列问题。


材料一 近500年来，近现代世界历史发生过三次结构性的权力转变……第一次转变始于15世纪西方世界（欧洲）的崛起；第二次转变发生在19世纪中后期美国的崛起……目前正在经历的则是现代史上的第三次权力转变，或可称为“群雄竞起”的时代。

——[美]法里德·扎卡里亚《后美国世界》

材料二 随着国际货币基金组织、世界银行和世贸组织的建立，由美国主导的第二次全球化开始了。这一次全球化并没有建立帝国，而是通过创办视世界为其市场的多国公司和全球公司。在技术缩短了时间和距离的情况下，可口可乐、麦当劳和索尼等产品成为世界名牌。在将近50年的时间里，国际贸易的升幅超过国内生产总值的增长率，成为推动全球增长的主要动力。

——[美]克莱德·帕雷斯托维姿的署名文章（2005年）

材料三如下图，不论你愿意与否，全球化进程都会不断深入地发展……



(1)据材料一并结合所学知识，指出15世纪推动“欧洲崛起”的两个历史事件。（2分）

解析：本题以15世纪推动“欧洲崛起”的两个历史事件为切入点，主要考查文艺复兴运动和新航路的开辟。结合所学知识可知，14—16世纪的文艺复兴运动促进了人们思想的解放，推动了欧洲文化思想领域的繁荣，为欧洲资本主义社会的产生奠定了思想文化基础。15—16世纪的新航路开辟后，从欧洲到亚洲、美洲和非洲等地的交通往来日益密切，世界开始连成一个整体。欧洲大西洋沿岸工商业经济繁荣起来，促进了资本主义的产生和发展。

答案：事件：文艺复兴运动；新航路的开辟。

(2)据材料二，归纳“美国主导的第二次全球化”的推动力有哪些？（2分）

解析：本题以克莱德·帕雷斯托维姿的署名文章为切入点，主要考查“美国主导的第二次全球化”的推动力。据材料二“随着国际货币基金组织、世界银行和世贸组织的建立，由美国主导的第二次全球化开始了。这一次全球化并没有建立帝国，而是通过创办视世界为其市场的多国公司和全球公司。在技术缩短了时间和距离的情况下，可口可乐、麦当劳和索尼等产品成为世界名牌。在将近50年的时间里，国际贸易的升幅超过国内生产总值的增长率，成为推动全球增长的主要动力。”可知，“美国主导的第二次全球化”的推动力有：第三次科技革命的兴起和创新；国际经济组织的建立；跨国公司的发展；国际贸易的增长等。

答案：推动力：第三次科技革命的兴起和创新；国际经济组织的建立；跨国公司的发展；国际贸易的增长。

(3)以材料三“全球化进程”的漫画中，你获得了什么信息？综上所述，当今中国引领全球化转型的推进战略是什么？（2分）

解析：本题以“全球化进程”的漫画为切入点，主要考查从中获得的信息及当今中国引领全球化转型的推进战略。分析材料三的漫画信息，通过关键词“不公平、发展中国家、发达国家”我们从漫画中获取的信息是：发达国家是经济全球化的领跑者，获利更大；发展中国家处于不利境地；发达国家与发展中国家间贫富差距加大。当今中国引领全球化转型的推进战略是倡导的“一带一路”建设。

答案：信息：发达国家（或两方强国）是经济全球化的领跑者，获利更大；发展中国家处于不利境地；发达国家与发展中国家间贫富差距加大。战略：“一带一路”建设。