

# 永州市 2013 年初中毕业学业考试试卷

## 地 理(试题卷)

### 一、选择题(每小题 2 分, 共 50 分)

每小题只有一个正确答案。请将其代号填涂在答题卡上。

某中学野外户外训练营举行登山活动。读图, 据此回答 1~2 题。

1. 4 条登山路线中, 坡度最平缓的是

- A. ① B. ② C. ③ D. ④

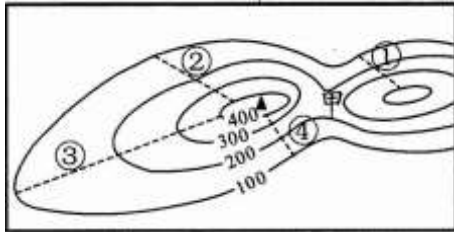
2. 甲处表示的地形部位是

- A. 陡崖 B. 鞍部 C. 山脊 D. 山谷

3. 天气符代  表风力 5 级, 风向

- A. 东风 B. 南风

- C. 西风 D. 北风



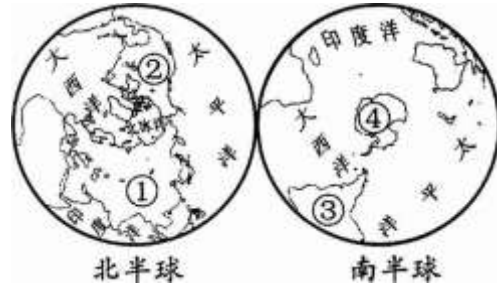
读“南、北半球图”, 完成 4~5 小题。

4. 图中数码表示北美洲的是

- A. ① B. ② C. ③ D. ④

5. 按板块划分, ④所在大洲属于

- A. 亚欧板块 B. 非洲板块  
C. 太平洋板块 D. 南极洲板块



大马士革(33° 30' N, 36° 18' E)为叙利亚首都。下表为大马士革的气候资料。据此回答 6~7 题。

6. 大马士革夏季的气候特点是

- A. 炎热干燥 B. 温暖湿润  
C. 高温多雨 D. 温和少雨

7. 大马士革的气候类型是

- A. 温带海洋性气候 B. 热带雨林气候  
C. 地中海气候 D. 亚热带季风气候

月份	1月	6月	7月	12月	全年
平均高温(°C)	12	33	36	12	24.6
平均低温(°C)	2	16	18	4	10.5
降水量(mm)	43	0	0	41	220

埃及卢克索神庙是世界文化遗产, 每年都有几十万游客从世界各地慕名而来。据此回答 8~9 题。

8. 埃及 87% 的居民是阿拉伯人, 多信奉

- A. 基督教 B. 佛教 C. 伊斯兰教 D. 道教

9. 下列行为不利于保护神庙的是

- A. 控制周围的工业污染 B. 限制参观人数  
C. 禁止在周围修建高大的现代建筑物 D. 在神庙雕像上刻写“xx 到此一游”

10. 不同的区域具有不同的地理特征。有关下列地区的叙述, 不正确的是

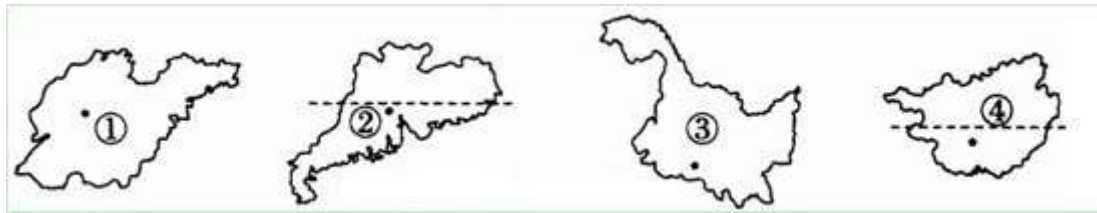
- A. 东南亚的马六甲海峡是沟通太平洋与印度洋的天然水道  
B. 南亚地形以山地为主, 地势中部高、四周低  
C. 西亚是世界上石油储量、产量、输出量最丰富的地区  
D. 欧洲西部著名的三大旅游国是法国、西班牙和意大利

11. 读下列四国轮廓图, 有关四国的叙述正确的是



- A. ①国有世界最大的热带雨林  
 B. ②国的工业集中分布在太平洋沿岸和濑户内海沿岸  
 C. ③国地处欧洲西部，为经济发达国家  
 D. ④国矿产资源丰富，被称为“坐在矿车上的国家”
12. 协调欧元区各国利益，共同应对“欧债危机”的区域性国际组织是  
 A. 欧洲联盟(EU) B. 东南亚国家联盟(ASEAN)  
 C. 二十国集团(G20) D. 亚太经济合作组织(APEC)
13. 近年来，我国海洋产业发展较快。下列对发展海洋产业不利的是  
 A. 海岸线漫长，海域辽阔  
 B. 大陆架面积广，海洋资源丰富  
 C. 地处西北太平洋中枢，交通便利  
 D. 与周边国家争议海域较多

读下列省(区)轮廓图，完成 14—15 题。



14. 有关 4 个省(区)的叙述正确的是  
 A. ①的简称是鲁 B. ②濒临渤海  
 C. ③的名称是云南省 D. ④的行政中心是西宁市
15. 4 个省(区)中，壮族主要分布在  
 A. ① B. ② C. ③ D. ④

2013 年 4 月 20 日 8 时，四川雅安芦山发生 7.0 级强烈地震。据此回答 16—17 题。

16. 地震发生后，国家地震灾害紧急救援队立即出动，他们主要采用的交通运输方式是  
 A. 铁路 B. 公路 C. 海运 D. 航空
17. 伴随地震而来的自然灾害多为  
 A. 酸雨 B. 滑坡、塌方 C. 寒潮 D. 台风

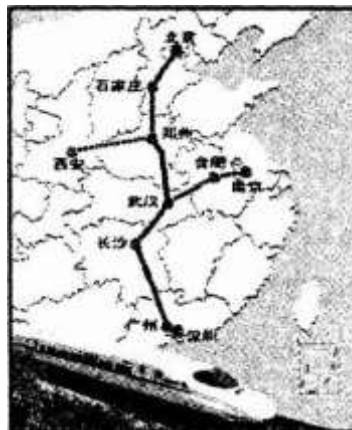
2012 年 12 月 26 日。京广高铁全线通车。读图，完成 18—19 题。

18. 乘坐京广高铁，沿途可能欣赏到的景观是

- A. 林海雪原 B. 椰风海韵  
 C. 水乡与旱土 D. 大漠与戈壁
19. 从广州到北京，选择 G80 次列车，途中所需的时间大约是

- A. 6 小时 B. 7 小时  
 C. 8 小时 D. 9 小时

20. 下列重要的地理分界线中，属人口分界线的是




起点	广州
车次 G80	
到达站	广州南 10:00
	长沙 12:17
	武汉 13:38
	郑州东 15:26
	石家庄 16:50
	北京西 17:59

- A. 秦岭—淮河    B. 黑河—腾冲
- C. 大兴安岭—太行山—巫山—雪峰山
- D. 昆仑山—祁连山—横断山

21. 山脉是地形的骨架。右图中 a 地形区是

- A. 黄土高原    B. 内蒙古高原
- C. 华北平原    D. 东北平原



22. 近年来，大陆居民赴港、澳、台旅游的热情持续高涨。下列叙述正确的是

- A. 台湾岛是我国第一大岛，日月潭是台湾的著名景点
- B. 环岛旅行线路的设计，体现了台湾以平原为主的地形特点
- C. 香港的经济以博彩、旅游、工业、建筑业为主
- D. 澳门是重要的国际贸易中心和金融中心，有“购物天堂”之称

23. “两型社会”是指资源节约型和环境友好型社会。下列做法符合“两型”要求的是

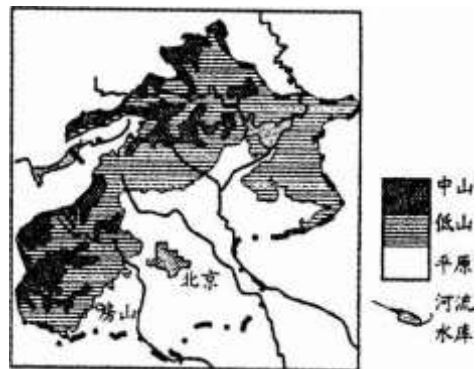
- A. 用一次性碗筷吃早餐    B. 只使用草稿纸的一面演算习题
- C. 乱扔果皮纸屑    D. 拒绝食用野生动物

2013年初，北京雾霾天气频发，严重影响市民健康。结合北京地形图，完成24~25题。

24. 有关北京的叙述，正确的是

- ①自然环境优美，空气清新
- ②地势西北高，东南低
- ③河流多自东南向西北流
- ④故宫、天坛、明代长城等为世界文化遗产

- A. ①②    B. ②③
- C. ②④    D. ③④



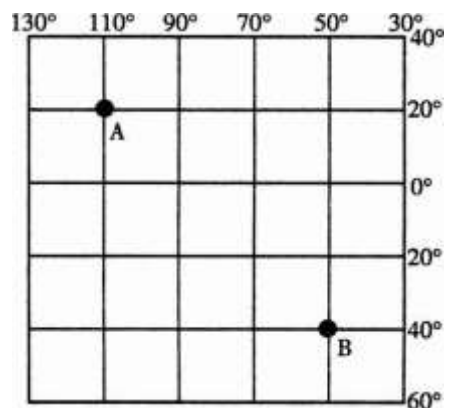
25. 汽车尾气排放被认为是导致雾霾天气的罪魁祸首之一。下列减排汽车尾气的措施中，具有可持续性的是

- A. 禁止外地车辆进京    B. 限制购买汽车
- C. 提高油品质量，提高汽车燃油效率    D. 加重征收汽车购置税

二、综合题(40分)

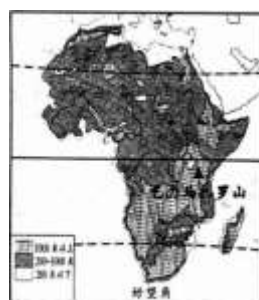
26. (6分)读经纬网图，完成下列各题。

- (1) A 点的纬度是\_\_\_\_\_；  
B 点的经度是\_\_\_\_\_。
- (2) 按南、北半球划分，A 点位于\_\_\_\_\_半球，按东、西半球划分，B 点位于\_\_\_\_\_半球。
- (3) A、B 两点中，A 位于 B 的\_\_\_\_\_方向；A、B 两点中，有太阳直射现象的是\_\_\_\_\_点。



27. (8分)2013年3月26—27日，“金砖国家”(中国、印度、俄罗斯、巴西、南非)领导人峰会在南非德班举行。结合非洲组图，完成下列问题。

- (1) 非洲的地形类型以\_\_\_\_\_为主。
- (2) 撒哈拉以南的非洲居民主要属于\_\_\_\_\_人种。
- (3) 赤道附近的乞力马扎罗山是非洲的最高



非洲地形图



非洲矿产资源分布图

峰，但山顶却终年白雪皑皑，其主要影响因素是\_\_\_\_\_。

(4)请从地理位置和矿产资源两方面，说说南非发展经济的有利条件。

28. (6分) 北极理事会的宗旨是保护北极地区的环境，促进该地区在经济、社会和福利方面的持续发展。2013年5月15日，中国成为北极理事会正式观察员。

结合北极地区图，回答有关问题。

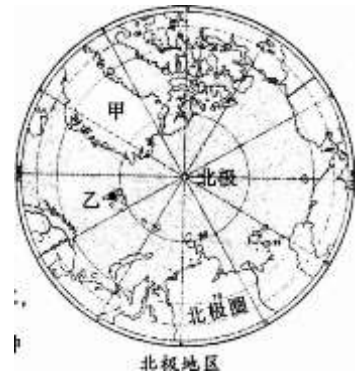
(1)甲是世界最大的岛屿，它是\_\_\_\_\_。

(2)我国于2004年在挪威斯瓦尔巴群岛建立的科考站乙是\_\_\_\_\_

- A. 长城站
- B. 昆仑站
- C. 黄河站
- D. 中山站

(3)据统计，北极地区的年平均气温是-18℃，南极地区的年平均气温是-50℃，造成这种差异的主要原因是什么？

29. (6分) 读美国本土农业带分布图，完成下列各题。

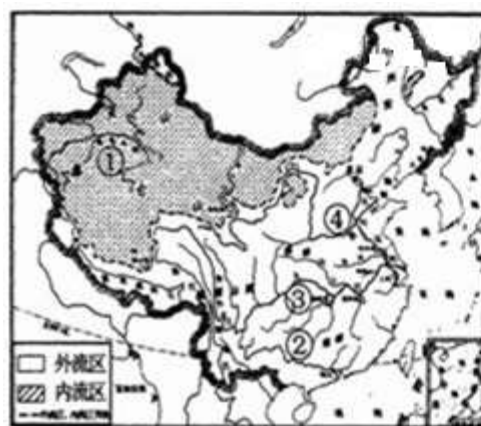


(1)A、B 两处农业带中，棉花带是\_\_\_\_\_。

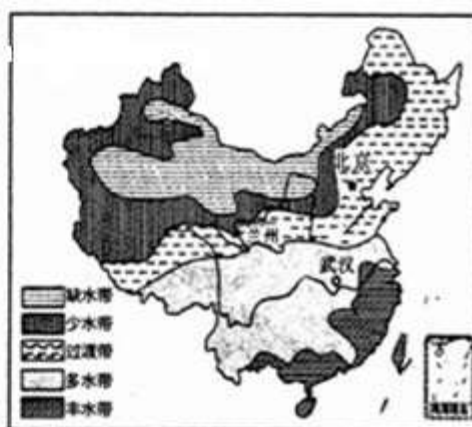
(2)美国是当今世界上最大的农产品出口国，但咖啡、可可、天然橡胶等热带农产品仍需大量进口。想一想，为什么？

(3)你认为乳畜带分布在五大湖附近的有利条件有哪些？

30. (8分) 河流水和湖泊水是我国重要的水资源。读图，完成下列各题。



中国的外流区和内流区



中国水资源的供需状况

(1)①、②河流中，属内流河的是\_\_\_\_\_；③、④河流中，含沙量较大的是\_\_\_\_\_。

(2)从水资源的供需状况看，北京属于\_\_\_\_\_带，武汉属于\_\_\_\_\_带。

(3)我国水资源的地区分布特点是\_\_\_\_\_。

(4)我国北方地区水资源的供需矛盾十分严重，你能说明其中的原因吗?(至少列举2条)

31. (6分)读西北地区略图，完成下列各题。



(1)西北地区自然地理环境的突出特征是\_\_\_\_\_。

- A. 冷湿 B. 湿热 C. 干旱 D. 高寒

(2)新疆的地形特点是\_\_\_\_\_。

(3)沿图中箭头方向自然景观大致呈现出由草原向荒漠草原、荒漠的变化。这是为什么?

### 三、湖南地方文化常识(10分)

2012年，湖南高速公路建设成就辉煌，全省共有16条高速公路建成通车。同时，耕地减少、环境污染等问题也日益凸显。读湖南高速公路图，结合所学知识，回答32—36题。

32. 永州位于湖南南部。湖南境内与永州接壤的市有

- A. 2个 B. 3个 C. 4个 D. 5个

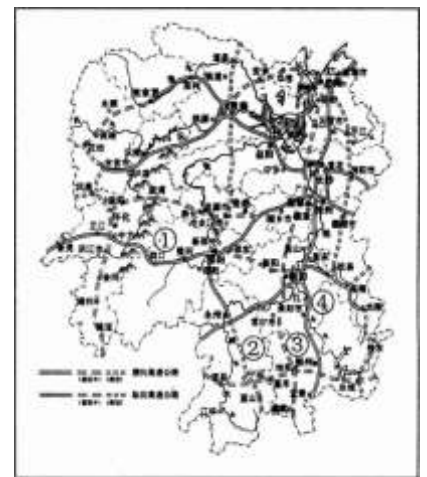
33. 山脉①是湖南东、西部分自然和经济的重要分界线。它是

- A. 幕阜山 B. 南岭 C. 雪峰山 D. 武陵山

34. 途经永州、邵阳、常德，连接广州和二连浩特的高速公路②是\_\_\_\_\_；贯穿湖南南北，连接京港、澳的高速公路有京珠高速和岳临高速，③、④中代表京珠高速的是\_\_\_\_\_。

35. 请写出“长沙——株洲——南岳——永州”寻根祭祖旅游线路中的两处著名旅游景点。

36. 2010年，湖南人口已达7000万人，而耕地却从2000年的393万公顷减少到378万公顷。结合实际，谈一谈耕地减少的主要原因有哪些?(至少列举2条)



湖南高速公路

## 地理参考答案及评分标准



一、选择题 C 每小题 2 分，共 50 分】

题号	1	2	3	4	5	6	7	8	9	10	11	12	13
答案	C	B	C	B	D	A	C	C	D	B	D	A	D
题号	14	15	16	17	18	19	20	21	22	23	24	25	
答案	A	D	D	B	C	C	B	A	A	D	C	C	

二、综合题【40 分 1

26. (每小题 2 分，共 6 分)  
 (1) 20° N 50° W (2) 北 西 (3) 西北 A
27. (每小题 2 分，共 8 分)  
 (1) 高原 (2) 黑色  
 (3) 地形(地势高或海拔高)  
 (4) 地处好望角航线“咽喉”，交通便利。金刚石、黄金、铀等矿产资源丰富
28. (每小题 2 分，共 6 分)  
 (1) 格陵兰岛 (2) C  
 (3) 北极地区是海洋。南极地区是冰雪陆地(或海陆分布差异)
29. (每小题 2 分，共 6 分)  
 (1) A  
 (2) 领土绝大部分位于北温带，对热带农产品需求量太  
 (3) 气候冷湿，适宜牧草生长，城市集中，人口稠密，市场需求量大等(任答 2 点即可)
30. (每小题 2 分，共 8 分)  
 (1) ① ④  
 (2) 过渡(带) 多水(带)  
 (3) 东多西少，南多北少(东南多，西北少)  
 (4) 北方地区河流少；降水少。人口稠密；工农业需水量大；水污染影响等(任意答 2 点即可)
31. (每小题 2 分，共 6 分)  
 (1) C (2) “三山夹两盆” (3) 降水量由东向西逐渐减少(或距离海洋越来越远)

三、湖南地方文化常识(每小题 2 分，共 10 分)

32. B
33. C
34. 二广高速(G55 或永蓝高速) ④
35. 长沙：岳麓书院、世界之窗、马王堆汉墓等  
 株洲：炎帝陵、方特欢乐世界、石峰公园等  
 南岳：南岳大庙、祝融峰、水帘洞等  
 永州：舜帝陵、浯溪碑林、柳子庙等
36. 农村建房占地；城市化；交通建设用地；耕地撂荒等(任答 2 点即可)