

## 2018年北京市延庆县中考一模试卷地理

一、单项选择题（共40小题，每小题1分，共40分。）

1. 我国传统节日与民俗活动对应的是（ ）

- A. 清明节 踏青扫墓
- B. 端午节 闹花灯
- C. 中秋节 赛龙舟
- D. 元宵节 团圆赏月

解析：本题考查我国的民族风情。我国是一个团结统一的多民族大家庭，有汉、壮、蒙古、回、藏、维吾尔、苗等56个民族。各民族和睦相处，创造并保留了各自别具特色的民族文化。清明节——踏青扫墓，端午节——赛龙舟，中秋节——团圆赏月，元宵节——闹花灯。

答案：A

2. 以下能够描述地球大小的是（ ）

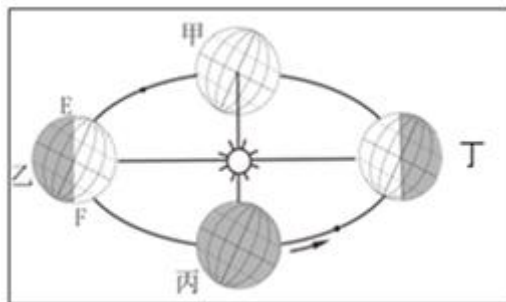
- ①地表海洋深度
- ②地球平均半径
- ③地球表面积
- ④陆地平均海拔
- ⑤地表海陆比例
- ⑥地球赤道周长

- A. ②③⑥
- B. ①②③
- C. ①③④⑤
- D. ③④⑤

解析：本题考查地球的大小。地球的大小常用以下数值描述：地球的极半径为6357千米，赤道半径为6378千米，地球的平均半径为6371千米，地球表面积为5.1亿平方千米，赤道周长约4万千米。

答案：A

2018年全国两会即中华人民共和国第十三届全国人民代表大会第一次会议和中国人民政治协商会议第十三届全国委员会第一次会议，分别于3月5日和3月3日在北京开幕。读图和资料，完成下列问题。



3. 两会开幕时，地球公转到图的（ ）

- A. 甲到乙之间
- B. 乙到丙之间
- C. 丙到丁之间
- D. 丁到甲之间

解析：本题考查地球公转示意图。3月5日和3月3日地球运行在冬至日与春分日即丁与甲之间，此时太阳直射南半球。

答案：D

4. 图中EF之间的线是（ ）

- A. 经线
- B. 纬线
- C. 晨昏线
- D. 地轴

解析：主要考查了地球运动的特征及地理意义。根据日照图可以判断，北极圈及其以北地区出现极昼，时间为6月22日，为北半球夏至日，太阳直射北回归线，由黑夜进入白天为晨线，由白天进入黑夜为昏线；地球自转方向为自西向东，图中EF线是由黑夜进入白天，为晨线。

答案：C

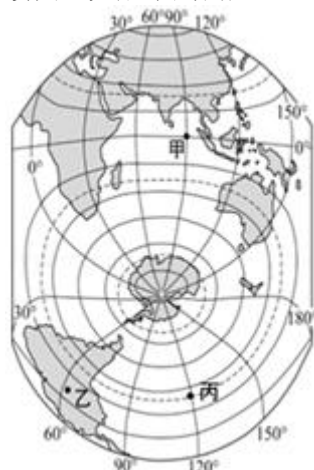
5. “两会”于3月20日上午闭幕，也是我国（ ）节气即将到来的时候。

- A. 春分
- B. 夏至
- C. 秋分
- D. 冬至

解析：本题考查不同节气的日期。春分日是3月21日前后，所以说3月20日接近春分日，此时太阳直射点位于赤道附近。

答案：A

如图为竖版世界地图的一部分。读图，完成下列问题。



6. 图中丙地的经纬度是（ ）

- A. 23.5° S, 120° E
- B. 23.5° S, 120° W
- C. 23.5° N, 120° E
- D. 23.3° N, 120° W

解析：本题考查经纬网的判读。东西经度的判定方法为：经度度数向东变大为东经，经度度数向西变大为西经；南北纬度的判定：纬度度数向北变大为北纬，纬度度数向南变大为南纬。读图分析可知，从经度看，丙地位于120° W经线上；从纬度看，丙地位于南回归线（23.5° S）上。由此可判定，丙地的经纬度是120° W、23.5° S。

答案：B

7. 乙地所在的大洲是（ ）

- A. 亚洲
- B. 非洲
- C. 南美洲
- D. 大洋洲

解析：本题考查了世界上的大洲名称及位置，要结合图示记忆解答。读图可知，乙地所在的大洲靠南极洲最近，是南美洲。故选项C正确。

答案：C

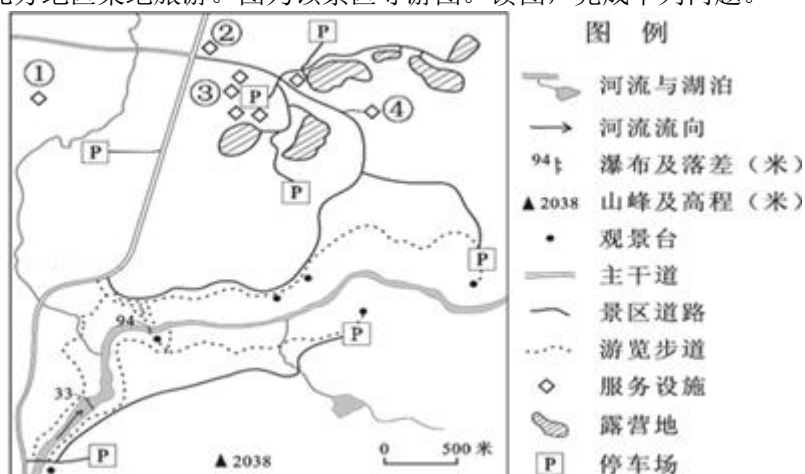
8. 甲地所在的大洋是（ ）

- A. 印度洋
- B. 大西洋
- C. 北冰洋
- D. 太平洋

解析：本题考查了大洲、大洋的地理分布，读图记忆解答。读图可知，图中甲北临亚洲，东临大洋洲，西临非洲，该大洋是印度洋。故选项 A 符合题意。

答案：A

小林自驾到北方地区某地旅游。图为该景区导游图。读图，完成下列问题。



9. 露营地位于山峰（ ）

- A. 北部
- B. 南部
- C. 东部
- D. 西部

解析：本题考查了等高线地形图中方向的判断方法。读图可知，图中没有经纬网，也没有指向标，根据“上北下南，左西右东”判断方向；露营地位于山峰的北方。故选项 A 符合题意。

答案：A

10. 在图示景区内可能见到的景观（ ）

- ①百川赴海
  - ②雪山连绵
  - ③飞流直下
  - ④湖光山色
- A. ①②
  - B. ②③
  - C. ①④
  - D. ③④

解析：依据图中信息可知，在图示景区内可能见到的景观有：③飞流直下，图中河流上有瀑布；④湖光山色，图中有山脉、湖泊；①②景观看不到。

答案：D

11. 景区服务设施②到④的直线距离可能为（ ）

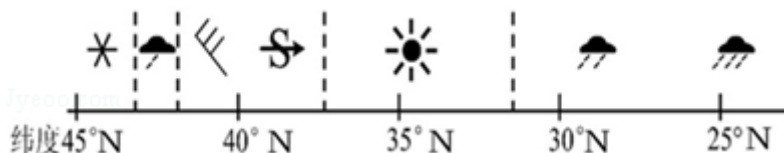
- A. 500 米
- B. 1000 米

- C. 2000 米
- D. 3000 米

解析：本题主要考查了比例尺的计算。比例尺表示图上距离比实地距离缩小的程度。根据线段式比例尺得知，图上厘米代表实地距离 500 米，则量得景区服务设施②到④的图上距离为 2 厘米，则其直线距离可能为 1000 米。

答案：B

图为某日中国东部一条经线附近地区的天气状况示意图。读图，完成下列问题。



12. 40° N 附近地区的天气状况是 ( )

- A. 有微风和沙尘
- B. 出现沙尘暴天气
- C. 晴转多云天气
- D. 小雨转中雨天气

解析：本题主要考查了常见的天气系统与天气。分析图中各地天气状况可以看出，此时我国东北地区出现雨雪天气，华北地区出现沙尘暴。

答案：B

13. 该日天气状况最可能出现在北京的 ( )

- A. 春季
- B. 夏季
- C. 秋季
- D. 冬季

解析：本题考查我国天气状况的地区差异。读图分析可知，从北到南天气符号依次是小雪转小雨、西北风 6 级和沙尘暴、晴天、中雨、大雨；由图中所给纬度，可判定华北地区 (40° N) 出现沙尘暴，江淮地区 (35° N) 天气晴朗，我国的东南沿海则进入雨季；再结合我国气候南北差异及时间差异、我国雨带的移动规律可以判断出，此天气过程一般发生在 4 月份，即春季。

答案：A

14. 生活在 30° N 附近的人们，当日 ( )

- A. 适宜户外运动
- B. 注意添衣保暖
- C. 出行带好雨具
- D. 做好防晒保护

解析：本题主要考查常用的天气预报符号的解读。读图可知，30° N 附近是中雨天气，因此生活在 30° N 附近的人们，当日出行应带好雨具。

答案：C

诗人海子说：“建一所房子，面朝大海，春暖花开。”图为福建沿海某岛屿依山傍海而建的石厝（石厝就是当地传统民居）。当地“盛产”石头和台风。读图完成下列问题。



15. 当地传统民居的特点是（ ）

- A. 低矮、顶尖、窗小
- B. 低矮、顶缓、窗小
- C. 低矮、顶尖、窗大
- D. 低矮、顶缓、窗大

解析：本题考查民居与自然环境的关系。读图可知，当地传统民居石厝的特点是：低矮、顶缓、窗小。石厝是当地居民从实用出发，针对海岛资源和气候发展起来的一种石结构建筑。当地缺砖少木，石材于是成为主要建筑材料。风是海岛民居最可怕的敌人，少开窗和开小窗，为的都是防风。对于台风地区的一座石厝，最大的弱点来自屋顶，所以屋瓦多由灰泥黏结，再镇上石块，压瓦石因此成为重要的视觉特征，这导致屋顶自重增加，因此屋顶坡缓。

答案：B


16. 当地传统民居设计，主要是为了（ ）

- A. 防风
- B. 排水
- C. 保湿
- D. 除湿

解析：本题考查民居与自然环境的关系。福建沿海某岛屿当地“盛产”石头和台风，建石厝可以就地取材，而且可以防台风。

答案：A

2015年10月，中国实施全面“二孩”政策。图为中国人口增长示意图。读图，完成下列问题。



17. 读图，解放后我国人口增长趋势（ ）

- A. 数量快速增加
- B. 数量保持不变
- C. 增长速度保持不变

D. 增长速度先快后慢

解析：考查我国的人口特点。中华人民共和国成立后，由于人民生活水平的提高和医疗卫生条件的改善，人口死亡率大幅度下降，中国人口快速增长。自 20 世纪 70 年代初期我国大力推行计划生育政策以来，全国大约少生了约 4 亿人，人口过快增长的势头得到有效遏制。特别是近十年来，人口的出生率和自然增长率明显下降。

答案：D

18. “二孩”政策实施目的（ ）

- A. 迅速增加劳动力数量
- B. 解决人口分布不均问题
- C. 降低五年内社会养老负担
- D. 缓解人口老龄化问题

解析：本题考查我国的人口政策。“二孩”政策实施，有利于缓解劳动力短缺的矛盾和缓解人口老龄化带来的问题，逐步调整完善现行的生育政策，促进人口长期均衡发展。

答案：D

北京近两年开展了中心城区通风廊道建设，以提升城市整体空气流动。看图完成下列问题。



19. 北京冬季盛行风向是（ ）

- A. 西北
- B. 东南
- C. 东北
- D. 西南

解析：本题考查北京的气候。北京季风气候显著，冬季盛行偏北风，夏季盛行偏南风。由图可知，此时，北京盛行西北风。

答案：A

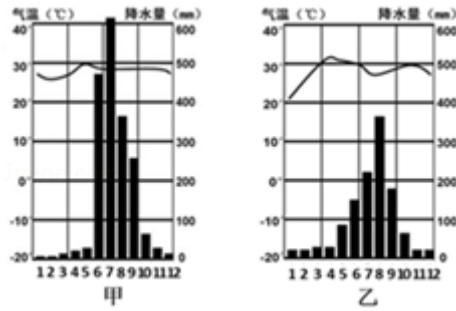
20. 廊道通风的主要目的是（ ）

- A. 阻挡沙尘暴
- B. 消除水污染
- C. 降低土壤污染
- D. 缓解大气污染

解析：考查北京的环境问题。城市通风廊道是指在城市规划、建设过程中，留出一定空间的走廊，以保持或引导天然气流，贯穿高楼大厦密集的城市，以起到改善城市环境、缓解大气污染的作用。与阻挡沙尘暴、消除水污染、降低土壤污染无关。

答案：D

读图甲、乙两地气温曲线和降水柱状图，完成下列问题。



21. 两地的气候特点是 ( )

- A. 甲地气温年较差大于乙地
- B. 甲地年降水量少于乙地
- C. 最炎热季节均在雨季来临前
- D. 乙地春、夏、秋、冬四季分明

解析：本题考查了气候资料图的判读。读图可知，甲地气温年变化曲线弯曲程度比乙地气温年变化曲线弯曲程度较小，甲地气温年较差小于乙地；故 A 错误。甲地年降水量多于乙地；故 B 错误。图中显示气温最高的季节是在雨季来临前，因此雨季来临前最炎热；故 C 正确。乙地全年气温均在 20°C 以上，全年高温，该地位于热带，温带春夏秋冬四季分明；故 D 错误。

答案：C

22. 从气候特征来看甲、乙两地 ( )

- A. 甲地熟制作物一年一熟
- B. 甲地 4、5 月易发生严重旱灾
- C. 乙地适宜种植甜菜、水稻
- D. 乙地 1 月易发生低温、寒潮、冻害

解析：本题考查了气候资料图的判读。读图可知，甲地全年高温，降水一年分明显的旱雨两季，农作物在雨季播种，旱季收；故 A 错误。甲地 11 月至次年 4、5 月易发生严重的旱灾；故 B 正确。乙地适宜种植水稻，不适宜种植性习温凉的甜菜；故 C 错误。乙地全年高温，位于热带地区，不会发生寒潮低温冻害现象；故 D 错误。

答案：B

23. 家住北京的小明同学暑假想去乙地旅游，你从气候角度做出分析给出的建议是 ( )

- A. 正值最热的季节，请带上防暑药品
- B. 正值阳光最强烈季节，所以带上墨镜
- C. 正值植被枯黄季节，所以改期
- D. 正值湿热季节，所以带上驱蚊水

解析：本题考查了气候资料图的判读。每年的 7 月 1 日到 9 月 1 日为北京学校的暑假，读乙地气候资料图可知，此期间正值湿热季节，请带上驱蚊水；故选项 D 符合题意。

答案：D

2022 年世界杯足球赛将在卡塔尔首都多哈举行，卡塔尔是波斯湾沿岸国家，夏季极其炎热，冬季则较凉爽。这将是首次在冬季举办世界杯足球赛。完成下列问题。

24. 卡塔尔及周边国家共有的资源是 ( )

- A. 淡水资源
- B. 森林资源
- C. 石油资源
- D. 耕地资源

解析：本题考查中东地区的资源。卡塔尔位于中东地区，中东地区有一富一贫两种资源，丰富的石油资源主要集中在波斯湾及其沿岸。卡塔尔及周边国家共有的资源是石油资源。

答案：C

25. 去卡塔尔观看世界杯的人，将会感受到当地的语言、宗教（ ）

- A. 阿拉伯语、基督教
- B. 阿拉伯语、伊斯兰教
- C. 英语、伊斯兰教
- D. 英语、基督教

解析：本题考查卡塔尔的语言和宗教。卡塔尔是中东的一个阿拉伯国家，位于波斯湾西南岸的卡塔尔半岛上。一般把阿拉伯人占多数的国家称为阿拉伯国家，中东是世界上阿拉伯人的主要聚居地区之一。中东是伊斯兰教的发源地，阿拉伯人普遍信奉伊斯兰教。

答案：B

某外媒网站报道：两年多前，中国海南航空公司的航班利用餐饮废油搭载 100 多名乘客由上海抵达北京。2017 年 11 月，该航空公司首次将这种燃料用于国际航班。

中国媒体报道：这种混合燃料含有 15% 的餐饮废油，其余为普通的航空煤油。它是由中国某公司生产的，该公司每年可以收集并处理 10 万吨来自餐馆的餐饮废油。（注：餐饮废油俗称“地沟油”。）据此，完成下列问题。

26. 餐饮废油的主要原料属于（ ）

- ①生物资源
- ②矿产资源
- ③非可再生资源
- ④可再生资源

- A. ①③
- B. ②④
- C. ①④
- D. ②③

解析：本题考查自然资源的类型。餐饮废油俗称“地沟油”，餐饮废油的主要原料属于生物资源，属于可再生资源。

答案：C


27. 从资源利用的角度看，餐饮废油转变为航空煤油，有助于（ ）

- A. 提高航空公司竞争力
- B. 实现资源循环利用
- C. 丰富航空油品来源
- D. 提倡厉行节约精神

解析：餐饮废油转变为航空煤油，从资源利用的角度来说，实现资源循环利用。

答案：B

28. 《西游记》是我国四大名著之一，主要讲述唐僧师徒去往西天取经的故事。某同学想在《西游记》读后感中加上一些简笔画，能表示“西天”地区宗教特色的建筑是（ ）



- A. 图 A
- B. 图 B
- C. 图 C
- D. 图 D

解析：本题考查宗教的建筑。《西游记》讲述的是佛教故事，“西天”就是佛教的发源地古印度，“经文”指的是佛教经典。“西天”地区宗教特色的建筑是佛塔或庙宇。读图可得，C 是佛塔。

答案：C



近年来，长城、运河、西山作为北京地区“三大文化带”的提法，得到了社会广泛关注和政府部门的高度重视。永定河流域其实是超越这“三大文化带”之上、区域范围更广泛、与周边关系更紧密的一条大文化带，它是一道跨越京津冀晋四省市的文化风景线。回答下列问题。



29. 延庆位于北京地区“三大文化带”中的（ ）

- ①长城
- ②运河
- ③西山

- A. ①
- B. ②
- C. ③
- D. 都属于

解析：本题考查延庆的地理位置。长城、运河、西山为北京地区的“三大文化带”，延庆位于北京地区“三大文化带”中的长城文化带。

答案：A

30. 2019年，主题为“绿色生活 美丽家园”的世园会选址延庆，从图可见（ ）

- A. 延庆地势平坦
- B. 延庆河道密布
- C. 延庆降水充足
- D. 延庆上风上水

解析：上风上水之地就是指在开阔处地势较高的地方；读图可知，延庆位于北京西北部的上风上水地带。

答案：D

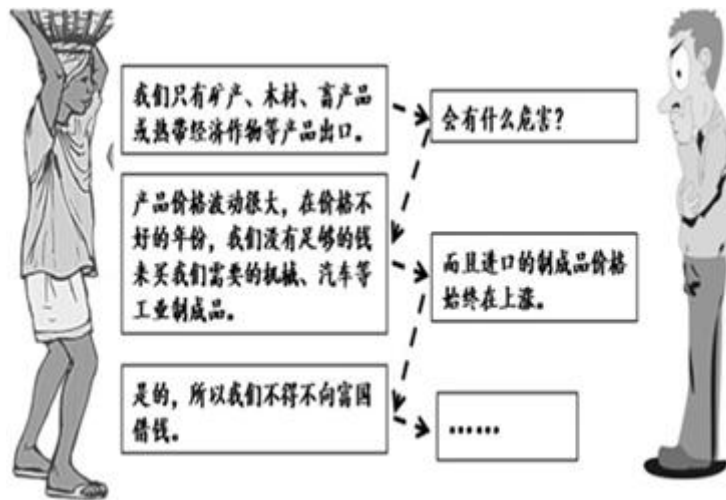
31. 永定河沿线文化异彩纷呈，可见北京的文化特点是（ ）

- A. 晋剧
- B. 评剧
- C. 京剧
- D. 河北梆子

解析：考查北京的文化艺术。京剧是具有全国影响的大剧种，以北京永定河沿线是为典型，被誉为中国的“国粹”。

答案：C

32. 下面对话展示了世界上一些依靠一种或两种产品出口来发展单一经济的国家存在的问题。阅读对话，回答问题。下列说法正确的是（ ）



- A. 撒哈拉以南非洲的国家大量出口矿产、家畜产品及工业制成品
- B. 撒哈拉以南非洲的国家在国际贸易中处于有利地位
- C. 撒哈拉以南非洲的国家大量出口矿产、热带经济作物等, 经济发展水平低
- D. 发展中国家和发达国家之间的政治、经济商谈称为“南南合作”

解析: 考查非洲经济的发展状况。撒哈拉以南非洲的国家大量出口矿产、热带经济作物初级产品, 价格低廉, 利润小, 但需大量进口价格昂贵的工业制成品, 这在国际贸易中处于不利地位, 因而撒哈拉以南非洲的国家经济发展水平低。发展中国家和发达国家之间的政治、经济商谈称为“南北对话”。

答案: C

读 A 国本土地图 (图 1)、B 国地图 (图 2), 回答下列问题。



图 1

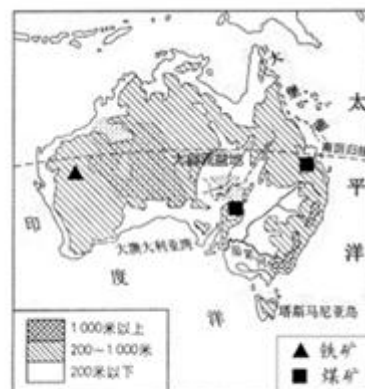


图 2

33. A、B 两国在地理位置、自然环境等方面共同的特点是 ( )

- A. 均临大西洋, 国土面积较大
- B. 地形均为西部高原, 中部平原, 东部山地
- C. 地势特点都是东西高, 中部低
- D. 都以热带和亚热带气候为主

解析: 本题考查澳大利亚与美国的地理特征。澳大利亚东临太平洋, 美国西临太平洋, 所以两国共同濒临的大洋是太平洋, 两国的国土面积都广大, A 错误; 澳大利亚西部高原, 中部平原, 东部山地, 美国西部高大的山地, 中部平原, 东部低缓的山地, B 错误; 两国地势特点都是东西高, 中部低, C 正确; 澳大利亚以热带气候为主, 美国以温带气候为主, D 错误。

答案: C

34. 关于两国农业的叙述, 正确的是 ( )

- A. 农业都具有区域化特点，机械化水平高
- B. A 国乳畜带分布在五大湖沿岸地区，主要原因是这里水源充足
- C. B 国中部的大自流盆地的自然条件适宜发展畜牧业，以牧牛为主
- D. A 国的农产品以自给自足为主，B 国的农产品以出口为主

解析：本题考查美国与澳大利亚的农业特点。根据轮廓形状判知，A（图 1）是美国，B（图 2）是澳大利亚。两国农业都具有区域化特点，机械化水平高，A 正确；美国乳畜带分布在五大湖沿岸地区，主要原因是这里气候湿冷，适宜牧草生长，城市和人口分布密集，市场广大，B 错误；澳大利亚中部的大自流盆地的自然条件适宜发展畜牧业，以牧羊为主，是世界上拥有绵羊数量最多的国家，C 错误；美国主要农作物是小麦、大豆、玉米，咖啡、可可、天然橡胶需大量进口，澳大利亚是世界上羊毛、小麦的主要出口国，D 错误。

答案：A

35. A 国东北部为该国老工业区，这里发展工业的有利条件是（ ）

- ①煤、铁资源丰富
- ②位于山间盆地，地形平坦开阔
- ③河湖众多，水源充足
- ④水陆交通便利，能实现海陆联运
- ⑤这里城市、人口众多，市场广阔

- A. ②③④⑤
- B. ①②③⑤
- C. ①②④⑤
- D. ①③④⑤

解析：本题考查美国工业的分布及特点。根据轮廓形状判知，A（图 1）是美国，B（图 2）是澳大利亚。美国东北部为该国老工业区，这里发展工业的有利条件是煤、铁资源丰富，河湖众多，水源充足，水陆交通便利，能实现海陆联运，这里城市、人口众多，市场广阔，故 D 正确。

答案：D

备受世人瞩目的港珠澳大桥预计 2017 年年底建成通车。如图为港珠澳大桥示意图。读图，完成下列问题。



36. 在该桥修建过程中可能遇到的困难（ ）

- A. 台风
- B. 暴雪
- C. 沙尘暴
- D. 凌汛

解析：该题考查我国的灾害性天气。港珠澳大桥位于我国南方地区，可能遇到的灾害性天气是台风；BCD 都是我国北方出现的天气。

答案：A

37. 港澳地区与内地经济合作的优势是（ ）

- A. 地域广阔，劳动力丰富
- B. 地理位置优越，资源丰富

- C. 农业历史悠久，基础雄厚
- D. 资金充足，管理经验丰富

解析：本题考查香港的经济。港澳与祖国内地经济合作，优势是资金、技术、人才和管理经验丰富。

答案：D

2017年11月俄罗斯总理访华期间，我国领导人提出：共同开展北极航道开发和利用合作，打造“冰上丝绸之路”。读图，完成下列问题。



38. 能开通“冰上丝绸之路”的主要自然原因（ ）

- A. 全球气候变暖
- B. 航线沿岸城市众多
- C. 传统航道狭窄拥堵
- D. 北极沿岸多港口

解析：此题考查气候变暖给人类活动带来的影响。能开通“冰上丝绸之路”的主要自然原因是全球气候变暖，导致北极地区的冬季也可以通航。

答案：A

39. 与传统航线比，“冰上丝绸之路”（ ）

- A. 自然地理环境优越
- B. 航程长，运输成本高
- C. 所经国家停靠港口多
- D. 缩短了大连至鹿特丹的航行时间

解析：本题考查“冰上丝绸之路”概况。读图分析可知，自然地理环境优越、所经国家停靠港口多、航程长，运输成本高，是传统航线的特点。与传统航线比，“冰上丝绸之路”的优势在于缩短了大连至鹿特丹的航行时间（减少12-15天）。

答案：D

40. 白令海峡（ ）

- A. 亚洲和北美洲的分界线
- B. 沟通太平洋和大西洋
- C. 亚洲和欧洲的分界线
- D. 沟通北冰洋和印度洋

解析：本题考查各大洲之间的界线。大洲之间往往以山脉、河流、湖泊、运河、海峡等地理事物为分界线。白令海峡是亚洲和北美洲的分界线，沟通了太平洋与北冰洋。

答案：A

## 二、综合题（4道题，共计60分）

41. (14分) 读万卷书，行万里路。北京的小明暑假与家人游览祖国四大地理区域(图中序号I、II、III、IV)，感知风土人情，品尝特色美食。小明为了当好“导游”，搜集了图文资料，并求助于微信好友。读图1，帮小明解决以下问题，做好出游准备。

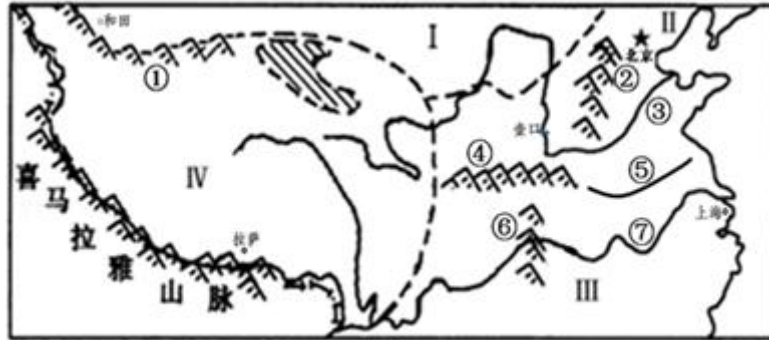


图1

(1) 小明计划先去看壮观的壶口瀑布，该瀑布所在的河流自上游到下游依次经过了\_\_\_\_\_地理区域；然后到①\_\_\_\_\_山脉喝一口清冽的矿泉水；要亲身体验南北方环境的差异，他们就必须跨过秦岭—淮河一线，图中表示该线的是( ) (选择填空)。

- A. ①③
- B. ④⑤
- C. ②③
- D. ⑥⑦

解析：壶口瀑布位于黄河上，黄河自上游到下游依次经过了青藏地区、西北地区、北方地区三个地理区域，①是昆仑山脉，图中④是秦岭，⑤是淮河。

答案：青藏地区、西北地区、北方地区 昆仑 B

(2) 下面是上海、拉萨、和田的朋友通过微信分享给小明的一些地方景观照片。请协助他完成表格内容。



图2

区域	I 区域	III 区域	IV 区域
地方特色	①④	_____	_____
主要农业类型	_____	_____	畜牧业 河谷农业
必备的旅游物品及原因	物品：口罩、润唇膏、防晒霜等。 原因：气候_____且风沙大，太阳辐射强烈。	物品：雨伞、驱蚊液等。 原因：夏季_____，蚊虫多。	物品：氧气袋、厚外套等。 原因：冬寒夏凉，海拔高，空气稀薄，太阳辐射强烈。

解析：I 是西北地区，II 是北方地区，III 是南方地区，IV 是青藏地区，其中西北地区主要农业类型是畜牧业和灌溉农业，该地区气候 干旱且风沙大，太阳辐射强烈；南方地区主要运动项目有龙舟竞赛等，该地区农业以种植业为主，主要属于亚热带季风气候，夏季高温多雨；③图所示的是青藏地区的景观。

答案：

区域	I 区域	III 区域	IV 区域
地方特色	①④	②	③
主要农业类型	畜牧业、灌溉农业	种植业	畜牧业 河谷农业
必备的旅游物品及原因	物品：口罩、润唇膏、防晒霜等。 原因：气候干旱且风沙大，太阳辐射强烈。	物品：雨伞、驱蚊液等。 原因：夏季高温多雨，蚊虫多。	物品：氧气袋、厚外套等。 原因：冬寒夏凉，海拔高，空气稀薄，太阳辐射强烈。



图 3



图 4

小明一家来到纪录片《航拍中国》解说词说到的区域：在一些平原地带，人们找不到开窑的山坡，于是发明了另类的窑洞——地坑院。修建地坑院时，人们先在平地上挖出方形的坑，然后在地坑的四壁挖出窑洞。大多数人家的院中会栽一棵树，树冠冒出地面，以防外人不小心掉进地坑……”。图 3 是渭河流域图，图 4 是陕西咸阳市附近地坑院景观。

(3) 读图 3，小明所描述的地坑院分布在\_\_\_\_\_（地形区名称）。该地区适宜建地坑院的自然原因有（ ）【双选题】

- A. 土层深厚不易坍塌
- B. 防寒避暑冬暖夏凉
- C. 历史悠久人口稠密
- D. 全年的降水量较少

解析：窑洞是黄土高原地区的传统民居，该地区适宜建地坑院的自然原因有土层深厚不易坍塌，全年的降水量较少。

答案：黄土高原 AD

42. (11 分) 山东某校部分中学生在暑期进行了环球网上模拟旅游。下图是他们确定的旅游线路，请结合所学地理知识完成下列各题。



(1) 从山东出发经过 A \_\_\_\_\_ 海峡，横跨 B \_\_\_\_\_ 洋非洲东岸经过大西洋、美洲从太平洋返航。

解析：读图可得，A 是马六甲海峡，B 是印度洋。

答案：马六甲 印度

(2)旅途中经过 A 地时，最适合补充当地的哪些方面给养？（ ）

- ①苹果 ②石油 ③花生 ④棉衣 ⑤椰子 ⑥马尼拉麻

解析：马六甲海峡位于东南亚地区，该地区有石油、椰子、马尼拉麻等物产。

答案：②⑤⑥

(3)中国、巴西、秘鲁三国联手修建“两洋铁路”。铁路连接\_\_\_\_\_洋和\_\_\_\_\_洋，铁路建成后将成为一条巴西通往亚洲的便捷通道。这是\_\_\_\_\_（经济）类型国家的合作，这类国家的经贸合作被称作“\_\_\_\_\_”。

解析：“两洋铁路”连接太平洋和大西洋，铁路建成后将成为一条巴西通往亚洲的便捷通道。这是发展中国家的合作，这类国家的经贸合作被称作“南南合作”。

答案：太平 大西 发展中国家 南南合作

(4)在模拟旅游过程中，同学们遇到了几个问题，请你运用所学地理知识帮他们解决。

问题①：红海的面积会不断扩大，最终形成新的大洋。请说明原因。

问题②：非洲的乞力马扎罗山成为“赤道雪峰”的原因是什么？

解析：红海的面积会不断扩大，最终形成新的大洋，其原因是红海位于印度洋板块和非洲板块的张裂地带。非洲的乞力马扎罗山成为“赤道雪峰”的原因是乞力马扎罗山海拔高，气温低。

答案：红海位于印度洋板块和非洲板块的张裂地带；乞力马扎罗山海拔高，气温低。

43.（15分）阅读资料和图1、图2，回答问题。

京张高铁为世界上第一条设计时速350公里有砟轨道高速铁路，也是世界上第一条设计时速350公里的高寒、大风沙高速铁路。北京西北交通由于山脉阻隔，一直成为制约经济社会发展的瓶颈。解决交通瓶颈，促进京津冀一体化发展。

全线长约174千米，乘火车从张家口到北京的时间将缩短到一小时。2016年上半年开工，2019年底建成。

未来，京张高铁将是联动北京、延庆、张家口三赛区的有力交通工具，不仅能够有力保障2022年冬奥会的顺利举办，更将带动北京科技、金融和人才优势与张家口市优良的环境资源和旅游资源优势深入互补，以高速度、高效益促进京张两地的联动发展。

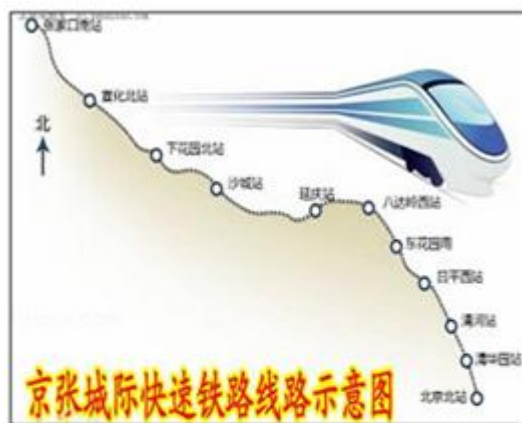


图1

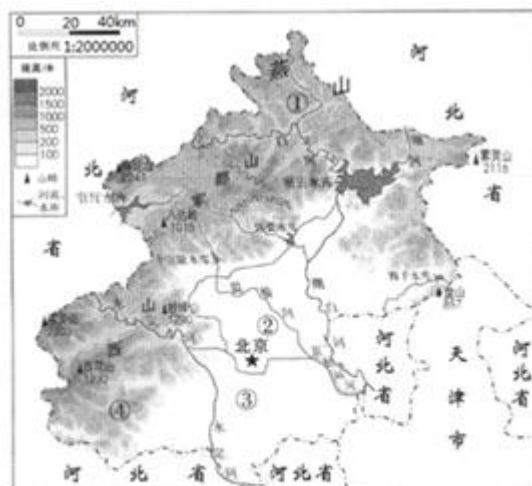


图2

(1)读图和资料可见：京张高铁起点为北京北站站；终点在\_\_\_\_\_站；途经延庆境内的站点有\_\_\_\_\_和\_\_\_\_\_。

解析：京张高铁起点为北京北站；终点在张家口南站；途经延庆境内的站点有延庆站和八达岭西站。

答案：张家口南 延庆站 八达岭西站

(2)京张高铁从北京出发向\_\_\_\_\_方向到达张家口。海拔是在\_\_\_\_\_（升高；下降）。期间经过的旅游景点有举世闻名的\_\_\_\_\_，就在我们的家乡延庆。

解析：京张高铁从北京出发向西北方向到达张家口。海拔是在升高，期间经过的旅游景点有举世闻名的八达岭长城，位于延庆附近。

答案：西北 升高 八达岭长城

(3)修建京张高铁克服的沿途困难主要有\_\_\_\_\_。

解析：修建京张高铁克服的沿途困难主要有高寒、大风沙。

答案：高寒、大风沙

(4)延庆新建小区位于南菜园京张高铁延庆支线延庆站附近，请你谈谈该小区位置的优点和缺点：\_\_\_\_\_。

解析：延庆新建小区位于南菜园京张高铁延庆支线延庆站附近，该小区位置的优点是交通运输便利等，缺点是噪音污染等。

答案：交通便利等；噪音污染等。

44.（20分）暑假里，延庆区的中学生小刚参加了“行走壮美中轴线，品味魅力北京城”的研学活动，阅读研学手册中的图文资料，回答下列各题。

北京旧城格局具有左右对称的特点，其对称轴称为“中轴线”，中轴线北起钟楼、鼓楼，向南经景山、故宫、天安门、正阳门，直至永定门，沿途经过许多名胜古迹。

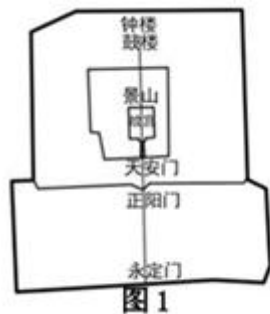


图2

(1)从延庆来的小刚合理的游览方向是\_\_\_\_\_，先到\_\_\_\_\_；最后到\_\_\_\_\_。中途经过两大世界遗产地分别是\_\_\_\_\_和\_\_\_\_\_；

其中有一处还是被作为北京旅游的标识。

解析：从延庆来的小刚合理的游览方向是自北向南，先到钟楼鼓楼；最后到永定门。中途经过两大世界遗产地分别是故宫和颐和园。

答案：自北向南 钟楼鼓楼 永定门 故宫 颐和园

(2)读图1，小刚沿中轴线从北向南行走，他在钟鼓楼附近的胡同中欣赏了北京的特色民居\_\_\_\_\_，方正大气，是北京古都风貌的体现，它是图片3中的\_\_\_\_\_（选择填空）。



图3

解析：北京的特色民居是四合院，方正大气，是北京古都风貌的体现，它是图片3中的D。

答案：四合院 D



(3) 小刚来到天安门广场，看到广场上的五星红旗随风飘扬。此季节北京常见的风向为\_\_\_\_\_方向；受季风影响，北京该季节的气候特征是\_\_\_\_\_。出行前应该备哪些物品\_\_\_\_\_。

解析：暑假北京常见的风向为来源于太平洋的东南风；北京夏季的气候特征是高温多雨，去北京旅游出行前应该准备雨具、遮阳伞等。

答案：东南 高温多雨 雨具、遮阳伞等

(4) 小刚还看到了人民大会堂和党中央、国务院所在地中南海，这体现了北京的职能是全国的\_\_\_\_\_中心。北京也是全国的文化中心，这一职能在海淀区的体现是（ ）（多项选择）。

- A. 高等院校众多
- B. 环境优美
- C. 科学研究所密集
- D. 交通便利

解析：人民大会堂和党中央、国务院所在地中南海，这体现了北京的职能是全国的政治中心。北京也是全国的文化中心，这一职能在海淀区的体现是高等院校众多、科学研究所密集。

答案：政治 AC

(5) 结束了研学之旅，小刚陷入深深的思考，他看到曲折的胡同里有着传统的建筑、小吃、手工艺……体现了北京独特的魅力；但也看到胡同区住房拥挤、道路狭窄、水电等基础设施不够便利。针对北京胡同该拆除还是保护的问题，提出并说明你的观点。

解析：对北京众多的古建筑、园林、特色街区胡同等，我们则要具体问题具体分析，有些建筑要采用博物馆式的保存方式，有些建筑可以不改变使用性质继续利用，以便保护，有些则可以只保存外观，而对内部进行完全的改造。以上种种途径，都可以使古建筑在得到有效保护的同时被合理地利用，使其发挥自身的效用，与现代城市开发建设良好地协调配合。

答案：对北京众多的古建筑、园林、特色街区胡同等，我们则要具体问题具体分析，有些建筑要采用博物馆式的保存方式，有些建筑可以不改变使用性质继续利用，以便保护，有些则可以只保存外观，而对内部进行完全的改造。以上种种途径，都可以使古建筑在得到有效保护的同时被合理地利用，使其发挥自身的效用，与现代城市开发建设良好地协调配合。