

二〇〇九年福州市初中毕业会考、高级中等学校招生考试

历史试卷

(全卷共6页,五大题,30小题;满分:100分;考试时间:60分钟;考试形式:开卷)

友情提示:请把所有答案写到答题卡上,请不要错位、越界答题!

毕业学校 \_\_\_\_\_ 姓名 \_\_\_\_\_ 考生号 \_\_\_\_\_

一、选择题(本大题共20小题,每小题2分,共40分,每小题备选项中,只有一项最符合题目要求,请在答题卡的指定位置填涂所选答案的字母。)

1. 在我国古老传说的人物中,被后人尊称为“人文初祖”的是  
A. 黄帝                      B. 尧                      C. 舜                      D. 禹
2. 小刚在收集历史资料时发现了右图,与该图信息密切相关的是  
A. 长城                      B. 都江堰  
C. 赵州桥                      D. 隋朝大运河
3. 电视剧《贞观长歌》再现了唐朝贞观年间社会经济的繁荣景象,当时在位的皇帝是  
A. 隋文帝                      B. 唐太宗  
C. 武则天                      D. 唐玄宗
4. 成吉思汗的主要功绩是  
A. 统一六国                      B. 建立唐朝  
C. 统一蒙古                      D. 建立明朝
5. 1662年,从荷兰殖民者手中收复台湾的民族英雄是  
A. 左宗棠                      B. 戚继光  
C. 郑成功                      D. 邓世昌
6. 右图的残垣断壁座落于北京西郊,这里曾经是中国著名的皇家园林,它毁于  
A. 鸦片战争期间  
B. 第二次鸦片战争期间  
C. 甲午中日战争期间  
D. 抗日战争期间



7. 1924年,国民党在广州创办的培养军事政治人才的学校是

- A. 京师同文馆
- B. 马尾船政学堂
- C. 京师大学堂
- D. 黄埔军校

8. 右图反映的历史事件是

- A. 虎门销烟
- B. 北伐战争
- C. 五四运动
- D. 南京大屠杀



9. 1936年,张学良、杨虎城联合发动了对蒋介石的“兵谏”,这就是震惊中外的

- A. 九一八事变
- B. 西安事变
- C. 七七事变
- D. 重庆谈判

10. 打破西方国家对碱业的垄断,为我国制碱工业做出贡献的科学家是

- A. 侯德榜
- B. 严复
- C. 林觉民
- D. 陈景润

11. 右图是小华收集的一份《捷报》图片,它报道的信息与某一场战役有关,该战役是

- A. 辽沈战役
- B. 平津战役
- C. 淮海战役
- D. 渡江战役



12. 右图反映了安徽省凤阳县农业生产的变化情况,这一变化主要得益于

- A. 家庭联产承包责任制的实施
- B. 民族区域自治制度的实行
- C. “一国两制”构想的实现
- D. 义务教育制的推行

1980年产粮	5.02亿千克
1981年产粮	6.70亿千克
1982年产粮	7.15亿千克

13. 我国著名科学家袁隆平的主要成就是

- A. 研制原子弹
- B. 研制导弹
- C. 培育籼型杂交水稻
- D. 研制人造地球卫星

14. 右图横幅信息反映的历史事件发生在

- A. 1984年12月
- B. 1987年4月
- C. 1997年7月
- D. 1999年12月



15. 下列文化遗址中带有浓厚闽文化色彩的是

- A. 元谋人遗址
- B. 河姆渡遗址
- C. 半坡遗址
- D. 昙石山文化遗址

16. 《共产党宣言》的发表标志着

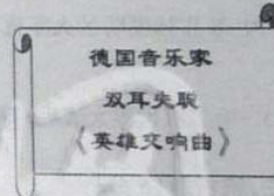
- A. 工业革命的开始
- B. 马克思主义的诞生
- C. 反法西斯同盟的建立
- D. 欧洲联盟的成立

17. 第一次世界大战的导火线是

- A. 萨拉热窝事件
- B. 诺曼底登陆
- C. 斯大林格勒保卫战
- D. 珍珠港事件

18. 小明参加学校组织的历史知识竞赛,根据右图提示板内容,他应选择的答案是

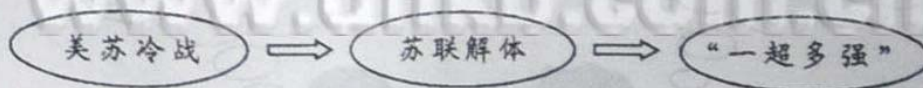
- A. 达·芬奇
- B. 贝多芬
- C. 托尔斯泰
- D. 莎士比亚



19. 与世界上第一个社会主义国家诞生相关的历史事件是

- A. 英国资产阶级革命
- B. 法国大革命
- C. 日本明治维新
- D. 俄国十月革命

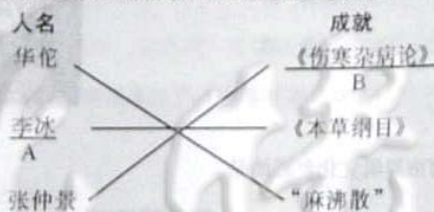
20. 下面示意图反映出世界政治格局的发展趋势,该趋势是



- A. 单极化趋势
- B. 两级对峙趋势
- C. 多极化趋势
- D. 全球化趋势

二、改错题(本题共5小题,每小题2分,共10分,每题划线处中有一处错误,请写出错误处的字母并对该处加以改正。)


21. 下面是小亮同学完成的有关中国古代医学成就的连线作业。



22. 《义勇军进行曲》被作为中华人民共和国国歌,它的曲作者是冼星海。  
A B

23. 1951年,新疆和平解放,标志着祖国大陆获得了统一,各族人民实现了大团结。  
A B


24. 下面几幅图是两次工业革命中发明的交通工具。



史蒂芬孙发明的火车机车  
A



卡尔·本茨发明的汽车



爱迪生发明的飞机  
B

25. 第二次世界大战后,英国经济持续高速发展,成为仅次于美国的第二号资本主义经济大国。  
A B

三、辨析题(5分)

26. 中国古代有着众多思想家,但是最能代表中国文化的只有孔子,下面是两位同学有关孔子问题的对话,你认为谁的说法是错误的?请简要说明理由。

孔子创立道家学派,提出“仁”的学说。

孔子也是大教育家,他注意“因材施教”,善于启发学生。



小玲

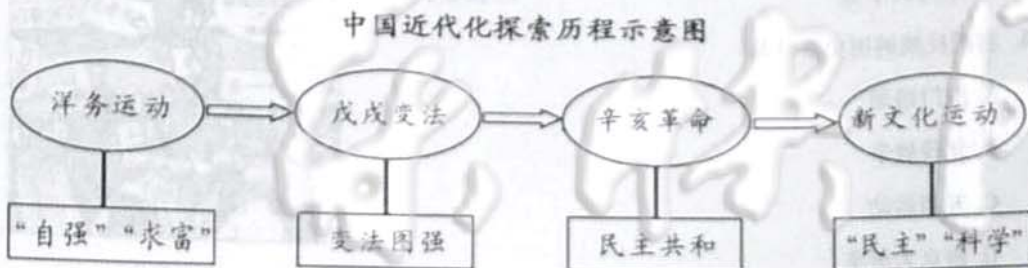


小明

四、材料分析题(本大题共2小题,第27题12分,第28题11分,共23分。)

27. (12分)阅读下列材料,回答问题。

材料一



材料二 中国的近代化历程,从洋务自强到变法维新,从共和革命到新文化运动,尽管期间遭遇过种种挫折和失败,但中国社会的变革,毕竟在山重水复中景随人转,迭相递进,由学习西方的军事器物到学习西方的政治制度,再到学习西方的思想文化,由表及里,由浅入深,推陈出新。

——改编自华师大版《中国历史》八年级上册

请回答:

- (1) 根据材料,写出开启了中国近代化历程的历史事件。(3分)
  - (2) 洋务派在福州创办的军事工业是什么?(3分)
  - (3) 辛亥革命的历史意义是什么?(3分)
  - (4) 根据材料二,说说在中国近代化探索历程中,中国向西方学习的内容发生了什么变化?(3分)
28. (11分)阅读下列材料,回答问题。

人类历史上各民族和国家经历了从相互孤立、隔绝到彼此交流融合的过程。东西方之间文明的交往很早就已发生。通过商人、使节、游历者、文人学者的来往,各地的文明发生了直接或间接的传播与交流……但和平交往并非是人类相处的惟一方式,在古代,战争和征服在带来灾难和痛苦的同时,也常常不自觉地充当了文明传播与交流的工具。

——摘自华师大版《世界历史》九年级上册

请回答:

- (1) 根据材料,归纳古代人类文明交往的两种主要方式。(4分)
- (2) 结合所学知识,写出两例反映古代文明交往的历史事件。(4分)
- (3) 根据材料及所学知识,指出哪种文明交往方式更有利于人类社会的发展。请简要说明理由。(3分)

五、综合题(本大题共2小题,每小题11分,共22分。)

29. (11分)2009年10月,中华人民共和国将迎来六十华诞,六十年的光辉历程,六十年的辉煌成就,一个繁荣昌盛的中国呈现在世界面前。结合所学知识回答相关问题。

(1)中华人民共和国成立于哪一年?(2分)

(2)我国社会主义制度建立的标志是什么?(2分)

(3)十一届三中全会开启了我国社会主义现代化建设的新时期,这次会议做出了什么伟大决策?(4分)

(4)某班同学拟办一期“建国六十周年外交成就展”,请为他们提供一则相关素材。(3分)

30. (11分)表格有助于历史知识达到简化、系统化,便于记忆和比较分析。请结合相关知识完成下表。

项目	内容		
	事件名称	领导人	重要文献
历史回放 (每空2分)	独立战争	(1)	《独立宣言》
	(2)	林肯	《解放黑人奴隶宣言》
	罗斯福新政	罗斯福	(3)
历史主题 (为上面历史回放设计主题,2分)	(4)		
历史感悟 (从三个事件对美国历史发展的影响角度谈谈你的感悟,3分)	(5)		