

2017 年山东省滨州市中考真题历史

一、选择题：共 25 小题，每小题 2 分，共 50 分。四个选项中，只有一项是符合题意的。

1. 下列对如图实物表述不正确的是（ ）



- A. 多为占卜记录
- B. 一种比较成熟的文字
- C. 反映了夏朝历史
- D. 河南安阳大量出土

解析：本题主要考查了文字演变的有关内容。依据课本知识分析图片可知，是甲骨文。商朝人刻写在龟甲或兽骨上的文字被称为“甲骨文”，它已经具备了汉字结构的基本形式，是一种比较成熟的文字，其内容多为占卜记录，是河南安阳大量出土的，所以 A、B、D 选项是正确的观点，排除；甲骨文反映了商朝的历史，C 选项符合题意。

答案：C

2. 中国是世界上几个独立的文明发源地之一，西部的高原与沙漠使古代中国与其他文明间交流极少。中国古代第一次大规模与中亚、西亚文明进行交流发生于（ ）

- A. 商周时期
- B. 两汉时期
- C. 宋元时期
- D. 明清时期

解析：本题考查丝绸之路。西汉时期，张骞出使西域后，丝绸之路开通，丝绸之路是从长安出发，经河西走廊，今新疆境内、中亚、西亚、直到欧洲的一条陆路交通线。丝绸之路促进了东西方经济文化交流，成为东西方经济文化交流的桥梁，是中国古代第一次大规模与中亚、西亚文明进行交流的开始。

答案：B

3. 日本史学家宫崎市定认为，由于“他”的汉化政策，“以新都洛阳为中心出现了汉文化的复兴”，“他”也“由鲜卑国主化为中华皇帝”。“他”是（ ）

- A. 拓跋宏
- B. 苻坚
- C. 李世民
- D. 忽必烈

解析：本题考查北魏孝文帝改革的内容。由“汉化政策”等内容可知他是北魏孝文帝拓跋宏。北魏孝文帝进行了改革，他迁都洛阳，实行汉化政策。改革的内容包括穿汉服，改汉姓，与汉族通婚，采用汉族官制、律令，学汉礼，尊孔子，以孝治国，提倡尊老等。

答案：A

4. 下面关于科举制度的表述，正确的是（ ）

- ①这一制度初创于隋朝
- ②进士科主要考察记诵儒家经典的能力
- ③有利于统治者笼络人才，巩固统治
- ④科举考试促进了唐代诗歌的繁荣

- A. ①②③
- B. ②③④
- C. ①②④
- D. ①③④

解析：本题考查科举制的创建及影响。隋炀帝设立进士科，标志着科举制的正式创立，科举制改善了用人制度，使有才识的读书人可以通过科举考试进入各级政府任职。有利于统治者笼络人才，巩固统治，科举考试以诗赋取士，促进了唐代诗歌的繁荣；故①③④正确，②错误，进士科主要考查考生处理社会实际问题的能力。

答案：D

5. 权力逐渐集中于皇帝之手，这是元、明、清三代共有的一个趋势，这一趋势臻于极致的标志是（ ）

- A. 废除宰相制度
- B. 设立锦衣卫
- C. 设立廷杖制度
- D. 设立军机处

解析：本题考查清朝君主集权强化的主要措施。清朝雍正帝设立军机处，标志着我国封建君主集权的进一步强化，君主专制达到顶峰。故权力逐渐集中于皇帝之手，这一趋势臻于极致的标志是设立军机处。

答案：D

6. 清朝在和西方各国的交往中基本采取了闭关政策，对该政策评价正确的是（ ）

- ①阻止了西方殖民者的入侵
- ②限制了我国对外贸易和航海事业的发展
- ③不利于接触与学习世界先进科技和思想文化
- ④贻误了走向世界的机遇，拉大了同西方的差距

- A. ①②③
- B. ②③④
- C. ①②④
- D. ①③④

解析：本题考查闭关锁国。清政府的闭关锁国政策对西方殖民者的侵略活动起过一定的自卫作用，但它没能阻止了西方殖民者的入侵，而且使中国与世隔绝，看不到世界形势的变化，未能适时地学习西方的先进科学知识和生产技术，限制了我国对外贸易和航海事业的发展，贻误了走向世界的机遇，使中国在上世界上逐渐落伍了。②③④符合题意，①说法错误。

答案：B

7. 近代史上，“保证严禁人民参加反帝活动”曾被作为清政府的“义务”写进条约，严重侵犯了中国人民的正当权利和自由，这一规定出自（ ）

- A. 《南京条约》
- B. 《北京条约》

C. 《辛丑条约》

D. “二十一条”

解析：本题考查《辛丑条约》的相关知识。据所学知，1901年清政府签订了丧权辱国的《辛丑条约》，其中规定，清政府保证严禁人民参加反帝活动，这充分表明清政府完全成为帝国主义统治中国的工具，沦为了“洋人的朝廷”。

答案：C

8. 同盟会会员、无产阶级革命家林伯渠说：“过去专制主义是正统，神圣不可侵犯，侵犯了就要杀头。后来民主主义成了正统，同样取得了神圣不可侵犯的地位。侵犯了这个神圣未必就要杀头，但为人民所抛弃是没有疑问的。”“民主主义成了正统”与近代哪一人物有关（ ）

A. 康有为

B. 李鸿章

C. 孙中山

D. 毛泽东

解析：本题考查辛亥革命。“过去专制主义是正统，神圣不可侵犯，侵犯了就要杀头，后来民主主义成了正统，同样取得了神圣不可侵犯的地位……”说明民主取代专制成为社会的共识。孙中山领导的辛亥革命推翻了清王朝，结束了封建君主专制制度；建立了资产阶级共和国，使民主共和观念深入人心。

答案：C

9. 1920年1月，北京政府下令改全国国民学校国文为语体文（白话），随后改“语体文”一词为“国语”，确立白话（语体文）的法律地位。这一变革与下列哪一主张的传播有关（ ）

A. 师夷长技以制夷

B. 实业救国

C. 三民主义

D. 民主、科学

解析：本题主要考查新文化运动的相关史实。1915年，陈独秀在上海创办《青年杂志》，（从第二卷起改称《新青年》）标志着新文化运动的兴起。1917年，胡适在《新青年》上发表《文学改良刍议》一文，主张用白话文代替文言文，提出写文章“不作无病之呻吟”“须言之有物”等主张。1915年陈独秀、李大钊、胡适、鲁迅等高举“民主”与“科学”两面大旗，以《新青年》为主要阵地，掀起了空前的思想大解放运动——新文化运动。题干这一变革与民主、科学主张的传播有关。

答案：D

10. 美国历史学家费正清说：“这是一个大约12个二十几岁年轻人参加的会议。会议是在上海法租界的一所女子学校召开的，成员们担心巡捕的监视，乘火车转移到嘉兴南湖上的一条游船中继续讨论。”费正清所说的会议（ ）

A. 使中国革命面貌焕然一新

B. 标志着第一次国共合作形成

C. 决定发动秋收起义

D. 确立了以毛泽东为核心的党中央的正确领导

解析：本题考查中共一大的相关知识。依据材料可知，这次会议是中共“一大”。中共一大即中国共产党第一次全国代表大会，1921年7月23日在上海召开（最后一天转移到浙江嘉

兴南湖的游船上），标志着中国共产党的正式成立即中国共产党的诞生，使得中国革命面貌焕然一新。

答案：A

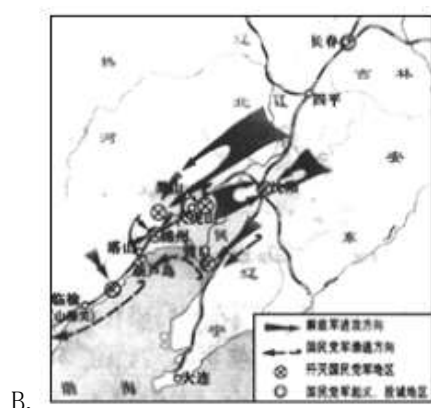
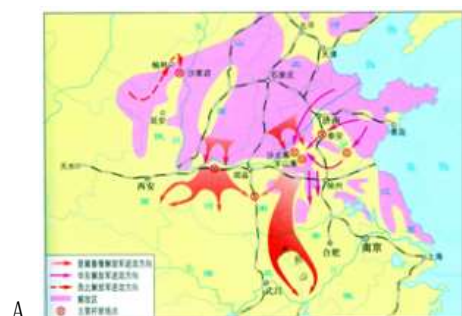
11. 1929年，日本军部《解决满洲问题方略大纲》提出，“组织亲日政权、建立独立国，必要时将中国东北并入日本版图。”后来，为实现这一阴谋，日本关东军制造了（ ）

- A. 九一八事变
- B. 西安事变
- C. 卢沟桥事变
- D. 华北事变

解析：本题考查的是九一八事变。依据“组织亲日政权、建立独立国，必要时将中国东北并入日本版图”可知与九一八事变有关。1931年9月18日，日本侵略军炸毁南满铁路柳条湖一小段铁轨，有预谋地制造了柳条湖事件，却反诬中国军队破坏，并以此为借口进攻中国东北军驻地北大营，炮轰沈阳城，发动了九一八事变。故为实现这一阴谋，日本关东军制造了九一八事变。

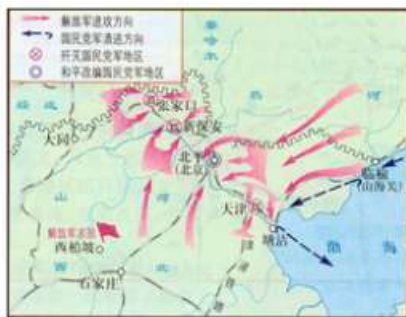
答案：A

12. 某次战役结束后十二天，新华社发表毛泽东的评论：“中国的军事形势现已进入一个新转折点，即战争双方力量对比已经发生了根本的变化，人民解放军不但在质量上早已占有优势，而且在数量上现在也已经占有优势。”该战役是（ ）





C.



D.

解析：本题考查辽沈战役。“中国的军事形势现已进入一个新转折点，即战争双方力量对比已经发生了根本的变化，人民解放军不但在质量上早已占有优势，而且在数量上现在也已经占有优势”该战役是辽沈战役。1948年9月，中共中央军委命令林彪、罗荣桓率东北人民解放军率先发起了辽沈战役。解放军迅速攻占锦州，关上了国民党军队进出东北的大门，形成关门打狗之势，随后，被长期围困在长春的国民党军队部分起义，其余投诚，长春宣告和平解放，之后东北解放军主力，拿下沈阳、营口，辽沈战役至此胜利结束，东北全境宣告解放，这次战役共歼灭国民党军队47万余人，人民解放军对国民党军开始取得数量上的优势。对应图片B。

答案：B

13. “那是一个火红的年代，到处充满了生机与活力，机器的轰鸣声不绝于耳，共和国几乎每一天都在发生改变，因为几乎每一天都有新的建设项目开工上马，其中许多是中国过去没有的新工业，如汽车厂、飞机制造厂、大型发电设备生产厂”，材料中的现象发生于二十世纪（ ）

- A. 五十年代
- B. 六十年代
- C. 七十年代
- D. 八十年代

解析：本题主要考查一五计划的成就。据“许多是中国过去没有的新工业，如汽车厂、飞机制造厂、大型发电设备生产厂”可知，材料描述的是第一个五年计划期间的成就；结合所学知识可知，1953-1957年年为了有计划的进行社会主义建设，党和政府实施了第一个五年计划。1953年底，鞍山钢铁公司大型轧钢厂等三大工程建成投产；1956年底，长春第一汽车制造厂建成投产；中国试飞成功第一架喷气式飞机；沈阳第一机床厂建成投产；1957年，武汉长江大桥建成；川藏、青藏、新藏公路建成；形成了以鞍山钢铁公司为中心的东北工业基地，沿海地区原有的工业基地得到加强，在华北、西北建立了一批新工业基地。从此，我国开始改变了工业落后的面貌，向社会主义工业化迈进。

答案：A

14. 十一届三中全会以后，中国农民以特有的首创精神奏响了改革的序曲。安徽、四川农村开始试行的改革是（ ）

- A. 土地改革
- B. 农业合作化
- C. 人民公社化
- D. 家庭联产承包责任制

解析：本题考查家庭联产承包责任制。结合所学可知，为了调动农民的生产积极性，促进农村经济的发展，国家在农村实施了家庭联产承包责任制，最早实行的省份是安徽和四川。

答案：D

15. 如图人物是一位著名的农业科学家，他的杰出贡献印证了“科学技术是第一生产力”这一光辉论断，他是（ ）



- A. 王进喜
- B. 邓稼先
- C. 焦裕禄
- D. 袁隆平

解析：本题考查袁隆平的相关知识。观察图片人物可知，这是袁隆平，他利用水稻杂交技术，培育出了籼型杂交水稻，被誉为“杂交水稻之父”，他的杰出贡献印证了“科学技术是第一生产力”这一光辉论断。

答案：D

16. 20 世纪 90 年代以来，经济全球化成为世界经济发展的主要趋势。为了抓住这一趋势带来的历史机遇，中共中央于 1993 年确定我国经济体制改革的目标为（ ）

- A. 建立现代化企业制度
- B. 发展乡镇企业
- C. 建立社会主义市场经济体制
- D. 建立市场导向的就业机制

解析：本题主要考查中共十四大提出建立社会主义市场经济体制。1992 年 10 月在北京举行中国共产党第十四次全国代表大会，形成了以江泽民为核心的党的第三代领导集体，确立了邓小平建设有中国特色社会主义理论在全党的指导地位，概括了建设有中国特色社会主义理论的主要内容。明确提出我国经济体制改革的目标是建立社会主义市场经济体制，此后改革开放和现代化建设事业进入从计划经济体制向社会主义市场经济体制转变的新阶段。

答案：C

17. 14 世纪，欧洲思想文化领域开始摆脱宗教束缚，关注现世人生，追求个性自由。这一转变起源于（ ）

- A. 意大利
- B. 法国
- C. 英国
- D. 西班牙

解析：本题主要考查文艺复兴运动的相关史实。14 世纪，欧洲思想文化领域开始摆脱宗教束缚，关注现世人生，追求个性自由。这一转变起源于意大利，14 世纪文艺复兴运动首先发生在意大利，一直持续到 17 世纪。文艺复兴运动的核心思想是人文主义，即要求以人为中心，而不是以神为中心；提倡发扬人的个性，追求人在现实生活中的幸福。

答案：A

18. 1796 年 9 月 17 日，他发表《告别词》，“我现在应当向大家有所表示……就是我已下决心谢绝把我放在被选之列”，主动放弃继续当选总统的权利，开创了美国民主政治的先河。他是（ ）

- A. 杰斐逊
- B. 华盛顿
- C. 林肯
- D. 罗斯福

解析：本题主要考查了华盛顿功绩的有关内容。依据课本知识，华盛顿领导美国独立战争，赢得了民族的独立，又开创了民主政治的先河，是著名的资产阶级革命家、杰出的军事家，所以题干描述的是华盛顿。

答案：B

19. 19 世纪以来，自由主义、民族主义和社会主义深刻影响着人类社会的发展进程。标志着社会主义理论科学化、系统化的是（ ）

- A. 《人民宪章》
- B. 《共产党宣言》
- C. 《解放黑人奴隶宣言》
- D. 《论联合政府》

解析：本题考查《共产党宣言》的相关知识。据所学知，标志着社会主义理论科学化、系统化的是《共产党宣言》。1848 年，《共产党宣言》的发表，标志着马克思主义的诞生，从此，无产阶级的斗争有了科学理论的指导，社会主义运动更加蓬勃地发展起来。

答案：B

20. 11 月 7 日晚，如图中军舰炮口对准冬宫，发出进攻的信号，标志着一个新时代的来临。该事件距今（ ）



- A. 80 年
- B. 90 年
- C. 100 年

D. 110 年

解析：本题考查了俄国十月革命。根据 11 月 7 日这个时间可知图片反映的是俄国十月革命。1917 年 11 月 6 日晚，列宁秘密来到起义的指挥中心——斯莫尔尼宫，直接领导了彼得格勒武装起义。11 月 7 日，彼得格勒武装起义取得了胜利。2017 年是俄国十月革命爆发 100 周年。

答案：C

21. 一战后签订的《凡尔赛和约》中涉及中国问题，体现分赃性质的条款是（ ）

- A. 阿尔萨斯和洛林交还给法国
- B. 德国海外殖民地交给战胜国进行“委任统治”
- C. 废除德国的普遍义务兵役制
- D. 德国应支付大量战争赔款

解析：本题考查巴黎和会和凡尔赛体系。《凡尔赛和约》体现分赃性质的条款是德国海外殖民地交给战胜国进行“委任统治”。第一次世界大战是帝国主义为争夺世界霸权和殖民地而进行的非正义的战争。战争结束后，战胜国怀着分赃和称霸世界的企图参加了巴黎和会。巴黎和会上签订了《凡尔赛和约》，其中规定德国的海外殖民地交由战胜国进行“委任统治”，最能体现巴黎和会的分赃性质。

答案：B

22. “没有一个国家在战争中没有任何杀害和虐待非武装人员的事件，日本也不例外。”日本历史教科书妄图用上述内容否认或掩盖的罪行是（ ）

- ①对犹太人进行种族灭绝
- ②对格尔尼卡进行地毯式轰炸
- ③南京大屠杀
- ④731 部队用中国人进行细菌式武器试验

- A. ①②
- B. ②③
- C. ②④
- D. ③④

解析：本题考查南京大屠杀。据材料“…没有一个国家在战争中没有任何杀害和虐待非武装人员的事件，日本也不例外”可知，材料反映出日本企图篡改历史，企图否认、淡化自己在战争中犯下的罪行，如 1937 年发动卢沟桥事变，开始全面侵华战争；常规战争罪：1937 年 12 月日军占领南京后对南京居民进行大屠杀；反人道罪：细菌战、毒气战。③④符合题意；①“对犹太人进行种族灭绝”是希特勒的罪行；对格尔尼卡进行地毯式轰炸是德意法西斯的罪行；①②与题意不符。

答案：D

23. 二战后，美国凭借超强的经济、军事、科技实力，发起了对以苏联为首的社会主义国家的“冷战”。“冷战”正式开始的标志是（ ）

- A. “铁幕”演说发表
- B. “欧洲复兴计划”提出
- C. 杜鲁门主义出台
- D. 北约建立

解析：本题考查冷战正式开始的标志。1947 年 3 月，美国杜鲁门提出的遏制共产主义，干

涉别国内政，加紧控制其他国家的纲领和政策，被称为杜鲁门主义，杜鲁门主义的出台，标志着冷战政策的正式开始。

答案：C

24. 1991年12月25日19点38分，印有镰刀锤子的红旗从克里姆林宫楼顶降下，代之而起的是白、蓝、红三色的俄罗斯国旗。这一事件标志着（ ）

- ①戈尔巴乔夫改革失败了
- ②社会主义失败了
- ③两极格局结束了
- ④世界格局向多极化发展

A. ①②③

B. ②③④

C. ①②④

D. ①③④

解析：本题考查苏联解体。据“1991年12月25日19点38分，印有镰刀锤子的红旗从克里姆林宫楼顶降下，代之而起的是白、蓝、红三色的俄罗斯国旗”可知，描述的事件是苏联解体。苏联解体标志着戈尔巴乔夫改革失败了，两极格局结束了，世界格局向多极化发展，苏联解体说明社会主义遇到了挫折，但不是社会主义失败了。

答案：D

25. 2017年5月，在乌镇举行的“人机围棋”旷世决战中，柯洁以0:3落败，AIPHAGO（阿法狗）取得了对人类的完全胜利，AIPHAGO（阿法狗）是基于第三次科技革命中的（ ）

- A. 原子能技术
- B. 航天技术
- C. 生物技术
- D. 计算机技术

解析：本题考查计算机技术的应用。与“AIPHAGO（阿法狗）”直接相关的技术是计算机技术。“阿尔法狗”是围棋人工智能程序，是计算机信息技术的成果。20世纪四五十年代以来，人类在原子能、电子计算机、航天技术、生物工程等领域取得重大突破，标志着第三次科技革命的到来。第三次科技革命的核心是电子计算机的广泛使用，标志着人类进入了“信息时代”，之后基于计算机的信息技术迅速发展。

答案：D

二、非选择题：本大题共4小题，第26题12分，第27题12分，第28题13分，第29题13分，共50分。

26. 中华文明源远流长，成就辉煌。为人类进步做出了伟大贡献。结合所学知识，回答问题。

材料一：不管人们是否佩服秦的成就，但必须承认这个成就；它在质和量的方面都大大地改变了中国的面貌，以致它可以名之为“革命”。

——《剑桥中国秦汉史》

材料二：中国古代粮食平均亩产量（市亩）

朝代	产量（市斤）
两汉	140
唐	154
宋	185

（摘编自《中国经济通史》）

材料三：欧洲著名城市规划家罗斯穆森认为“整个北京城乃至世界的奇观之一，它的（平面布局）匀称而明朗，是一个卓越的纪念物，一个伟大文明的顶峰。”

——北京师范大学出版社《历史》七年级下册

材料四：现代世界文明赖以建立的基本发明创造，有一半以上来源于中国……曾经改变了世界，直到15世纪以前，中国的科学技术在世界上保持了千年的领先地位！

——坦普尔《中国——发明创造的国度》

(1) 秦的最大“成就”是什么？为巩固这一成就，秦还实施了哪些革命性措施？

解析：本题考查秦朝巩固统一的措施。依据材料一“不管人们是否佩服秦（国）的成就，但必须承认这个成就：它在质和量的方面都大大地改变了中国的面貌，以致它可以名之为‘革命’”，结合秦国经济、政治等方面的史实可知，“革命”指：经济上，废除井田制，封建土地私有制为基础的小农经济生产方式确立；政治上，废除分封制，行县制，加强中央集权制度。但秦的最大“成就”是统一了六国，于公元前221年建立了我国历史上第一个统一的多民族的封建国家秦朝。秦朝建立后，秦始皇采取一系列措施巩固统一。政治上建立封建专制主义中央集权制度，最高统治者称皇帝，中央设丞相、太尉、御史大夫，地方推行郡县制；经济上统一货币，在全国统一使用圆形方孔钱，同时还统一了度量衡；文化上统一文字，把小篆作为全国统一的文字，后来使用更为简单的隶书；思想上为加强思想控制，秦始皇接受李斯的建议焚书坑儒；军事上北筑长城、南修灵渠。

答案：统一了六国，于公元前221年建立了我国历史上第一个统一的多民族的封建国家秦朝；政治上建立封建专制主义中央集权制度；经济上统一货币同时还统一了度量衡；文化上统一文字；思想上为加强思想控制，焚书坑儒；军事上北筑长城、南修灵渠。

(2) 材料二的表中宋代粮食产量变化的原因有哪些？这一时期，商业高度繁荣，纸币出现，请写出世界上最早的纸币名称。

解析：本题考查材料表中宋代粮食产量变化的原因和这一时期世界上最早的纸币名称。依据材料二，宋代的粮食产量较之两汉和唐朝有了很大的提高，结合课本知识可知，表中宋代粮食产量变化的原因是，北方人民南迁带来先进的技术和大量的劳动力，南方相对稳定，劳动人民的辛勤劳动，南方自然条件优越。这一时期，商业高度繁荣，纸币出现，世界上最早的纸币是北宋时期的交子。宋代的商品经济出现了空前的繁荣，特别是城市商业的发展，促进了世界上最早的纸币出现，北宋前期，四川地区出现了交子。

答案：北方人民南迁带来先进的技术和劳动力，南方相对稳定，劳动人民辛勤劳动，南方自然条件优越；交子。

(3) 除北京城外，列举我国古代工程领域另外两项“世界的奇观”。

解析：本题考查除北京城外我国古代工程领域另外两项“世界的奇观”。除北京城外，我国古代工程领域另外两项“世界的奇观”是长城和故宫。它们是世界著名的旅游景点，也是中华民族的象征。

答案：长城和故宫。

(4) “改变了世界”的中国发明有哪些？

解析：本题考查中国古代四大发明对世界的贡献。据所学知识可知，“改变了世界”的中国发明是中国古代的四大发明：其中的造纸术和印刷术推动了世界文化教育事业的发展；指南针的发明为欧洲新航路的开辟提供了条件，推动了世界的发展和进步。火药 14 世纪初由阿拉伯人传入欧洲，推动了欧洲火药武器的发明，加速了欧洲封建制度的解体。

答案：“改变了世界”的中国发明是中国古代的四大发明：造纸术、印刷术、指南针、火药。

27. 近代中国遭受过深重的苦难，捍卫国家主权、维护民族尊严成为中国人民的共同任务。结合所学知识，回答问题。

材料一：迟至 1863 年，中国的皇帝致函林肯，告之中国致力于保持与美国的友好关系，他在信函中称：“朕承天命，抚有四海，视中国和异邦同为一家，彼此无异也。”发此函时，中国已经输掉了与西方列强的两场战争——西方列强正忙于在中国领土上划分势力范围。

——基辛格《论中国》

材料二：中东一役，主客之势中逸东劳、重寡之形中强东弱，乃日人一举而扫平壤，再举而夺旅顺……七举而降威海，（中国）俯首乞怜如鱼困陆，索重款而不敢辞，割全台而不敢问，遂令二十三省如凡上内，任与国之需求，四万万人如阶下囚，听外人之笑骂。

——《新政真诠——何启、胡礼垣集》

材料三：中国人民抗日战争的伟大胜利，重新确立了中国在世界上的大国地位。

——习近平

材料四：1971 年 11 月 8 日，美国《时代》周刊封面上刊登了周恩来头像图片，图片的右上角写着：“The Chinese Are Coming（中国人来了）。”

(1) 中国在“已经输掉”的第一场战争后被割占了哪一地区？第二次战争中俄国通过哪一条约强占中国外兴安岭以南、黑龙江以北 60 多万平方千米领土？据材料分析中国输掉战争的主观原因。

解析：本题主要考查《南京条约》、《瑷珲条约》、中国输掉战争的主观原因。据所学知识可知，中国“已经输掉”的第一场战争是指 1840-1842 年的鸦片战争，鸦片战争后，清政府被迫与英国签订《南京条约》，割香港岛给英国。第二次战争中的 1858 年签订的中俄《瑷珲条约》，俄国割占了我国东北外兴安岭以南、黑龙江以北 60 多万平方千米的领土，这是在中国近代史上割地最多的条约——《瑷珲条约》。据材料可知，中国输掉战争的主观原因是清政府的腐败。

答案：香港岛；《瑷珲条约》；主观原因：清政府的腐败。

(2) 据材料分析，“中东一役”指的是近代哪一历史事件？“中”方丧失的权益有哪些？

解析：本题主要考查甲午中日战争。据材料二“中东一役，主客之势中逸东劳、重寡之形中强东弱，乃日人一举而扫平壤，再举而夺旅顺……七举而降威海，（中国）俯首乞怜如鱼困陆，索重款而不敢辞，割全台而不敢问，遂令二十三省如凡上内，任与国之需求，四万万人如阶下囚，听外人之笑骂”可知，“中东一役”指的是近代的甲午中日战争。1895 年，清政府在甲午中日战争中战败，被迫与日本签订《马关条约》，“中”方丧失的权益有：清政府割辽东半岛、台湾、澎湖列岛给日本，赔偿日本军费白银 2 亿两，开放沙市、重庆、苏州、杭州为通商口岸，允许日本在通商口岸开设工厂等。

答案：甲午中日战争；清政府割辽东半岛、台湾、澎湖列岛给日本，赔偿日本军费白银 2 亿两，开放沙市、重庆、苏州、杭州为通商口岸，允许日本在通商口岸开设工厂等。

(3) 习近平这一论断的依据是什么？抗战期间，中国军队主动出击日军的一次最大规模战役

的指挥官是谁？

解析：本题主要考查习近平这一论断的依据、抗战期间，中国军队主动出击日军的一次最大规模战役的指挥官。据材料三“中国人民抗日战争的伟大胜利，重新确立了中国在世界上的大国地位”可知，习近平这一论断的依据是中国在世界反法西斯战争中作出了重要贡献。抗战期间，中国军队主动出击日军的一次最大规模战役是1940年的百团大战，其指挥官是彭德怀。

答案：中国在世界反法西斯战争中作出了重要贡献；彭德怀。

(4)“中国人来了”指的是什么历史事件？同一时期新中国取得了哪一项重大外交成就？这些外交成就的取得说明了什么？

解析：本题主要考查中国在联合国合法席位的恢复。据材料四“1971年11月8日，美国《时代》周刊封面上刊登了周恩来头像图片，图片的右上角写着：‘The Chinese Are Coming（中国人来了）’”可知，“中国人来了”指的是1971年中国在联合国合法席位的恢复；同一时期新中国取得了中美建交的重大外交成就；这些外交成就的取得说明了中国综合国力的增强、国际地位的提高。

答案：中国在联合国合法席位的恢复；中美建交；中国综合国力的增强、国际地位的提高。

28. 近代以来，民主化、工业化成为人类文明演进的主要趋势。结合所学知识，回答问题。

材料一：（英国君主政体）是掺杂着一些新的共和政体因素的……我们十分聪明，曾经对专制君主政体关门下锁。

——托马斯·潘恩《常识》

材料二：如果说19世纪的世界经济主要是在英国工业革命的影响之下发展起来的话，那么它的政治和意识形态到主要受到法国大革命的影响。

——霍布斯鲍姆《革命的年代》

材料三：在19世纪，奥斯曼、俄罗斯、中国和日本社会都面临着来自内部和外部的双重严重挑战……所有这些国家都启动了雄心勃勃的改革计划，从欧美模式中吸取灵感以解决统治危机。奥斯曼、俄罗斯和中国保守的统治者大体上支持工业化和军事改革，却扼杀了可能威胁他们社会地位的政治和社会改革。而在日本，改革者实施了更彻底的改革计划。

——《新全球史》

(1)潘恩所说的“关门下锁”是通过哪一历史事件实现的？“新的共和政体因素”集中体现在哪一历史文献中？“新的共和政体”指什么？

解析：本题主要考查英国资产阶级革命、《权利法案》、君主立宪制。据材料一“（英国君主政体）是掺杂着一些新的共和政体因素的……我们十分聪明，曾经对专制君主政体关门下锁”可知，潘恩所说的“关门下锁”是通过英国资产阶级革命实现的；“新的共和政体因素”集中体现在《权利法案》中；“新的共和政体”指君主立宪制。1640年英国国王召开会议，标志着英国资产阶级革命的开始。1688年，资产阶级和新贵族发动宫廷政变，推翻了复辟的封建王朝，英国资产阶级革命结束。英国资产阶级革命后，1689年英国议会通过《权利法案》，标志着君主立宪制的资产阶级统治在英国的确立。君主立宪制的政治体制是一个全新的政治体制。

答案：英国资产阶级革命；《权利法案》；君主立宪制。

(2)英国工业革命中最具有影响力的发明有哪些？阐述法国大革命“政治和意识形态”的是哪一文献？哪一位“资产阶级的皇帝”用刺刀把革命思想传播到欧洲其他国家？

解析：本题主要考查工业革命。据所学知识可知，英国工业革命中最具有影响力的发明有改

良蒸汽机、珍妮纺纱机、火车、轮船。法国大革命“政治和意识形态”的是《人权宣言》。拿破仑这位“资产阶级的皇帝”用刺刀把革命思想传播到欧洲其他国家。《人权宣言》是法国大革命的纲领性文件，它体现了要求摧毁封建君主专制和等级制度的进步思想，有利于资产阶级民主、自由思想的传播，奠定了西方社会法律的基本准则。1804年拿破仑称帝后，颁布了《法典》传播了人权、民主意识，巩固了法国大革命的成果，巩固了资产阶级的统治，它的立法精神和原则为后来很多欧洲国家借鉴和效仿，加冕后的拿破仑被称为“资产阶级的皇帝”。

答案：改良蒸汽机、珍妮纺纱机、火车、轮船。《人权宣言》。拿破仑。

(3) 在 19 世纪，中国和日本共同面临的外部挑战是什么？俄、中、日为摆脱危机而启动的改革有哪些？

解析：本题主要考查 1861 年改革、戊戌变法、明治维新。在 19 世纪，中国和日本共同面临的外部挑战是中国和日本都面临亡国灭种的危机。中国的太平天国运动危及清王朝统治，两次鸦片战争失败；日本的幕府统治危机，美国打开日本国门，面临民族危机，俄、中、日为摆脱危机而启动的改革有俄国 1861 年改革、中国的洋务运动、日本的明治维新。

答案：中国和日本都面临亡国灭种的危机。俄：1861 年改革、中：洋务运动、日：明治维新。

(4) 作者认为日本的改革“更彻底”，结合所学知识，分析这一观点的依据。

解析：本题主要考查日本的改革“更彻底”的依据。作者认为日本的改革“更彻底”，主要是因为明治维新使日本走上了发展资本主义的道路。

答案：走上了发展资本主义的道路。

29. 进入二十世纪以来，世界日益成为一个密不可分的整体，世界各国既相互依存又相互竞争。结合所学知识，回答问题。

材料一：



图一 激战后的凡尔登



图二 诺曼底登陆



图三 毛泽东宣告
中华人民共和国成立



图四 亚洲国家独立
进程图



图五 蓝鹰标志



图六

材料二：习近平指出，在各国彼此依存、全球性挑战此起彼伏的今天，各国要对接彼此政策，在全球更大范围内整合经济要素和发展资源，才能形成合力，促进世界和平安宁和共同发展。

——《“一带一路”国际合作高峰论坛圆桌峰会联合公报》

(1) 图一所示战役因其异常惨烈又被称为什么？图二行动有何军事意义？图一、图二所属的两场战争在性质上有何不同？

解析：本题主要考凡尔登战役、诺曼底登陆的军事意义、一战和二战在性质上的不同。观察

图一《激战后的凡尔登》可知，图一所示战役是1916年发生在一战中的凡尔登战役，因其异常惨烈又被称“凡尔登绞肉机”；观察图二行动可知，这是诺曼底登陆，1944年的诺曼底登陆，使盟军开始两面夹击德军，加速了德国法西斯的灭亡；图一、图二所属的两场战争分别是第一次世界大战和第二次世界大战。一战是一场帝国主义掠夺战争；二战是一场世界人民的反法西斯战争。

答案：“凡尔登绞肉机”；盟军开始两面夹击德军，加速了德国法西斯的灭亡；图一：帝国主义掠夺战争；图二：世界人民的反法西斯战争。

(2)图三事件的标志性意义是什么？图四中非洲人民最终摆脱帝国主义殖民体系的标志是什么？两者与图二所属战争有何联系？

解析：本题主要考查新中国成立的标志性意义、非洲人民最终摆脱帝国主义殖民体系的标志。观察图三《毛泽东庄严的宣告中华人民共和国成立》可知，图三的事件是1949年的开国大典，标志着新中国的成立，新中国成立的标志性意义是国家独立、人民当家做主；图四中非洲人民最终摆脱帝国主义殖民体系的标志是199年纳米比亚的独立；两者与图二所属战争——二战的关系是：中华人民共和国的成立和纳米比亚独立都属于二战后亚非拉国家的独立和振兴。

答案：国家独立、人民当家做主；199年纳米比亚独立；都属于二战后亚非拉国家的独立和振兴。

(3)图五为“蓝鹰运动”的标志，该运动保证了“新政”哪一核心法令的施行？图六是哪一个经济政治集团旗帜？两者体现了现代资本主义发展的哪两大趋势？

解析：本题主要考查《国家工业复兴法》、欧盟的成立。观察图五《蓝鹰标志》可知，图五为“蓝鹰运动”的标志，该运动是指罗斯福新政，该运动保证了“新政”中《国家工业复兴法》法令的施行；观察图六可知，图六是经济政治集团欧盟的旗帜；两者体现了现代资本主义发展的资本主义制度的自我完善和国家间的合作。

答案：《国家工业复兴法》；欧盟；资本主义制度的自我完善和国家间的合作。

(4)综合上述材料及所学知识，请用你自己的话谈谈各国应怎样促进世界和平与发展。

解析：本题主要考查各国促进世界和平与发展的做法。本题是开放型题目，只要符合题意，言之有理即可。如：维护世界和平、发展世界经济等。

答案：维护世界和平、发展世界经济（言之有理即可）。