

2015 年湖南省株洲市中考真题地理

一、选择题（本大题共 30 个小题，每小题只有一个正确答案，每小题 2 分，共 60 分）

1. 本初子午线是指（ ）

- A. 0° 经线
- B. 180° 经线
- C. 20° W 经线
- D. 160° E 经线

解析：本初子午线是一条特殊的经线，其经度是 0°，该线以东是东经，以西是西经。

答案：A

2. 若地图的图幅相同，则下列比例尺中能让地图内容最详细的是（ ）

- A. 1: 30000000
- B. 图上 1 厘米代表实地距离 30 千米

C. $\frac{1}{30000}$

D. 

解析：比例尺就是个分数，我们把所有的比例尺都写成分数的形式，在分子相同的情况下，分母越大分数越小，也就是比例尺越小；反之，分母越小分数越大，也就是比例尺就越大，我们把题干中四个比例尺统一写成数字式比例尺是：B、1: 3000000；D、1: 3000。比例尺最大的是 D，比例尺越大，表示内容最详细。

答案：D

3. 晴朗的早晨，太阳即将从地平线上升起，家住株洲的小李面向太阳升起的方向站立，准备观察太阳升起的过程。此刻小李右边的方向可能是（ ）

- A. 东方
- B. 南方
- C. 西方
- D. 北方

解析：早上起来，面上太阳升起的方向，你的左面是北，右面是南，前面是东，后面是西。

答案：B

某地理兴趣小组观测当地某月全部五次降水过程，并记录了降水量（见下表）。当地年平均降水量约 1100mm。据此回答 4~5 题。

本月降水次数	第 1 次	第 2 次	第 3 次	第 4 次	第 5 次
降水日期	5 日	7 日~8 日	11 日	15 日~27 日	29 日
降水量	15mm	21mm	25mm	153mm	41mm

4. 该地当月降水量为（ ）

- A. 1100mm
- B. 255mm
- C. 41mm
- D. 51mm

解析：当月降水量=15mm+21mm+25mm+153mm+41mm=255mm。

答案：B

5. 下列说法，正确的是（ ）

- A. 该兴趣小组测量降水量的工具是温度计
- B. 该地当月处于旱季
- C. 该地当月中下旬持续降水时间长
- D. 该地当月第二次降水的强度最大

解析：A、该兴趣小组测量降水量的工具是雨量器。故 A 不符合题意；B、题干中月降水量=15mm+21mm+25mm+153mm+41mm=255mm，月降水量超过 100 毫米，说明降水丰富，应该是雨季。故 B 不符合题意；C、题干中 15 日~27 日持续降水 153mm，说明说明中下旬持续降水时间长。故 C 符合题意；D、降水强度是单位时间或某一时段的降水降水量。该地当月第五次降水的强度最大，一天内降水量达到 41mm。故 D 不符合题意。

答案：C

6. 如图中的阴影表示亚欧大陆的人口密集区，对它们分布的描述正确的是（ ）



- A. 都分布在中高纬度
- B. 都分布在河流稀少的地方
- C. 都分布在平原地区
- D. 都分布在气候比较湿润的地区

解析：读图可得，世界人口的地理分布很不均匀，有的地方人口稠密，有的地方人口稀疏。中低纬度的临海地带往往形成人口稠密地区，比如亚洲的东部和南部，欧洲的西部。人口的分布状况与地理环境有着密切联系。世界上绝大多数人居住在中低纬度地区，而在气候温和、降水较多的平原和盆地地区，人口更为集中。

答案：D

亚太经合组织（亚太经济合作组织，简称 APEC）是亚太地区最具影响力和具有世界意义的区域合作组织，现有成员 21 个（图中阴影所示）。读图回答 7~8 题。



亚太经济合作组织成员图

7. 从图中可知，“APEC”的成员主要分布在（ ）

- A. 太平洋沿岸
- B. 亚洲、北美洲、南美洲、南极洲
- C. 亚洲的太平洋沿岸
- D. 美洲的东西两岸

解析：亚太经合组织（APEC）是亚太地区的一个主要的经济组织，目前共有 21 个成员，读图可知，APEC 成员主要分布在亚洲、大洋洲、北美洲及南美洲，在太平洋沿岸。

答案：A

8. “APEC”属于（ ）

- A. 全球性的政治组织
- B. 全球最大的卫生组织
- C. 地区性的体育组织
- D. 地区性的经济合作组织

解析：亚太经济合作组织的缩写是 APEC。亚太经合组织（APEC）是亚太地区的一个主要的经济组织，属于地区性的经济合作组织，在全世界经济活动中具有举足轻重的作用。

答案：D

9. 据印度媒体报道，截至 2015 年 6 月 1 日，印度部分地区高温天气导致的死亡人数已超过 2200 人，甚至沥青道路路面都被烤化。一名气象局发言人说，印度每年雨季到来前都面临高温天气的威胁。读材料，印度高温现象说明（ ）

- A. 气候是复杂多变的
- B. 气候是短时间天气的综合
- C. 天气是不可预测的
- D. 应建立对极端天气的预警和应急防范机制

解析：天气是某地距离地表较近的大气层在短时间内的变化，特点是多变；气候是某个地方

多年的天气平均状况，具有稳定性，故 AB 错误；天气是可以监测的，故 C 错误；为预防恶劣的天气应建立对极端天气的预警和应急防范机制，故 D 正确。

答案：D

10. 下列关于美国的叙述，正确的是（ ）

- A. 是世界最大的农产品出口国
- B. 是美洲面积最大、人口最多的国家
- C. 首都华盛顿是美国最大的城市和港口
- D. 是地跨北美洲和亚洲的国家

解析：美国是世界最大的农产品出口国，美国生产的大豆、小麦、玉米、乳肉等居世界前列；美洲面积最大的国家是加拿大；纽约是美国最大的城市和港口；美国地跨北美洲和大洋洲；故选项 A 符合题意。

答案：A

小伟对日本、埃及、俄罗斯、法国这四个国家的有关知识进行归纳整理。请对他的整理工作进行评判。完成 11~13 题。

11. 小伟归纳了这四个国家的位置特征，其中写错一个关键字导致表述错误，请你指出哪项是错误的（ ）

- A. 日本位于亚洲东部、太平洋西北部
- B. 埃及位于非洲东北部，还包括亚洲西南端的西奈半岛
- C. 俄罗斯是一个欧洲国家，但大部分领土在亚洲
- D. 法国位于欧洲东部，领土轮廓略呈六边形

解析：日本位于亚洲东部、太平洋西北部；埃及位于非洲东北部，位于亚洲西南端的西奈半岛也属于埃及；俄罗斯地跨欧亚两个大洲，但俄罗斯的人口、城市、农业区、工业区、首都位于欧洲部分，历来被公认为欧洲国家；法国位于欧洲西部，地势东南高西北低，领土轮廓略呈六边形；故选项 D 符合题意。

答案：D


12. 小伟对这四个国家的经济特征也进行了描述，不小心也出现了错误，请你找出来（ ）

- A. 日本有发达的经济，但矿产资源和市场对外依赖严重
- B. 俄罗斯的旅游业最发达，是世界旅游大国
- C. 法国的核电比重大
- D. 埃及的长绒棉世界著名

解析：日本资源缺乏，其经济发展对外依赖严重；俄罗斯的重工业最发达，但不是旅游大国；法国水能开发率高、核电比重大，但常规的矿物能源如煤和石油缺乏；埃及气候干旱，是世界上生产和出口长绒棉最多的国家。故选项 B 符合题意。

答案：B

13. 小伟在搜集这四个国家最典型的地理图片时，发现有一张不在这四个国家之中，你知道是哪张吗？（ ）



解析：读图可知，A 是法国的埃菲尔铁塔；B 是日本的富士山；C 是美国的自由女神像；D 是埃及的狮身人面像；故选项 C 符合题意。

答案：C

第 31 届夏季奥林匹克运动会将于 2016 年 8 月 5 日~21 日在巴西的里约热内卢举行。里约热内卢将成为奥运史上首个主办奥运会的南美洲城市。阅读材料，结合所学知识，回答 14~16 题。

14. 关于南美洲的叙述，正确的是（ ）

- A. 亚马孙河是南美洲最长的河流，也是世界最长的河流
- B. 安第斯山脉是世界最长的山脉
- C. 巴西高原是世界最高的高原
- D. “炎热干燥”是南美洲的气候特征

解析：亚马孙河是南美洲最长的河流，世界最长的河流是尼罗河，故 A 错误；安第斯山脉纵贯南美大陆，全长近 9000 千米，为世界上最长的山脉，故 B 正确；巴西高原是世界最大的高原，最高的高原是青藏高原，故 C 错误；南美洲降水丰沛，大部分地区的年降水量在 1000 毫米以上，是世界上最湿润的大洲，故 D 错误。

答案：B

15. 南美洲被称为“世界人种大熔炉”，关于南美洲人种的叙述，正确的是（ ）

- A. 白色人种来自亚洲东部
- B. 土著居民印第安人是黑色人种
- C. 黄色人种来自欧洲西部
- D. 混血人种数量众多

解析：南美洲的白色人种主要来自欧洲，故 A 错误；印第安人属于黄色人种，故 B 错误；黄种人主要来自亚洲，故 C 错误；南美洲混血种人数量和比重之大，超过了其他任何大洲，故 D 正确。

答案：D

16. 中国奥运军团的运动员在第 31 届奥运会参赛期间，将不能感受到的风土人情是（ ）

- A. 精湛的足球表演艺术
- B. 热情奔放的桑巴舞
- C. 肤色各异的志愿服务者
- D. 声势浩大的火把节

解析：火把节是我国彝族的节日，不是巴西的节日，选项 ABC 所示的都是巴西的风土人情。

答案：D

17. 家住黑龙江的小丽暑假去新疆旅游，发现新疆在北京时间晚上八点太阳还没落山，造成这种时间差异的原因是（ ）

- A. 南北纬度的差异
- B. 东西经度的差异
- C. 地形地势的差异
- D. 海陆位置的差异

解析：黑龙江省位于我国的最东端，新疆维吾尔自治区位于我国的最西端，黑龙江省的地方时比新疆的地方时早 3—4 个小时，造成这种时间差异的原因是我国东西跨经度广。

答案：B

18. 内蒙古高原东部水草肥美，多为定居放牧，内蒙古高原西部牧草稀疏，以游牧为主。这反映出内蒙古高原自然环境的变化是（ ）

- A. 由东到西地势逐渐降低
- B. 由东到西降水逐渐减少
- C. 由东到西气温逐渐降低
- D. 由东到西河流逐渐增多

解析：内蒙古高原由西向东，牧草长得越来越好的原因是降水量由西向东逐渐增多，主要的成因是海陆因素造成的。

答案：B

19. 我国各地区土地资源性质差别很大，因地制宜对土地进行多样化的开发利用是我们的基本原则。据此判断，下列地区主要土地利用类型搭配合理的是（ ）

- A. 内蒙古高原——林地
- B. 长江中下游平原——水田
- C. 大兴安岭——草地
- D. 四川盆地——旱地

解析：我国各类土地资源齐全，形成了耕地、林地、草地等多种土地类型。我国的耕地主要分布在东部季风区的平原和盆地地区，长江中下游地区和黄河中下游地区主要以耕地为主，由于降水等因素的影响华北平原地区以旱地为主；林地主要分布在气候湿润的东北、东南和西南地区的山区，我国东北的大小兴安岭、长白山一带分布有我国最大的天然林区、横断山区分布有我国第二大天然林区；我国的草地主要分布在内蒙古的东部，青藏高原的东部和南部。故选项 B 符合题意。

答案：B

20. 我国内流区域面积广大，内流河年径流总量不足全国的 5%，关于我国内流河的叙述错误的是（ ）

- A. 汛期出现在冬季
- B. 多为季节性河流
- C. 水源主要来自高山冰雪融水
- D. 通常水量随夏季气温增高而增加

解析：与外流河相比，我国内流河的水文特征明显不同。这些河流多分布在西北内陆。这里降水稀少，气候干旱，河水主要来自高山冰雪融水。夏季，随着冰雪融化，内流河水量增多；夏季过后，河流水量逐渐减少，甚至断流。所以，内流河大部分属于季节性河流。

答案：A

21. 我国是一个气象灾害严重的国家，对我国农业生产影响最大、最常见且分布最广的一种

气象灾害是（ ）

- A. 洪涝
- B. 干旱
- C. 梅雨
- D. 台风

解析：我国位于亚洲东部，季风气候比较显著，由于夏季风的不稳定经常发生旱涝灾害，洪涝灾害成为我国发生频繁、损失严重的自然灾害；干旱则是对我国农业生产影响最大、最常见且分布范围最广的一种气候灾害。

答案：B

22. 我国四大盆地中，矿产资源丰富，素有“聚宝盆”之称的是（ ）

- A. 四川盆地
- B. 准噶尔盆地
- C. 柴达木盆地
- D. 塔里木盆地

解析：我国有四大盆地，塔里木盆地、准噶尔盆地、四川盆地、柴达木盆地，其中柴达木盆地因矿产资源丰富被叫做“聚宝盆”；柴达木盆地位于青海省西北部，是一个被昆仑山、阿尔金山、祁连山等山脉环抱的封闭盆地，是我国海拔最高的盆地，柴达木不仅是盐的世界，而且还有丰富的石油、煤，以及多种金属矿藏，如冷湖的石油、鱼卡的煤、锡铁山的铅锌矿等都很有名，所以柴达木盆地有“聚宝盆”的美称。

答案：C

23. 小明在班上做了一次民族成分的调查，他发现班上有五名同学来自不同的少数民族，这个调查印证了我国民族分布的特点是（ ）

- A. 各少数民族和汉族分区独立居住
- B. 少数民族主要分布在东部地区
- C. 大散居，小聚居，交错杂居
- D. 汉族主要分布在西南、西北等边疆地区

解析：我国民族分布特点为大散居、小聚居，交错杂居，汉族地区有少数民族居住，少数民族地区也有汉族居住，汉族分布最广，主要集中在东部和中部，少数民族则主要分布在西北、西南、东北部地区，选项 ABD 叙述错误，不符合题意。

答案：C

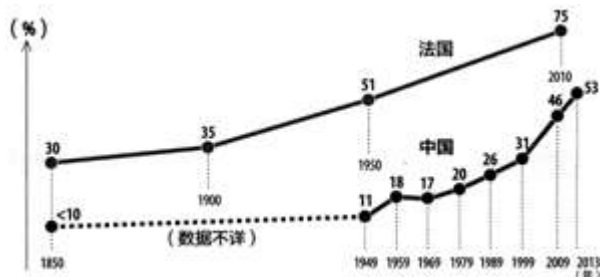
24. 台湾是中国第一大岛，也是祖国的宝岛。下列关于台湾的叙述正确的是（ ）

- A. 台湾省居民以高山族为主
- B. 台湾气候终年炎热多雨，属热带雨林气候
- C. 台湾岛内最高的山峰是阿里山
- D. 台湾交通发达，旅游业已成为其重要的经济支柱

解析：台湾居民绝大部分是汉族，少数民族是高山族。故 A 错误。台湾省大部分地区属于亚热带季风气候，少部分地区属于热带季风气候。故 B 错误。台湾岛内最高的山峰是玉山。故 C 错误。台湾交通发达，随着两岸“三通”的开展，旅游业在台湾的经济支柱作用更加突出。故 D 正确。

答案：D

25. 如图为中法两国城镇人口比重变化图，对图中内容表述正确的是（ ）



- A. 中国城镇人口比重一直高于法国
- B. 近 50 年，中国城镇人口比重增加的速度快于法国
- C. 中国城镇人口比重增加的速度一直很慢
- D. 法国城镇人口比重增加的速度一直比中国快

解析：A、如图中国城镇人口比重一直低于法国。故 A 不符合题意；B、随着中国经济的发展，大量的农村人口将进入城镇，中国的城镇人口快速增长，近 50 年，中国城镇人口比重增加的速度快于法国。故 B 符合题意；C、从图中可以看出，建国后我国城镇人口比重增加的速度较快。故 C 不符合题意；D、1949 年以前，法国城镇人口比重增加的速度快于中国，1949 年以后，法国城镇人口比重增加的速度慢于中国。故 D 不符合题意。

答案：B

26. 下列自然资源中，属于非可再生资源的是（ ）

- A. 森林资源
- B. 生物资源
- C. 矿产资源
- D. 水资源

解析：非可再生资源是指经人类开发利用后蕴藏量不断减少，在相当长的时间内不可能再生的自然资源，主要是指自然界的各种矿物、岩石和化石燃料，例如金属矿产、非金属矿产、煤炭、石油、天然气等矿产资源。

答案：C

27. 我国山脉纵横交错，构成我国地形骨架的同时也是一些地理界线。下列山脉中，既是地势二三级阶梯分界线，又是季风区与非季风区分界线的是（ ）

- A. 昆仑山
- B. 大兴安岭
- C. 秦岭
- D. 太行山

解析：我国山脉纵横交错，构成我国地形骨架的同时也是一些地理界线。我国第二级阶梯和第三级阶梯的分界山脉是大兴安岭—太行山—巫山—雪峰山一线。我国季风区和非季风区的分界线，由东北向西南大致为大兴安岭—阴山—贺兰山—巴颜喀拉山—冈底斯山一线。由此可知，既是地势二三级阶梯分界线，又是季风区与非季风区分界线的是大兴安岭。依据题意。

答案：B

28. 香港是世界上重要的国际经济贸易中心，其最大的进出口贸易对象是（ ）

- A. 美国
- B. 日本

- C. 中国内地
- D. 中国台湾

解析：香港人多地狭，工业多属加工工业，以出口外销为主。对外贸易特别是转口贸易是本地经济的重要支柱，最大的转口贸易伙伴是中国大陆，另外还有美国、韩国、东南亚等地。
答案：C

29. 小贝的家乡位于我国黄土高原地区的陕西，当地常常能听到高亢、豪放、激越的秦腔，但往往是只闻其声，不见其人。这可能是因为黄土高原（ ）

- A. 冰川广布，雪峰连绵
- B. 地势平坦，一望无际
- C. 支离破碎，沟壑纵横
- D. 山岭众多，山高谷深

解析：黄土高原主要的环境问题是水土流失，由于严重的水土流失，该高原的景观是千沟万壑，支离破碎，沟壑纵横。
答案：C

30. 东北平原是我国重要的粮食生产区，也是国家级商品粮基地分布区，下列农产品能在此大面积分布的是（ ）

- A. 棉花、玉米
- B. 春小麦、甜菜
- C. 水稻、甘蔗
- D. 冬小麦、大豆

解析：农作物的分布受自然条件影响较大，特别是地形、气候条件等；东北地区土地资源丰富，气候温和湿润，农业生产条件较好；东北平原属于中温带，农作物一年一熟，主要盛产大豆、高粱、谷子、玉米、水稻、春小麦、甜菜等。
答案：B

二、综合题（本大题共 4 个小题，共 40 分）

31. （10 分）读以北极为中心的地图完成下列要求：



- (1) 在图中适当位置填注太平洋和大西洋。
- (2) 俄罗斯和加拿大隔着北冰洋遥遥相对，这两个国家有很多相似的地理特征。请把你能从

这幅地图中读出的两国相似的地理特征列举出来。

解析：读图可知，(1)太平洋以东为北美洲、南美洲，以西为亚洲、大洋洲；白令海峡沟通了北冰洋和太平洋。大西洋以东为欧洲、非洲，以西为北美洲、南美洲，大西洋呈“S”型。(2)俄罗斯和加拿大都濒临北冰洋、都濒临太平洋；都位于北半球；都位于中高纬度；都有北极圈经过；都有注入北冰洋的河流；都有面积很广的苔原和亚寒带针叶林；冬季都很长且很冷；建筑都须考虑保暖设计；冬季取暖能耗高；河流都有很长的结冰期。



答案：(1)如图：

(2)都濒临北冰洋、都濒临太平洋；都位于北半球；都位于中高纬度；都有北极圈经过；都有注入北冰洋的河流；都有面积很广的苔原和亚寒带针叶林；冬季都很长且很冷；建筑都须考虑保暖设计；冬季取暖能耗高；河流都有很长的结冰期。

32. (10分) 电子地图是信息时代的产物，是地图家族的最新宠儿，它具有许多神奇的功能，例如可任意缩放，可定位搜索，可导航…读北京电子地图回答下列问题。



(1) 你知道如何才能获取电子地图吗？

(2) 城市的街区、道路是城市成长的印记，有鲜明的个性特征和文化烙印。请读图概括北京道路的分布特征。

(3) 学霸们大多对北京的大学充满向往。请向同学们描述清华大学的具体位置。

解析：(1)电子地图是地图家族新成员，生活中可通过手机下载电子地图、进入百度搜索地图（在互联网上搜索地图）等获取电子地图。

(2)北京城市道路、地铁、轻轨铁路组成了市内四通八达的交通网络，从图中可以看出，北京道路以天安门为中心呈环形分布。

(3)清华大学的位置描述：位于天安门西北方向，（位于海淀区）位于北四环西段北侧；或位于地铁4号线北段东侧；或位于国家体育馆（鸟巢）西部约5千米；或位于颐和园正东部约4千米；或位于圆明园东南约2千米等。

答案：(1)手机下载电子地图、进入百度搜索地图（在互联网上搜索地图）。

(2)以天安门为中心呈环形分布。

(3)位于天安门西北方向，（位于海淀区）位于北四环西段北侧等。

33.（10分）长沙、株洲和湘潭三座城市之间的联系越来越紧密，城市之间的交通日益多样化，这让人们在出行时有了更多的选择。



(1)有些同学计划中考后去长沙度假，请向你的小伙伴们推荐两种出行方式，并分析这两种方式各自的优劣。

(2)根据你对长沙、株洲、湘潭三市的了解，请列举这三个城市中你最熟悉的两个旅游景点。

解析：(1)湖南省交通便利，去长沙旅游可以有多种交通方式，但不同的交通方式，有各自的优劣；例：乘高铁——速度快，舒适，但价格较高，高铁两端的行程较麻烦；乘火车——比较便宜，速度也快，但可能无座位，同样存在铁路两端的行程麻烦；乘的士或私车——方便，可实现门到门的服务，舒适，但费用高，能源消耗高，二氧化碳排放高，私车还存在停车难的问题；乘城际公交——最经济实惠，但速度慢，有的要中途转车，可能无座位，须考虑公交线两端的行程；乘快巴——速度较快，时间限制小，但价格较高，须考虑快巴两端的行程。

(2)湖南依江畔湖，风景秀丽，是海内外闻名的旅游胜地，著名景点有长沙的岳麓书院、橘子洲头、世界之窗等。

答案：(1)乘高铁——速度快，舒适，但价格较高，高铁两端的行程较麻烦；乘的士或私车——方便，可实现门到门的服务，舒适，但费用高，能源消耗高，二氧化碳排放高，私车还存在停车难的问题。

(2)长沙的橘子洲头、岳麓书院、世界之窗。

34. (10分) 梯田是在丘陵山坡上沿等高线方向修筑的条状台阶式田地。现在梯田逐渐成为了一种重要的旅游资源。如图是一位旅游者拍摄的梯田景观。请读图回答下列问题



(1) 修建梯田是一项艰巨的工程。为什么在一些丘陵山区人们要开辟梯田来发展种植业？

(2) 梯田对丘陵山区的生态环境有何积极意义？

(3) 请根据图中梯田的形状想象梯田所在山头的等高线形态，把这些等高线绘在答题卡中规定位置（不必标注等高线的海拔数据），并在图中正确标注出山谷、山脊。

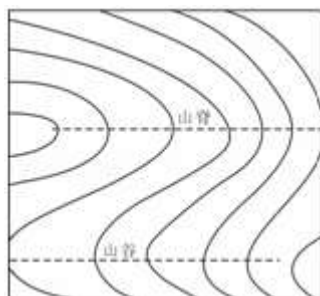
解析：(1) 在陡坡上适宜植树，不适宜修梯田种粮，在缓坡地带可以修建梯田；

(2) 在坡度和缓的丘陵地区山坡上修建梯田，能提高农民收入，又能改善当地生态环境，保持水土；

(3) 等高线的条数不必与梯田阶数一致，但应体现从照片中梯田侧视图到等高线俯视图的正确转换。

答案：(1) 人多地少，增加耕地面积。

(2) 保持水土。



(3)