

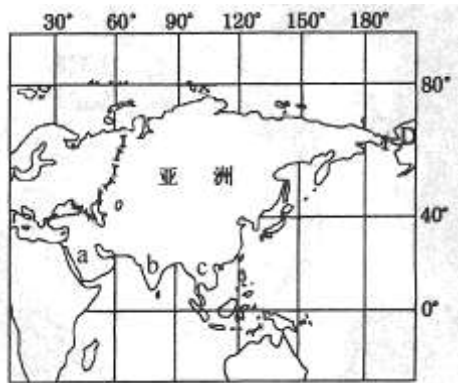
随州市 2012 年初中毕业生学业考试

文科综合试题卷

第 I 卷 选择题(共 51 分)

每题只有一个选项符合题意。1—6 题为地理题，共 9 分；7-15 题为历史题，共 18 分；16-27 题为思想品德题，共 24 分。

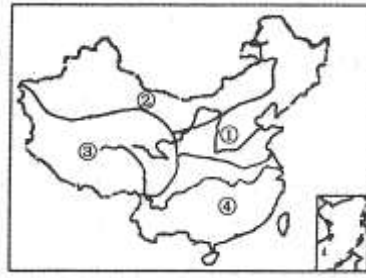
1. 读“亚洲范围略图”，判断下列说法正确的是



- A. 亚洲地形以平原为主，高原和山地面积较小
 - B. 图中 a、b、c 三处是亚洲人口最稠密的地区
 - C. 亚洲分布范围最广的气候类型是温带季风气候
 - D. 亚洲地跨热带、温带和寒带，是世界上跨纬度最广的大洲
2. 民居与当地的环境关系密切。我国南方传统民居的屋顶坡度较大，主要是为了
- A. 便于更快散热
 - B. 便于雨水下泻
 - C. 便于空气流通
 - D. 便于接受更多的阳光
3. 被太平洋、大西洋和印度洋环绕的大洲是
- A. 亚洲
 - B. 欧洲
 - C. 南极洲
 - D. 南美洲
4. 读下列我国四省(区)轮廓图，分析有关四省(区)的说法正确的是



- A. ①省(区)位于黄河中游，地处暖温带
 - B. ②省(区)气候特征是夏季炎热多雨，冬季低温少雨
 - C. ③省(区)位于非季风区，省级行政中心是哈尔滨
 - D. ④省(区)位于我国地势第三级阶梯，主要环境问题是水土流失
5. 我国四大高原中，冬季气温最高的是
- A. 云贵高原
 - B. 黄土高原
 - C. 青藏高原
 - D. 内蒙古高原
6. 下图中的数字代表我国的四大地理区域，其中农田多为旱地、以种植小麦和大豆为主、一年一熟或两年三熟的区域是



- A. ① B. ② C. ③ D. ④
7. “春秋五霸”、“战国七雄”演绎了春秋战国时期的纷争。诸侯国的出现，源于
A. 世袭制 B. 郡县制 C. 禅让制 D. 分封制
8. 唐代有人写诗说：“太宗皇帝真长策，赚得英雄尽白头！”该“长策”正式诞生于
A. 西汉 B. 隋朝 C. 唐朝 D. 北宋
9. 右图是我国十大传世名画之一。它也是一幅极具历史价值的现实主义的民俗长卷。它反映了当时哪一城市的社会风貌？
A. 北京 B. 南京
C. 西安 D. 东京
10. 明初，国子监祭酒宋讷有一天上朝，朱元璋问他为何昨晚不悦，宋讷大惊。朱元璋拿出一幅画字，正是宋讷昨晚生气表情的画像。这件事反映的实质是
A. 君权的强化 B. 君臣关系亲善
C. 君臣关系紧张 D. 大臣昼夜忙于政务
11. 穿越剧，因其许多剧情与历史事实不符，而遭到学者批评。下列情节违背史实的是
A. 秦始皇“焚书坑儒”
B. 汉武帝派张骞两次出使西域
C. 唐太宗鼓励商人用交子进行商品贸易
D. 乾隆帝隆重招待回归祖国的土尔扈特部首领渥巴锡
12. 下列战役，不是发生在国共两党第二次合作期间的是
A. 台儿庄战役 B. 百团大战
C. 渡汪战役 D. 平型关大捷
13. 1958年，“放开肚皮吃饭，鼓足干劲生产”的口号多传遍大江南北。它反映的史实是
A. 实行全行业公私合营 B. 发动大跃进运动
C. 实施“一五计划” D. 实行分田包产到户
14. “The union must and shall be preserved(联邦必须而且将会得到保留)。”这是林肯1860年参加总统竞选时的主题。他认为当时美国政府面临的首要任务是
A. 实现国家独立 B. 消除种族歧视
C. 维护国家统一 D. 实现领土扩张
15. 国家利益影响着国际关系的走向，而国际关系的变化又主导着世界格局的调整。20世纪至今世界政治格局先后经历的演变是
A. 凡尔赛—华盛顿体系——两极格局——一超多强
B. 两极格局——凡尔赛—华盛顿体系——一超多强
C. 一超多强——凡尔赛—华盛顿体系——两极格局
D. 凡尔赛—华盛顿体系——一超多强——两极格局
16. 两年来，90后的大学生刘普林寒假里既没有睡懒觉，更没有玩游戏，凌晨5点多，当大



多数市民还在酣睡之时，他就拿着扫帚、铲子和铁簸箕出现在武汉一个叫涵三宫的街道上，代替母亲开始一天的清扫工作。其孝心感动了很多，被人们称为“马路孝子”。刘普林的孝心体现在

- A. 努力为父母排忧解难 B. 努力为家庭添光增彩
C. 积极履行法定义务 D. 放弃学业，不计代价

17. 右示漫画反映的现象表明，社会上的一些人

- ①不讲诚信 ②不讲礼貌
③不讲道德 ④破坏环境

- A. ①② B. ③④
C. ①③ D. ②④



18. 右示漫画反映的事情是：医生手术开膛后让患者躺4小时等专家支援。这位医生的行为

- A. 是爱岗敬业、工作负责的表现
B. 是对公民生命健康权的漠视
C. 必须接受法律的严厉制裁
D. 说明他根本不具备行医资格



19. 下面对“稳私”理解正确的是

- A. 公民对自己的个人隐私应向任何人透露
B. 任何人不得以任何理由了解他人个人信息
C. 侵犯他人隐私权的行为，就是违法犯罪
D. 保护公民的隐私权，是道德呼唤，也是法律要求

20. 从法律意义上讲，下列行为中属于消费者“消费”行为的是

- A. 作家写书 B. 书店卖书 C. 学生买书 D. 老师教书

21. 2011年9月2日晚，中共中央总书记、国家主席、中央军委主席胡锦涛在北京观看了话剧《郭明义》，并亲切接见了剧组主创人员。胡锦涛指出，郭明义同志长期以来自觉学习、实践雷锋精神，坚持爱岗敬业、助人为乐。他不愧是新时期的道德楷模，我们都应向他学习。郭明义的事迹表明

- ①他具有强烈的社会责任感 ②他积极承担责任，赢得了社会的承认和赞誉
③承担责任只有付出，没有回报 ④实现人生价值，不应追求个人利益

- A. ①② B. ②④ C. ①③ D. ③④

22. 据海关统计，加入世界贸易组织十年来，我国进出口总值由2001年的5096.51亿美元增长至2010年的2.97万亿美元，年均增长21.6%，成为世界第一大出口国和第二大进口国。海关税收由2001年的2492.3亿元增长至2010年的12518.3亿元，是入世之初的5倍。这表明

- ①我国坚持对外开放基本国策，成绩显著 ②我国对外开放是指在经济方面的开放
③对外开放，既要“走出去”，也要“引进来” ④我国已经成为世界上的经济强国

- A. ①③ B. ②④ C. ①② D. ③④

23. 2011年11月8日是北京市区县、乡镇两级人大代表换届选举投票日。胡锦涛、吴邦国、温家宝、贾庆林、李长春、习近平、李克强、贺国强、周永康等分别在各自选区参加投票或委托他人投票，选举所在地的区级人大代表。这表明

- A. 我国各级人大代表实行直接选举 B. 公民要积极行使自己的政治权利
C. 中央领导的投票具有关键性作用 D. 中共中央是我国最高权力机关

24. 2011年11月29日，中央扶贫开发工作会议宣布，根据到2020年全面建设小康社会目标的要求，适应我国扶贫开发转入新阶段的形势，中央决定将农民人均纯收入2300元

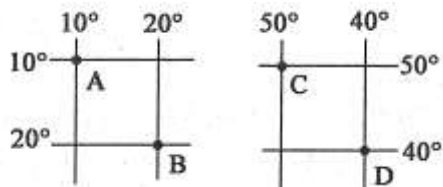
(2010年不变价)作为新的国家扶贫标准,这个标准比2009年1196元的标准提高了92%,对应的扶贫对象规模到今年年底约为1.28亿人,占农村户籍人口比例约为13.4%。这体现了

- A. 共同富裕是社会主义的根本原则 B. 我国鼓励诚实劳动和合法经营
C. 扶贫帮困是我国各项工作的中心 D. 我国实行扶贫帮困的分配制度
25. 《个体工商户条例》经2011年3月30日国务院第149次常务会议通过,自2011年11月1日起施行,该条例取消了个体工商户管理费这项举措表明
- A. 国家鼓励、支持和引导非公有制经济的发展
B. 国家进一步明确了非公有制经济的重要性
C. 国家不再对非公有制经济实行监督和管理
D. 在我国,各种所有制经济的地位和作用相同
26. 2011年10月18日,党的十七届六中全会通过了《中共中央关于深化文化体制改革、推动社会主义文化大发展大繁荣若干重大问题的决定》。发展社会主义先进文化首要的和根本的要求是
- A. 大力加强社会主义思想道德建设 B. 大力弘扬中华优秀传统文化
C. 努力实现我国人民的共同理想 D. 牢牢把握先进文化的前进方向
27. 《全国人民代表大会关于修改〈中华人民共和国刑事诉讼法〉的决定》已由中华人民共和国第十一届全国人民代表大会第五次会议于2012年3月14日通过,自2013年1月1日起施行。对此,全国人大行使的职权是
- A. 修改宪法 B. 立法权 C. 任免权 D. 监督权

第Ⅱ卷 非选择题(共69分)

28—29题为地理题,共11分;30—32题为历史题,共22分;33—36题为思想品德题,共36分。

28. (6分)读下列两幅经纬网图,回答下列问题。



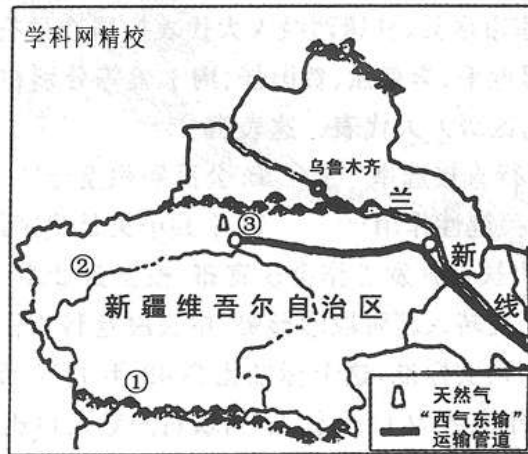
(1)写出图中A、D两点的经纬度:

A. _____ D. _____ (2分)

(2)A点位于D点的_____方向,C点位于B点的_____方向。(2分)

(3)A、B两点每年各有_____次太阳直射,C、D两点位于地球上五带中的_____。(2分)

29. (5分)读下图,结合有关材料,回答下列问题。



(1) 图中①表示的是___山脉；②表示的是我国最大的内流河—___河；③表示的是我国“西气东输”工程的起点_____。(3分)

材料：新疆降水稀少，气候干旱。在绿洲地区，人们修建坎儿井等水利设施，发展了灌溉农业。基于特有的光热条件，棉花、瓜果等特色农产品品质优良。

(2) 根据材料分析，新疆发展种植业的劣势是_____资源不足；该地区瓜果特别甜的主要原因是_____。(2分)

30. (8分) 阅读下列材料

材料一：在中国近代化探索的历程中，国人相继走过了自救之路、维新之路、共和之路。但都没有完成反帝、反封建的历史使命，探索之路任重道远。

材料二：1921年，中国共产党诞生，中国革命面貌从此焕然一新……经过艰难抉择，中国共产党终于找到了“农村包围城市，武装夺取政权”的正确革命道路，使中国逐步走向民族独立和人民解放。

材料三：20世纪的最后20多年，在世界的东方，中国进行了一场卓有成效的社会变革，解放了思想的中国人焕发出蓬勃的创造力，开创了一条走向民富国强的道路。

请回答：

(1) 材料一所述“自救之路”、“共和之路”分别指什么？(2分)

(2) 根据材料二，结合所学知识，请列举“农村包围城市，武装夺取政权”这条革命道路中的两个具有开创性意义的历史事件。(2分)

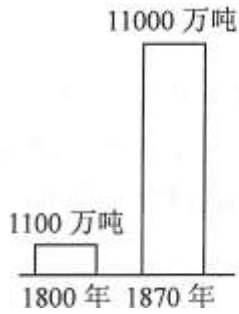
(3) 材料三所述“一场卓有成效的社会变革”是以什么历史事件为开端？中国“走向民富国强的道路”的指导思想是什么？(2分)

(4) 依据上述材料并结合所学知识谈谈你对中华民族复兴历程的认识。(至少写出两点，2分)

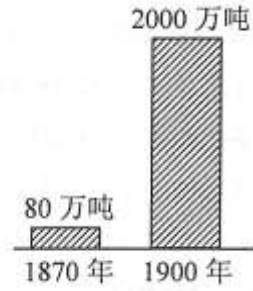
31. (6分) 阅读下列材料

材料一

材料二



1800—1870 年英国煤产量变化图



1870—1900 年世界石油产量变化图

请回答：

(1) 请分别找出与材料一、二图示所反映的变化对应的相关因素。(将字母填写到答题卡对应空白横线处，2分)

材料一：_____、_____。

材料二：_____、_____。

A. 内燃机 B. 蒸汽机 C. 第一次工业革命 D. 第二次工业革命

(2) 结合所学知识分析材料一、二反映的现象对人类生活、经济和生态环境的影响。(2分)

(3) 面对日益加剧的能源危机，你认为当前我国应大力开发哪些新能源?(至少写出两项，2分)

32. (8分) 1929年至1933年多资本主义世界爆发了空前严重的经济危机。经济危机引起了政治危机，资本主义各国社会矛盾尖锐，政局动荡，资产阶级统治者纷纷寻找出路。下面是一组反映美国和日本这两个重要的资本主义国家危机之后一段历史的图片，请认真观察图片，回答问题

二战前	二战中	二战后
 <p>田纳西水利工程中的水坝</p>	 <p>美国在长崎投下第二颗原子弹</p>	 <p>美国学生在使用计算机</p>
 <p>军国主义化的日本少年</p>	 <p>日本偷袭珍珠港示意图</p>	 <p>日本国民生产总值示意图</p>

(1) 为摆脱经济危机，美国和日本分别采取了什么对策?(2分)

(2) 在二战中，美国和日本分别属于哪个战争阵营?它们参与二战的结果怎样?(2分)

(3) 战后的五六十年代美国和日本经济都获得了持续、较快发展。请简要分析美、日经济持续、较快发展的共同原因。(回答两点即可，2分)

(4) 综合上述材料，你从美国和日本的这段历史中得到哪些启示?(从美、日两国摆脱危机的

对策、在二战中的结果和战后经济发展的原因三个方面，任选两个方面陈述启示。(2分)

33. (9分) 观察下列漫画，并回答问题。



(1) 漫画反映了什么社会问题?(2分)

(2) 针对漫画中反映的问题，各有关方面应该对未成年人实行哪些方面的保护?(5分)

(3) 我们在上网时应该遵守哪些网络规则?(2分)

34. (9分) 阅读下列材料，并回答问题。

2011年8月底以来，按照公安部的统一部署，全国公安机关集中开展了“打四黑除四害”专项行动，严厉打击制假售假、收赃销赃、涉黄涉赌的“黑作坊”、“黑工厂”、“黑市场”、“黑窝点”。公安部“打四黑除四害”官方微博今年2月2日再次公布了公安部和全国各省级公安机关“打四黑除四害”专项行动办公室举报方式，广泛征集群众对专项行动的意见和建议。

(1) 公安部“打四黑除四害”行动，主要维护了消费者的哪些合法权益?(3分)

(2) 公安部广泛征集群众对专项行动的意见和建议，有利于公民行使哪些政治权利?(2分)

(3) 概述公安部“打四黑除四害”专项行动的意义。(4分)

35. (9分) 阅读下列材料，并回答问题。学科网精校


超级稻第三期亩产900公斤攻关验收组2011年9月19日下午宣布，经专家测定，位于湖南省邵阳市隆回县羊古坳乡雷峰村百亩试验田的超级稻加权平均亩产达到926.6公斤。中国工程院院士袁隆平说，这标志着我国杂交稻技术在世界继续保持领先地位。

(1) 材料反映了我国怎样的科技现状?(2分)

(2) 联系材料谈谈科技的重要作用。(3分)

(3) 指出我国取得科技方面显著成绩的原因有哪些?(4分)

36. (9分) 观察下列漫画，并回答问题。



- (1) 漫画反映了怎样的世界性问题?(2分)
- (2) 面对漫画中反映的问题,我国必须实施什么发展战略?这个战略的要求是什么?(3分)
- (3) 针对漫画中反映的问题,我们应该怎样合理消费?(2分)并请说明这样做的作用。(2分)

随州市 2012 年初中毕业生升学考试

地理试题答案及评分标准

第 I 卷 选择题：（每题 1.5 分，共 9 分。）

1. D 2. B 3. C 4. B 5. A 6. A

第 II 卷 非选择题：（共 11 分。）

28. (6 分)

(1) A. 10° E, 10° S D. 40° W, 40° N (2 分)

(2) 东南 西北 (2 分)

(3) 两 北温带 (2 分)

29. (5 分)

(1) 昆仑 塔里木 轮南 (3 分)

(2) 水 夏季昼夜温差大，有利于糖分的积累 (2 分)

随州市 2012 年初中毕业生升学考试

历史试题答案及评分标准

第 I 卷 选择题：（每题 2 分，共 9 题 18 分。）

7. D 8. B 9. D 10. A 11. C 12. C 13. B 14. C 15. A

第 II 卷 非选择题：（共 3 题 22 分。）

30. (本题满分 8 分)

(1) 洋务运动 (1 分)、辛亥革命 (1 分)

(2) 南昌起义 (1 分)、开辟井冈山革命根据地 (1 分) (两个事件排列不分先后)

(3) 中国共产党召开十一届三中全会 (1 分) 邓小平理论 (或中国特色社会主义理论) (1 分)

(4) 中华民族的复兴，道路曲折，是无数先辈艰苦奋斗的结果；只有共产党才能救中国，才能发展中国。(言之有理即可) (2 分)

31. (本题满分 6 分)

(1) 材料一：B、C (1 分) ；材料二：A、D (1 分)

(2) 煤炭和石油的大量开采和使用，大大促进了经济发展和人们生活水平的提高；但也严重破坏了生态环境，引发资源环境问题，影响经济的可持续发展。(2 分)

(3) 水能、太阳能、风能、潮汐能等 (答 2 点，言之有理即可) (2 分)

32. (本题满分 8 分)

(1) 美国：实施罗斯福新政，通过改革逐渐摆脱危机 (1 分)

日本：走上法西斯专政道路，妄图通过对外侵略扩张摆脱困境 (1 分)

(2) 美国：属于反法西斯联盟阵营；日本：属于法西斯轴心国阵营 (1 分)

美国成为战胜国，日本成为战败国 (1 分)

(3) 政府政策调整；新科技的运用；对教育的重视等等 (答 2 点，言之有理即可) (2 分)

(4) 一. 面临危机，要用积极的态度，科学的、和平的方法去解决危机；用损人的、

- 战争的方法去摆脱危机，终究是害人害己。
- 二. 法西斯是人类共同的敌人。
- 三. 恰当的政策调整有利于社会的发展；发展科技与教育是强国兴邦的必由之路。
- (学生作答必须涉及两个方面。言之有理即可)(2分)

随州市 2012 年初中毕业生升学考试

思想品德试题答案及评分标准

第 I 卷 选择题：(每题 2 分，共 12 题 24 分。)

16.A. 17.C. 18.B. 19.D 20.C. 21.A. 22.A. 23.B. 24.A. 25.A. 26.D. 27.B.

第 II 卷 非选择题：(共 36 分。)

33. (共 9 分)

- (1)社会上一些青少年沉溺于网络并利用网络从事违背道德和法律的事情。(2分)
- (2)未成年人要学会自我保护，各有关方面要对未成年人实行家庭保护、学校保护、社会保护和司法保护。(5分)
- (3)①要遵守道德；②更要遵守法律。(2分)

34. (共 9 分)

- (1)安全权、知情权、公平交易权。(3分)
- (2)建议权(批评权)和监督权。(2分)
- (3)①有利于维护消费者合法权益；②有利于保障人民群众生命健康和安全；③有利于维护我国社会主义市场经济秩序，促进经济健康发展；④有利于打击违法犯罪行为，落实依法治国方略；⑤有利于社会安定、构建社会主义和谐社会。⑥有利于维护合法经营企业的权益，营造公平竞争环境。(每点 1 分，任选其中 4 点即可得满分，共 4 分；如有其它合理答案，可酌情给分)

35. (共 9 分)

- (1)在尖端技术的掌握和创新方面，我国已经建立起坚实的基础，在一些重要领域已走在世界的前列。(2分)
- (2)当今世界，科学技术日益渗透到经济发展、社会进步和人类生活的各个领域，成为生产力中最活跃的因素。科学技术是第一生产力。(3分，如有其它合理答案可酌情给分)
- (3)①开辟了中国特色社会主义道路，形成了中国特色社会主义理论体系；②是社会主义优越性的体现；③是我国实施科教兴国战略和人才强国战略的结果；④是广大科技人员艰苦奋斗、开拓创新、合力攻关的结果。(每点 1 分，共 4 分，如有其它合理答案可酌情给分)

36. (共 9 分)

- (1)全球废气排放十分严重，生态环境受到污染和破坏。(2分)
- (2)实施可持续发展战略；可持续发展战略要求人类与自然和谐共处，认识到自己对自然、社会和子孙后代应负的责任。(3分)
- (3)①在消费的过程中，我们应该用环保的眼光(要求)去选购(使用)商品；(实

行绿色消费) (括号内为替代性答案, 2分; 如有其它合理答案可酌情给分)

②这样做既有利于自己的身心健康, 又有利于社会的可持续发展。(2分; 如有其它合理答案可酌情给分)