

2013 年天津市初中学业考查试卷

地 理

第 1 卷

地球仪是地球的模型，在地球仪上可以确定位置，观察世界海陆分布，估算海陆面积比例等。回答 1~3 题。

1. 下列表述，能够最科学且直观地证明地球是个球体的是


- A. 站得越高看得越远
- B. 太阳每天东升西落
- C. 河流的水总是从高处流往低处
- D. 宇航员在太空拍摄的地球照片



2. 对于地球仪上 A、B 两点的描述，正确的是

- A. A 位于南半球
- B. B 位于北半球
- C. A 位于低纬度
- D. B 位于高纬度

3. 下图中能够正确表示全球海陆面积比例的是



地图是地理学习的重要工具，正确选择和使用地图，可以方便我们的生活。读下面四幅图，回答 4—5 题。



4. 天津塘沽的小韩要到武汉开会，所用地图选择正确的是

- A. 用甲图设计线路
- B. 用乙图查找宾馆
- C. 用丙图识别天气
- D. 用丁图了解景点

5. 若上述四幅地图图幅相同，则比例尺最大的是

- A. 甲
- B. 乙
- C. 丙
- D. 丁

读右图，回答 6~8 题。

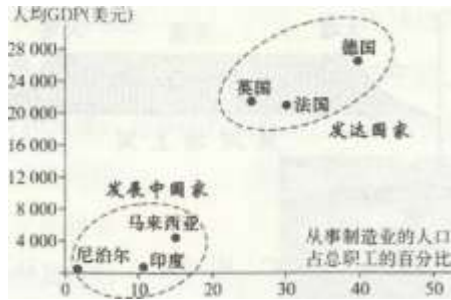
6. 俄罗斯的首都是

- A. 莫斯科
- B. 摩尔曼斯克



- C. 新西伯利亚
 - D. 圣彼得堡
7. 俄罗斯重工业发达，主要原因是
- A. 地势开阔平坦
 - B. 矿产资源丰富
 - C. 地处高纬地区
 - D. 国土地域辽阔
8. 俄罗斯河流通航时间短的主要原因是
- A. 含沙量大
 - B. 封冻期长
 - C. 河道狭窄
 - D. 水量很小

读不同类型国家人均 GDP 与从事制造业的人口比例关系图，回答第 9 题。

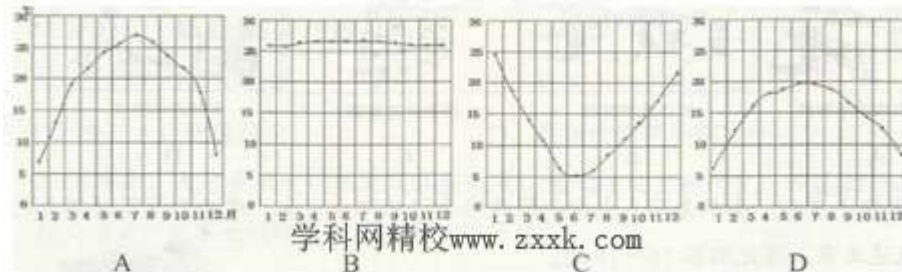


9. 图中信息显示发达国家与发展中国家的差异是
- A. 发达国家人均 GDP 低
 - B. 发展中国家人均 GDP 高
 - C. 发展中国家从事制造业的人口比例低
 - D. 发达国家从事制造业的人口比例低


读某热带雨林地区气温和降水资料，回答 10—11 题。

时间 (月)	1	2	3	4	5	6	7	8	9	10	11	12
气温 (°C)	25.7	26.3	26.8	27.1	27.4	27.3	27.0	26.9	26.8	26.7	26.2	25.7
降水 (mm)	250	90	200	195	180	170	165	190	185	200	250	265

10. 四位同学根据表中数据分别绘制了该地的气温年变化曲线图，其中正确的是



- 11 能够反映上述气候特点的传统民居是



读黄河及黄河“地上河”示意图，回答 12~13 题。



12. 右图所示景观，主要位于黄河的
 A. 甲河段 B. 乙河段 C. 丙河段 D. 丁河段
13. 治理黄河“地上河”的根本措施在于
 A. 上游修建水库 B. 下游加固大堤
 C. 中游水土保持 D. 上游植树造林

某大学生骑自行车进行了如下图所示线路的旅行。读图回答 14~15 题。

14. 该同学旅行的目的地位于我国的
 A. 北方地区
 B. 南方地区
 C. 西北地区
 D. 青藏地区



15. 该同学骑行至呼和浩特时，看到体现当地风俗习惯的活动是



2013 年 3 月初，参加全国人大和全国政协会议的部分代表，乘坐全线贯通不久的京广高铁抵达北京。据此回答 16~19 题。

16. 在北京召开“两会”，体现出的北京的城市职能是
 A. 工业中心 B. 金融中心
 C. 贸易中心 D. 政治中心
17. 京广高铁经过的甲省区的简称和省级行政中心分别是
 A. 鄂、合肥 B. 豫、郑州
 C. 湘、长沙 D. 赣、南昌



18. 京广高铁连接的我国两大工业基地分别是
 A. 京津唐、沪宁杭基地 B. 京津唐、珠江三角洲基地
 C. 辽中南、京津唐基地 D. 沪宁杭、珠江三角洲基地
19. 随着城市建设和发展，北京的四合院和广州的骑楼应该

- A. 全部拆除建造新楼
 B. 异地重建发展旅游
 C. 保持原貌任其破旧
 D. 精心管理修缮保护



了解家乡变化，关注家乡发展，期待家乡明天更美好……

20. 从不同时期天津城区示意图可以看出

- A. 天津气候日趋变暖
 B. 天津城区不断扩人
 C. 天津人口迅速增长
 D. 天津工业加快发展



天津人口按年龄分组的比重变化(单位：%)

	1964年	1990年	2010年
0~14岁	43.12	22.71	9.80
65岁及以上	4.09	6.46	8.52

21. 天津近几十年人口变化的特点是

- A. 老龄人口增长明显 B. 外来人口不断减少
 C. 少儿人口比重稳定 D. 性别比例差异较大

2013年初，天津多次大范围出现雾霾天气，空气污染空前严重。回答22~23题。

22. 与天津某日浓雾天气现象对应的天气符号是



23. 下列做法不利于减轻雾霾影响的是()

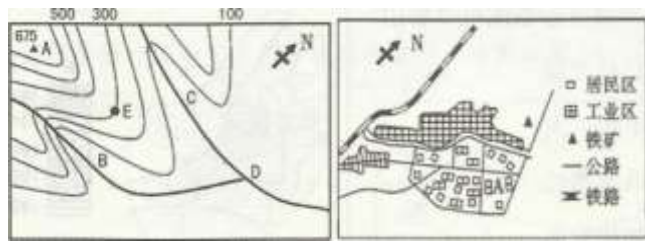
- A. 少开私家车出行 B. 春节期间多放鞭炮
 C. 清明节不烧纸钱 D. 建筑工地洒水降尘

2013年天津市初中学业考查试卷

地理

第11卷

24. (10分)读某区域地形图和该区域开发形成的城市示意图，回答下列问题。



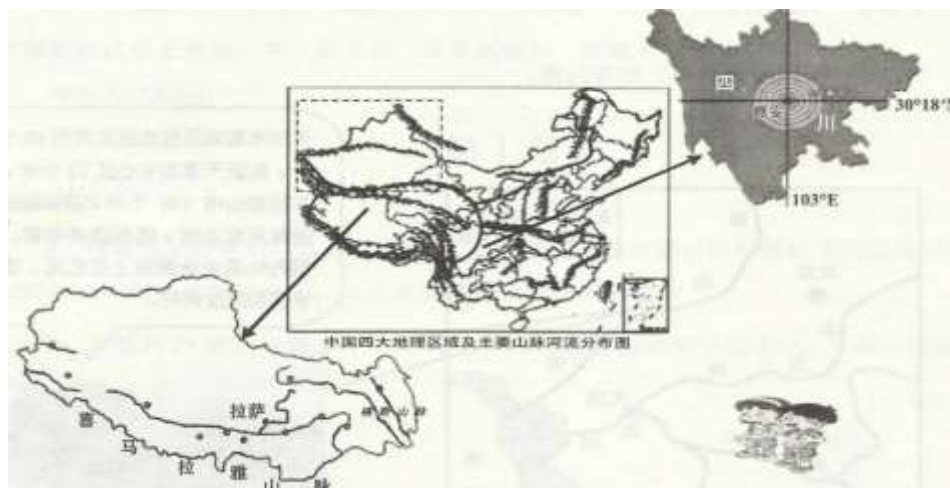
- (1) B、C 两条河流在山区流速较快的是_____河。(2分)
- (2) 山峰 A 与 E 点的海拔相差_____米。(2分)
- (3) 右图所示城市最有可能是左图 B、C、D 三地中的_____地发展起来的，原因是_____。(4分)
- (4) 城市中铁路的延伸方向是_____。(2分)

25. (14分) 读图文资料完成下列问题。



- (1) 科考船从天津港启程，向南航行至地理位置十分重要的东南亚，该地区联系了亚洲和_____洲，沟通了太平洋和_____洋。(4分)
- (2) 航船停靠在澳大利亚的弗里曼特尔港进行补给时，考察队员可以看到的植被类型是_____。澳大利亚农业发达，图中P地适宜发展_____业。(4分)
- (3) 科考船途经乌斯怀亚港，该地所在的南美洲原始森林遭到严重破坏，带来的后果有_____、_____。(4分)
- (4) 科考队在南极考察中遇到的困难有_____。(2分)

26. (18分) 读下列组图，回答问题。



(1) 读中国四大地理区域及主要山脉河流分布图，观察虚线内新疆的地形特征，画出新疆地形示意简图。写出我国东北—西南走向山脉中最东面一列的名称：_____。(4分)

(2) 新疆的面积为 160 多万平方千米，约占我国陆地面积的() (2分)

A. 1/6 B. 3/4 C. 1/2 D. 2/3

(3) 左下角示意图显示，西藏自治区的城镇多沿_____分布，这些城镇位于我国地势的第_____级阶梯上。(4分)

(4) 新疆和西藏最突出的区域自然特征分别是_____、_____。(4分)

(5) 2013 年 4 月 20 日 8 时 02 分，四川省雅安市芦山县发生了 7.0 级地震。读右上角图，写出雅安经纬度位置：_____。天津为灾区提供的药品和急救设备等物资迅速运往四川使用的运输工具是() (4分)



27. (12分) 阅读图文材料，回答问题。()



(1) 左图所示河流属于_____水系，该河流向东注入_____海。(4分)

(2) 据图写出天津滨海新区发展可以利用当地的可再生资源有_____，非可再生资源有_____。(4分)

(3) 天津市宝坻区发展度假旅游的条件得天独厚，请根据资料列举两条。

_____、_____。(4分)

地理参考答案及评分标准

第1卷共23题，每题2分，共46分。

1. D 2. C 3. C 4. D 5. D 6. A 7. B 8. B 9. C 10. B
11. D 12. D 13. C 14. C 15. B 16. D 17. C 18. B 19. D 20. B
21. A 22. C 23. B

第11卷共4题，共54分。

24. (10分)

(1) B (2分)

(2) 375 (2分)

(3) D (2分) 地形平坦(水源充足、河流交汇处、交通便利) 答出一点即可得分(2分)

(4) 南北方向(2分) (南方或北方，向南或向北) (1)

25. (14分)

(1) 大洋(2分) 印度(2分)


(2) 距热带常绿硬叶林(2分) 畜牧(养羊、牛) 答出一点即可得分(2分)

(3) 水土流失 气候变化(土壤肥力下降、野生动物失去栖息地等) 答出两点即可得分(每点2分共4分)

(4) 酷寒(暴雪、烈风) 答出一点即可得分(2分)

26. (1) (18分)

(1)



(绘图如上图所示，2分) 台湾山脉(2分)

(2) A(2分)

(3) 河流(2分) 一(I)(2分)

(4) 干旱(2分) 高寒(2分)

(5) $30^{\circ} 18' N$ 、 $103^{\circ} E$ (2分) D (2分)

27. (12分)

(1)、海河(2分) 渤(2分)

(2) 滩涂(2分) 石油(天然气、海盐) 答出一点即可得分(2分)

(3) 地热温泉资源丰富 交通便利(距离津京唐近)

答出两点即可得分(每点2分共4分)