

2010年咸宁中考思想品德、历史、地理试题及答案

考生注意：

- 1.本试卷分试题卷（共6页）和答题卷；全卷44小题，满分125分（其中思想品德50分，历史50分，地理25分）；考试时间110分钟。
- 2.考生答题前，请将自己的学校、姓名、准考证号填写在试题卷和答题卷指定的位置，同时认真阅读答题卷上的注意事项。考生答题时，请按照题号顺序在答题卷上各题目的答题区域内作答，写在试题卷上无效。

试 题 卷

一、选择题：本大题共32小题，第1—8题（思想品德）每小题3分，第9—20题（历史）每小题2分，第21—32题（地理）每小题1分，共60分。在每小题列出的四个选项中，只有一项是最符合题目要求的。

1.新世纪以来指导“三农”工作的第7个中央一号文件2010年1月31日由新华社授权发布。这个题为《中共中央、国务院关于加大_____力度,进一步夯实农业农村发展基础的若干意见》的文件推出了一系列含金量高的强农惠农新政策,强力推动资源要素向农村配置是其最大亮点。

- A.统筹城乡发展 B.统筹区域发展 C.统筹经济社会发展 D.统筹人与自然和谐发展

2.为了进一步扩大咸宁温泉文化和温泉旅游产品的知名度和影响力,唱响“世界一流、中国最好”温泉品牌,打造“_____”,咸宁市于2009年11月6日至9日举办中国·咸宁首届国际温泉文化旅游节。这是一个以“温泉文化旅游”为主题,高品位、高层次、特色性、国际性的大型节会。

- A.中国温泉之乡 B.中国温泉之都 C.温泉旅游之都 D.温泉休闲之都

3.“生气是拿别人的错误来惩罚自己”这句话提醒同学们:当自己要愤怒的时候,最好是让自己冷静下来,仔细想想,权衡利弊,别让自己受到不良情绪的伤害。这里所谈控制情绪的方法是

- A.理智控制法 B.合理发泄法 C.注意转移法 D.他人帮助法

4.2009年8月起,公安部在全国范围内严厉整治“酒后驾驶行为”。在为期两个月的专项行动中,对酒后驾驶行为,一律按国家制定颁布的《道路交通安全法》规定的上限进行处罚。公安部在全国范围内开展此项执法专项行动说明了我国的法律具有如下特征:①由国家制定或认可;②靠国家强制力保证实施;③对全体社会成员具有普遍约束力;④依靠社会舆论、习惯、信念的力量调节。

- A.①②④ B.①②③ C.①③④ D.②③④

5.2010年5月,我们迎来了举世瞩目的上海世博会,上海世博会不仅仅是中国文化展示的舞台,也是全世界各国文化交流的平台。来自各大洲的参展国家和世界组织带来的各具风情的文化表演节目,将世博会变成一场全球文化交融的盛宴。面对不同文化,我们不正确的态度是

- A.客观、平等地对待 B.尊重因文化不同而导致的行为方式的差异
C.善于学习其他文化的优点、长处 D.只宣传弘扬本民族文化,绝不接受外来文化

6.龟兔赛跑新传:陆地上,兔子驮着乌龟跑,很快到了河边;到了河里,乌龟驮着兔子游,很快到了对岸。结果龟兔同时到达终点。新龟兔赛跑的故事给我们的启示是

- A.竞争就是通过各种方式压倒对手 B.竞争与合作是水火不容的关系
C.良好的合作能创造竞争中的双赢 D.现代社会充满竞争,我们只需要锤炼竞争本领

7.2010年3月14日,国务院总理温家宝在答中外记者问时说:“公平正义比太阳还要光辉……中国的现代化不仅仅指经济的发达,它还应该包括社会的公平、正义和道德的力量。”温家宝总理之所以这样说,是因为

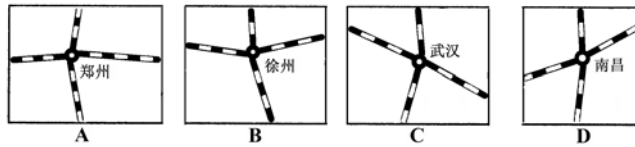
- A.公平正义是社会主义的根本原则和目的 B.维护公平正义是国家的根本任务
C.社会的稳定和发展需要公平正义 D.实现公平正义就能满足人们的各种需要

8.2009年12月19日,有192个国家领导人出席的哥本哈根气候变化会议在经历了复杂曲折的协

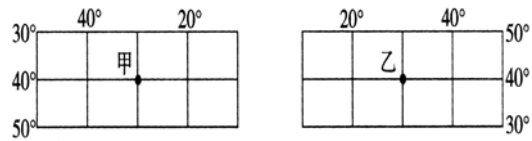
商后,取得了重大积极成果,发表了《哥本哈根协议》。从12月16日至12月18日,中国总理温家宝在出席哥本哈根气候变化会议的近60个小时内,与有关国家领导人展开了密集的会谈和协商,力推谈判进程不断向前。在巴西总统卢拉提议和美国总统奥巴马的参与下,中国、美国、巴西、印度和南非领导人推动了《哥本哈根协议》的达成。这表明

- A.中国坚持独立自主的外交政策
 - B.中国已经是世界上最发达的国家之一
 - C.世界各国都愿意在节能减排方面作出同样的努力
 - D.中国的国际地位日益提高,在国际舞台上发挥着越来越重要的作用
- 9.曹操军队以少胜多、大败袁绍军队的官渡之战发生于哪一年?
A.200年 B.208年 C.220年 D.222年
- 10.吐蕃人是我哪一少数民族的祖先?
A.维吾尔族 B.藏族 C.彝族 D.白族
- 11.被外国学者称为“中国17世纪的工艺百科全书”的《天工开物》的作者是
A.贾思勰 B.李时珍 C.宋应星 D.徐光启
- 12.1875年,清政府任命谁为钦差大臣、督办新疆军务?
A.曾国藩 B.李鸿章 C.左宗棠 D.张之洞
- 13.1918年底,李大钊等在北京创办了
A.《中外纪闻》 B.《民报》 C.《新青年》 D.《每周评论》
- 14.为了抗美援朝、保家卫国,以彭德怀为司令员的中国人民志愿军开赴朝鲜作战是在哪一年?
A.1949年 B.1950年 C.1954年 D.1955年
- 15.1957年,一座连接了南北交通的长江大桥在什么地方建成?
A.武汉 B.沈阳 C.长春 D.鞍山
- 16.1999年,我国成功发射的第一艘无人飞船的名称是
A.长征号 B.东方红1号 C.神舟一号 D.嫦娥一号
- 17.公元前5世纪后半期,谁当政期间雅典达到全盛?
A.汉谟拉比 B.伯利克里 C.凯撒 D.屋大维
- 18.在全世界广泛传唱的《国际歌》的作词者是
A.马克思 B.恩格斯 C.狄盖特 D.欧仁·鲍狄埃
- 19.1922年底,苏维埃社会主义共和国联盟成立,当时加入苏联的有哪几个加盟共和国?
①俄罗斯联邦 ②外高加索联邦 ③乌克兰 ④白俄罗斯
A.①②③ B.①②④ C.①③④ D.①②③④
- 20.下列绘画作品中,哪一幅是西班牙著名画家毕加索创作的?
A.《最后的晚餐》 B.《向日葵》 C.《格尔尼卡》 D.《记忆的永恒》
- 21.咸宁市面积约9861平方千米,人口约290.63万(2009年)。由此可见咸宁市
A.人口密度小,应提倡多生优育 B.人口密度大,应严格实行计划生育
C.人口密度大,应禁止外来人口迁入 D.人口密度适中,应实行优生优育
- 22.下列关于我国地理事物分布特点的叙述,错误的是
A.民族分布:大杂居,小聚居 B.高新技术产业分布:大集中、小分散
C.水资源:南丰北缺 D.林地分布:西北多,东北少
- 23.下列诗句描写北方地区的是
A.旱地麦浪泛金黄 B.大漠黄沙驼铃响 C.四季有花常见雨 D.青稞美酒锅庄舞
- 24.新疆瓜果特别甜的原因是
A.夏季昼夜温差大 B.夏季高温,日照强烈

- C.土壤肥沃，地下水丰富
D.品种优良，栽培技术独特
- 25.在西双版纳旅游，欣赏不到的景观是
A.望天树、板状根、高山榕等热带植物
B.亚洲象、绿孔雀、长尾猿等热带动物
C.故宫、长城、颐和园等世界文化遗产
D.泼水节、孔雀舞、竹筒饭等傣族风情
- 26.造成黄土高原水土流失严重的人为因素主要是
A.陡坡退耕，还林还草
B.开垦、采矿、修路等活动破坏了地表植被
C.黄土结构疏松，易溶于水
D.降水集中，多暴雨
- 27.武汉的小强五一假期去上海观看了世博会。他对上海的下列介绍，错误的是
A.在武汉乘船顺江而下，可直达上海，依次经过了鄂、赣、皖、苏、沪五省市
B.上海阴雨绵绵，正处于黄梅季节
C.上海虽然煤炭、铁矿石等自然资源缺乏，但却是我国重要的钢铁、汽车工业基地
D.上海不仅对长江三角洲、而且对整个长江流域乃至全国，都具有辐射带动作用
- 28.下列四幅铁路枢纽图中，属于京广线与陇海线铁路相交的是

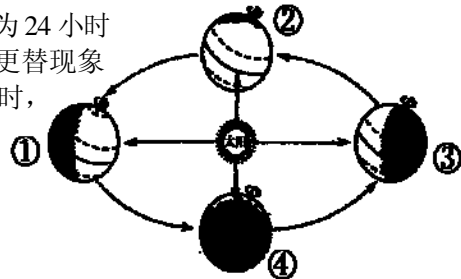


- 29.东、西半球的分界线是
A.本初子午线
B.20°W 和 160°E
C.赤道
D.0°经线和 180°经线
- 30.下列关于经纬网图中甲、乙两地位置的叙述，正确的是
A.甲、乙两地在同一条经线上
B.甲、乙两地在同一条纬线上
C.甲地位于乙地的西南方
D.乙地位于甲地的正东方



- 31.下列关于地球自转的叙述，不正确的是
A.自转的方向是自西向东
B.自转的周期约为 24 小时
C.地球绕着地轴不停地旋转
D.自转产生四季更替现象

32.右边“地球公转示意图”中，地球公转到哪处时，北半球的白昼最短黑夜最长？



- A.①处
B.②处
C.③处
D.④处

二、非选择题：本大题共 12 小题，（思想品德）第 33 题 4 分，第 34 题 5 分，第 35 题 6 分，第 36 题 4 分，第 37 题 7 分；（历史）第 38 题 6 分，第 39 题 4 分，第 40 题 4 分，第 41 题 6 分，第 42 题 6 分；（地理）第 43 题 6 分，第 44 题 7 分；共 65 分。

33.现任中国残联主席张海迪，幼年因为一场严重的疾病导致胸部以下失去知觉，形成高位截瘫，1991 年又做了癌症手术。在残酷的命运面前，她没有沮丧、沉沦。她没有上过一天学，却以惊人的毅力自学完中小学和大学的课程，还通过函授获得硕士学位。她还自学英语、日语、德语和世界语，翻译了大量的小说和资料。至今，她仍然在顽强地同病魔抗争，为社会作贡献。

阅读以上材料，运用七年级《思想品德》（下册）知识回答：

- (1) 张海迪的人生道路给了我们哪些启示？（2 分）
(2) “向张海迪学习”如何落实在我们的实际行动中？（2 分）

34.材料一：在商店售货员推荐下，小杰买了一部价格不菲的 Mp3，使用不到一天就发现有严重的质量问题。小杰去退换时，商家却坚持“货物售出，概不退换”。

材料二：“清仓处理，两折销售”、“亏本甩卖，一律半价”、“原价 100 元，现在 40 元”，每当看到这些促销标语，小莉就心动不已。

阅读以上材料，运用八年级《思想品德》（下册）知识回答：

(1) 在消费活动中,小杰的什么权利受到了侵犯?(1分)他应该通过怎样的途径维护自己的合法权益?(2分)

(2) 面对形形色色的促销,小莉该怎么做?(2分)

35.2009年7月8日晚,中共中央政治局常委召开会议,研究部署维护新疆社会稳定工作。会议强调要高举各民族大团结旗帜,大力发扬新疆各族干部群众同呼吸、共命运、心连心的优良传统,牢固树立汉族离不开少数民族,少数民族离不开汉族,各少数民族之间也相互离不开的思想,引导各族干部群众倍加珍惜各民族共同团结奋斗,共同繁荣发展的的大好局面。

阅读上述材料,运用九年级《思想品德》的有关知识回答:

(1) 材料体现了我国一贯坚持什么原则处理民族关系?(1分)

(2) 形成各民族共同团结奋斗,共同繁荣发展的的大好局面的根本原因是什么?(2分)

(3) 维护民族团结既是国家的事,也是我们应尽的责任和义务,履行这一责任和义务,我们应该怎样做?(3分)

36.从2010年3月23日到4月30日,不到40天的时间内我国部分地区连续发生了5起校园血案。针对频繁发生的校园安全事件,中央政治局常委、中央政法委书记周永康在全国综治维稳工作电视电话会议上,强调维护学校、幼儿园安全,党政一把手要负总责,亲自抓。他语重心长地说:“社会安全最重要的是人身安全,最让人牵挂揪心的是孩子安全。”国务委员、公安部部长孟建柱斩钉截铁地说:要严打严防,打得犯罪分子不敢对孩子下手,防得犯罪分子不能对孩子下手。

阅读以上材料,运用七年级《思想品德》(上册)的有关知识回答:

(1) 为什么说“最让人牵挂揪心的是孩子安全”?(2分)

(2) 怎样做到“防得犯罪分子不能对孩子下手”?(2分)

37.阅读下列名言:

(1) 独学而无友,则孤陋而寡闻。(选自《礼记》)

(2) 友谊需要忠诚去播种,热情去灌溉,原则去培养,谅解去护理。(马克思)

(3) 与善人居,如入芝兰之室,久而不闻其香,即与之化矣。与不善人居,如入鲍鱼之肆,久而不闻其臭,亦与之化矣。(中国古代谚语)

体会上述名言的涵意,结合八年级《思想品德》(上册)的有关知识,以《与友同行》为题,写一篇政治小论文。(7分)

要求:(1)紧扣材料;(2)观点正确;(3)联系实际;(4)语句通顺;(5)字数在300字左右。

38.阅读下列材料:

材料一:林大人缴获鸦片后不肯作罢,随即上演了中国近现代史上最激动人心的一幕,即人民英雄纪念碑上第一幅浮雕——虎门销烟,这一举动可谓大快人心。

——《袁腾飞说中国史》(下)

材料二:英国舰队到广东海面挑衅,鸦片战争爆发。……1842年,英舰到达南京长江下关江面,清廷派人求和,鸦片战争结束。

——《无敌初中历史年表》

请回答:

(1) 根据材料一,结合所学知识,说说民族英雄林则徐领导的虎门销烟有什么意义?(2分)

(2) 根据材料二,结合所学知识,说说鸦片战争爆发于哪一年?(1分)1842年,英国侵略者强迫清政府签订了哪一个丧权辱国的条约?(1分)为什么说鸦片战争是中国近代史的开端?(2分)

39.阅读下列材料:

材料一:1640年,议会重新召开,资产阶级和新贵族要求限制王权,掀开了英国资产阶级革命的序幕。

——《无敌初中历史年表》

材料二:1775年4月,一支企图突袭民兵军火库的英军在波士顿附近……同民兵交火。从此,北美殖民地人民争取独立的战争开始了。

——《世界历史》九年级上册

请回答:

(1) 根据材料一,结合所学知识,说说1649年英国成立了什么形式的国家政权?(1分)

为了限制国王的权利，1689年英国议会通过了什么法案？（1分）

（2）根据材料二，结合所学知识，说说一支企图突袭民兵军火库的英军在波士顿附近的什么地方同民兵交火？（1分）1776年7月4日大陆会议发表的什么宣言宣告北美13个殖民地脱离英国独立？（1分）

40.儒家思想是中国传统文化的主流思想。春秋晚期儒家学派创始人孔子的“爱人”主张主要是什么内容？（2分）战国时期儒家代表人物孟子要求统治者怎样治国？（2分）

41.20世纪八九十年代以来，世界经济全球化趋势加速发展，经济全球化的影响是什么？（6分）

42.阅读下列材料：

材料一：1851年5月1日，伦敦。一座由钢铁和玻璃构筑的水晶宫，成为世博会的历史起点。……从埃菲尔铁塔到自由女神像，从蒸汽机到电话，从高铁到机器人……一个半世纪以来，无数奠基现代文明的建筑，无数改变人类进程的发明，从世博会走向世界。

——《引领人类文明的航程——世博会159年的历史节点》

材料二：展示中国发展新貌，荟萃世界文明精华。举世瞩目的中国2010年上海世界博览会开幕式30日晚在上海世博文化中心隆重举行，国家主席胡锦涛出席开幕式并宣布上海世博会开幕。

——新华网上海4月30日电

材料三：在世博会湖北馆，我市将通过45秒的宣传片和5秒的片花，集中式、全方位地宣传城市形象和旅游产业，以“三国赤壁故地·中国温泉之都”为主题，呈现我市城市建设面貌和……自然风光。

——《世博会，展示咸宁的又一次机遇》

探究下列问题：

（1）根据材料一，结合所学知识，说说1785年以后瓦特改进的蒸汽机首先在哪一工业部门投入使用？（1分）谁在1885年试制汽车成功？（1分）

（2）根据材料二，结合所学知识，说说1984年我国开放广州、上海等14个沿海城市后，在上海设立了什么开发区？（1分）2001年10月在上海举行了什么国际组织的领导人非正式会议及相关会议？（1分）

（3）根据材料一、材料二和材料三，结合你所了解的课外知识，说出经过咸宁市所辖地域的高速铁路的名称是什么？（1分）2010年上海世博会的主题是什么？（1分）

43.读右边“某小城的等高线地形图”，完成下列问题。（6分）

（1）图中最高点的海拔至少在____米以上。字母E所代表的地形类型是____。（2分）

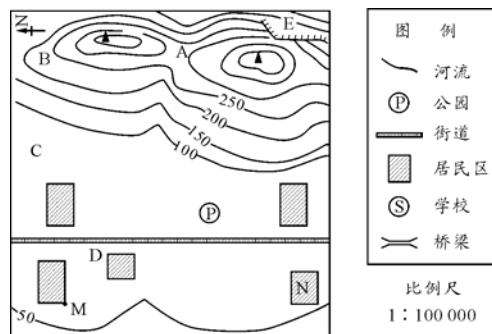
（2）图中A、B、C、D四地中，最适宜发展蔬菜种植业的是____地。（1分）

（3）M地的某人想去公园游玩，他从图上量得两地的距离为2厘米，那么两地的实地距离是____千米。（1分）

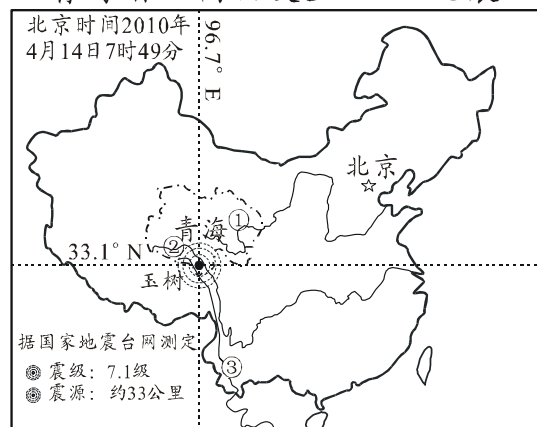
（4）运用所给图例，在图中相应的位置绘出未标注的下列地理事物：（2分）

①学校：位于公园的西南方、N居民区的东北方、临街西；

②河流和桥梁：在图中绘出一条自东向西、穿城而过、较直的河流；在河流与街道相交处标出桥梁。



青海省玉树县发生7.1级地震



44.读右边“青海省玉树地震图”，完成下列各题。（7分）

(1) 青海省的省级行政中心是___市。（1分）

(2) 玉树地区在地球的五带中属于_____带；位于_____（地形区）。（2分）

(3) 玉树地区是我国长江、黄河、澜沧江的发源地。图中表示长江的是__（填序号）。长江上游地区主要的生态问题是_____。（2分）

(4) 结合所学地理知识，本着发挥地区优势的原则，请你为玉树地区的灾后重建工作提两条合理化建议。（2分）

湖北省咸宁市 2010 年初中学业考试 思想品德、历史、地理试题参考答案及评分说明

一、选择题：本大题共 32 小题，第 1—8 题（思想品德）每小题 3 分，第 9—20 题（历史）每小题 2 分，第 21—32 题（地理）每小题 1 分，共 60 分。

小题号	1	2	3	4	5	6	7	8	9	10	11	12	13	14	15	16
答案字母	A	B	A	B	D	C	C	D	A	B	C	C	D	B	A	C
小题号	17	18	19	20	21	22	23	24	25	26	27	28	29	30	31	32
答案字母	B	D	D	C	B	D	A	A	C	B	B	A	B	C	D	C

二、非选择题：本大题共 12 小题，（思想品德）第 33 题 4 分，第 34 题 5 分，第 35 题 6 分，第 36 题 4 分，第 37 题 7 分；（历史）第 38 题 6 分，第 39 题 4 分，第 40 题 4 分，第 41 题 6 分，第 42 题 6 分；（地理）第 43 题 6 分，第 44 题 7 分；共 65 分。

33. (1) ①挫折也有积极意义，有利于人们磨练意志，增长才干和智慧；②战胜挫折需要坚强的意志；③自强是人生进取的动力，是通向成功的阶梯。（答出 2 点即可得满分 2 分）

(2) 答案示例：①在困难面前不低头，不丧气；②自尊自爱，不卑不亢；③坚持正确的目标，抵制各种不良影响；④正视自己的弱点，不沮丧，不自卑；⑤在遇到难题时，多方面想办法。（联系生活实际言之有理，答出两点即可得满分 2 分）

34. (1) ①公平交易权、知情权。（答出 1 个即可得满分 1 分） ②a.与经营者协商和解；b.请求消费者协会调解；c.向有关行政部门申诉；d.提请仲裁机构仲裁；e.向人民法院起诉。（答出 2 点即可得满分 2 分）

(2) ①练就一双“慧眼”，即增强自己的判断能力与选择能力；②主动学习和掌握有关消费的知识；③掌握有关消费者权益保护的知识。（答出 2 点即可得满分 2 分）

35. (1) 民族平等、团结和共同繁荣。（1分）

(2) 开辟了中国特色社会主义道路，形成了中国特色社会主义理论体系。（2分）

(3) ①尊重各民族的宗教信仰；②尊重各民族的风俗习惯；③尊重各民族的语言文字。（每点 1 分，共 3 分）

36. (1) ①青少年是国家的未来，民族的希望，党和国家历来重视对青少年的保护；②青少年身心尚未成熟，社会经验不足，在社会生活中处于被动地位；③社会生活环境复杂，损害青少年身心健康的现象时有发生。（答出 2 点即可得满分 2 分）

(2) 答案示例：①完善门卫制度，加强校门保卫；②加强校内巡逻和安全检查；③在校园周边设立警务室或治安岗亭；④配备专业的学校保安队伍。（言之有理，答出2点即可得满分2分）。

37. (1) 观点正确，语句通顺，文字表达清楚，即可得基本分4分；
(2) 能联系实际，有一定创新，可酌情加分；
(3) 最高分不超过6分。

38. (1) 意义：虎门销烟是中国人民禁烟斗争的伟大胜利，显示了中华民族反对外来侵略的坚强意志。(2分)

(2) 1840年。(1分) 中英《南京条约》(或：《南京条约》)。(1分) 鸦片战争以后，中国开始从封建社会逐步沦为半殖民地半封建社会，所以说鸦片战争是中国近代史的开端。(2分)

39. (1) 共和国。(1分) 《权利法案》。(1分)
(2) 来克星顿。(1分) 《独立宣言》。(1分)

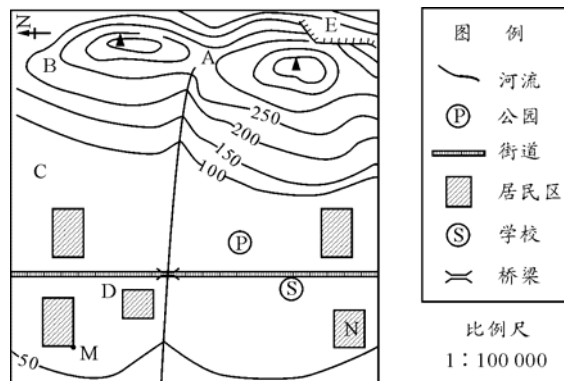
40. 孔子主张“爱人”，要求统治者体察民情，爱惜民力，“为政以德”。(2分) 孟子要求统治者用“仁政”治国，轻徭薄赋。(2分)

41. 影响：经济全球化过程中，国家间经济往来的障碍逐步减少，企业可以越来越多地根据自己的需要在世界范围内组织经济活动，促进了经济的发展。(2分) 在经济全球化过程中，各国经济相互依存、互相竞争。(1分) 发展中国家由于科技水平和经济实力相对较弱，在国际竞争中常常处于不利境地。(1分) 一方面，跨国公司常常把一些技术水平低、污染程度高的企业从发达国家转移到发展中国家；(1分) 另一方面，国际经济风险对发展中国家经济发展的影响进一步加大。(1分)

42. (1) 纺织部门。(1分) 卡尔·本茨(或：本茨)。(1分)
(2) 浦东开发区。(1分) 亚太经合组织(或：APEC)。(1分)
(3) 武广高速铁路。(1分) 主题：城市，让生活更美好。(1分)

43. (1) 400；陡崖。(2分)
(2) C (1分)
(3) 2 (1分)

(4) 见右图。评分说明：按等高线绘出河流，河流大致为自东向西流向即可，0.5分；绘出桥梁0.5分。(2分)



44. (1) 西宁 (1分)
(2) 北温；青藏高原。(2分)
(3) ②；水土流失严重。(2分)

(4) 本题为开放性试题，只要符合题意，言之成理，即可得分。每条建议1分，共2分。
示例：①水能资源丰富，可大力兴建水利工程；②天然草场广布，可大力发展畜牧业；③太阳能资源丰富，可利用太阳能资源发电；④藏族风情浓郁，山区景色优美奇特，可大力发展旅游业等。

