

昆明市 2014 年初中学业水平考试 地理 试 卷

(全卷两个大题, 共 33 个小题, 共 8 页; 满分 100 分, 考试用时 90 分钟)

注意事项:

1. 答题前, 考生务必用黑色碳素笔将自己的姓名、准考证号、考场号、座位号在答题卡上填写清楚, 并认真核准条形码上的准考证号及姓名, 在规定的位置贴好条形码。
2. 考生必须把所有的答案填写在答题卡上, 答在试卷上的答案无效。
3. 选择题每小题选出答案后, 用 2B 铅笔把答题卡上对应题目的答案选项框涂黑。如需改动, 用橡皮擦擦干净后, 再选涂其它答案选项框, 不要填涂和勾划无关选项。其他试题用黑色碳素笔作答, 答案不要超出给定的答题框。
4. 考生必须按规定的方法和要求答题, 不按要求答题所造成的后果由本人自负。
5. 考试结束后, 将本试卷和答题卡一并交回。

第 I 卷 (选择题, 共 50 分)

一、选择题 (在下列各题四个选项中只有一项最符合题意, 请用 2B 铅笔在答题卡上填涂。每小题 2 分, 共 50 分。)

1. 读图 1, 人类认识地球形状的过程依次是 B



- A. ①②③ B. ②③① C. ③②① D. ②①③
2. 图 2 是同学们在演示地球的运动, 与图中呈现情景不相符的是 B



图 2

- A. 昆明是白天，纽约是黑夜
 B. 北极圈内出现极昼现象
 C. 北京昼长夜短
 D. 赤道昼夜等长
3. 有关大洲、大洋说法正确的是 C
 A. 亚洲是跨经度最广的大洲
 B. 大西洋是面积最大的大洋
 C. 非洲中部被赤道横穿
 D. 亚、非洲的分界线是巴拿马运河
4. 2014年5月24日云南盈江再一次发生破坏性地震，据图3分析该地多地震的原因是 D



图 3

- A. 盈江位于环太平洋火山地震带
 B. 盈江位于太平洋板块和亚欧板块交界处
 C. 修路、挖矿等工程爆破引发地震
 D. 盈江位于印度洋板块和亚欧板块交界处
5. 有关世界气温和降水分布的描述，错误的是 D
 ①同纬度，高山、高原气温低，平原气温高
 ②南半球等温线平直，因为南半球海洋面积广
 ③夏季陆地气温高于海洋
 ④沿海地区降水一定多于内陆
 A. ①③ B. ②④ C. ①② D. ③④
6. 要减轻 4 漫画中出现的环境问题，我们应该 A
 A. 绿色出行 B. 燃烧秸秆 C. 燃放烟花爆竹 D. 开车上下班



图 4

7. 下列关于气候的说法正确的是 B
- A. 亚洲南部分布有热带草原气候
 - B. “瑞雪兆丰年”这句谚语反映了气候对生产生活的影晌
 - C. 非洲分布最广的是热带雨林气候
 - D. 亚欧大陆内部气候干燥主要是受纬度因素影响
8. 到西班牙旅游，看到的人种和听到的语言主要是 A
- A. 白种人，西班牙语
 - B. 白种人，英语
 - C. 混血人种，法语
 - D. 黑种人，英语
9. 某同学向家人介绍北极地区的情况，其中正确的是 A
- A. 北极地区泛指北极圈及其以北地区
 - B. 北极地区不存在环境问题
 - C. 北极地区的主人是企鹅
 - D. 长城站是我国在北极地区新建的科考站
10. 有关发达国家与发展中国家的叙述，错误的是 C
- A. 根据经济发展水平的高低分为发达国家和发展中国家
 - B. 发达国家和发展中国家发展差距的问题称为“南北问题”
 - C. 部分发达国家资源丰富，在经济发展中无需与外国合作
 - D. 发达国家及发展中国家内部，经济发展均存在明显的差距
11. 有关亚洲河流叙述正确的是 D
- A. 亚洲河流多自西向东流
 - B. 亚洲河流多短小湍急
 - C. 亚洲河流普遍结冰期长
 - D. 亚洲东部河流冬夏水位变化大
12. 图 5 中反应中南半岛地形特征的是 B




图 5

13. 解决中东水资源短缺的措施，错误做法是 D

- A. 以色列用滴灌等节水技术解决缺水问题
- B. 沙特阿拉伯通过海水淡化获取水资源
- C. 农业以畜牧业和种植耐旱作物为主
- D. 通过战争的手段夺取所需水资源

14. 学好地理，可以根据我们合理安排生产、生活。下列行为合理的是 C

- A. 李敏喜欢旅游，她到西安参观布达拉宫，到洛阳看兵马俑
- B. 吴昊常出差，夏季去新疆带雨具，冬季到海南岛带羽绒服
- C. 采购员张兵到四川采购柑橘，到新疆采购哈密瓜，到山东采购苹果
- D. 乡长王海对乡里土地利用进行规划：在陡坡上种小麦，在平原上种果树

15. 读图 6，判断下列说法正确的是 D



- A. 五大湖区降水最丰沛适合牧草生长，形成乳畜带
 - B. 中部地表崎岖，适合种植玉米，形成玉米带
 - C. 北部水热充足，适宜小麦生长，形成小麦区
 - D. 西部气候干燥，地势起伏大，形成畜牧和灌溉农业区
16. 生活中随处可见地理知识（图 7），下列叙述正确的是 C



图 7

- ① 图收件人地址中最小的行政单位是安徽省
- ② 图汽车牌照的属地为青海省
- ③ 图聚落所在地的行政中心是呼和浩特
- ④ 图景观所在省的简称是新

A. ①② B. ③④ C. ②③ D. ①④

17. 图 8 为我国部分农作物分布示意图，有关叙述正确的是 C



图 8

- A. 我国地势第三级阶梯只有种植业，没有畜牧业
 - B. 非季风区分布有我国的四大牧区，没有种植业
 - C. 油菜主要分布在南方，花生主要分布在北方
 - D. 棉花主要分布在东北平原、华北平原、长江流域
18. 关于我国地形、地势的说法错误的是 B
- A. 喜马拉雅山北侧分布有青藏高原
 - B. 台湾山脉位于我国地势第一级阶梯
 - C. 有“鱼米之乡”之称的是长江中下游平原
 - D. 我国的地势有利于太平洋湿润气流的深入
19. 图 9 为“舌尖上的中国”摄制组，穿越中国大江南北，拍摄介绍地方特色美食的线路。有关摄制组的拍摄记录，错误的是 C
- A. 线路①，从南方的粤菜、湘菜到北方的鲁菜
 - B. 线路②，从滇菜、川菜到可口的奶茶和烤全羊
 - C. 线路③，从牦牛肉、青稞酒到米粉、荷叶粥
 - D. 线路④，各种香甜的瓜果和美味孜然羊肉串



20. 长江、黄河共性特征叙述错误的是 C
- A. 两河均是我国水量很大的河流 B. 两河均发源于我国内陆省青海省
 C. 两河均存在“地上河”的河段 D. 两河均在地势阶梯交界处建有水电站
21. 有关我国人口政策的叙述正确的是 B
- A. “单独二胎”政策不能缓解人口老龄化问题
 B. 晚婚晚育是控制人口数量的有效措施
 C. 延迟退休的根本目的是为了减轻子女负担
 D. 依据我国人口现状，计划生育国策可取消
22. 读图 10, 关于台湾森林资源的叙述，正确的是 D



图 10

- A. 分布在中、西部，地处低纬度，气候湿热，树种繁多
 B. 分布在中、东部，亚热带、温带季风气候，树种繁多
 C. 分布在中、西部，地形多样，地势起伏大，树种繁多

D. 分布在中、东部，纬度低，山地垂直气候显著，树种繁多

23. 有关四大地理区域自然特征的叙述，正确的是 A

A. 青藏地区的突出特征是“高”和“寒” B. 西北地区的地形以高原、平原为主

C. 南方地区温带季风气候显著 D. 北方地区的华北平原是肥沃的“黑土地”

2013年3月10日《人民日报》讯：泛亚铁路在昆明并入中国铁路网。泛亚铁路有东、中、西三线方案（表1和图11），东线将于2014年通车，据此完成24~25题。

方案	经过的主要城市	铁路总长度	需新建铁路
东线	曼谷-金边-胡志明市-河内-昆明	5520	433
中线	曼谷-万象-昆明	4180	1245
西线	曼谷-内比都-昆明	4321	1017



图 11

24. 关于云南地理位置的描述，正确的是 A

- ①西南邻缅甸，南邻老挝、缅甸
- ②南邻缅甸、老挝、泰国
- ③东南临太平洋，西南临印度洋
- ④面向东南亚、南亚

A. ①④ B. ②③ C. ②④ D. ①③

25. 修建泛亚铁路，首选东线方案的原因叙述错误的是 D

- A. 可利用现有铁路，需新建的铁路短，投资少
- B. 东线经过的地区主要是平原，修建铁路工程量小
- C. 东线经过的地区人口稠密，城市多，经济较发达

D. 东线在三线中总长度最短，投资少，工程量小

第II卷（非选择题，共计50分）

二、综合题（每空1分，共50分）

26. 图12为某区域的等高线地形图，读图完成下列各题。（6分）

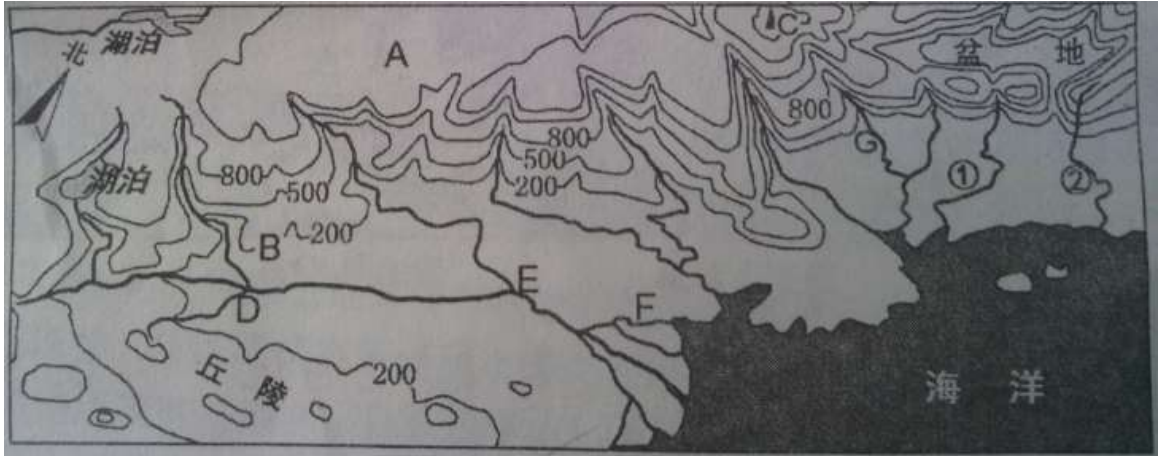


图12

(1) A处地形类型为高原，①、②两河不存在的是②河。

(2) 已知B点的气温为20℃，山峰附近C处的气温是9.2℃。

(3) 图中DE段河流的流向是自西南流向东北，B、F、G三点中更容易形成城市的是F。

(4) 下列哪种情况会用到等高线地形图（ C ）

- A. 去博物馆参观，选择最近路线 B. 查阅发生动乱的乌克兰的具体位置
C. 找矿、修路，规划工程线路 D. 进入动物园，设计游览路线

27. 读图13完成如下问题。（6分）

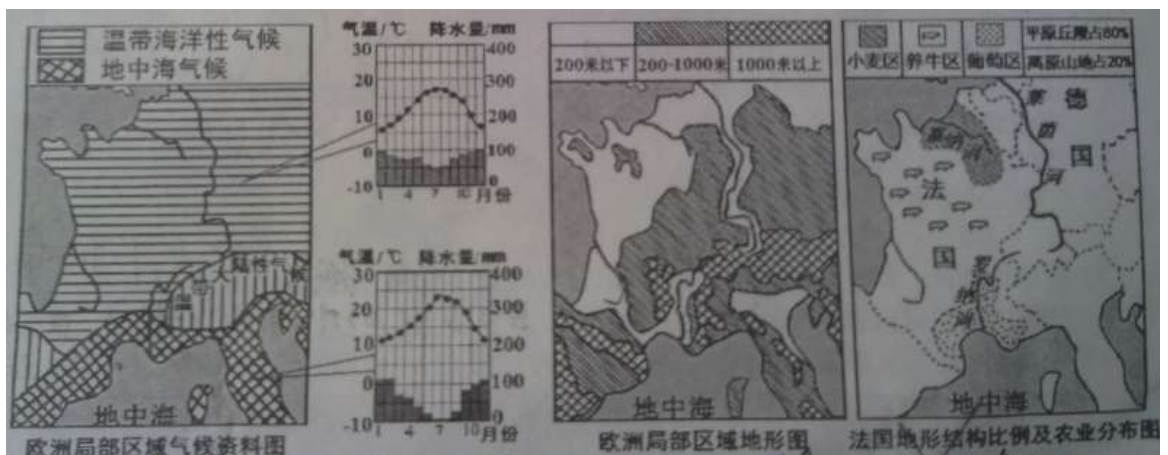


图13

(1) 莱茵河下游流经地区气候的主要特征是常年温和湿润，受其影响，莱茵河水位变化小。

(2) 法国发展农业自然条件优越，地形以平原为主，耕地面积广大；种植业分布区都有丰富的水资源。

(3)法国的养牛业发达，因其以温带海洋性气候气候为主，法国的葡萄酒闻名世界，葡萄品质优良，下列有关法国盛产优质葡萄的自然条件，正确的是（ C ）

- A. 温带大陆性气候光照强，降水少，利于糖分积累
- B. 种植葡萄地区海拔高，气候寒冷，利于糖分积累
- C. 南部河谷地带夏季气候炎热干燥，利于糖分积累
- D. 温带海洋性气候昼夜温差大，利于糖分积累

28. 图 14 中甲为中国疆域示意图，乙为我国东海防空识别区图。据图回答下列问题。（5 分）



图 14

(1) 东海防空识别区主要位于甲图中的③海域（填数码），防空识别区不等同于领空，但和中国部分领空是重合的，如该识别区包括了我国钓鱼岛岛的领空。

(2) 甲图中与我国相邻的世界最大内陆国是 C (填字母), 我国领土最西端位于 新疆维吾尔自治区 省级行政区 (填全称)。

(3) 有关我国疆域、人口、民族的叙述正确的是 (A)

- A. 我国民族分布有“大散居、小聚居、交错杂居”的特点
- B. 我国位于亚洲东部、大西洋西岸, 是一个海陆兼备的国家
- C. 我国地域辽阔, 北回归线穿过南部, 北极圈穿过北部
- D. 我国人口分布以黑河——腾冲一线为界, 东南少西北多

29. 读图 15, 回答下列问题。(5 分)

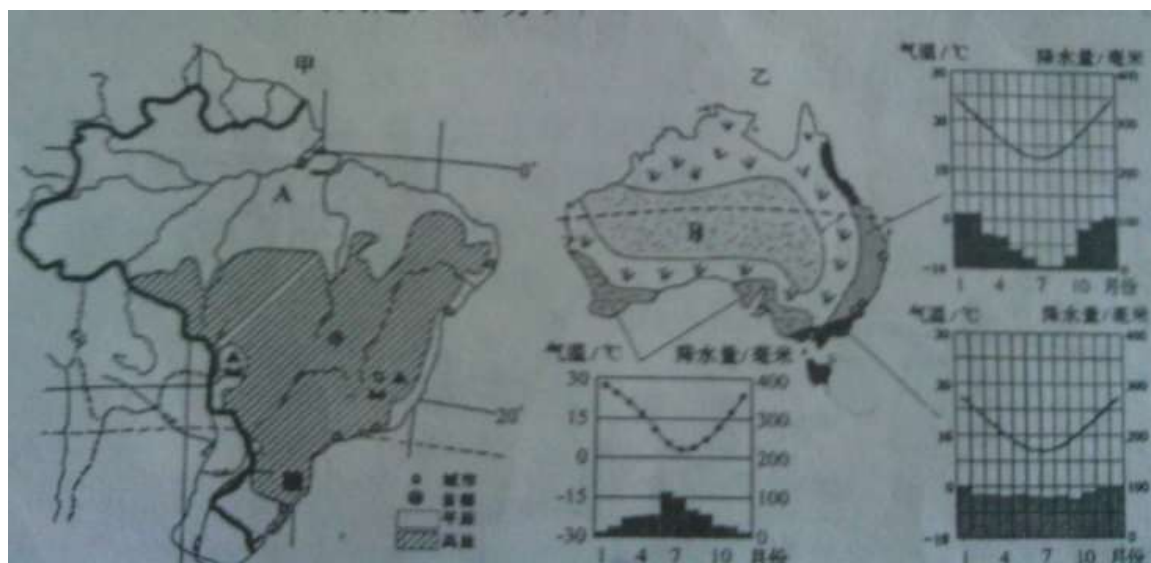


图 15

(1) 甲国 A 处人烟稀少是因为 气候过于湿热。乙国 B 处人烟稀少是因为 气候过于干旱。

(2) 从纬度位置看, 两国都被特殊纬线 南回归线 穿过, 两国的人口、城市都集中分布在 东南沿海地区, 其分布原因叙述错误的是 (D)

- A. 两国人口稠密区气候都适宜人居
- B. 人口稠密区是两国开发较早的区域
- C. 两国人口稠密区临海, 多良港, 交通便利
- D. 两国人口稠密区地形都是平原, 适宜人居

30. 627 年 8 月, 唐代高僧玄奘从长安出发, 到古印度的那烂陀寺学习佛经, 于 645 年 2 月回到长安。图 16 为玄奘取经回国线路图, 据此回答下列问题。(6 分)



图 16

(1) 图中 A 是塔里木河河，水源补给主要靠高山冰雪融水和山地降水。

(2) 玄奘回到长安时，B 河正直枯水期（枯水期/丰水期）。B 河下游流经地区人口稠密，工农业发达，使这里成为我国水资源特别短缺的地区，并导致春季容易发生旱灾（灾害）。

(3) 图中我国内、外流区分界线与我国400 mm 等降水量线经过的地区基本一致。

31. 读图 17，完成下列问题。（6 分）



(1) 甲图中沪深高铁和京九高铁均连接着我国 珠江三角洲 工业基地，关于该工业基地的说法，错误的是 (B)

- A. 基塘生态农业是这里因地制宜发展农业的典范
- B. 目前，由高新技术产业向劳动密集型产业转型
- C. 邻港、澳，靠近东南亚，利于经济发展
- D. 多侨乡，是我国容易吸引外资的区域

(2) 我国最大的综合性工业基地是 (C)

- A. ①
- B. ②
- C. ③
- D. ④

(3) 乙村中村镇的土地利用有下列选择：

- ① 种茶树
- ② 种甜菜
- ③ 渔业
- ④ 种花卉和蔬菜，养奶牛

其中 A 区域适宜 ① (填数码)，B 区域适宜 ④；(填数码)，并说出 B 区域选择的理由 靠近河流，保证供水；靠近居民区，接近消费市场。

32. 读图 18，完成下列问题。(10 分)

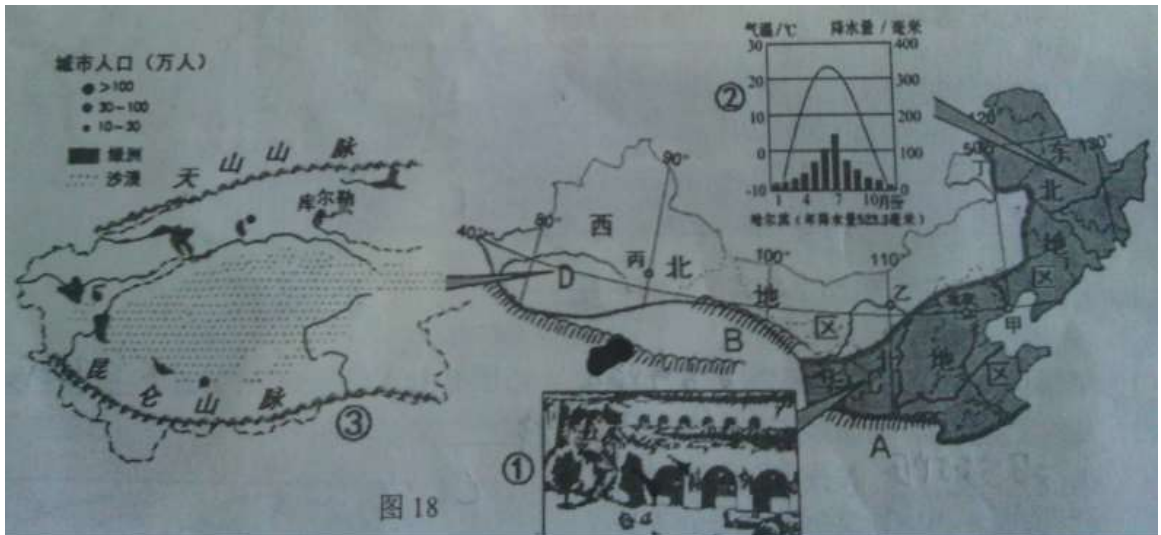


图 18

(1) A 山脉为我国重要的地理分界线 秦岭。图中 B 为祁连山，它是四大地理区域中的西北地区和 青藏 地区的分界。

(2) 根据图②，分析东北地区对农业生产影响最大的自然灾害是 (D)

- A. 台风 B. 洪涝 C. 干旱 D. 冷害

(3) 图①的传统民居反映黄土高原的土壤具有 直立性 特点。根据图③判断塔里木盆地的人口、城市分布具有 主要分布在绿洲处的 特点。

(4) 秦皇岛 (120° E、40° N) 位于图 18 中甲、乙、丙、丁四点中的 甲 位置。

(5) 北方地区沙尘暴频现的人为原因是 破坏植被 (一条即可)；现在国家提出了东北地区湿地恢复的问题，“北大仓”又要恢复成“北大荒”，请说明原因 湿地是“地球之肾”，具有涵养水源、调节局部气候，为生物提供栖息地等多重功能。

(6) 图 18 中 C、D 区域丰富的矿产资源是 (B)

- A. 天然气、石油、煤 B. 石油、煤、铁
C. 天然气、石油、铁 D. 天然气、煤、铁

(7) 图 19 反映北京是全国的 (B)



图 19

- A. 政治中心 B. 文化中心 C. 国际交往中心 D. 历史文化名城

33. 根据材料，完成下列各题。(6 分)

材料一：“滇中调水”，计划用 20 年时间建成，是为了引金沙江之水缓解滇中缺水，冲刷滇池污染的重大水利工程。

材料二：图 20 为“滇中调水”线路图。线路①，从金沙江虎跳峡处引水，引水线路长 478 公里；线路②，从普渡河与金沙江汇合处引水，引水线路长 159.4 公里。



图 20

(1) 云南省第一大淡水湖位于图中 (A)

A. A B. B C. C

(2) 昆明位于湿润地区，却是一个缺水的城市。有关昆明缺水原因的叙述正确的是 (B)

- ①夏季风活动异常，降水偏少
- ②耕地总面积扩大，需水量增加
- ③河湖污染，水资源浪费
- ④重工业发展迅速，耗水量增加

A. ①② B. ①③ C. ②④ D. ③④

(3) 据材料分析：云南实施“滇中调水”的目的是 滇池流域水量增加，可以缓解流域内的用水紧张状况；增加流域内入湖水量，增加水体自净能力。 ②线

比①线短，为什么最终选择①线调水？上游水质好，经过城市多，供给范围大。

(4) 云南省是泥石流多发之地，当泥石流暴发时（图 21），正确的逃生方法是（ D ）

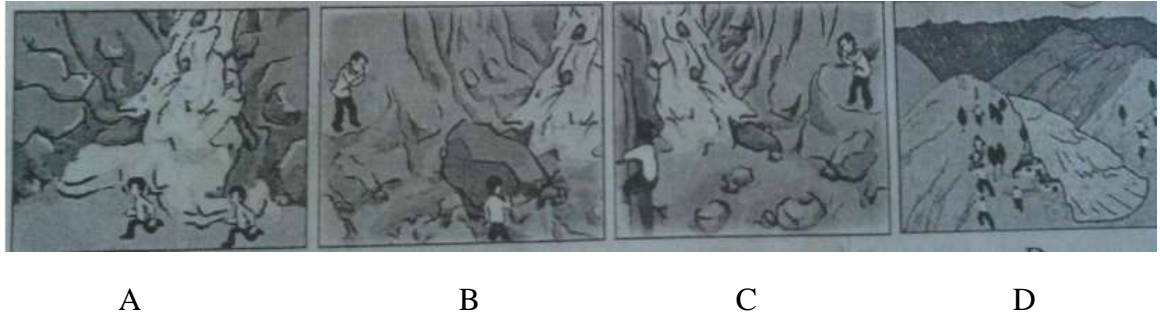


图 21

(5) 为了云南省旅游业的可持续发展，下列规划中，你认为可行的是（ C ）

- A. 将旅游景点进一步分散，各景点独立发展，自由竞争
- B. 修建大型动物园，将所有的动物集中起来展示
- C. 加强旅游景点的规划和改造，保证旅游业的整体协调发展
- D. 旅游景点内建高速公路和高级宾馆，便于游客出入