

2015年福建省厦门市中考真题历史

一、选择题（本大题共30小题，每小题2分，共60分，每小题只有一个选项符合题意）

1. “我祖赫赫，开辟洪荒；‘功化神圣，世代仰望’ 2015年4月5日，万余名海内华儿女共祭“人文初祖”，这是祭拜（ ）

- A. 黄帝
- B. 炎帝
- C. 蚩尤
- D. 大禹

解析：本题考查的知识点是黄帝的贡献。考查学生的识记能力。链接所学知识可知，由于黄帝为后世的衣食住行作出的贡献，后人尊称黄帝为“人文初祖”。

答案：A。

2. “孔子周游列国”“烽火戏诸侯”，与“列国”，“诸侯”相关的西周政治制度是（ ）

- A. 禅让制
- B. 分封制
- C. 郡县制
- D. 行省制

解析：本题考查的知识点是西周的分封制。考查学生的辨析能力。解答本题的关键是“诸侯”“西周”。为了巩固统治，西周实行分封制，周天子把土地和平民、奴隶，分给亲属、功臣等，封他们为诸侯，形成了众多的诸侯国。故选B。A是原始社会民主推举部落联盟首领的方法，C是秦朝在地方上实行的制度，D是元朝为加强对辽阔疆域的管辖采取的措施。

答案：B。

3. 修筑于战国时期，使成都平原“水旱从人，不知饥馑”的水利工程是（ ）

- A. 都江堰
- B. 灵渠
- C. 大运河
- D. 长城

解析：本题考查的知识点是都江堰。考查学生的辨析能力。解答本题的关键是“战国时期”“成都平原”“水利工程”。都江堰修建于战国时期，是闻名世界的防洪灌溉工程。灵渠修建于秦朝，沟通了长江水系和珠江水系。大运河修建于隋朝，北达涿郡（今北京），南至余杭（今杭州）。长城是军事防御工程。

答案：A。

4. 图示法可以使分散的知识系统化，直观地呈现整个知识骨架，下列一组秦始皇措施图示体现的中心主题是（ ）



- A. 加强文化控制
- B. 加强经济管理
- C. 加速国家统一进程
- D. 巩固国家统一

解析：本题考查的知识点是秦始皇巩固统一的措施。考查学生的识图分析能力。图示反映的是秦始皇统一文字、货币，这两项措施的实施，对各地经济文化的交流与发展和维护国家统一，起了极为重要的作用。故选 D。

答案：D。

5. 被鲁迅誉为“史家之绝唱，无韵之离骚”的我国第一部纪传体通史是（ ）

- A. 《论语》
- B. 《离骚》
- C. 《史记》
- D. 《资治通鉴》

解析：本题考查的知识点是《史记》。考查学生的识记能力。西汉史学家司马迁编写的《史记》是我国第一部纪传体通史。A 记录了孔子的言论，B 是屈原的代表作，是一部抒情长诗，D 是北宋史学家司马光编写的编年体通史。

答案：C。

6. 人称“政启开元，治宏贞观”的古代帝王是（ ）

- A. 唐太宗
- B. 唐高宗
- C. 武则天
- D. 唐玄宗

解析：本题考查的知识点是武则天。考查学生的辨析能力。武则天当政时期，实行发展农业生产、选拔贤才的政策，使唐朝的社会经济进一步发展，国力不断增强。人称她的统治“政启开元，治宏贞观”。唐太宗的统治被称为“贞观之治”。唐太宗的统治被称为“开元盛世”。

答案：C。

7. 美国汉学家费正清在谈到中国明清时期某一政策时说：“归根到底，它是倾向倒退，眼光向里，防守和排外的。”他评论的是（ ）

- A. “重本抑末”政策
- B. 汉化政策
- C. 闭关锁国政策
- D. 休养生息政策

解析：本题考查的知识点是闭关锁国政策。考查学生的理解能力。解答本题的关键是“明清时期”“倾向倒退”“防守和排外”。链接所学知识可知，明清时期实行的“闭关锁国”政策，严格限制对外贸易。既看不到世界形势的变化，也未能适时地向西方学习先进的科学知识和生产技术，使中国在上世界上逐渐落伍了。

答案：C。

8. 《来自星星的你》主人公都教授于 1603 年 8 月 25 日（中国明朝后期）从外星球掉落到朝鲜大地。如果当时他到中国，最不可能（ ）

- A. 了解科举考试

- B. 听郑和下西洋的故事
- C. 学习活字印刷术
- D. 查阅《尼布楚条约》

解析：本题考查的知识点是明朝的相关史实。考查学生的辨析能力。解答本题的关键是“明朝”。链接所学知识可知，科举制度创立于隋朝，废除于清朝。郑和下西洋发生在明成祖时。活字印刷术发明于北宋。《尼布楚条约》签订于清朝康熙帝时。所以D符合题意。

答案：D。

9. 优秀的历史影视是对历史的生动再现，下列影片反映的历史事件按时间先后排序是( )



- ①
  - ②
  - ③
  - ④
- A. ①②③④
  - B. ①②④③
  - C. ②①③④
  - D. ②①④③

解析：本题考查的知识点是近代列强对中国的侵略史实。考查学生的识记能力。结合所学知识可知，火烧圆明园发生在1860年，林则徐虎门销烟发生在1839年，八国联军侵华发生在1900-1901年，甲午风云发生在1894-1895年，所以正确的排序是②①④③。

答案：D。

10. 晚清厦门胡里山炮台的兴建是“师夷长技以自强”的一次尝试，这次尝试是( )

- A. 洋务运动
- B. 戊戌变
- C. 辛亥革命
- D. 五四运动

解析：本题考查的知识点是洋务运动。考查学生的知识迁移能力。第二次鸦片战争后，洋务派以“自强”“求富”为口号掀起了“师夷长技”的洋务运动。故选A。

答案：A。

11. 新文化运动高举的两面大旗是( )

- A. 自由和平等
- B. 民主和法制
- C. 自由和科学
- D. 民主和科学

解析：本题考查的知识点是新文化运动。考查学生的识记能力。陈独秀、李大钊等进步知识分子，高举“民主”和“科学”两面大旗，以《新青年》杂志为主要阵地，掀起新文化运动。

答案：D。

12. 中华民国十三年孙中山先生为黄埔军官学校开学典礼亲笔手书“三民主义，吾党所宗……一心一意，贯彻始终”训词。这一年是（ ）

- A. 1912年
- B. 1924年
- C. 1925年
- D. 1927年

解析：本题考查的知识点是黄埔军校的创建。考查学生的识记能力。1924年5月，国民党在广州黄埔创建中国国民党陆军军官学校，简称黄埔军校。

答案：B。

13. 《近代实业第一人》中说：“他……最大的精神支撑是内心崇高的社会理想，是一个状元告别仕途后仍念念不忘的兴国之梦。”“他”是（ ）

- A. 魏源
- B. 张謇
- C. 陈独秀
- D. 胡适

解析：本题考查的知识点是张謇。考查学生的辨析能力。解答本题的关键是“近代实业第一人”“状元告别仕途”。链接所学知识可知，张謇，清末状元，以“实业救国”为口号，放弃高官厚禄，回乡创办了大生纱厂等企业。

答案：B。

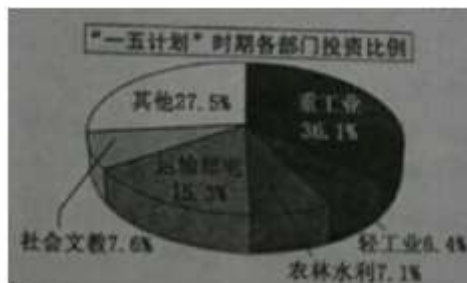
14. “钟山风雨起苍黄，百万雄师过大江”描述的历史事件是（ ）

- A. 辽沈战役
- B. 淮海战役
- C. 平津战役
- D. 渡江战役

解析：本题考查的知识点是渡江战役。考查学生的分析理解能力。解答本题的关键是“钟山”“百万雄师过大江”，指的是渡江战役，解放南京，国民党政权垮台。

答案：D。

15. 下图体现当时我国（ ）



- A. 优先发展农业
- B. 优先发展重工业
- C. 优先发展运输邮电
- D. 农轻重三业均衡发展

解析：本题考查的知识点是第一个五年计划。考查学生的识图分析能力。通过观察图片可以看出，“一五计划”时期，重工业投资比例最高，说明国家优先发展重工业。

答案：B。

16. 《工人日报》曾刊发以“人有多大胆，钢有多大产”为标题的新闻是在（ ）

- A. 土地改革时期
- B. 三大改造时期
- C. 大跃进时期
- D. 文化大革命时期

解析：本题考查的知识点是探索社会主义建设的失误。考查学生的分析能力。“人有多大胆，地有多大产”，是“浮夸风”的表现。“浮夸风”是大跃进的主要标志之一。故选 C。

答案：C。

17. 2015 年米兰世博会中国企业联合馆主题为“中国种子”，旨在向全世界宣传杂交水稻，下列最适合担任该馆形象大使的是（ ）

- A. 邓稼先
- B. 王进喜
- C. 焦裕禄
- D. 袁隆平

解析：本题考查的知识点是袁隆平与籼型杂交水稻。考查学生的识记能力。1973 年，袁隆平在世界上首次培育成功籼型杂交水稻，被世界农学界誉为“杂交水稻之父”。

答案：D。

18. 在“家乡的昨天和今天”活动课上，某合作小组在展示厦门经济特区二十五周年辉煌历程时，应将厦门标注在下图的（ ）



- A. ①
- B. ②
- C. ③
- D. ④

解析：本题考查的知识点是经济特区。考查学生的识图识记能力。厦门属于福建省，在④处，①是珠海、②深圳、③汕头都属于广东。

答案：D。

19. “西藏自治区”“内蒙古自治区”的建立体现我国实行（ ）

- A. 民族区域自治制度
- B. 政治协商制度
- C. 人民代表大会制度
- D. 社会保障制度

解析：本题考查的知识点是民族区域自治制度。考查学生的识记能力。新中国成立后，在少数民族聚居地区 实行民族区域自治，全国已建立了内蒙古、新疆、广西、宁夏、西藏 5 个省级自治区。

答案：A。

20. 如下图所示建筑物是世界八大奇迹之一，它反映的是（ ）



- A. 古巴比伦文明
- B. 古埃及文明
- C. 古印度文明
- D. 古代中国文明

解析：本题考查的知识点是亚非文明。考查学生的识图辨析能力。图片反映的是金字塔和狮身人面像，是古代埃及的文明成果。古巴比伦的文明成果是《汉谟拉比法典》，古代印度的文明成果是种姓制度、佛教等，古代中国的文明成果有甲骨文、青铜器等。

答案：B。

21. “如今有个趋势，人们怀念她的民主制度，并将其视为所有现代民主制度的源头。”

“她”指的是（ ）

- A. 雅典
- B. 罗马
- C. 波斯
- D 马其顿

解析：本题考查的知识点是雅典的文明成果。考查学生的知识迁移能力。雅典是古希腊的著名城邦，其文明成果是奴隶主民主政治，是现代民主制度的源头。

答案：A。

22. 文艺复兴时期文学家、艺术家、思想家创作了大量的经典作品，下列组合不正确的是

（ ）

- A. 但丁——《神曲》
- B. 达·芬奇——《蒙娜丽莎》

C 莎士比亚——《哈姆雷特》

D. 贝多芬 ——《最后的晚餐》

解析：本题考查的知识点是文艺复兴。考查学生的识记能力。《梦娜丽莎》和《最后的晚餐》都是达芬奇的代表作品，贝多芬的作品哟《英雄交响曲》等。

答案：D。

23. 被马克思称为“丢掉了最后一点羞耻心和良心的罪恶”的“三角贸易”航程是（ ）

A. 非洲到美洲

B. 欧洲到非洲

C. 美洲到欧洲

D. 欧洲到美洲

解析：本题考查的知识点是三角贸易。考查学生的理解能力。奴隶贩子将从非洲抓获的黑人贩卖到美洲，是三角贸易航程上最残酷、最血腥的一段。故选 A。

答案：A。

24. 阅读下边示意图，其中“？”处应填上（ ）



A. 英国资产阶级革命

B. 法国大革命

C. 美国独立战争

D. 美国南北战争

解析：本题考查的知识点是美国独立战争。考查学生的识记能力。来克星顿枪声标志着独立战争的开始，《独立宣言》的发表标志着美国的诞生，萨拉托加大捷是独立战争的转折点，故选 C。

答案：C。

25. 马克思主义诞生的标志是（ ）

A. 《人民宪章》的发表

B. 《共产党宣言》的发表

C. 《解放黑人奴隶宣言》的颁布

D. 《联合国宣言》的签署

解析：本题考查的知识点是马克思主义的诞生。考查学生的识记能力。1848年，马克思和恩格斯发表《共产党宣言》，标志着马克思主义的诞生。

答案：B。

26. 如果要了解“进化论”思想，可以选《世界巨人百传》丛书中的（ ）

A. 《华盛顿传》

B. 《拿破仑传》

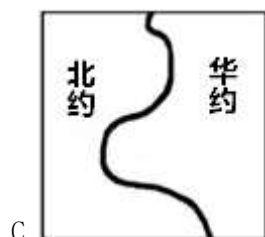
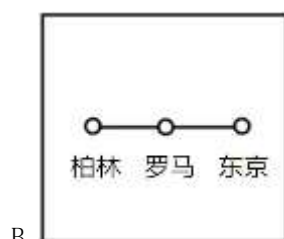
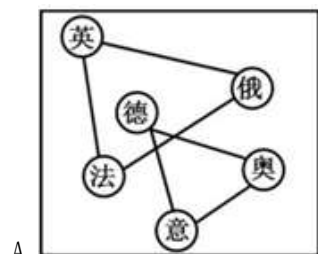
C. 《达尔文传》

D. 《爱迪生传》

解析：本题考查的知识点是达尔文及贡献。考查学生的辨析能力。英国著名科学家在《物种起源》一书中，提出了“进化论”思想，推翻了神创论和物种不变论，沉重打击了神权统治的基础。

答案：C。

27. 下列简笔画能够形象反映一战爆发前世界形势的是（ ）



解析：本题考查的知识点是一战前的国际形势。考查学生的识图分析能力。在第二次工业革命工业革命的推动下，主要资本主义过渡到帝国主义阶段。帝国主义国家之间的矛盾十分尖锐，为重新分割世界，帝国主义国家展开了激烈的争夺，形成了两大帝国主义侵略集团，即三国同盟和三国协约。故选 A。B 是二战前的国际形势，C 是冷战期间的两大对峙组织，D 反映的是当今的国际形势。

答案：A。

28. 美国总统奥巴马说“美国的真正天赋在于：它懂得改变”。20 世纪 30 年代罗斯福新政的“改变”表现为（ ）

- A. 建立法西斯专政
- B. 加强国家对经济的干预和指导
- C. 实行冷战政策
- D. 建立高度集中的经济政治体制



解析：本题考查的知识点是罗斯福新政。考查学生的理解能力。罗斯福新政的特点是加强国家对经济的干预和指导。罗斯福新政使美国渡过了经济危机。

答案：B。

29. 2015年5月9日，俄罗斯举行盛大阅兵仪式，庆祝“卫国战争胜利日”和二战欧洲战场胜利70周年。“70年前这场战争”的重要转折点是（ ）

- A. 德国进攻波兰
- B. 珍珠港事件
- C. 斯大林格勒战役
- D. 诺曼底登陆

解析：本题考查的知识点是第二次世界大战，考查学生的识记能力。斯大林格勒战役是第二次世界大战的重要转折点。德国进攻波兰标志着第二次世界大战的爆发，珍珠港事件标志着二战规模进一步扩大，诺曼底登陆开辟欧洲第二战场。

答案：C。

30. QQ与微信成为当今世界重要的信息传递与交流平台主要得益于（ ）

- A. 蒸汽时代的到来
- B. 电气时代的到来
- C. 网络技术的发展
- D. 报刊事业的发展

解析：本题考查的知识点是第三次科技革命。考查学生的知识迁移能力。QQ和微信作为信息交流和沟通的平台，得益于网络技术的发展，网络技术使全世界的计算机、计算机网络连接成信息传送网络，使世界上的各种计算机能够交换各类数据，交流各种信息。

答案：C。

二、改错题(本大题共3小题，每小题2分，共6分，划横线处只有一处错误请指出并订正)

31. “一代天骄”忽必烈火经过多年征战统一蒙古。

错误：\_\_\_\_\_ 订正：\_\_\_\_\_

答案：

错误：忽必烈 订正：成吉思汗（或铁木真）

32. 《古兰经》是世界上现存的古代第一部比较完备的成文法典。

错误：\_\_\_\_\_ 订正：\_\_\_\_\_

答案：

错误：《古兰经》 订正：《汉莫拉比法典》

33. 英国《人权宣言》的颁布标志着君主立宪制的确立。

错误：\_\_\_\_\_ 订正：\_\_\_\_\_

答案：

错误：《人权宣言》 订正：《权利法案》

三、辨析题（4分）

34. 王同学到厦门环岛路游玩，看见一个巨幅标语（如下图）对同伴说：“毛泽东的这个伟大构想太有创造性了，他为实现祖国统一大业指明了前景，也为香港和澳门回归祖国开辟了途

径!”这种说法对吗? (1分)请说明理由。(3分)



解析: 本题考查学生的识图辨析能力。图中的关键信息是“一国两制”, 这是邓小平提出的科学构想, 为实现祖国统一指明了前景。

答案: 不对。因为“一国两制”的科学构想是邓小平提出的, 不是毛泽东。

四、材料解析题(本大题共2小题, 每小题10分, 共20分)

35. (10分) 世界一体化给人们的社会生活带来了重大变化, 改变了世界的面貌。阅读下列材料, 回答问题。

材料一 (15世纪30年代) 仅仅一个世纪之后, 欧洲的航海家们已经发现了我们现在所知世界的大部分地区, 并绘制成图。在最早的几次航行中, 探险家……首先开辟航线……永远地结束了世界主要文明相互隔绝的局面。

——《人类文明史图鉴: 发现新大陆(公元1400—1500年)》

材料二



图1



图2



图3

材料三 苹果的 iPhone 手机在美国设计, 在日本制造关键零部件, 有韩国制造最核心的芯片和显示屏, 由台湾厂商供应另外一些零部件, 最后在深圳的富士康工厂里组装, 然后空运到美国, 再被销售到世界各地。

——曾航《一只 iPhone 的全球之旅》

材料四 美国苹果公司在中国代工公司的污染问题

曝光企业	代工产品	曝光内容
武汉某有限公司	电子元器件	排放重金属污水, 污染南太子湖
苏州某科技公司	触摸屏	排放刺激性气体, 影响居民生活

——根据中央电视台《新闻调查》节目《苹果的另一面》编制

(1) 材料一反映了人类历史上的哪一重大事件? (2分) 依据材料指出它对世界的影响。(2分)

(2) 观察材料二中的三幅图, 找出第一次工业革命的发明。(2分, 要求写出图序和名称)

(3) 材料三反映了当今世界经济发展的什么趋势? (2分) 综合四则材料, 指出中国应该如

何应对这一趋势？（2分）

解析：

本题以经济全球化为主题，主要考查学生释读材料，获取信息和知识迁移的能力。第（1）题在审题时要抓住“事件”“影响”，结合材料一中的“15世纪30年代”“开辟的航线”“结束了世界主要文明相互隔绝的局面”等关键信息进行分析判断，可知与新航路开辟有关，新航路的开辟，使世界开始连成一个整体。第（2）题在审题时要抓住“第一次工业革命”，通过识读材料二图片，可知图1是汽车，图3是飞机，都是第二次工业革命的发明，图2是火车，属于第一次工业革命的发明。第（3）题在审题时要抓住“世界经济发展趋势”“中国如何应对”，结合材料三中的“苹果公司在中国代工公司”，可判断是世界经济全球化趋势。从顺应经济全球化趋势，制定防范风险的政策，促进经济发展等方面应对。

答案：

(1)新航路开辟。打破了世界各地相互隔绝的局面，世界开始连成一个整体。

(2)图2 火车机车。

(3)经济全球化。中国应顺应经济全球化的潮流，制定防范风险的有效政策，引进国外的投资和技术，学习先进的经济管理经验，促进经济的高速发展。

36.（10分）习近平的周边外交首推“亲、诚、惠、容”概念。自古以来，中国政府民间都秉承与邻为善的友好理念。阅读下列材料，回答问题。

材料一 “鉴真盲目航东海，一片精诚照太清，舍己为人传道一（佛法），唐风（唐文化）洋溢奈良城（日本当时的都城）。

——郭沫若诗

材料二 我们相信，中印两国的关系会一天一天的好起来。……新中国成立后，就确立了处理中印两国关系的原则，那就是互相尊重领土主权、互不侵犯、互不干涉内政、平等互惠、和平共处的原则。

——《周恩来选集》下卷

材料三 我们并不要求各人放弃自己的见解，因为这是实际存在的反映。但是不应该是它妨碍我们在主要问题上达成共同的协议。我们还应在共同的基础上来相互了解和重视彼此的不同见解。……16万万亚非人民期待着我们的会议成功。

——周恩来在万隆会议上的讲话

(1)材料应送人的中日民间交往事件是什么？两分。

(2)依据材料二，概括中国政府让两国关系“一天天好起来”的处理原则。（2分）结合所学知识，指出该外交原则的国际意义。（2分）

(3)依据材料三，周恩来促进“会议成功”的“金钥匙”是什么？（2分）综合以上材料概括中国与周边国家交往的特点。（2分）

解析：

本题以中国的对外关系为主题，主要考查学生从材料中获取信息和灵活运用所学知识解答问题的能力。第（1）题在审题时要抓住“中日民间交往”，结合材料一中的关键信息“鉴真”分析，可判断是鉴真东渡日本。第（2）题在审题时要抓住“处理两国关系的原则”“国际意义”，结合材料二中的“相互尊重领土主权，互不侵犯，互不干涉内政，平等互惠，和平共处”，可知是和平共处五项原则，结合所学知识回答其意义。第（3）题依据材料三中的“万隆会议”，可知周恩来提出的“求同存异”方针，促进了会议的成功。结合三则材料可以看出，中国政府遵循和平共处，友好交往的外交特征。

答案：

(1)鉴真东渡日本。

(2) 和平共处五项原则。成为处理国与国之间关系的基本准则。

(3) “求同存异”方针。和平共处，友好交往。

## 五、综合阅读题（10分）

37.

### 人民之战

从鸦片战争到抗战期间，中国没有取得任何完全的胜利。鸦片战争战败的消息很久才传到湖南、江西等地，当地人还认为是谣言。甲午战争期间，民众甚至为了几个劳逸费，帮助日军搬运炮弹。然而，在艰苦卓绝的抗战中，我们看到的却是另外一番场景。

1938年春，台儿庄战役打响。面对日军的凶猛进攻，负责指挥作战的李宗仁和白崇禧邀请周恩来来到其寓所，共话战局，并在之后的作战中，基本遵循周恩来的建议。李宗仁指挥战前一向都拥兵自重的“杂牌军”在枪林弹雨中浴血奋战，他们放下成见，放下自私，携手共赴国难；中共则组织鲁南老百姓，冒着炮火，把大刀、弹药、粮食、蔬菜、肉蛋、烧酒、食盐等送上前线，再将大批伤病员运往后方救治。……六里石村，百多户人家，只不过是京杭大运河畔的小村落，却是大战时的后勤基地之一，一桶桶开水，一罐罐小米稀饭从这里送往前线。时年23岁的美国合众社战地记者爱泼斯坦赴台儿庄前线，他在1939年出版的《人民之战》中记载：她去台儿庄域之前，有个10岁的中国男孩被日军胁迫到中国守军阵地侦查，在随后的炮击中，中国守军都很困惑，日军向空旷的原野上倾洒了那么多的炮弹，为什么？原来，这名10岁的孩童向日军汇报时，故意颠倒了中国守军的方位……

——摘编自《南方周末》2015年4月9日第1624期《抗战地理二》

请回答：

(1) 哪一事件的和平解决，标志着抗日民族统一战线初步形成？（2分）

(2) 谈谈你对上述材料的感悟。（8分，要求观点明确，史论结合，适当联系实际，行文流畅。）

解析：

本题以抗日战争为主题，考查学生的识记和感悟历史的能力。结合所学知识回答第(1)题。第(2)题是开放性题目，通过阅读材料，结合自己的理解和感悟组织答案，言之有理即可。

答案：

(1) 西安事变的和平解决。

(2) 开放性题目，观点正确，积极向上，语句流畅，符合要求即可。