

2018 年湖南省岳阳市中考真题地理

一、选择题（本大题共 17 小题，每小题 3 分，共 51 分）

美国夏威夷群岛东南部的基拉韦厄火山（ 19.43°N 、 155.29°W ）于今年当地时间 5 月 3 日发生熔岩喷发。据此回答下列问题。

1. 该火山位于（ ）

- A. 东半球，南半球
- B. 东半球，北半球
- C. 西半球，南半球
- D. 西半球，北半球

解析：本题考查利用经纬网确定任意点的位置。东西半球分界线是 20°W 和 160°E 组成的经线圈， 20°W 以东、 160°E 以西为东半球， 20°W 以西、 160°E 以东为西半球。南北半球的划分是以 0° 纬线即赤道为界，赤道以北为北半球，以南为南半球。由此可判定，基拉韦厄火山（ 19.43°N 、 155.29°W ）位于西半球、北半球。

答案：D

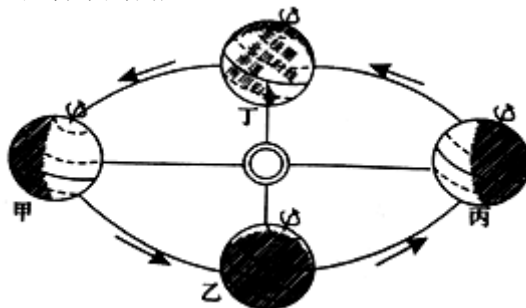
2. 该火山喷发，说明当地（ ）

- A. 位于太平洋板块中部的“活跃区”
- B. 位于太平洋板块中部的“稳定区”
- C. 位于亚欧板块与太平洋板块交界处
- D. 位于美洲板块与太平洋板块交界处

解析：本题考查板块的位置特点。美国东南部的基拉韦厄火山位于美洲板块与太平洋板块的交界处，地壳活跃，故 D 正确。

答案：D

读“地球公转示意图”，回答下列问题。



3. 当你参加地理学业水平考试（会考）时，太阳直射点正接近图中（ ）

- A. 甲
- B. 乙
- C. 丙
- D. 丁

解析：本题考查地球公转示意图。地理学业水平考试是在 6 月 12 日左右，此时地球运行在夏至日即甲附近，太阳直射点位于北回归线附近。

答案：A

4. 此时的澳大利亚为（ ）

- A. 春季
- B. 夏季
- C. 秋季
- D. 冬季

解析：本题考查南北半球的季节划分。现在是 6 月份，此时是北半球的夏季，南半球的澳大利亚是冬季。

答案：D

今年 5 月 24 至 25 日，德国总理默克尔对中国正式访问。读“德国汽车在华销售情况表”，回答下列问题。

汽车企业	大众	宝马	奔驰
在华销售占总销售量	37.3%	24.2%	23.2%

5. 德系汽车在华销售量大的主要原因（ ）
- A. 工业工艺精
 - B. 服务态度好
 - C. 价格低廉
 - D. 节能环保

解析：考查欧洲西部国家的工业发展特点。欧洲是资本主义经济发展最早的大洲，目前经济发展水平仍居各大洲首位。欧洲西部集中有德国、法国、英国和意大利等制造业大国，它们的生产规模大，工业部门较为齐全，综合实力雄厚，德系汽车在华销售量大的主要原因工业工艺精，汽车制造业发达。

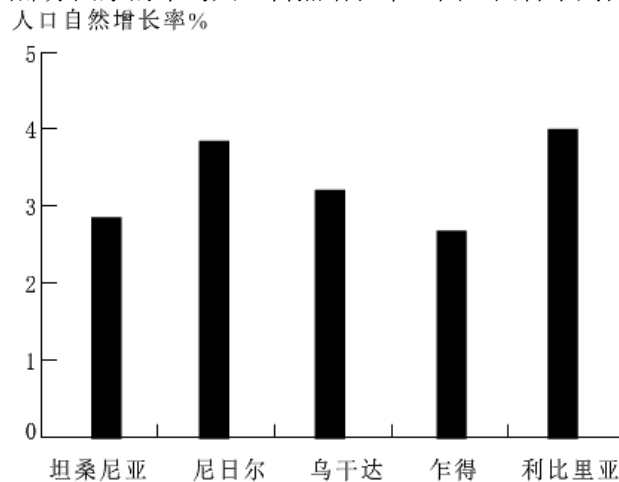
答案：A

6. 德国总理信奉的宗教可能是（ ）
- A. 佛教
 - B. 伊斯兰教
 - C. 基督教
 - D. 犹太教

解析：本题考查不同宗教的分布。基督教主要分布在欧洲、美洲和大洋洲，德国位于欧洲，所以德国总理信奉的宗教可能是基督教。

答案：C

读“撒哈拉以南非洲部分国家的年均人口自然增长率”图，回答下列问题。



7. 图中年均人口自然增长率最高的国家（ ）
- A. 乌干达
 - B. 尼日尔
 - C. 利比里亚
 - D. 乍得

解析：本题考查非洲不同国家的人口自然增长率。读图可得，图中年均人口自然增长率最高的国家是利比里亚，最低的是乍得。

答案：C

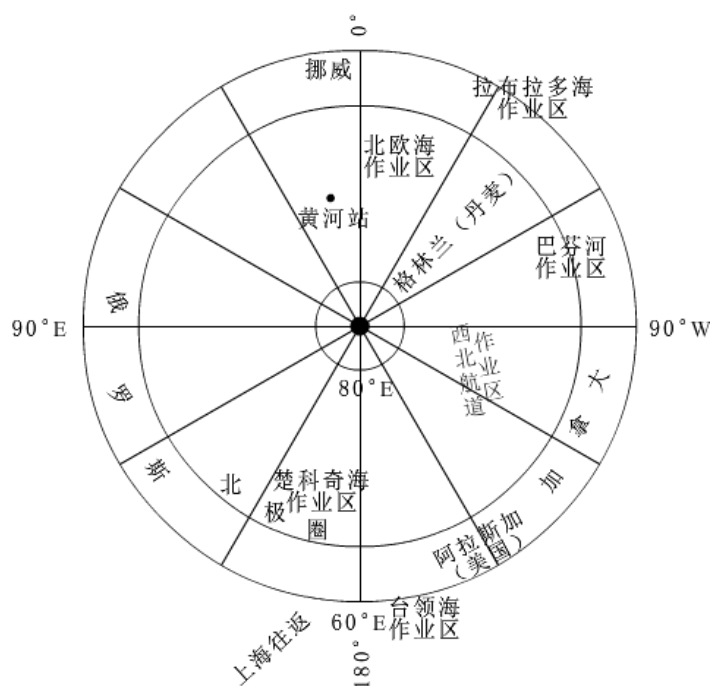
8. 协调该地区人地关系的建议，不可取的是（ ）
- A. 控制人口数量，提高人口素质

- B. 砍伐森林，开垦草原，扩大耕地面积
- C. 发展粮食生产，解决食物短缺问题
- D. 保持生态环境，减轻自然灾害

解析：考查非洲经济的发展状况。长期的殖民统治，使非洲成为世界上经济发展水平最低的大洲。大多数国家的工业基础仍很薄弱，片面发展一种或几种面向出口的农矿初级产品，成为发达国家的原料供应地和工业品市场，在国际贸易中处于不利地位。其经济出路是：加强本地区各国之间的交流与合作，引进外国资本和技术、振兴民族工业，发展多种农业经济。同时控制人口的数量、提高人口的素质、保护环境等。故选项 ACD 都是合理的措施，B“砍伐森林，开垦草原”会破坏生态环境。

答案：B

去年 7 月至 10 月，中国科考队进行第 8 次北极科学考察。读图完成下列问题。



9. 离黄河站最近的作业区是 ()
- A. 西北航道作业区
 - B. 拉布拉多海作业区
 - C. 北欧海作业区
 - D. 楚科奇海作业区

解析：本题考查黄河站的位置及北极作业区分布。读图分析可知，在北极作业区中，离黄河站最近的作业区是北欧海作业区。

答案：C

10. 拉布拉多海作业区位于北欧海作业区 ()
- A. 西南方
 - B. 东北方
 - C. 西北方
 - D. 东南方

解析：本题考查经纬网上方向的判读。依据经纬度的判读，读图分析可知，图示为以北极点为中心的经纬网图。在经纬网地图上，用经纬网定方向，纬线指示东西方向，经线指示南北方向。可判定，拉布拉多海作业区位于北欧海作业区的西南方向。

答案：A

我国自然灾害频发，当自然灾害来临时，个人采取适当的方法，可以有效避灾。据此回答下列问题。



11. 该图示避灾方法适合于（ ）

- A. 泥石流
- B. 火山喷发
- C. 地震
- D. 寒潮

解析：本题考查预防地震的措施。图中所示的是地震来临时的预防措施，当地震来临来不及外逃时，双手抱头躲避在卫生间墙角或坚实的家具下。

答案：C

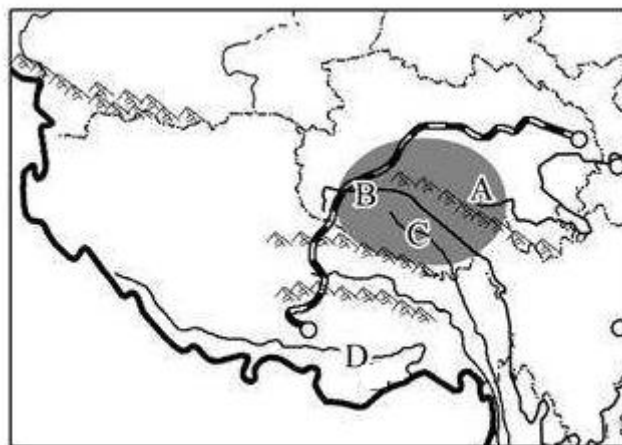
12. 下列现象或事件，属于自然灾害的是（ ）

- A. 广告牌被风吹落，砸坏路边汽车
- B. 非洲的旱灾，导致农田颗粒无收
- C. 燃放大量烟花爆竹，引发森林火灾
- D. 乱砍滥伐导致水土流失严重

解析：本题考查自然灾害的概念。非洲的旱灾，导致农田颗粒无收属于自然灾害，选项ACD中描述的现象都是人为灾害。

答案：B

三江源地区位于青藏高原腹地，是我国三大江河的发源地，被誉为“中华水塔”。读图完成下列问题。



13. 三江源地区位于（ ）

- A. 西藏自治区
- B. 青海省
- C. 四川省
- D. 甘肃省

解析：本题考查三江源地区的位置。三江源自然保护区位于青藏高原腹地，青海省南部，西南与西藏自治区接壤，东部与四川省毗邻，北部与青海省蒙古族藏族自治州都兰县相接。
答案：B

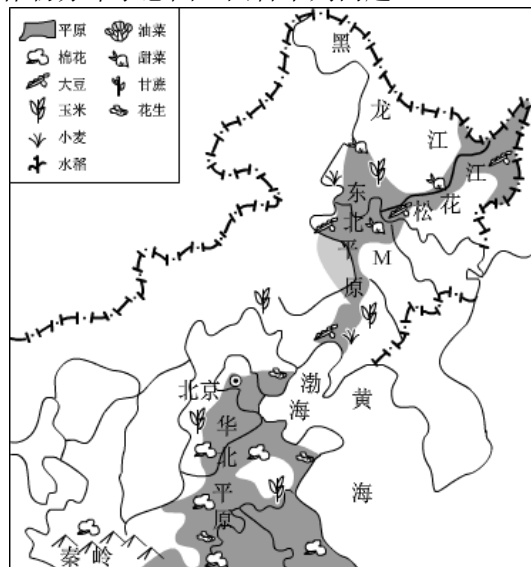
14. 三江源中的“三江”除长江外，另外两条是（ ）

- A. 黄河、珠江
- B. 澜沧江、雅鲁藏布江
- C. 黄河、怒江
- D. 澜沧江、黄河

解析：本题考查三江源地区的河流名称。三江源的“三江”是指澜沧江、长江与黄河，除长江外，另外两条是澜沧江、黄河，它们都发源于青海省。

答案：D

读我国某局部地区的农作物分布示意图，回答下列问题。



15. 图中M地的主要农作物是（ ）

- A. 小麦、棉花
- B. 小麦、甜菜
- C. 水稻、油菜
- D. 水稻、甘蔗

解析：读图可知，图中M地为东北地区，因气候关系，长城以北的东北平原一般只能一年一熟，主要农作物有春小麦、玉米、高粱、大豆、马铃薯、甜菜等。

答案：B

16. 符合“因地制宜”原则的是（ ）

- A. 江南丘陵发展渔业
- B. 青藏高原发展种植业
- C. 江汉平原发展林业
- D. 城郊发展蔬菜、肉、乳、禽、蛋生产

解析：我国各地自然环境存在很大差异，每个地区都有农业发展上的优势和不足。利用当地自然条件的优势，把要发展的农业部门或农作物，布局在适宜它本身发展、生长最有利的地区，是因地制宜的重要内容之一。江南丘陵发展林业，青藏高原发展畜牧业，江汉平原发展种植业，城郊发展蔬菜、肉、乳、禽、蛋生产。

答案：D

17. 今年2月1日，杭（杭州）瑞（瑞丽）高速湖南段洞庭湖上的一座大桥建成通车，该桥在桁加劲梁悬索桥中排名国内第一，世界第二。这座大桥是（ ）

- A. 洞庭大桥
- B. 洞庭湖大桥
- C. 洞庭湖特大桥
- D. 蒙华铁路洞庭湖大桥

解析：本题考查杭瑞洞庭大桥概况。杭瑞洞庭大桥大桥全长2390米，主跨1480米，为双向6车道设计，两座索塔分别高206米、203米；其主跨长度在桁加劲梁悬索桥中排名国内第一、世界第二，被称为世界桥梁建设的“超级工程”。

答案：A

二、综合题（本大题共5小题，按答题卡中的要求将每小题答案填写在答题卡中，共49分）

18.（11分）今年4月27日，朝韩握手言和，双方领导人签署了《板门店宣言》，争取在今年内结束战争状态，实现半岛无核化。读图回答下列问题。



(1) 朝鲜北部与_____、_____接壤。

解析：读图分析可知：朝鲜南部与韩国以三八线朝韩非军事区分隔，北部与中国和俄罗斯接壤，西临黄海，与山东半岛隔海相望，东临日本海。

答案：中国 俄罗斯

(2) 朝鲜半岛西临_____海，东临_____海，南隔_____海峡与日本相望。

解析：从图中可以看出，朝鲜半岛西临黄海，东临日本海，南隔朝鲜海峡与日本相望。

答案：黄 日本 朝鲜

(3) 据图中信息说出朝鲜半岛主要的气候类型及其特征。

解析：朝鲜半岛主要的气候类型是温带季风气候，夏季高温多雨，冬季寒冷干燥。

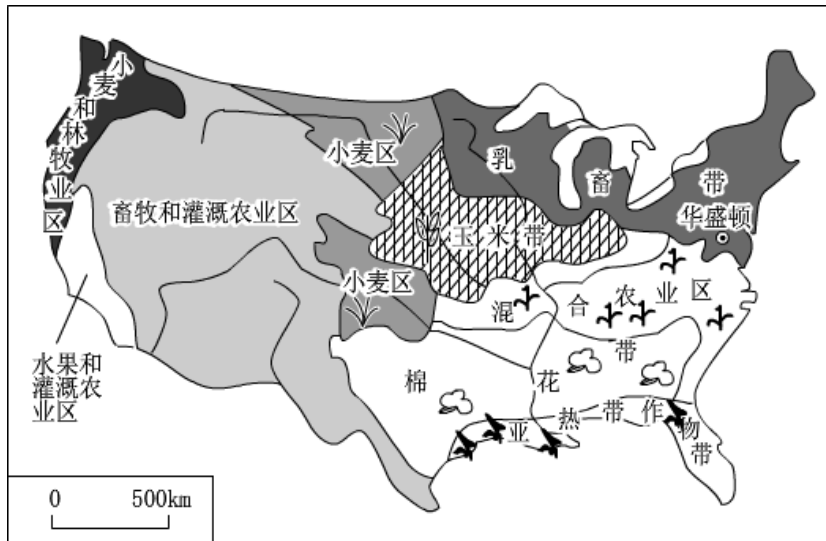
答案：温带季风气候；夏季高温多雨，冬季寒冷干燥。

(4) 谈谈朝韩握手言和的积极意义。

解析：朝韩握手言和的积极意义在于有利于增进双方和解与合作，维护半岛和平，为化解军事紧张、改善关系铺平了道路。

答案：增进双方和解与合作，维护半岛和平，为化解军事紧张、改善关系铺平了道路。

19. (10分) 今年5月19日,中美两国在华盛顿就双方经贸磋商发表联合声明,中美双方将在多领域加强贸易合作,标志这一轮贸易战停火。读图回答下列问题。



(1) 根据所学地理知识,你认为中美双方应在_____、_____等领域加强贸易合作。

解析:读图分析可知:根据所学地理知识,中美双方应在高科技产品、农产品等领域加强贸易合作。

答案:高科技产品 农产品

(2) 美国本土耕地主要分布在_____,为其提供便利灌溉水源的是_____河与五大湖。

解析:美国本土耕地主要分布在中部平原,为其提供便利灌溉水源的是密西西比河与五大湖。

答案:中部平原 密西西比

(3) 美国是世界上重要的农产品出口国,说说其农业生产特点对我国农业发展的借鉴作用。

解析:美国是世界上重要的农产品出口国,美国的农业具有生产过程的全部机械化和地区生产的专门化两大特点,效率高,产量大;我国农业也应该根据当地的自然条件及市场需求,实现地区生产专门化,提高效率,增加产值。

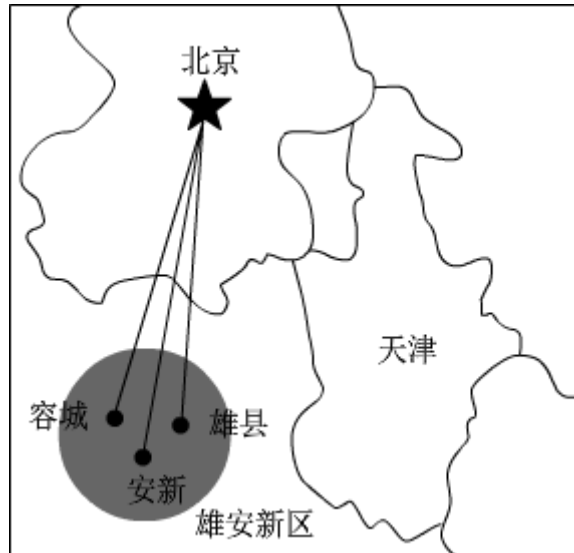
答案:我国农业也应该根据当地的自然条件及市场需求,实现地区生产专门化,提高效率,增加产值。

(4) 中美贸易停战对中国乃至世界经济会带来怎样的发展机遇?

解析:假如贸易战真的爆发,全世界所有国家的发展繁荣都会受到极为严重的影响,中美贸易停战对中国乃至世界经济会带来良好的发展机遇,通过加强国际经济合作与交流,推动经济全球化深入发展。中国的经济发展和主动开放战略为各国发展提供了良好机遇,中国致力于正努力消除当前经济全球化给世界经济带来的不平衡,中国努力改变不合理的国际经济规则,为发展中国家创造公平环境,中国通过加强国际经济合作与交流,推动经济全球化深入发展。

答案:中国乃至世界经济会带来良好的发展机遇,通过加强国际经济合作与交流,推动经济全球化深入发展。

20. (11分) 伴随着首都城市功能定位的调整,一些非首都核心功能部门将迁至周边城市,国务院决定在河北保定市设立“雄安新区”。读图回答下列问题。



(1)北京的城市职能是：全国的_____中心，文化中心和_____中心。

解析：北京是我国的首都，是全国的政治中心、交通中心、教育中心、科研中心、文化中心和国际交往城市。

答案：政治 国际交往

(2)雄安新区位于_____平原，所在省区的行政中心是_____。

解析：雄安新区位于河北省，行政中心是石家庄；属于华北平原，粮食作物以小麦为主。

答案：华北 石家庄

(3)根据所学地理知识，分析北京存在的主要环境问题及解决途径。

解析：北京近年来城市发展中存在大气污染问题、水资源短缺问题等。

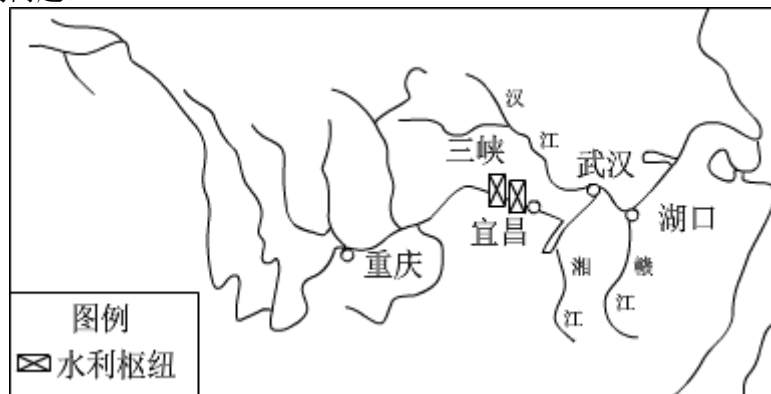
答案：问题：大气污染问题、水资源短缺问题等；途径：利用本地的科技智力资源等优势，积极发展高新技术产业；修建跨流域调水工程。

(4)简述在雄安设立新区的优势。

解析：在河北雄安设立新区的优势有距离京、津近，交通位置优越，靠近水源地等。

答案：距离京、津近，交通位置优越，靠近水源地等。

21. (10分)今年4月，习近平同志实地考察长江沿岸生态环境和发展建设情况。结合如图，回答下列问题。



(1)长江最大的支流是_____，流域内干支流纵横交织，通航里程长，人们把长江称为“_____”。

解析：长江最大的支流是汉江。长江干支流通航里程长，人们把长江称为“黄金水道”，体现了长江巨大的航运价值。

答案：汉江 黄金水道

(2) 习近平在岳阳考察了_____水文站。

解析：2018年4月25日，习近平考察了被誉为洞庭湖及长江流域水情“晴雨表”的城陵矶水文站。

答案：城陵矶

(3) 长江水能资源丰富，主要集中在_____游河段。

解析：长江水能资源最丰富的是上游河段，该河段水流落差大。

答案：上

(4) 试评价长江对武汉经济发展的利与弊。

解析：长江沿岸经济带的发展带动了武汉的经济发展，但在发展经济的同时也带来了环境污染，为此要走可持续发展之路。

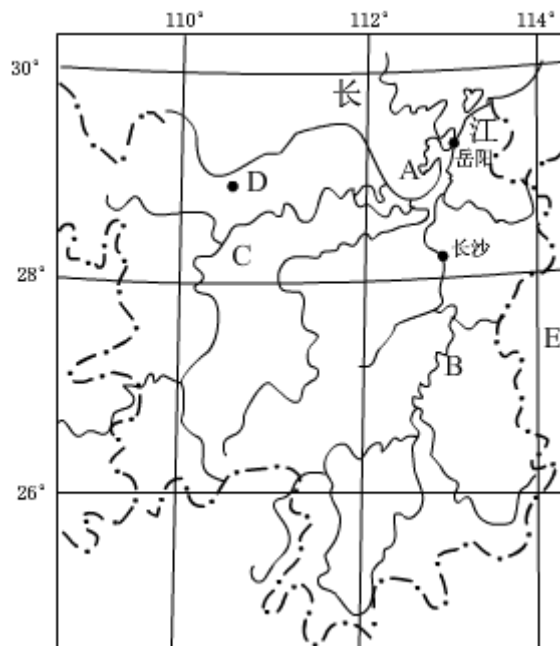
答案：利：长江沿岸经济带的发展带动了武汉的经济发展；弊：在发展经济的同时也带来了一定的环境污染。

(5) 假若你是湖北省长，在长江开发保护过程中，怎样把党中央“共抓大保护，不搞大开发”的要求落实到位？

解析：把党中央“共抓大保护，不搞大开发”的要求落实到位，就要实施可持续发展战略，加强长江中上游水土保持林建设，注重保护河流源头生态环境发挥长江黄金水道作用等。

答案：实施可持续发展战略，加强长江中上游水土保持林建设，注重保护河流源头生态环境发挥长江黄金水道作用。

22. (7分) 读湖南省略图，回答下列问题。



(1) 写出图中字母所代表的地理事物名称

A. 湖泊_____。

B. 河流_____。

解析：读图分析可知：依据位置，图中字母所代表的地理事物名称为：A 洞庭湖，是我国第二大淡水湖。河流 B 湘江，是湖南省最大的河流。

答案：洞庭湖 湘江

(2) 岳阳市位于湖南省_____部，图中 E 省的简称是_____。

解析：从图中可以看出，岳阳市位于湖南省东北部；图中 E 为江西省，简称是赣。

答案：东北 赣

(3) 简述湖南人口或土地方面存在的问题，并说出走上可持续发展道路的措施。

解析：湖南人口增长速度快，由于交通占用耕地、城市扩建占用耕地、居民住房和工业用地占用耕地等，致使耕地面积减少；湖南省走可持续发展道路，应继续实施计划生育基本国策，保护耕地。

答案：耕地面积减少；保护耕地。