

2018年黑龙江省绥化市中考真题地理

一、本卷共 25 小题。每小题 2 分，共 50 分。在每个小题给出的四个选项中，只有一项是符合题目要求的。

1. 经过精密仪器测量，地球的表面积约是（ ）

- A. 4.1 亿平方千米
- B. 5.1 亿平方千米
- C. 6.1 亿平方千米
- D. 8.1 亿平方千米

解析：本题考查地球的形状与大小。地球的表面积是 5.1 亿平方千米，最大周长约 4 万千米，平均半径为 6371 千米。

答案：B

2. 某地图比例尺为 1：2000000 量得两地间的图上距离为 3 厘米，则两地间的实际距离是（ ）

- A. 3 千米
- B. 30 千米
- C. 6 千米
- D. 60 千米

解析：本题考查了比例尺的应用。某地图比例尺为 1：2000000，量得两地间的图上距离为 3 厘米，则两地间的实际距离是 3 厘米×2000000=60000 米=60 千米。答案项 D 符合题意。

答案：D

3. 世界上面积最大的大洲和大洋分别是（ ）

- A. 亚洲、北冰洋
- B. 大洋洲、北冰洋
- C. 亚洲、太平洋
- D. 非洲、太平洋

解析：本题考查大洲大洋的概况。全球共有七大洲，按面积由大到小排列分别为：亚洲、非洲、北美洲、南美洲、南极洲、欧洲和大洋洲。四大洋按面积排列为太平洋、大西洋、印度洋、北冰洋。

答案：C

4. 一年之中，北半球陆地最低气温出现在（ ）

- A. 1 月
- B. 2 月
- C. 7 月
- D. 8 月

解析：此题主要考查世界气温的变化规律。世界气温年变化规律为：月平均最低气温北半球大陆上出现在 1 月，故 A 正确。BCD 都不符合题意。

答案：A

5. 下列影响世界气候的主要因素中，错误的是（ ）

- A. 纬度因素
- B. 海陆因素
- C. 地形因素
- D. 经度因素

解析：考查影响气候的主要因素。影响气候的因素主要有纬度因素、海陆因素、地形地势因素和洋流因素等，故 D 符合题意。

答案：D

6. 下列不属于人口稠密地区的是（ ）

- A. 非洲的北部
- B. 亚洲的东部
- C. 亚洲的南部
- D. 欧洲

解析：考查世界的人口分布状况。世界上绝大多数人居住在中低纬度地区，而在气候温和、降水较多的平原和盆地地区，人口更为集中。中低纬度的临海平原地带往往形成人口稠密地区，比如亚洲的东部和南部，欧洲的西部，北美洲和南美洲的东部等。在这些地方，自然界为人类的生产生活提供了较为优越的发展环境，人类在此生息繁衍，并孕育出发达的社会文明。非洲的北部气候干旱，自然条件恶劣，是世界人口稀疏区。

答案：A

7. 位于马来半岛和苏门答腊岛之间，被称为“海上生命线”的海峡是（ ）

- A. 英吉利海峡
- B. 马六甲海峡
- C. 麦哲伦海峡
- D. 霍尔木兹海峡

解析：本题考查马六甲海峡的位置。位于马来半岛和苏门答腊岛之间，被称为“海上生命线”的海峡是马六甲海峡，该海峡位于东南亚地区。

答案：B

8. 印度每年承接的软件外包业务约占全球软件外包市场的三分之二，被形象地称为（ ）

- A. “世界工厂”
- B. “天然实验室”
- C. “世界办公室”
- D. “世界加油站”

解析：本题考查印度的工业。20世纪90年代以来，印度承接的软件外包业务约占全球软件外包市场的三分之二，被形象地称为“世界的办公室”。印度的软件产业中心是班加罗尔，该城市位于印度的南部，以生产计算机软件而闻名于世，被称为“南亚硅谷”。

答案：C

9. 世界上最长的铁路，又被称为“亚欧大陆桥”的是（ ）

- A. 贝阿铁路
- B. 西伯利亚大铁路
- C. 青藏铁路
- D. 昆广大铁路

解析：本题考查俄罗斯的交通。俄罗斯铁路以莫斯科为中心呈放射状分布，欧洲部分较为密集。西伯利亚大铁路横贯亚欧大陆，被称为亚欧大陆桥，该铁路是世界上最长的铁路。

答案：B

10. 下列属于欧洲西部的旅游资源是（ ）

- A. 仰光大金塔
- B. 曼谷水上市场
- C. 荷兰风车
- D. 越南下龙湾

解析：本题考查东南亚和欧洲西部的旅游资源。仰光大金塔位于东南亚的缅甸，曼谷位于东南亚的泰国，荷兰风车位于欧洲西部，越南下龙湾位于东南亚。

答案：C

11. 下列国家中被誉为“坐在矿车上的国家”的是（ ）

- A. 法国
- B. 巴西
- C. 印度
- D. 澳大利亚

解析：本题主要考查了澳大利亚的称号。澳大利亚因羊毛产业发达及矿产的丰富，而被成为“骑在羊背上的国家”和“坐在矿车上的国家”之称。

答案：D

12. 地球上最冷的地区是（ ）

- A. 高原地区
- B. 沙漠地区
- C. 北极地区
- D. 南极地区

解析：本题考查世界上气温最低的地区。南极地区是世界上气温最低的地区，有世界寒极之称。

答案：D

13. 我国大陆濒临的海洋中，属于内海的是（ ）

- A. 渤海
- B. 黄海
- C. 东海
- D. 南海

解析：本题考查我国的临海。我国东部濒临的海洋自北向南依次为：渤海、黄海、东海、南海，渤海属于内海。

答案：A

14. 我国人口分布很不均匀，表示我国人口疏密程度的地理分界线是（ ）

- A. 黑河-腾冲
- B. 哈尔滨-昆明
- C. 乌鲁木齐-广州
- D. 黑河-昆明

解析：此题考查我国的人口分布界线。我国人口分布很不均匀，划分人口疏密的地理分界线是黑河-腾冲县一线，此线以东地区人口稠密，此线以西地区人口稀疏。故 A 符合题意。

答案：A

15. 我国是一个多民族的国家，各民族分布特点是（ ）

- A. 所有民族集中分布
- B. 大散居、小聚居、交错杂居
- C. 大聚居、交错杂居
- D. 汉族主要分布在南方

解析：考查我国的民族分布特点。中国各民族分布的特点是“大散居，小聚居，交错杂居”。汉族分布最广，主要集中在东部和中部地区。少数民族则主要分布在西南、西北和东北部地区。汉族地区有少数民族聚居，少数民族地区也有汉族居住。

答案：B

16. 构成我国地形“骨架”的是（ ）

- A. 山脉
- B. 丘陵
- C. 高原
- D. 平原

解析：本题考查我国地形的骨架。我国山脉纵横交错，构成地形的骨架，高原、平原、盆地、丘陵镶嵌其中。

答案：A

17. 下列河流中，有“一碗水，半碗泥”说法的是（ ）

- A. 珠江
- B. 辽河
- C. 黄河
- D. 海河

解析：本题考查黄河的特点。黄河中游穿行于土质疏松的黄土高原，侵蚀出壮观的峡谷地貌。中游有无定河、汾河、渭河等支流汇入，随着流量的不断增加，河水的含沙量也急剧上升，成为世界上含沙量最大的河流，“一碗水，半碗泥”形容黄河的浑浊。

答案：C

18. 下列自然资源属于可再生资源的是（ ）

- A. 铁矿石
- B. 花岗岩
- C. 天然气
- D. 土地

解析：考查自然资源的分类。可再生资源是指被人类开发利用后，可以在较短时间内更新、再生，或者能够重复利用、循环使用的自然资源，如气候资源、生物资源、水资源和土地资源等。

答案：D

19. 运输距离远、贵重、急需、量小的货物，最适宜选择的交通运输方式是（ ）

- A. 公路运输
- B. 铁路运输
- C. 航空运输
- D. 水路运输

解析：本题考查选择合适的交通运输方式。货运要根据货物的性质、数量、运输距离、价格、时效等情况，选择运输方式。一般来说，贵重或急需的货物而数量又不大的，多由航空运送；容易死亡、变质的活物或鲜货，短程可由公路运送，远程而又数量大的可用铁路上的专用车；大宗笨重的货物，远距离运输，尽可能利用水运或铁路运输。因此运输距离远、贵重、急需、量小的货物，最适宜选择的交通运输方式是航空运输。

答案：C

20. 忆往昔“北大荒”，看今朝“北大仓”。描绘的是（ ）

- A. 华北平原
- B. 东北平原
- C. 成都平原
- D. 长江中下游平原

解析：本题考查东北平原的农业及特点。东北平原的北部地区（三江平原）土地肥沃，因土壤中富含腐殖质被称为“黑土地”。经过建设者多年的艰苦努力，原先叫做“北大荒”的大片荒地，已经发展成为我国重要的商品农业基地，盛产小麦、大豆、甜菜和乳肉制品，成了富饶的“北大仓”。

答案：B

21. 世界上最大的黄土堆积区是（ ）

- A. 青藏高原
- B. 内蒙古高原
- C. 黄土高原

D. 云贵高原

解析：本题考察的是中国的四大高原。A、印度板块和欧亚板块碰撞导致青藏高原隆起。B、内蒙古高原是地质上古生代末期华力西运动使蒙古地槽褶皱隆起。C、黄土高原是世界最大的黄土沉积区。D、云贵高原被称为“坝子”。

答案：C

22. 既是长江三角洲城市群的核心城市，又是我国最大城市的是（ ）

- A. 上海
- B. 北京
- C. 天津
- D. 广州

解析：本题考查长江三角洲的城市。既是长江三角洲城市群的核心城市，又是我国最大城市的是上海。

答案：A

23. “乡愁是一湾浅浅的海峡，我在这头，大陆在那头……”。诗中描述的海峡是（ ）

- A. 琼州海峡
- B. 台湾海峡
- C. 渤海海峡
- D. 蓝塘海峡

解析：此题考查台湾省的地理位置。台湾西隔台湾海峡与大陆的福建省相望，东部濒临太平洋；诗中描述的海峡是台湾海峡。

答案：B

24. 在塔里木盆地中有我国面积最大的沙漠，它是（ ）

- A. 撒哈拉沙漠
- B. 塔克拉玛干沙漠
- C. 古尔班通古特沙漠
- D. 阿塔卡马沙漠

解析：本题考查我国最大的沙漠名称。塔里木盆地中有我国面积最大的沙漠——塔克拉玛干沙漠，也是世界上最大的流动沙漠。

答案：B

25. 去青藏地区旅游，经常会看到被称为“高原之舟”的畜种是（ ）

- A. 牦牛
- B. 藏绵羊
- C. 藏山羊
- D. 骆驼

解析：本题考查我国牧区的畜种。有“高原之舟”之称的畜种是牦牛，主要分布在我国青藏高原地区。

答案：A

二、判断对错题（本题共 15 个小题，每小题 1 分，共 15 分）

26. 德国科学家魏格纳提出了板块构造学说。__×__（判断对错）

解析：本题考查德国科学家魏格纳的突出贡献。德国科学家魏格纳提出了大陆漂移假说；板块构造学说是 1968 年法国地质学家勒皮雄与麦肯齐、摩根等人提出的一种新的大陆漂移说，它是海底扩张说的具体引伸。

答案：×。

27. 世界上信仰人数最多的宗教是伊斯兰教。__×__（判断对错）

解析：本题考查世界的宗教。世界上信仰人数最多的宗教是基督教，主要分布在欧洲、美洲和大洋洲；伊斯兰教是世界第二大宗教。

答案：×。

28. 赤道穿过撒哈拉以南非洲的中部，因此本区绝大部分地处热带。___√___（判断对错）

解析：本题考查非洲的气候及特点。撒哈拉以南非洲大部分位于南北回归线之间，赤道穿过中部地区，该地区主要位于热带，其分布面积最广的气候类型是热带草原气候。

答案：√。

29. 位于旧金山东南的“硅谷”，是美国兴起最早、规模最大的高新技术产业中心。___√___（判断对错）

解析：本题考查美国的高新技术产业中心。“硅谷”是美国兴起最早、规模最大的高新技术产业中心，它位于旧金山东南。

答案：√。

30. 亚马孙河流域分布着地球上面积最大的热带雨林。___√___（判断对错）

解析：本题主要考查巴西境内的热带雨林。巴西的北部有一条世界上流域面积最广、流量最大的河流亚马孙河，该河流域覆盖着地球上面积最大的是热带雨林。

答案：√。

31. 我国降水的空间分布很不均匀，东西干湿差异显著。___√___（判断对错）

解析：考查我国的降水分布特点。我国降水的空间分布很不均匀，东西干湿差异显著；东南沿海地区降水量较大，较为湿润，而越往西北内陆，降水量就越小，干旱也就逐渐加重，年降水量分布的总趋势是从东南沿海向西北内陆递减。

答案：√。

32. 我国地质灾害主要有地震、台风、滑坡等灾害。___×___（判断对错）

解析：本题主要考查我国主要的地质灾害。我国地质灾害主要有火山、地震、山体崩塌、滑坡、泥石流等。而台风属于气象灾害。

答案：×。

33. 我国土地类型齐全，耕地比重小，难以利用土地较少，后备耕地不足。___×___（判断对错）

解析：考查我国土地资源的特点。我国各类土地资源总量丰富、类型齐全，形成了耕地、林地、草地等多种土地类型，这有利于因地制宜，进行多样化的开发利用。然而，我国各类土地资源在土地资源总量中所占的比重是不同的，其中草地面积较广，占的比重大，而耕地、林地所占比重相对偏小，难以利用土地比重较大，且后备耕地资源不足。

答案：×。

34. 节约用水、保护水资源是解决我国缺水问题的重要途径之一。___√___（判断对错）

解析：该题考查了我国水资源利用过程中出现的问题和措施。我国水资源利用中存在的主要问题是水污染和水浪费等，因此解决我国缺水问题的重要途径是节约用水、科学用水、合理用水、保护水资源等。

答案：√。

35. 我国东北三省的地形以平原和高原为主。___×___（判断对错）

解析：本题考查东北三省的相关知识点。东北三省地形以平原和山地为主，东部为长白山地，北部为小兴安岭，西倚大兴安岭，在山地之间分布着东北平原。

答案：×。

36. 北京是全国的政治中心、文化中心和国际交往中心。___√___（判断对错）

解析：考查了北京的城市职能。北京是我国的首都，是全国的政治中心、交通中心、教育中心、科研中心、文化中心和国际交往城市，对于未来的发展北京也做出了长远规划，北京市未来的建设发展目标定位于：国家首都（政治中心）、世界城市（国际交往中心）、文化名城（文化中心），并首次提出“宜居城市”概念，因此北京的主要职能是全国的政治、文化中心和国际交往中心。

答案：√。

37. 南方地区是气候湿热的“红土地”。√（判断对错）

解析：本题考查我国不同地理区域的土壤类型。气候湿热的红土地主要分布在长江以南的丘陵地区，属于南方地区，主要种植水稻油菜等农作物。

答案：√。

38. 香港特别行政区的支柱产业是博彩旅游业。×（判断对错）

解析：此题考查了香港和澳门的经济特点。此题考查了香港和澳门的经济特点。香港和澳门是地狭人稠的地区，香港是世界重要的金融中心，支柱产业是对外贸易，澳门的支柱产业是博彩旅游业。

答案：×。

39. 西北地区的自然景观从东部草原向西逐渐过渡为荒漠草原和荒漠。√（判断对错）

解析：本题考查我国西北地区植被的变化特点。西北地区受降水的影响从东到西自然景观大致上呈现出由草原向荒漠草原、荒漠的变化。

答案：√。

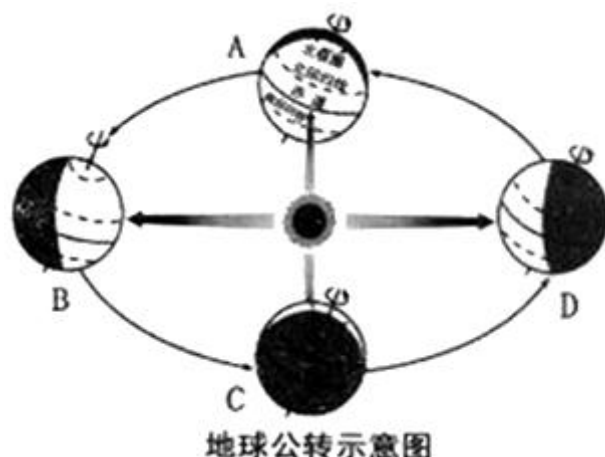
40. 被誉为“中华水塔”的是三江平原。×（判断对错）

解析：本题考查三江源地区概况。三江源地区是指长江、黄河、澜沧江的发源地，被称为“中华水塔”。三江平原位于东北地区，是我国主要的商品粮基地。

答案：×。

三、读图填空题（本题共 6 个小题，每空 1 分，共 35 分）

41. （3 分）读地球公转示意图（二分二至日均指北半球），回答问题。



(1) 写出图中表示的节气 A _____。

解析：本题考查地球公转示意图。读图分析可知：图中表示的节气 A 春分，太阳直射在赤道上。

答案：春分

(2) 绥化市白昼时间最长的一天 _____。（填字母）

解析：绥化市白昼时间最长的一天是 B 夏至日，太阳直射在北回归线上，北极圈以内是极昼现象，南极圈以内是极夜现象。

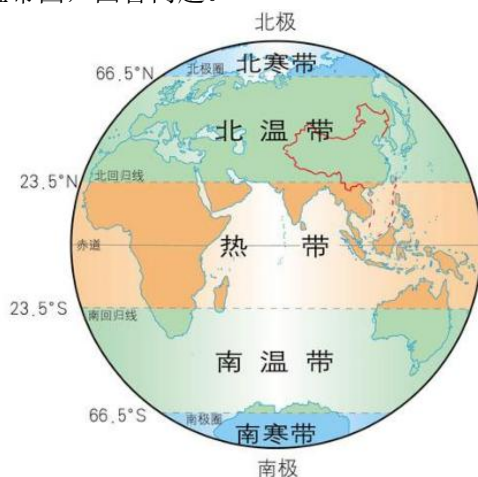
答案：B

(3) 我们北方冬至有吃饺子的习俗。图中表示冬至日的是_____。(填字母)

解析：图中表示冬至日的是D，太阳直射在南回归线上，南极圈以内是极昼现象，北极圈以内是极夜现象。

答案：D

42. (3分) 读地球上的五带图，回答问题。



(1) 有阳光直射现象的是_____带。北半球终年寒冷的是_____带。

解析：本题主要考查五带的划分。从图中看出，南北回归线之间为热带，该区域有阳光直射现象；北寒带纬度高，太阳辐射弱，终年严寒。

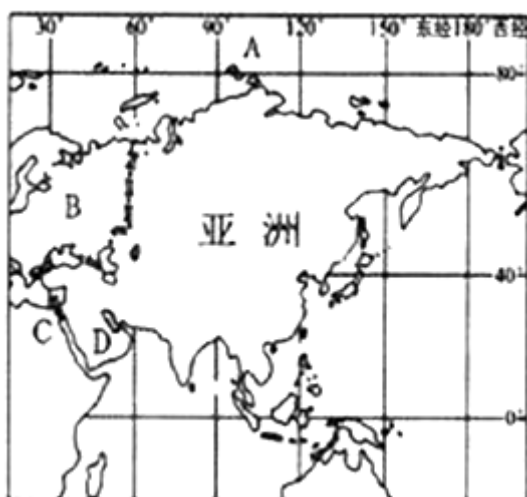
答案：热 北寒

(2) 我国大部分地区位于五带中的_____带。

解析：我国大部分位于北温带，小部分位于热带，没有寒带。

答案：北温

43. (6分) 读亚洲图，回答下列问题。



(1) 从半球位置看，亚洲绝大部分位于_____半球。(选填“南”或“北”)

解析：本题考查亚洲的概况。读图分析可知：从半球位置看，亚洲绝大部分位于北半球，东半球。

答案：北

(2) 亚洲北部濒临世界上面积最小的大洋A_____。

解析：亚洲北部濒临 A 北冰洋，该大洋是世界上面积最小的大洋。

答案：北冰洋

(3) 与亚洲合成一块大陆的大洲 B_____。

解析：依据位置，图中 B 为欧洲，与亚洲合成亚欧大陆，该大陆是世界第一大洲。

答案：欧洲

(4) 亚洲与非洲的分界线 C_____运河。

解析：依据位置，图中 C 为苏伊士运河，该运河是亚洲与非洲的分界线。

答案：苏伊士

(5) 世界上最大的半岛 D_____。

解析：依据位置，图中 D 为阿拉伯半岛，是世界上最大的半岛。

答案：阿拉伯半岛

(6) 亚洲是世界上跨_____最广，东西距离最长的大洲。

解析：亚洲是世界上跨纬度最广，东西距离最长，人口最多，面积最大的大洲。

答案：纬度

44. (4 分) 读日本图，回答下列问题。



(1) 写出日本的岛屿 A_____岛。

解析：读图分析可知：日本是一个多山的岛国，由北海道岛、本州岛、四国岛、九州岛 4 个大岛、数千个小岛及附近的海域组成。依据位置，图中岛屿 A 为北海道岛。

答案：北海道

(2) 日本西部濒临 B_____海。

解析：依据位置，图中 B 为日本海。

答案：日本

(3) 作为日本象征的山峰 C_____。

解析：依据位置图中 C 为富士山，是一座活火山，日本最高峰，是日本的象征。

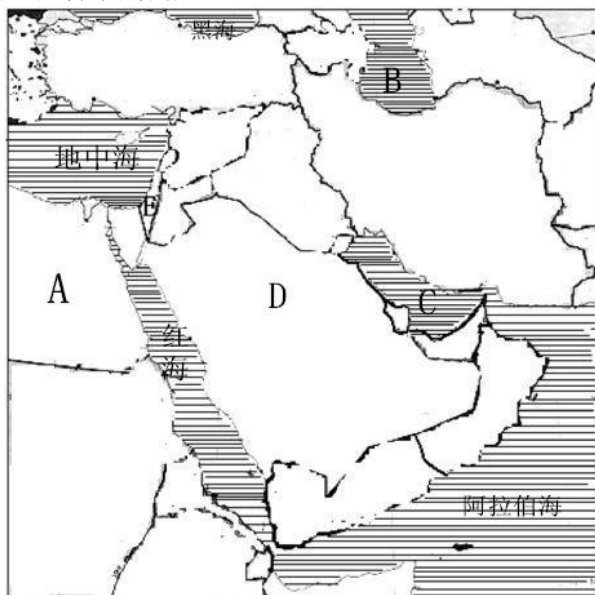
答案：富士山

(4) 日本位于亚欧板块和太平洋板块的交界地带，是多火山和_____的岛国。

解析：日本位于亚欧板块和太平洋板块的交界地带，地壳活跃，是多火山和地震的岛国。

答案：地震

45. (5分) 读中东图，回答下列问题。



(1) 中东位于“三洲五海之地”，其中 A _____ 洲，B _____ 海。

解析：读图可知，中东位于“三洲五海之地”，其中，A 是非洲，B 是里海，它是世界上面积最大的内陆湖。

答案：非 里

(2) 中东石油资源，主要分布在 C _____ 及其沿岸地区。

解析：中东地区有丰富的石油资源，主要分布在 C 波斯湾及其沿岸地区。

答案：波斯湾

(3) 中东面积最大的国家 D _____。

解析：D 是沙特阿拉伯，是中东面积最大的国家。

答案：沙特阿拉伯

(4) 中东大部分地区气候炎热干燥，河流稀少，_____ 资源极其匮乏。

解析：中东大部分地区属于热带沙漠气候，气候炎热干燥，河流稀少，水资源极其匮乏。

答案：水

46. (7分) 读长江水系图，回答下列问题。



(1) 长江是我国的第 _____ 长河，长度约 _____ 千米。

解析：长江是我国的第一长河，长度约 6300 千米。

答案：一 6300

(2)长江发源于_____省，经上海市注入A_____海。

解析：长江发源于青海省唐古拉山脉，经上海市注入A东海。

答案：青海 东

(3)长江中游和下游的分界B_____。

解析：长江中游和下游的分界B是江西省的湖口。

答案：湖口

(4)在长江干流上有世界最大的水利枢纽工程C_____。

解析：在长江干流上有世界最大的水利枢纽工程C三峡，该工程位于巫山附近。

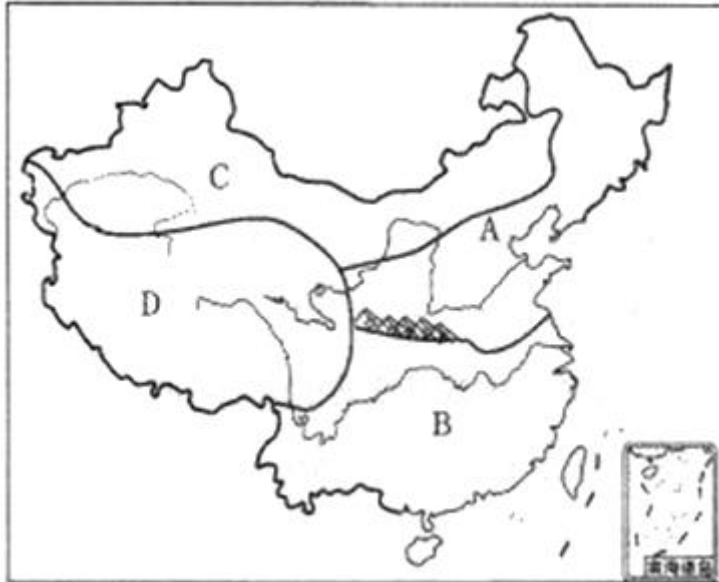
答案：三峡

(5)长江三角洲地区自古以来就是我国著名的“_____”。

解析：长江三角洲地区地势低平、湖泊众多、河渠稠密、水田连片，是我国著名的“鱼米之乡”和“水乡”。

答案：鱼米之乡和水乡

47.（7分）读四大地理区域图，回答下列问题。



(1)写出地理区域。B_____，C_____。

解析：本题考查四大地理区域的划分及概况。读图分析可知：依据位置，图中A为北方地区，B为南方地区，C为西北地区，D为青藏地区。

答案：南方地区 西北地区

(2)A地区和B地区的地理界线是_____（山脉）和_____河一线。

解析：A北方地区和B南方地区的地理界线是秦岭和淮河一线，在它的南北两侧，自然环境、地理景观和居民的生产生活习惯有明显的差异。

答案：秦岭 淮

(3)D地区具有独特的_____气候。分布着世界上海拔最高的高原湿地_____地区。

解析：D青藏地区海拔高，气温低，具有独特的高寒气候，分布着世界上海拔最高的高原湿地三江源地区。

答案：高寒 三江源

(4) 黑龙江省位于四大地理区域中的_____。

解析：黑龙江省位于四大地理区域中的北方地区。

答案：北方地区