

2016 年广西来宾市中考真题地理

一、选择题（本大题共 8 小题，每小题 2 分，共 30 分，在每小题给出的四个选项中，只有一项符合题目要求）

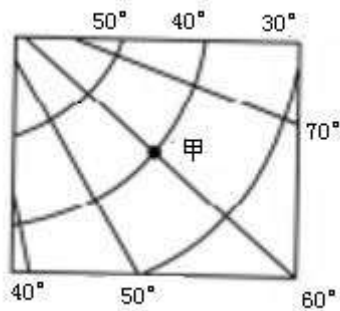
1. 亚洲的主要地形是（ ）

- A. 高原、山地
- B. 高原、平原
- C. 丘陵、平原
- D. 山地、盆地

解析：亚洲地形以高原、山地为主，平均海拔高。亚洲山地和高原约占总面积的 3/4，全洲平均海拔 950 米，是除南极洲以外海拔最高的大洲。

答案：A

2. 如图为北半球某地经纬网示意图，图中甲地的经纬度是（ ）



- A. 40° N, 60° W
- B. 40° S, 60° E
- C. 40° N, 60° E
- D. 40° S, 60° W

解析：在经纬网上，若相邻两条经线的经度向东增大，就是东经，用符号 E 表示，若相邻两条经线的经度向西增大，就是西经，用符号 W 表示；若相邻两条纬线的纬度向北增大，就是北纬，用符号 N 表示，若相邻两条纬线的纬度向南增大，就是南纬，用符号 S 表示。读图分析可知，图中甲地的经纬度是 40° N, 60° E。

答案：C

如图为某区域等高线地形图，读图，完成下列问题。



3. 图中李庄与最高的山顶之间的相对高度可能是（ ）

- A. 200 米

- B. 300 米
- C. 400 米
- D. 500 米

解析：读图可知，图中李庄的海拔高度为 0~100 米之间，山顶的海拔高度为 550 米，两地的相对高度在 550 米-（0~100 米），为 450 米~550 米之间。故选项 D 符合题意。

答案：D

4. 李庄位于王庄的（ ）

- A. 西南方向
- B. 西北方向
- C. 东南方向
- D. 东北方向

解析：读图可知，图中没有指向标，根据“上北下南，左西右东”判断，李庄位于王庄的东北方向。故选项 D 符合题意。

答案：D

5. 计划在李庄和王庄之间修建一条公路，图中四条线路最合理的是（ ）

- A. ①
- B. ②
- C. ③
- D. ④

解析：读图可知，在李庄和王庄之间修建一条公路，图中四条线路中，①线路处等高线最稀疏，坡度最平缓。

答案：A

6. 马六甲海峡沟通的大洋是（ ）

- A. 太平洋和大西洋
- B. 太平洋和印度洋
- C. 太平洋和北冰洋
- D. 印度洋和大西洋

解析：马六甲海峡位于马来半岛和苏门答腊岛之间，是沟通太平洋与印度洋的天然水道。

答案：B

如图为中国局部地区示意图，读图，完成下列问题。



7. 图中山脉①的名称是（ ）

- A. 横断山脉
- B. 天山山脉
- C. 昆仑山脉

D. 祁连山脉

解析：图中①是昆仑山脉，该山脉是塔里木盆地与青藏高原的分界线。

答案：C

8. ②所在地理区域的主要粮食作物是（ ）

- A. 青稞
- B. 大豆
- C. 水稻
- D. 玉米

解析：读图可知，②所在地理区域为青藏地区，青藏地区的农作物主要有青稞（大麦的一种）、豌豆、小麦、油菜等。由于太阳光照强，小麦等作物的单位面积产量比较高。本区又是全国重要的牧区，主要牲畜有牦牛、藏绵羊、藏山羊等。

答案：A

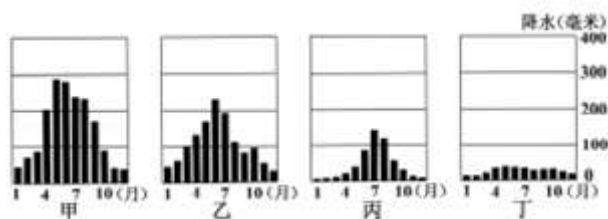
9. 近年来，②所在地理区域的冰川面积逐年萎缩，主要原因是（ ）

- A. 过度放牧
- B. 全球气候变暖
- C. 滥伐森林
- D. 湿地面积缩小

解析：读图可知，②所在地理区域为青藏高原地区，近年来，该地区冰川逐年萎缩的主要原因是全球气候变暖造成的。

答案：B

如图是中国4个城市的逐月降水量图，读图，完成下列问题。



10. 下列城市的逐月降水量与图中信息对应正确的是（ ）

- A. 哈尔滨——甲
- B. 武汉——乙
- C. 乌鲁木齐——丙
- D. 广州——丁

解析：从四城市降水柱状图可以看出，降水量由小到大排列为：丁<丙<乙<甲，由于我国降水从东南沿海向西北内陆递减，所以甲城市是广州，乙城市是武汉，丙城市是哈尔滨，丁城市是乌鲁木齐。

答案：B

11. 四个城市中，气候大陆性特征最显著的是（ ）

- A. 甲
- B. 乙
- C. 丙

D. 丁

解析：由于中国大陆面积广阔，西部伸入亚洲内陆，因此中国的气候具有显著的大陆性特征。主要表现在气温的年变化和日变化较大，（如图丁）降水稀少。

答案：D

如图是中国局部地区示意图，读图，完成下列问题。



12. 关于山脉①的叙述，错误的是（ ）

- A. 是地势第二、三级阶梯分界线
- B. 是季风区与非季风区的分界线
- C. 是干旱区与半干旱区的分界线
- D. 是东北平原与内蒙古高原的分界线

解析：读图可得，①是大兴安岭，②是内蒙古自治区，③是山西省。大兴安岭是我国地势第二阶梯与第三阶梯的分界线，是我国季风区与非季风区的分界线，是东北平原与内蒙古高原的分界线，我国干旱地区与半干旱地区的分界线是 200 毫米年等降水量线。

答案：C

13. 图中省区②存在的主要环境问题是（ ）

- A. 草场退化
- B. 土地石漠化
- C. 水土流失
- D. 水污染严重

解析：从图中看出，②是西北地区，该区域由于过度放牧，致使草场退化，土地沙漠化严重。

答案：A

14. 图中省区③是我国的能源基地，其主要能源是（ ）

- A. 风能
- B. 煤炭
- C. 石油
- D. 天然气

解析：读图可得，①是大兴安岭，②是内蒙古自治区，③是山西省。③是山西省，位于黄土高原地区，是我国煤炭储量最丰富的省区。

答案：B

15. 从 2016 年 1 月 1 日起，我国实施一对夫妇可生育两个孩子的政策，“全面二孩”政策实施后将（ ）

- A. 解决劳动力不足问题
- B. 解决人口质量问题
- C. 缓解人口老龄化问题

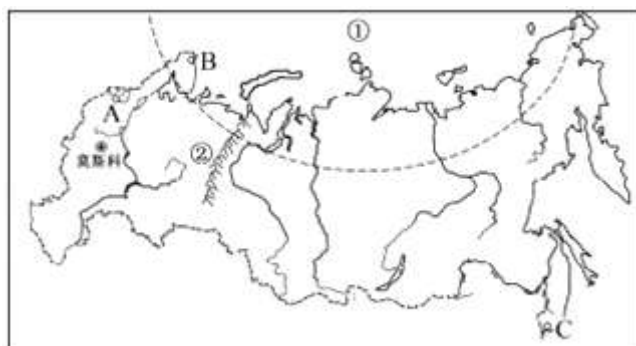
D. 解决人口分布不均问题

解析：20 世纪 70 年代以来，我国实行了计划生育，在控制人口数量方面取得巨大成就，但同时也出现劳动力减少、社会养老负担加重，人口老龄化等问题。2015 年 10 月 29 日党的十八届五中全会决定：坚持计划生育的基本国策，完善人口发展战略，全面实施一对夫妇可生育两个孩子政策，其目的就是为应对当前出现的人口问题，逐步调整完善现行的生育政策，促进人口长期均衡发展。

答案：C

二、非选择题（本大题共 4 小题，每空 1 分，共 30 分）

16.（8 分）如图是俄罗斯简图，读图完成下列问题：



(1) 俄罗斯东北隔_____海峡与北美洲相望，大洋①的名称是_____，山脉②的名称是_____。

解析：俄罗斯东北隔白令海峡与北美洲相望，大洋①的名称是北冰洋，山脉②的名称是乌拉尔山脉。

答案：白令 北冰洋 乌拉尔山脉

(2) 港口 A 的名称是_____，A，B，C 三个港口中会出现极昼极夜现象的是_____。

解析：港口 A 的名称是圣彼得堡，B 是摩尔曼斯克，C 是符拉迪沃斯托克，其中摩尔曼斯克会出现极昼极夜现象。

答案：圣彼得堡 B

(3) 俄罗斯的农业区主要分布在_____平原，其作物熟制为_____，该国大部分区域不适宜发展种植业的主要原因是_____。

解析：俄罗斯的农业区主要分布在东欧平原，其作物熟制为一年一熟，该国大部分区域不适宜发展种植业的主要原因是纬度高，气温低，俄罗斯主要属于温带大陆性气候。

答案：东欧 一年一熟；纬度高，气温低

17.（8 分）京广铁路客运专线（简称“京广高铁”）是以客运为主的高速铁路，它北起北京，南至广州，全程 2998 千米，是世界上营运里程最长的高速铁路，如图为京广高铁的示意图，读图完成下列问题：



(1) 起点站北京是全国最大的政治、_____和对外交流中心，其所在地形区的名称是_____，制约该区域经济发展的主要自然因素是_____。

解析：读图分析可知：京广高铁起点站是北京，北京是全国最大的政治、文化和对外交流中心，其所在地形区为华北平原，制约该区域经济发展的主要自然因素是水资源短缺。

答案：文化 华北平原 水资源短缺

(2) 终点站所在的省级行政区单位的简称是_____，其所在地理区域的传统交通运输方式是_____。

解析：京广高铁终点站所在的省级行政区为广东省，其简称是粤；广东省位于南方地区，降水丰沛，传统交通运输方式是水运。

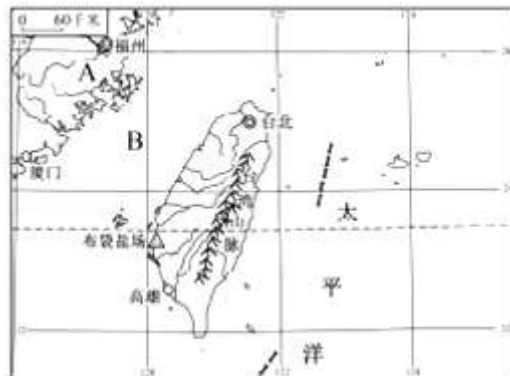
答案：粤 水运

(3) 该高铁跨越 A, B, C 三条河流，其中汛期最长的是_____河，该河流最终注入的海域是_____，河流 B 是我国亚热带和_____带的分界线，它的南北两侧自然景观存在很大差异。

解析：京广高铁跨越 A 黄河，B 淮河，C 长江三条河流，其中汛期最长的是长江，该河流最终注入的海域是东海，河流 B 淮河是我国亚热带和暖温带的分界线，它的南北两侧自然景观存在很大差异。

答案：C 东海 暖温

18. (7 分) 如图是中国局部区域示意图，读图完成下列问题：



(1) 省级行政区域单位 A 的名称是_____，海峡 B 的名称是_____，如果图中厦门至高雄的图上距离约为 6 厘米，则两地的实地距离为_____千米。

解析：A 是福建省，B 是台湾海峡，如果图中厦门至高雄的图上距离约为 6 厘米，则两地的

实地距离为 $6 \times 60 = 360$ 千米。

答案：福建省 台湾海峡 360

(2) 台湾岛的地势特征是_____，台湾山脉呈_____走向，岛上主要分布在山区的少数民族是_____族。

解析：台湾的西部地形以平原为主，中部和东部地形是山地，台湾岛的地势特征是东高西低，台湾山脉呈东北-西南走向，岛上主要分布在山区的少数民族是高山族。

答案：东高西低 东北-西南 高山

(3) 海水晒盐依靠自然蒸发，受地理环境的影响很大，布袋盐场位于台湾岛西岸的主要自然原因是_____。

解析：布袋盐场位于台湾岛西岸的主要自然原因是位于台湾山脉的背风坡，降水少，蒸发旺盛。

答案：位于台湾山脉的背风坡，降水少，蒸发旺盛。

19. (7分) 如图是广西壮族自治区示意图，读图完成下列问题：



(1) 地级市 A 的名称是_____，A、B 两个地级市中较早看到日出的是_____。

解析：读图可知，A 是柳州市；地球自西向东旋转，位置靠东的比靠西的先看到日出；因此，图中 A、B 两点，较早看到日出的是 A 点。

答案：柳州市 A

(2) 广西气候宜人，适合人类居住，其气候特征为_____，区域内地形主要以_____、丘陵为主，如果该区域的植被遭受严重破坏，可能引发的环境问题是_____。

解析：广西属于亚热带季风气候，夏季高温多雨，冬季温和少雨，地形主要以山地、丘陵为主，该区域的植被遭受严重破坏，可能引发的环境问题是水土流失。

答案：夏季高温多雨，冬季温和少雨 山地 水土流失

(3) 河流 C 的名称是_____，因为该河流量大，_____，所以蕴藏有丰富的水能资源。

解析：C 是红水河；该河流量大，落差大，水能资源丰富。

答案：红水河 落差大